



PREFEITURA DA ESTÂNCIA TURÍSTICA DE IBIÚNA  
EM PROF. CALIL RAHAL NETO



Rua Projetada, 620 - Capim Azedo - Ibiúna - SP - Telefone: 3241-5917

# 4ª. APOSTILA DE ESTUDOS ATIVIDADES NÃO PRESENCIAIS

2º. BIMESTRE



**ENSINO FUNDAMENTAL**

**ALUNO (A):** \_\_\_\_\_

**PROFESSORA: CAMILA AZEVEDO.**

**TURMA: 1º ANO C**

**DEVOLUTIVA: 11/05/2021**

# APOSTILA DE ATIVIDADES PEDAGÓGICAS

Olá família!

Essa apostila de Atividades Pedagógicas tem como objetivo proporcionar momentos de aprendizagens, favorecendo a produção de conhecimento do aluno, envolvendo atividades de: leitura, escrita, escuta, situações matemáticas, brincadeiras, contação de histórias, pesquisas e interação com as famílias. São propostas de atividades que dão continuidade ao processo escolar, visando a consolidação dos direitos de aprendizagem adequados à cada ano/série, na perspectiva do ensino remoto e que, com a orientação pedagógica da professora e o acompanhamento da família, a criança possa ter autonomia e interesse de desenvolvê-las.

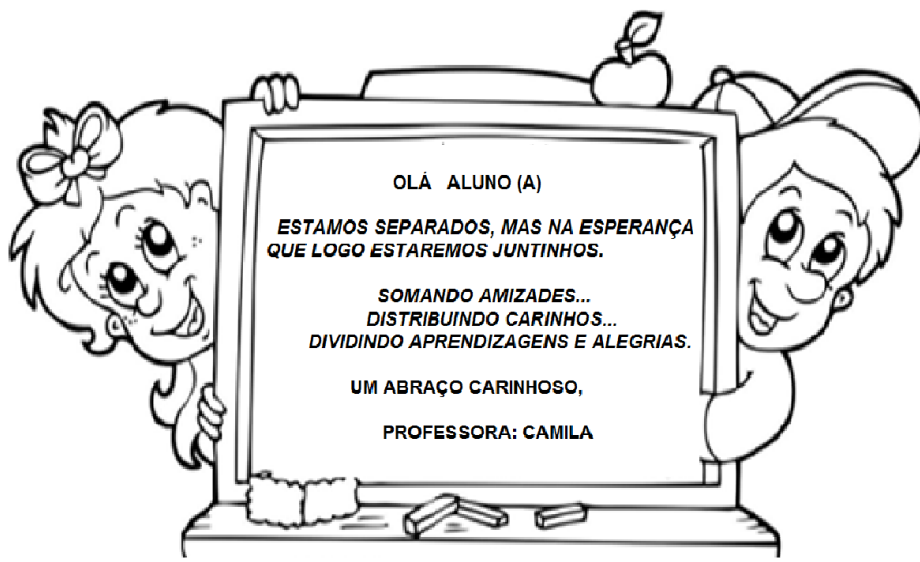
Considerando que o estudante pode apresentar dificuldades no desenvolvimento das atividades propostas, alegando que não conseguirá realizá-las, orientamos que se faz necessário, paciência e estímulos positivos por parte da família, como meio de contribuir no desenvolvimento das atividades, bem como na superação dessas dificuldades. Nesse sentido, o erro deve ser visto como possibilidade para o aprendizado.

Orientamos que a família crie um momento diário, em um local adequado, estabelecendo assim uma rotina, que ajudará em todo o processo e contribuirá para uma aprendizagem mais significativa. As atividades devem ser feitas **diariamente**, exceto aos sábados, domingos e feriados.

Por fim, destacamos que as atividades estão de acordo com a Proposta Pedagógica, levando em consideração os níveis e as etapas de desenvolvimento da aprendizagem dos estudantes.

Desejamos que todos estejam bem, tomando todas as medidas de cuidado e preservação da vida. Um grande abraço!

**LEMBREM-SE: ESTA APOSTILA DEVERÁ SER DEVOLVIDA DIA: 11/05/2021**





E. M. "PROF<sup>o</sup>. CALIL RAHAL NETO".

NOME: \_\_\_\_\_

PROFESSORA: CAMILA TURMA: 1<sup>o</sup> ANO C DATA: 19/04/2021

ATIVIDADE DE LÍNGUA PORTUGUESA

"DIA DO ÍNDIO"

(Música A Canoa Virou)

(Rosa Maria Stábile - Livro Expressão Artística na pré-escola - FAE)

ELE MORA NUMA TRIBO  
CONTENTE E FELIZ  
CAÇANDO E PESCANDO  
E COMENDO RAIZ

O SOL É O GUARACI  
A LUA É JACI  
E A LÍNGUA QUE ELE FALA  
É O TUPI-GUARANI

FOI ELE O PRIMEIRO  
HABITANTE DO BRASIL  
SALVE O DIA DO ÍNDIO  
19 DE ABRIL.



COMPLETE O QUADRO ABAIXO:

Í	N	D	I	O
	N		I	
		D		O
Í			I	





REESCREVA O CABEÇALHO:


E . M . “ PROFº CALIL RAHAL NETO ”.

NOME: \_\_\_\_\_

## MATEMÁTICA

1) REGISTRE NOS QUADRADINHOS OS NÚMEROS DE ACORDO COM A QUANTIDADE DE ÍNDIOS.

- OBSERVE OS DESENHOS E COMPLETE CADA QUADRO COM A QUANTIDADE DE ÍNDIOS DENTRO E FORA DO BARCO.




DENTRO DO BARCO HÁ  ÍNDIOS.  
FORA DO BARCO HÁ  ÍNDIO.  
AO TODO SÃO  ÍNDIOS.



DENTRO DO BARCO HÁ  ÍNDIO.  
FORA DO BARCO HÁ  ÍNDIOS.  
AO TODO SÃO  ÍNDIOS.



DENTRO DO BARCO HÁ  ÍNDIOS.  
FORA DO BARCO HÁ  ÍNDIOS.  
AO TODO SÃO  ÍNDIOS.



DENTRO DO BARCO HÁ  ÍNDIOS.  
FORA DO BARCO HÁ  ÍNDIOS.  
AO TODO SÃO  ÍNDIOS.



E. M. "PROF<sup>o</sup>. CALIL RAHAL NETO".

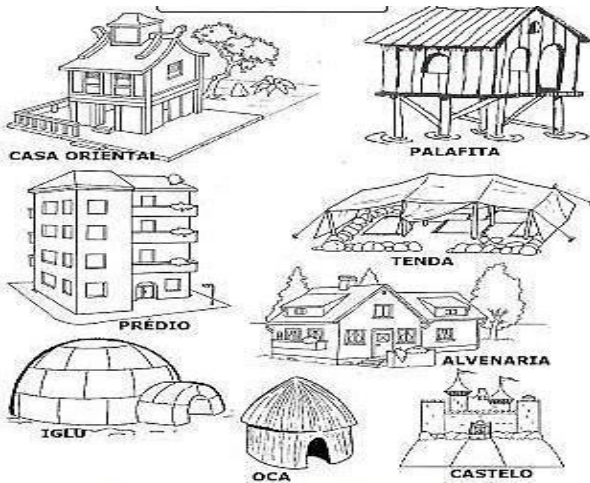
NOME: \_\_\_\_\_

PROFESSORA: CAMILA TURMA: 1<sup>o</sup> ANO C DATA: 20/04/2021

## ATIVIDADE DE GEOGRAFIA

1- COM AJUDA DE ALGUÉM DA SUA FAMÍLIA LEIA O TEXTO ABAIXO:

### TIPOS DE MORADIAS




MORADIA É A CASA ONDE VIVEMOS.

EXISTEM MUITOS TIPOS DE MORADIAS: CASAS GRANDES, PEQUENAS, PRÉDIOS, CASA DE PRAIA, DE CAMPO, ETC.

OS HOMENS TAMBÉM INVENTARAM DIFERENTES MODOS DE CONSTRUIR SUAS MORADIAS E PARA ISSO USARAM DIVERSOS MATERIAIS: MADEIRA, PEDRAS, TIJOLOS, GELO, ETC. ATÉ OS ANIMAIS TEM SUAS MORADIAS.

2- DESENHE A SUA CASA NESSE ESPAÇO.





REESCREVA O CABEÇALHO:

E . M . “ PROF° CALIL RAHAL NETO ”.

NOME: \_\_\_\_\_

## ATIVIDADE DE HISTÓRIA

### 19 DE ABRIL – DIA DO ÍNDIO

1- Pinte os objetos que pertencem ao índio:



2- Marque um x no lugar onde os índios moram:



( )



( )



E. M. "PROFº. CALIL RAHAL NETO".

NOME: \_\_\_\_\_

PROFESSORA: CAMILA TURMA: 1º ANO C DATA: 22/04/2021

## 22/04 DESCOBRIMENTO DO BRASIL

TERRA A VISTA  
AUTOR DESCONHECIDO

EM 22 DE ABRIL  
DE LONGE FOI AVISTADO  
UM ALTO E LINDO MONTE  
QUE FOI LOGO BATIZADO  
POR ESTÁ PERTO DA PÁScoa  
CHAMOU-SE MONTE PASCAL  
ERA PARTE DO BRASIL  
ESSE PAÍS SEM IGUAL



CIRCULE AS LETRAS QUE FALTAM PARA COMPLETAR O  
NOME DO NOSSO PAÍS NO DIAGRAMA:

A B 4 C  
I U  
O H  
E

B R  S  L



REESCREVA O CABEÇALHO:

E . M . “ PROFº CALIL RAHAL NETO ”.

NOME: \_\_\_\_\_

## MATEMÁTICA

ESCREVA O RESULTADO DAS SOMAS:

$$\begin{array}{c} \text{Ice cream 1} \\ \text{Ice cream 2} \end{array} + \begin{array}{c} \text{Ice cream 3} \\ \text{Ice cream 4} \\ \text{Ice cream 5} \end{array} = \square$$

$$\begin{array}{c} \text{Muffin 1} \\ \text{Muffin 2} \\ \text{Muffin 3} \end{array} + \begin{array}{c} \text{Muffin 4} \\ \text{Muffin 5} \\ \text{Muffin 6} \\ \text{Muffin 7} \end{array} = \square$$

$$\begin{array}{c} \text{Cupcake 1} \\ \text{Cupcake 2} \\ \text{Cupcake 3} \end{array} + \begin{array}{c} \text{Cupcake 4} \\ \text{Cupcake 5} \\ \text{Cupcake 6} \\ \text{Cupcake 7} \\ \text{Cupcake 8} \end{array} = \square$$

$$\begin{array}{c} \text{Ice cream cone 1} \\ \text{Ice cream cone 2} \end{array} + \begin{array}{c} \text{Ice cream cone 3} \\ \text{Ice cream cone 4} \\ \text{Ice cream cone 5} \\ \text{Ice cream cone 6} \\ \text{Ice cream cone 7} \\ \text{Ice cream cone 8} \\ \text{Ice cream cone 9} \end{array} = \square$$

$$\begin{array}{c} \text{Pie 1} \end{array} + \begin{array}{c} \text{Pie 2} \\ \text{Pie 3} \\ \text{Pie 4} \\ \text{Pie 5} \end{array} = \square$$





E. M. "PROF<sup>o</sup>. CALIL RAHAL NETO".

NOME: \_\_\_\_\_

PROFESSORA: CAMILA TURMA: 1<sup>o</sup> ANO C DATA: 23/04/2021

ATIVIDADE DE LÍNGUA PORTUGUESA

# FAMÍLIA SILÁBICA

BA BE BI BO BU

1- COMPLETE AS PALAVRAS COM O SOM INICIAL:



LA




BE




CO



LO



LE






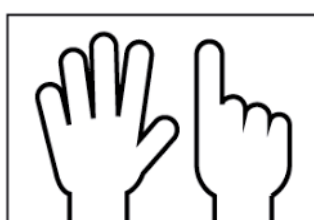



REESCREVA O CABEÇALHO:

E . M . “ PROFº CALIL RAHAL NETO ”.

NOME: \_\_\_\_\_

ATIVIDADE DE MATEMÁTICA

CONTE QUANTOS DEDINHOS ESTÃO LEVANTADOS E ANOTE.





E. M. "PROF<sup>o</sup>. CALIL RAHAL NETO".

NOME: \_\_\_\_\_

PROFESSORA: CAMILA TURMA: 1<sup>o</sup> ANO C DATA: 26/04/2021

ATIVIDADE DE LÍNGUA PORTUGUESA

***DESAFIO***

O QUE TEM NA MINHA CASA QUE COMEÇA COM AS SÍLABAS:

**BA**

**BE**

**BI**

**BO**

**BU**

PROCURE 3 OU MAIS OBJETOS EM SUA CASA QUE INICIAM COM AS SÍLABAS ACIMA.

EM SEGUIDA TIRE UMA FOTO COM TODOS OS OBJETOS ENCONTRADOS.


ENVIE NO WHATSAPP DA PROFESSORA.

ESCREVA O NOME DOS OBJETOS ENCONTRADOS:

---

---

---




REESCREVA O CABEÇALHO:

E . M . “ PROFº CALIL RAHAL NETO ”.

NOME: \_\_\_\_\_

## MATEMÁTICA

- OBSERVE A CENA E RESOLVA.



1 - QUANTAS CRIANÇAS ESTÃO BRINCANDO NO BALANÇO?

2 - QUANTAS BRINCAM NO ESCORREGADOR?

3 - QUANTAS BRINCAM COM AREIA?

4 - QUANTAS CRIANÇAS AO TODO?

5 - QUANTOS BALDINHOS HÁ NA CENA?





E. M. "PROF<sup>o</sup>. CALIL RAHAL NETO".

NOME: \_\_\_\_\_

PROFESSORA: CAMILA TURMA: 1<sup>o</sup> ANO C DATA: 27/04/2021

➤ COM AJUDA DA FAMÍLIA LEIA O TEXTO ABAIXO:

### SERES VIVOS E COMPONENTES NÃO

#### VIVOS

ENCONTRAMOS NO MEIO AMBIENTE, SERES VIVOS E COMPONENTES NÃO VIVOS. AS PLANTAS, ANIMAIS E AS PESSOAS. ELES NASCEM, CRESCEM SE REPRODUZEM E MORREM.



OS COMPONENTES NÃO VIVOS SÃO AQUELES QUE NÃO PASSAM PELO PROCESSO DE NASCER, CRESCER, REPRODUZIR E MORRER. ELES APENAS EXISTEM NA NATUREZA OU FORAM FEITOS PELO HOMEM.


**EXEMPLO:** ROCHAS, ÁGUA, NUVEM E TODOS OS OBJETOS A NOSSA VOLTA.




NUMERE CORRETAMENTE:

1 SERES VIVOS

2 SERES NÃO VIVOS





REESCREVA O CABEÇALHO:

E . M . “ PROFº CALIL RAHAL NETO ”.

NOME: \_\_\_\_\_





## CIÊNCIAS



### EU NO TEMPO

AS FIGURAS ABAIXO REPRESENTAM AS VÁRIAS ETAPAS QUE UMA PESSOA PASSA DURANTE A VIDA.

RECORTE AS FIGURAS E COLE-AS NA SEQUÊNCIA DEPOIS FAÇA UM X NO QUADRADINHO REPRESENTA A FASE QUE VOCÊ ESTA.





E. M. "PROF<sup>o</sup>. CALIL RAHAL NETO".

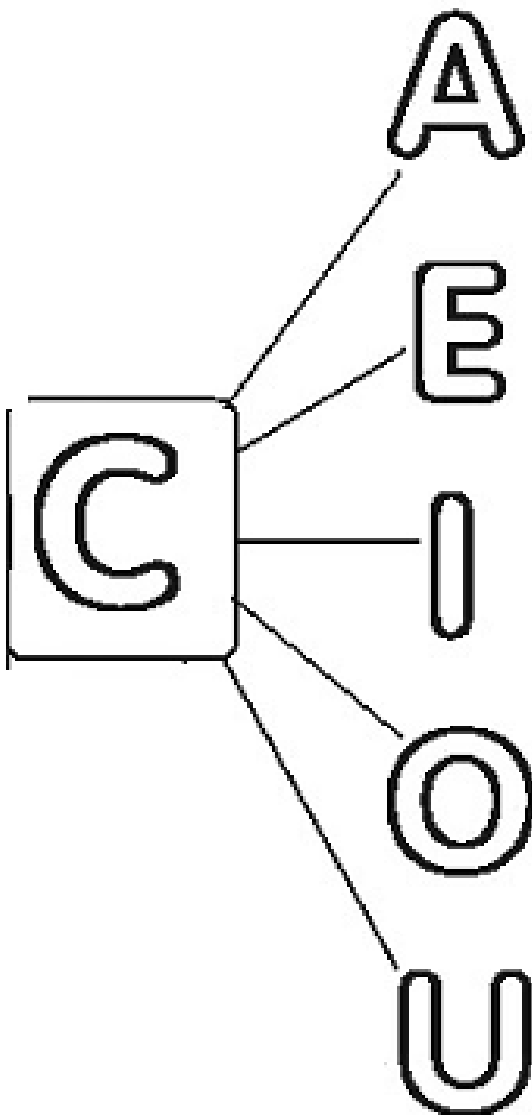
NOME: \_\_\_\_\_

PROFESSORA: CAMILA TURMA: 1º ANO C DATA: 28/04/2021


ATIVIDADE DE LÍNGUA PORTUGUESA

# FAMÍLIA SILÁBICA


FORME AS SÍLABAS CORRETAMENTE:




\_\_\_\_\_



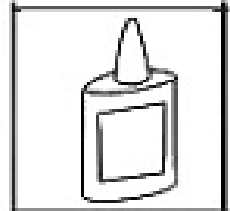
\_\_\_\_\_



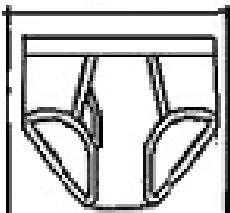
\_\_\_\_\_



\_\_\_\_\_



\_\_\_\_\_





























REESCREVA O CABEÇALHO:

E . M . “ PROFº CALIL RAHAL NETO ”.

NOME: \_\_\_\_\_

ATIVIDADE DE MATEMÁTICA

QUANTOS SÃO? 







E. M. "PROF<sup>o</sup>. CALIL RAHAL NETO".

NOME: \_\_\_\_\_

PROFESSORA: CAMILA TURMA: 1<sup>o</sup> ANO C DATA: 29/04/2021

ATIVIDADE DE LÍNGUA PORTUGUESA

1 - COMPLETE A TABELA ABAIXO COM AS LETRAS QUE ESTÃO FALTANDO:

A	B			E	
	H		J		L
M				Q	R
	T	U			X
Y					

2 - DESENHE OBJETOS QUE TÊM NA SUA CASA E QUE COMECEM COM AS LETRAS ABAIXO:

A	M	E









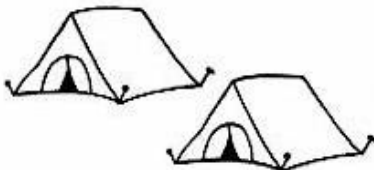

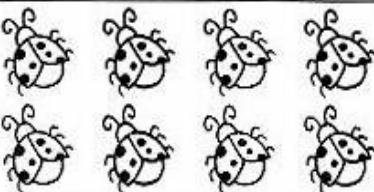
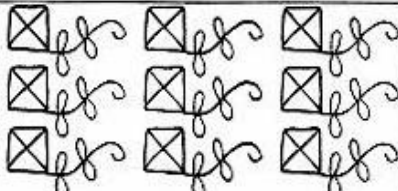


REESCREVA O CABEÇALHO:

E . M . “ PROFº CALIL RAHAL NETO ”.

NOME: \_\_\_\_\_

ATIVIDADE DE MATEMÁTICA

1) OBSERVE OS DESENHOS E CIRCULE O NUMERAL QUE REPRESENTA A QUANTIDADE DE ELEMENTOS EM CADA CONJUNTO.

		
6 7 8	0 1 2	5 6 7
		
4 5 6	1 2 3	3 4 5
		
1 2 3	3 4 5	6 7 8
		
7 8 9	4 5 6	3 4 5



E. M. "PROFº. CALIL RAHAL NETO".

NOME: \_\_\_\_\_

PROFESSORA: CAMILA TURMA: 1º ANO C DATA: 30/04/2021

## ATIVIDADE


1- ANALISE A CAPA DO LIVRO.



QUAL O TÍTULO?

QUEM ILUSTROU?

QUEM ESCREVEU?



REESCREVA O CABEÇALHO:

E . M . “ PROFº CALIL RAHAL NETO ”.

NOME: \_\_\_\_\_

## BIBLIOTECA VIRTUAL


CONVIDE UM FAMILIAR, ESCOLHA UM LIVRO E FAÇA UM MOMENTO DE LEITURA. A PROFESSORA ENVIOU NO GRUPO DE WHATSAPP DA SALA UMA BIBLIOTECA VIRTUAL COM VÁRIOS LIVROS LEGAIS.

### AGORA É COM VOCÊ:

QUAL O NOME DA HISTÓRIA QUE VOCÊ LEU? ESCREVA NA LINHA ABAIXO:

\_\_\_\_\_

2 – DESENHE OS PERSONAGENS OU A PARTE DA HISTÓRIA QUE VOCÊ MAIS GOSTOU .







REESCREVA O CABEÇALHO:

E . M . “ PROFº CALIL RAHAL NETO ”.

NOME: \_\_\_\_\_

VEJA COMO AS CRIANÇAS DAS IMAGENS ESTÃO BRINCANDO NA PANDEMIA.



AGORA É SUA VEZ, DESENHE AS BRINCADEIRAS QUE ESTÃO SENDO DESENVOLVIDAS EM SUA CASA, SOZINHA, COM OS IRMÃOS OU COM SEUS PAIS.





E. M. "PROFº. CALIL RAHAL NETO".

NOME: \_\_\_\_\_

PROFESSORA: CAMILA TURMA: 1º ANO C DATA: 04/05/2021

## ATIVIDADE DE CIÊNCIAS

CONVIDE A MAMÃE PARA CANTAR E SE MOVIMENTAR JUNTO COM VOCÊ FAZENDO OS GESTOS DA MÚSICA ABAIXO. REGISTRE ESSE MOMENTO COM UMA FOTO E ENVIE PARA A PROFESSORA.



**VAMOS CANTAR?**



CABEÇA, OMBRO, JOELHO E PÉ. JOELHO E PÉ  
CABEÇA, OMBRO, JOELHO E PÉ. JOELHO E PÉ

OLHOS, OUVIDOS, BOCA E NARIZ  
CABEÇA, OMBRO, JOELHO E PÉ. JOELHO E PÉ

CIRCULE AS PALAVRAS DA MÚSICA QUE COMEÇAM COM A LETRA C.




REESCREVA O CABEÇALHO:

E . M . “ PROFº CALIL RAHAL NETO ”.

NOME: \_\_\_\_\_

ESCREVA OS NOMES DAS PARTES DO CORPO HUMANO, UTILIZANDO O BANCO DE PALAVRAS:

BRAÇO – PÉ – CABEÇA – TRONCO – PESCOÇO – PERNA







E. M. "PROF<sup>o</sup>. CALIL RAHAL NETO".

NOME: \_\_\_\_\_

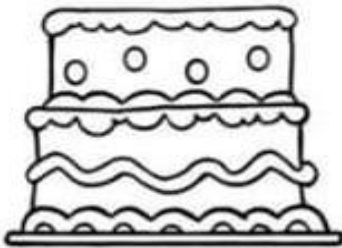
PROFESSORA: CAMILA TURMA: 1<sup>o</sup> ANO C DATA: 05/05/2021

ATIVIDADE DE LÍNGUA PORTUGUESA


TUDO SOBRE A MAMÃE

O NOME DELA É:

ELA TEM \_\_\_\_ ANOS




COMIDA FAVORITA



LUGAR FAVORITO






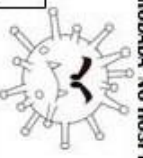








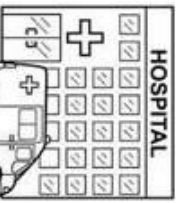

PASSATEMPO



COR FAVORITA



# TODOS CONTRA O VÍRUS

<p>5</p>  <p>RETORNOU A MÁSCARA PARA TOSSIR VOLTE 2 CASAS</p>	<p>6</p>	<p>7</p>	<p>8</p>  <p>COMPARTILHOU O MESMO COPPO VOLTE 2 CASAS</p>	<p>9</p>	<p>10</p>	<p>11</p>  <p>LAVOU AS MÃOS COM SABÃO - AVANCE 3 CASAS</p>
<p>4</p>						<p>12</p>
<p>3</p>	<p>17</p>	<p>16</p>  <p>VOCÊ FOI INECTADO FIQUE UMA RODADA NO HOSPITAL</p>	<p>15</p>  <p>LAVOU AS MÃOS COM SABÃO - AVANCE 3 CASAS</p>	<p>14</p>	<p>13</p>  <p>VOCÊ ESTÁ DOENTE VOLTE NO INÍCIO</p>	
<p>2</p>  <p>PASSOU ALCOOL GEL AVANCE 1 CASA</p>	<p>18</p>					
<p>1</p>  <p>USOU A MÁSCARA AVANCE DUAS CASAS</p>	<p>19</p>  <p>VOCÊ FOI INECTADO FIQUE UMA RODADA NO HOSPITAL</p>	<p>20</p>  <p>PASSOU ALCOOL GEL AVANCE 1 CASA</p>	<p>21</p>	<p>22</p>	<p>23</p>  <p>COMPARTILHOU O MESMO COPPO VOLTE 2 CASAS</p>	
 <p>INÍCIO</p>	<p>HOSPITAL</p> 					 <p>CHEGADA</p>



E. M. "PROF<sup>o</sup>. CALIL RAHAL NETO".

NOME: \_\_\_\_\_

PROFESSORA: CAMILA TURMA: 1<sup>o</sup> ANO C DATA: 06/05/2021

ATIVIDADE DE LÍNGUA PORTUGUESA

CONTEXTUALIZANDO: DIA DAS MÃES



MÃE É UMA JÓIA  
QUE BRILHA MAIS  
QUE DIAMANTE!

CIRCULE AS VOGAIS DO TEXTO.

COMPLETE AS QUALIDADES DAS MÃES COM AS VOGAIS:

B \_\_\_ L \_\_\_

AM \_\_\_ G \_\_\_

AM \_\_\_ R \_\_\_ S \_\_\_

D \_\_\_ C \_\_\_

T \_\_\_ RN \_\_\_

G \_\_\_ NT \_\_\_ L

C \_\_\_ R \_\_\_ NH \_\_\_ S \_\_\_




REESCREVA O CABEÇALHO:

E . M . “ PROFº CALIL RAHAL NETO ”.

NOME: \_\_\_\_\_

## MATEMÁTICA

Leve a Júlia até a sua mãe seguindo a sequência numérica.





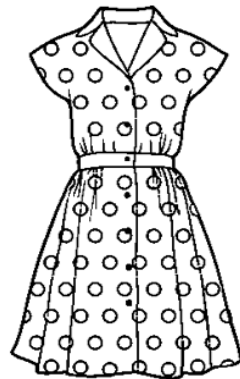
E. M. "PROF<sup>o</sup>. CALIL RAHAL NETO".

NOME: \_\_\_\_\_

PROFESSORA: CAMILA TURMA: 1<sup>o</sup> ANO C DATA: 07/05/2021

ATIVIDADE DE LÍNGUA PORTUGUESA

1- ESCREVA A LETRA INICIAL DOS NOMES DOS OBJETOS QUE A MAMÃE USA.





## CARTÃO XÍCARA

CORTE E DECORE  
COMO A IMAGEM ABAIXO.

PODE-SE COLOCAR JUNTO UMA  
LINDA MENSAGEM.





E. M. "PROF<sup>o</sup>. CALIL RAHAL NETO".

NOME: \_\_\_\_\_

PROFESSORA: CAMILA TURMA: 1<sup>o</sup> ANO C DATA: 10/05/2021

ATIVIDADE DE LÍNGUA PORTUGUESA

1 - ESCREVA O NOME DOS DESENHOS COMO SOUBER, OBSERVE OS NUMERAIS:



1 \_\_\_\_\_

2 \_\_\_\_\_

3 \_\_\_\_\_

4 \_\_\_\_\_



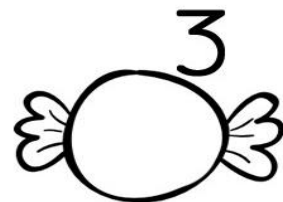
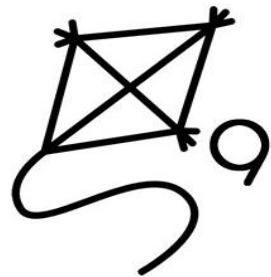
5 \_\_\_\_\_

6 \_\_\_\_\_



7 \_\_\_\_\_

8 \_\_\_\_\_

9 \_\_\_\_\_



➤ VEJA AS QUANTIDADES DE ALGUMAS ROUPAS QUE A MAMÃE DA MÔNICA TEM EM SEU GUARDA-ROUPA:



8

5

7

4

PINTE NO GRÁFICO AS QUANTIDADES:

