

E.M."PROFESSOR CALIL RAHAL NETO"

NOME: \_\_\_\_\_

PROFESSORA: JOCELI

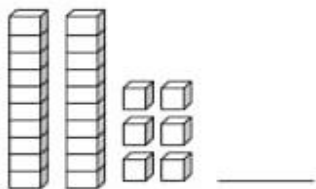
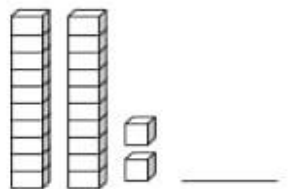
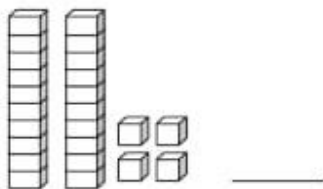
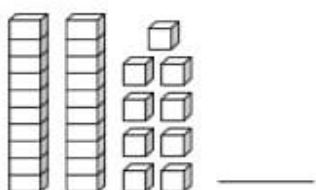
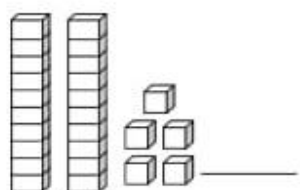
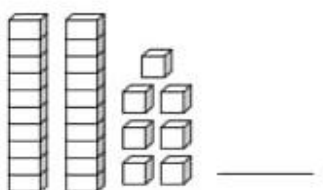
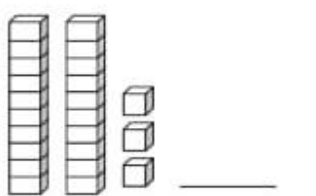
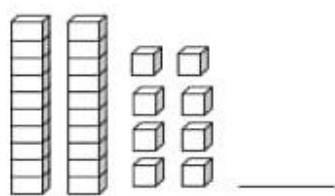
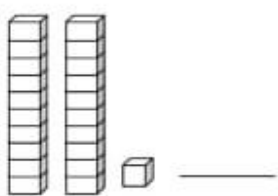
TURMA: 2º ANO A

DATA: 19/04/2021

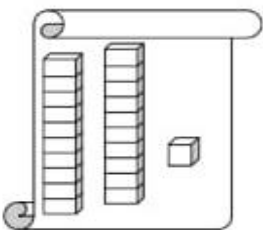
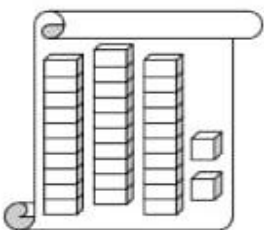
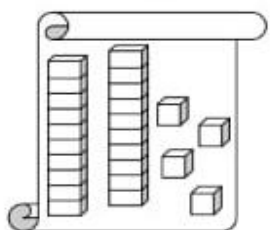
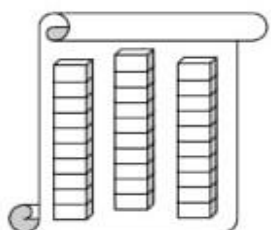
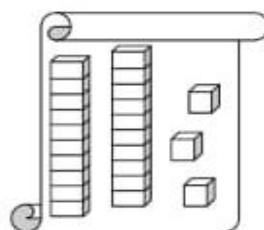
ENTREGA: 11/5/2021

*Números de 20 até 29*

1 - ESCREVA O NÚMERO CORRESPONDENTE AO MATERIAL DOURADO.

 _____	 _____	 _____
 _____	 _____	 _____
 _____	 _____	 _____

2 - PINTE OS CARTAZES QUE POSSUEM **MENOS** DE 25 UNIDADES.

E.M."PROFESSOR CALIL RAHAL NETO"

NOME: \_\_\_\_\_

PROFESSORA: JOCELI

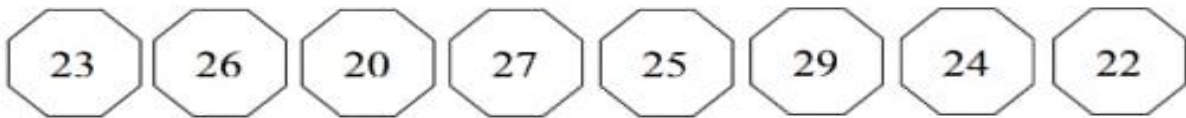
TURMA: 2º ANO A

DATA: 20/04/2021

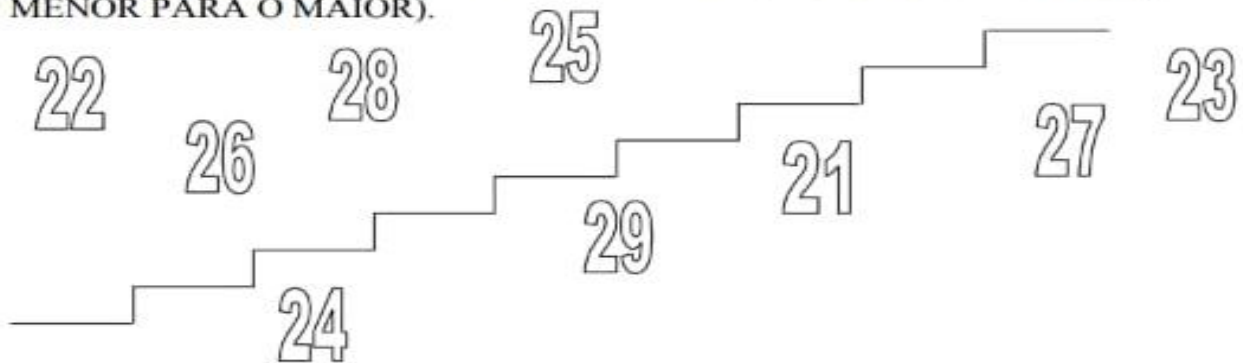
ENTREGA: 11/5/2021

*Números de 20 até 29*

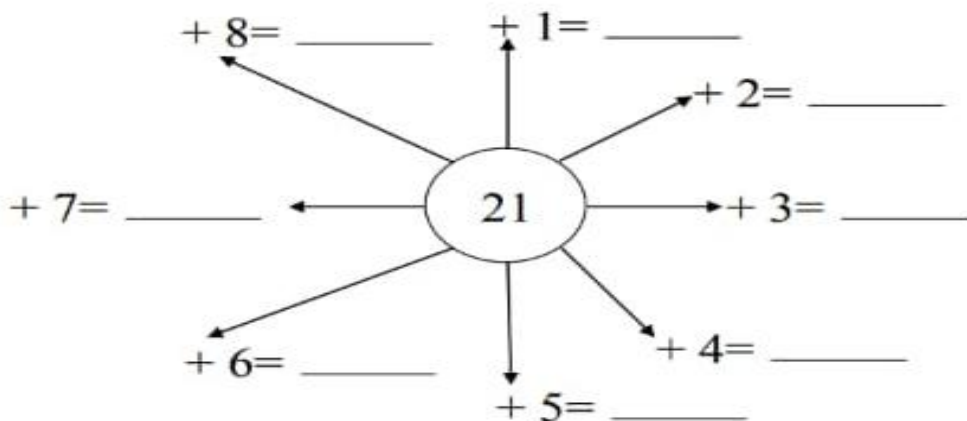
1 - LEIA OS NÚMEROS ABAIXO E ESCREVA-OS EM **ORDEM DECRESCENTE** (DO MAIOR PARA O MENOS).



2 - ESCREVA OS NÚMEROS NA ESCADA EM **ORDEM CRESCENTE** (DO MENOR PARA O MAIOR).



3 - CALCULE MENTALMENTE:



E.M."PROFESSOR CALIL RAHAL NETO"

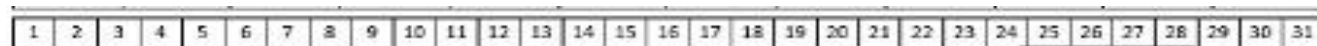
NOME: \_\_\_\_\_

PROFESSORA: JOCELI

TURMA: 2º ANO A


DATA: 22/04/2021

ENTREGA: 11/5/2021




# Geometria

© Atividades Semana



Pinte as formas de acordo com a legenda:

- Triângulo de verde;
- Retângulo de azul;
- Círculo de amarelo;
- Quadrado de marrom.



E.M."PROFESSOR CALIL RAHAL NETO"

NOME: \_\_\_\_\_



PROFESSORA: JOCELI

TURMA: 2º ANO A

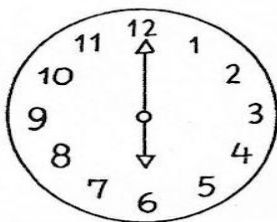
DATA: 23/04/2021

ENTREGA: 11/5/2021

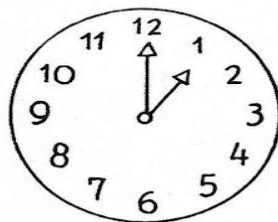
*Medida de tempo*  
**Horas**



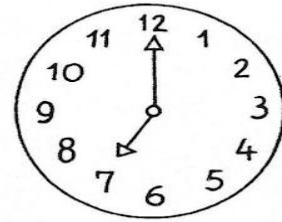
O ponteiro pequeno indica as horas.  
O ponteiro maior indica os minutos.



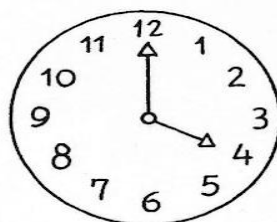
..... horas



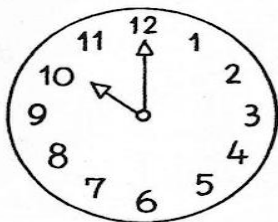
..... horas



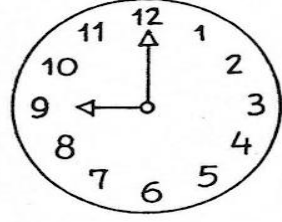
..... horas



..... horas



..... horas



..... horas

E.M."PROFESSOR CALIL RAHAL NETO"

NOME: \_\_\_\_\_

PROFESSORA: JOCELI

TURMA: 2º ANO A

DATA: 26/04/2021

ENTREGA: 11/5/2021

# SÓLIDOS GEOMÉTRICOS:

São figuras geométricas tridimensionais, isso quer dizer que possuem três dimensões: largura, altura e comprimento.

Alguns exemplos:



**ESFERA**



**CONE**



**CILINDRO**



**CUBO**



**PIRÂMIDE**



**PRISMA**



**PARALELEPÍPEDO**

## E.M. "PROFESSOR CALIL RAHAL NETO"

NOME: \_\_\_\_\_

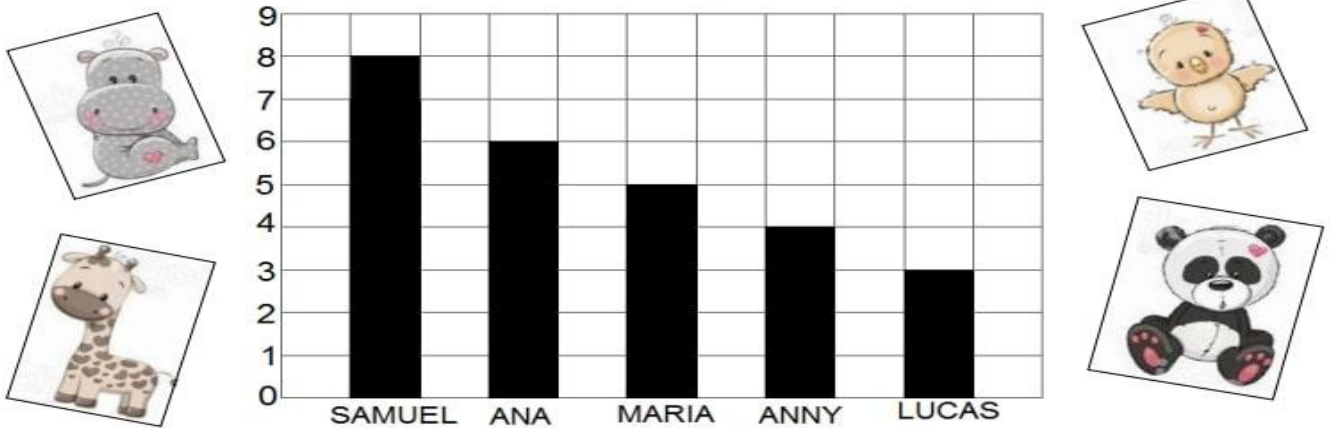
PROFESSORA: JOCELI

TURMA: 2º ANO A

DATA: 27/04/2021

ENTREGA: 11/5/2021

1) OBSERVE QUANTAS FIGURINHAS ALGUNS ALUNOS DA TIA EDVÂNIA CONSEGUIRAM JUNTAR NA BRINCADEIRA COM DADOS:




A) OBSERVE A QUANTIDADE DE FIGURINHAS DE CADA CRIANÇA, PARA COMPLETAR A TABELA:

CRIANÇAS	QUANTIDADE DE BOLAS NA CESTA								NÚMERO
ANNY									
SAMUEL									
ANA									
LUCAS									
MARIA									

B) COLORIR, DE AMARELO, O NOME DA CRIANÇA QUE JUNTOU MAIS FIGURINHAS.

C) COLORIR, DE VERDE, O NOME DA CRIANÇA QUE JUNTOU MENOS FIGURINHAS.

2) NUMERE AS CENAS NA ORDEM DOS ACONTECIMENTOS:



E.M."PROFESSOR CALIL RAHAL NETO"

NOME: \_\_\_\_\_

PROFESSORA: JOCELI

TURMA: 2º ANO A

DATA: 28/04/2021

ENTREGA: 11/5/2021



# Geografia

► A comunidade onde vivemos


◀ **Leia:**

Geralmente, as **peessoas** procuram viver **em grupo** e gostam da companhia dos familiares e dos amigos.

Um **grupo de pessoas** que vivem em um mesmo local, trabalhando, divertindo-se ou realizando atividades juntas forma uma **comunidade**.

Em uma comunidade as pessoas dependem umas das outras.

► Cite algumas formas de colaborar com a sua comunidade:



E.M."PROFESSOR CALIL RAHAL NETO"

NOME: \_\_\_\_\_

PROFESSORA: JOCELI

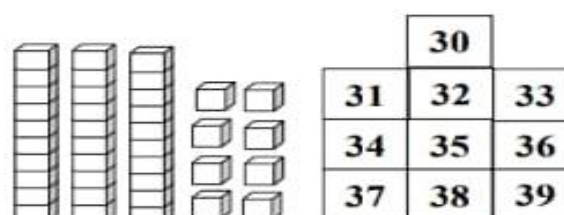
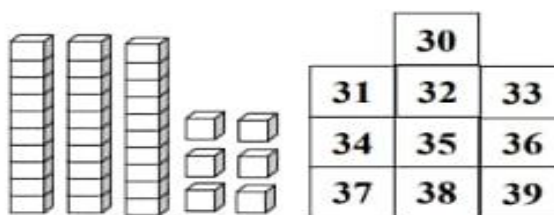
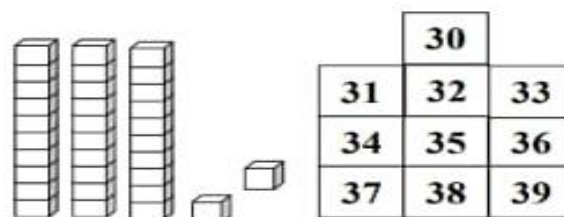
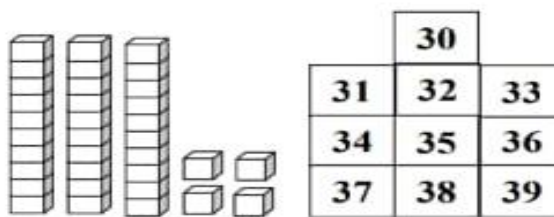
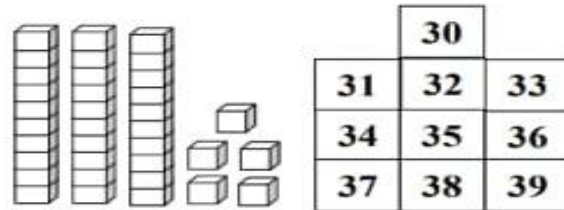
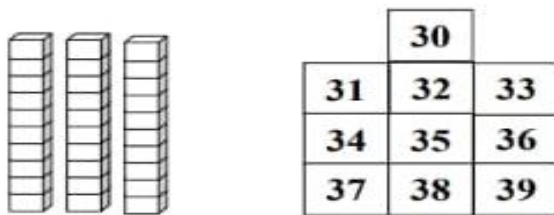
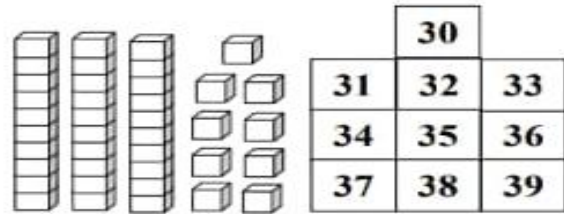
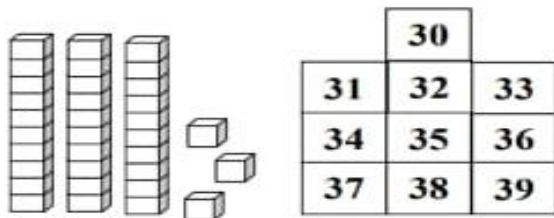
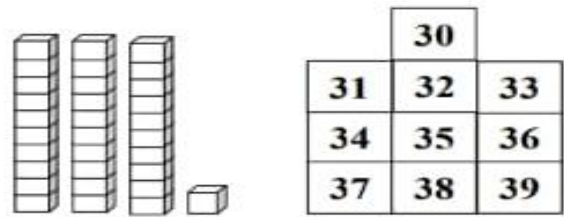
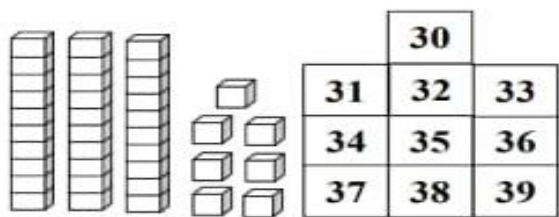
TURMA: 2º ANO A

DATA: 29/04/2021

ENTREGA: 11/5/2021

*Números de 30 até 39*

I – PINTE O NÚMERO CORRESPONDENTE AO MATERIAL DOURADO.





E.M."PROFESSOR CALIL RAHAL NETO"

NOME: \_\_\_\_\_

PROFESSORA: JOCELI

TURMA: 2º ANO A


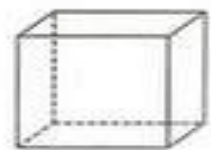
DATA: 30/04/2021

ENTREGA: 11/5/2021

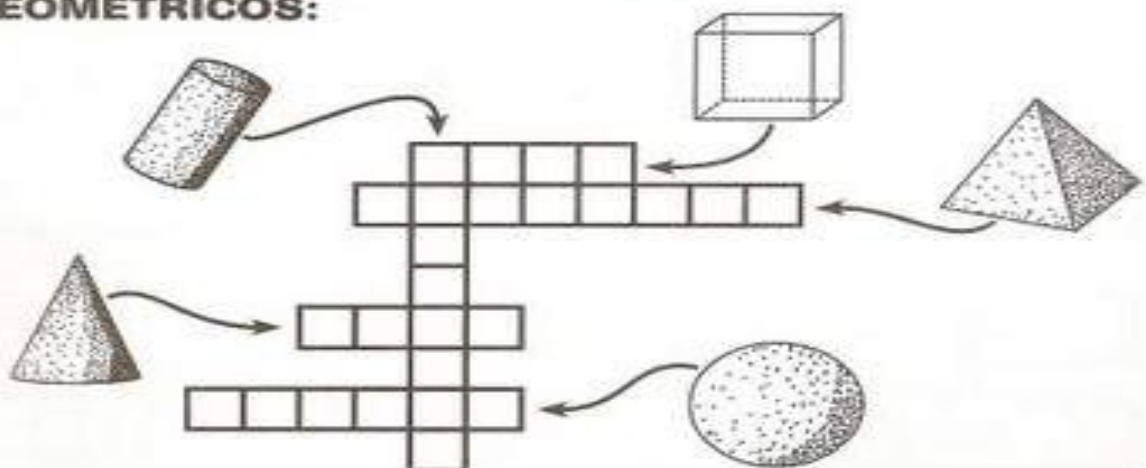
# SÓLIDOS GEOMÉTRICOS



⇒ **LIGUE OS DESENHOS ÀS FIGURAS CORRESPONDENTES:**



⇒ **COMPLETE A CRUZADINHA SOBRE OS SÓLIDOS GEOMÉTRICOS:**



E.M."PROFESSOR CALIL RAHAL NETO"

NOME: \_\_\_\_\_

PROFESSORA: JOCELI


TURMA: 2º ANO A

DATA: 03/05/2021

ENTREGA: 11/5/2021

## Pesquisando a Higiene

Pesquise marcas de produtos de higiene e limpeza usados pela sua família e escreva abaixo:

Nome do produto	Marca	
Creme dental		
Sabonete		
Xampu		
Sabão em pó		
Detergente		
		Preço

ESCREVA QUAIS OS CUIDADOS DE HIGIENE QUE PRECISAMOS TER:

E.M."PROFESSOR CALIL RAHAL NETO"

NOME: \_\_\_\_\_




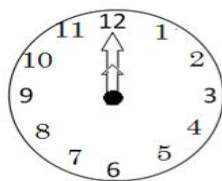
PROFESSORA: JOCELI

TURMA: 2º ANO A

DATA: 04/05/2021

ENTREGA: 11/5/2021

1. Escreva a hora em que cada relógio está marcando.



\_\_\_\_\_

\_\_\_\_\_

\_\_\_\_\_

\_\_\_\_\_

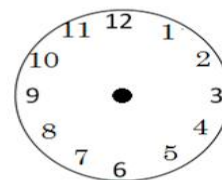
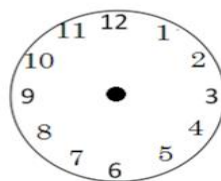
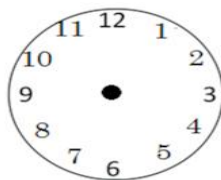
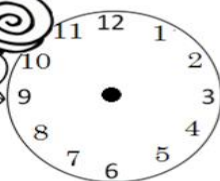
2. Desenhe os ponteiros para que o relógio indique:

a) 2 horas

b) 10 horas

c) 6 horas

d) 12 horas



3. Desenhe os ponteiros, marcando 1 hora antes num relógio e 1 hora depois no outro relógio.

1 hora antes	Horas	1 hora depois



## E.M."PROFESSOR CALIL RAHAL NETO"

NOME: \_\_\_\_\_

PROFESSORA: JOCELI

TURMA: 2º ANO A

DATA: 05/05/2021

ENTREGA: 11/5/2021

### *Números de 30 até 39*

1 – COMPLETE AS SEQUÊNCIAS NUMÉRICAS DE ACORDO COM CADA INSTRUÇÃO:

A) DE 1 EM 1:

30									
----	--	--	--	--	--	--	--	--	--

B) DE 2 EM 2:

30				
----	--	--	--	--

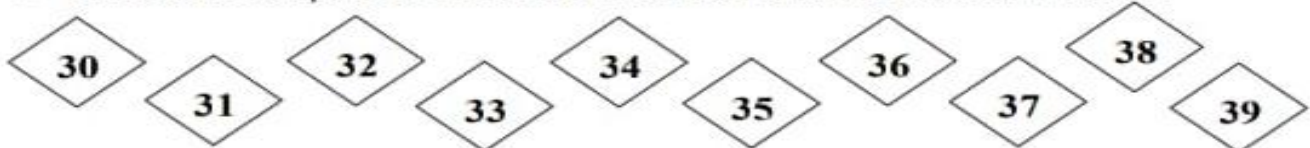
C) DE 3 EM 3:

30			
----	--	--	--

D) DE 4 EM 4:

30		
----	--	--

2 – PINTE NO CAÇA-PALAVRAS O NOME DOS NUMERAIS ABAIXO:



T	I	Z	E	N	H	G	P	I	Q	A	S	F	B	W	M	T	R	I
R	I	T	R	I	N	T	A	*	E	*	D	O	I	S	G	R	U	B
I	G	K	*	H	R	Ç	F	M	K	P	U	P	T	Z	H	I	F	T
N	H	L	T	J	*	S	W	F	D	F	*	D	B	G	E	N	D	R
T	R	I	N	T	A	*	E	*	N	O	V	E	U	D	L	T	V	I
A	I	Ç	K	O	Y	H	T	S	E	G	A	W	*	S	Ç	A	C	N
*	T	R	I	N	T	A	*	E	*	T	R	È	S	A	M	*	L	T
E	R	*	L	P	W	K	J	H	W	T	G	H	E	P	T	E	K	A
*	I	G	P	Ç	D	R	L	Ç	T	R	L	C	J	O	R	*	U	*
Q	M	T	Q	T	R	I	N	T	A	*	E	*	S	E	I	S	A	E
U	T	*	V	A	F	Y	M	A	L	S	A	X	U	Y	N	E	W	*
A	T	R	I	N	T	A	*	E	*	U	M	F	D	I	T	T	B	O
T	B	S	D	U	S	E	O	Z	Ç	B	Ç	N	K	R	A	E	V	I
R	N	F	X	B	I	J	R	G	A	N	S	A	Z	T	N	*	Ç	T
O	X	E	R	M	T	R	I	N	T	A	*	E	*	C	I	N	C	O
K	S	R	T	J	A	Q	U	B	D	R	X	Y	V	E	U	H	A	W



E.M."PROFESSOR CALIL RAHAL NETO"

NOME: \_\_\_\_\_

PROFESSORA: JOCELI

TURMA: 2º ANO A

DATA: 07/05/2021

ENTREGA: 11/5/2021

## NOSSO DINHEIRO



NOSSO DINHEIRO É O REAL. O SÍMBOLO DO REAL É R\$.

I - LIGUE CORRETAMENTE.

CINCO  
CENTAVOS



VINTE E CINCO  
CENTAVOS



UM REAL



CINQUENTA  
CENTAVOS



DEZ  
CENTAVOS



---

2- RAFAEL TEM DOIS REAIS. CIRCULE.



E.M."PROFESSOR CALIL RAHAL NETO"

NOME: \_\_\_\_\_

PROFESSORA: JOCELI


TURMA: 2º ANO A


DATA: 10/05/2021

ENTREGA: 11/5/2021

3 - OBSERVE AS QUANTIAS E MARQUE O CERTO.

 ( ) 35 REAIS  
( ) 15 REAIS  
( ) 25 REAIS

 ( ) 10 REAIS  
( ) 9 REAIS  
( ) 11 REAIS

 ( ) 15 REAIS  
( ) 10 REAIS  
( ) 12 REAIS

 ( ) 4 REAIS  
( ) 5 REAIS  
( ) 3 REAIS

4 - OBSERVE A QUANTIA QUE SOFIA E PEDRO TÊM, E RESOLVA AS QUESTÕES A SEGUIR.





A) QUANTO SOFIA TEM?

B) QUANTO PEDRO TEM?

C) QUEM TEM MAIS?

D) QUANTO SOFIA TEM A MAIS?

E.M."PROFESSOR CALIL RAHAL NETO"

NOME: \_\_\_\_\_

PROFESSORA: JOCELI



TURMA: 2º ANO A

DATA: 07/05/2021

ENTREGA: 11/5/2021

RECORTE, DOBRE, DECORE COMO NA IMAGEM, ESCREVA DENTRO DO CARTÃO UMA MENSAGEM BEM BONITA PARA SUA MAMÃE OU PARA QUEM CUIDA DE VOCÊ COM CARINHO, DEPOIS FOTOGRAFE COM SUA MÃE E ENVIE A FOTO PARA A PROFESSORA

### CARTÃO XÍCARA





Referências- 4ª Apostila- 19 de Abril à 10 de Maio- 2º ANO

<https://atividadespedagogicasuzano.com.br/wp-content/uploads/2018/06/geometria2anodivertida-page-002-3-500x430.jpg>

<https://i.pinimg.com/474x/37/70/ed/3770ed9fef4df050547d8f51a6780d45.jpg>

[http://1.bp.blogspot.com/-kJTU7doUOlo/ViZpvzmOw\\_I/AAAAAAAAAB\\_E/JjwqghS8sq0/s1600/Atividades%2Bde%2Bmatem%25C3%25A1tica%2Bformas%2Bgeom%25C3%25A9tricas%2Bpara%2Bimprimir%2B%25281%2529.gif](http://1.bp.blogspot.com/-kJTU7doUOlo/ViZpvzmOw_I/AAAAAAAAAB_E/JjwqghS8sq0/s1600/Atividades%2Bde%2Bmatem%25C3%25A1tica%2Bformas%2Bgeom%25C3%25A9tricas%2Bpara%2Bimprimir%2B%25281%2529.gif)

<https://i.pinimg.com/originals/61/5f/24/615f24e85900f9b1862daf9cc90e1449.jpg>

<https://i.pinimg.com/474x/c5/43/95/c543956b83d66ed11c3fdd6e4fc2cca8.jpg>

<https://i.pinimg.com/236x/fa/9e/5f/fa9e5f3d3186fdb64d87b3fb4d9dca8e.jpg>

<https://i.pinimg.com/originals/17/46/9c/17469ce3dcffb7010d4afa1872abd4b9.jpg>

Coleção Alfabetização Divertida, volume (3)

Apostila com material dourado ( Elaborado por Eleúzia Lins da Silva)