

E.M JOSÉ GABRIEL MACHADO

NOME:.....

PROFESSORA FLÁVIA RAHAL

5º ANO-A



19/04/2021

DIA 19/04 É COMEMORADO O DIA DO ÍNDIO. SOBRE OS PRIMEIROS HABITANTES DO BRASIL, REALIZE UMA PESQUISA, USE O BANCO DE PALAVRAS E COMPLETE A ATIVIDADE ABAIXO.



❖ Complete com as palavras que estão no quadro abaixo:

- ▶ Viviam em
- ▶ Se organizavam em
- ▶ Faziam comemorações nas praças chamadas
- ▶ Os homens
- ▶ As mulheres
- ▶ Eles adoravam a Lua, o trovão, o raio e o
- ▶ O chefe era o
- ▶ O meio de transporte usado eram canoas e
- ▶ Dormiam em



- redes
- jangadas
- pajé
- Sol
- plantavam
- caçavam
- ocaras
- tribos
- ocas

19/04/2021



Hábitos Indígenas

Você sabia que vários dos nossos hábitos são herdados da cultura indígena?

Um dos costumes mais importantes é o de tomar banho todos os dias.

Em outras culturas, como na dos países europeus, é comum as pessoas passarem dias sem tomar banho.

Que bom que os índios nos ensinaram isso, né? Assim somos um povo bem cheirosinho!

Também aprendemos com eles o uso de chás e plantas medicinais para curar doenças.

E como os índios têm muito conhecimento de ervas e plantas, muitos dos remédios que compramos hoje nas farmácias tiveram suas fórmulas baseadas em chás indígenas.

É influência deles também a utilização de redes para dormir, as várias danças, principalmente as da região Norte do Brasil.

E ainda várias canções e lendas do folclore brasileiro.

http://www.plenarinho.gov.br/brasil/Reportagens_publicadas/todo-dia-era-dia-de-indio

De olho no texto!

1. O texto que acabamos de ler fala de alguns hábitos que herdamos da cultura indígena. Identifique-os e faça a listagem abaixo.



2. Em sua opinião qual a importância da figura do índio em nosso país?

20/04/2021

Nome: _____ data: _____

21 DE ABRIL

DIA DE TIRADENTES

Tiradentes recebeu esse nome porque um de seus ofícios era o de dentista, mas também foi militar e comerciante. Viveu em uma época com muitos problemas sociais em função do domínio português.

Especificamente em Minas Gerais, os problemas tornaram-se mais sérios, pois, em meados século XVIII o estado entrou em fase de decadência econômica, as jazidas de ouro estavam se esgotando e os mineiros foram ficando cada vez mais pobres. Mesmo com este quadro o governo português continuou exigindo impostos dos mineiros, que tinham que pagar, semestralmente, cem arrobas de prata, destinadas à Real Fazenda, imposto este chamado de "**quinto**". Tudo piorou com a decretação da **derrama**, medida administrativa que permitia a cobrança forçada de impostos, mesmo que fosse preciso prender os devedores.

Inconformado com a situação, um grupo formado pelas pessoas mais influentes do estado, passa a organizar reuniões conspiratórias. O grupo era diversificado: haviam homens impulsionados pela ideologia, ativistas revolucionários, e, em maior número, mineradores e magnatas endividados. Não havia, então, uma motivação social nem preocupação com a população oprimida, mas, sim, com a defesa de interesses políticos e pessoais.

Os principais planos do grupo de revolucionários, chamados de **inconfidentes**, era libertar o Brasil de Portugal, desenvolver indústrias no país e criar uma Universidade em Vila Rica. Mas o grupo não tinha organização suficiente para levar a revolta até o fim e acabou sendo perseguido e preso.



DIA DO TIRADENTES

20/04/2021

TIRADENTES

Para chegar até Tiradentes, siga o caminho dos fatos onde os resultados aparecem em ordem decrescente.

Maze puzzle with multiplication facts. The goal is to reach Tiradentes by following a path of results in descending order.

Central image: *Dia de Tiradentes 21 de Abril* with a portrait of Tiradentes.

Multiplication facts and results in the maze:

- $4 \times 9 =$ (Result: 36)
- $3 \times 9 =$ (Result: 27)
- $5 \times 7 =$ (Result: 35)
- $8 \times 5 =$ (Result: 40)
- $5 \times 1 =$ (Result: 5)
- $1 \times 6 =$ (Result: 6)
- $6 \times 7 =$ (Result: 42)
- $5 \times 9 =$ (Result: 45)
- $7 \times 3 =$ (Result: 21)
- $5 \times 6 =$ (Result: 30)
- $6 \times 4 =$ (Result: 24)
- $5 \times 2 =$ (Result: 10)
- $2 \times 4 =$ (Result: 8)
- $4 \times 3 =$ (Result: 12)
- $3 \times 2 =$ (Result: 6)
- $4 \times 7 =$ (Result: 28)
- $8 \times 3 =$ (Result: 24)
- $6 \times 8 =$ (Result: 48)
- $3 \times 3 =$ (Result: 9)
- $0 \times 3 =$ (Result: 0)
- $5 \times 5 =$ (Result: 25)
- $6 \times 2 =$ (Result: 12)
- $4 \times 4 =$ (Result: 16)
- $5 \times 4 =$ (Result: 20)
- $3 \times 7 =$ (Result: 21)
- $5 \times 3 =$ (Result: 15)
- $3 \times 4 =$ (Result: 12)
- $6 \times 3 =$ (Result: 18)
- $4 \times 5 =$ (Result: 20)
- $6 \times 4 =$ (Result: 24)
- $4 \times 6 =$ (Result: 24)
- $3 \times 6 =$ (Result: 18)

22/04/2021

O DESCOBRIMENTO DO BRASIL

A expedição de Pedro Álvares Cabral chegou às terras brasileiras no dia 22 de abril de 1500. Ao aproximar-se das terras brasileiras, avistaram um monte e lhe deram o nome de Monte Pascoal, por estarem na época da Páscoa.


Aportaram em Porto Seguro, no Estado da Bahia, atual Baía de Cabrália. Quando desembarcaram, Pero Vaz de Caminha, escrivão da esquadra portuguesa, escreveu ao rei de Portugal contando a beleza da terra aqui encontrada.

No dia 26 de abril, foi celebrada a primeira missa no Brasil, por Frei Henrique Soares.

Em 1º de maio, Cabral tomou posse da terra em nome do rei de Portugal.

Os portugueses deram outros nomes à terra brasileira antes de se chamar Brasil: Ilha de Vera Cruz e Terra de Santa Cruz.

O nome Brasil foi escolhido por causa da madeira pau-brasil, que aqui era encontrada em grande quantidade. O pau-brasil era uma madeira muito utilizada na Europa, para fazer navios e tingir roupas. A sua cor é vermelha como brasa, daí o nome Brasil.



22/04/2021

① Qual foi o nome que recebeu o primeiro monte avistado pelos portugueses? E por que recebeu esse nome?

② Qual foi a data de descobrimento do Brasil?

-) 22 de maio de 1500.
-) 20 de abril de 1500.
-) 22 de abril de 1500.

③ Quem comandava a expedição que descobriu o Brasil?

-) Pedro Álvares Cabral.
-) Frei Henrique Soares.
-) Pero Vaz de Caminha.

④ A primeira carta enviada ao rei de Portugal foi escrita por:

-) Pedro Álvares Cabral.
-) Frei Henrique Soares.
-) Pero Vaz de Caminha.

⑤ Qual o Estado em que a expedição aportou?

-) Rio de Janeiro.
-) Bahia.
-) São Paulo.





⑥ Quais os outros nomes que o nosso país recebeu antes do nome Brasil?

⑦ Por que o Brasil recebeu esse nome?

23/04/2021

PRODUÇÃO DE TEXTO

CONTINUE A HISTÓRIA DE ACORDO COM A SEQUÊNCIA DAS CENAS :



A GALINHA CUIDADOSA

EM UMA TARDE NA FAZENDA DO SEU JUCA A GALINHA CARIJÓ RESOLVEU LEVAR SEUS FILHOTES PARA CONHECER OUTRO TERREIRO PARA CISCAR.

23/04/2021

1 - JUCA RECEBEU QUINHENTOS E TRINTA E QUATRO LIVROS PARA COMPOR A BIBLIOTECA DO CENTRO COMUNITÁRIO. NA BIBLIOTECA, JÁ HAVIA DUZENTOS E QUINZE LIVROS.

- a) Quantos livros já havia na biblioteca? _____
- b) Quantos livros Juca recebeu? _____
- c) Quantos livros a biblioteca do centro comunitário passou a ter? _____



2. RESOLVA AS OPERAÇÕES ABAIXO:

A) $369 + 45 =$


B) $528 - 495 =$

A) $526 + 64 =$

E) $129 \times 5 =$

A) $654 - 329 =$

F) $328 \times 6 =$



26/04/2021

Título original: Rio
Lançamento: 2011 (EUA)
Direção: Carlos Saldanha (brasileiro)
Elenco: Jesse Eisenberg, Anne Hathaway, Rodrigo Santoro, Leslie Mann
Gênero: Animação



O filme conta a história de uma arara azul chamada Blu. A ave cresce acreditando ser a última de sua espécie, até descobrir que há uma arara azul fêmea no Rio de Janeiro. Com a missão de impedir a extinção de sua espécie, Blu é obrigado a deixar o conforto de sua gaiola em Minnesota, onde é criado como um animal de estimação, para se aventurar em uma cidade totalmente estranha.

Acontece que o problema só aumenta quando Blu conhece Jewel, uma ave independente e feminista que não tem a menor intenção de facilitar a sua tarefa. Na cidade maravilhosa, as araras acabam embarcando em uma grande aventura onde conhecem a coragem, a amizade e o amor.

Além da tecnologia 3D, o longa conta com a brilhante direção de Carlos Saldanha, premiado cineasta brasileiro que também dirigiu grandes sucessos como a Era do Gelo 2. O cenário também é muito convidativo, já que todos os detalhes dão a paisagem um ar ainda mais real.

Um filme divertido, com uma série de animaizinhos irreverentes e uma questão séria perfeitamente abordada: a extinção das araras azuis.

Nele o Rio de Janeiro é retratado como nós conhecemos, uma cidade maravilhosa. Eu recomendo.

Compreendendo o texto

a) Qual é o título do filme?

b) Em que ano foi o seu lançamento e em qual país?

c) Qual é o personagem principal do filme e o seu nome?

d) Qual a mensagem que o filme destaca sobre os animais?

e) Como se chama o diretor do filme?


f) Temos um ator brasileiro que participou do filme. Qual é o nome dele?

g) Que mensagem o filme passa para nós sobre a cidade do Rio de Janeiro?

26/04/2021

NOME: _____

DATA: ____ / ____ / ____



SUBTRAÇÃO

CALCULE AS OPERAÇÕES E DÊ OS RESULTADOS

$\begin{array}{r} 878 \\ -699 \\ \hline \end{array}$	$\begin{array}{r} 529 \\ -433 \\ \hline \end{array}$	$\begin{array}{r} 743 \\ -517 \\ \hline \end{array}$	$\begin{array}{r} 803 \\ -254 \\ \hline \end{array}$	$\begin{array}{r} 300 \\ -223 \\ \hline \end{array}$
--	--	--	--	--

$\begin{array}{r} 645 \\ -323 \\ \hline \end{array}$	$\begin{array}{r} 473 \\ -399 \\ \hline \end{array}$	$\begin{array}{r} 976 \\ -667 \\ \hline \end{array}$	$\begin{array}{r} 803 \\ -524 \\ \hline \end{array}$	$\begin{array}{r} 755 \\ -449 \\ \hline \end{array}$
--	--	--	--	--

$\begin{array}{r} 744 \\ -529 \\ \hline \end{array}$	$\begin{array}{r} 505 \\ -394 \\ \hline \end{array}$	$\begin{array}{r} 300 \\ -229 \\ \hline \end{array}$	$\begin{array}{r} 876 \\ -529 \\ \hline \end{array}$	$\begin{array}{r} 669 \\ -473 \\ \hline \end{array}$
--	--	--	--	--

$\begin{array}{r} 383 \\ -299 \\ \hline \end{array}$	$\begin{array}{r} 575 \\ -386 \\ \hline \end{array}$	$\begin{array}{r} 422 \\ -289 \\ \hline \end{array}$
--	--	--



27/04/2021

OBSERVE E RESPONDA:

4. Maria Rita levou seus filhos: Ana Clara, 8 anos; Rodrigo, 11 anos; Mariana, 2 anos; e Luís, 4 anos, ao médico para saber se eles estão se desenvolvendo e crescendo adequadamente para a idade. Observe a cena a seguir e responda:



a) Qual é a criança mais alta?

b) Qual é a criança mais baixa?

c) Quem é mais alto: Luís ou Mariana?

d) E você, sabe qual é a sua altura?

e) Quando você nasceu, qual era a sua altura?

Pergunte para a mamãe ou para o responsável por você.

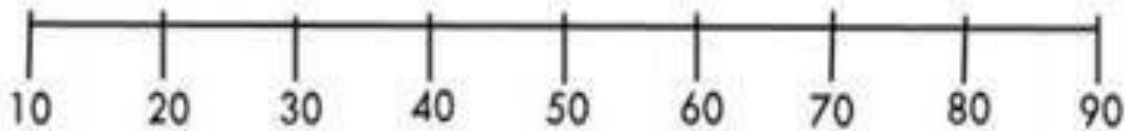
f) Das pessoas de sua casa, quem tem a menor altura?

27/04/2021

Reta numérica



1- Observe a reta numérica.




2- De acordo com a reta numérica, escreva a dezena mais próxima de:

- a) 18 _____ b) 62 _____ c) 58 _____
d) 29 _____ e) 41 _____ f) 8 _____

3- Pense e responda:

- a) de 6 para 10 faltam
- b) de 4 para 14 faltam
- c) de 5 para 12 faltam
- d) 8 para 15 faltam
- e) de 6 para 12 faltam
- f) de 3 para 9 faltam
- g) de 2 para 20 faltam
- h) de 9 para 11 faltam



28/04/2021

COMEÇAR A FRASE COM LETRA MAIÚSCULA
NÃO ESQUECER DO PONTO FINAL

Nome: _____

Data: ___/___/___

PRODUÇÃO ESCRITA

Escreva 3 frases sobre cada imagem:

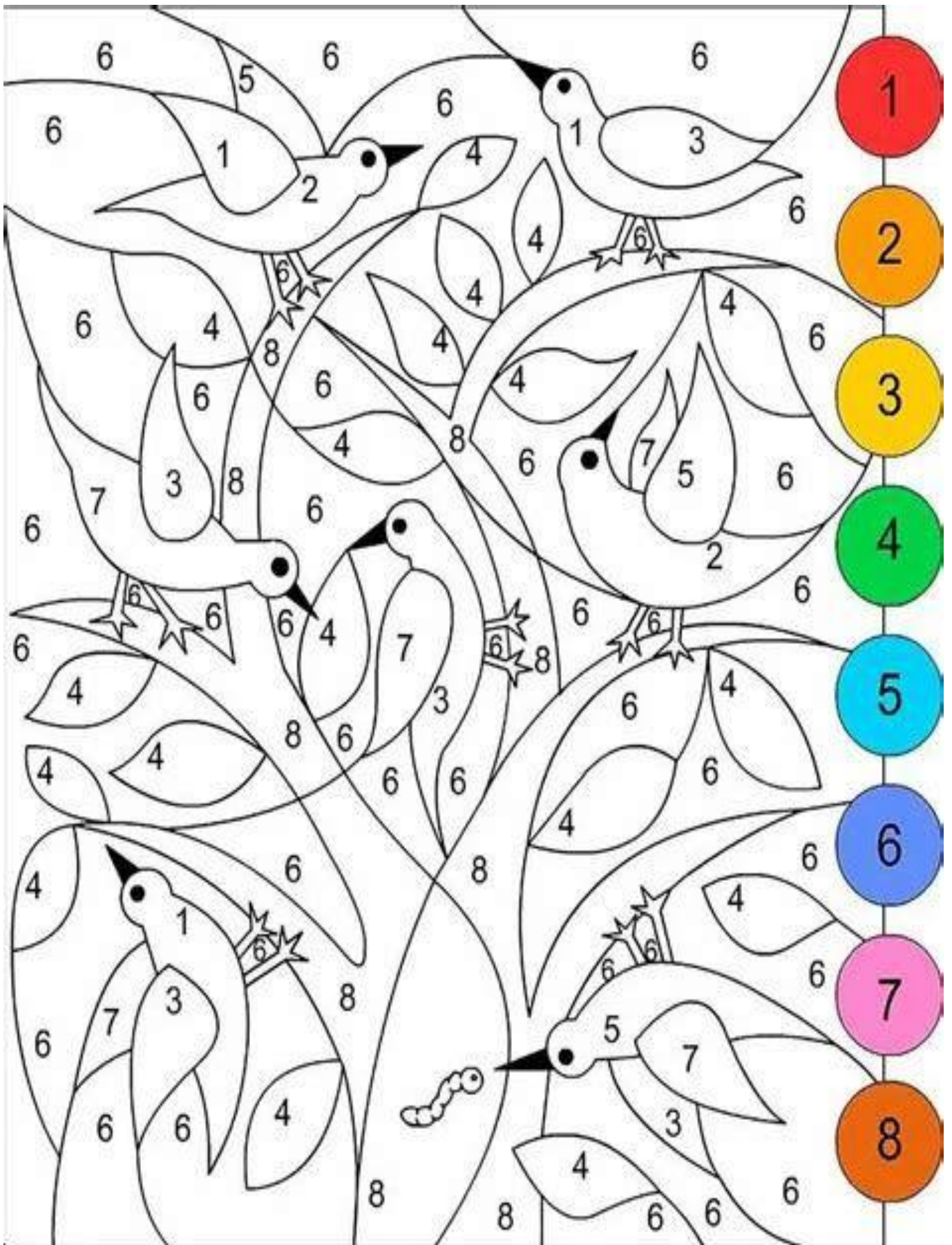




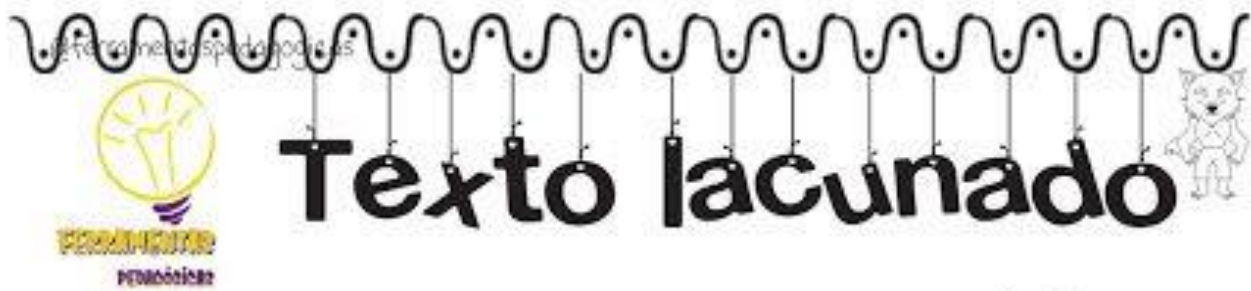


29/04/2021

SIGA AS ORIENTAÇÕES E PINTE A FIGURA



29/04/2021



SEGUNDO A CRENÇA POPULAR, O _____ É O ÚLTIMO DOS
_____ FILHOS DE UM CASAL. PARA EVITAR A SINA, É PRECISO QUE O IRMÃO
MAIS VELHO BATIZE O MAIS NOVO.
DIZEM QUE AOS _____ ANOS, NUMA
_____ À NOITE, ELE SAI E CHEGANDO A UMA
_____ ONDE UM JUMENTO SE ESFREGOU NA TERRA,
COMEÇA O SEU TORMENTO.
ELE APARECE EM FORMA DE UM _____ GRANDE, OU
_____ QUE ATACA AS PESSOAS NAS NOITES DE
_____ CHEIA.
SUA PRESENÇA NAS SOLITÁRIAS CAMINHADAS NOTURNAS É PRESENTIDA PELOS
_____ QUE, LATINDO, O PERSEGUEM ATÉ DESAPARECER. SEUS
_____ SÃO GRANDES, TEM PELOS POR TODO CORPO, INCLUSIVE NO
_____ OS OLHOS SÃO _____ E AS
_____ COMPRIDAS.


ENCRUZILHADA — CÃES — TREZE — QUINTA-FEIRA — VERMELHOS — LUA — SETE —
CACHORRO — UNHAS — LOBISOMEM — DENTES — LOBO — ROSTO

1) MARQUE AS ALTERNATIVAS CORRETAS.

- () O LOBISOMEM PARECE UM LOBO.
- () O SÉTIMO FILHO PODE SER UM LOBISOMEM.
- () QUANDO AMANHECE O MONSTRO VIRA HOMEM.
- () ALGUÉM CORAJOSO, VESTIDO DE AZUL PODE DETER O BICHO.
- () O HOMEM VIRA LOBISOMEM ÀS SEXTAS-FEIRAS.
- () O LOBISOMEM VOA MUITO BEM.



@ferramentaspedagogicas



CURIOSIDADES

1º de Maio



DESDE 1889, NA MAIORIA DOS PAÍSES, O 1º DE MAIO É A DATA ESCOLHIDA PARA COMEMORAR AS CONQUISTAS DOS TRABALHADORES! ESSA DATA TEVE ORIGEM EM UMA GREVE OPERÁRIA QUE ACONTECEU EM 1886, EM CHICAGO. NOS EUA, POR MELHORES CONDIÇÕES E REDUÇÃO NA JORNADA DE TRABALHO! NESTA ÉPOCA, AS PESSOAS CHEGAVAM A TRABALHAR ATÉ 18 HORAS POR DIA!! O 1º DE MAIO SÓ SE TORNOU FERIADO OFICIAL NO INÍCIO DO SÉCULO 20!

MAURICIO

SALÁRIO MÍNIMO

EM 1940, GETÚLIO VARGAS, O PRESIDENTE DO BRASIL NESTA ÉPOCA, CRIOU O SALÁRIO MÍNIMO NO PAÍS! ESSE SALÁRIO DEVERIA SER SUFICIENTE PARA UMA FAMÍLIA PAGAR AS CONTAS DE MORADIA, ALIMENTAÇÃO, VESTUÁRIO, HIGIENE E TRANSPORTE DO TRABALHADOR!



ARTESANATO

A ARTE FEITA À MÃO, ALÉM DE CARACTERIZAR A CULTURA DA ÁREA ONDE É PRODUZIDA, REFLETE O RELACIONAMENTO DO ARTESÃO COM SEU MEIO AMBIENTE, POR MEIO DOS MATERIAIS EMPREGADOS, COMO A MADEIRA, O BARRO, A CERÂMICA E AS FIBRAS VEGETAIS INDÍGENAS!



PROFISSÕES EM EXTINÇÃO

MUITAS PROFISSÕES ESTÃO SENDO ENGOLIDAS PELA INDUSTRIALIZAÇÃO E OUTRAS SENDO SUBSTITUÍDAS PELOS SISTEMAS DE AUTOMATIZAÇÃO! VEJA ALGUMAS DELAS:

TELEFONISTA

CHAPLEIRO

CONSERVADOR DE SOMBRINHAS



PROVÉRBIOS RELATIVOS AO TRABALHO

- "O TRABALHO ENOBRECE O HOMEM!"
- "DEUS AJUDA A QUEM CEGO MADRUGA!"
- "O TRABALHO TUDO VENCE!"
- "TRABALHO PRECIPITADO NÃO DA RESULTADO!"
- "O TRABALHO NÃO MATA NINGUÉM!"

30/04/2021

AGORA RESPONDA:

1) EM QUE DIA É COMEMORADO O DIA DO TRABALHO/TRABALHADOR?

2) COMO TEVE ORIGEM O DIA DO TRABALHO?

3) QUE FOI O PRESIDENTE QUE CRIOU O SALARIO MINIMO?

4) EM QUE ANO FOI CRIADO O SALARIO MINIMO?

5) O QUE É ARTESANATO? _____

6) AGORA CITE UMA PROFISSÃO QUE GOSTARIA DE SER QUANDO ADULTO?



1. Bete precisa pesar seu cachorrinho, mas ele não fica quieto na balança. Então, Bete resolveu subir com ele. Observe quanto a balança marcou.



saresp-matriz-matematica-1.pdf

Como Bete pesa 29 kg, então seu cachorrinho pesa:

- A) 61 kg
- B) 51 kg
- C) 5 kg
- D) 3 kg

2. E se Bete pesasse 28 kg. Quanto pesaria seu cachorrinho?

3. Bete precisa comprar 8 kg de ração para o seu cachorrinho. Durante a compra o funcionário do Pet shop pesou 6,3 kilos da ração. Quantos gramas faltam para que a quantidade desejada por Bete seja alcançada?

- (A) 17 gramas
- (B) 170 gramas
- (C) 1 700 gramas
- (D) 17 000 gramas

6. Escreva o nome de cinco produtos que compramos por gramas (g).

7. João participou de um campeonato de judô na categoria juvenil, pesando 45,350kg. Cinco meses depois estava 3,150kg mais pesado e precisou mudar de categoria. Quanto João passou a pesar?

- (A) 14,250kg
- (B) 40,850kg
- (C) 48,500kg
- (D) 76,450kg

8. Num pacote de balas contendo 10 unidades, o peso líquido é de 49 gramas. Em 5 pacotes teremos quantos gramas?

- (A) 59
- (B) 64
- (C) 245
- (D) 295

9. Maria Alice pesa 54 quilos e 500 gramas. Quantos gramas ela precisa engordar para chegar aos 56 kg?

03/05/2021

DESAFIO

Vamos numerar as frases de acordo com a ordem dos acontecimentos na história? Mãos à obra!

- Como ela era muito boa, venceu o nojo e, sem saber de nada, atendeu ao pedido do sapo: deu-lhe um beijo.
- Um dia, uma linda princesa chegou perto da lagoa em que o príncipe morava. Cheio de esperança de ficar livre do feitiço, ele lhe pediu um beijo.
- Imediatamente, o sapo voltou a ser príncipe, casou-se com a princesa e foram felizes para sempre.
- Uma feiticeira muito má transformou um belo príncipe num sapo e só o beijo de uma princesa desmancharia o feitiço.



Vamos ler uma história? Agora uma tirinha. Observe o tipo de letra, as imagens, as cores utilizadas, as características dos personagens. Esses são detalhes importantes para a sua leitura.



<http://www.fotofrases.com.br/armandinho-jacare-de-papo-amarelo-animal-em-extincao/>

1. Na tirinha, Armandinho e o pai tinham a mesma opinião em relação ao perigo do jacaré? Por qual motivo?

2. No trecho "Ele deve estar apavorado!", a palavra destacada se refere ao

- jacaré-do-papo-amarelo.
- pai do Armandinho.
- Armandinho.
- sapo.

3. No trecho "Não chega perto, Dinho!" A palavra em destaque passa a ideia de

- afirmação.
- negação.
- tempo.
- lugar.

04/05/2021



ESTUDAR COM CRUZADINHA É MUITO BOM!
VAMOS ACEITAR ESSE DESAFIO?

**MANTENHA-SE
ALERTA!**

Não saia de casa sem máscara
e jamais a retire em público.
Ela é o seu principal
equipamento de segurança.



- 1- Que não apresenta sintomas.
- 2- Enfermidade epidêmica amplamente disseminada.
- 3- Atitude de reserva, afastamento, apartação, ficar longe.
- 4- Luta entre pessoas, discussão em torno de um assunto.
- 5- Peça que cobre parcialmente ou totalmente o rosto.
- 6- Transmissão da doença.
- 7- Função sensorial que permite a percepção de sabores.
- 8- Que possui o vírus, contagiado.
- 9- Tornar limpo, asseado.
- 10- Falta de cuidado.
- 11- Estado que a pessoa fica isolada.

Cruzadinha sobre Coronavírus

- ASSINTOMÁTICA
- CONTÁGIO
- DISTANCIAMENTO
- INFECTADO
- IMPRUDÊNCIA



- QUARENTENA
- CONTATO
- MÁSCARA
- EPIDEMIA
- PALADAR
- HIGIENIZAR



04/05/2021



**AMIGOS DE VERDADE NÃO ESQUECEM UNS DOS OUTROS!
JUNTOS, MESMO DE LONGE!**

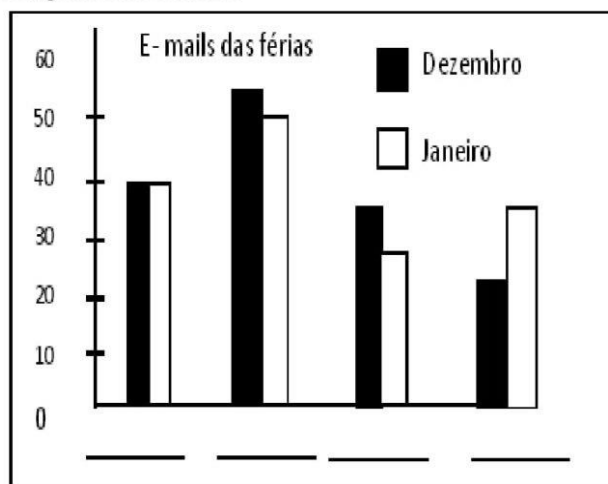


<https://porvir.org/diretor-usa-ferramentas-gratuitas-para-envolver-professores-e-alunos-durante-quarentena/>

Em tempo de isolamento social os amiguinhos Cacá e Maria conversam pelas redes sociais, trocando mensagens sobre diferentes assuntos, jogando diversos games e mantendo o contato para matar a saudade do distanciamento. Além deles, Fredão e Juli também se comunicam com eles. E, mesmo antes da quarentena já trocavam muitos emails.

Observe o primeiro gráfico e descubra a quantidade de emails que os amigos trocaram durante as férias completando o segundo gráfico com as informações dos nomes:

	Dezembro	Janeiro
Fredão	35	25
Cacá	55	50
Maria	40	40
Juli	20	35



05/05/2021

LEITURA 

O PRÍNCIPE E O SAPO

Uma feiticeira muito má transformou um belo príncipe num sapo e só o beijo de uma princesa desmancharia o feitiço.

Um dia, uma linda princesa chegou perto da lagoa em que o príncipe morava. Cheio de esperança de ficar livre do feitiço, ele lhe pediu um beijo. Como ela era muito boa, venceu o nojo e, sem saber de nada, atendeu ao pedido do sapo: deu-lhe um beijo.

Imediatamente, o sapo voltou a ser príncipe, casou-se com a princesa e foram felizes para sempre.



Adaptado de SCIESZKA, Jon. *O patinho realmente feio e outras histórias malucas*. São Paulo: Companhia das Letrinhas, 1997.

Conversando sobre o texto...

1 – Quais são os personagens dessa história?

2 – A feiticeira lançou um feitiço no belo príncipe. Que feitiço foi esse?

3 – Como esse feitiço poderia ser desfeito?

4 – O feitiço foi desmanchado?

 Sim. Não.

5 – O que aconteceu depois?

05/05/2021



VAMOS NOS DIVERTIR DESCOBRINDO A MASSA (O PESO) DO QUE ESTÁ AO NOSSO REDOR. É PESADO OU LEVE?

Medida de Massa

Medimos a massa de objetos, pessoas, animais, etc. usando as balanças. A unidade de medida de massa é grama.



Observe as embalagens:

1 Kg

500g.

250 g.

250 g.

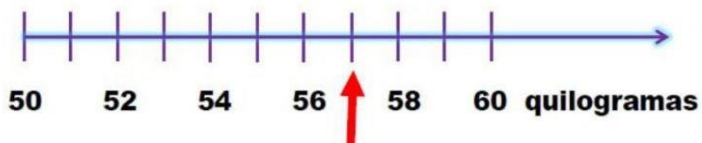
Quanto pesa cada alimento?



a) Cachos de uva: _____


b) Frango assado: _____

Carlos foi até a farmácia para saber o próprio peso. Observe as informações da reta numérica e descubra quanto ele está pesando.



Quantos quilogramas a balança está marcando?

- A) () 51
- B) () 53
- C) () 57
- D) () 70



João treina levantamento de pesos para os jogos olímpicos. Cada lado da barra possui 137,5kg. Quantos quilos João pretende levantar? _____



06/05/2021

TODO CUIDADO PARA A PROTEÇÃO DA NOSSA SAÚDE!

Observe a placa ao lado:



FONTE: <https://atividadespedagogicasuzano.com.br/atividade-interativa-coronavirus-prevencao/>

Agora, marque (V) para VERDADEIRO ou (F) para FALSO para os principais cuidados que devemos ter para tentar controlar a Pandemia do Coronavírus:

- () Lavar sempre as mãos com água e sabão em todos os momentos possíveis durante o dia.
- () Tossir e espirrar sem nenhuma proteção, somente colocando as mãos na frente do rosto.
- () Sair para a rua a qualquer momento que quiser.
- () Manter o isolamento social, evitando principalmente o contato com os idosos.
- () Usar a máscara de proteção no rosto nos momentos em que precisar sair de casa.



Quando o primeiro caso de Coronavírus chegou ao Brasil, duas cientistas brasileiras conseguiram sequenciar o genoma do vírus em apenas 48 horas – em outros países, essa análise levou em média duas semanas. Esse estudo é importante para que cientistas possam entender a origem e a evolução do vírus, e desenvolver possíveis vacinas e curas.

Fonte: <https://www.dentrodahistoria.com.br/blog/educacao/turma-da-monica-contr-o-coronavirus/>

1- Quais foram as duas cientistas brasileiras que decifraram o genoma do Coronavírus?

.....

2- Em quanto tempo elas fizeram essa análise?

.....

3- Por que entender a origem e a evolução do Coronavírus é tão importante?

- () Para desenvolver possíveis vacinas e curas.
- () Para desenvolver mais vírus no ambiente.
- () Para propagar o Covid-19 nas pessoas.

4- Quanto tempo os outros países levaram para fazer a análise do genoma do Coronavírus?

.....

06/05/2021

VOCÊ GOSTA DE AJUDAR NAS TAREFAS DA CASA?

DEZ AJUDANTES

Certa vez entrei na casa de uma mulher. Reparei que dentro do casebre estava tudo limpinho e bonito. As crianças estavam limpas, vestidas com asseio, o almoço pronto na mesa e nem uma migalha à vista, tudo reluzindo. Perguntei-lhe:

- Como é que a senhora consegue fazer tudo nesta casa?
 - E não haveria de conseguir? Pois eu tenho dez ajudantes. Eles trabalham o dia inteiro, ajudam-se uns aos outros...
 - Mais que ajudantes são esses?
 - Aqui estão eles!
- Riu a boa mulher e mostrou-me os dez dedos das suas mãos.



FONTE: <https://accessaber.com.br/atividades>

1) Como estava a casa da mulher?

.....

2) O que significa a palavra casebre?

() Casa pequena e humilde. () Casa grande e pobre. () Casa velha e suja.

3) O que estava a mesa?

.....

4) O que perguntaram para a mulher?

.....

5) A razão da pergunta foi:

- () surpresa porque esperava encontrar uma casa grande e luxuosa.
- () surpresa porque esperava encontrar uma casa limpa e organizada.
- () surpresa porque esperava encontrar uma casa suja e desorganizada.

6) Quem são os ajudantes da mulher?

.....

7) O que a mulher quis dizer ao responder que seus ajudantes eram seus dedos?

.....

8) O que você costuma fazer para contribuir com a limpeza e organização da sua casa?

.....

07/05/2021

Escola:

Data: Turma:

Aluno:

ALUNO:

MINHA MÃE



O que ela mais gosta de fazer:

.....

O que não gosta de fazer:

.....

O que a deixa feliz?

O que a deixa triste?


A profissão dela é

Seu maior sonho é

.....

07/05/2021

CORTE, DECORE E ESCREVA UMA LINDA MENSAGEM PARA A SUA MÃE:



--- Recorte nas linhas pontilhadas
—— Dobre na linha cheia



10/05/2021

13°

HOJE VAMOS ÀS COMPRAS!

Consulte no encarte abaixo os preços dos produtos e preencha a tabela da compra:

Supermercado Variedades

Ofertas válidas até durarem os nossos estoques.



Caixa de gelatina Royal - 20 g

R\$ 0,50 cada



Pote de margarina Delícia - 500 g

R\$ 2,60 cada



Bombom Serenata de Amor - 17g

R\$ 0,30 cada



Suco Fresh 200 ml

R\$ 1,00 cada



Farinha Láctea Maizena - 200 g

R\$ 1,20 cada



Sabão em pó OMO - 1 kg

R\$ 5,10 cada



Sabonete Palmolive

R\$ 0,70 cada



Bandeja de Danoninho

R\$ 2,10 cada



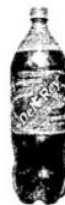
Pacote de arroz branco 5 kg

R\$ 7,00 cada



Pacote de feijão carioca - 1 kg

R\$ 1,70 cada



Refrigerante Del Rey Guaraná - 2 L

R\$ 2,90 cada



Frango congelado Sadia

R\$ 10,00 cada

Produto	Valor Unitário	Unidades	Valor Total do Produto
Feijão		3	
Arroz		2	
Sabonete		5	
Frango		3	
Sabão em pó		1	
Gelatina		2	
logurte		2	
Farinha láctea		3	
Bombom		4	
Total da Compra			
Dinheiro usado para pagar			R\$ 100,00
Troco recebido			

10/05/2021

MATEMÁTICA

MULTIPLICAÇÃO

um	c	d	u
	3	5	7
		2	3
1	0	7	1
7	1	4	
8	2	1	1

Começamos multiplicando pelas unidades (3). Colocamos o resultado a partir das unidades.

Depois vamos multiplicar pelas

dezenas (2). Colocamos o resultado a partir das dezenas.

Somamos os resultados encontrados para obter o produto final.

AGORA é com você !!! 😊

1. Efetue as multiplicações a seguir:

$$\begin{array}{r} 5638 \\ \times 12 \\ \hline \end{array}$$

$$\begin{array}{r} 6357 \\ \times 21 \\ \hline \end{array}$$

$$\begin{array}{r} 2546 \\ \times 23 \\ \hline \end{array}$$

$$\begin{array}{r} 3743 \\ \times 32 \\ \hline \end{array}$$

DIVISÃO

um	c	d	u
2	7	5	4
	3	5	
		5	4
			0

6		
c	d	u
4	5	9

Como 2 unidades de milhar não podem ser divididas inteiramente por 6, iremos dividir 27 centenas por 6.

Restarão 3 centenas que juntaremos com as 5 dezenas, obtendo 35 dezenas para dividir.

Restarão 5 dezenas que juntaremos com as 4 unidades, obtendo 54 unidades.

2. Efetue as divisões a seguir.

$$1854 \overline{) 2}$$

$$2630 \overline{) 5}$$

$$5782 \overline{) 7}$$

