



Prefeitura da Estância Turística de  
**IBIÚNA**  
TRANSFORMAÇÃO RESPONSÁVEL. CUIDANDO DE PESSOAS.



E.M “ZENI SOARES RAMALHO

Atividades para estudo em Casa

4º apostila

19/04 a 10/05/2021

Aluno (a): \_\_\_\_\_

Professora: \_\_\_\_\_

3º ano B

E.M “ZENI SOARES RAMALHO”

LÍNGUA PORTUGUESA

DIA 18 DE ABRIL – DIA NACIONAL DO LIVRO INFANTIL

O dia 18 de Abril é a data de nascimento de um escritor brasileiro muito importante chamado Monteiro Lobato.

Monteiro Lobato escreveu muitos livros para as crianças. O mais conhecido é o "Sítio do Picapau Amarelo".

Os livros são nossos amigos. Saber ler é um privilégio. Lendo ficamos sabendo de muitas coisas e nos preparamos melhor para a vida.



1. ONDE MORA A TURMINHA MAIS FAMOSA DE MONTEIRO LOBATO?

( ) NA FAZENDA BUSCAPÉ

( ) NO SÍTIO DO PICA PAU AMARELO

2. QUANTOS PERSONAGENS DE MONTEIRO LOBATO VOCÊ CONHECE? REGISTE NO QUADRO.

3. VAMOS COLORIR MONTEIRO LOBATO?




MATEMÁTICA

Para indicar ordem, posição ou lugar, usamos os numerais ordinais. Conheça os numerais ordinais até 10º.

1º → primeiro	6º → sexto
2º → segundo	7º → sétimo
3º → terceiro	8º → oitavo
4º → quarto	9º → nono
5º → quinto	10º → décimo



1) Veja a posição das formiguinhas e continue a numerá-las segundo a ordem que ocupam.



Ligue os numerais ordinais:

primeiro

quarto

quinto

sexto

oitavo

décimo

segundo

nono

terceiro

sétimo

6º

8º

1º

5º

4º

7º

3º

10º

2º

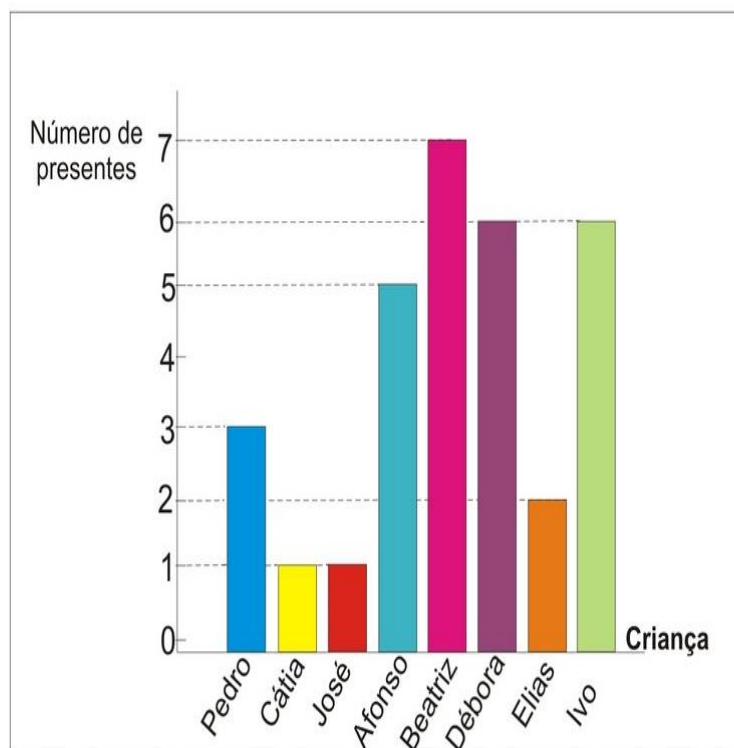
9º

## E.M “ZENI SOARES RAMALHO”

### MATEMÁTICA

#### GRÁFICO

1. O gráfico corresponde ao número de presentes que cada criança ganhou no Natal do ano passado. Observe - o e responda as questões.



a) Qual criança ganhou mais presentes?

---

b) Quais crianças ganharam menos presentes?

---

c) Quantos presentes Beatriz e Ivo ganharam juntos?

---

d) Quais crianças ganharam a mesma quantidade de presentes?

---



# E.M “ZENI SOARES RAMALHO”

## GEOGRAFIA

### O CAMPO E A CIDADE

Leia:

HÁ PESSOAS QUE MORAM NA CIDADE, OUTRAS QUE MORAM NO CAMPO.

AS PESSOAS QUE MORAM NA CIDADE FORMAM A COMUNIDADE URBANA E AS PESSOAS QUE VIVEM NO CAMPO FORMAM A COMUNIDADE RURAL.

NA COMUNIDADE URBANA, HÁ MUITAS COISAS EM COMUM, POR EXEMPLO, ALGUNS SERVIÇOS COMO ELETRICIDADE, ÁGUA E ESGOTO TRATADOS, TRANSPORTES COLETIVOS, COMUNICAÇÃO, REDE DE BANCOS E UM COMÉRCIO MUITO VARIADO.

NAS CIDADES, AS CASAS OU APARTAMENTOS SÃO CONSTRUÍDOS BEM JUNTO UNS DOS OUTROS.



A ZONA RURAL, TAMBÉM CHAMADA DE CAMPO, É A REGIÃO QUE FICA FORA DA CIDADE.

AS PESSOAS VIVEM NO CAMPO EM SÍTIOS, CHÁCARAS, FAZENDAS, ETC.

AS CASAS DA ZONA RURAL NÃO SÃO CONSTRUÍDAS PERTO UMA DAS OUTRAS. A MAIORIA DAS PESSOAS QUE VIVEM NA COMUNIDADE RURAL TRABALHA CUIDANDO DA LAVOURA E DO GADO.

AS QUE CUIDAM DA LAVOURA SÃO CHAMADAS DE AGRICULTORES OU LAVRADORES. ELAS TRABALHAM NA TERRA, PLANTAM, COLHEM E VENDEM OS PRODUTOS.



QUEM CRIA OS ANIMAIS COMO BOIS, CAVALOS, CABRAS, PORCOS, AVES SÃO CHAMADAS PECUARISTAS.

1. Responda:

- a) AS PESSOAS QUE MORAM NA CIDADE FORMAM A COMUNIDADE \_\_\_\_\_.
- b) AS PESSOAS QUE VIVEM NO CAMPO FORMAM A COMUNIDADE \_\_\_\_\_.
- c) QUEM CUIDA DA LAVOURA SÃO CHAMADOS DE \_\_\_\_\_.
- d) QUEM CUIDA DA CRIAÇÃO DE ANIMAIS SÃO CHAMADOS DE \_\_\_\_\_.

E.M "ZENI SOARES RAMALHO"

LÍNGUA PORTUGUESA

## CAÇA-PALAVRAS

ENCONTRE NO DIAGRAMA OS NOMES DAS PERSONAGENS DO SÍTIO DO PICA-PAU AMARELO.



NARIZINHO  
PEDRINHO  
CUCA

TIA NASTÁCIA  
VISCONDE  
RABICÓ

DONA BENTA  
SACI  
EMÍLIA

E.M “ZENI SOARES RAMALHO”

HISTÓRIA

19 DE ABRIL- DIA DO ÍNDIO

### “DIA DO ÍNDIO”

*(Música A Canoa Virou)*

*(Rosa Maria Stábile - Livro Expressão Artística na pré-escola - FAE)*

**ELE MORA NUMA TRIBO  
CONTENTE E FELIZ  
CAÇANDO E PESCANDO  
E COMENDO RAIZ**

**O SOL É O GUARACI  
A LUA É JACI  
E A LÍNGUA QUE ELE FALA  
É O TUPI-GUARANI**

**FOI ELE O PRIMEIRO  
HABITANTE DO BRASIL  
SALVE O DIA DO ÍNDIO  
19 DE ABRIL.**



**MARCAR COM UM X :**

**a) ONDE O ÍNDIO MORA?**

CIDADE     TRIBO     CAMPO

**B) O QUE ELE FAZ?**

PESCA E CAÇA     QUEIMA A FLORESTA     TRABALHA

**C) O QUE ELE COME?**

PIZZA E REFRIGERANTE     PEIXE     RAIZ

## E.M “ZENI SOARES RAMALHO”

### LÍNGUA PORTUGUESA

#### LEITURA E INTERPRETAÇÃO

### O SÍTIO DO PICAPAU AMARELO

O SÍTIO DO PICAPAU AMARELO FICA LONGE DAS CIDADES GRANDES E DA POLUIÇÃO. LÁ, AS PESSOAS VIVEM AVENTURAS FANTÁSTICAS. DONA BENTA, UMA VELHINHA SIMPÁTICA, GOSTA DE CONTAR FABULOSAS HISTÓRIAS E BRINCAR COM SEUS NETOS PEDRINHO E NARIZINHO. O MENINO ADORA AVENTURAS E CAÇADAS. A MENINA GOSTA MUITO DE OUVIR HISTÓRIAS.

NO SÍTIO, EXISTE UMA BONECA DE PANO, MUITO CURIOSA, TRAVESSA E TAGARELA QUE SE CHAMA EMÍLIA. ELA VIVE CORRENDO E GRITANDO PARA LÁ E PARA CÁ. A BONECA FOI CRIADA PELA TIA NASTÁCIA, A COZINHEIRA DO SÍTIO. ELA É UMA SENHORA MUITO RELIGIOSA E ADORA CONTAR HISTÓRIAS FOLCLÓRICAS.

NESTE SÍTIO, TUDO É POSSÍVEL: ANIMAIS FALAM, COMO O PORCO MARQUÊS DE RABICÓ; SABUGO DE MILHO É CIENTISTA, COMO VISCONDE DE SABUGOSA, QUE FABRICA UM POZINHO MÁGICO DE PIRLIMPIMPIM, PARA AS PESSOAS DESCOBRIREM MUNDOS INCRÍVEIS.

COM ESSA TURMA, VOCÊ CONHECE PERSONAGENS FOLCLÓRICOS, COMO O SACI, A MULA-SEM-CABEÇA, O CURUPIRA E A IARA, E VIAJA PELO MUNDO INTEIRO, PELO TEMPO E PELO ESPAÇO SIDERAL.

( MONTEIRO LOBATO )

#### LEIA O TEXTO E RESPONDA:

1 – QUEM É DONA BENTA ? \_\_\_\_\_

\_\_\_\_\_

2 – ONDE FICA O SITIO DO PICAPAU AMARELO? \_\_\_\_\_

\_\_\_\_\_

3 – NESSE SITIO TEM DUAS CRIANÇAS, QUEM SÃO ? \_\_\_\_\_

\_\_\_\_\_

4 – O QUE PEDRINHO GOSTA DE FAZER ? \_\_\_\_\_

\_\_\_\_\_

5 – COMO É A TIA ANASTÁCIA, COMO ELA É ? \_\_\_\_\_

\_\_\_\_\_

6- QUEM MAIS MORA NESSE SITIO ? \_\_\_\_\_


\_\_\_\_\_




### ANIMAIS VERTEBRADOS

Os animais vertebrados possuem ossos. Alguns desses ossos são chamados vértebras. São as vértebras que formam a coluna vertebral.


Alguns animais vertebrados:




galinha




cachorro




elefante



gato



boi



peixe

DESCUBRA OS NOME DOS ANIMAIS VERTEBRADOS E ENCAIXE NA CRUZADINHA:

1- Sirvo de transporte para o homem.  
2- Sou o rei dos animais.  
3- Meu corpo é todo listrado.  
4- Sou a maior ave que existe.  
5- Tenho uma tromba e sou um dos maiores animais terrestres.  
6- Sou um animal aquático muito feroz.  
7- Tenho o pescoço muito comprido.  
8- Sou uma ave e aprendo a falar.  
9- As formigas são o meu alimento preferido.  
10- Sou o melhor amigo do homem.  
11- Tenho o pescoço comprido e sou uma ave que nada.





### EMÍLIA

FEITA DE UMA SAIA VELHA DA TIA NASTÁCIA, A EMÍLIA ERA SÓ UMA BONECA ATÉ TOMAR AS PÍLULAS FALANTES DO DOUTOR CARAMUJO. TAGARELA DESDE ENTÃO, ELA VIVE A DAR IDÉIAS, A INVENTAR PALAVRAS E A QUESTIONAR TUDO.

A EMÍLIA TEM UMA CANASTRINHA, UM TIPO DE BAÚ, QUE GANHOU DA TIA NASTÁCIA ONDE GUARDA AS MIUDEZAS QUE ENCONTRA PELA FRENTE, COMO CAQUINHO DE LOUÇA, MOSCA MORTA, ALFINETE...

➤ INTERPRETAÇÃO

A- SOBRE QUEM FALAMOS NA HISTÓRIA?

.....

B- DE QUE ELA FOI FEITA ? QUEM A FEZ?

.....

C- O QUE ACONTECEU COM ELA LOGO APÓS TER TOMADO AS PÍLULAS DO DOUTOR CARAMUJO? .....

.....

D- EMÍLIA GOSTA DE GUARDAR MIUDEZA QUE ENCONTRA PELA FRENTE. E VOCÊ?.....

.....

E- RETIRE DO TEXTO UMA PALAVRA COM:

1 SÍLABA..... 2 SÍLABAS..... 3 SÍLABAS.....

F- COLOQUE AS PALAVRAS EM ORDEM ALFABÉTICA:

VELHA DOUTOR BONECA

E.M “ZENI SOARES RAMALHO”

ARTES

VAMOS COLORIR?

**Dia 18 de Abril -Dia do Livro Infantil**




# E.M "ZENI SOARES RAMALHO"

## MATEMÁTICA

### A PARTIDA DE FUTEBOL

PAPAI CEBOLA, O CEBOLINHA E O VOVÔ JOGARAM UMA PARTIDA DE FUTEBOL.

VEJA A QUANTIDADE DE GOLS QUE CADA UM MARCOU:



1-QUEM MARCOU MAIS GOLS ? \_\_\_\_\_

2-QUEM MARCOU MENOS GOLS ? \_\_\_\_\_

3-QUAL FOI O TOTAL DE GOLS DESSA PARTIDA ? \_\_\_\_\_

4-REGISTRE NA TABELA A QUANTIDADE DE GOLS DE CADA UM, REPRESENTANDO COM NÚMEROS E DESENHOS:

PAPAI		
VOVÔ		
CEBOLINHA		

E.M "ZENI SOARES RAMALHO"

GEOGRAFIA

# A CIDADE E O CAMPO

Observe as faixas e preencha os quadros abaixo com suas respectivas faixas:

caminhos de terra	indústria	gado	
muitas escolas	pouco barulho	plantação	
carros	áreas verdes	clube	trator
teatro	carroça	lojas	prédios

ruas pavimentadas

**ZONA RURAL**

---

---

---

---

---

---

---

**ZONA URBANA**

---

---

---

---

---

---

---

E.M “ZENI SOARES RAMALHO”

LÍNGUA PORTUGUESA

NOMEAR OS PERSONAGENS DO SÍTIO DO PICA-PAU AMARELO



HISTÓRIA

## 21 DE ABRIL - DIA DE TIRADENTES



**AGORA É COM VOCÊ!**

Procure, no caça-palavras, as respostas das seguintes perguntas:

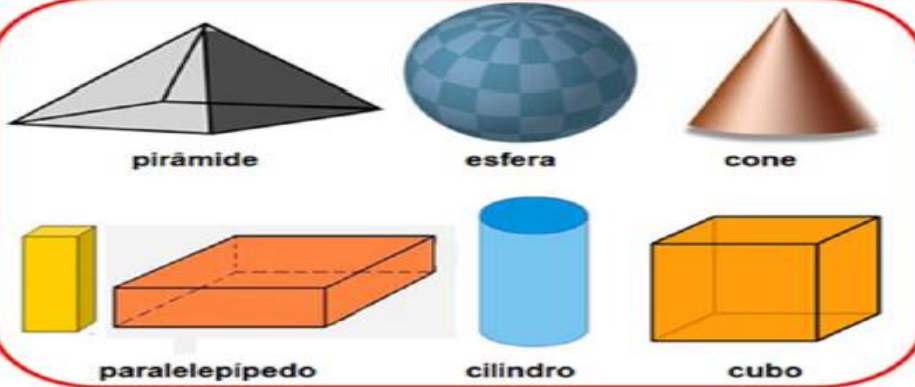
Q	F	A	B	R	I	L	X	Y	Z
T	I	R	A	D	E	N	T	E	S
R	E	N	F	O	R	C	A	D	O
P	O	R	T	U	G	A	L	Z	P

1. Sobre quem as crianças estavam conversando? \_\_\_\_\_
2. Qual o mês em que comemoramos o Dia de Tiradentes? \_\_\_\_\_
3. Como ele morreu? \_\_\_\_\_
4. Ele queria libertar o Brasil de qual país? \_\_\_\_\_

MATEMÁTICA

SÓLIDOS GEOMÉTRICOS

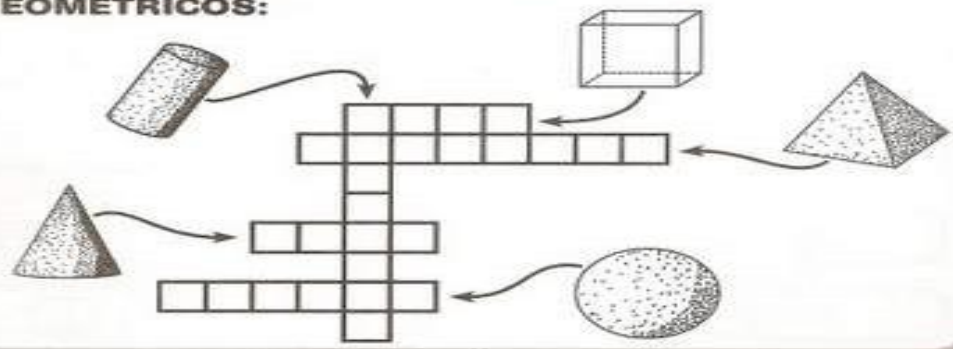
Conheça alguns sólidos geométricos:



⇒ **LIGUE OS DESENHOS ÀS FIGURAS CORRESPONDENTES:**



⇒ **COMPLETE A CRUZADINHA SOBRE OS SÓLIDOS GEOMÉTRICOS:**





CIÊNCIAS


### ANIMAIS INVERTEBRADOS

Os animais invertebrados não possuem coluna vertebral.

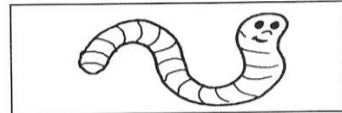
Alguns animais invertebrados:




abelha




borboleta



minhoca



aranha



escorpião



siri

## CRUZA-INVERTEBRADOS


Encaixe no diagrama os nomes dos animais de acordo com a numeração:

The crossword puzzle grid is a 13x13 grid. The vertical word 'INVERTEBRADOS' is pre-filled in the center. The starting points for the words are numbered 1 through 13. The illustrations around the grid are: 1. Scorpion, 2. Worm, 3. Octopus, 4. Butterfly, 5. Snail, 6. Beetle, 7. Bee, 8. Spider, 9. Spider, 10. Shrimp, 11. Caterpillar, 12. Scorpion, 13. Fly.

BICHO-DA SEDA,CAMARÃO,FORMIGA,MINHOCA, BESOURO  
CARACOL,BARATA, ABELHA,POLVO,BORBOLETA,ARANHA,  
MOSQUITO, ESCORPIÃO


01 Leia:

### Número do substantivo



a borboleta  
Singular

Indica **um** só ser ou elemento.



as borboletas  
Plural

Indica **mais de um** ser ou elemento.

02 Descubra o segredo e continue:

o ônibus    o lápis    o atlas    os grilos  
os anéis  
o pires    os anões    as emas  
as feras    o tênis    as baleias    os ratos

Singular

--


Plural

--

E.M "ZENI SOARES RAMALHO"

ARTES

# **DIA DO ÍNDIO** **19 DE ABRIL**

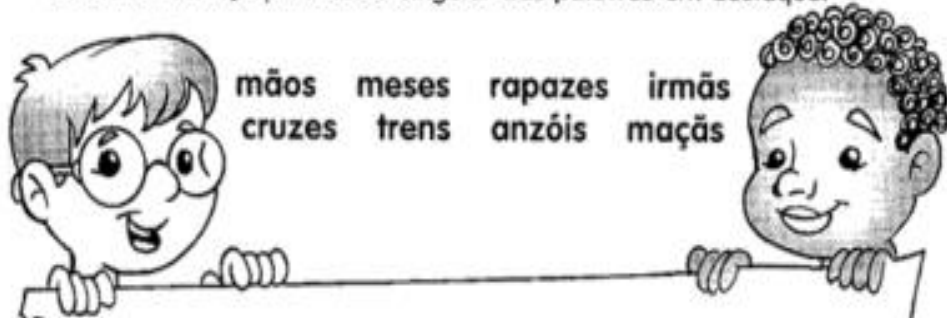


E.M "ZENI SOARES RAMALHO"

LÍNGUA PORTUGUESA

# CAÇA-SINGULAR

Encontre no caça-palavras o singular das palavras em destaque.



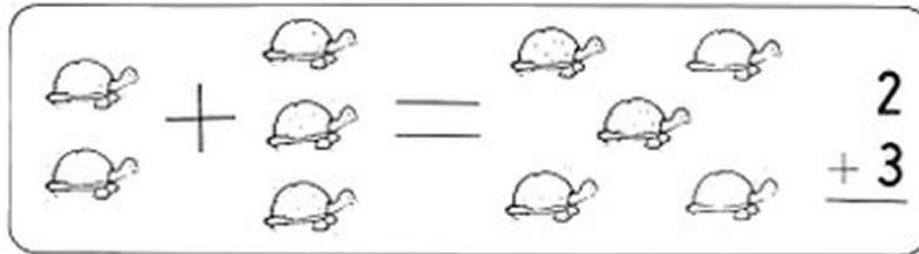
mãos meses rapazes irmãs  
cruzes trens anzóis maçãs

M D A R U G F Q C M N J X Q  
Ê H N N Q S T B R H D H T Y  
S V Z R P D K J U L B M D M  
D S O H W R L V Z L M B N Ã  
G T L X H A T F S N A N X O  
Q N S P G P W L K T Ç F R W  
R R G J R A P M H D Ã R G D  
S D B S X Z U C G S G V T M  
K V Y H S R G N V X B L R L  
X C B Z W V N T M L K P E W  
N V G I R M Ã M X T R Y M X  
M N B H V R T M L B J Z L V

E.M "ZENI SOARES RAMALHO"

MATEMÁTICA

RESOLVA AS ADIÇÕES:



$$\begin{array}{r} 135 \\ +623 \\ \hline \end{array}$$

$$\begin{array}{r} 246 \\ +450 \\ \hline \end{array}$$

$$\begin{array}{r} 352 \\ +535 \\ \hline \end{array}$$

$$\begin{array}{r} 460 \\ +339 \\ \hline \end{array}$$

$$\begin{array}{r} 517 \\ +472 \\ \hline \end{array}$$

$$\begin{array}{r} 306 \\ +692 \\ \hline \end{array}$$

$$\begin{array}{r} 645 \\ +202 \\ \hline \end{array}$$

$$\begin{array}{r} 572 \\ +416 \\ \hline \end{array}$$

$$\begin{array}{r} 825 \\ +144 \\ \hline \end{array}$$

$$\begin{array}{r} 439 \\ +260 \\ \hline \end{array}$$

$$\begin{array}{r} 536 \\ +342 \\ \hline \end{array}$$

$$\begin{array}{r} 367 \\ +30 \\ \hline \end{array}$$

$$\begin{array}{r} 413 \\ +265 \\ \hline \end{array}$$

$$\begin{array}{r} 724 \\ +152 \\ \hline \end{array}$$

$$\begin{array}{r} 349 \\ +640 \\ \hline \end{array}$$

$$\begin{array}{r} 634 \\ +253 \\ \hline \end{array}$$

$$\begin{array}{r} 63 \\ +704 \\ \hline \end{array}$$

$$\begin{array}{r} 321 \\ +565 \\ \hline \end{array}$$

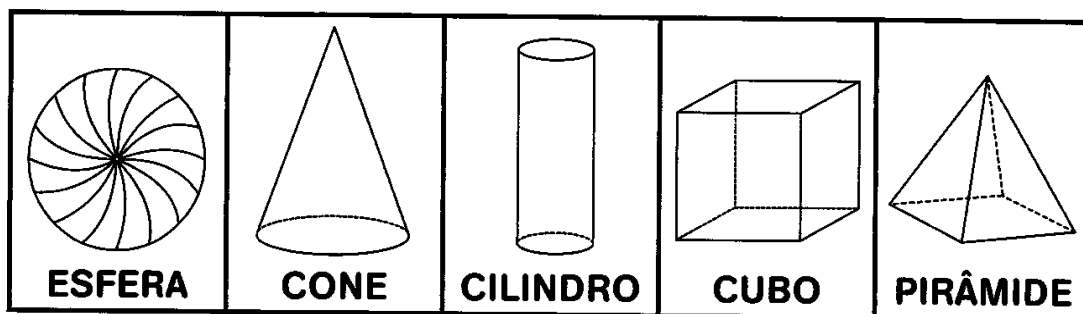
$$\begin{array}{r} 462 \\ +207 \\ \hline \end{array}$$

$$\begin{array}{r} 591 \\ +308 \\ \hline \end{array}$$

E.M "ZENI SOARES RAMALHO"

MATEMÁTICA

⇒ **PROCURE NO CAÇA-PALAVRAS OS NOMES DOS SÓLIDOS GEOMÉTRICOS. VEJA O QUADRO ABAIXO PARA RECORDAR:**



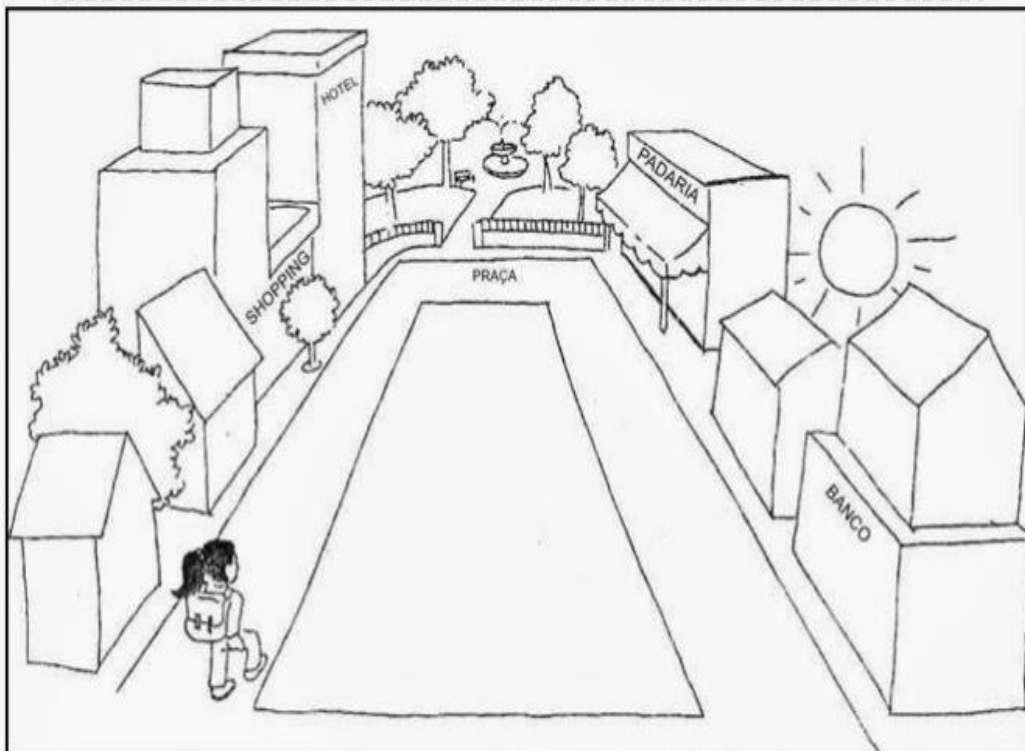
V	I	E	S	F	E	R	A	T
R	T	U	A	M	X	S	P	I
C	O	N	E	N	A	T	V	Z
B	D	J	O	P	E	L	S	F
C	I	L	I	N	D	R	O	R
X	A	M	R	E	U	V	N	P
S	F	U	Z	W	C	U	B	O
T	P	O	U	Y	A	I	F	T
P	I	R	Â	M	I	D	E	N
U	Z	B	T	N	O	I	S	V

# E.M “ZENI SOARES RAMALHO”

## GEOGRAFIA

### PONTOS DE REFERÊNCIA


Os pontos de referência são elementos que nos orientam, para chegarmos a diferentes lugares, que não conhecemos ainda.



Aninha mora perto da praça, sua casa fica ao lado do Shopping, em frente a casa do Daniel.

Circule na imagem a casa da Aninha.

Desenhe sua casa e alguns pontos de referência próximos a ela.





E.M "ZENI SOARES RAMALHO"

LÍNGUA PORTUGUESA

DIA 01 DE MAIO – DIA DO TRABALHO

*Você conhece estas profissões? Pinte e escreva o nome de cada uma.*





## HISTÓRIA

### Descobrimento do Brasil

Uma grande esquadra, comandada por Pedro Álvares Cabral, saiu de Portugal para uma longa viagem.

No dia **22 de abril** de 1500, os portugueses avistaram, de longe, as terras do nosso país. Eles avistaram, no litoral baiano, um monte, ao qual deram o nome de Monte Pascoal, porque era época da Páscoa.

Ao desembarcarem, os portugueses encontraram uma terra cheia de florestas e povoada por índios. Inicialmente, pensaram que era uma grande ilha no meio do mar e deram a ela o nome de Ilha de Vera Cruz. Depois, mudaram o nome para Terra de Santa Cruz. Alguns anos depois, resolveram dar à terra descoberta outro nome: Brasil.

O nome Brasil foi dado por causa de uma madeira cor de brasa, extraída de uma árvore chamada pau-brasil, que existia em grande quantidade nas nossas matas.

## RESPONDA:

① Qual foi o nome que recebeu o primeiro monte avistado pelos portugueses? E por que recebeu esse nome?

---

② Qual foi a data de descobrimento do Brasil?

- ) 22 de maio de 1500.
- ) 20 de abril de 1500.
- ) 22 de abril de 1500.

③ Quem comandava a expedição que descobriu o Brasil?

- ) Pedro Álvares Cabral.
- ) Frei Henrique Soares.
- ) Pero Vaz de Caminha.

MATEMÁTICA

**A**

$$\begin{array}{r} \phantom{00} \\ 485 \\ - 230 \\ \hline \phantom{00} \\ \phantom{00} \end{array}$$

**B**

$$\begin{array}{r} \phantom{00} \\ 677 \\ - \phantom{0}94 \\ \hline \phantom{00} \\ \phantom{00} \end{array}$$

**C**

$$\begin{array}{r} \phantom{00} \\ 350 \\ - 128 \\ \hline \phantom{00} \\ \phantom{00} \end{array}$$

**D**

$$\begin{array}{r} \phantom{00} \\ 938 \\ - \phantom{0}15 \\ \hline \phantom{00} \\ \phantom{00} \end{array}$$

**E**

$$\begin{array}{r} \phantom{00} \\ 222 \\ - 139 \\ \hline \phantom{00} \\ \phantom{00} \end{array}$$

**F**

$$\begin{array}{r} \phantom{00} \\ 723 \\ - 260 \\ \hline \phantom{00} \\ \phantom{00} \end{array}$$

**G**

$$\begin{array}{r} \phantom{00} \\ 808 \\ - 145 \\ \hline \phantom{00} \\ \phantom{00} \end{array}$$

**H**

$$\begin{array}{r} \phantom{00} \\ 167 \\ - \phantom{0}90 \\ \hline \phantom{00} \\ \phantom{00} \end{array}$$

**I**


$$\begin{array}{r} \phantom{00} \\ 521 \\ - 218 \\ \hline \phantom{00} \\ \phantom{00} \end{array}$$

CIÊNCIAS

**MAMÍFEROS**

OS MAMÍFEROS SÃO ANIMAIS QUE MAMAM QUANDO PEQUENOS, RESPIRAM PELOS PULMÕES E TÊM O CORPO COBERTO POR PÊLOS.

LIGUE OS NOMES DOS MAMÍFEROS AO DESENHO CORRESPONDENTE:



MACACO

LEÃO

PORCO


VACA

GATO


CACHORRO

**CAÇA-PALAVRAS**


ENCONTRE OS NOMES DOS MAMÍFEROS NO DIAGRAMA E ESCREVA-OS EMBAIXO DE SUA FIGURA.





---





---





---





---







---





---


R	H	T	R	N	O	O	H	K	S	D	E	P	C	T	G			
L	A	K	A	G	R	A	N	F	I	C	Ç	R	E	N	P	Q	A	D
M	A	E	D	R	T	C	O	G	O	P	M	P	T	Y	A	S	L	R
C	R	R	F	C	V	I	O	H	U	K	L	P	A	F	F	F	F	F
A	R	H	G	B	D	P	T	B	Y	X	D	E	N	A	T	U	U	U
E	L	T	G	F	Y	A	C	O	K	O	P	E	O	A	F	N	O	O
O	A	F	Y	T	U	V	X	F	S	Z	A	V	A	L	O	P	P	P
D	C	O	E	L	H	O	T	A	G	O	O	W	Q	O	P	P	P	P
O	N	G	H	U	T	K	A	S	L	O	F	T	Y	X	X	X	X	X





---




---




---




---

E.M "ZENI SOARES RAMALHO"

LÍNGUA PORTUGUESA

2º DOMINGO DE MAIO-DIA DAS MÃES

105

**DONA MAMÃE RALHA E BEIJA  
ERRA, ACERTA, ARRUMA A MESA,  
COZINHA, ESCREVE, TRABALHA FORA,  
RI, ESQUECE, LEMBRA E CHORA,  
TRAZ REMÉDIO E SOBREMESA.**

*Sílvia Orthof,  
Ed. Nova Fronteira.*

- De quem o texto está falando?

- Qual é o nome da sua mãe?

- O nome dela começa com a letra:

- Ele termina com a letra:

- Quantas letras ele tem?

- Quantas vogais?

- Quantas consoantes?



E.M "ZENI SOARES RAMALHO"

ARTES

VAMOS PINTAR O TIRADENTES?



**21 DE ABRIL**

**Dia de Tiradentes**

E.M "ZENI SOARES RAMALHO"

MATEMÁTICA

RESOLVA :

De uma peça de elástico, foram vendidos 150 metros para um fre-  
guês. Sobraram ainda, na peça, 75 metros. Quantos metros tinha a  
peça toda?

Cálculo	Resposta

Laura foi a um passeio da escola e observou que saíram 3 ônibus. O  
primeiro saiu com 46 alunos, o segundo com 32 e o terceiro com 28.  
Quantos alunos foram ao passeio?

Cálculo	Resposta

Paulinho tem 16 anos. Joãozinho tem 9 anos. Quantos anos Paulinho é  
mais velho que Joãozinho?

Cálculo	Resposta

No álbum de Raquel cabem 246 fotografias. Ela já colou 128. Quantas  
fotografias faltam para completar o álbum?

Cálculo	Resposta

E.M “ZENI SOARES RAMALHO”

ARTES

CARTÃO PARA O DIA DAS MÃES

PINTE, RECORTE, DOBRE AO MEIO E DENTRO DO CARTÃO  
ESCREVA UMA MENSAGEM PARA ALGUÉM MUITO ESPECIAL.

