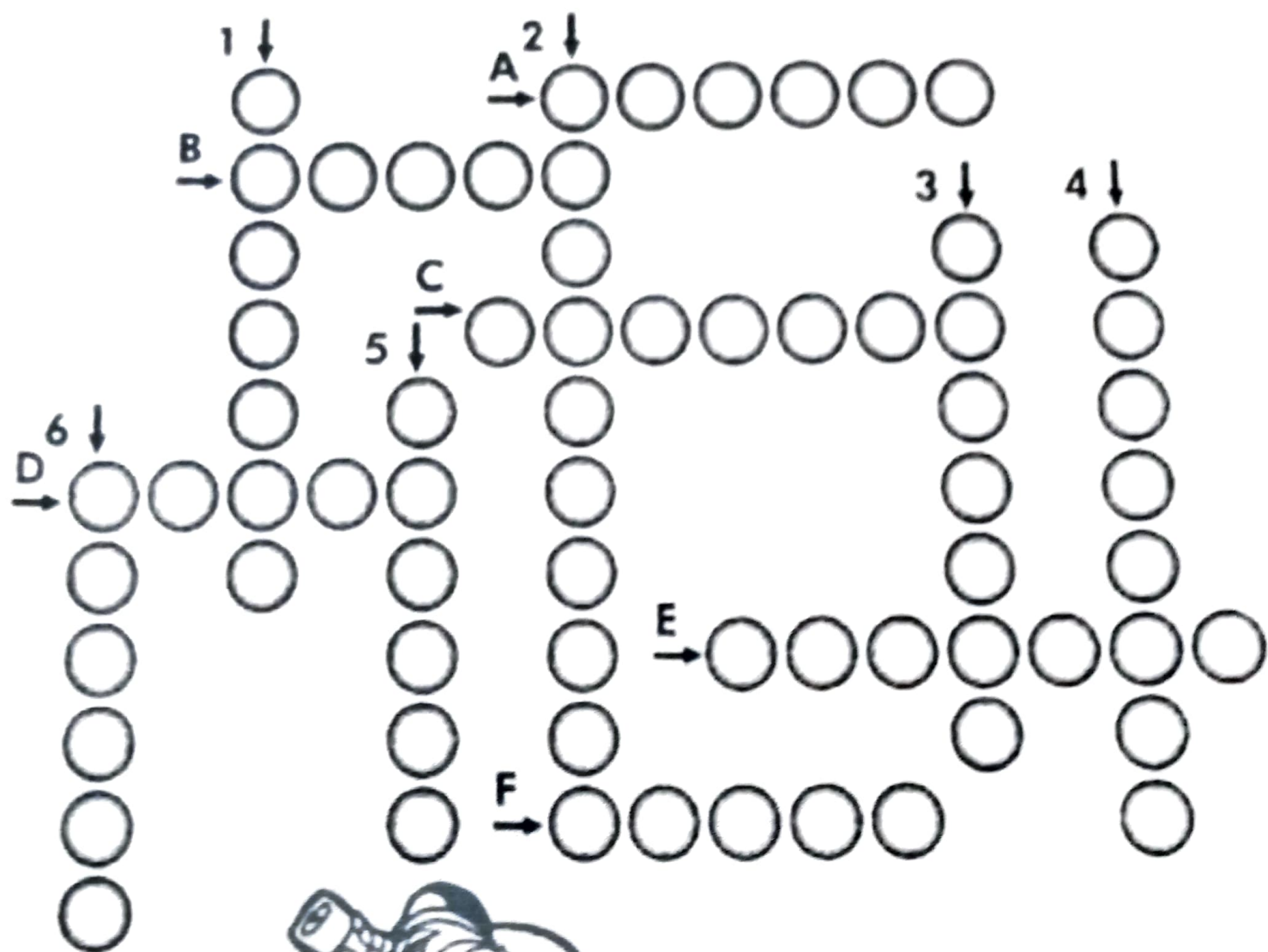


# DE OLHO NA CRUZADA



## Verticais

- 1- Estação do frio.
- 2- dono da fazenda.
- 3- Vem depois do primeiro.
- 4- Desordem, bagunça.
- 5- Enfermidade.
- 6- Aquele que canta.

## Horizontais

- A- Chegar ao fim, terminar.
- B- Contrário de sempre.
- C- Fica dentro do fruto.
- D- Numeral que representa me dezena.
- E- Que tem bondade.
- F- O dia anterior.

Respostas Verticais: 1- inverno; 2- fazendeiro; 3- segundo; 4- confusão; 5- dorçça; 6- cantor

Horizontais: A- findar; B- nunca; C- semente; D- cinco; E- bondoso; F- ontem



# POVO BRASILEIRO


O povo brasileiro é formado, principalmente, por três etnias:

- **índios:** os primeiros habitantes do Brasil;
- **brancos:** os europeus, principalmente os portugueses;
- **negros:** africanos trazidos para trabalhar como escravos.

Da mistura dessas três etnias descende a maioria da população brasileira.





Apesar de ser um povo basicamente formado pela mistura de índios, portugueses e africanos, também estão presentes na formação do povo brasileiro os italianos, os espanhóis, os alemães, os árabes, os japoneses, dentre outros.

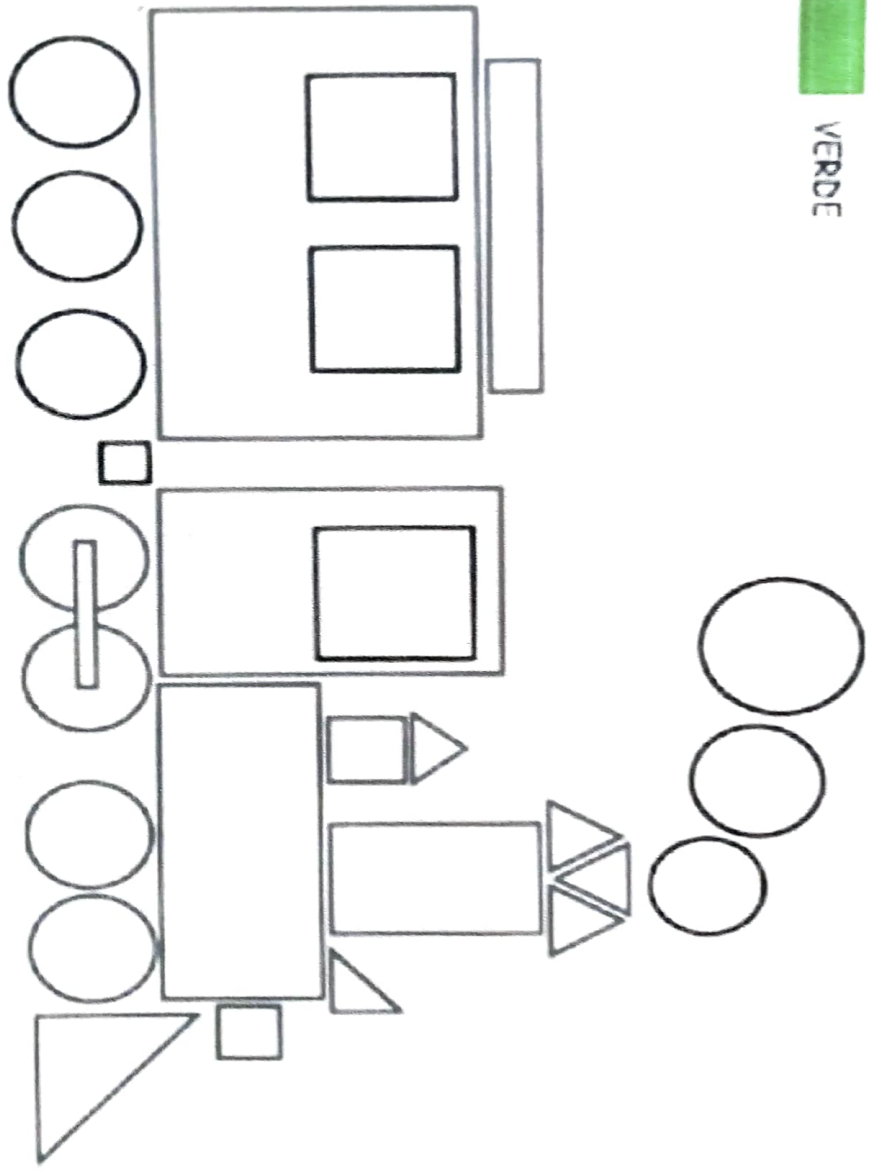
**1** Complete a cruzadinha, buscando as respostas no texto.



# FORMAS GEOMÉTRICAS

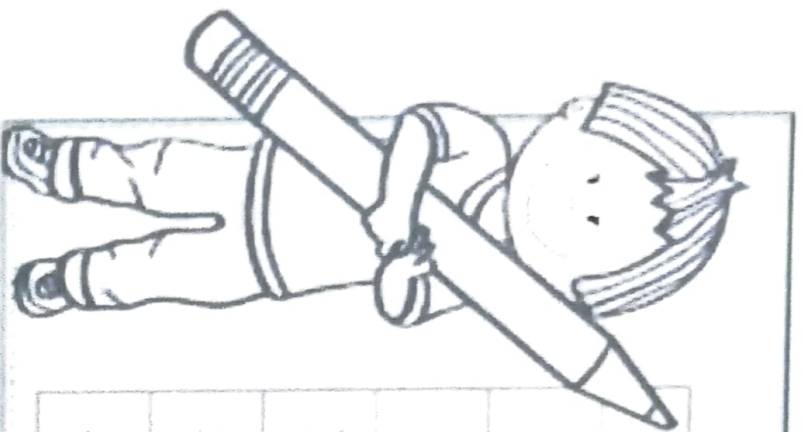
CAPRICHE NA PINTURA DO TRENZINHO, SEGUINDO A LEGENDA.

-  AMARELO
-  AZUL
-  VERMELHO
-  VERDE



ESCREVA O NOME DE CADA  
FORMA GEOMÉTRICA EXISTENTE  
NO TRENZINHO: \_\_\_\_\_

# MATEMÁTICA



## FEVEREIRO

D	S	T	Q	Q	S	S
					1	2
3	4	5	6	7	8	9
10	11	12	13	14	15	16
17	18	19	20	21	22	23
24	25	26	27	28		

- QUANTOS SÁBADOS  
HÁ EM FEVEREIRO?

- QUE DIA NO CALENDÁRIO  
É 20 DE FEVEREIRO?

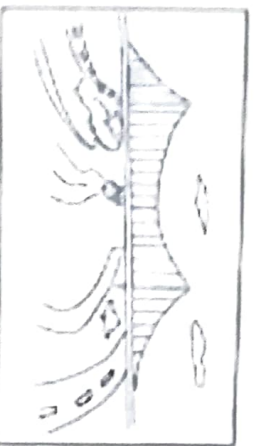
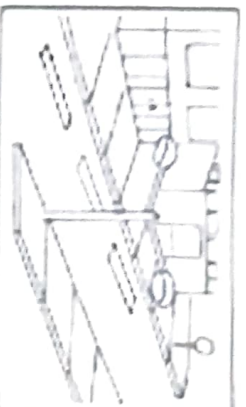
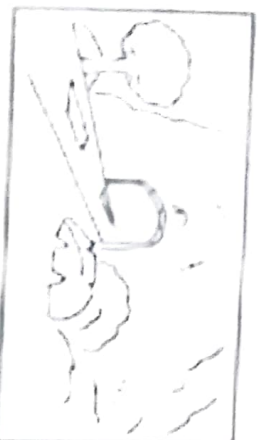
- ESCREVA O DIA DO MÊS  
QUE INICIOU AS AULAS.

- QUANTAS SEMANAS  
COMPLETAS TEM ESTE MÊS?

- QUAL É O ÚLTIMO DIA  
DO MÊS?

- QUANTOS DIAS TEM A  
ÚLTIMA SEMANA?

5. Classifique as figuras abaixo como **paisagem natural** ou **paisagem modificada**



6. O que faz parte da paisagem do lugar onde você mora? Pinte os quadros.

lojas

ruas

ponte

estrada

túnel

rio

edifícios

montanha

animais

árvores

casas

lago

pasto

mar

praça

• O que tem mais? Marque com um X.

(     ) Elementos da paisagem natural.

(     ) Elementos construídos pelo ser humano.

Ortografia: F e V

## Serafina e Virgulina



As formigas iam velozes, em fila, para o novo formigueiro.

Serafina, a formiga mais velha, dizia:

– Não sei por que foi acontecer isso conosco! Aquela formigueiro embaixo da figueira era muito bom! Mas, infelizmente, ele ficou alagado.

– Calma, Serafina! O novo formigueiro perto da plantação de couve é bem melhor. Ele não tem as paredes molhadas, fica até mais perto do seu trabalho e você não precisa sair afobada – disse Virgulino.

– Isso é verdade! Posso até, de vez em quando, passar na casa da minhoca Filoca e comer um pouco de feijão com farofa.

Gréga Barilho

- De acordo com o texto, responda:
- Qual o nome da formiga mais velha?
- Qual o nome da outra formiga?
- Qual o nome da minhoca?
- Quais são as características das paredes do formigueiro?

*Os animais são preciosos para Jesus*

Responda: usamos S ou Z?



Marque a loteria e depois troque com seu colega para fazer a correção no quadro:

PALAVRA	Z	S	ACERTOS	ERROS
fa.....enda				
ga.....olina				
hori.....onte				
carni.....eta				
corte.....ia				
de.....enove				
rodi.....io				
fanta.....ia				
chine.....a				
empre.....a				
co.....inha				
rique.....a				
te.....oura				
despre.....o				
ca.....eiro				
pure.....a				
defe.....a				

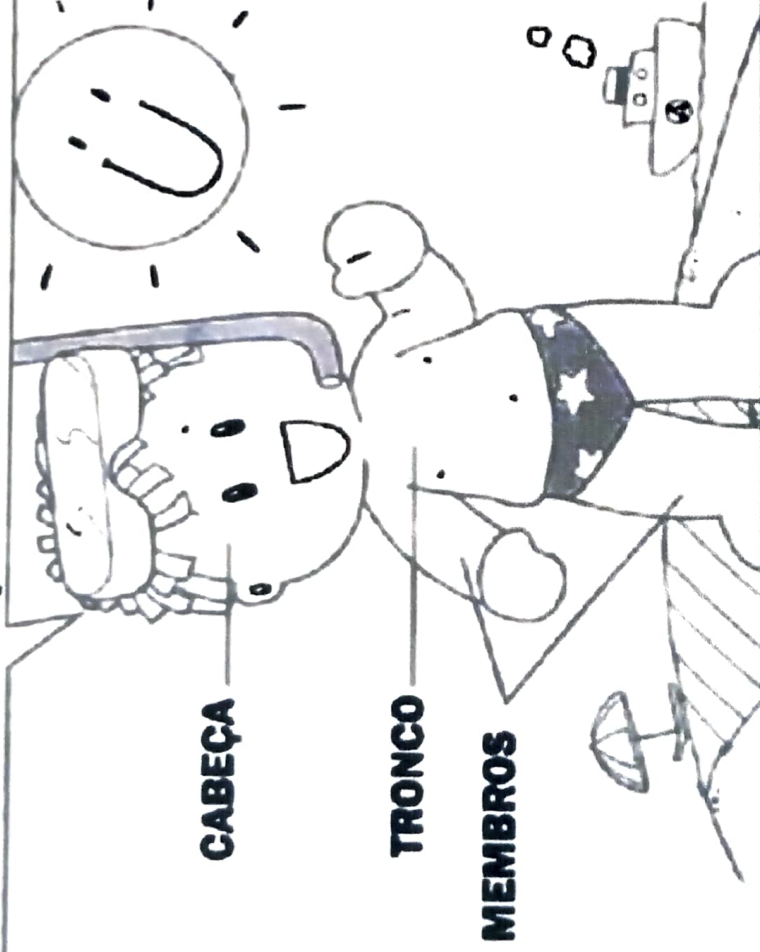


# Ciências Naturais

► O corpo humano

► **Leia:**

O nosso corpo é formado por três partes: cabeça, tronco e membros.



► Troque os desenhos por palavras e reescreva as frases.

• Na cabeça ficam os   , o  , a  e ouvidos.

• No tronco ficam o  , os pulmões, o estômago, os intestinos e outros órgãos.

• Membros superiores são os  e os inferiores são as .



Nome: \_\_\_\_\_

data: \_\_\_\_\_

segunda-feira

terça-feira

quarta-feira

quinta-feira

sexta-feira

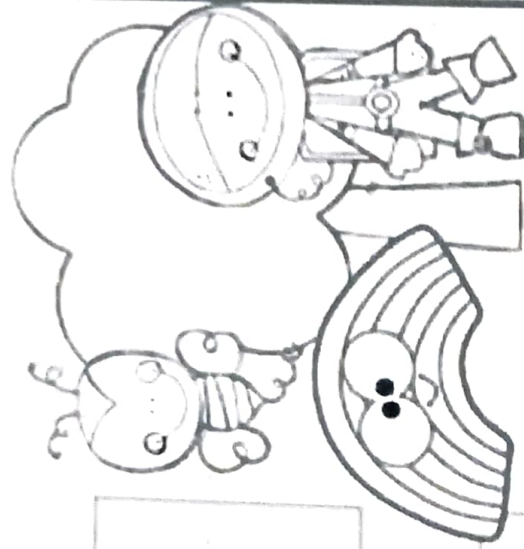
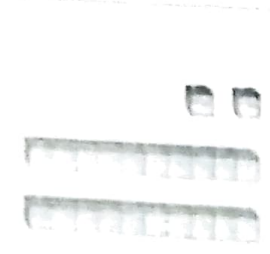


# RESOLVENDO!

*Resolução de Problemas*

Faça a subtração trocando 1 dezena por 10 unidades e depois riscando as figuras.


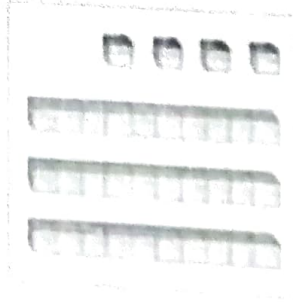
a)  $22 - 13 =$  \_\_\_\_\_



b)  $32 - 18 =$  \_\_\_\_\_



c)  $34 - 15 =$  \_\_\_\_\_



Complete as seqüências:


50  $-5 =$   $-5 =$

$-5 =$   $-5 =$

98  $-8 =$   $-3 =$

$-3 =$   $-3 =$





- De acordo com o gráfico, complete a tabela abaixo, escrevendo o nome dos animais e sua respectiva quantidade:

NOME DO ANIMAL	QUANTIDADE
Abelha	
Borboleta	
Cachorro	
Cavalo	
Joaninha	
Vaca	

- Qual foi o animal mais votado? \_\_\_\_\_
- Qual foi o animal menos votado? \_\_\_\_\_
- Quantos votos teve o cavalo? \_\_\_\_\_

# ROMERO BRITTO CRIANÇAS DO MUNDO



Children Of The World 2006. Serigraph on Paper Limited 24.5" x 29" Edition of 100. Gersco limited edition  
100

1- OBSERVA A TELA CHILDREN OF THE WORLD E PREENCHA OS QUADRINHOS.

<input type="text"/>	<input type="text"/>	<input type="text"/>
----------------------	----------------------	----------------------


NÚMERO DE ASAS

NÚMERO DE CRIANÇAS



1. 2. 3. 4. 5. 6. 7. 8. 9. 10. 11. 12. 13. 14. 15. 16. 17. 18. 19. 20. 21. 22. 23. 24. 25. 26. 27. 28. 29. 30. 31. 32. 33. 34. 35. 36. 37. 38. 39. 40. 41. 42. 43. 44. 45. 46. 47. 48. 49. 50. 51. 52. 53. 54. 55. 56. 57. 58. 59. 60. 61. 62. 63. 64. 65. 66. 67. 68. 69. 70. 71. 72. 73. 74. 75. 76. 77. 78. 79. 80. 81. 82. 83. 84. 85. 86. 87. 88. 89. 90. 91. 92. 93. 94. 95. 96. 97. 98. 99. 100.

CONTINUE A HISTÓRIA DE ACORDO COM A SEQUÊNCIA DAS CENAS



### A GALINHA CUIDADOSA

EM UMA TARDE NA FAZENDA DO SEU JUCA A GALINHA CARIJÓ RESOLVEU LEVAR SEUS FILHOTES PARA CONHECER OUTRO TERREIRO PARA CISCAR.

PARA O DIA DA PÁTRIA.

VEJA AS VENDAS DA SEMANA:

| TIPO:       | SEGUNDA | TERÇA | QUARTA | QUINTA | SEXTA |
|-------------|---------|-------|--------|--------|-------|
| BANDEIROLAS | 224     | 347   | 287    | 339    | 465.  |
| BALÕES      | 122     | 184   | 298    | 275    | 371   |

a-QUANTOS ENFEITES FORAM VENDIDOS NA SEGUNDA-FEIRA? \_\_\_\_\_

b -QUANTAS BANDEIROLAS FORAM VENDIDAS NA SEMANA? \_\_\_\_\_

c-QUAL O DIA DA SEMANA QUE FOI VENDIDO MAIS ENFEITES? \_\_\_\_\_ QUANTOS? \_\_\_\_\_


d- QUAL O DIA DA SEMANA QUE FOI VENDIDO MENOS ENFEITES? \_\_\_\_\_ QUANTOS? \_\_\_\_\_

f-QUANTAS BANDEIRINHAS FORAM VENDIDAS NA SEXTA-FEIRA? \_\_\_\_\_

g-QUAL FOI O ENFEITE MAIS VENDIDO? \_\_\_\_\_ QUANTOS? \_\_\_\_\_

h-QUAL FOI O ENFEITE MENOS VENDIDO? \_\_\_\_\_ QUANTOS? \_\_\_\_\_

ENCONTRE NO DIAGRAMA  
AO LADO 7 PALAVRAS  
RELACIONADAS AO  
FUTEBOL.



|   |   |   |   |   |   |   |   |   |   |
|---|---|---|---|---|---|---|---|---|---|
| A | R | T | I | L | H | E | I | R | O |
| T | P | Ä | P | Ä | N | A | L | T | I |
| L | O | D | T | S | Z | T | M | C | A |
| A | L | O | Z | C | P | L | D | A | D |
| F | M | C | E | T | M | A | Z | R | I |
| M | I | G | O | L | T | F | A | T | C |
| A | G | Z | N | C | X | D | C | Ä | R |
| E | S | C | A | N | T | E | I | O | O |
|   |   |   |   |   |   |   | U | Z | T |

ESCREVA AS PALAVRAS QUE VOCE ENCONTROU DE ACORDO COM A LETRA INICIAL

A

C

E

F

G

P

T

# É HORA DE SER O AUTOR (A)!

Siga as orientações do seu caderno e crie um texto bem legal!

Título



1º parágrafo:

---

---

---

---

---



2º parágrafo:

---

---

---

---

---



3º parágrafo:

---

---

---

---

---

# OS IMIGRANTES

Descubra os nomes de alguns povos que vieram como imigrantes para o Brasil:

|   |   |   |   |   |   |   |   |   |   |   |   |
|---|---|---|---|---|---|---|---|---|---|---|---|
| A | L | E | M | A | E | S | X | N | S | Q | P |
| H | R | K | C | H | P | K | L | G | A | R | O |
| J | A | P | O | N | E | S | E | S | N | I | R |
| E | M | A | F | R | I | C | A | N | O | S | T |
| S | X | N | R | C | N | R | L | V | K | L | U |
| P | C | H | G | G | P | L | V | N | J | D | G |
| A | H | O | L | A | N | D | E | S | E | S | U |
| N | I | I | P | L | R | R | N | J | B | Y | E |
| H | N | S | P | L | V | M | D | G | T | J | S |
| Ó | E | Q | S | Í | R | I | O | S | Z | V | E |
| I | S | P | R | Y | F | L | H | D | R | N | S |
| S | E | T | G | J | P | H | M | N | H | L | P |
| Z | S | X | I | T | A | L | I | A | N | O | S |





# CRUZADA

Complete as frases abaixo com as palavras em destaque e complete a cruzadinha.

1 ↓

2 ↓

3 ↓

4 →

5 →

**italianos • espanhóis • alemães  
japoneses • sírio-libaneses**

- 1- Dentre outros pratos, trouxeram-nos, o quibe e a *esfiha*. \_\_\_\_\_
- 2- A *pizza* e o macarrão são duas das mais conhecidas contribuições dos povos \_\_\_\_\_ na nossa cultura.
- 3- Trouxeram-nos o grão de bico e a ervilha, eles são os \_\_\_\_\_
- 4- Trouxeram o *sushi* e o *sashimi*, fixaram-se principalmente no interior de São Paulo, são os \_\_\_\_\_
- 5- A cerveja e vários tipos de frios foram as contribuições dos \_\_\_\_\_

1 SEMANA TEM 7 DIAS

|        |               |
|--------|---------------|
| 1º DIA | DOMINGO       |
| 2º DIA | SEGUNDA-FEIRA |
| 3º DIA | TERÇA-FEIRA   |
| 4º DIA | QUARTA-FEIRA  |
| 5º DIA | QUINTA-FEIRA  |
| 6º DIA | SEXTA-FEIRA   |
| 7º DIA | SÁBADO        |

1. RESPOSTA

a) QUE DIA É HOJE?

b) QUE DIA DA SEMANA FOI ONTEM?

c) QUE DIA DA SEMANA SERÁ AMANHÃ?

d) QUAL É O DIA DA SEMANA QUE VOCE MAIS GOSTA?

e) QUATS SÃO OS DIAS DA SEMANA QUE VOCE VEM PARA A ESCOLA?

f) QUAL É O DIA DA SEMANA QUE VOCE TEM AULA DE EDUCAÇÃO FÍSICA E ARTES?

2. ESCREVA O DIA DA SEMANA QUE VEM ANTES DE:

A) DOMINGO

B) SEXTA

C) SEGUNDA

D) QUINTA

E) QUARTA

F) SÁBADO

G) TERÇA

3. QUAL É O SEGUNDO DIA DA SEMANA?

4. QUAL É O QUINTO DIA DA SEMANA?

1) Observe a receita dessa deliciosa vitamina de frutas:

### Vitamina de frutas

- 4 bananas
- 2 maçãs
- 2 laranjas
- 5 copos de leite
- 7 colheres de açúcar

Calcule a quantidade de cada ingrediente que Magali vai precisar para preparar 4 receitas iguais a esta:

- Bananas \_\_\_\_\_
- Laranjas \_\_\_\_\_
- Colheres de açúcar \_\_\_\_\_
- Maçãs \_\_\_\_\_
- Copos de leite \_\_\_\_\_

Calculos

Bananas \_\_\_\_\_

Laranjas \_\_\_\_\_

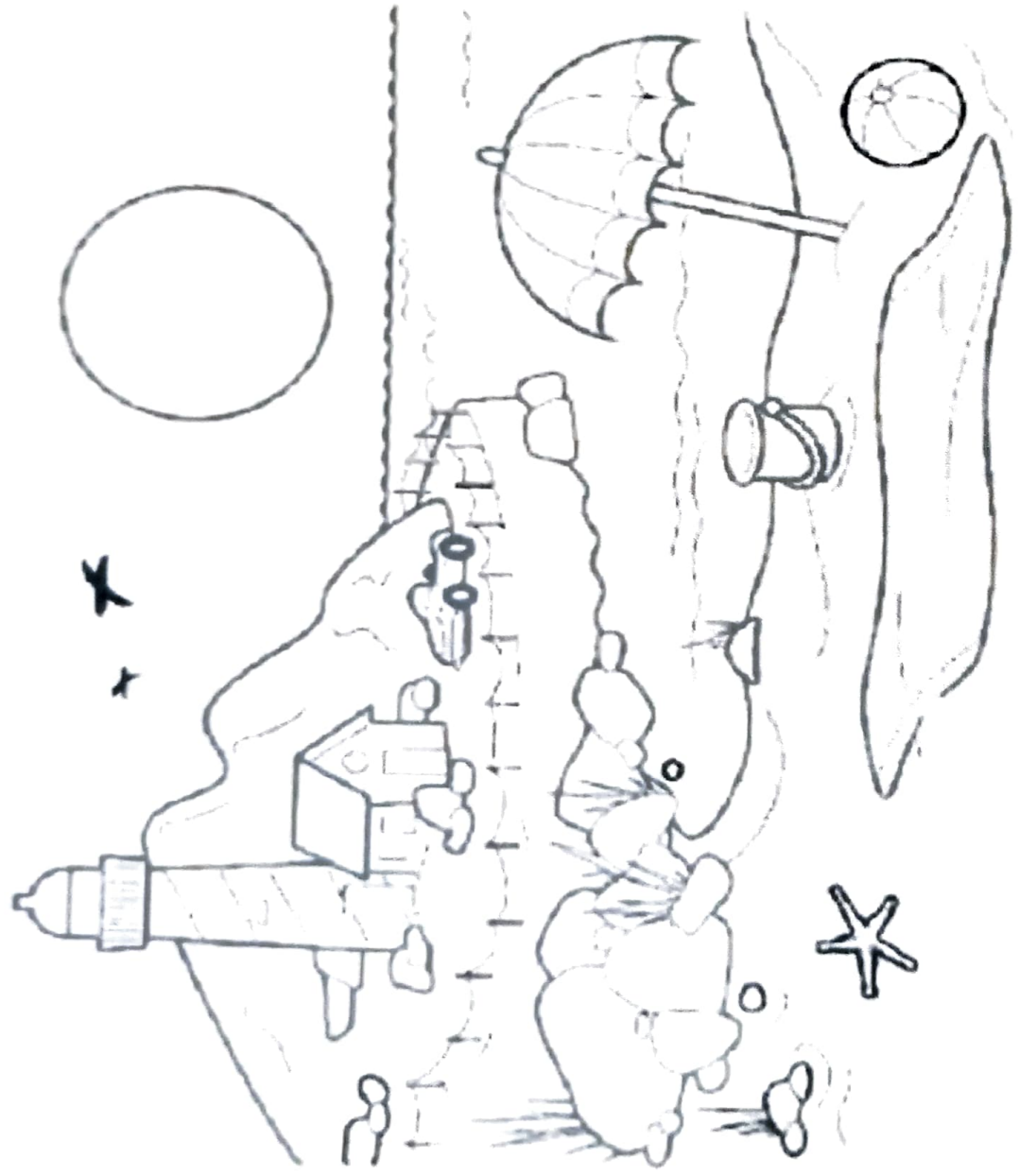
Açúcar \_\_\_\_\_

Maçãs \_\_\_\_\_

Copos de leite \_\_\_\_\_



ESCREVA NAS LINHAS ABAIXO OS ELEMENTOS NATURAIS QUE  
PODEM SER OBSERVADOS NESTA IMAGEM:



- 1
- 2
- 3
- 4
- 5
- 6
- 7
- 8

# CRUZA ADIÇÃO

Resolva as adições e complete a cruzadinha:

|     |     |     |     |     |     |     |     |   |   |   |
|-----|-----|-----|-----|-----|-----|-----|-----|---|---|---|
| A ↓ | □   | □   | □   |     |     |     |     |   |   |   |
|     | D → | □   | □   |     |     |     |     |   |   |   |
|     |     | C ↓ | □   | □   |     |     |     |   |   |   |
|     |     |     | E ↓ | □   | □   |     |     |   |   |   |
|     |     |     |     | G ↓ | □   | □   |     |   |   |   |
|     |     |     |     |     | F → | □   | □   |   |   |   |
|     |     |     |     |     |     | H ↓ | □   | □ | □ | □ |
|     |     |     |     |     |     |     | I → | □ | □ | □ |



**(A)**

|    |   |   |
|----|---|---|
| C  | D | U |
| 1  | 2 | 4 |
| +2 | 5 | 1 |

**(B)**

|    |   |   |
|----|---|---|
| C  | D | U |
| 2  | 3 | 5 |
| +4 | 1 | 3 |

**(C)**

|    |   |   |
|----|---|---|
| C  | D | U |
| 5  | 2 | 6 |
| +4 | 0 | 2 |

**(D)**

|    |   |   |
|----|---|---|
| C  | D | U |
| 8  | 4 | 6 |
| +1 | 2 | 1 |

**(E)**

|    |   |   |
|----|---|---|
| C  | D | U |
| 6  | 4 | 2 |
| +1 | 0 | 4 |

**(F)**

|    |   |   |
|----|---|---|
| C  | D | U |
| 2  | 0 | 4 |
| +4 | 3 | 5 |

**(G)**


|    |   |   |
|----|---|---|
| C  | D | U |
| 7  | 2 | 4 |
| +1 | 3 | 5 |

**(H)**

|    |   |   |
|----|---|---|
| C  | D | U |
| 1  | 2 | 4 |
| +4 | 6 | 1 |

**(I)**

|    |   |   |
|----|---|---|
| C  | D | U |
| 2  | 4 | 3 |
| +5 | 3 | 2 |

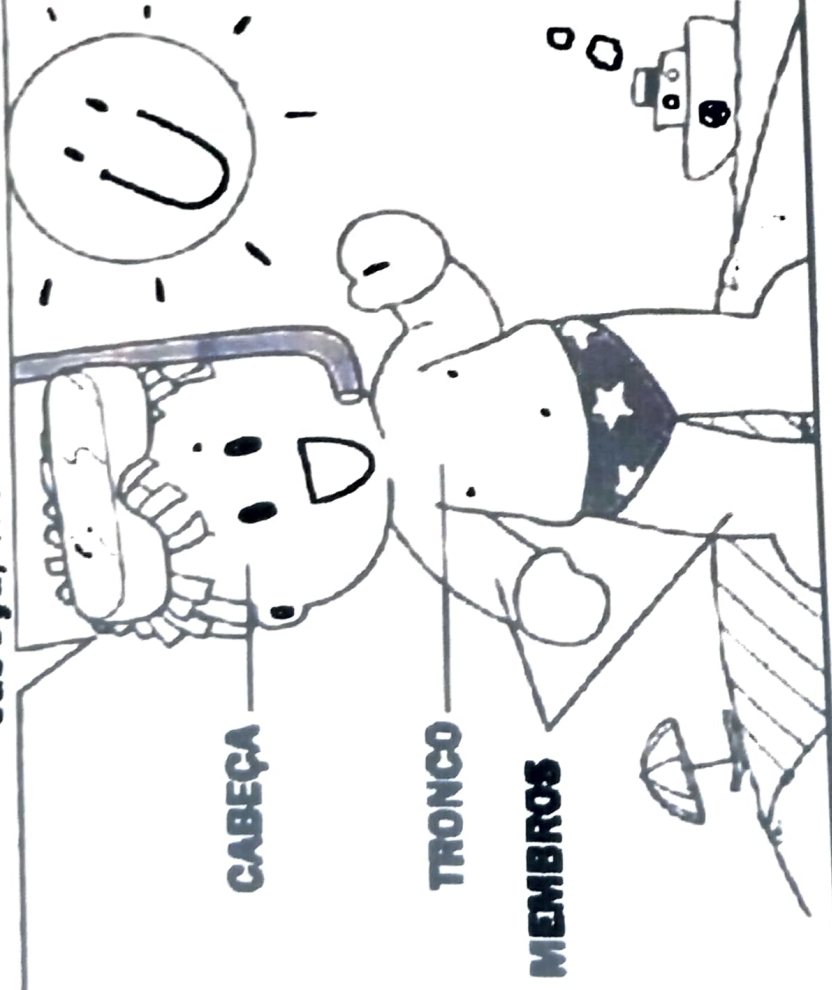




# Ciências Naturais

► O corpo humano

► **Leia:** O nosso corpo é formado por três partes: cabeça, tronco e membros.



► Troque os desenhos por palavras e reescreva as frases.

• Na cabeça ficam os   e ouvidos.

• No tronco ficam o , os pulmões, o estômago, os intestinos e outros órgãos.

• Membros superiores são os  e os inferiores são as .



# COMPLETANDO COM CONSOANTES

1) Complete as palavras com as consoantes em destaque e, depois, escreva-as ao lado.

cl - gl - pl - bl - tl - fl

|        |  |
|--------|--|
| __aca  |  |
| __auta |  |
| __obo  |  |
| __usa  |  |

|          |  |
|----------|--|
| __ima    |  |
| a__eta   |  |
| __anela  |  |
| pro__ema |  |

2) Junte as sílabas e forme palavras.

|      |     |     |    |
|------|-----|-----|----|
| fle  | cha |     |    |
| clas | se  |     |    |
| bí   | bli | a   |    |
| pla  | ne  | ta  |    |
| bi   | ci  | cle | ta |

Pratique esporte!  
Seja um atleta!



3) Observe as ilustrações e crie frases interrogativas.



---

---

---

**MAMÃE**

**HOJE ACORDEI COM VONTADE DE TE  
ABRAÇAR, DE SENTAR NO SEU COLO  
COMO QUANDO ERA CRIANÇA E DE  
AGRADECER POR TUDO QUE FEZ POR  
MIM ATÉ HOJE.  
FELIZ DIA DAS MÃES!**



**DAIANA**

**A- QUEM ESCREVEU O BILHETE?**

---

**B- PARA QUEM O BILHETE FOI ESCRITO?**

---

**C- QUAL FOI O OBJETIVO DO BILHETE?**

---

**D- COMO FOI A DESPEDIDA DO BILHETE?**

---

**E- SE VOCÊ FOSSE ESCREVER UM BILHETE PARA SUA MÃE, COMO SERIA?**



OBSERVE AS IMAGENS ABAIXO E RESPONDA QUAL DELAS ESTÁ RELACIONADA À CORRIDA?



A) ( )

B) ( )

C) ( )

D) ( )

**QUESTÃO 04**

OBSERVE A IMAGEM ABAIXO E RESPONDA.



QUAL O NOME DO ESPORTE QUE A TURMA ESTÁ PRATICANDO?

- BASQUETE
- FUTEBOL
- VÔLEI
- FUTSAL

**QUESTÃO 05**

QUAIS OS NOMBES DOS PERSONAGENS QUE FAZEM PARTE DA CENA ACIMA?

- JOÃO E PEDRO
- CEBOLINHA E CHICO BENTO
- CEBOLINHA E GASCÃO
- CHICO BENTO E CATO

**QUESTÃO 06**

QUAL DOS SENTIDOS ABAIXO REFERE-SE A VISÃO?



A) ( )

B) ( )

C) ( )

D) ( )