




4ª APOSTILA DE ESTUDOS ATIVIDADES NÃO PRESENCIAIS

2º BIMESTRE



ENSINO FUNDAMENTAL

ALUNO: _____

PROFESSORA: ANA PAULA DE RAMOS MARCICANO

TURMA: 3º ANO A

DATA DE DEVOLUÇÃO: 11/05/21

Nome: _____

Professora: Ana Paula de Ramos Marcicano

Turma: 3º ano A

Data: 19/04/2021

ÍNDIOS

NO DIA 19 DE ABRIL, É COMEMORADO O DIA DO ÍNDIO NO BRASIL. OS ÍNDIOS FORAM OS PRIMEIROS HABITANTES DO BRASIL, MAS, COM O TEMPO, FORAM PERDENDO SUAS TERRAS.

HOJE EXISTE UM NÚMERO MUITO REDUZIDO DE ÍNDIOS QUE VIVEM NO BRASIL.

AS CRIANÇAS SÃO CHAMADAS DE CURUMIM.

OS ÍNDIOS VIVEM EM TRIBOS INDÍGENAS.

ELES MORAM EM OCAS OU MALOCAS, FEITAS DE PALHA E PAUS. NELAS, VIVEM MUITAS PESSOAS.

OS HOMENS CAÇAM E PESCAM.

AS MULHERES CUIDAM DA TRIBO, FAZEM ARTESANATO E TOMAM CONTA DAS CRIANÇAS.



EM "Prof. Calil Rahal Neto"

Nome: _____

Professora: Ana Paula de Ramos Marcicano

Turma: 3º ano A

Data: 19/04/2021

RESPONDA:

1) EM QUAL DIA COMEMORAMOS O DIA DO ÍNDIO?

2) COMO SÃO CHAMADAS AS CRIANÇAS INDÍGENAS?

3) DE QUAL MATERIAL SÃO FEITAS AS OCAS DOS ÍNDIOS?

4) QUAL A ATIVIDADE DOS HOMENS NA TRIBO?

5) QUAL A ATIVIDADE DAS MULHERES NA TRIBO?

Nome: _____

Professora: Ana Paula de Ramos Marcicano

Turma: 3º ano A

Data: 20/04/2021

Todo dia é dia de índio...

O Pequeno Curumim

Isabel Cristina Silveira Soares

Todo dia bem cedinho
Desperta o pequeno curumim
Caça e pesca o indiozinho
Pula e brinca no capim!

Seu pai é o cacique
Chefe forte e guerreiro
Tem também o pajé
Que é da tribo o curandeiro!

Na aldeia, tão juntinhos
Vivem todos bem felizes
Cada família tem sua oca
Alimentam-se também de raízes!



1) LER O TEXTO E DESTACAR AS RIMAS:


Nome: _____

Professora: Ana Paula de Ramos Marcicano



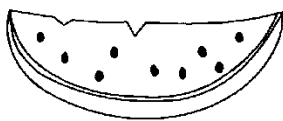
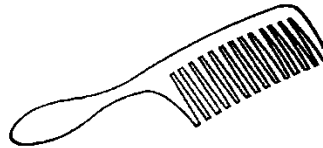


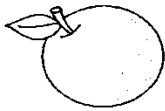
Turma: 3º ano A

Data: 20/04/2021

AN, EN, IN, ON, UN



➔ **ESCREVA OS NOMES DOS DESENHOS:**



Nome: _____

Professora: Ana Paula de Ramos Marcicano

Turma: 3º ano A


Data: 22/04/2021

DESCOBRIMENTO DO BRASIL

NO DIA 22 DE ABRIL DE 1500, PEDRO ÁLVARES CABRAL, VINDO DE PORTUGAL, CHEGOU AO BRASIL, DESEMBARCANDO EM PORTO SEGURO, NA BAHIA.

CABRAL AVISTOU O MONTE PASCOAL, ASSIM CHAMADO PORQUE ERA ÉPOCA DA PÁSCOA.

CHEGANDO AO BRASIL, CABRAL ENCONTROU ÍNDIOS. ALGUNS DELES SE TORNARAM ALIADOS DOS PORTUGUESES E OUTROS RESISTIRAM. DEVIDO A ESSA RESISTÊNCIA, HOVE MUITOS CONFLITOS E GUERRAS.



1) EM QUAL DIA PEDRO ÁLVARES CABRAL CHEGOU AO BRASIL?

Nome: _____

Professora: Ana Paula de Ramos Marcicano

Turma: 3º ano A

Data: 22/04/2021

ATIVIDADE DE AULA - DATA: ____/____/____

21 DE ABRIL - DIA DE TIRADENTES



AGORA É COM VOCÊ!

Procure, no caça-palavras, as respostas das seguintes perguntas:

Q	F	A	B	R	I	L	X	Y	Z
T	I	R	A	D	E	N	T	E	S
R	E	N	F	O	R	C	A	D	O
P	O	R	T	U	G	A	L	Z	P

1. Sobre quem as crianças estavam conversando? _____
2. Qual o mês em que comemoramos o Dia de Tiradentes? _____
3. Como ele morreu? _____
4. Ele queria libertar o Brasil de qual país? _____

EM "Prof. Calil Rahal Neto"

Nome: _____

Professora: Ana Paula de Ramos Marcicano

Turma: 3º ano A

Data: 23/04/2021

1 – OBSERVE A ESCRITA DOS NÚMEROS ABAIXO:

10 – DEZ	15 – QUINZE
11 – ONZE	16 – DEZESSEIS
12 - DOZE	17 – DEZESSETE
13 – TREZE	18 – DEZOITO
14 – QUATORZE	19 – DEZENOVE

AGORA, SOME E ESCREVA POR EXTENSO.

5+5	10	DEZ
7+4		
6+7		
7+7		
8+8		
7+8		
6+6		
10+9		
10+8		
10+7		

EM "Prof. Calil Rahal Neto"

Nome: _____

Professora: Ana Paula de Ramos Marcicano

Turma: 3º ano A

Data: 23/04/2021

1 – ESCREVA OS NUMERAIS DE 10 ATÉ 19.

10				

2 - ESCREVA O ANTECESSOR E O SUCESSOR DOS NÚMEROS ABAIXO:

	16	
--	----	--

	12	
--	----	--

	16	
--	----	--

	14	
--	----	--

	18	
--	----	--

	17	
--	----	--

	10	
--	----	--

	13	
--	----	--

	11	
--	----	--

3- CALCULE MENTALMENTE:

$10+1=$ _____

$10+2=$ _____

$10+5=$ _____

$10+6=$ _____

$10+3=$ _____

$10+7=$ _____

$10+9=$ _____

EM "Prof. Calil Rahal Neto"

Nome: _____

Professora: Ana Paula de Ramos Marcicano

Turma: 3º ano A

Data: 26/04/2021



Quando queremos dar notícias, enviar mensagens ou matar saudades de alguém podemos enviar uma carta.

♦ VEJA AS PARTES DE UMA CARTA:

DATA	{	<i>Belo Horizonte, 8 de novembro de 2001</i>
SAUDAÇÃO	{	<i>Querida Carina,</i>
CORPO DA CARTA	{	<i>É com grande alegria que volto a escrever para você. Espero que esteja tudo bem. Estou trabalhando naquela mesma firma. Na semana passada comprei uma moto e tudo agora está mais fácil. Deus tem derramado bênçãos sobre a minha vida... Talvez, no ano que vem já dê para visitar vocês. Aguardando resposta, eu me despeço, enviando um forte abraço.</i>
DESPEDIDA	{	<i>Seu primo, Jonas</i>

RESPONDA:

1) QUEM ESCREVEU A CARTA ACIMA?

2) QUEM VAI RECEBER A CARTA ACIMA?

EM "Prof. Calil Rahal Neto"

Nome: _____

Professora: Ana Paula de Ramos Marcicano

Turma: 3º ano A

Data: 26/04/2021

VEJA COMO PREENCHER O ENVELOPE DE UMA CARTA:



RESPONDA:

1) QUAL É O NOME DO REMETENTE DESSA CARTA?

2) QUAL É O ENDEREÇO DO REMETENTE DA CARTA?

3) PARA QUEM LUCAS VAI MANDAR A CARTA?

EM "Prof. Calil Rahal Neto"

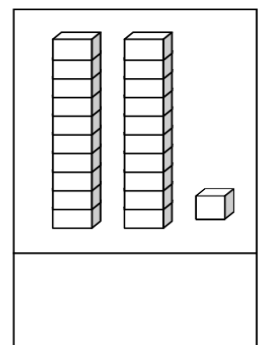
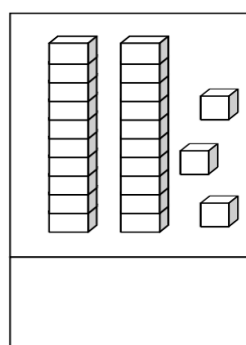
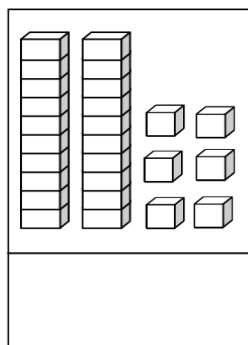
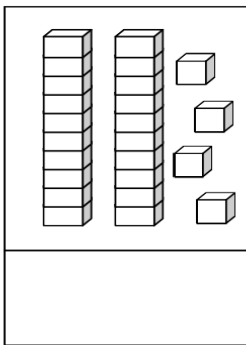
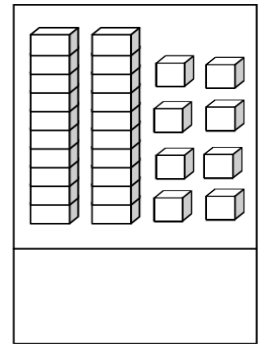
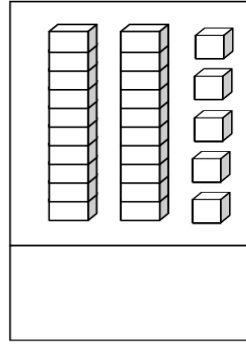
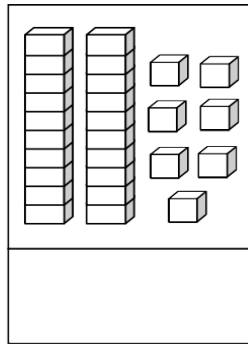
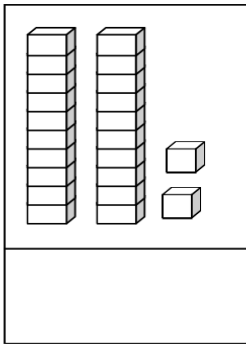
Nome: _____

Professora: Ana Paula de Ramos Marcicano

Turma: 3º ano A

Data: 27/04/2021

ESCREVA O NÚMERO REPRESENTADO PELO MATERIAL DOURADO:



ESCREVA POR EXTENSO:

22	VINTE E DOIS
25	
27	
29	
20	
21	


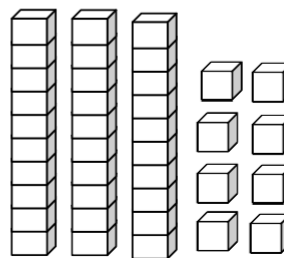

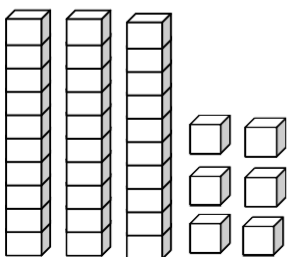

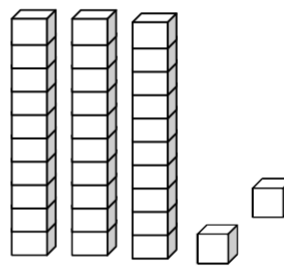

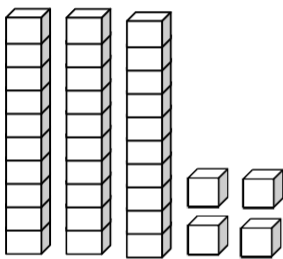

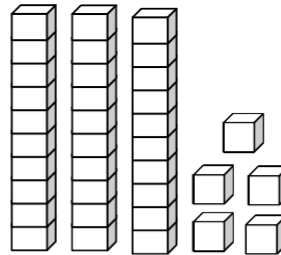

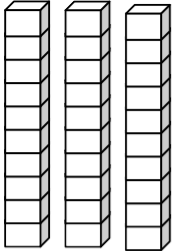

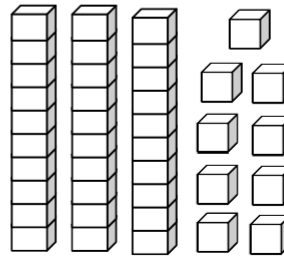

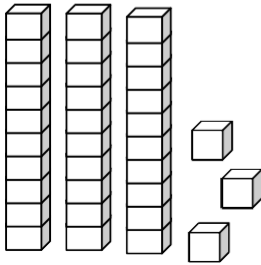

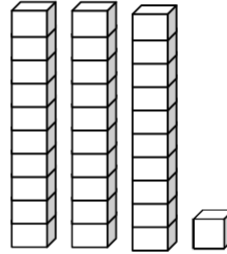

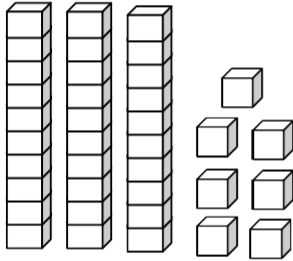
Nome: _____

Professora: Ana Paula de Ramos Marcicano

Turma: 3º ano A

Data: 27/04/2021

ESCREVA OS NÚMEROS REPRESENTADOS PELO MATERIAL DOURADO:



EM "Prof. Calil Rahal Neto"

Nome: _____

Professora: Ana Paula de Ramos Marcicano

Turma: 3º ano A

Data: 28/04/2021

ANIMAIS VERTEBRADOS

Os animais vertebrados se dividem em 5 grupos. São eles:



MAMÍFEROS

- Possuem pelos
- Os filhotes crescem dentro da barriga da mãe
- Vivem na terra e na água



AVES

- Possuem penas e asas
- Colocam ovos
- Vivem na terra



PEIXES

- Possuem escamas e nadadeiras
- Colocam ovos
- Vivem na água



AMFÍBIOS

- Tem pele úmida e lisa
- Colocam ovos
- Os filhote vivem na água e os adultos na terra



RÉPTEIS

- Possuem escamas
- Colocam ovos
- Vivem na terra

© SMARTKIDS

Nome: _____

Professora: Ana Paula de Ramos Marcicano

Turma: 3º ano A

Data: 28/04/2021

CRUZA MAMÍFEROS

Complete com os nomes dos animais que mamam quando filhotes.

2

1

3

4

5

6

7

8

9

3

8

9

4

6

7

1

EM "Prof. Calil Rahal Neto"

Nome: _____

Professora: Ana Paula de Ramos Marcicano

Turma: 3º ano A

Data: 29/04/2021

RESOLVA OS PROBLEMAS:

SEU JOSÉ VENDEU 2 DEZENAS E 5 UNIDADES DE LARANJAS E 1 DEZENA DE ABACATES.

QUANTAS FRUTAS ELE VENDEU?

DONA MARIA VENDEU 1 DEZENA E 3 UNIDADES DE BRIGADEIROS E 3 DEZENAS E 4 UNIDADES DE BEIJINHOS .

QUANTOS DOCES ELA VENDEU?

EM "Prof. Calil Rahal Neto"

Nome: _____

Professora: Ana Paula de Ramos Marcicano

Turma: 3º ano A

Data: 29/04/2021

SÍLABA É CADA IMPULSO DE VOZ QUE EMITIMOS AO FALAR UMA PALAVRA.

AS PALAVRAS PODEM SER CLASSIFICADAS DE ACORDO COM O NÚMERO DE SÍLABAS:

MONOSSÍLABAS: 1 SÍLABA	TRISSÍLABAS: 3 SÍLABAS
DISSÍLABAS: 2 SÍLABAS	POLISSÍLABAS: 4 SÍLABAS OU MAIS

- 1) SEPRE AS PALAVRAS EM SÍLABAS E CLASSIFIQUE-AS EM MONOSSÍLABAS, DISSÍLABAS, TRISSÍLABAS OU POLISSÍLABAS:

GATO	GA - TO (2)	DISSÍLABA
MACACO	MA - CA - CO (3)	TRISSÍLABA
RATO		
ELEFANTE		
RÃ		
COELHO		
MORCEGO		

EM "Prof. Calil Rahal Neto"

Nome: _____

Professora: Ana Paula de Ramos Marcicano

Turma: 3º ano A

Data: 30/04/2021

Acentuação gráfica



Ei! Sou o acento agudo!
Indico sempre que a
vogal tem som aberto.

café

rapé

jiló



Sou o acento circunflexo!
A vogal tem som fechado
quando estou por cima.

robô

vovô

- ♦ Recorte, de jornais ou revistas, palavras com os seguintes acentos:



Nome: _____

Professora: Ana Paula de Ramos Marcicano

Turma: 3º ano A

Data: 30/04/2021

O TRABALHADOR

**ACORDAR, TRABALHAR,
A ROTINA COMEÇAR!**

**TRABALHAR COM AMOR,
TRABALHAR COM PRAZER
RENDE FRUTOS
E FAZ A GENTE CRESCER.**

**QUEM SE DEDICA ALCANÇA
O QUE SE QUER.
ESTÁ FELIZ
E NÃO SE CANSA.**

**TRABALHAR SIGNIFICA,
VITÓRIAS, CONQUISTAS
OS SONHOS REALIZAR.**

**O QUE NÃO FALTA SÃO MOTIVOS
PARA COMEMORAR!**

Juliana Rondon



FAÇA UMA LISTA DAS PROFISSÕES QUE VOCÊ CONHECE:


Nome: _____

Professora: Ana Paula de Ramos Marcicano

Turma: 3º ano A



Data: 03/05/2021

"SE AS COISAS FOSSEM MÃES"



Se a LUA fosse mãe, seria mãe das estrelas, o céu seria sua casa, casa das estrelas belas.

Se a SEREIA fosse mãe, seria mãe dos peixinhos, o mar seria um jardim e os barcos seus caminhos.




Se a CASA fosse mãe, seria mãe das janelas, conversaria com a lua sobre as crianças estrelas.

Falaria de receitas: pastéis de vento, quindins...
Emprestaria a cozinha pra LUA fazer pudins!



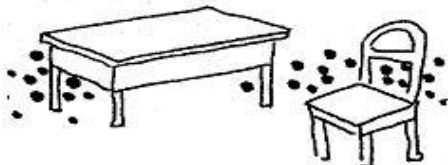
Se a TERRA fosse mãe, seria mãe das sementes, pois mãe é tudo que abraça, acha graça e ama a gente!

Se uma FADA fosse mãe, seria mãe da alegria, toda mãe é um pouco fada...
Nossa mãe fada seria!



Se a BRUXA fosse mãe, seria mamãe gozada: seria a mãe das vassouras da Família Vassourada!

Se a CHALEIRA fosse mãe, seria mãe da água fervida, faria chá e remédio para as doenças da vida.



Se a MESA fosse mãe, as filhas, sendo cadeiras, sentariam comportadas, teriam "boas maneiras"!

EM "Prof. Calil Rahal Neto"

Nome: _____

Professora: Ana Paula de Ramos Marcicano

Turma: 3º ano A

Data: 03/05/2021

COMPLETE DE ACORDO COM A HISTÓRIA.



SE A LUA FOSSE MÃE SERIA MÃE DAS



SE A MESA FOSSE MÃE SERIA MÃE DAS



SE A CHALEIRA FOSSE MÃE SERIA MÃE DA



SE A SEREIA FOSSE MÃE SERIA MÃE DOS



SE A BRUXA FOSSE MÃE SERIA MÃE DAS

Nome: _____

Professora: Ana Paula de Ramos Marcicano

Turma: 3º ano A

Data: 04/05/2021

ESCREVA O NOME DE CADA FIGURA:



EM "Prof. Calil Rahal Neto"

Nome: _____

Professora: Ana Paula de Ramos Marcicano

Turma: 3º ano A

Data: 04/05/2021

COMPLETE AS PALAVRAS COM AS LETRAS QUE FALTAM.



___AF___



___EI___



___ES___



___UADR___



___UDI___



___EIX___



___HUPET___



___ORT___



___ADEIR___



___ASSOUR___



___AD___



___BÓBOR___

Nome: _____

Professora: Ana Paula de Ramos Marcicano


Turma: 3º ano A

Data: 05/05/2021



BRINCANDO COM GRÁFICO

- 1) Observe o gráfico de brinquedos de Artur. Cada barra corresponde a um brinquedo.



- 2) Agora, responda:

- Quantas bolas Artur tem? _____
- Quantos carrinhos? _____
- Quantos jogos? _____
- Quantos jogos Artur tem a mais que bolas? _____
- Quantos carrinhos faltam para Artur ficar com a mesma quantidade que tem de jogos? _____

- 3) Marque a resposta certa. Para agrupar uma dezena de brinquedos de Artur, é só adicionar:

- jogos e bolas.
- carrinhos e bolas.
- carrinhos e jogos.

EM "Prof. Calil Rahal Neto"

Nome: _____

Professora: Ana Paula de Ramos Marcicano

Turma: 3º ano A

Data: 05/05/2021

MATEMÁTICA

MINHA MÃE COMPROU 25 OVOS.

ELA USOU 3 PARA FAZER UM PUDIM.

QUANTOS OVOS RESTARAM?

R: RESTARAM _____ OVOS.

RESOLVA AS SUBTRAÇÕES:

$\begin{array}{r} 12 \\ - 11 \\ \hline \end{array}$	$\begin{array}{r} 24 \\ - 2 \\ \hline \end{array}$	$\begin{array}{r} 22 \\ - 10 \\ \hline \end{array}$	$\begin{array}{r} 38 \\ - 13 \\ \hline \end{array}$
---	--	---	---

$\begin{array}{r} 16 \\ - 3 \\ \hline \end{array}$	$\begin{array}{r} 19 \\ - 11 \\ \hline \end{array}$	$\begin{array}{r} 16 \\ - 15 \\ \hline \end{array}$	$\begin{array}{r} 13 \\ - 1 \\ \hline \end{array}$
--	---	---	--

Nome: _____

Professora: Ana Paula de Ramos Marcicano

Turma: 3º ano A

Data: 06/05/2021

ATIVIDADE DE PORTUGUÊS

ENCONTRE AS PALAVRAS NO DIAGRAMA.



BARCOS
CASA
CRIANÇAS
ESTRELAS
JANELAS
LUA
MÃE
SEREIA
SEMENTES
TERRA
VASSOURAS

A	C	V	B	J	A	N	E	L	A	S	P	V
M	Ã	E	S	D	F	G	Ã	H	J	K	Ç	A
Z	X	S	V	C	B	N	B	A	R	C	O	S
T	J	T	Ã	R	S	E	R	E	I	A	K	S
E	Ó	R	W	I	B	O	Y	U	I	S	Ç	O
R	D	E	T	A	X	S	D	F	G	A	P	U
R	F	L	J	N	C	E	Q	S	J	P	O	R
A	G	A	H	Ç	B	R	A	Z	L	L	U	A
Z	X	S	V	A	S	E	M	E	N	T	E	S
Q	W	E	R	S	T	Y	U	I	O	P	Ç	L

Se as coisas fossem Mães- Sílvia Orthof

ESCREVA FRASES COM AS SEGUINTE PALAVRAS:

ESTRELAS

MÃE

EM "Prof. Calil Rahal Neto"

Nome: _____


Professora: Ana Paula de Ramos Marcicano

Turma: 3º ano A

Data: 06/05/2021

PEIXES

1. OBSERVE O DESENHO E RESPONDA:



A) ONDE ESSE ANIMAL VIVE?

B) COMO É SEU CORPO?

C) DE QUE SE ALIMENTA?

D) O QUE NOS OFERECE?

DESENHE 1 DEZENA DE PEIXES:

EM "Prof. Calil Rahal Neto"

Nome: _____

Professora: Ana Paula de Ramos Marciano

Turma: 3º ano A

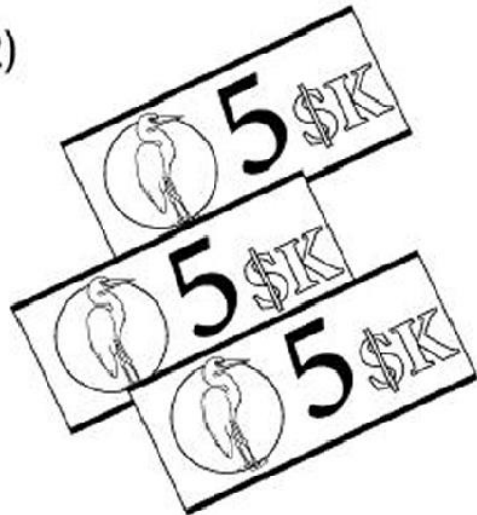
Data: 07/05/2021

Quais grupos de notas correspondem
a vinte reais? Circule as opções!

1)



2)



3)



4)



EM "Prof. Calil Rahal Neto"

Nome: _____

Professora: Ana Paula de Ramos Marcicano

Turma: 3º ano A

Data: 07/05/2021

QUE HORAS SÃO?



EM "Prof. Calil Rahal Neto"

Nome: _____

Professora: Ana Paula de Ramos Marcicano

Turma: 3º ano A


Data: 10/05/2021

PAISAGEM GEOGRÁFICA

O NOSSO PLANETA, A TERRA, É A NOSSA GRANDE CASA. O LUGAR ONDE TODOS NÓS MORAMOS. NELE EXISTEM DIFERENTES TIPOS DE PAISAGEM.

AS PAISAGENS FORMADAS PELA NATUREZA, COMO AS ÁRVORES, OS RIOS, AS SERRAS E AS MONTANHAS, SÃO NATURAIS. AQUELAS EM QUE NÃO HÁ A INTERFERÊNCIA DO HOMEM.

AS PAISAGENS ESTÃO SEMPRE SE MODIFICANDO. ISSO É O RESULTADO DE DIVERSAS MUDANÇAS OCORRIDAS DURANTE OS ANOS E QUE SÃO CAUSADAS PELA AÇÃO DA PRÓPRIA NATUREZA OU PELOS SERES HUMANOS, DE VÁRIAS MANEIRAS.



EM "Prof. Calil Rahal Neto"

Nome: _____

Professora: Ana Paula de Ramos Marcicano

Turma: 3º ano A

Data: 10/05/2021

2. CLASSIFIQUE AS FIGURAS EM PAISAGEM NATURAL OU MODIFICADA:

