



Prefeitura da Estância Turística de
IBIÚNA
TRANSFORMAÇÃO RESPONSÁVEL. CUIDANDO DE PESSOAS.



S

E.M “ZENI SOARES RAMALHO

Atividades para estudo em Casa

20/04 a 10/05/2021

Aluno (a): _____

Professora: CLAUDENICE

19 DE ABRIL
DIA DO ÍNDIO



Papa Capotó® é um personagem pertencente a Maurício de Sousa Prods



Escola _____
Aluno _____
Professor (a) _____
Data ___ / ___ / ____.

Monteiro Lobato

NASCIDO EM TAUBATÉ, NO ESTADO DE SÃO PAULO, EM 18 DE ABRIL DE 1882. ELE É O PAI DA TURMINHA QUE VOCÊ VAI CONHECER, ALÉM DE OUTROS PERSONAGENS DE HISTÓRIAS INFANTIS.

ELE CONTRIBUIU PARA DAR UM COLORIDO ESPECIAL À LITERATURA INFANTIL BRASILEIRA.

1. ONDE MORA A TURMINHA MAIS FAMOSA DE MONTEIRO LOBATO?

() NA FAZENDA BUSCAPÉ


() NO SÍTIO DO PICA PAU AMARELO

2. QUANTOS PERSONAGENS DE MONTEIRO LOBATO VOCÊ CONHECE? REGISTE NO QUADRO.

3. VAMOS COLORIR MONTEIRO LOBATO?



DIA NACIONAL DO LIVRO INFANTIL - 18 DE ABRIL



Dia 19 de Abril Dia do Índio

Os índios foram os primeiros habitantes do Brasil.

No começo, havia muitos índios vivendo livres nas nossas florestas. Hoje, eles são em número bem reduzido.

Os índios vivem em grupos chamados tribos.

Cada tribo tem um chefe guerreiro, chamado cacique ou morubixaba, e um chefe religioso, chamado pajé, que também é curandeiro da tribo.

As casas dos índios chamam-se ocas. São cabanas construídas com paus e barro, cobertas de palha ou folhas de árvores.

A reunião de ocas forma uma pequena aldeia chamada taba.

As armas dos índios são o arco, a flecha, a lança, o tacape e a zarabatana.

Os índios costumam dormir em redes ou esteiras.

Alimentam-se da caça, da pesca e de vegetais.

Plantam mandioca, milho, batata-doce, etc.

Gostam de cantar e de dançar. Seus instrumentos musicais são o tambor, o chocalho, a flauta e o maracá.

Os índios andam nus ou quase nus. Alguns usam tangas e cocares feitos de penas coloridas de aves.

Costumam pintar o corpo com tintas extraídas das plantas.

Enfeitam-se com colares e pulseiras feitos com dentes de animais.

Adoram o sol, que chamam de Guaraci, a lua, que chamam de Jaci, e outros deuses.



DIA DO ÍNDIO

2. Observe na música os nomes de alguns animais e alimentos que o autor deixou em destaque e organize abaixo:

ANIMAIS		ALIMENTOS

Quarta Educaçã

3. De acordo com o texto responda:

A) Qual é a língua indígena destacada no texto?

B) quais as palavras no texto que possuem rimas?

C) no texto diz que todo mundo tem um índio dentro de si. Porque?

OBSERVE A ORDEM DESSAS CRIANÇAS NA FILA.



RESPONDAS AS QUESTÕES:

QUEM É O PRIMEIRO DA FILA? _____

E QUEM É O ÚLTIMO DA FILA? _____

QUANTAS CRIANÇAS ESTÃO ANTES DE KELY? _____

QUEM ESTA IMEDIATAMENTE ANTES DE KELY? _____

QUANTAS CRIANÇAS TEM DEPOIS DE LUCAS? _____

QUEM ESTA LOGO DEPOIS DE LUCAS? _____

QUEM ESTA ENTRE ANA E LIA? _____

QUEM ESTA ENTRE CAIO E HÉLIO? _____

QUANTAS CRIANÇAS ESTÃO NA FILA? _____

QUANTOS MENINOS ESTÃO NA FILA? _____

QUANTAS MENINAS ESTÃO NA FILA? _____

GEOGRAFIA.

BAIRRO O BAIRRO É UM PEDAÇO DA CIDADE QUE RECEBE UM NOME.

E APRESENTA CARACTERÍSTICAS PRÓPRIAS QUE ESTÃO ASSOCIADAS À SUA OCUPAÇÃO E AO LOCAL EM QUE SE ENCONTRAM. ASSIM COMO AS CASAS E AS RUAS, OS BAIRROS NÃO SÃO TODOS IGUAIS. ELES TÊM TAMANHOS DIFERENTES, CONSTRUÇÕES E RUAS TAMBÉM DIFERENTES. MUDAM TAMBÉM OS MORADORES.

EXISTEM BAIRROS RESIDENCIAIS, ISTO É, ONDE EXISTEM PRATICAMENTE SÓ CASAS OU PRÉDIOS.

HÁ BAIRROS CHAMADOS INDUSTRIAIS, ONDE PREDOMINAM MUITAS FÁBRICAS.

OUTROS BAIRROS SÃO CONSIDERADOS COMERCIAIS, PORQUE HÁ MUITAS LOJAS, BANCOS, ESCOLAS, ESCRITÓRIOS, CONSULTÓRIOS MÉDICOS, RESTAURANTES E ATÉ ATIVIDADES DE LAZER, COMO CLUBES, CINEMAS E TEATROS.

NOS BAIRROS RESIDENCIAIS, HÁ PREDOMÍNIO DE :


FÁBRICAS LOJAS RESTAURANTES MORADIAS

ANOTE O QUE NORMALMENTE PREDOMINA EM UM BAIRRO COMERCIAL:

MORADIAS LOJAS RESTAURANTES FÁBRICAS

BANCOS PLANTAÇÕES ESCRITORIOS CASAS COMERCIAIS

OBSERVE A ILUSTRAÇÃO:



QUE TIPO DE BAIRRO APARECE NA CENA AO LADO?

ALUNO(A):..... DATA:...../...../.....



História

Descobrimdo o Brasil

► A chegada dos portugueses

► **Leia:**

História é...

- A ciência que estuda fatos significativos já acontecidos com a Humanidade.



- No ano de 1500, D. Manuel, rei de Portugal, preparou uma esquadra (navios), para ser comandada por Pedro Álvares Cabral, com o objetivo de fazer uma viagem às terras distantes das Índias.

No dia 22 de abril de 1500:

- A esquadra chegou à nossa terra.
- Avistaram um monte e deram-lhe o nome de Monte Pascoal (era Páscoa).
- O Monte Pascoal fica no litoral sul do atual Estado da Bahia.

Aqui os portugueses encontraram:

- Pessoas que aqui viviam receberam o nome de índios.
- Nomes dados à nova terra:
 - Ilha de Vera Cruz
 - Terra de Santa Cruz
 - Brasil (por causa da madeira encontrada, chamada pau-brasil).

Assim eram os índios:

- Moravam em ocas (taba - aldeia).
- O chefe: Cacique.
- O chefe religioso: Pajé.
- Usavam canoas.
- Seus utensílios eram cerâmicas de barro e cestas de palha.



- Enfeitavam-se com penas, dentes de animais e pinturas.
- Alimentavam-se: caça, pesca, mandioca, milho, etc.
- Suas armas: flecha/arco, lança, tacape e zarabatana.



① Qual foi o nome que recebeu o primeiro monte avistado pelos portugueses? E por que recebeu esse nome?

② Qual foi a data de descobrimento do Brasil?

() 22 de maio de 1500.

() 20 de abril de 1500.

() 22 de abril de 1500.

③ Quem comandava a expedição que descobriu o Brasil?

() Pedro Álvares Cabral.

() Frei Henrique Soares.

() Pero Vaz de Caminha.

④ A primeira carta enviada ao rei de Portugal foi escrita por:

() Pedro Álvares Cabral.

() Frei Henrique Soares.

() Pero Vaz de Caminha.

⑤ Qual o Estado em que a expedição aportou?

() Rio de Janeiro.

() Bahia.

() São Paulo.



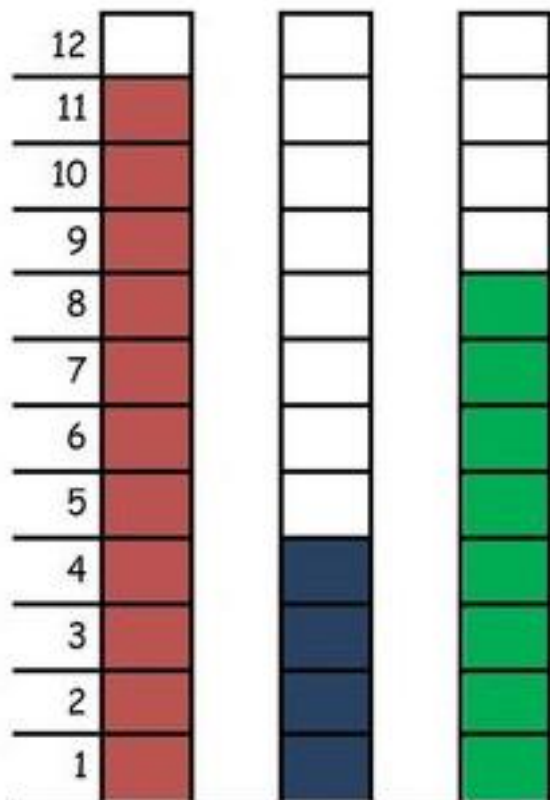
⑥ Quais os outros nomes que o nosso país recebeu antes do nome Brasil?

⑦ Por que o Brasil recebeu esse nome?

A PARTIDA DE FUTEBOL

PAPAI CEBOLA, O CEBOLINHA E O VOVÔ JOGARAM UMA PARTIDA DE FUTEBOL.

VEJA A QUANTIDADE DE GOLS QUE CADA UM MARCOU:



- 1-QUEM MARCOU MAIS GOLS ? _____
- 2-QUEM MARCOU MENOS GOLS ? _____
- 3-QUAL FOI O TOTAL DE GOLS DESSA PARTIDA ? _____

4-REGISTRE NA TABELA A QUANTIDADE DE GOLS DE CADA UM, REPRESENTANDO COM NÚMEROS E DESENHOS:

PAPAI		
VOVÔ		
CEBOLINHA		