

CAÇA- NÚMEROS:

ENCONTRE NO CAÇA-NÚMEROS, OS NÚMEROS ABAIXO:

VINTE E SETE= \_\_\_\_\_

DEZENOVE = \_\_\_\_\_

TRINTA E UM = \_\_\_\_\_

DEZ= \_\_\_\_\_

VINTE E UM= \_\_\_\_\_

TRINTA E NOVE= \_\_\_\_\_

DEZESSEIS = \_\_\_\_\_


VINTE E CINCO= \_\_\_\_\_

DEZOITO= \_\_\_\_\_

VINTE E SEIS= \_\_\_\_\_

VINTE E DOIS= \_\_\_\_\_

DEZESSETE= \_\_\_\_\_



1	3	0	9	5	4	2	1	3	4
3	2	7	6	2	5	0	3	0	9
4	3	1	8	5	1	1	6	7	0
5	2	5	1	2	6	3	2	9	6
1	7	2	6	1	9	2	9	2	1
2	2	7	0	3	3	1	4	6	5
5	1	0	3	2	0	3	2	6	0
2	4	4	2	5	4	5	1	2	4
0	3	1	6	1	2	1	7	4	1
3	1	6	0	3	9	3	3	1	5

AGORA ESCREVA O ANTECESSOR E O SUCESSOR DE CADA UM DELES:

<input type="text"/>	26	<input type="text"/>	<input type="text"/>	16	<input type="text"/>	<input type="text"/>	<input type="text"/>	32	<input type="text"/>	<input type="text"/>	<input type="text"/>	17	<input type="text"/>	<input type="text"/>
<input type="text"/>	25	<input type="text"/>	<input type="text"/>	10	<input type="text"/>	<input type="text"/>	<input type="text"/>	27	<input type="text"/>	<input type="text"/>	<input type="text"/>	21	<input type="text"/>	<input type="text"/>
<input type="text"/>	19	<input type="text"/>	<input type="text"/>	39	<input type="text"/>	<input type="text"/>	<input type="text"/>	18	<input type="text"/>	<input type="text"/>	<input type="text"/>	31	<input type="text"/>	<input type="text"/>

LEIA EM VOZ ALTA, JUNTO COM A FAMÍLIA.



1) RETIRE DA PARLENDIA UMA PALAVRA PARA CADA LETRA ABAIXO:

A	
B	
C	
D	
F	
N	

O	
P	
R	
S	
T	
V	

2) PINTE AS CONSOANTES DA PARLENDIA DE VERMELHO.

LÍNGUA PORTUGUESA.

**LEITURA E INTERPRETAÇÃO DE TEXTO**

**SUSTO**

UM HIPOPÓTAMO TURISTA  
-- É ESTRANHO MAS É VERDADE --  
SAIU DA SELVA E FOI AO DENTISTA  
NO CENTRO DA CIDADE.

A RECEPCIONISTA FICOU LOUCA,  
FUGIU TODA A CLIENTELA  
E QUANDO O BICHO ABRIU A BOCA  
O DENTISTA SALTOU PELA JANELA.



SIDÔNIO MURALHA. A DANÇA DOS PICA-PAUS, NÓRDICA

**ESTUDO DO TEXTO:**

1. QUEM É O PRINCIPAL PERSONAGEM DO TEXTO?

---

---

2. NO TEXTO, QUEM FICOU LOUCA?

---

---

3. QUEM SALTOU A JANELA?

---

---

4. INVENTE OUTRO TÍTULO PARA O TEXTO.

---

---

5. QUEM SÃO OS DOIS PROFISSIONAIS DO TEXTO?

---

---

## LÍNGUA PORTUGUESA.

**EXPLORAÇÃO DE BILHETE**

VOVÓ,

PASSEI NA SUA CASA PARA ENTREGAR UMA CESTA DE  
DOCES, MAS VOCÊ NÃO ESTAVA

VOLTO AMANHÃ À TARDE.

UM BEIJO DA SUA NETINHA,

CHAPEUZINHO VERMELHO.

21/08/2012

**MARQUE A RESPOSTA CERTA:**

1- ESSE GÊNERO TEXTUAL É UM:

CONVITE

BILHETE

ANÚNCIO

2- O ASSUNTO PRINCIPAL DO BILHETE É:

AVISAR

CONVIDAR

VENDER DOCES.

3- PARA QUEM É O BILHETE?

CHAPEUZINHO

LOBO MAU

VOVÓ

4- QUEM ESCREVEU O BILHETE FOI A:

MAMÃE

VOVÓ

CHAPEUZINHO

5- A DATA DO BILHETE É:

21 DE SETEMBRO DE 2012.


21 DE AGOSTO DE 2012.

21 DE FEVEREIRO DE 2012.



## MATEMÁTICA.

PARA CALCULAR:



$\begin{array}{r} 45 \\ + 43 \\ \hline \end{array}$	$\begin{array}{r} 38 \\ + 21 \\ \hline \end{array}$	$\begin{array}{r} 67 \\ + 32 \\ \hline \end{array}$	$\begin{array}{r} 55 \\ + 14 \\ \hline \end{array}$	$\begin{array}{r} 36 \\ + 61 \\ \hline \end{array}$
$\begin{array}{r} 73 \\ + 10 \\ \hline \end{array}$	$\begin{array}{r} 58 \\ + 31 \\ \hline \end{array}$	$\begin{array}{r} 23 \\ + 72 \\ \hline \end{array}$	$\begin{array}{r} 64 \\ + 15 \\ \hline \end{array}$	$\begin{array}{r} 71 \\ + 17 \\ \hline \end{array}$
$\begin{array}{r} 66 \\ + 30 \\ \hline \end{array}$	$\begin{array}{r} 24 \\ + 63 \\ \hline \end{array}$	$\begin{array}{r} 75 \\ + 22 \\ \hline \end{array}$	$\begin{array}{r} 35 \\ + 41 \\ \hline \end{array}$	$\begin{array}{r} 25 \\ + 52 \\ \hline \end{array}$
$\begin{array}{r} 83 \\ + 10 \\ \hline \end{array}$	$\begin{array}{r} 44 \\ + 3 \\ \hline \end{array}$	$\begin{array}{r} 26 \\ + 33 \\ \hline \end{array}$	$\begin{array}{r} 34 \\ + 65 \\ \hline \end{array}$	$\begin{array}{r} 37 \\ + 40 \\ \hline \end{array}$
$\begin{array}{r} 74 \\ + 21 \\ \hline \end{array}$	$\begin{array}{r} 53 \\ + 36 \\ \hline \end{array}$	$\begin{array}{r} 28 \\ + 70 \\ \hline \end{array}$	$\begin{array}{r} 81 \\ + 16 \\ \hline \end{array}$	$\begin{array}{r} 60 \\ + 29 \\ \hline \end{array}$

## MATEMÁTICA.



$$\begin{array}{r} 1) \quad 85 \\ - 22 \\ \hline \end{array}$$

$$\begin{array}{r} 2) \quad 74 \\ - 20 \\ \hline \end{array}$$

$$\begin{array}{r} 3) \quad 93 \\ - 62 \\ \hline \end{array}$$

$$\begin{array}{r} 4) \quad 78 \\ - 14 \\ \hline \end{array}$$

$$\begin{array}{r} 5) \quad 86 \\ - 40 \\ \hline \end{array}$$

$$\begin{array}{r} 6) \quad 70 \\ - 20 \\ \hline \end{array}$$

$$\begin{array}{r} 7) \quad 88 \\ - 52 \\ \hline \end{array}$$

$$\begin{array}{r} 8) \quad 65 \\ - 41 \\ \hline \end{array}$$

$$\begin{array}{r} 9) \quad 76 \\ - 33 \\ \hline \end{array}$$

$$\begin{array}{r} 10) \quad 59 \\ - 21 \\ \hline \end{array}$$

$$\begin{array}{r} 11) \quad 78 \\ - 50 \\ \hline \end{array}$$

$$\begin{array}{r} 12) \quad 37 \\ - 26 \\ \hline \end{array}$$

$$\begin{array}{r} 13) \quad 57 \\ - 11 \\ \hline \end{array}$$

$$\begin{array}{r} 14) \quad 98 \\ - 86 \\ \hline \end{array}$$

$$\begin{array}{r} 15) \quad 83 \\ - 32 \\ \hline \end{array}$$

$$\begin{array}{r} 16) \quad 49 \\ - 18 \\ \hline \end{array}$$

$$\begin{array}{r} 17) \quad 70 \\ - 50 \\ \hline \end{array}$$


$$\begin{array}{r} 18) \quad 79 \\ - 47 \\ \hline \end{array}$$

$$\begin{array}{r} 19) \quad 87 \\ - 73 \\ \hline \end{array}$$

$$\begin{array}{r} 20) \quad 59 \\ - 15 \\ \hline \end{array}$$

MATEMÁTICA.

OBSERVE E RESPONDA:



SÉRGIO



PAULA



HUGO

QUAL CRIANÇA TEM MAIS DINHEIRO? \_\_\_\_\_

QUAL TEM MENOS ? \_\_\_\_\_

QUANTO PAULA TEM? \_\_\_\_\_

QUANTO SÉRGIO TEM A MAIS QUE PAULA? \_\_\_\_\_

QUANTOS TEM OS TRÊS JUNTOS? \_\_\_\_\_

O QUEM VOCÊ COMPRARIA SE TIVESSE O MESMO VALOR DE HUGO?  
\_\_\_\_\_

QUANTO TEM OS DOIS MENINOS JUNTOS?  
\_\_\_\_\_

O QUEM VOCÊ COMPRARIA SE TIVESSE O MESMO VALOR DE SERGIO?  
\_\_\_\_\_

# OS BAIRROS

Decifre os códigos e descubra os tipos de bairro que existem.

☐	◻	☀	☾	◆	☆
I	O	A	M	S	E
♣	🏠	🏠	♥	🌸	▲
D	U	R	C	N	T

1 ♥ ◻ ☾ ☆ 🏠 ♥ ☐ ☀ ☐ ◆


\_\_\_\_\_

2 🏠 ☆ ◆ ☐ ♣ ☆ 🌸 ♥ ☐ ☀ ☐ ◆

\_\_\_\_\_

3 ☐ 🌸 ♣ 🏠 ◆ ▲ 🏠 ☐ ☀ ☐ ◆

\_\_\_\_\_





# CRUZA - HIGIENE

Objetos usados na higiene pessoal.

A crossword puzzle grid with 10 numbered clues and corresponding illustrations of hygiene items:

- 1: A bar of soap (shown at the bottom left).
- 2: A pair of scissors (shown on the right).
- 3: A tube of toothpaste (shown on the left).
- 4: A toothbrush (shown in the center).
- 5: A comb (shown at the bottom center).
- 6: A towel (shown at the bottom right).
- 7: A box of shampoo (shown on the left).

The crossword puzzle grid consists of 10 numbered starting points:

- 1: Down, 1st row, 5th column.
- 2: Across, 2nd row, 4th column.
- 3: Down, 2nd row, 1st column.
- 4: Across, 3rd row, 1st column.
- 5: Across, 6th row, 1st column.
- 6: Down, 4th row, 4th column.
- 7: Down, 4th row, 7th column.


FUI ATÉ LOJA E COMPREI ALGUNS PRESENTES. CALCULE CORRETAMENTE O TROCO QUE RECEBI POR CADA COMPRA FEITA.



Preço	Paguei com	Recebi de troco
 R\$ 25,00	R\$ 50,00	<input type="checkbox"/> R\$ 15,00 <input type="checkbox"/> R\$ 75,00 <input type="checkbox"/> R\$ 3,00 <input type="checkbox"/> R\$ 25,00
 R\$ 68,00	R\$ 80,00	<input type="checkbox"/> R\$ 22,00 <input type="checkbox"/> R\$ 13,00 <input type="checkbox"/> R\$ 148,00 <input type="checkbox"/> R\$ 12,00
 R\$ 19,00	R\$ 20,00	<input type="checkbox"/> R\$ 1,00 <input type="checkbox"/> R\$ 11,00 <input type="checkbox"/> R\$ 39,00 <input type="checkbox"/> R\$ 2,00
 R\$ 86,00	R\$ 100,00	<input type="checkbox"/> R\$ 186,00 <input type="checkbox"/> R\$ 14,00 <input type="checkbox"/> R\$ 86,00 <input type="checkbox"/> R\$ 26,00

ARTES.

COLAR PEDACINHOS DE PAPEIS COLORIDOS NO DESENHO ABAIXO.  
(MOSAICO).



ASSISTA OS LINKS : <https://youtu.be/eOcCVUuC0IQ> e <https://youtu.be/-U6cN2DVid8>