


03) Observe os instrumentos musicais abaixo.



I



II



III



IV

Qual desses instrumentos musicais é o menor?

 A I

 B II

 C III

 D IV

04) (M020929H6) Observe abaixo a coleção de bonecas de pano de Fabiana.



Quantas bonecas de pano Fabiana tem, ao todo, nessa coleção?

A) 3

B) 5

C) 6


D) 7

E.M. "Maria Benedita Rodrigues"

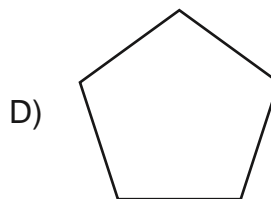
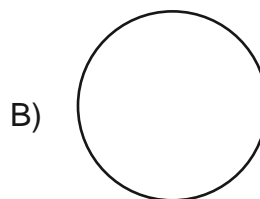
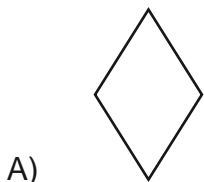
Nome - _____

Data - ____/____/____. 3º ano Professora - Sheila
3ª Atividade

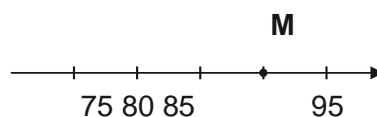
05) Observe abaixo a imagem do espelho da sala de Mirela.



A forma desse espelho lembra qual figura geométrica?



06) Observe a reta numérica abaixo. Ela está dividida em partes iguais.



O ponto M representa qual número nessa reta?

A) 94

B) 90

C) 86

D) 84

07) Observe, na imagem abaixo, os horários das atividades que Naiara fez em um dia.

				
6 HORAS	7 HORAS	9 HORAS	14 HORAS	16 HORAS

De acordo com essa imagem, o que Naiara fez antes das 7 horas?



B)



D)



08) Resolva a operação abaixo.

$$7 + 8 + 1$$

Qual é o resultado dessa operação?

A) 7

B) 9

C) 15

D) 16


E.M. "Maria Benedita Rodrigues"

Nome - _____

Data - ____/____/____. 3° ano Professora - Sheila
4ª Atividade

BLUZIMUZ

09) Observe abaixo a sala da casa de Marina.



Qual é o objeto que está mais próximo da janela?

A)  B)C)  D)

10) Mariana comprou 3 metros de fita para enfeitar uma caixa de presente. Quantos centímetros de fita Mariana comprou para enfeitar essa caixa de presente?

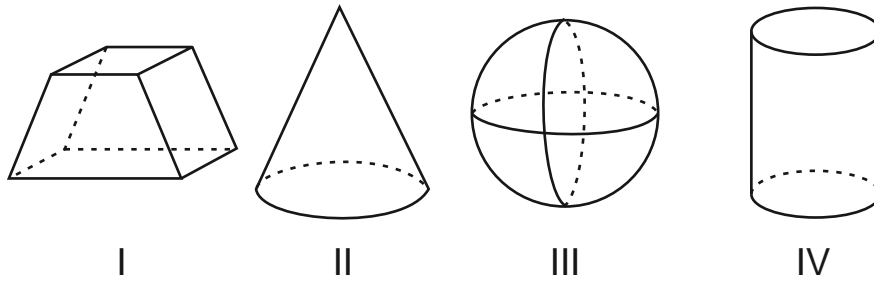
A) 3

B) 30

C) 300

D) 3000

11) Observe abaixo as figuras geométricas.



Qual dessas figuras é um poliedro?

- A) I B) II
 C) III D) IV

12) Resolva a operação abaixo.

$$\begin{array}{r} 345 \\ + 223 \\ \hline \end{array}$$

Qual é o resultado dessa operação?

- A) 122 B) 345
 C) 457 D) 568

13) (M010133E4) Janete usou as moedas abaixo para comprar uma lapiseira.



E.M. "Maria Benedita Rodrigues"

Nome - _____

Data - ____/____/____. 3º ano Professora - Sheila
5ª Atividade

Quantos reais ela usou para comprar essa lapiseira?



14) Roberta comprou 2 caixas de caramelo, com 5 balas em cada uma. Quantas balas de caramelo Roberta comprou ao todo?

- A) 5 B) 7
c) 10 D) 25

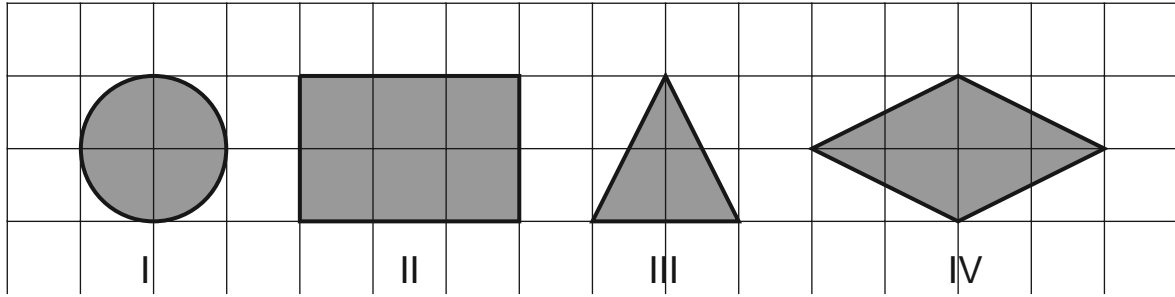
BL05M03

15) A viagem de Carmem será daqui a 5 meses. Quantos dias faltam para essa viagem de Carmem?

- A) 30 B) 50
C) 100 D) 150

BL05M03

17) Observe as figuras geométricas desenhadas na malha quadriculada abaixo.



Qual dessas figuras é um retângulo?

- A) IV B) III
C) II D) I

18) Resolva a operação abaixo.

	56
	<u>- 23</u>

Qual é o resultado dessa operação?

- A) 33 B) 44
C) 56 D) 79

19) (M011247H6) Sofia comprou um apartamento no dia 20 de junho de 2010 e decidiu vender o apartamento depois de morar por exatos 7 anos.

Em qual data Sofia decidiu vender seu apartamento?

- A) 13 DE JUNHO DE 2010. B) 13 DE JUNHO DE 2017.
C) 27 DE JUNHO DE 2010. D) 20 DE JUNHO DE 2017.

BL09M03

20) Observe a sequência de números abaixo. Ela começa no número 54 e termina no número 62.

54	56	58		62
----	----	----	--	----

Qual é o número que está faltando nessa sequência?

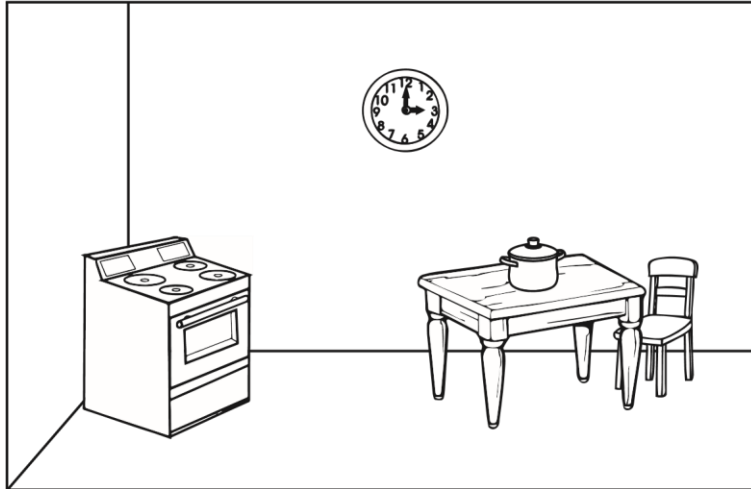
- A) 59 B) 60
C) 61 D) 63

E.M. "Maria Benedita Rodrigues"


Nome - _____

Data - ____/____/____. 3º ano Professora - Sheila
6ª Atividade

21) Observe abaixo alguns objetos da cozinha de Ana.



Qual é o objeto que está mais distante da cadeira?



22) Um padeiro pesou a farinha que seria usada para fazer pães.

Qual é a unidade de medida mais adequada para o padeiro registrar essa quantidade de farinha?


A) L B) m

C) kg D) km

E.M. "Maria Benedita Rodrigues"

Nome - _____

Data - ____/____/____. 3º ano Professora - Sheila
7ª Atividade



1) Qual é o nome dessa figura?

- | | |
|---------|---------|
| A) BALA | B) DATA |
| C) MACA | D) PATA |

Leia o texto abaixo.

RINOCERONTE

O TAMANHO DOS RINOCERONTES PODE FAZER PARECER QUE ELES SÃO ANIMAIS CARNÍVOROS, MAS NA VERDADE SUA ALIMENTAÇÃO É COMPOSTA DE FOLHAS, FRUTAS, GRAMÍNEAS, CAULES E GALHOS. ESSES ANIMAIS DA SAVANA SÃO UMA DAS ESPÉCIES DE ANIMAIS MAIS AMEAÇADAS DO PLANETA. ESTIMA-SE QUE RESTEM APENAS 29 MIL RINOCERONTES NA NATUREZA, EM COMPARAÇÃO COM 500 MIL QUE EXISTIAM NO INÍCIO DO SÉCULO 20. UM DOS MOTIVOS PARA ISSO É A CAÇA PARA A VENDA DOS SEUS CHIFRES. O CHIFRE DE RINOCERONTE MAIS LONGO JÁ MEDIDO FOI DE 150 CENTÍMETROS [...].

Disponível em: <<https://www.dentrodahistoria.com.br/blog/educacao/curiosidades-animais-savana/>>. Acesso em: 22 set. 2020.

Fragmento. (SUP02014717)

02) (P020701H6) No trecho "O CHIFRE DE RINOCERONTE MAIS **LONGO**...", o antônimo da palavra "LONGO" é

- | | |
|---------------|-------------|
| A) CARO. | B) CURTO. |
| C) PROCURADO. | D) VENDIDO. |

03) (P02054517) Qual é o assunto desse texto?

A AMEAÇA DE EXTINÇÃO DOS

- A) RINOCERONTES.
- B) A VIDA DOS ANIMAIS DA SAVANA.
- O TAMANHO DO CHIFRE DOS
- C) RINOCERONTES.
- D) O TIPO DE ALIMENTAÇÃO DOS ANIMAIS CARNÍVOROS.

BL01P02

O GATO DE LUNA

O GATO MIMI VIVIA NA CASA DE LUNA. MIMI ERA UM GATO MUITO MIMADO. [...] LUNA QUERIA BRINCAR COM MIMI, MAS... O GATO SÓ QUERIA DORMIR. [...] CERTO DIA, UMA NOVIDADE ACONTECEU. O TITIO DE LUNA VEIO DO SÍTIO VISITAR SUA FAMÍLIA E UM PRESENTE LHE DEU.

O PRESENTE ERA UM CACHORRINHO, QUE TINHA O NOME DE TOTÓ. ERA UM CACHORRO ESPERTO QUE GOSTAVA MUITO DE BRINCAR. LOGO QUE CHEGOU A CASA, TUDO FOI CHEIRAR. [...]

O GATO QUE DORMIA SOSSEGADO, COM OS LATIDOS ACORDOU ASSUSTADO. DEU UMA OLHADA A SUA VOLTA E VIU LUNA BRINCANDO COM TOTÓ.

MAS VOCÊ PENSA QUE MIMI FICOU PREOCUPADO? QUE NADA! NA SUA CAMINHA CONTINUOU DORMINDO. [...]

TERRA, Elisângela. Disponível em: <<https://bit.ly/31fEjkb>>. Acesso em: 6 jun. 2019. Fragmento. (SUP020092H6)

04) (P02005717) Qual é a personagem principal dessa história?

- A) LUNA.
- B) MIMI.
- C) TITIO.
- D) TOTÓ.

Nome - _____


Data - ____/____/____.

3º ano

Professora - Sheila

8ª Atividade

05)



Qual é o nome dessa figura?

A) BECA

B) PENA

C) RETA

D) TELA

Leia o texto abaixo.

PETER PAN

PETER PAN É UM GAROTO QUE NÃO CRESCE. ELE VIVE EM UM LUGAR MÁGICO CHAMADO TERRA DO NUNCA COM SUA AMIGA, A FADA SININHO.

CERTO DIA, PETER FOI VISITAR WENDY E SEUS IRMÃOS [...]

QUANDO CHEGARAM LÁ, FORAM ATACADOS PELO CAPITÃO GANCHO, MAS CONSEGUIRAM ESCAPAR [...] PETER PAN CONSEGUIU SALVÁ-LOS JOGANDO GANCHO NO MAR QUE ATÉ HOJE, FOGUE DO CROCODILO TIC-TAC [...]

365 Histórias Encantadas para divertir e sonhar. 1ª Edição: Culturama Editora e Distribuidora Ltda.
Fragmento. (SUP020142I7)

06) (P02053017) De acordo com esse texto, quem Peter Pan jogou no mar?

A) A SININHO.

B) A WENDY.

C) O CROCODILO.

D) O GANCHO.

07) (P02053117) Qual é a personagem principal dessa história?

A) CAPITÃO GANCHO.

B) PETER PAN.

C) SININHO.

D) WENDY.

BOLO COMUM

INGREDIENTES

1 XÍCARA DE LEITE 1 COLHER DE SOPA DE FERMENTO EM PÓ 3 XÍCARAS DE FARINHA DE TRIGO 3 XÍCARAS DE AÇÚCAR 3 OVOS

4 COLHERES DE MARGARINA

MODO DE PREPARO

BATER O AÇÚCAR, A MARGARINA E OS OVOS.
DEPOIS ACRESCENTE A FARINHA DE TRIGO, O LEITE E
POR ÚLTIMO O FERMENTO.

UNTE A FORMA COM FARINHA.

ASSE POR MAIS OU MENOS 40 MINUTOS.

Disponível em: <<https://www.tudogostoso.com.br/receita/91534-bolo-comum.html>>. Acesso em: 26 nov. 2020.
(SUP02014617)

08) (P02053517) Esse texto é


A) UM ANÚNCIO.

B) UM CARDÁPIO.

C) UMA LISTA.

D) UMA RECEITA.

09)



Qual é o nome dessa figura?

A) CACHORRO

B)

CAROÇO

C) GAROTO

D)

GARRANCHO

E.M. "Maria Benedita Rodrigues"

Nome - _____

Data - ____/____/____. 3º ano Professora - Sheila
9ª Atividade

Leia o texto abaixo.

Heróis

Há heróis de todos os tipos: os que sobem paredes, os que vivem em cavernas, uns que voam, outros que enjoam.

Há aquele furioso, verde, horroroso. Uma bem feminina, maravilhosa heroína.

Mas nenhum me fascina como o humano comum, herói que luta pelo pão de cada dia na tristeza e na alegria.

NICOLA, José de. *Alfabetário*, p.17. São Paulo, Moderna, 1995.

(SUP03014717) 10) (P03054317) Esse texto é

- A) um conto. B) um poema.
C) uma fábula. D) uma lista.

11) (P031410H6) No trecho "Mas nenhum me fascina...", um sinônimo para a palavra "fascina" é

- A) alerta. B) convence.
C) encanta. D) espanta.

O pirilampo telegrafista

Certa noite, um pirilampo chamado Homero resolveu se comunicar de um jeito diferente:

– Estou cansando de pisca piscar sempre da mesma forma.

Pensou muito, [...] até que, finalmente, teve uma ideia luminosa:

– Vou fazer um curso de telegrafia por correspondência! [...]

Ele acabou ficando craque em pisca piscar pontos e traços. [...]

Na primeira noite, ele encontrou uma linda pirilampa. [...]

Homero achou que essa era uma boa ocasião para mostrar seus talentos de telegrafista. Então, disparou a pisca piscar a mais antiga e bonita de todas as declarações: EU TE AMO.

Homero esperou, esperou, mas não recebeu nenhuma resposta. [...] Ele

queria tanto que a pirilampinha respondesse à sua mensagem de amor!

Mas como, se ela não entendia nada de telegrafar?!

No mínimo a pirilampa achou que ele era maluco! [...]

TELLES, Carlos Queiroz. *O pirilampo telegrafista*. São Paulo, 1992. Fragmento. (SUP03014117)

12) (P03053517) Quando acontece essa história?


A) De madrugada.

B) De manhã.

C) De noite


D) De tarde.

13) **Veja a figura abaixo.**



Qual é a figura que tem o nome com a primeira sílaba (pedaço) igual à do nome da figura que você viu?

A)



B)



C)



D)



Nome - _____

Data - ____/____/____. 3º ano Professora - Sheila
10ª Atividade

Leia o texto abaixo.

O urso e as abelhas

Um urso topou com uma árvore caída que servia de depósito de mel para um enxame de abelhas. Ele começou a farejar o tronco quando uma das abelhas voltou do campo de trevos. Adivinhando o que o urso queria, deu uma picada daquelas nele e depois desapareceu no buraco do tronco. O urso [...] se pôs a arranhar o tronco, com as garras, na esperança de destruir o ninho. A única coisa que conseguiu foi fazer um enxame inteiro sair atrás dele. O urso fugiu a toda velocidade e só se salvou porque mergulhou de cabeça num lago.

Moral: mais vale suportar um só ferimento em silêncio que perder o controle e acabar todo machucado.

Russell Ash e Bernard Higon. *Fábulas de Esopo*. São Paulo: Companhia das Letrinhas, 1994. Aaptado para fins didáticos.
Fragmento.

(SUP03014817)

14) (P03053817) Esse texto serve para

- | | |
|------------------------|------------------------------|
| A) dar um ensinamento. | B) dar uma notícia. |
| C) divertir o leitor. | D) ensinar sobre os animais. |

Hoje é 1º de maio!

Hoje é dia da festa do lírio-do-vale e de todos os trabalhadores. Nessa data, até os animais descansam e fazem o que lhes agrada.

–Eu quero tomar um banho de espuma – declarou Fabi, a girafa.

–Eu quero andar de patins com rodinhas – prosseguiu Guga, a tartaruga.

Zizi, a lesma, gostaria de tocar violino, e Tico, o ouriço, preferia pilotar um avião. Alecrim, o coelho, queria ser farmacêutico.

–Eu acho que vou colher um grande buquê de lírios-do-vale para a mamãe – disse Hortência, a cachorra. – Quem vai comigo até o bosque?

–Eu – gritou Fabi, que saía de seu banho de espuma.

Guga chegou bem depressa em seus patins. Tico transportou Zizi em seu avião. Alecrim não tinha mais vontade de ser farmacêutico.

Todos seguiram Hortência, que levou para sua mamãe magníficos lírios-do-vale, cujas pequenas flores eram celebradas alegremente.

AMELIN, M. et al. *365 Histórias para Sonhar*. Ciranda Cultural, 2016, p. 69. (SUP03014317)

15) (P030539I7) Nesse texto, Hortência demonstrou ser

A) gentil.

B) talentosa.

C) vaidosa.

D) veloz.

Leia o texto abaixo.

A gratidão

Era uma vez uma árvore que vivia solitária numa planície.

Um dia, chegou um pássaro [...] e ela deixou que fizesse o ninho no seu tronco.

Mais tarde chegou um bando de avezinhas que precisava descansar. Embora a deixassem toda despenteada [...], a árvore acolheu-as.

Pouco tempo depois, passou por ali um grupo de abelhas. Custou-lhes deixar que elas levassem gratuitamente o seu néctar precioso, mas não as impediu.

Mais tarde, vieram dois lenhadores. Montaram uma tenda e com o machado preparavam-se para cortar a árvore. Mas, de repente, apareceram as abelhas com a ameaça que, se cortassem a árvore, os picariam.

Também o pássaro carpinteiro, com o seu bico, estragou o cabo do machado. E o bando de passarinhos entrou na tenda e levou-a pelos ares.

Os lenhadores desistiram da ideia de fazer mal à árvore.

Disponível em: <<http://www.historias-infantis.com/a-gratidao/>>. Acesso em: 13 ago. 2015. (P030466G5_SUP)

16) (P030469G5) A personagem principal dessa história é

A) a abelha.

B) a árvore.

C) o lenhador.

D) o pássaro.

Um código que veio para quebrar barras

Se você for até sua geladeira, ou ao armário do banheiro, ou de limpeza, e der uma olhada em um produto, (qualquer um!) vai perceber que em algum lugar da embalagem existe uma etiqueta, normalmente branca, com uma série de barrinhas pretas paralelas, de diferentes espessuras (umas são mais grossas, outras menos).

Esse é o código de barras do produto. Quase tudo que se pode comprar em farmácias, supermercados, lojas de departamentos, e até livrarias, tem um código de barras em algum lugar. Com certeza você já deve ter visto esses códigos e se perguntado o que eles significam e como funcionam... É ou não é?

Disponível em: <<http://www.canalkids.com.br/tecnologia/invencoes/codigo.htm>>. Acesso em: 22 nov. 2014.
(P030385ES_SUP)

17) (P030385ES) Qual é o assunto do texto?

- A) As embalagens.
- B) As geladeiras.
- C) Os códigos de barras.
- D) Os tipos de etiquetas.

18) (P030351ES) **Faça um X na frase que está escrita corretamente.**

- A) OURSOGOSTA DE MEL.
- B) O URSO GOSTADEMEL.
- B) OURSO GOSTA DE MEL.
- D) O URSO GOSTA DE MEL.

Leia o texto abaixo.



Disponível em: <<https://bit.ly/2XedL2y>>. Acesso em: 31 jul. 2020. (SUP01004117)

19) (P010573H6) No trecho “Tá muito **curto!**”, o antônimo para a palavra “curto” é

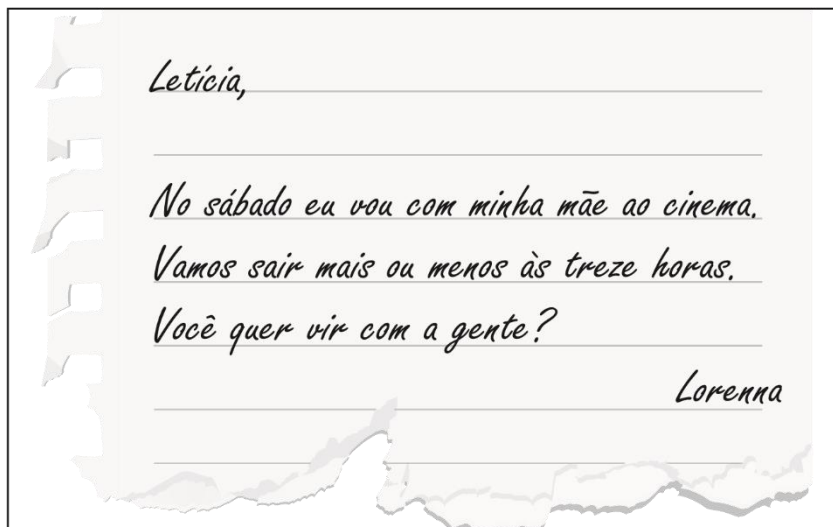
- A) bonito.
- B) comprido.
- C) moderno.
- D) velho.

E.M. "Maria Benedita Rodrigues"

Nome - _____

Data - ____/____/____. 3º ano
11ª Atividade

Professora - Sheila



Disponível em: <<http://www.ensinandocomcarinho.com.br/2019/03/cartazes-ludicos-dos-generos-textuais.html>>. Acesso em: 6 maio 2020.(SUP02009717)

20) (P02043017) Esse texto é

- A) um anúncio. B) um bilhete.
C) uma lista. D) uma receita.

Leia o texto abaixo.

NO TERREIRO

A GALINHA BOTA OVO E
LANÇA NA VIDA O NOVO.

O GALO SOLTA O SOM SÓ
PRA ANUNCIAR O SOL.

O MARRECO, COM SEU ECO,
MAIS PARECE UM RECO-RECO.

O PATO NADA QUE NADA
POR TUDO E POR NADA.

JÁ DEU AVISO O PAVÃO:
– NÃO ABRO MEU LEQUE EM VÃO!

JÁ O CISNE TODO FACEIRO
NÃO ACEITA QUALQUER TERREIRO.

21) Nesse texto, as palavras que rimam são

A) cisne – faceiro.

B) pato – nada.

C) pavão – eco.

D) pavão – vão.

LEIA O TEXTO

Mamãe, fui brincar na casa da Lorena com a Bianca e a Melissa. Na hora do almoço vou para a casa de vovó para passear com os cachorrinhos dela, Totó e Caju.

Avise a Amália, nossa vizinha, que só volto à noite. Ela quer minhas bonecas emprestadas, mas estarei com elas o dia inteiro.

Beijos, Júlia.

22) (P02046717) De acordo com esse texto, quem quer as bonecas emprestadas?

A) Amália.

B) Bianca.

C) Lorena.

D) Melissa.

NOME: _____

PROFESSOR (A): _____



TURMA: _____

ESCOLA: _____

3^a ano C

MINHAS ATIVIDADES


Assista as videoaulas
que poste no nosso
grupo do WhatsApp.
Professora Sheila



1^a Bloco de atividades
de 2^a bimestre.
São referentes aos dias
19/04 até 10/05.

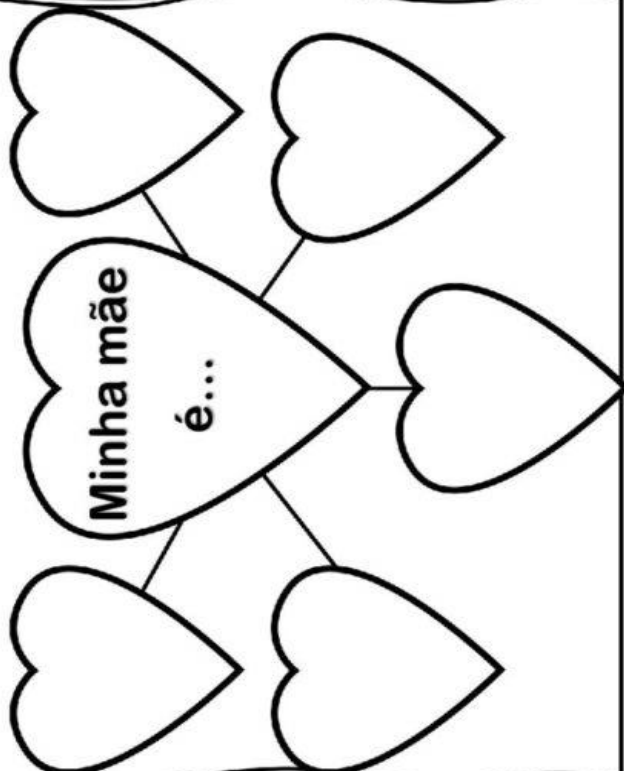
Capriche!!!

MINHA MÃE



@Atividades Suzano

Minha mãe
é...



@Atividades Suzano

PESQUISA COM A MAMÃE:


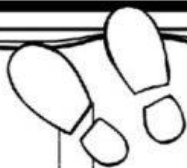
NOME DA MAMÃE:

A COR QUE ELA MAIS GOSTA

É:

O QUE EU MAIS GOSTO DE FAZER COM
ELA É:


SUA COR PREFERIDA É:



@Atividades Suzano


Minha mãe é assim:

Desenho:



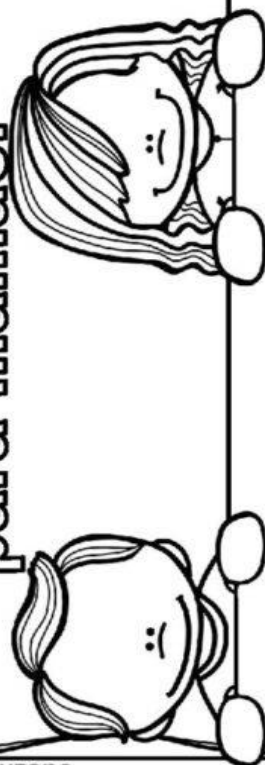
@Atividades Suzano

2º domingo de
maio dia das
mães!



@Atividades Suzano

Deixe um recadinho
para mamãe!



@Atividades Suzano

E.M. "Maria Benedita Rodrigues"

Nome - _____

Data - ____/____/____. 3º ano Professora - Sheila
1ª Atividade

LINK – DIA DO LIVRO

<https://www.liveworksheets.com/3-zz74507nm>

E.M. "Maria Benedita Rodrigues"

Nome - _____

Data - ____/____/____. 3º ano Professora - Sheila
14ª e 15ª Atividade

LINK - DIA DO INDIO

<https://youtu.be/mHHX7rF2Dxc>

<https://youtu.be/lyOljbi1Yll>

Escolha uma das brincadeiras indígenas, grave um vídeo me contando como se brinca e se possível mostre como é na prática.

<https://youtu.be/ZXrrwpaJnds>