

E. M. PREFEITO SEME ISSA

E.M. PREFEITO SEME ISSA

Aluno(a): _____

Ano: 2ºB

Bairro: _____

Professor(a): Janile

Fone: (11) 99573-6338

4ª APOSTILA 2021

**Logo vamos dizer:
Não foi fácil, mas
CONSEGUIMOS!**



Crianças não desanimem, continuem dando o melhor de vocês. Estamos muito orgulhosos pelas atividades que estão realizando. Agradecemos de coração a dedicação de cada um de vocês e de seus familiares....

**Um grande abraço
Professor(a): Janile**

- A apostila é referente aos dias 19,20,22,23,26,27,28,29,30 de abril, 03,04,05,06,07 e 10 de maio.
- **Esta APOSTILA deverá ser devolvida para correção no dia 11/05 (TERÇA-FEIRA), preferencialmente no período em que o aluno está matriculado.**
- **HORÁRIO DE FUNCIONAMENTO DA ESCOLA: 08h00 às 16h00**

**Atenciosamente
Equipe E.M “Prefeito Seme Issa”**

“DIA DO ÍNDIO”

(Música A Canoa Virou)

(Rosa Maria Stábile - Livro Expressão Artística na pré-escola - FAE)

**ELE MORA NUMA TRIBO
CONTENTE E FELIZ
CAÇANDO E PESCANDO
E COMENDO RAIZ**

**O SOL É O GUARACI
A LUA É JACI
E A LÍNGUA QUE ELE FALA
É O TUPI-GUARANI**

**FOI ELE O PRIMEIRO
HABITANTE DO BRASIL
SALVE O DIA DO ÍNDIO
19 DE ABRIL.**



- Marcar com um X:

a) Onde o índio mora?

cidade

tribo

campo

b) O que ele faz?

pesca

queima a floresta

caça

c) O que ele come?

pizza

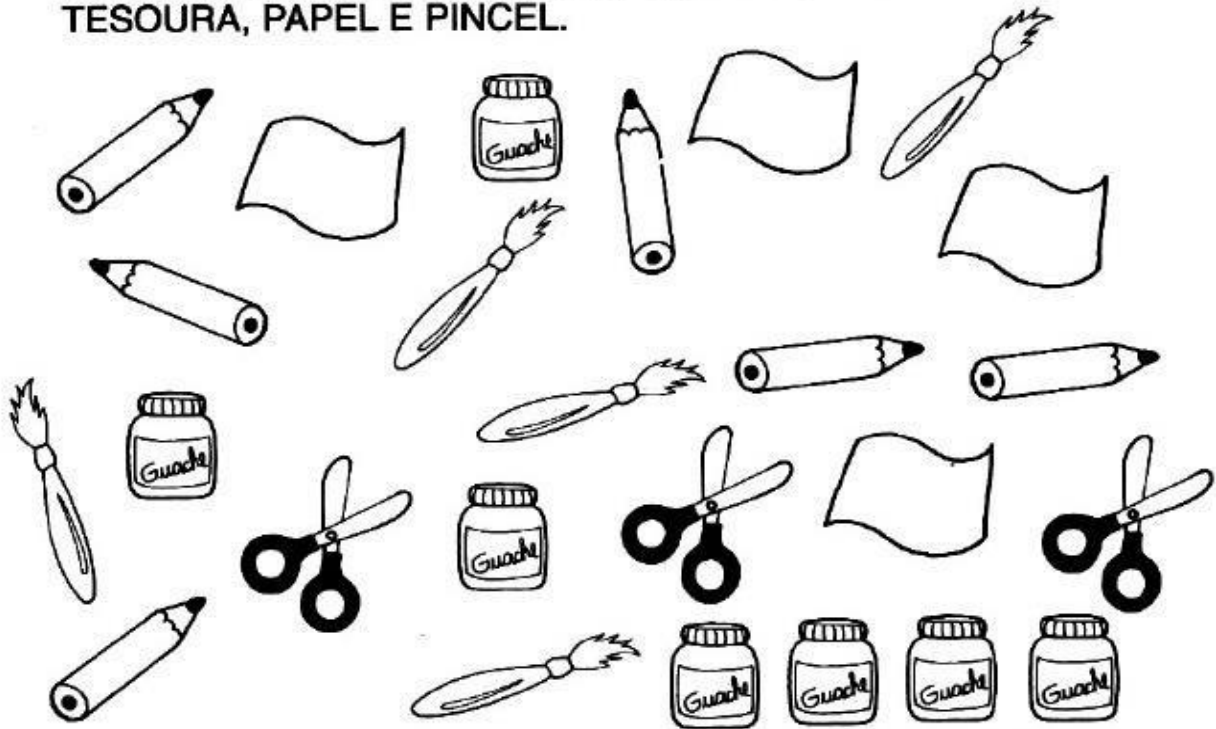
peixe

raiz






NOME: _____

DATA: 19/04/2021

- PARECE QUE O ARTISTA DEIXOU SEUS OBJETOS ESPALHADOS PELO ATELIÊ: LÁPIS, VIDROS DE TINTA, TESOURA, PAPEL E PINCEL.

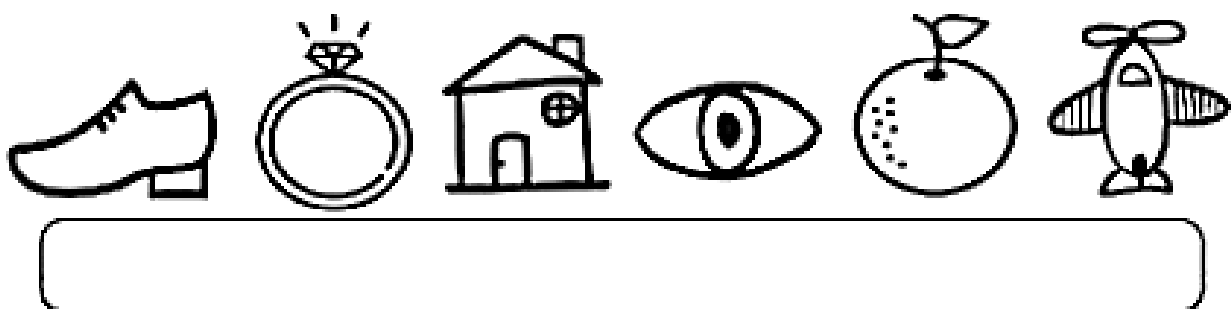




- PINTE OS QUADRINHOS DE ACORDO COM A QUANTIDADE DE CADA OBJETO:

DESCUBRA O ENIGMA

1- ESCREVA A LETRA INICIAL DOS NOMES DE CADA DESENHO E LEIA PALAVRA FORMADA.



E. M. PREFEITO SEME ISSA

PROFESSORA: JANILE









2º B

NOME: _____

DATA: 20/04/2021

PERCURSO MALUCO

COMPLETE O PERCURSO EM ORDEM DECRESCENTE E AJUDE O MENINO A ENCONTRAR SUA BOLA.



O POVO INDÍGENA

O DIA DO



_____ É COMEMORADO EM 19 DE ABRIL.

A CASA DOS ÍNDIOS É



ELES VIVEM REUNIDOS EM UMA COMUNIDADE CHAMADA


QUE É LIDERADA PELO



PARA CAÇAR, USAMO



E A



SEU MEIO DE TRANSPORTE É A



GOSTAM DE SE ENFEITAR USANDO O



_____ E PINTANDO O CORPO.

ELES AMAM A NATUREZA E NELA TUDO É RESPEITADO E CONSERVADO.

OS POVOS INDÍGENAS FORAM OS PRIMEIROS HABITANTES DO BRASIL E CONTRIBUÍRAM MUITO PARA A FORMAÇÃO DA CULTURA BRASILEIRA.

E. M. PREFEITO SEME ISSA

PROFESSORA: JANILE

2º B

NOME: _____

DATA: 22/04/2021

ORGANIZE OS NÚMEROS ABAIXO EM ORDEM CRESCENTE:

100	50	80	20	30	40	60	90	30	10
-----	----	----	----	----	----	----	----	----	----

--	--	--	--	--	--	--	--	--	--

EM CADA GRUPO, CIRCULE O MAIOR NÚMERO E DEPOIS ESCREVA SEU NOME POR EXTENSO:

A

28 - 44 - 54 - 12 - 22

B

19 - 73 - 68 - 22 - 72

OBSERVE AS FIGURAS E ESCREVA O NÚMERO CORRESPONDENTE NO NOME CORRETO



- CÍRCULO
- QUADRADO
- RETÂNGULO
- TRIÂNGULO





EMÍLIA

EMÍLIA É UMA DAS PERSONAGENS CRIADA POR MONTEIRO LOBATO. ELA É UMA BONECA DE PANO MUITO SAPECA, TAGARELA E PERTENCE À NARIZINHO, MAS ESSA É UMA OUTRA PERSONAGEM...



1. ESCREVA NO QUADRO AS VOGAIS QUE APARECEM NO NOME EMÍLIA.



2. DE ACORDO COM O TEXTO A EMÍLIA É ...

() UMA MÁQUINA

() UMA BONECA

() UM CARRO

3. VOCÊ SABE O QUE SIGNIFICA A PALAVRA TAGARELA?

4. COMPLETE A FRASE ...

EMÍLIA É UMA BONECA DE _____

E. M. PREFEITO SEME ISSA


PROFESSORA: JANILE

2º B

NOME: _____

DATA: 23/04/2021

COMPLETE CADA QUADRINHO COM O NÚMERO QUE ESTÁ FALTANDO

___ 22	35 ___	24 ___	15 ___	37 ___
12 ___	25 ___	4 ___	31 ___	44 ___
___ 32	___ 11	40 ___	36 ___	49 ___
___ 6				___ 10
26 ___				18 ___
___ 53				37 ___
2 ___				30 ___
19 ___				___ 19
___ 10	32 ___	48 ___	___ 41	___ 20
___ 34	___ 26	___ 46	46 ___	___ 22
___ 4	___ 47	34 ___	___ 25	17 ___

E. M. PREFEITO SEME ISSA

PROFESSORA: JANILE

2º B

NOME: _____

DATA: 26/04/2021

HISTÓRIA

LIGUE CADA PESSOA AO NOME DA FASE EM QUE ESTÁ VIVENDO.



NASCIMENTO



INFÂNCIA



ADOLESCÊNCIA



FASE ADULTA



VELHICE

E. M. PREFEITO SEME ISSA

PROFESSORA: JANILE

2º B

NOME: _____

DATA: 26/04/2021

NA TRILHA COM OS NÚMEROS ÍMPARES

AGORA, COMPLETE A TRILHA USANDO APENAS OS NÚMEROS ÍMPARES.

1 7 15

33 21

41 53 59


73 65

87 99

NOME: _____

DATA: 27/04/2021

OBSERVE AS DUAS IMAGENS. DEPOIS, LEIA AS INFORMAÇÕES E CLASSIFIQUE-AS EM 1 OU 2, DE ACORDO COM A IMAGEM A QUE SE REFEREM.




















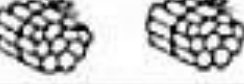


AS CRIANÇAS ESTÃO SÓ CANTANDO.	1	2
ELES ESTÃO NA SALA DE AULA.	1	2
UMA MENINA ESTÁ LENDO.	1	2
A MENINA DO MEIO USA VESTIDO.	1	2
HÁ ALGUNS LIVROS NA SALA DE AULA.	1	2
PODEMOS VER APENAS TRÊS CRIANÇAS.	1	2
AS MOCHILAS ESTÃO PENDURADAS.	1	2
A ÚNICA MENINA DO DESENHO ESTÁ COM O CABELO PRESO.	1	2
ALGUMAS CRIANÇAS ESTÃO DESENHANDO.	1	2
HÁ MESAS NO DESENHO.	1	2

AMARRADINHO DAS DEZENAS




1) Continue:

	1		11
			
			
			
			
			
			
			
			
			

NOME: _____

DATA: 28/04/2021

1. NUMERE AS FIGURAS ABAIXO DE 1 ATÉ 12. DEPOIS PINTE OS DESENHOS.




1. AGORA, DE ACORDO COM OS NÚMEROS USADOS NOS DESENHOS, ESCREVA OS NOMES DOS MESMOS NOS ESPAÇOS CORRESPONDENTES. CASO PRECISE USE O BANCO DE DADOS PARA ESCREVER CORRETAMENTE O NOME DAS FIGURAS

- | | |
|----------|-----------|
| 1. _____ | 7. _____ |
| 2. _____ | 8. _____ |
| 3. _____ | 9. _____ |
| 4. _____ | 10. _____ |
| 5. _____ | 11. _____ |
| 6. _____ | 12. _____ |

PEIXE - SANDUÍCHE - PERA - BOLO - SORVETE - OVO - BANANA QUEIJO - FRANGO - CARNE - UVAS - BALA

MOSAICO DA ADIÇÃO

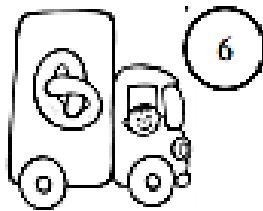

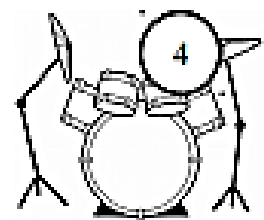
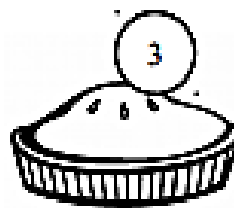
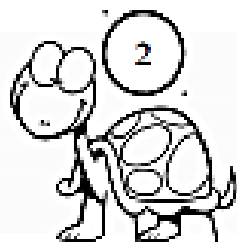
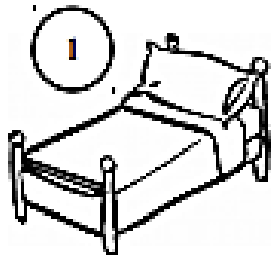
VAMOS COMPLETAR O MOSAICO, RESOLVENDO AS ADIÇÕES.



NOME: _____

DATA: 29/04/2021

ESCREVA O NOME DAS PALAVRAS E, EM SEGUIDA ESCREVA FRASES
PARA ELAS, RESPEITANDO O NÚMERO CORRESPONDENTE.



1. _____
2. _____
3. _____
4. _____
5. _____
6. _____
7. _____
8. _____

E. M. PREFEITO SEME ISSA

PROFESSORA: JANILE

2º B

NOME: _____

DATA: 29/04/2021

MATEMÁTICA

1. CALENDÁRIO DO MÊS DE ABRIL:

DOMINGO	SEGUNDA	TERÇA	QUARTA	QUINTA	SEXTA	SÁBADO
				1	2	3
4	5	6	7	8	9	10
11	12	13	14	15	16	17
18	19	20	21	22	23	24
25	26	27	28	29	30	

2. RESPONDA AS QUESTÕES:

1. QUANTOS DIAS TEM O MÊS DE ABRIL? _____

2. QUANTOS SÃO OS DOMINGOS? _____

3. E AS QUARTAS - FEIRAS? _____

4. HÁ ALGUM FERIADO? QUAL? _____

5. EM QUE DIA DA SEMANA COMEÇA O MÊS? _____

6. EM QUE DIA SEMANA TERMINA O MÊS? _____

E. M. PREFEITO SEME ISSA

PROFESSORA: JANILE

2º B

NOME: _____

DATA: 30/04/2021

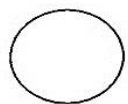

DIA DO TRABALHO – 1º DE MAIO



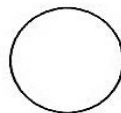
**HÁ DIVERSAS PROFISSÕES,
TODAS TÊM O SEU VALOR
O TRABALHO RENDE MUITO,
QUANDO É FEITO COM AMOR.**

NOME: _____


OBSERVE AS PROFISSÕES ABAIXO, NUMERE CONFORME OS OBJETOS QUE TEM A VER COM O SEU TRABALHO:



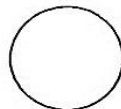

TESOURA



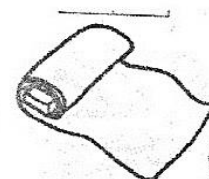
TAÇA



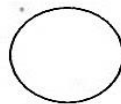

CADERNO



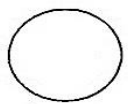
TECIDO



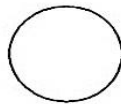
LINHA



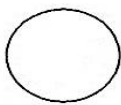
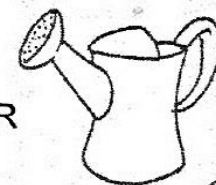
CANETA



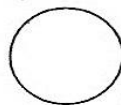
SORVETE




REGADOR



RASTEL



ROUPAS



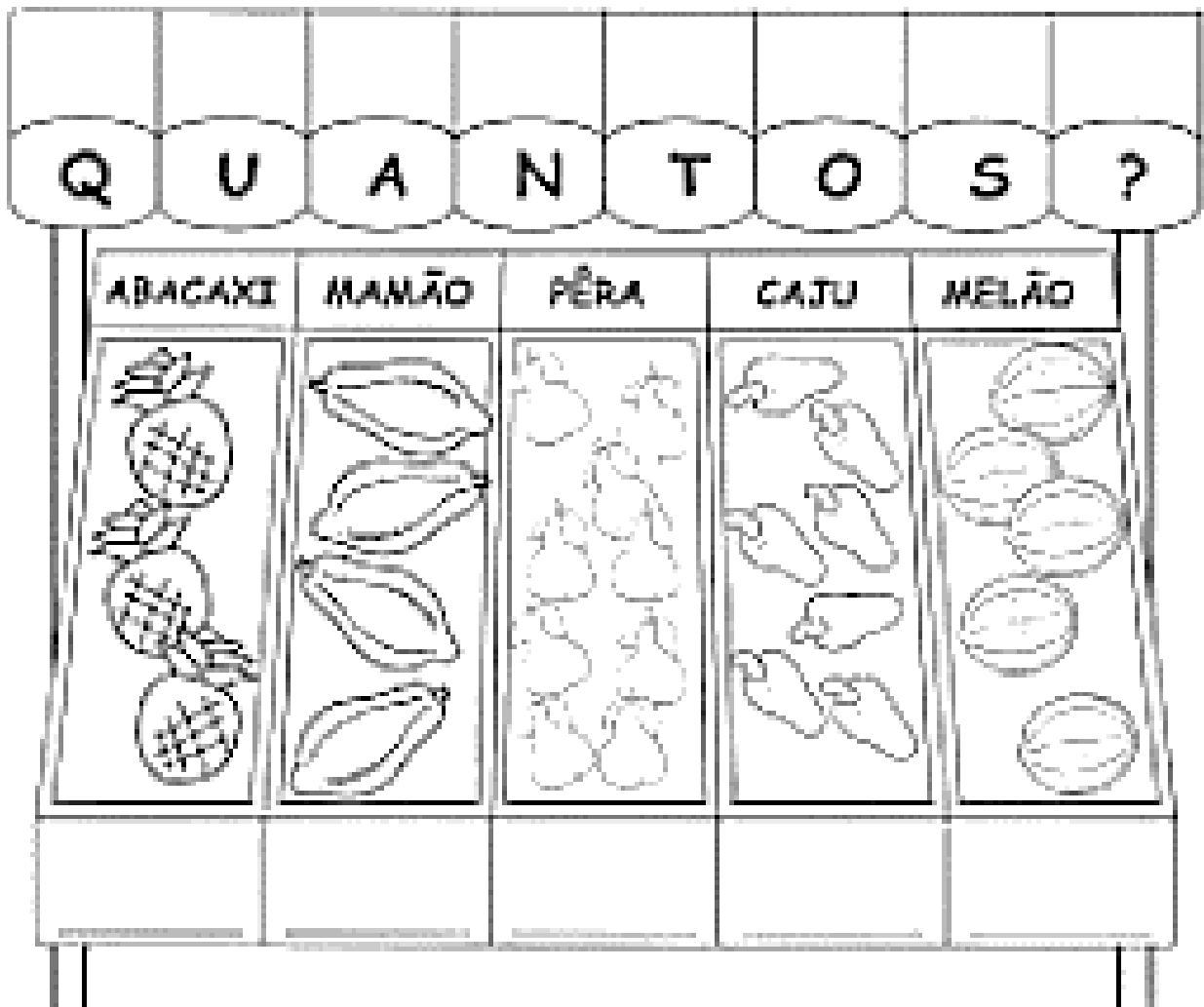
E. M. PREFEITO SEME ISSA

PROFESSORA: JANILE

2º B

NOME: _____

DATA: 30/04/2021



ABACAXI + CAJU = _____

MELÃO + MAMÃO = _____

PÊRA + ABACAXI = _____

MAMÃO + PÊRA = _____

CAJU + MELÃO = _____

ABACAXI + MELÃO = _____

E. M. PREFEITO SEME ISSA

PROFESSORA: JANILE

2º B

NOME: _____

DATA: 03/05/2021

LÍNGUA PORTUGUESA

1. ENCONTRE O NOME DAS PALAVRAS NO CAÇA-PALAVRAS. PINTE CADA CÍRCULO DE UMA COR E QUANDO ENCONTRAR A PALAVRA, PINTE-A DA MESMA COR USADA NO CÍRCULO PARA ELA:

<input type="radio"/>	FRANGO	<input type="radio"/>	CENOURA	<input type="radio"/>	MACARRÃO
<input type="radio"/>	ARROZ	<input type="radio"/>	BATATA	<input type="radio"/>	FEIJÃO
<input type="radio"/>	ESPINAFRE	<input type="radio"/>	ABACAXI	<input type="radio"/>	CARNE

C	O	L	C	G	L	F	D	O	R	A	S	T	G	V	J	O	S	E	E
V	H	N	K	A	R	E	V	E	S	P	O	B	D	G	N	Y	V	S	D
X	D	A	E	T	F	I	H	H	U	K	M	B	O	P	Ç	N	P	D	E
A	E	A	S	O	V	J	L	I	V	I	O	V	R	D	M	I	U	V	X
L	U	I	U	E	O	A	K	P	H	B	U	Y	T	V	N	H	O	C	O
I	R	Z	E	X	E	O	H	O	K	U	I	B	V	A	E	X	I	E	P
H	E	O	O	T	I	U	Q	I	R	E	P	K	F	G	R	D	L	A	S
C	A	R	D	G	J	U	T	O	V	J	O	R	P	I	N	H	I	B	T
N	E	R	C	O	S	S	A	T	T	I	E	U	A	N	A	L	H	V	R
F	R	A	N	G	O	I	L	A	J	Y	B	E	R	S	Q	X	C	N	Z
H	D	E	O	L	N	B	U	M	M	N	A	H	C	A	R	R	O	B	D
C	Y	V	R	E	P	E	M	A	C	A	R	R	A	O	S	E	B	V	T
E	P	A	S	S	A	R	I	N	H	O	K	U	O	I	E	R	R	Y	U
L	E	S	P	O	U	K	Y	A	B	U	Y	N	R	C	S	D	A	G	B
E	R	D	E	S	X	V	H	N	I	O	L	P	V	E	A	Z	S	R	T
A	T	A	T	A	B	U	K	O	L	E	R	T	O	N	G	I	P	O	I
O	V	G	H	N	V	T	H	E	S	I	P	R	L	O	U	C	R	T	G
E	E	S	D	C	R	O	C	O	D	I	R	O	C	U	R	U	I	O	M
L	B	U	I	A	P	O	N	T	A	O	O	R	C	R	A	E	V	T	Y

MERCADINHO

PROMOÇÃO
HIGIENE

R\$ 1,00

R\$ 3,00

R\$ 3,00

R\$ 2,00

R\$ 4,00

CAROLINE COMPROU DOIS
PRODUTOS DIFERENTES E
PAGOU COM



SEM RECEBER TROCO.

QUAIS PRODUTOS ELA
COMPROU?



GABRIEL COMPROU DOIS
PRODUTOS DIFERENTES E
PAGOU COM



SEM RECEBER TROCO.

QUAIS PRODUTOS ELE
COMPROU?



E. M. PREFEITO SEME ISSA

PROFESSORA: JANILE






2º B

NOME: _____

DATA: 04/05/2021

PORTUGUÊS

OBSERVE E PINTE AS LETRAS QUE CORRESPONDEM A FIGURA, DEPOIS ESCREVA CORRETAMENTE A PALAVRA.

FIGURA	COLORIR AS LETRAS QUE FORMAM A PALAVRA	ESCREVER A PALAVRA
	P O E I B E X	_____
	O U K J R E S	_____
	O L O D R P V	_____
	E Z S M A W E	_____
	O F O A G P C	_____

E. M. PREFEITO SEME ISSA

PROFESSORA: JANILE

2º B

NOME: _____

DATA: 04/05/2021



NA LOJA PERTO DA CASA DA MÔNICA, VENDE MÁSCARAS DE PROTEÇÃO. VEJA OS PREÇOS NA TABELA E RESPONDA AS PERGUNTAS A SEGUIR.

TABELA DE PREÇOS

 MÁSCARA DA MÔNICA	
 MÁSCARA DO BIDU	
 MÁSCARA DO CEBOLINHA	

A) QUAL A MÁSCARA DE MAIOR VALOR?

RESPOSTA: _____

B) QUAL A MÁSCARA DE MENOR VALOR?

RESPOSTA: _____

C) A MÔNICA COMPROU UMA MÁSCARA DO CEBOLINHA E UMA MÁSCARA DO BIDU. QUAL O VALOR QUE IRÁ PAGAR NA COMPRA DAS MÁSCARAS? MARQUE COM UM (X) A RESPOSTA CORRETA.

() R\$9,00

() R\$ 5,00

() R\$10,00

E. M. PREFEITO SEME ISSA

PROFESSORA: JANILE

2º B

NOME: _____

DATA: 05/05/2021

COMPLETE COM O NOME DOS SEGUINTES INSTRUMENTOS DE MEDIDA:

1

2

3

4

5

SMARTKIDS

The crossword puzzle grid consists of a central vertical column of 10 squares. A horizontal row of 5 squares intersects the 3rd square from the top of the vertical column. Another horizontal row of 7 squares intersects the 5th square from the top of the vertical column. A horizontal row of 6 squares intersects the 8th square from the top of the vertical column. A horizontal row of 5 squares intersects the 10th (bottom) square of the vertical column. The clues are: 1. A vertical thermometer (3 squares). 2. A horizontal ruler (5 squares). 3. A circular stopwatch (5 squares). 4. A platform scale (7 squares). 5. A cup (6 squares). The text 'SMARTKIDS' is printed at the bottom of the grid.

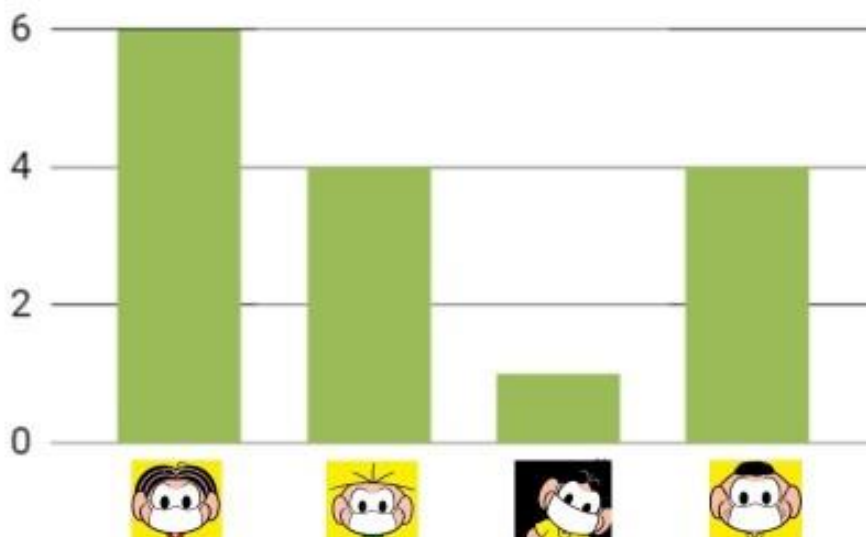
NOME: _____

DATA: 05/05/2021



FOI FEITA UMA PESQUISA COM A TURMINHA DO 2º ANO SOBRE A PREFERÊNCIA DE MÁSCARA DE ALGUNS PERSONAGENS DA TURMA DA MÔNICA. OBSERVE O GRÁFICO ABAIXO E RESPONDA AS PERGUNTAS A SEGUIR.

GRÁFICO



A) QUAL PERSONAGEM FOI MAIS VOTADO?

RESPOSTA: _____

B) QUAL PERSONAGEM FOI MENOS VOTADO?

RESPOSTA: _____

C) QUAIS PERSONAGENS TIVERAM A MESMA QUANTIDADE DE VOTOS?

RESPOSTA: _____

D) QUAL A DIFERENÇA ENTRE OS VOTOS DA MÔNICA E DO CEBOLINHA?

RESPOSTA: _____

E. M. PREFEITO SEME ISSA

PROFESSORA: JANILE

2º B











NOME: _____

DATA: 06/05/2021

CIÊNCIAS

1. ESCREVA OS NOMES DAS FIGURAS ABAIXO NOS QUADROS DE ACORDO COM O QUE SE PEDE:

SERES VIVOS	SERES NÃO VIVOS

HIGIENE

LIGUE OS PRODUTOS DE HIGIENE ÀS PARTES DO CORPO ONDE DEVEM SER USADOS.



MARQUE AS ALTERNATIVAS CORRETAS.

ESTES SÃO HÁBITOS QUE CONTRIBUEM PARA UMA BOA SAÚDE:

- () TOMAR BANHO TODOS OS DIAS.
- () USAR O MESMO FIO DENTAL QUE O COLEGA USOU.
- () LIMPAR AS UNHAS TODOS OS DIAS.
- () ESCOVAR OS DENTES UMA VEZ POR SEMANA.
- () MANTER OS CABELOS LIMPOS.
- () ESCOVAR OS DENTES DE MANHÃ E APÓS AS REFEIÇÕES.

E. M. PREFEITO SEME ISSA

PROFESSORA: JANILE

2º B

NOME: _____

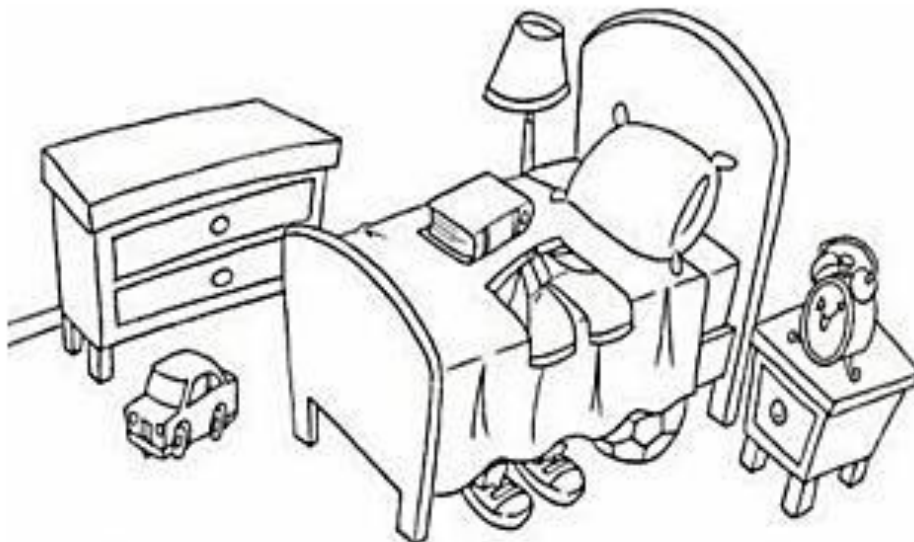
DATA: 07/05/2021

GEOGRAFIA

OBSERVE A FILA ABAIXO. A SEGUIR, CIRCULE DE VERMELHO A SEGUNDA CRIANÇA DA FILA E CIRCULE DE AZUL A ÚLTIMA CRIANÇA DA FILA.



OBSERVE A CENA E COMPLETE AS FRASES USANDO EM CIMA OU EMBAIXO:



- A) O TÊNIS ESTÁ _____ DA CAMA.
B) A BERMUDA ESTÁ _____ DA CAMA.
C) O LIVRO ESTÁ _____ DA CAMA.
D) A BOLA ESTÁ _____ DA CAMA.

EDUCAÇÃO FÍSICA

OS BENEFÍCIOS PARA ESSE TIPO E ATIVIDADE SÃO:

MELHORA A FLEXIBILIDADE, A POSTURA, A SAÚDE DOS OSSOS, A CORRENTE SANGUÍNEA, O EQUILÍBRIO FÍSICO E MENTAL, DIMINUI AS DORES NAS ARTICULAÇÕES, ALÉM DE MUITOS OUTROS BENEFÍCIOS.

FAÇAM ESSES EXERCÍCIOS PELO MENOS UMA VEZ AO DIA.



E. M. PREFEITO SEME ISSA

PROFESSORA: JANILE

2º B

NOME: _____

DATA: 10/05/2021

MAMÃE, MINHA RAINHA!

MINHA MÃEZINHA

ISABEL CRISTINA S. SOARES

MAMÃE MINHA RAINHA
DE MIM, VIVE A CUIDAR,
PARECE UMA ABELHINHA
ESTÁ SEMPRE A TRABALHAR!

DE MANHÃ, JÁ BEM CEDINHO
COM ELA POSSO CONTAR,
ACORDA-ME LIGEIRINHO
NA HORA DE ESTUDAR!

NO CAMINHO DA ESCOLA
FICO SEMPRE A PENSAR,
COMO É BOM SER FILHINHO
E TER UMA MÃEZINHA PARA AMAR!

- O POEMA TEM _____ ESTROFES.

- CIRCULE OS PARES DE RIMAS USANDO
CORES DIFERENTES PARA CADA PAR.



NOME: _____

CONTEXTUALIZANDO: DIA DAS MÃES



MÃE É UMA JÓIA
QUE BRILHA MAIS
QUE DIAMANTE!

CIRCULE AS VOGAIS DO TEXTO.

COMPLETE AS QUALIDADES DAS MÃES COM AS VOGAIS:

B ___ L ___

AM ___ G ___

AM ___ R ___ S ___

D ___ C ___

T ___ RN ___

G ___ NT ___ L

C ___ R ___ NH ___ S ___

E. M. PREFEITO SEME ISSA

PROFESSORA: JANILE

2º B

NOME: _____

DATA:

10/05/2021

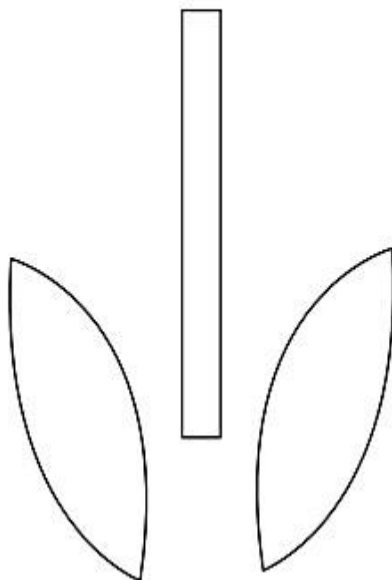

ARTES

Colorir e recortar os moldes abaixo.

Em seguida dobre todas as partes de cima da flor ao meio e depois vá colando um no outro, como mostram as imagens.

Por fim é só colar o caule e as folhas que você também cortou com a ajuda do molde e pronto.

Para fazer a base do cartão é só usar uma folha colorida dobrada ao meio ou um pedaço de cartolina, também dobrado ao meio.



E. M. PREFEITO SEME ISSA

PROFESSORA: JANILE

2º B

NOME: _____

Fontes de consulta para a elaboração da 4ª apostila – 2º ano B

Profª Janile

- ✓ Printrest
- ✓ [http:// www.smartkids.com.br](http://www.smartkids.com.br)
- ✓ <https://atividadesparaprofessores.com.br/atividades-2o-ano>
- ✓ <https://escolaeducacao.com.br/>
- ✓ <https://www.soescola.com>
- ✓ <https://educacaoetransformacaooficial.blogspot.com/>