

E M Alexandre Vannhuchi Leme
Caderno de Atividades



Professora Milena Godinho da Silva

2º termo EJA

4ª apostila referente 19/04 a 10/15

Retorno dia 11/05

LÍNGUA PORTUGUESA

AS LETRAS, OS NÚMEROS E DIVERSOS OUTROS SÍMBOLOS FAZEM PARTE DO NOSSO COTIDIANO. ELES ESTÃO EM DIVERSOS **PORTADORES DE TEXTOS** ESPALHADOS PELO MUNDO.

1. OBSERVE ABAIXO ALGUNS **PORTADORES DE TEXTOS** QUE ESTÃO SEMPRE PRESENTES EM NOSSO MEIO. EM SEGUIDA MARQUE UM (X) NA OPÇÃO QUE MELHOR DEFINE A IMAGEM QUE VOCÊ ESTÁ VENDO:

 <p>() CONTA DE ÁGUA. () CONTA DE LUZ.</p>	 <p>() ENCARTE DE LOJA. () REVISTA.</p>	 <p>() PLACAS. () PANFLETOS.</p>
---	--	---





2. OBSERVE A IMAGEM ABAIXO.



MARQUE UM (x) NOS GÊNEROS DE TEXTOS QUE VOCÊ PODE ENCONTRAR EM UM JORNAL:

- () NOTÍCIAS. () PROPAGANDAS
() A FATURA DO SEU CARTÃO.
() REPORTAGENS. () ANÚNCIOS.

3. MARQUE UM (X) NA IMAGEM QUE APRESENTA SOMENTE LETRAS.

 <p>()</p>	 <p>()</p>	 <p>()</p>	 <p>()</p>
--	--	---	--

“DIA DO ÍNDIO”

(Música A Canoa Virou)

(Rosa Maria Stábile - Livro Expressão Artística na pré-escola - FAE)

**ELE MORA NUMA TRIBO
CONTENTE E FELIZ
CAÇANDO E PESCANDO
E COMENDO RAÍZ**

**O SOL É O GUARACI
A LUA É JACI
E A LÍNGUA QUE ELE FALA
É O TUPI-GUARANI**

**FOI ELE O PRIMEIRO
HABITANTE DO BRASIL
SALVE O DIA DO ÍNDIO
19 DE ABRIL.**



- Marcar com um X:

a) Onde o índio mora?

cidade tribo campo

b) O que ele faz?

pesca queima a floresta caça

c) O que ele come?

pizza peixe raíz

Vamos conhecer um pouco da história da Nossa Terra !!! **Leia as informações** a seguir:


ALUNO(A):..... DATA:...../...../.....



► Leia:

História é...

- A ciência que estuda fatos significativos já acontecidos com a Humanidade.



- No ano de 1500, D. Manuel, rei de Portugal, preparou uma esquadra (navios), para ser comandada por Pedro Álvares Cabral, com o objetivo de fazer uma viagem às terras distantes das Índias.

No dia 22 de abril de 1500:

- A esquadra chegou à nossa terra.
- Avistaram um monte e deram-lhe o nome de Monte Pascoal (era Páscoa).
- O Monte Pascoal fica no litoral sul do atual Estado da Bahia.

Aqui os portugueses encontraram:

- Pessoas que aqui viviam receberam o nome de índios.
- Nomes dados à nova terra:
 - Ilha de Vera Cruz
 - Terra de Santa Cruz
 - Brasil (por causa da madeira encontrada, chamada pau-brasil).

Assim eram os índios:

- Moravam em ocas (taba - aldeia).
- O chefe: Cacique.
- O chefe religioso: Pajé.
- Usavam canoas.
- Seus utensílios eram cerâmicas de barro e cestas de palha.



- Enfeitavam-se com penas, dentes de animais e pinturas.
- Alimentavam-se: caça, pesca, mandioca, milho, etc.
- Suas armas: flecha/arco, lança, tacape e zarabatana.

MATEMÁTICA

1. OBSERVE O CALENDÁRIO ABAIXO E REALIZE AS ATIVIDADES PROPOSTAS.

MÊS: FEVEREIRO

ANO: 2021

DOMINGO	SEGUNDA-FEIRA	TERÇA-FEIRA	QUARTA-FEIRA	QUINTA-FEIRA	SEXTA-FEIRA	SÁBADO
	1	2	3	4	5	6
7	8	9	10	11	12	13
14	15	16	17	18	19	20
21	22	23	24	25	26	27
28						

- A. QUANTOS DIAS TÊM UMA SEMANA? _____ DIAS.
- B. QUANTOS DIAS TÊM O MÊS DE FEVEREIRO? _____ DIAS.
- C. QUAL É O PRIMEIRO (1º) DIA DA SEMANA? _____.
- D. QUAL É O ÚLTIMO DIA DA SEMANA? _____.
- E. PINTE DE VERDE O ÚLTIMO DIA DO MÊS DE FEVEREIRO.
- F. PINTE DE AMARELO O NUMERAL QUE ESTÁ ENTRE O 15 E O 17.
- G. ESCREVA O ANO EM QUE NÓS ESTAMOS. _____.

2. OBSERVANDO A SEQUÊNCIA NUMÉRICA DO CALENDÁRIO ACIMA. ESCREVA O NÚMERO QUE VEM ANTES E DEPOIS DE:

	5	
--	---	--

	18	
--	----	--

	24	
--	----	--

	9	
--	---	--

	2	
--	---	--

	17	
--	----	--

OBSERVE ABAIXO O NOSSO ALFABETO. ELE É COMPOSTO POR VOGAIS E CONSOANTES.

4. AS VOGAIS SÃO A - E - I - O - U.

PINTE-AS DE VERMELHO, NO ALFABETO ABAIXO:

A	B	C	D	E	F	G	H	I	J	K	L	M
N	O	P	Q	R	S	T	U	V	W	X	Y	Z

5. OBSERVE O ALFABETO ACIMA E COMPLETE O ALFABETO A SEGUIR, ESCRIVENDO AS LETRAS CONSOANTES.

A				E				I				
	O						U					

6. CONTE QUANTAS LETRAS TÊM NO NOSSO ALFABETO E COMPLETE:

a) O ALFABETO TEM _____ LETRAS.

7. AGORA, RECORTE DE UM JORNAL, AS LETRAS DO ALFABETO E COLE-AS ABAIXO, NOS ESPAÇOS EM BRANCO:

A		G		M		S		Y	
B		H		N		T		Z	
C		I		O		U			
D		J		P		V			
E		K		Q		W			
F		L		R		X			

a - b - c - d - e -
 f - g - h - i - j -
 k - l - m - n -
 o - p - q - r - s -
 t - u - v - x - z



AGORA É COM VOCÊ!

MOSTRE QUE VOCÊ ESTÁ BEM INFORMADO(A) SOBRE O CORONAVÍRUS, MARCANDO

(V) PARA AS AFIRMATIVAS VERDADEIRAS E
(F) PARA AS AFIRMATIVAS FALSAS:

LOTERIA DO SABER

INFORMAÇÕES SOBRE O CORONAVÍRUS		V	F
1	O CORONAVÍRUS É CONTAGIOSO.		
2	O VÍRUS SURTIU NO BRASIL.		
3	O VÍRUS É TRANSMITIDO PELO ESPIRRO.		
4	DEVEMOS FREQUENTAR ESPAÇOS PÚBLICOS.		
5	AS MÃOS DEVEM SER LAVADAS APENAS COM ÁGUA LIMPA.		
6	ÁLCOOL EM GEL 70%, AJUDA A ELIMINAR O VÍRUS.		
7	TOSSE NÃO É SINTOMA DE CORONAVÍRUS.		
8	AO TOSSIR, COLOCAR O ANTEBRAÇO NA FRENTE DA BOCA.		
9	COVID – 19 É O NOME DO CORONAVÍRUS.		
10	JÁ EXISTE VACINA PARA ESTA DOENÇA.		
11	CORIZA É UM SINTOMA DO CORONAVÍRUS.		
12	O VÍRUS CIRCULA APENAS NA CHINA.		
13	NÃO DEVEMOS TOMAR REMÉDIO SEM A PRESCRIÇÃO MÉDICA.		

SISTEMA MONETÁRIO

1 - Ligue cada nota de dinheiro ao seu valor correspondente e escreva a quantidade por extenso como no modelo.



R\$ 5,00

Cinco reais



R\$ 10,00



R\$ 2,00



R\$ 20,00




R\$ 50,00



R\$ 100,00

ATIVIDADE 1

Tiago foi à loja de brinquedos, comprou um carrinho e pagou com uma nota de  (20 reais).

Observe os valores dos brinquedos e depois responda às questões abaixo:



a) Tiago recebeu troco?

b) De quanto foi o troco de Tiago?

c) Se Tiago tivesse escolhido o dardo e a bola daria para ele pagar?

d) Sobraria troco?

e) Qual brinquedo Tiago poderia comprar para ter 5 reais de troco?

Leia a tirinha e responda.



Copyright © 2000 Mauricio de Sousa Produções Ltda. Todos os direitos reservados.

5882

Cebolinha soube que Magali estava brincando com Cascão por que:

- Ela contou para ele.
- Ele viu as marcas das mãos sujas do cascão.
- Cebolinha estava vendo escondido.
- Cascão correu e contou para Cebolinha.

Leia a tirinha e responda a questão abaixo.



Copyright © 2002 Mauricio de Sousa Produções Ltda. Todos os direitos reservados.

7405

Podemos perceber lendo na tirinha acima que:

- Magali adora comer borboleta.
- Magali achou a mão do Cebolinha doce.
- Magali só pensa em comida.
- Cebolinha deu um soco na Magali.

No dia 01 de Maio, é comemorado o Dia do Trabalho.

GEOGRAFIA E HISTÓRIA

1. COMPLETE OS NOMES DAS PROFISSÕES NOS QUADROS ABAIXO E EM SEGUIDA ESCREVA-OS NAS LINHAS.

2. MARQUE UM X NA IMAGEM DO PROFISSIONAL QUE ESTÁ ATUANDO NA LINHA DE FRENTE NO COMBATE AO CORONAVÍRUS.



P		D				R	
---	--	---	--	--	--	---	--

(PADEIRO) _____



P		D	R			R	
---	--	---	---	--	--	---	--

(PEDREIRO) _____



C		N	F			T		R	
---	--	---	---	--	--	---	--	---	--

(CONFEITEIRA) _____



	N	F		R	M			R	
--	---	---	--	---	---	--	--	---	--

(ENFERMEIRA) _____

$$235 - 63 =$$

$$\begin{array}{r} 235 \\ - 63 \\ \hline 172 \end{array}$$

1º passo: Armar a conta, alinhando os valores sempre a direita.

2º passo: Efetuar a subtração coluna por coluna, sempre começando da direita para a esquerda.

- Primeira conta: $5 - 3 = 2$

- Segunda conta: $13 - 6 = 7$

Obs.: Como o 3 é menos que 6, "emprestamos 1", por isso ficou $13 - 6$.

- Terceira conta: $2 - 1 = 1$

Obs.: Como havíamos emprestado 1 anteriormente, devolvemos esse valor, por isso ficou $2 - 1$.

Vamos Tentar!

1)

$$\begin{array}{r} 85 \\ - 22 \\ \hline \end{array}$$

2)

$$\begin{array}{r} 74 \\ - 20 \\ \hline \end{array}$$

3)

$$\begin{array}{r} 93 \\ - 62 \\ \hline \end{array}$$

4)

$$\begin{array}{r} 78 \\ - 14 \\ \hline \end{array}$$

5)

$$\begin{array}{r} 86 \\ - 40 \\ \hline \end{array}$$

6)

$$\begin{array}{r} 70 \\ - 20 \\ \hline \end{array}$$

7)

$$\begin{array}{r} 88 \\ - 52 \\ \hline \end{array}$$

8)

$$\begin{array}{r} 65 \\ - 41 \\ \hline \end{array}$$

9)

$$\begin{array}{r} 76 \\ - 33 \\ \hline \end{array}$$

10)

$$\begin{array}{r} 59 \\ - 21 \\ \hline \end{array}$$

11)

$$\begin{array}{r} 78 \\ - 50 \\ \hline \end{array}$$

12)

$$\begin{array}{r} 37 \\ - 26 \\ \hline \end{array}$$

Vamos Aprender a Interpretar Cartazes e imagens!

OBSERVE O CARTAZ E RESPONDA AS QUESTÕES ABAIXO:



1- ESSE TEXTO SERVE PARA:

- () AVISAR AS PESSOAS
- () ENSINAR UM JOGO
- () ENSINAR UMA COMIDA
- () DIVERTIR AS PESSOA

2- O TEXTO FALA SOBRE :

- () O DIA DA FAMÍLIA
- () UMA FESTA EM ABRIL
- () O DIA DA VACINAÇÃO
- () UMA FESTA DE ANIVERSÁRIO

3- A VACINAÇÃO É CONTRA:

- () A PARALISIA INFANTIL
- () A GRIPE
- () DENGUE
- () SARAMPO

4- EM QUE MÊS OCORREU A VACINAÇÃO:

- () AGOSTO
 - () ABRIL
 - () JUNHO
 - () JULHO
-

Matemática

Noah foi ao shopping comprar presentes para a mamãe. Observe o que ele comprou e resolva de acordo.

1 - Dentro desta caixa tem 3 pares de sapatos.

Quantas unidades são?

--



2 - Papai deu 90 reais para Noah comprar um vestido. O vestido custou 50 reais. Quanto sobrou?

D	U

3 - O vestido da mamãe tem 35 botões na parte de trás. Mas ao abrir o embrulho, alguns caíram e ficaram apenas 24. Quantos botões caíram?

D	U

1. ENCONTRE NO DIAGRAMA, AS PALAVRAS ABAIXO:

- GRATIDÃO
- PAZ
- RESPEITO
- HUMILDADE
- CARIDADE
- PERDÃO
- AMOR
- AMIZADE



VIRTUDES QUE DEVEMOS CONSERVAR

B	E	D	A	M	O	R	Ã	O
J	W	E	R	T	Y	U	A	I
P	E	R	D	Ã	O	N	K	P
S	P	E	M	O	R	A	S	A
A	M	I	Z	A	D	E	Z	Z
B	H	R	J	D	O	D	E	Ç
C	A	R	I	D	A	D	E	A
O	L	I	B	Ç	I	Z	A	D
H	U	M	I	L	D	A	D	E
B	V	C	X	H	N	Z	M	L
U	G	R	A	T	I	D	Ã	O
R	E	S	P	E	I	T	O	

CIDADANIA

1. CONSULTANDO O SEU DOCUMENTO DE IDENTIDADE, ESCREVA O QUE SE PEDE.

A) SEU NOME COMPLETO DENTRO DO RETÂNGULO ABAIXO:

B) A DATA DO SEU NASCIMENTO: ____/____/____.

C) A SUA NATURALIDADE, OU SEJA, O NOME DA CIDADE E O ESTADO ONDE VOCÊ NASCEU:

2. COM RELAÇÃO A LEITURA E A ESCRITA VOCÊ:

- () AINDA NÃO SABE LER E NEM ESCREVER.
- () JÁ SABE LER E ESCREVER.
- () AINDA TEM MUITA DIFICULDADE PARA LER E ESCREVER.
- () CONHECE MUITAS LETRAS, MAS AINDA NÃO CONSEGUE LER E ESCREVER



3. VOCÊ TRABALHA? () SIM () NÃO

4. QUAL É A SUA PROFISSÃO? _____

5. MARQUE UM X NOS DOCUMENTOS QUE VOCÊ POSSUI:

()



()



()



()



()



()



**A RESPONSABILIDADE É DE TODOS NÓS.
NÃO É POR UM, É POR TODOS.
CUIDE-SE. ADAPTE-SE.**