

**E . M. "ALEXANDRE VANNUCHI LEME "**  
**2 ° ANO B**  
**PROFº PATRÍCIA ELAINE**

**ALUNO (A) :**

**4 ° APOSTILA**  
**ENTREGAR DIA : 11 / 05 / 2021**

*Mãe, presença de Deus na terra...*



**OLÁ MEUS AMORES !**

**ESPERO QUE TODOS ESTEJAM BEM !**

**GRAÇAS Á DEUS , FALTA POUCO PARA FICARMOS JUNTOS NOVAMENTE.**

- **ESTA APOSTILA É REFERENTE AOS DIAS : 19 /4 , 20, 22, 23 , 26 , 27, 28, 29, 30/4 e 03/5 ,04 , 05, 06, 07,e 10 DEVERÁ SER ENTREGUE DIA 11 /5**
  - **A APOSTILA IRÁ ATIVIDADES INTERDISCIPLINARES , ESPERO QUE RESOLVAM DEVAGAR .**
  - **TODO DIA , TIRE UM TEMPINHO PARA FAZER SUAS ATIVIDADES . NÃO FAÇA CORRENDO .**
  - **AS QUESTÕES QUE NÃO CONSEGUIREM RESOLVER , ANOTEM EM UMA FOLHA O QUE NÃO ENTENDEREM , PROCURAREI RESPONDER SUAS DÚVIDAS OU PODERÁ MANDAR UM WHATSAAP, ESTAREI SEMPRE A DISPOSIÇÃO .**
  - **PINTE OS DESENHOS BEM BONITO , SEMPRE COLOCAR NOME COMPLETO , AS ATIVIDADES QUE NÃO TIVEREM DATA MARCADA, PEDIR PARA A CRIANÇA COLOCAR . PINTAR O CALENDÁRIO NOS DIAS CORRESPONDENTES .**
  - **O DESENHO PARA AS MÃES NÃO PRECISARÁ DEVOLVER .**
  - **TERÁ ATIVIDADES DO LIVRO DE LÍNGUA PORTUGUESA , POR FAVOR FAZER NOS DIAS 07 /5 E 10 /5 .**
1. **LEITURA : CANTIGA POPULAR PÁGINA 20 , INTERPRETAÇÃO DO TEXTO PÁGINAS 22 E 23 .**
  2. **LEITURA : LENGUA - LENGUA / A CASA DO SEU DAMIÃO PÁGINAS 36 E 37 , INTERPRETAÇÃO DO TEXTO PÁGINAS 37 , 38 E 39 .**
  3. **LÍNGUA : USOS E REFLEXÃO / SINGULAR E PLURAL PÁGINAS 43 , 44 E 45 .**

**AOS PAIS E RESPONSÁVEIS , QUERO AGRADECER MUITO PELA AJUDA .**

**DEUS ABENÇOE MUITO VOCÊS.**

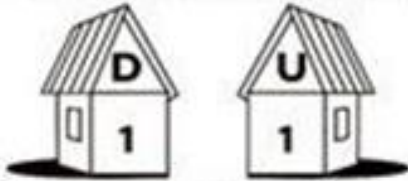
**BEIJOS**

**PROFESSORA : PATRÍCIA ELAINE**


Nome :

DATA : 19/4/2021

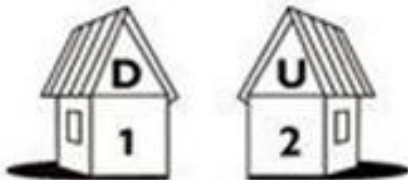
1) Veja o modelo e complete as operações.



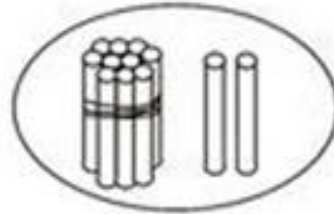
1 dezena + 1 unidade = 11  
 $10 + 1 = 11$  unidades



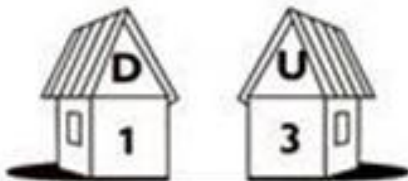
$$\begin{array}{r} 10 \\ + 1 \\ \hline 11 \end{array}$$



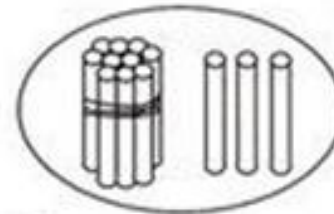
1 dezena + 2 unidades = 12  
 $10 + \dots = 12$  unidades



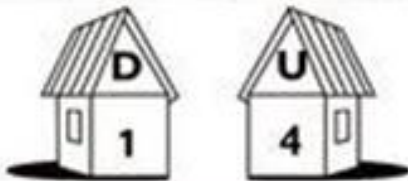
$$\begin{array}{r} 10 \\ + 2 \\ \hline \end{array}$$



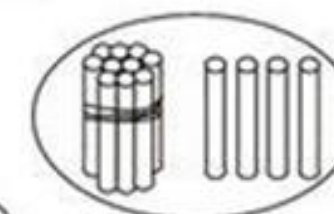
1 dezena + ..... unidades = 13  
 $10 + 3 = \dots$  unidades



$$\begin{array}{r} 10 \\ + 3 \\ \hline \end{array}$$



1 dezena + 4 unidades = .....  
 $10 + \dots = 14$  unidades



$$\begin{array}{r} 10 \\ + 4 \\ \hline \end{array}$$

Nome :

DATA 19/ 04/2021.

1. Forme uma frase com a palavra índio :



## CAÇA PALAVRAS

D	F	A	B	H	I	O	S	A	N	E	P	M	B
Z	C	L	H	A	Y	U	Q	O	R	T	A	L	A
O	W	D	C	Y	P	P	A	J	É	C	X	C	F
M	V	E	J	A	L	H	W	T	A	P	O	O	Y
A	R	I	X	T	C	Z	R	N	X	Ã	Z	C	B
O	P	A	K	E	A	I	O	Y	Ç	O	R	A	R
R	I	E	J	R	B	A	Q	A	X	I	T	R	I
F	A	W	A	O	V	T	T	U	A	H	A	U	N
L	Y	C	M	I	C	N	A	Ç	E	P	G	K	C
E	O	R	O	Ç	A	E	D	L	V	Z	O	L	O
C	X	T	Z	L	Z	Q	Y	R	A	W	H	T	X
H	J	O	P	I	A	T	O	E	N	A	S	U	E
A	H	I	A	K	X	R	E	D	E	E	J	O	A
O	T	A	M	B	O	R	P	I	C	A	Z	N	X

REDE - FLECHA - OCA - COCAR - TRIBO

POTE - ALDEIA - COLAR - BRINCO - PAJÉ

ARCO - CANOA - CACIQUE - TAMBOR

PLANTAÇÃO - PENAS - CESTO

NOME :

DATA 20/04 /2021

ESCREVA UMA FRASE COM A PALAVRA TIRADENTES :

---

---

---

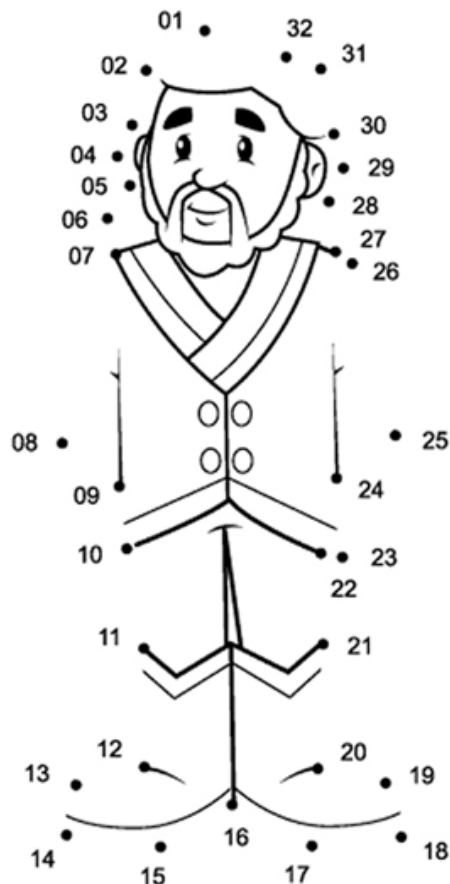
---

## LIGUE OS PONTOS

### -Instruções:

Para brincar com o jogo dos pontos basta UNIR os pontos seguindo a numeração.

Boa diversão!



# Tiradentes


NOME :

DATA : 20/4/2021

# ENIGMA

Decifre o enigma e descubra o verdadeiro nome de Tiradentes

J=	■	A=	▬	O=	□	I=	▩	S=	▮	D=	▯	X=	▤
Q=	▴	U=	▾	M=	▴	V=	▾	L=	▬	R=	▯	E=	▥



■	□	▬	▴	▾	▩	▥
□	□	□	□	□	□	□

■	□	▯	▥	▯	▬
□	□	□	□	□	□

▯	▬	▬	▾	▬
□	□	□	□	□

▥	▬	▾	▬	▥	▯
□	□	□	□	□	□




**NOME :**

**DATA: 22 / 4 / 2021**

# LIGUE OS PONTOS

Descubra o que os portugueses usaram para chegar ao Brasil.



NOME :

DATA :22 / 4 / 2021 .

ESCREVA UMA FRASE COM A PALAVRA BRASIL.

# ENIGMA

Decifre o enigma e descubra o nome de um grande navegador português:

P=	■	C=	▬	O=	□	L=	▬	S=	▬	B=	▬
A=	▴	R=	▾	E=	▴	V=	▾	D=	▬		

■	▴	▬	▾	□

▴	▬	▾	▴	▾	▴	▬

▬	▴	▬	▾	▴	▬





NOME :

DATA 23 / 4 / 2021

☺ ESCREVA OS NOMES DOS DESENHOS EM ORDEM ALFABÉTICA.

	<p>A <u>ABELHA</u></p> <p>B _____</p> <p>C _____</p> <p>D _____</p> <p>E _____</p> <p>F _____</p> <p>G _____</p> <p>H _____</p> <p>I _____</p> <p>J _____</p> <p>L _____</p> <p>N _____</p> <p>O _____</p> <p>P _____</p> <p>Q _____</p> <p>R _____</p> <p>S _____</p> <p>T _____</p> <p>U _____</p> <p>V _____</p> <p>X _____</p> <p>Z _____</p>	
--	---	--



NOME :

DATA : 23 / 4 / 2021

Calcule



$$\begin{array}{r} \text{5} \text{ 9} \\ + \text{1} \text{ 0} \\ \hline \end{array}$$

$$\begin{array}{r} \text{8} \text{ 6} \\ + \text{1} \text{ 2} \\ \hline \end{array}$$

$$\begin{array}{r} \text{2} \text{ 4} \\ + \text{6} \text{ 1} \\ \hline \end{array}$$

$$\begin{array}{r} \text{3} \text{ 5} \\ + \text{3} \text{ 3} \\ \hline \end{array}$$

$$\begin{array}{r} \text{6} \text{ 7} \\ + \text{0} \text{ 1} \\ \hline \end{array}$$

$$\begin{array}{r} \text{4} \text{ 5} \\ + \text{4} \text{ 1} \\ \hline \end{array}$$

$$\begin{array}{r} \text{9} \text{ 7} \\ + \text{0} \text{ 2} \\ \hline \end{array}$$

NOME COMPLETO :

DATA : 26 / 4 / 2021

## ATIVIDADE

CONTE OS DIAS DA SEMANA:

DOMINGO

SEGUNDA

TERÇA


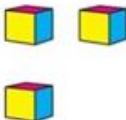
QUARTA

QUINTA

SEXTA

SÁBADO

QUAL É O NÚMERO?

DEZENAS	UNIDADES	
		<input type="text"/>

DEZENAS	UNIDADES	
		<input type="text"/>

QUEM VEM ENTRE?

5  7

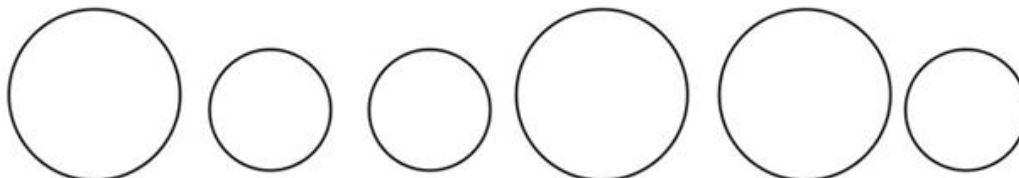
22  24

40  42

35  37



PINTE DE AZUL OS CÍRCULOS DO MESMO TAMANHO



NOME:

DATA: 26/4/2021

1- Complete as palavras abaixo com H, CH, NH ou LH:

___orário	___úmus	ca___orro
___ocolate	___epatite	___iena
___oróscopo	___aminé	in___ado
ore___udo	___idrático	___ortelã
pa___açada	cana___a	ca___oeira
___umanidade	mi___aral	



2- Descubra o segredo e continue:

hepatite	alho	choperia	palhaço
chinelo	patinho	história	sonho
habitante	ninho	canarinho	pilha
chá	cambalhota	higiênico	chuveiro

<b>H</b>	<b>CH</b>	<b>NH</b>	<b>LH</b>
_____	_____	_____	_____
_____	_____	_____	_____
_____	_____	_____	_____
_____	_____	_____	_____

ESCOLA: \_\_\_\_\_


NOME: \_\_\_\_\_

DATA: \_\_\_\_/\_\_\_\_/\_\_\_\_

SEGUNDA  TERÇA  QUARTA  QUINTA  SEXTA

## Matemática

1 - OBSERVE OS DESENHOS E COMPLETE.



A) QUANTAS BORBOLETAS NA CENA?

B) QUANTAS JOANINHAS?

C) QUANTAS JOANINHAS DO LADO  
ESQUERDO DA JARDINEIRA?

D) QUANTAS JOANINHAS DO  
LADO DIREITO DA JARDINEIRA?

E) QUANTAS FLORES?

F) QUANTAS JOANINHAS DO LADO  
DIREITO DA BORBOLETA?


G) QUANTAS JOANINHAS EM CIMA DA FLOR?



NOME :

DATA ; 27 / 4 / 2021

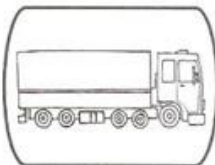
AS PALAVRAS FORAM ESCRITAS COM ERRO DE GRAFIA. ESCREVA-AS NOVAMENTE FAZENDO AS CORREÇÕES NECESSÁRIAS.




**GALHINHA**



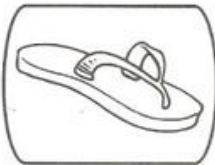
**ABELIA**



**CAMINÃO**



**DINEIRO**



**CHINELIO**



**JOELHU**



**MILLHO**



**PALIAÇO**

NOME :

DATA : 28 / 4 / 2021

# MATEMÁTICA

ESCREVER DE 0 A 100 , MAS DE 10 EM 10 . SIGA O EXEMPLO:

0 - 10 - 20 -




-----

-----

-----

- Complete de acordo com o indicado em cada coluna.

ANTES	ENTRE	DEPOIS
<input type="text"/> 40	10 <input type="text"/> 12	20 <input type="text"/>
<input type="text"/> 12	19 <input type="text"/> 21	13 <input type="text"/>
<input type="text"/> 32	51 <input type="text"/> 53	41 <input type="text"/>
<input type="text"/> 51	9 <input type="text"/> 11	30 <input type="text"/>
<input type="text"/> 19	60 <input type="text"/> 62	17 <input type="text"/>
<input type="text"/> 23	59 <input type="text"/> 61	59 <input type="text"/>



NOME :

DATA : 29 / 4 / 2021

## FORME FRASES



x \_\_\_\_\_



x \_\_\_\_\_



x \_\_\_\_\_



x \_\_\_\_\_



x \_\_\_\_\_



x \_\_\_\_\_

1) DE ACORDO COM OS DESENHOS, COMPLETE AS HISTÓRIAS MATEMÁTICAS:

<p>NO JARDIM DE MARIA TINHA:</p> 	<p>CHEGARAM MAIS:</p> 	<p>NO TOTAL, FICARAM ..... BORBOLETAS.</p> $\begin{array}{r} \dots\dots\dots \\ + \dots\dots\dots \\ \hline \dots\dots\dots \end{array}$
<p>ANA TINHA:</p> 	<p>ELA GANHOU DO VOVÔ:</p> 	<p>ANA TEM ..... GALINHAS AGORA.</p> $\begin{array}{r} \dots\dots\dots \\ + \dots\dots\dots \\ \hline \dots\dots\dots \end{array}$
<p>NA SAVANA HAVIA:</p> 	<p>CHEGARAM MAIS:</p> 	<p>AGORA TEM ..... ZEBRAS NA SAVANA.</p> $\begin{array}{r} \dots\dots\dots \\ + \dots\dots\dots \\ \hline \dots\dots\dots \end{array}$
<p>HAVIA NO LAGO:</p> 	<p>CHEGARAM MAIS:</p> 	<p>NO LAGO FICARAM ..... PEIXES.</p> $\begin{array}{r} \dots\dots\dots \\ + \dots\dots\dots \\ \hline \dots\dots\dots \end{array}$

NOME :

DATA :30 / 2021

# SISTEMA MONETÁRIO

1 - Ligue cada nota de dinheiro ao seu valor correspondente e escreva a quantidade por extenso como no modelo.



R\$ 5,00

CINCO REAIS

R\$ 10,00

R\$ 2,00

R\$ 20,00

R\$ 50,00

R\$ 100,00





ESCOLA

NOME

DATA : 03 / 4 /2021



◆ MAGALI ESTÁ ANSIOSA PARA CONHECER SUA FAMÍLIA. DESENHE



AGORA CONHEÇA A FAMÍLIA DE MAGALI.

◆ QUANTOS MEMBROS TEM A FAMÍLIA DE MAGALI?

◆ QUANTOS MEMBROS TEM SUA FAMÍLIA?



---

**NOME :**

**DATA : 03 / 4 /2021**

**UM POUCO DA MINHA FAMÍLIA.**

**ESCREVA O NOME DE QUEM SE PEDE**





NOME :  
DATA 04 /5/2021

$$\begin{array}{r} \bigcirc \\ 35 \\ + 19 \\ \hline \end{array}$$

$$\begin{array}{r} \bigcirc \\ 85 \\ + 15 \\ \hline \end{array}$$

$$\begin{array}{r} \bigcirc \\ 27 \\ + 13 \\ \hline \end{array}$$

$$\begin{array}{r} \bigcirc \\ 75 \\ + 16 \\ \hline \end{array}$$

$$\begin{array}{r} \bigcirc \\ 64 \\ + 18 \\ \hline \end{array}$$

$$\begin{array}{r} \bigcirc \\ 44 \\ + 16 \\ \hline \end{array}$$

$$\begin{array}{r} \bigcirc \\ 28 \\ + 02 \\ \hline \end{array}$$

$$\begin{array}{r} \bigcirc \\ 18 \\ + 17 \\ \hline \end{array}$$



NOME :

DATA: \_ / \_ / \_

### O PATO DE EDU

DONA NINA DEU UM PATO AO SEU NETO EDU.  
EDU VIU A AVE E DISSE:

— VOVÓ, O PATO É TÃO BONITO! ELE SABE NADAR?

— SIM, EDU, ELE NADA MUITO BEM!

*Graça Boquet*



COMPLETE:

1) DONA \_\_\_\_\_ DEU UM \_\_\_\_\_  
AO SEU \_\_\_\_\_ EDU.

2) ELE \_\_\_\_\_ MUITO \_\_\_\_\_!

3) \_\_\_\_\_ O \_\_\_\_\_ É TÃO \_\_\_\_\_!

4) \_\_\_\_\_ VIU A \_\_\_\_\_ E DISSE.

5) ELE \_\_\_\_\_ NADAR?

6) SIM \_\_\_\_\_.

7) O \_\_\_\_\_ DE EDU.



NOME :

DATA : 05 /05 /2021

**PINTE BEM BONITO.**

**ESCOLA e FAMÍLIA: uma relação de ajuda na formação do ser humano**

Toda família pertence a uma comunidade – COMUNIDADE FAMILIAR!

**DIA DA COMUNIDADE!  
(05 de Maio)**





# Geografia

► A comunidade onde vivemos


◀ **Leia:**

Geralmente, as pessoas procuram viver em grupo e gostam da companhia dos familiares e dos amigos.

Um grupo de pessoas que vivem em um mesmo local, trabalhando, divertindo-se ou realizando atividades juntas forma uma comunidade.


Em uma comunidade as pessoas dependem umas das outras.

► Cite algumas formas de colaborar com a sua comunidade:



# OS PARES

TODOS PRECISAM USAR ÓCULOS E TOUCA NA AULA DE NATAÇÃO.



FALTAM OU SOBAM ÓCULOS? QUANTOS?

---

---

---

FALTAM OU SOBAM TOUCAS? QUANTAS?

---


---

---

ALUNO(A):..... Data: ...../...../.....

**VISÃO DO BAIRRO!**

**MOSTRE QUE VOCÊ É UM BOM OBSERVADOR E RESPONDA AS PERGUNTAS:**



De acordo com a ilustração, o que está no centro?

O que está à direita da igreja?

Em frente à igreja?


O que se localiza à esquerda da igreja?

E à esquerda da praça?




























Pinte bem bonito os desenhos , para a mamãe  
**OLHA COMO O NOSSO AMOR EVOLUIU!**



*Feliz dia das mães!*

		<b>A</b> 	<b>E</b> 	<b>I</b> 	<b>O</b> 	<b>U</b> 	<b>ÃO</b>
	<b>B</b>	<b>BA</b>	<b>BE</b>	<b>BI</b>	<b>BO</b>	<b>BU</b>	<b>BÃO</b>
	<b>C</b>	<b>CA</b>	<b>CE</b>	<b>CI</b>	<b>CO</b>	<b>CU</b>	<b>CÃO</b>
	<b>D</b>	<b>DA</b>	<b>DE</b>	<b>DI</b>	<b>DO</b>	<b>DU</b>	<b>DÃO</b>
	<b>F</b>	<b>FA</b>	<b>FE</b>	<b>FI</b>	<b>FO</b>	<b>FU</b>	<b>FÃO</b>
	<b>G</b>	<b>GA</b>	<b>GE</b>	<b>GI</b>	<b>GO</b>	<b>GU</b>	<b>GÃO</b>
	<b>H</b>	<b>HA</b>	<b>HE</b>	<b>HI</b>	<b>HO</b>	<b>HU</b>	<b>HÃO</b>
	<b>J</b>	<b>JA</b>	<b>JE</b>	<b>JI</b>	<b>JO</b>	<b>JU</b>	<b>JÃO</b>
	<b>L</b>	<b>LA</b>	<b>LE</b>	<b>LI</b>	<b>LO</b>	<b>LU</b>	<b>LÃO</b>
	<b>M</b>	<b>MA</b>	<b>ME</b>	<b>MI</b>	<b>MO</b>	<b>MU</b>	<b>MÃO</b>
	<b>N</b>	<b>NA</b>	<b>NE</b>	<b>NI</b>	<b>NO</b>	<b>NU</b>	<b>NÃO</b>
	<b>P</b>	<b>PA</b>	<b>PE</b>	<b>PI</b>	<b>PO</b>	<b>PU</b>	<b>PÃO</b>
	<b>Q</b>	<b>QUA</b>	<b>QUE</b>	<b>QUI</b>			
	<b>R</b>	<b>RA</b>	<b>RE</b>	<b>RI</b>	<b>RO</b>	<b>RU</b>	<b>RÃO</b>
	<b>S</b>	<b>SA</b>	<b>SE</b>	<b>SI</b>	<b>SO</b>	<b>SU</b>	<b>SÃO</b>
	<b>T</b>	<b>TA</b>	<b>TE</b>	<b>TI</b>	<b>TO</b>	<b>TU</b>	<b>TÃO</b>
	<b>V</b>	<b>VA</b>	<b>VE</b>	<b>VI</b>	<b>VO</b>	<b>VU</b>	<b>VÃO</b>
	<b>X</b>	<b>XA</b>	<b>XE</b>	<b>XI</b>	<b>XO</b>	<b>XU</b>	<b>XÃO</b>
	<b>Z</b>	<b>ZA</b>	<b>ZE</b>	<b>ZI</b>	<b>ZO</b>	<b>ZU</b>	<b>ZÃO</b>
<b>K   W   Y</b>							

NOME: \_\_\_\_\_



## CALENDÁRIO MAIO - 2021



DOMINGO	SEGUNDA-FEIRA	TERÇA-FEIRA	QUARTA-FEIRA	QUINTA-FEIRA	SEXTA-FEIRA	SÁBADO
						1
2	3	4	5	6	7	8
9	10	11	12	13	14	15
16	17	18	19	20	21	22
23	24	25	26	27	28	29
30	31					