



PREFEITURA DA ESTÂNCIA TURÍSTICA DE IBIÚNA  
EM PROF. CALIL RAHAL NETO

Rua Projetada, 620 - Capim Azedo - Ibiúna - SP - Telefone: 3241-5917



# 5ª. APOSTILA DE ESTUDOS ATIVIDADES NÃO PRESENCIAIS

## 2º BIMESTRE

---



### ENSINO FUNDAMENTAL

**ALUNO:** \_\_\_\_\_

**PROFESSORA:** ANA PAULA.

**TURMA:** 1º ANO B

**DATA DE DEVOLUÇÃO:** 08/06/2021

Nome: \_\_\_\_\_

Professora: Ana Paula

Turma: 1º ano B

Data: 11/05/2021

VAMOS LER O ALFABETO:

A B C D E F G H I J K L M N O P Q R S T U V W X Y Z

→ QUEM VEM ANTES?

  
□ B

  
□ F

  
□ I

  
□ M

  
□ P

  
□ T

  
□ V

  
□ Z


→ QUEM VEM DEPOIS?

  
A □

  
D □

  
G □

  
J □

  
N □

  
Q □

  
U □

  
X □



Nome: \_\_\_\_\_

Professora: Ana Paula

Turma: 1º ano B

Data: 11/05/2021

MATEMÁTICA

MARIA EDUARDA ENFILEIROU SUAS CANETINHAS COLORIDAS.

VAMOS CONTAR QUANTAS CANETINHAS HÁ EM CADA FILEIRA? ESCREVA OS NÚMEROS NOS QUADROS AZUIS.




Nome: \_\_\_\_\_

Professora: Ana Paula

Turma: 1º ano B

Data: 12/05/2021

VAMOS LER:



- Procure, no caça-palavras, o nome de cada desenho abaixo:



B E X I G A



B A N A N A



B O N E C A



B O C A



B E I J O



B A T A T A



B O N É



B O T Ã O



Nome: \_\_\_\_\_


Professora: Ana Paula

Turma: 1º ano B

Data: 12/05/2021

MATEMÁTICA –CONTANDO E COMPARANDO

A TURMA DO PRIMEIRO ANO DA ESCOLA PRIMAVERA FEZ UMA COLEÇÃO DE TAMPINHAS. ELAS ESTÃO NO QUADRO A SEGUIR:



1º) CONTE AS TAMPINHAS E ESCREVA A QUANTIDADE DELAS:

\_\_\_\_\_

2º) QUANTAS TAMPINHAS SÃO AZUIS?

\_\_\_\_\_

3º) QUANTAS SÃO AS TAMPINHAS AMARELAS?

\_\_\_\_\_

4º) O QUE HÁ MAIS: TAMPINHAS AMARELAS OU AZUIS?

\_\_\_\_\_

5º) QUANTAS TAMPINHAS A MAIS? DESENHE NO QUADRO ABAIXO.



ESCREVA O CABEÇALHO ABAIXO:

## E. M. "PROF. CALIL RAHAL NETO"

---

IBIÚNA, 13 DE MAIO DE 2021.

---

PINTE AS SÍLABAS QUE FORMAM OS NOMES DOS DESENHOS.



BA	A	TA	BA	CA	TE
----	---	----	----	----	----



A	BA	PA	CA	DA	XI
---	----	----	----	----	----



LA	BO	GE	LO	CO	TI
----	----	----	----	----	----



GA	CA	BO	BA	TA	NA
----	----	----	----	----	----



JA	PA	BO	BA	CA	NÉ
----	----	----	----	----	----



BU	RA	ZI	GA	LI	NA
----	----	----	----	----	----



BA	BO	TA	NE	TA	CA
----	----	----	----	----	----



BO	RA	LA	PA	CHA
----	----	----	----	-----

Nome: \_\_\_\_\_


Professora: Ana Paula

Turma: 1º ano B

Data: 13/05/2021

## MATEMÁTICA

A PROFESSORA DE TIAGO LEVOU PARA A TURMA AS TAMPINHAS REPRESENTADAS NO QUADRO A SEGUIR:



A) QUANTAS TAMPINHAS ELA LEVOU?

\_\_\_\_\_

B) QUANTAS SÃO VERMELHAS?

\_\_\_\_\_

C) QUANTAS SÃO AZUIS?

\_\_\_\_\_

D) HÁ MAIS TAMPINHAS VERMELHAS OU AZUIS?

\_\_\_\_\_

DESENHE NO QUADRO QUANTAS TAMPINHAS FALTAM PARA A PROFESSORA DO TIAGO COMPLETAR 30 TAMPINHAS.

A) QUANTAS TAMPINHAS VOCÊ DESENHOU:

\_\_\_\_\_

Nome: \_\_\_\_\_

Professora: Ana Paula

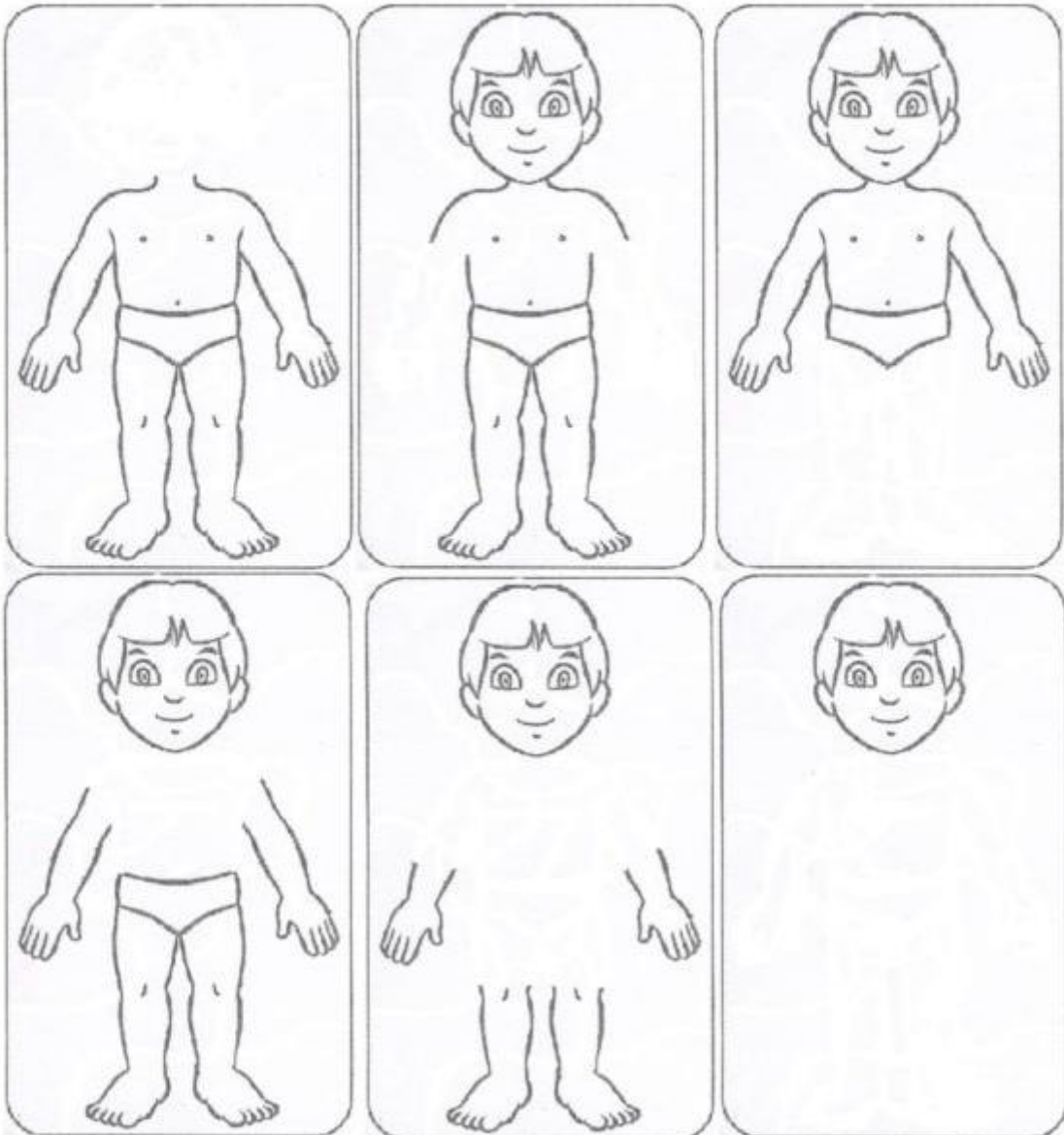
Turma: 1º ano B

Data: 14/05/2021

CIÊNCIAS- NOSSO CORPO

**RECONHECER O CORPO É IMPORTANTE PARA APRENDER A LER, ESCREVER, FAZER OPERAÇÕES, BRINCAR, ENTRE OUTRAS COISAS. VAMOS VER O QUE VOCÊ CONHECE DO SEU CORPO?**

**COMPLETE AS PARTES QUE FALTAM NOS DESENHOS DO CORPO:**





Nome: \_\_\_\_\_





















Professora: Ana Paula

Turma: 1º ano B

Data: 14/05/2021

MATEMÁTICA: NUMERAIS ATÉ 20

1- LEIA E COPIE OS NUMERAIS:

1	2	3	4
			
5	6	7	8
			
9	10	11	12
			
13	14	15	16
			
17	18	19	20
			

ESCREVA O CABEÇALHO ABAIXO:

E. M. "PROF. CALIL RAHAL NETO"

---

IBIÚNA, 17 DE MAIO DE 2021.

---

: LEITURA: O QUE EU SEI FAZER

- PEÇA A UM ADULTO OU AO(A) PROFESSOR(A) QUE LEIA PARA VOCÊ.

TUDO ISTO JÁ SEI FAZER:  
GUARDAR MEUS BRINQUEDOS  
E TAMBÉM MEU MATERIAL,  
USAR O TELEFONE  
DE MANEIRA BEM NATURAL.



SEI DAR RECADO,  
CONSERTAR MINHA BICICLETA,  
FAZER SUCO DE SAQUINHO  
E VIBRAR AO JOGAR PETECA.

SEI ESCREVER MEU NOME,  
SEI ARRUMAR MINHA CAMA,  
GOSTO DE OUVIR A MAMÃE  
DIZER SEMPRE QUE ME AMA.



CORRER E PULAR,  
CAIR E MACHUCAR,  
CHORAR E CALAR  
E, ACORDADO, SONHAR.  
SEI CANTAR BEM LEGAL,  
SEI DANÇAR QUALQUER DANÇA.  
TUDO ISSO FAZ PARTE  
DO MEU MUNDO DE CRIANÇA.



As autoras

Nome: \_\_\_\_\_

Professora: Ana Paula

Turma: 1º ano B

Data: 17/05/2021


## JÁ SEI FAZER SOZINHO



- 1) MARQUE COM UM X TUDO O QUE VOCÊ SABE FAZER SOZINHO.
- 2) PINTE O QUE VOCÊ MAIS GOSTA DE FAZER.



BRINCAR NO  
COMPUTADOR



DESENHAR  
E PINTAR



LER PARA  
OUTRA PESSOA



NADAR



JOGAR FUTEBOL



DANÇAR BALÉ



ESCOVAR  
OS DENTES



ATENDER O  
TELEFONE



ARRUMAR MEU  
QUARTO



FAZER  
DOBRADURA



TOMAR BANHO



ANDAR DE  
BICICLETA

ESCREVA O CABEÇALHO ABAIXO:

**E. M. "PROF. CALIL RAHAL NETO"**

VAMOS TREINAR?

D-D-D-D-D-D-D-D-D-D

IDEIA-GEM

**ATIVIDADES – LETRA D**

- 1- ESCUTE A LEITURA DA PARLENDA ABAIXO. DEPOIS, OBSERVE A PALAVRA DOCE E COMPLETE-A COM A SÍLABA FALTOSA.

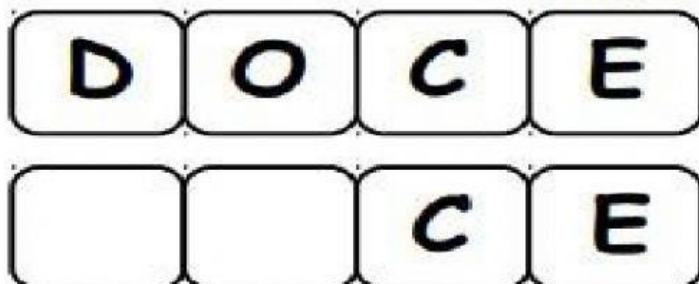
**O DOCE**

**O DOCE PERGUNTOU PRO  
DOCE QUAL É O DOCE MAIS  
DOCE**

**O DOCE RESPONDEU PRO  
DOCE QUE O DOCE MAIS  
DOCE É O DOCE DE  
BATATA-DOCE.**



PARLENDA



EM "Prof. Calil Rahal Neto"

Nome: \_\_\_\_\_

Professora: Ana Paula

Turma: 1º ano B

Data: 18/05/2021

- Escreva os nomes das palavras abaixo.



\_\_\_\_\_



\_\_\_\_\_



\_\_\_\_\_



\_\_\_\_\_

EM "Prof. Calil Rahal Neto"

Nome: \_\_\_\_\_

Professora: Ana Paula


Turma: 1º ano B

Data: 19/05/2021



# DITADO RECORTADO

VAMOS RECORTAR AS PALAVRAS CORRESPONDENTES AOS DESENHOS E COLAR.



-----recorte-----

DADO

DEDO

DOMINÓ

DENTE

DIAMANTE

DINHEIRO

DINOSSAURO

DRAGÃO

DUENDE

Nome: \_\_\_\_\_

Professora: Ana Paula

Turma: 1º ano B

Data: 19/05/2021


MATEMÁTICA


CONTANDO DADOS

 AJUDE DAVI A CONTAR E A ESCREVER OS NUMERAIS QUE SAÍRAM EM CADA DADO.



 COMPLETE OS BALÕES COM OS NUMERAIS QUE FALTAM.





Nome: \_\_\_\_\_


Professora: Ana Paula

Turma: 1º ano B

Data: 20/05/2021

### DE BEBÊ A ADULTO


VAMOS EXPLORAR O DESENVOLVIMENTO DO SER HUMANO.



**1** AS FIGURAS ABAIXO REPRESENTAM AS VÁRIAS ETAPAS POR QUE UMA PESSOA PASSA DURANTE A VIDA.  
RECORTE AS FIGURAS E COLE-AS NA SEQUÊNCIA.



**2** AGORA, FAÇA UM X NO DESENHO QUE REPRESENTA VOCÊ HOJE.  
DEPOIS, PINTE AQUELE QUE MAIS SE PARECE COM SEU PAI.



Nome: \_\_\_\_\_

Professora: Ana Paula

Turma: 1º ano B

Data: 20/05/2021

### CIÊNCIAS: RESPEITANDO NOSSAS DIFERENÇAS

 CIRCULE A CRIANÇA QUE TEM ALGUMA(S) CARACTERÍSTICA(S) PARECIDA(S) COM A(S) SUA(S).



2- PEÇA AJUDA A UM ADULTO E ESCREVA AS CARACTERÍSTICAS FÍSICAS DO SEU CORPO:



♦ Meus cabelos têm a cor:

♦ Meus olhos têm a cor:

♦ Minha pele é:



♦ Meus cabelos são (marque o que for certo):

- |                                 |                               |
|---------------------------------|-------------------------------|
| <input type="radio"/> lisos     | <input type="radio"/> loiros  |
| <input type="radio"/> finos     | <input type="radio"/> grossos |
| <input type="radio"/> anelados  | <input type="radio"/> ruivos  |
| <input type="radio"/> compridos | <input type="radio"/> curtos  |
| <input type="radio"/> castanhos | <input type="radio"/> pretos  |

ESCREVA O CABEÇALHO ABAIXO:

**E. M. "PROF. CALIL RAHAL NETO"**

---

**IBIÚNA, 21 DE MAIO DE 2021.**

---

LÍNGUA PORTUGUESA

1-LEIA E COMPLETE:

**DADO**

VEJA ESTE DADO.


ELE É PEQUENO E AZUL.

O BEBÊ GOSTA DE BRINCAR COM O DADO.

O BEBÊ JOGA O DADO PRA LÁ E PRA CÁ.

O DADO ROLA... ROLA...

O BEBÊ FICA TÃO FELIZ!



---

COMPLETE:

VEJA ESTE \_\_\_\_\_.

ELE É \_\_\_\_\_ E \_\_\_\_\_.

O \_\_\_\_\_ GOSTA DE BRINCAR COM O \_\_\_\_\_.

O \_\_\_\_\_ FICA TÃO \_\_\_\_\_!

Nome: \_\_\_\_\_

Professora: Ana Paula

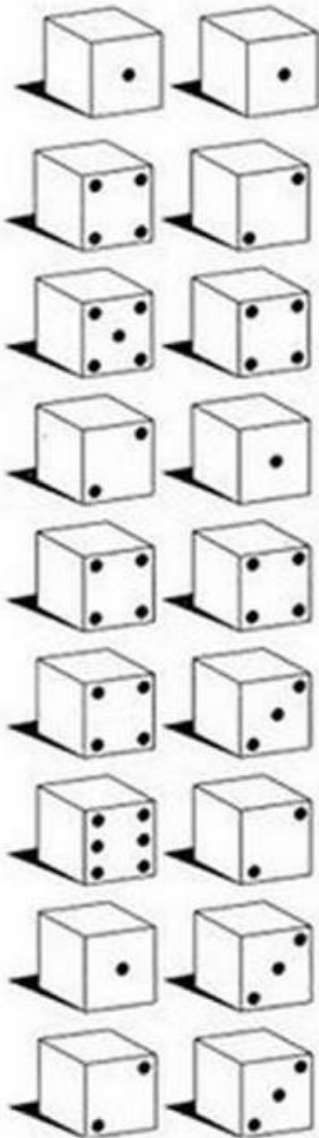
Turma: 1º ano B

Data: 21/05/2021

MATEMÁTICA

JOGANDO DADOS

1) SOME O NÚMERO DE BOLINHAS DOS DADOS E  
DESCUBRA QUANTOS PONTOS CAROLINE FEZ CADA  
VEZ QUE JOGOU OS DADOS. DEPOIS, LIGUE OS DADOS  
ÀS RESPOSTAS.



6 2  
7  
8 3  
9  
5 4

ESCREVA O CABEÇALHO ABAIXO:

# E. M. "PROF. CALIL RAHAL NETO"

IBIÚNA, 24 DE MAIO DE 2021.


## USO DO TIL

Cai, cai balão!  
Cai, cai balão!  
Aqui na minha mão.  
Não cai não!  
Não cai não!  
Cai na rua do sabão.

(Folclore)



PINTE OS CORAÇÕES COM PALAVRAS QUE TERMINAM  
COM (ÃO):



Nome: \_\_\_\_\_

Professora: Ana Paula

Turma: 1º ano B

Data: 24/05/2021

MATEMÁTICA

1) A CRIANÇA ABAIXO ESTÁ DE **FRENTE**. OBSERVE O LADO DIREITO E O ESQUERDO DELA.

LADO DIREITO



LADO ESQUERDO

2) AGORA, OBSERVE AS CRIANÇAS ABAIXO E MARQUE AS RESPOSTAS CERTAS.



JÚNIOR PISA NA BOLA COM O PÉ:

- ESQUERDO.
- DIREITO.



ALEX SEGURA A BOLA COM A MÃO:

- ESQUERDA.
- DIREITA.



ANA BATE A BOLA COM A MÃO:

- ESQUERDA.
- DIREITA.

ESCREVA O CABEÇALHO ABAIXO:

E. M. "PROF. CALIL RAHAL NETO"

---

IBIÚNA, 25 DE MAIO DE 2021.

---

CIÊNCIAS E SAÚDE

1- CIRCULE NO POEMA AS PALAVRAS: CARONA, CORONAVÍRUS E VÍRUS. PINTE AS FIGURAS


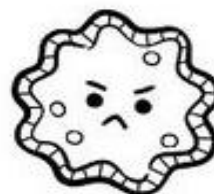

CORONAVÍRUS

ISABEL CRISTINA S. SOARES




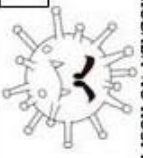









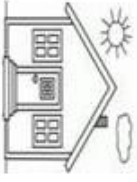
ATENÇÃO AMIGUINHOS  
UMA COISA VOU FALAR  
ANTEBRAÇO NA BOQUINHA  
SE VOCÊ VAI ESPIRRAR!

ALIMENTOS BEM COZIDOS  
PARA O VÍRUS NÃO PEGAR  
LAVE SEMPRE SUAS MÃOS  
EVITE SE CONTAMINAR!

O CORONA TÁ CHEGANDO  
NÃO PODEMOS VACILAR  
DE CARONA NESTE VÍRUS  
EU NÃO QUERO VIAJAR!



# TODOS CONTRA O VÍRUS

<p>5</p> <p>RETRORU A MÁSCARA PARA TOSSIR VOLTE 2 CASAS</p> 			<p>8</p> <p>COMPARTILHOU O MESMO COPO VOLTE 2 CASAS</p> 			<p>11</p> <p>LAVOU AS MÃOS COM SABÃO - AVANCE 3 CASAS</p> 
<p>4</p>						<p>12</p>
<p>3</p>		<p>17</p>	<p>16</p> <p>VOCE FOI INFECTADO FIQUE UMA RODADA NO HOSPITAL</p> 	<p>15</p> <p>LAVOU AS MÃOS COM SABÃO - AVANCE 3 CASAS</p> 	<p>14</p>	<p>13</p> <p>VOCE ESTA DOENTE VOLTE NO INICIO</p> 
<p>2</p> <p>PASSOU ALCOOL GEL AVANCE 1 CASA</p> 		<p>18</p>				
<p>1</p> <p>USOU A MÁSCARA AVANCE DUAS CASAS</p> 		<p>19</p> <p>VOCE FOI INFECTADO FIQUE UMA RODADA NO HOSPITAL</p> 	<p>20</p> <p>PASSOU ALCOOL GEL AVANCE 1 CASA</p> 	<p>21</p>	<p>22</p>	<p>23</p> <p>COMPARTILHOU O MESMO COPO VOLTE 2 CASAS</p> 
<p>INICIO</p> 	<p>HOSPITAL</p> 					<p>CHEGADA</p> 



ESCREVA O CABEÇALHO ABAIXO:

E. M. "PROF. CALIL RAHAL NETO"

IBIÚNA, 26 DE MAIO DE 2021.

CUBRA O PONTILHADO




--	--	--	--	--	--	--	--	--	--

CIRCULE AS PALAVRAS QUE COMEÇAM COM A LETRA F

O F ESTÁ NA FOCA  
NA FOGUEIRA E NA FUMAÇA  
NO FOGUETE E NO FOGÃO  
NA FAROFA E NO FEIJÃO



PINTE AS FIGURAS QUE APARECEM NO TEXTO



Nome: \_\_\_\_\_







Professora: Ana Paula

Turma: 1º ano B

Data: 26/05/2021

MATEMÁTICA

Pinte a quantidade de quadrinhos referente à idade de cada criança.

					
9	8	5	6	7	4
<input type="checkbox"/> <input type="checkbox"/> <input type="checkbox"/> <input type="checkbox"/> <input type="checkbox"/> <input type="checkbox"/> <input type="checkbox"/> <input type="checkbox"/> <input type="checkbox"/> <input type="checkbox"/>	<input type="checkbox"/> <input type="checkbox"/> <input type="checkbox"/> <input type="checkbox"/> <input type="checkbox"/> <input type="checkbox"/> <input type="checkbox"/> <input type="checkbox"/> <input type="checkbox"/> <input type="checkbox"/>	<input type="checkbox"/> <input type="checkbox"/> <input type="checkbox"/> <input type="checkbox"/> <input type="checkbox"/> <input type="checkbox"/> <input type="checkbox"/> <input type="checkbox"/> <input type="checkbox"/> <input type="checkbox"/>	<input type="checkbox"/> <input type="checkbox"/> <input type="checkbox"/> <input type="checkbox"/> <input type="checkbox"/> <input type="checkbox"/> <input type="checkbox"/> <input type="checkbox"/> <input type="checkbox"/> <input type="checkbox"/>	<input type="checkbox"/> <input type="checkbox"/> <input type="checkbox"/> <input type="checkbox"/> <input type="checkbox"/> <input type="checkbox"/> <input type="checkbox"/> <input type="checkbox"/> <input type="checkbox"/> <input type="checkbox"/>	<input type="checkbox"/> <input type="checkbox"/> <input type="checkbox"/> <input type="checkbox"/> <input type="checkbox"/> <input type="checkbox"/> <input type="checkbox"/> <input type="checkbox"/> <input type="checkbox"/> <input type="checkbox"/>
BOB	ANA	JOÃO	BIA	PAULO	ROSE

2- RESPONDA:

A) QUANTOS ANOS TEM A CRIANÇA MAIS VELHA?

\_\_\_\_\_

B) QUAL IDADE DA CRIANÇA MAIS NOVA?

\_\_\_\_\_

C) QUANTOS ANOS JOÃO TEM?

\_\_\_\_\_

ESCREVA O CABEÇALHO ABAIXO:

E. M. "PROF. CALIL RAHAL NETO"

IBIÚNA, 27 DE MAIO DE 2021.

1-COPIE COM CAPRICO A FAMÍLIA DA LETRA F:

FA	FE	FI	FO	FU

COMPLETE AS PALAVRAS COM O **F** FALTOSO:



\_\_\_ ADA



\_\_\_ ACA



\_\_\_ EIJÃO



\_\_\_ ERRO



\_\_\_ IGO



\_\_\_ ITA



\_\_\_ OCA



\_\_\_ OGO



\_\_\_ ÓS \_\_\_ ORO



\_\_\_ UTEBOL



\_\_\_ UMAÇA



\_\_\_ USCA

Nome: \_\_\_\_\_

Professora: Ana Paula


Turma: 1º ano B

Data: 27/05/2021

MATEMÁTICA: MANEIRAS DE EFETUAR A ADIÇÃO

1-CONTE AS FIGURAS E CALCULE AS QUANTIDADES:


Quantas borboletas há no total?



$$\square + \square = \square$$

Há \_\_\_\_\_ borboletas.


Quantas frutas há no total?



$$\square + \square = \square$$

Há \_\_\_\_\_ frutas.

Quantas bolas há no total?




© SMARTKIDS

$$\square + \square = \square$$

Há \_\_\_\_\_ bolas.

Quantos peixinhos há no total?



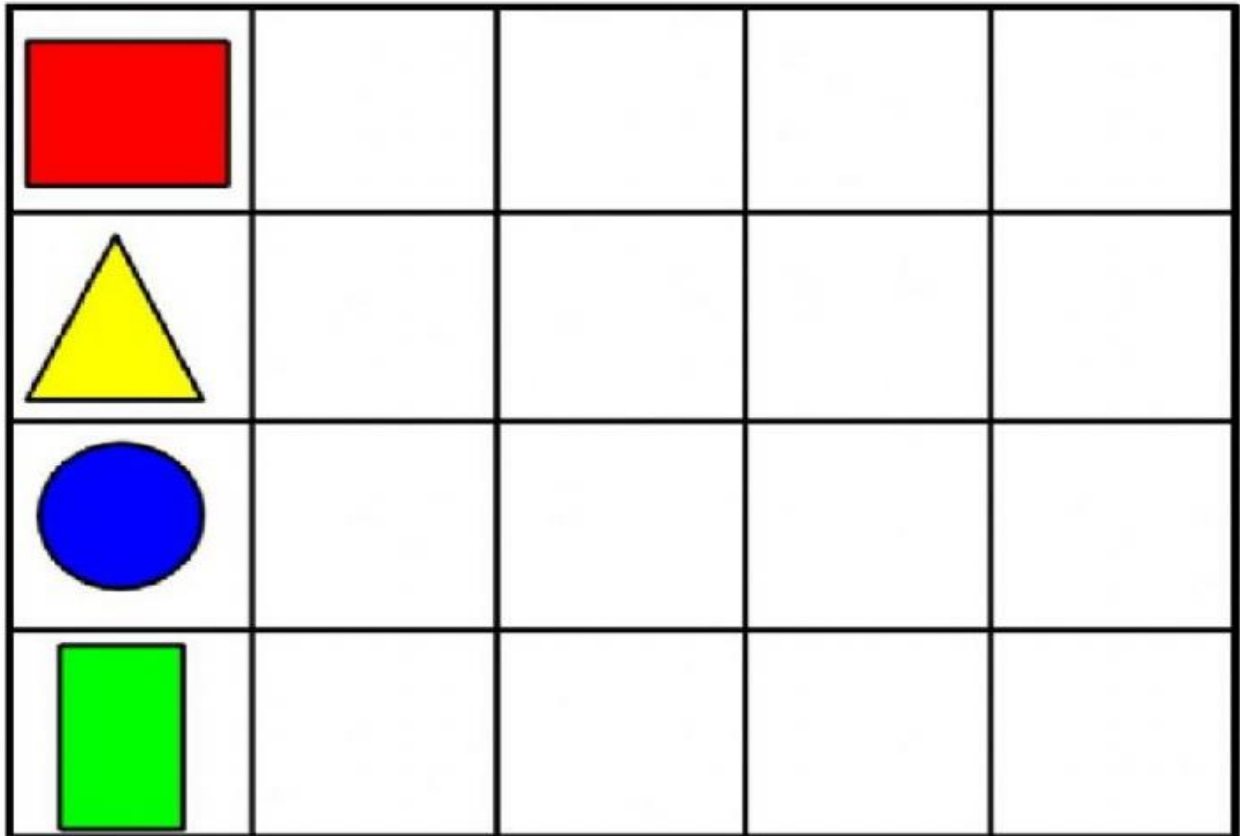
$$\square + \square = \square$$

Há \_\_\_\_\_ peixinhos.

## MATEMÁTICA: FIGURAS GEOMÉTRICAS

EM CASA E NA ESCOLA VEMOS E USAMOS OBJETOS QUE TÊM **FORMAS ESPACIAIS**. ELES DÃO A IDEIA DE FIGURAS GEOMÉTRICAS CHAMADAS **SÓLIDOS GEOMÉTRICOS**.

1-RECORTE OS OBJETOS QUE TEM A FORMA PARECIDA E COLE NA FORMA GEOMÉTRICA:



-----RECORTE-----



EM "Prof. Calil Rahal Neto"

Nome: \_\_\_\_\_


Professora: Ana Paula

Turma: 1º ano B

Data: 28/05/2021

### MATEMÁTICA: RELEMBRANDO OS NUMERAIS

QUINZINHO E MAGALI ESTÃO PULANDO AMARELINHA.  
VAMOS COMPLETAR A AMARELINHA CARACOL, COLOCANDO OS NUMERAIS.



VAMOS COMPLETAR A SEQUÊNCIA ABAIXO:

0	1	2	3	4	5	6	7	8	9	10
		2			5			8		
	1			4					9	
0			3				7			

ESCREVA O CABEÇALHO ABAIXO:

E. M. "PROF. CALIL RAHAL NETO"

IBIÚNA, 31 DE MAIO DE 2021.

### ATIVIDADES – LETRA F

- 1- ESCUTE A LEITURA DO POEMA ABAIXO E MARQUE AS PALAVRAS QUE RIMAM. DEPOIS, OBSERVE A PALAVRA FOCA E COMPLETE-A COM A SÍLABA FALTOSA.

TEXTO 4

## A FOCA

QUER VER A FOCA FICAR FELIZ?


É PÔR UMA BOLA NO SEU NARIZ.

QUER A FOCA BATER PALMINHAS?

É DAR A ELA UMA SARDINHA.



VINICIUS DE MORAES



F O C A

   C   A

BÊ ADAPT

Nome: \_\_\_\_\_

Professora: Ana Paula

Turma: 1º ano B

Data: 31/05/2021

**F**

UNA A LETRA F COM CADA VOGAL E FORME AS SÍLABAS:

<b>F</b>	→	<b>A</b>	→	
	→	<b>E</b>	→	
	→	<b>I</b>	→	
	→	<b>O</b>	→	
	→	<b>U</b>	→	

2-COMPLETE COM A SÍLABA INICIAL:

**SÍLABAS E AS PALAVRAS:**

<b>FE</b>		<b>DA</b>
<b>FA</b>		<b>IJÃO</b>
<b>FO</b>		<b>TA</b>
<b>FU</b>		<b>ME</b>
<b>FI</b>		<b>MAÇA</b>



## Referências

- <https://image.slidesharecdn.com/1ano1-170617033744/95/1-ano-1-55-638.jpg?cb=1497670850>
- <https://educacaoetransformacaooficial.blogspot.com/2020/05/contando-e-comparando.html>
- <http://notebookdaprof.blogspot.com/2015/03/atividades-alfabeto.html?m=1>
- <https://cucasuperlegal.com/atividades-de-educacao-fisica-arte-e-lingua-portuguesa-para-alunos-do-1o-ano-so-imprimir/>
- <https://www.abcd.org.au/wp-content/uploads/formidable/Atividades-week-6-grupo-2-.pdf>
- <https://revistazunai.com.br/wp-content/uploads/2018/09/atividadesescolaresmatematica.jpg>
- <https://www.soescola.com/2016/11/atividades-de-ciencias-1-ano.html>
- [https://files.liveworksheets.com/def\\_files/2020/12/15/1215145925685511/1215145925685511001.jpg](https://files.liveworksheets.com/def_files/2020/12/15/1215145925685511/1215145925685511001.jpg)
- <https://escolaeducacao.com.br/atividades-de-ditado-recortado/atividades-ditado-letra-d/>
- <https://es.liveworksheets.com/nx989663vh>
- <https://br.pinterest.com/pin/484348134930619316/>
- <https://misturadealegria.blogspot.com/2016/09/pequenos-textos-para-alfabetizacao-no.html>
- <http://notebookdaprof.blogspot.com/2015/04/atividades-com-ao.html?m=1>
- <https://www.ceuazul.pr.gov.br/attachments/article/11855/CADERNO%20DE%20ATIVIDADES%20-%20CLASSE%20ESPECIAL.pdf>
- [https://notebookdaprof.blogspot.com/2015/06/atividades-letra-f\\_24.html?m=1](https://notebookdaprof.blogspot.com/2015/06/atividades-letra-f_24.html?m=1)
- <https://www.smartkids.com.br/atividade/conte-e-calcule>
- <https://br.pinterest.com/pin/230879918385656569/>
- [https://www.liveworksheets.com/worksheets/pt/L%C3%ADngua\\_portuguesa/Leitura\\_e\\_Escrita/Atividades\\_-\\_letra\\_f\\_zk1446839nm](https://www.liveworksheets.com/worksheets/pt/L%C3%ADngua_portuguesa/Leitura_e_Escrita/Atividades_-_letra_f_zk1446839nm)
- [https://www.liveworksheets.com/worksheets/pt/Lingua\\_Portuguesa/Fonemas/Letra\\_F\\_zz1776407nm](https://www.liveworksheets.com/worksheets/pt/Lingua_Portuguesa/Fonemas/Letra_F_zz1776407nm)
- [https://www.liveworksheets.com/worksheets/pt/L%C3%ADngua\\_portuguesa/Leitura\\_e\\_Escrita/Atividades\\_-\\_letra\\_f\\_zk1446839nm](https://www.liveworksheets.com/worksheets/pt/L%C3%ADngua_portuguesa/Leitura_e_Escrita/Atividades_-_letra_f_zk1446839nm)
- <https://www.aartedeensinareaprender.com/2016/08/atividade-pronta-numeros-do-1-ao-20.html?m=1>
- <https://i.pinimg.com/originals/b2/59/48/b25948d797a77ec787f714525b7b7f89.png>
- <http://alfabetizandocomunicaeturma.blogspot.com/search/label/Sequencia%20Num%C3%A9rica>



