

PREFEITURA DA ESTÂNCIA TURÍSTICA DE IBIÚNA

E.M. “ LOURIVAL CORREIA DE ARAÚJO”

PROFESSORA: ELLEN CARDOSO

“ 1º ANO A ”

MINHAS ATIVIDADES

5ª REMESSA

DE 11/5 À 31/5/2021

ALUNO(A): _____

**E.M. “ LOURIVAL CORREIA DE ARAÚJO”
PROFESSORA ELLEN- 1º ANO A**

NOME: _____

**IBIÚNA, 11 DE MAIO DE 2021
LÍNGUA PORTUGUESA**

COM AJUDA DE UM RESPONSÁVEL, LEIA A PARLENDAS:



A BRUXA

**ERA UMA BRUXA
À MEIA-NOITE
EM UM CASTELO
MAL-ASSOMBRADO
COM UMA FACA NA MÃO
PASSANDO MANTEIGA NO PÃO**

**PROCURE NA PARLENDAS E PINTE DE AMARELO AS PALAVRAS QUE ESTÃO ABAIXO.
REPRESENTE COM UM DESENHO BEM BONITO!**

BRUXA	CASTELO
FACA	MÃO

E.M. " LOURIVAL CORREIA DE ARAÚJO"
PROFESSORA ELLEN- 1º ANO A

IBIÚNA, 11 DE MAIO DE 2021
LÍNGUA PORTUGUESA

SUBSTITUA OS DESENHOS PELAS PALAVRAS CORRESPONDENTES
E COMPLETE A PARLENDAS:

ERA UMA



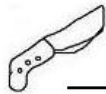
À MEIA-NOITE

EM UM



MAL-ASSOMBRADO

COM UMA



NA



PASSANDO MANTEIGA NO



BANCO DE PALAVRAS:

CASTELO

BRUXA

FACA

MÃO

PÃO

IBIÚNA, 12 DE MAIO DE 2021.

MATEMÁTICA

OBSERVE, CONTE E ESCREVA A QUANTIDADE EM CADA QUADRADINHO:
NÃO SE ESQUEÇA DE COLORIR O DESENHO.



COM AJUDA DE UM RESPONSÁVEL, VAMOS ESCREVER O NOME DOS ANIMAIS QUE APARECEM NA IMAGEM:



E.M. " LOURIVAL CORREIA DE ARAÚJO"

PROFESSORA ELLEN- 1º ANO A

IBIÚNA, 12 DE MAIO DE 2021.

LÍNGUA PORTUGUESA

**COMPLETE O NOME DAS FIGURAS COM
AS SÍLABAS INICIAIS:**




___ LÃÃO



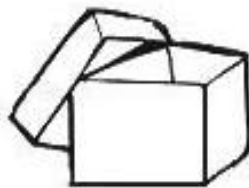
___ LO



___ LE



___ BIDE



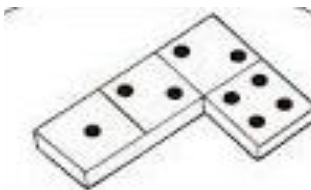
___ IXA




___ CA



___ NHEIRO



___ MINÓ




___ DO

ANIMAIS DOMÉSTICOS

São aqueles que vivem perto de nós.


Exemplos: Cachorro, gato, galinha, etc.



ANIMAIS SELVAGENS

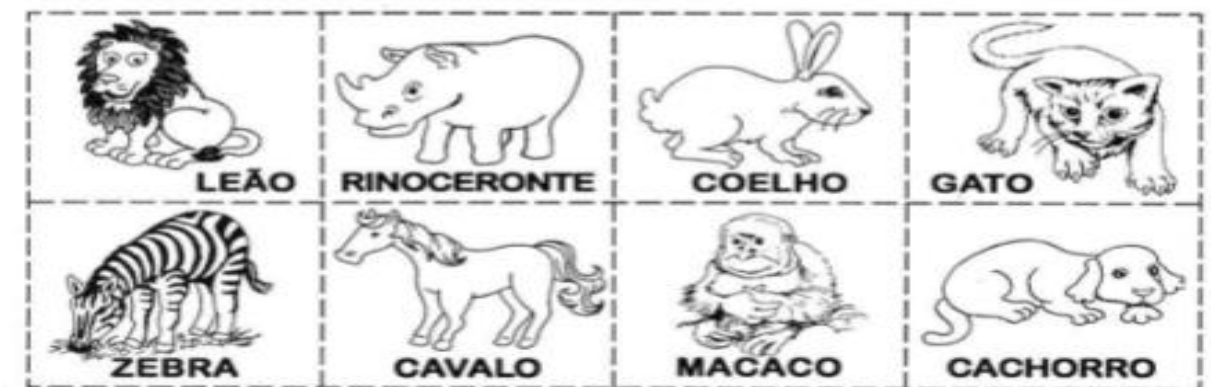
São aqueles que vivem longe de nós, geralmente nas matas e florestas.

Exemplos: onça, tigre, elefante, cobra, etc.



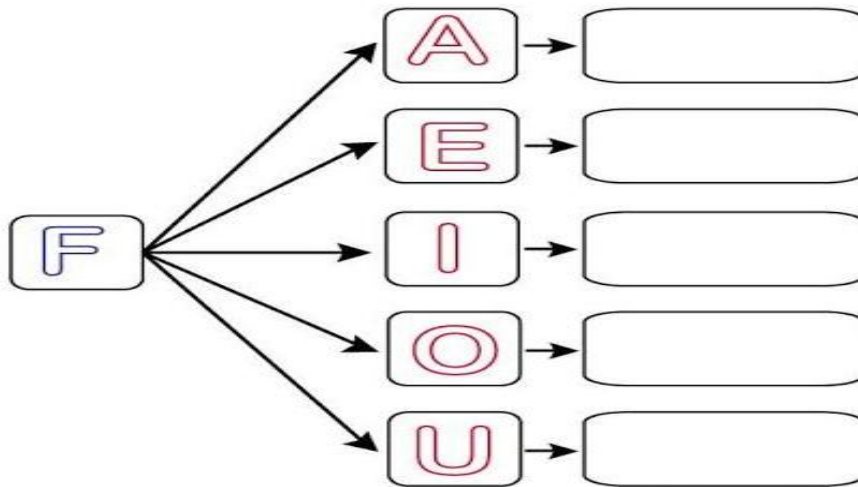
DOMÉSTICOS	SELVAGENS

RECORTE E COLE NO QUADRO, SEPARANDO EM ANIMAIS DOMÉSTICOS E SELVAGENS



FAMÍLIA SILÁBICA DO F

UNA A LETRA F COM CADA VOGAL E FORME AS SÍLABAS:



1- RECORTE E COLE A SÍLABA INICIAL DE CADA PALAVRA E ESCREVA A PALAVRA FORMADA ABAIXO.


 [] TEBOL _____	 [] IJÃO _____	 [] CA _____
 [] DA _____	 [] RRO _____	 [] TA _____
 [] SCA _____	 [] LA _____	 [] GO _____

✂


FA	FA	FE	FE	FI	FI	FO	FU	FU
----	----	----	----	----	----	----	----	----

FORMAS GEOMÉTRICAS:


QUEM CONHECE ESSAS FIGURAS?



círculo



quadrado



triângulo

PODEMOS ENCONTRAR ESSAS FIGURAS EM VÁRIOS OBJETOS NO NOSSO DIA A DIA.



AGORA É COM VOCÊ!!!


1) DESENHE 3 OBJETOS DO SEU DIA-A-DIA QUE SE PAREÇAM COM AS FIGURAS ACIMA.

--	--	--

2) QUAL DESSES OBJETOS MAIS SE PARECE COM A FORMA DE UM CÍRCULO?



A



B

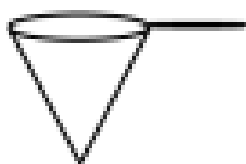


C



D


3) QUAL DESSES OBJETOS MAIS SE PARECE COM A FORMA DE UM QUADRADO?



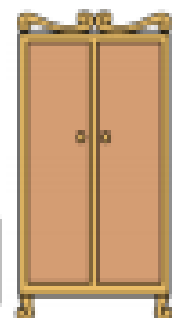
A



B



C



D

LEITURA DE TEXTO:

A FOCA VIU A BOLA
MAS O GATO A PEGOU
LEVOU-A PARA CASA
JUNTO AO DADO A COLOCOU!

ISABEL CRISTINA S. SOARES



1 - QUEM VIU A BOLA FOI:



2 - QUEM PEGOU A BOLA FOI:



3- ENCONTRE NO TEXTO A PALAVRA **FOCA** E PINTE DE AZUL.

4- ENCONTRE NO TEXTO A PALAVRA **GATO** E PINTE DE AMARELO.

5- ENCONTRE NO TEXTO A PALAVRA **BOLA** E PINTE DE VERDE.

ESCREVA QUATRO (4) PALAVRAS QUE COMECEM COM: FA-FE-FI-FO OU FU:

E.M. “ LOURIVAL CORREIA DE ARAÚJO”
PROFESSORA ELLEN- 1º ANO A

NOME: _____

IBIÚNA, 17 DE MAIO DE 2021
HISTÓRIA

AS BRINCADEIRAS DA VOVÓ E DO VOVÔ SÃO ANTIGAS. HOJE AS BRINCADEIRAS SÃO BEM DIFERENTES. VEJA ESSAS BRINCADEIRAS ANTIGAS:

PIÃO



BOLA DE GUDE



BAMBOLE



AS BRINCADEIRAS FAZEM PARTE DA VIDA DAS CRIANÇAS, BRINCAR AJUDA A FAZER AMIZADES, OUVIR OPINIÕES, RESPEITAR REGRAS, TROCAR IDÉIAS ENTRE OUTROS BENEFÍCIOS.

E NOS DIAS DE HOJE AS CRIANÇAS BRINCAM COM EQUIPAMENTOS MAIS MODERNOS:

DESENHE A CARINHA “GOSTO” OU “NÃO GOSTO” PARA CADA BRINCADEIRA ABAIXO.

	
GOSTO	NÃO GOSTO

1-NOTEBOOK	2-VIDEOGAME	3-CELULAR
		

E.M. “ LOURIVAL CORREIA DE ARAÚJO”

PROFESSORA ELLEN- 1º ANO A

IBIÚNA, 17 DE MAIO DE 2021.

MATEMÁTICA

NOÇÕES DE LATERALIDADE

COMPLETE A CENA DE ACORDO COM AS PISTAS:

- + DESENHE O SOL ACIMA DO TELHADO.**
- + DESENHE UMA ÁRVORE DO LADO DIREITO DA CASA.**
- + DESENHE UM CARRO DO LADO ESQUERDO DA CASA.**
- + DESENHE UMA MONTANHA ATRÁS DA CASA**
- + DESENHE UMA CRIANÇA EM FRENTE A CASA.**
- + FLORES EMBAIXO DA CASA.**




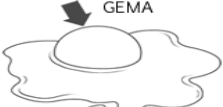

















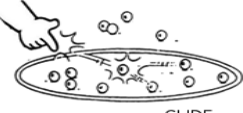
FAMÍLIA SILÁBICA DO G:



1-FORME A FAMÍLIA SILÁBICA DA LETRA G E EM SEGUIDA, PINTE OS DESENHOS INICIADOS PELA SÍLABA EM DESTAQUE.

G

A E I O U

NOME: _____

IBIÚNA, 18 DE MAIO DE 2021.
LÍNGUA PORTUGUESA

COMPLETE:

GA GE GI GO GU GÃO

01. COMPLETE AS PALAVRAS COM A SÍLABA INICIAL CORRESPONDENTE.



TO



LO



LO



VETA



VIÃO



LINHA



RAFA



LOSO



LATINA

E.M. “ LOURIVAL CORREIA DE ARAÚJO”
PROFESSORA ELLEN- 1º ANO A

IBIÚNA, 19 DE MAIO DE 2021.
MATEMÁTICA

OBSERVE NA TABELA DE PREÇOS OS VALORES DOS LANCHES FAVORITOS DE MAGALI.



PRODUTO	VALOR
 SUCCO	2 REAIS
 SANDUÍCHE	5 REAIS
 HAMBURGUER	6 REAIS
 REFRIGERANTE	2 REAIS
 SALADA DE FRUTAS	3 REAIS

A. PINTE DE AMARELO O VALOR DO PRODUTO MAIS CARO.

B. PINTE DE AZUL O VALOR DO PRODUTO MAIS BARATO.

C. PARA LANCHAR UM SUCO+ UM HAMBURGUER, ELA GASTARIA QUANTO?

_____.

D. PARA LANCHAR UM SANDUÍCHE + UM REFRIGERANTE, ELA GASTARIA QUANTO? _____.


E. ESCOLHA TRÊS PRODUTOS QUE ESTEJAM NESTE QUADRO E SEJAM DE SUA PREFERÊNCIA PARA MONTAR O SEU LANCHE:

DESENHE E NO FINAL CALCULE O VALOR TOTAL:

PRODUTO 1	PRODUTO 2	PRODUTO 3	VALOR TOTAL

PERÍODOS DO DIA:

LEMBRANDO:	
PERÍODOS DE TEMPO	PERÍODOS DO DIA
ONTEM – É O TEMPO QUE PASSOU.	MANHÃ
HOJE – ESTÁ ACONTECENDO.	TARDE
AMANHÃ – AINDA VAI ACONTECER.	NOITE



1) TODO MUNDO TEM UMA ROTINA DIÁRIA. OBSERVE OS DESENHOS ABAIXO E FAÇA UMA LISTA COM A ORDEM QUE VOCÊ REALIZA ESSAS ATIVIDADES NO SEU DIA.

				
DORMIR	BRINCAR	ESTUDAR	ACORDAR	ALMOÇAR

RESPONDA DE ACORDO COM AS IMAGENS: ↑

1° _____

2° _____

3° _____

4° _____

5° _____

E.M. “ LOURIVAL CORREIA DE ARAÚJO”

PROFESSORA ELLEN- 1º ANO A

IBIÚNA, 20 DE MAIO DE 2021.

LÍNGUA PORTUGUESA

**VAMOS ESCREVER UMA LISTA DE NOMES DE MENINOS E MENINAS
QUE VOCÊS CONHECEM:**



MENINAS



MENINOS

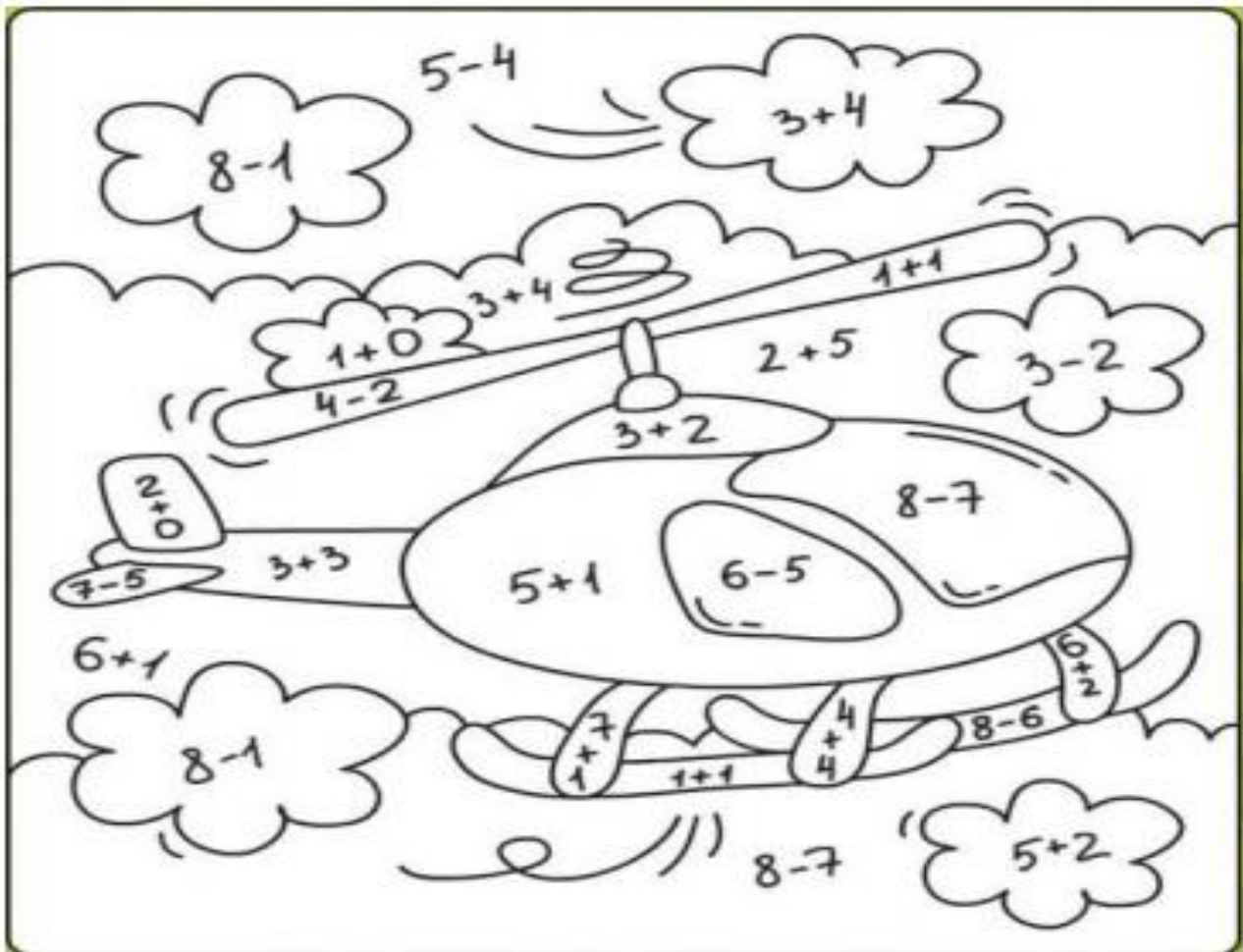
ESCREVA O NOME DOS SEUS MELHORES AMIGOS (AS):



NOME: _____

IBIÚNA, 20 DE MAIO DE 2021.
MATEMÁTICA

**CALCULE AS ADIÇÕES E SUBTRAÇÕES E PINTE
CONFORME A LEGENDA:**




SE PRECISAR, UTILIZE ESSE ESPAÇO PARA FAZER AS CONTAS:

FAMÍLIA SILÁBICA DO J:

JA JE JI JO JU


FAMÍLIA DO J



1-COMPLETE AS PALAVRAS COM A SÍLABA INICIAL CORRESPONDENTE




VALI



MENTO



GUE



JUBA




PE




ÍZ



ANINHA



NELA



BÓIA

E.M. “ LOURIVAL CORREIA DE ARAÚJO”

PROFESSORA ELLEN- 1º ANO A

IBIÚNA, 21 DE MAIO DE 2021.

LÍNGUA PORTUGUESA

**RECORTE AS PALAVRAS QUE ESTÃO NO BANCO DE PALAVRAS E
COLE DE ACORDO COM A IMAGEM:**

ESCRITA DO NOME

COLAGEM DA TARJETA











RECORTE E COLE AS PALAVRAS AO LADO DA IMAGEM:

.....

JIBÓIA	JUJUBAS	JOANINHA
JEGUE	JACARÉ	

E.M. " LOURIVAL CORREIA DE ARAÚJO "
PROFESSORA ELLEN- 1º ANO A

NOME: _____

IBIÚNA, 24 DE MAIO DE 2021.

MATEMÁTICA

COMPLETE O CALENDÁRIO DO MÊS DE MAIO

DOMINGO	SEGUNDA FEIRA	TERÇA FEIRA	QUARTA FEIRA	QUINTA FEIRA	SEXTA FEIRA	SÁBADO

 **QUAL DIA DA SEMANA INICIA O MÊS DE MAIO?**

 **NO DIA 09 DE MAIO, COMEMORAMOS O DIA DAS MÃES, QUAL DIA DA SEMANA VAI SER ESSA DATA?**

 **QUANTOS DIAS TEM ESSE MÊS?**

 **QUAL DIA FICA ENTRE OS DIAS 25 E 27? _____**

 **QUAL DIA VEM ANTES DO DIA 30? _____**

 **QUAL DIA VEM DEPOIS DO DIA 19? _____**

E.M. “ LOURIVAL CORREIA DE ARAÚJO”
PROFESSORA ELLEN- 1º ANO A

NOME: _____

IBIÚNA, 24 DE MAIO DE 2021.

HISTÓRIA

A PETECA É UM BRINQUEDO INDÍGENA, É FEITA DE PALHA DE MILHO AMARRADA COMO UMA TROUXINHA. A PETECA PODE SER FEITA DE OUTROS MATERIAIS TAMBÉM.



Fonte: cantosdofloresta.com.br

PETECA INDÍGENA



Fonte: br. imagenscach.com

PETECA

OS ÍNDIOS TAMBÉM COSTUMAM BRINCAR COM UM PIÃO QUE ELES FAZEM, COM LIMÃO E PALITO.



Fonte: portaldo professor.mec.gov.br

1) VOCÊ JÁ BRINCOU COM UMA PETECA?

A) SIM

B) NÃO

2) FAÇA O DESENHO DE UMA PETECA BEM COLORIDA.

E.M. “ LOURIVAL CORREIA DE ARAÚJO”
PROFESSORA ELLEN- 1º ANO A

IBIÚNA, 25 DE MAIO DE 2021.
MATEMÁTICA

COM AUXÍLIO, FAÇA A LEITURA PARA RESPONDER:

PAULO É UM GAROTO QUE ADORA COMER FRUTAS. ELE RESOLVEU COMER UMA FRUTA DIFERENTE A CADA DIA DA SEMANA.

OBSERVE AS FRUTAS QUE ELE ESCOLHEU E RESPONDA AS QUESTÕES ABAIXO:

PINTE DE AMARELO O PRIMEIRO DIA DA SEMANA.
PINTE DE AZUL O ÚLTIMO DIA DA SEMANA.

1º DIA	2º DIA	3º DIA	4º DIA	5º DIA	6º DIA	7º DIA
DOMINGO	SEGUNDA-FEIRA	TERÇA-FEIRA	QUARTA-FEIRA	QUINTA-FEIRA	SEXTA-FEIRA	SÁBADO
						

EM QUE DIA DA SEMANA ELE COMEU:

- A) PÊRA - _____
- B) BANANA - _____
- C) UVA - _____
- D) MORANGO - _____
- E) MAÇÃ - _____
- F) MELANCIA - _____
- G) ABACAXI - _____

E.M. "LOURIVAL CORREIA DE ARAÚJO"
PROFESSORA ELLEN- 1º ANO A

IBIÚNA, 25 DE MAIO DE 2021.
LÍNGUA PORTUGUESA

**COMPLETE AS PALAVRAS COM AS SÍLABAS
QUE ESTÃO EM DESTAQUE:**

DA

MA

JA

FA

CA

BO

LU

GA



___LO



___DO



___SA



___TO



___DA



___CACO



___CARÉ



___A

**E.M. “ LOURIVAL CORREIA DE ARAÚJO”
PROFESSORA ELLEN- 1º ANO A**

**IBIÚNA, 26 DE MAIO DE 2021.
MATEMÁTICA**

NÚMEROS ORDINAIS:

OBSERVE A IMAGEM E FAÇA O QUE ESTÁ SENDO PEDIDO:



- A.) PINTE DE VERDE A CAMISA DO 4º MENINO.**
- B.) PINTE DE AMARELO O CABELO DO 2º MENINO.**
- C.) PINTE DE AZUL O TÊNIS DO 2º, E DO 3º MENINO.**
- D.) OS MENINOS QUE ESTÃO COM A BOLA ESTÃO EM _____ LUGAR E
_____ LUGAR.**
- E.) O MENINO DE CAMISA PRETA ESTÁ EM _____ LUGAR.**

**E.M. “ LOURIVAL CORREIA DE ARAÚJO”
PROFESSORA ELLEN- 1º ANO A**

**IBIÚNA, 26 DE MAIO DE 2021.
LÍNGUA PORTUGUESA**

REALIZE A LEITURA DA PARLENDAS

UNI, DUNI, TÊ
UNI, DUNI, TÊ,
SALAMÊ, MINGÛÊ,
UM SORVETE COLORÊ,
O ESCOLHIDO FOI VOCÊ!



**AGORA COMPLETE A PARLENDAS COM AS
PALAVRAS QUE ESTÃO FALTANDO:**

UNI, _____, _____

_____, **DUNI,** _____

_____, **MINGÛÊ,**

UM _____,

O _____ **FOI VOCÊ!**

HIGIENE BUCAL

A HIGIENE BUCAL É NECESSÁRIA PARA TODAS AS PESSOAS MANTEREM A SAÚDE DE SEUS DENTES E BOCA.



OS PRIMEIROS DENTES SÃO CHAMADOS DE DENTES DE LEITE E ELAS COMEÇAM A APARECER NAS CRIANÇAS ENTRE OS 5 A 7 MESES DE IDADE. DEVEMOS CUIDAR DOS NOSSOS DENTES DESDE QUANDO SOMOS BEBÊS.

AS CRIANÇAS TÊM EM MÉDIA 20 DENTES DE LEITE, SENDO 10 EM CIMA E 10 EMBAIXO.

OS DENTES DE LEITE COMEÇAM A CAIR A PARTIR DOS 6 ANOS DE IDADE. O QUIQUINHO FALOU QUE A MAIORIA DOS AMIGUINHOS DELE DO 1º ANO TÊM JANELINHA, QUE É O DENTE DE LEITE QUE CAIU PARA NASCER UM DENTE PERMANENTE.

DEVEMOS ESCOVAR OS DENTES SEMPRE DEPOIS DE CADA REFEIÇÃO, PASSAR O FIO DENTAL E IR AO DENTISTA PELO MENOS UMA VEZ AO ANO.

OBSERVE AS IMAGENS E ASSINALE COM (X) AS QUE UTILIZAMOS

PARA REALIZAR A HIGIENE BUCAL:



(A)

SHAMPOO



(B)

FIO DENTAL



(C)

PASTA DE DENTE



(D)

PAPEL HIGIÊNICO



(E)

SABONETE



(F)

ESCOVA DE DENTE

E.M. " LOURIVAL CORREIA DE ARAÚJO"
PROFESSORA ELLEN- 1º ANO A

IBIÚNA, 27 DE MAIO DE 2021.
LÍNGUA PORTUGUESA

**OBSERVE O BANCO DE PALAVRAS E ESCREVA
A RESPOSTA CORRETA:**



DEPOIS DE COMER O QUEIJO A MAGALI DEVE ...

CORRER PARA O PARQUINHO

ESCOVAR OS DENTES

VER DESENHO ANIMADO

FAÇA UMA ILUSTRAÇÃO SOBRE:

BOCA E DENTES









ESCOVA E PASTA DE DENTES

BOCA E DENTES	ESCOVA E PASTA DE DENTES

E.M. " LOURIVAL CORREIA DE ARAÚJO"
PROFESSORA ELLEN- 1º ANO A

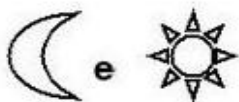
IBIÚNA, 28 DE MAIO DE 2021.
LÍNGUA PORTUGUESA

OBSERVE OS SÍMBOLOS E AS SÍLABAS CORRESPONDENTES:

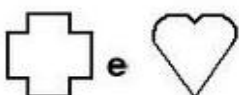
DA	TO	GA	FA	CA	FO	DO	BO
							

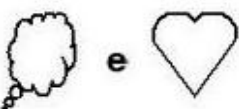
AGORA VAMOS FORMAR PALAVRAS ?

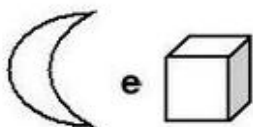


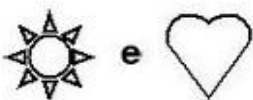












E.M. "LOURIVAL CORREIA DE ARAÚJO"

PROFESSORA ELLEN- 1º ANO A

IBIÚNA, 28 DE MAIO DE 2021.

MATEMÁTICA

NÚMEROS ORDINAIS:

O 1º MENINO DE VERMELHO

O 2º MENINO DE VERDE

O 3º MENINO DE AZUL

O 4º MENINO DE AMARELO

O 5º MENINO DE LARANJA

O 6º MENINO DE MARRON

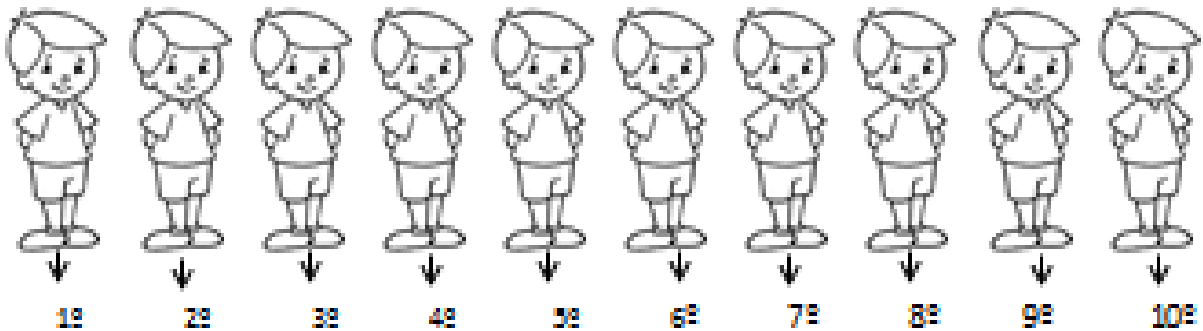
O 7º MENINO DE ROXO

O 8º MENINO DE BEJE


O 9º MENINO DE CINZA

O 10º MENINO DE ROSA


PINTE



Pinte de azul o chapéu do 2º palhaço e de amarelo a gravata do terceiro palhaço.



Pinte de amarelo o 1º e o 6º patinho.



Pinte de azul a 1ª, 3ª, 5ª e a 7ª borboletinha.



**E.M. “ LOURIVAL CORREIA DE ARAÚJO”
PROFESSORA ELLEN- 1º ANO A**

**IBIÚNA, 31 DE MAIO DE 2021.
MATEMÁTICA**

0	1	2	3	4	5	6	7	8	9	10
---	---	---	---	---	---	---	---	---	---	----

- OBSERVE OS BRINQUEDOS DO JOÃO E FAÇA O QUE SE PEDE:



- 1) CONTE E DESCUBRA O NÚMERO DE CADA BRINQUEDO ABAIXO:



- 2) OBSERVE A ESTANTE DE JOÃO E DESCUBRA O TOTAL DOS BRINQUEDOS ABAIXO:

+ _____ + _____ = _____	+ _____ + _____ = _____
+ _____ + _____ = _____	+ _____ + _____ = _____

**E.M. “ LOURIVAL CORREIA DE ARAÚJO”
PROFESSORA ELLEN- 1º ANO A**



IBIÚNA, 31 DE MAIO DE 2021.

ARTE

**VAMOS CONHECER DUAS OBRAS IMPORTANTES
DO ARTISTA IVAN CRUZ.**

(BRINCADEIRAS DE CRIANÇA)

FAÇA A RELEITURA (CÓPIA DA OBRA)



REFERÊNCIAS:

- CANTINHOPREFERIDODAMAH.BLOGSPOT.COM
- WWW.ATIVIDADES PARA IMPRIMIR.COM
- WWW.AARTEDEENSINAREAPRENDER.COM
- ALFAKIDS.ORG
- WWW.PINTEREST.COM
- WWW.ESPACOPROFESSOR.COM.BY KATIA TEIXEIRA
- WWW.SMARTKIDS.COM.BR
- VARALDEATIVIDADES.BLOGSPOT.COM
- WWW.TODAMATERIA.COM.BR
- MAXIMIZESEPEDAGOGICA
- ATIVIDADESPARAEDUCADORES.BLOGSPOT.COM
- IDEIACRIATIVA
- ABCCRIATIVO