

E.M."PROFESSOR CALIL RAHAL NETO"

---

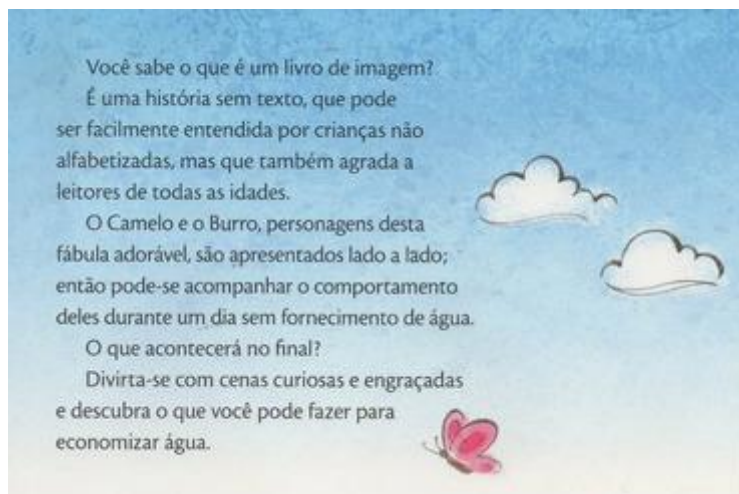
IBIÚNA,11 DE MAIO DE 2021

---

HOJE É TERÇA -FEIRA

---

MEU NOME É: \_\_\_\_\_



OBSERVE A CAPA DO LIVRO:

QUAL É O TÍTULO DO LIVRO?

QUEM FEZ A ILUSTRAÇÃO?

QUAL O NOME DA EDITORA?

E.M."PROFESSOR CALIL RAHAL NETO"

NOME: \_\_\_\_\_

PROFESSORA: JOCELI

TURMA: 2º ANO A

DATA: 11/05/2021

ENTREGA: 08/06/2021

① Resolva os fatos e coloque os resultados no caminho abaixo.

The path starts at a point labeled "SAÍDA" (Exit) and ends at a point labeled "CHEGADA" (Arrival). The path is divided into segments, each containing a simple addition or subtraction problem. The problems are:  $1 + 3 =$ ,  $4 - 2 =$ ,  $4 - 0 =$ ,  $3 + 1 =$ ,  $2 - 1 =$ ,  $4 - 3 =$ ,  $2 + 2 =$ ,  $4 + 0 =$ ,  $1 + 2 =$ ,  $4 - 1 =$ ,  $3 - 2 =$ ,  $2 + 1 =$ , and  $4 - 4 =$ . The path is decorated with illustrations of a boy with curly hair, a butterfly, and a garden with flowers.

E.M. "PROFESSOR CALIL RAHAL NETO"

IBIÚNA, 12 DE MAIO DE 2021

HOJE É QUARTA -FEIRA

MEU NOME É: \_\_\_\_\_

## O CAMELO ,O BURRO E A ÁGUA

(AUTOR E ILUSTRAÇÃO: MERLI)





IBIÚNA,13 DE MAIO DE 2021

HOJE É QUINTA -FEIRA

MEU NOME É: \_\_\_\_\_









1-VOCÊ GOSTOU DA HISTÓRIA "O CAMELO, O BURRO E A ÁGUA"?

SIM

NÃO

2- A HISTÓRIA ENSINA QUE DEVEMOS ECONOMIZAR ÁGUA PARA ELA NÃO ACABAR.

MARQUE UM X NAS IMAGENS QUE MOSTRAM ATITUDES QUE EVITAM O DESPERDÍCIO DE ÁGUA:

 <input type="checkbox"/>	 <input type="checkbox"/>	 <input type="checkbox"/>	 <input type="checkbox"/>
 <input type="checkbox"/>	 <input type="checkbox"/>	 <input type="checkbox"/>	 <input type="checkbox"/>

E.M."PROFESSOR CALIL RAHAL NETO"

NOME: \_\_\_\_\_

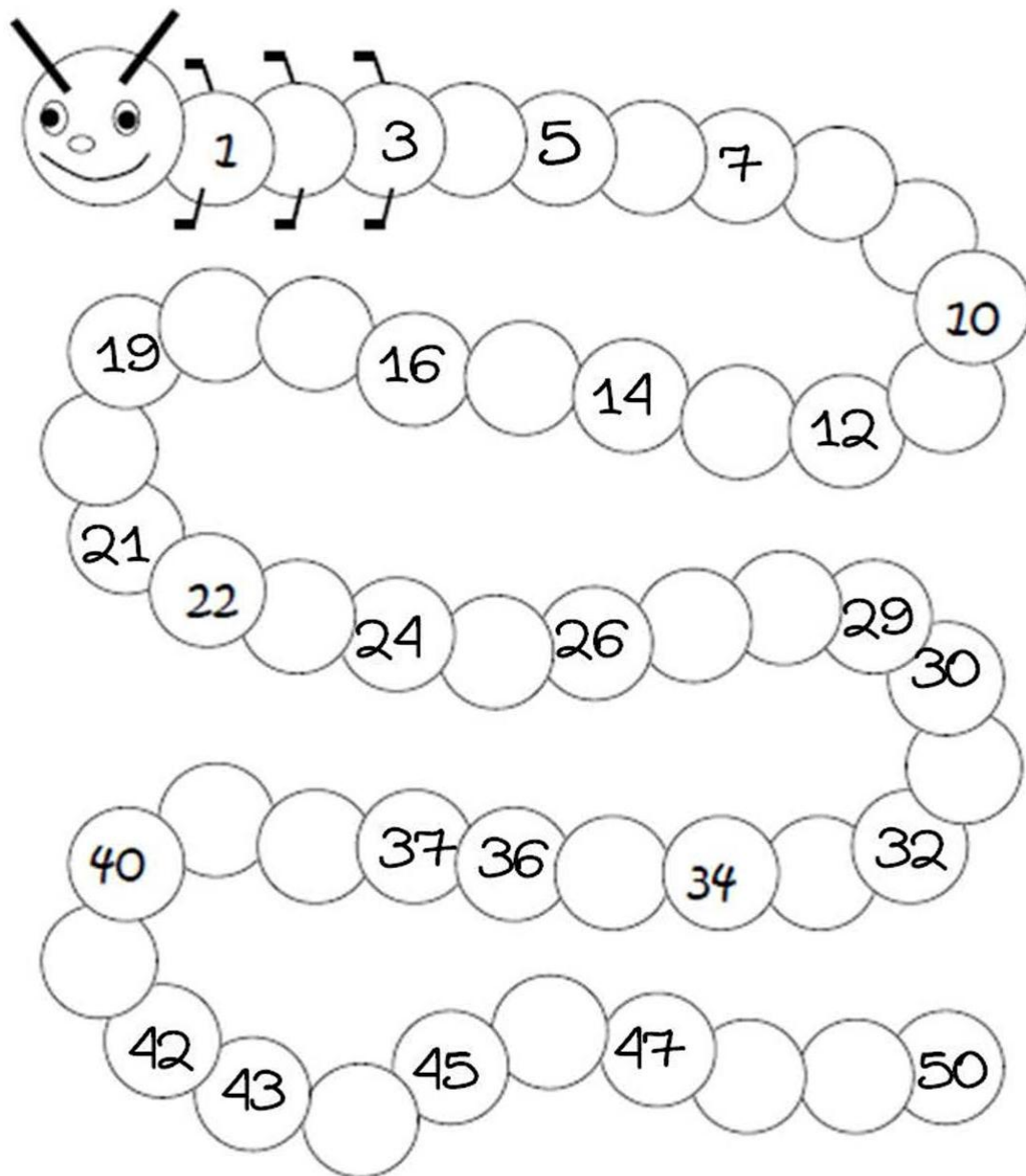
PROFESSORA: JOCELI

TURMA: 2º ANO A

DATA: 13/05/2021

ENTREGA: 08/06/2021

# VAMOS COMPLETAR?



E.M."PROFESSOR CALIL RAHAL NETO"

IBIÚNA,14 DE MAIO DE 2021

HOJE É SEXTA -FEIRA

MEU NOME É: \_\_\_\_\_

**LEIA AS FRASES DOS QUADROS ABAIXO E PINTE DE AZUL AS QUE REPRESENTAM O CAMELO E DE VERMELHO AS QUE REPRESENTAM O BURRO:**

MOLHA AS PLANTAS  
COM MANGUEIRA

ENSABOA A LOUÇA  
COM A TORNEIRA  
FECHADA

MOLHA AS PLANTAS  
COM REGADOR

BEBE ÁGUA E  
FECHA O FILTRO

BEBER ÁGUA E  
DEIXAR O FILTRO  
PINGAR

ESCOVA OS DENTES  
E DEIXA A TORNEIRA  
ABERTA

DEMORA NO BANHO  
E DEIXA O CHUVEIRO  
ABERTO

ENSABOA A  
LOUÇA COM A  
TORNEIRA ABERTA


TOMA BANHO  
RAPIDINHO

ESCOVAR OS DENTES  
COM A TORNEIRA  
FECHADA

COPIE AS PALAVRAS:



CAMELO



BURRO

E.M. "PROFESSOR CALIL RAHAL NETO"

NOME: \_\_\_\_\_

PROFESSORA: JOCELI

TURMA: 2º ANO A

DATA: 14/05/2021

ENTREGA: 08/06/2021




**RELACIONANDO RELÓGIO DIGITAL  
COM ANALÓGICO**




1. Associe a hora digital à hora do relógio com ponteiros.

12:00



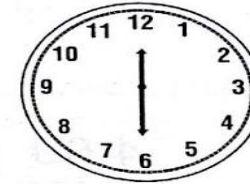
2:00




12:30



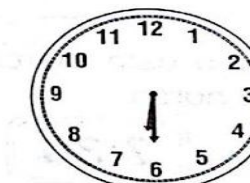
6:30



10:00



6:00





IBIÚNA, 17 DE MAIO DE 2021

HOJE É SEGUNDA -FEIRA

MEU NOME É: \_\_\_\_\_



VAMOS COMPLETAR AS PALAVRAS:

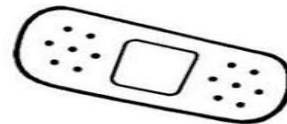
**CA - CO - CU**



\_\_\_ VALO



\_\_\_ ELHO



\_\_\_ RATIVO




\_\_\_ SA



\_\_\_ PO



\_\_\_ ECA



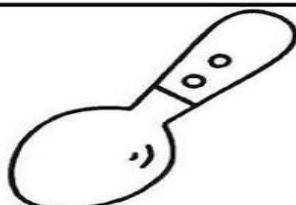
\_\_\_ RUJA



\_\_\_ MA




\_\_\_ RUPIRA



\_\_\_ LHER



\_\_\_ IA



\_\_\_ DEIRA

E.M."PROFESSOR CALIL RAHAL NETO"

NOME: \_\_\_\_\_

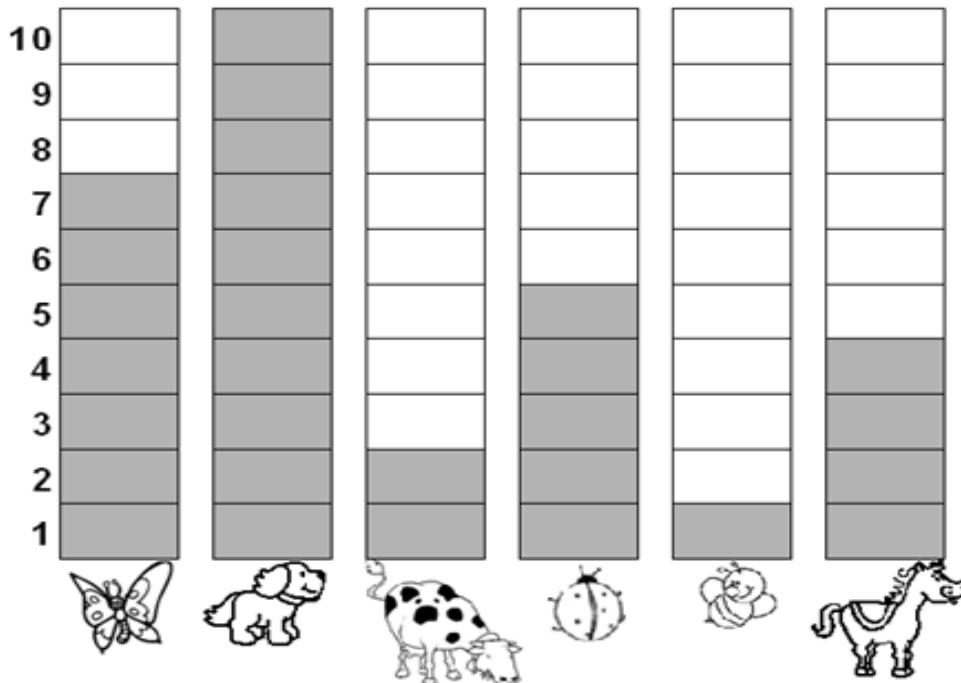
PROFESSORA: JOCELI

TURMA: 2º ANO A

DATA: 17/05/2021

ENTREGA: 08/06/2021

- Observe o gráfico que mostra o animal preferido pelos alunos do 2º ano:



- De acordo com o gráfico, complete a tabela abaixo, escrevendo o nome dos animais e sua respectiva quantidade:

NOME DO ANIMAL	QUANTIDADE
Abelha	
Borboleta	
Cachorro	
Cavalo	
Joaninha	
Vaca	

- Qual foi o animal mais votado? \_\_\_\_\_
- Qual foi o animal menos votado? \_\_\_\_\_
- Quantos votos teve o cavalo? \_\_\_\_\_
- Qual animal teve 7 votos? \_\_\_\_\_

E.M."PROFESSOR CALIL RAHAL NETO"

---

IBIÚNA,18 DE MAIO DE 2021

---

HOJE É TERÇA -FEIRA

---

MEU NOME É: \_\_\_\_\_

### TEXTO INSTRUCIONAL


Camelo é um bicho econômico por natureza, consegue poupar a água do próprio corpo mesmo vivendo a temperaturas muito altas no deserto. Suporta calor de até 40°C sem suar e bebe até 100 litros de água de uma única vez. Depois consegue ficar três semanas sem tomar nada, período em que vai usando a gordura da corcova para se hidratar. Com base nesta curiosidade, cite algumas atitudes para economizarmos água:

---

---

---

---



SEPARE EM SÍLABAS A **CAMELO**:

E.M. "PROFESSOR CALIL RAHAL NETO"

NOME: \_\_\_\_\_

PROFESSORA: JOCELI

TURMA: 2º ANO A

DATA: 18/05/2021

ENTREGA: 08/06/2021

# PERCURSO MALUCO

COMPLETE O PERCURSO EM ORDEM DECRESCENTE E AJUDE O MENINO A ENCONTRAR SUA BOLA.




50 49   46 45   
 43

33 34  36  38   41

31   28  26 25  23 22

11  13 14  16 17  19

9  7   4 3



E.M."PROFESSOR CALIL RAHAL NETO"

---

IBIÚNA,19 DE MAIO DE 2021

---

HOJE É QUARTA -FEIRA

---


MEU NOME É: \_\_\_\_\_

**ESCREVA E DESENHE:**


**CONSTRUINDO UM MUNDO MELHOR**

**CONVERSANDO EM FAMÍLIA SOBRE COOPERAÇÃO E RESPEITO**

SOU CRIANÇA, MAS POSSO COOPERAR EM CASA...



SOU CRIANÇA, MAS RESPEITO MINHA FAMÍLIA QUANDO...



E.M."PROFESSOR CALIL RAHAL NETO"

NOME: \_\_\_\_\_

PROFESSORA: JOCELI

TURMA: 2º ANO A

DATA: 19/05/2021

ENTREGA: 08/06/2021

## CONTINHAS DE ADIÇÃO

D	U
2	3
+2	2



D	U
5	6
+1	3

D	U
9	7
+0	2

D	U
7	4
+2	4

D	U
4	8
+3	1

D	U
3	9
+1	0

D	U
1	5
+1	4

D	U
2	5
+2	0

D	U
5	0
+3	0

D	U
8	6
+0	3

E.M."PROFESSOR CALIL RAHAL NETO"

---

IBIÚNA, 20 DE MAIO DE 2021

---

HOJE É QUINTA -FEIRA


---

MEU NOME É: \_\_\_\_\_

### TEXTO INSTRUCIONAL

AGORA É SUA VEZ! PESQUISE E PREENCHA O QUADRO ABAIXO:

### ANIMAL: BURRO



### PESQUISAR:

NOME DO ANIMAL:	
ONDE VIVE:	
O QUE COME:	
COBERTURA DO CORPO:	
NÚMERO DE PATAS:	

# E.M."PROFESSOR CALIL RAHAL NETO"

NOME: \_\_\_\_\_


PROFESSORA: JOCELI

TURMA: 2º ANO A

DATA: 20/05/2021

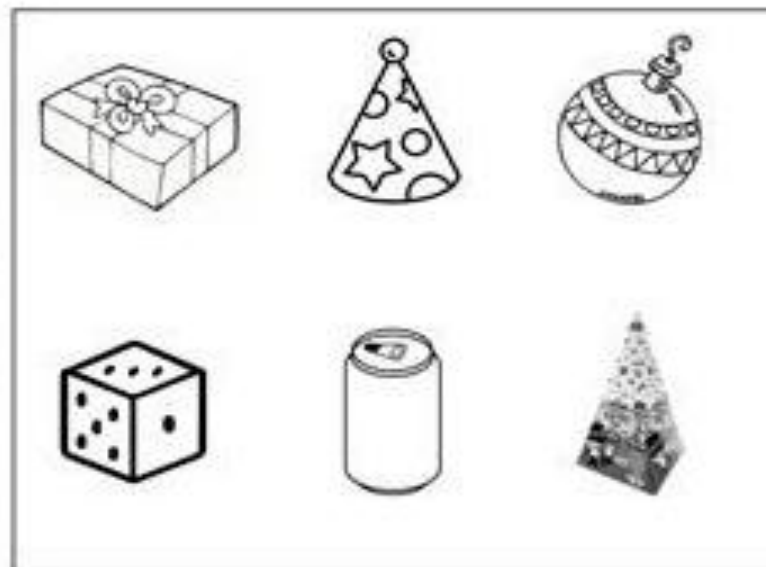

ENTREGA: 08/06/2021

## SÓLIDOS GEOMÉTRICOS



OS SÓLIDOS GEOMÉTRICOS SÃO OBJETOS TRIDIMENSIONAIS, OU SEJA, QUE POSSUEM TRÊS DIMENSÕES: ALTURA, COMPRIMENTO E LARGURA.

A PROFESSORA DE PEDRO PASSOU UMA TAREFA DE CASA SOBRE OS SÓLIDOS GEOMÉTRICOS. ELE TEVE QUE PESQUISAR 6 (SEIS) TIPOS DE SÓLIDOS GEOMÉTRICOS E LEVAR 6 (SEIS) OBJETOS QUE TIVESSEM A MESMA FORMA DELES. OBSERVE OS SÓLIDOS QUE ELE PESQUISOU E OS OBJETOS QUE ELE SELECIONOU:



1. AGORA, PINTE:

- A) O CUBO DE AMARELO
- B) A ESFERA DE VERDE
- C) A PIRÂMIDE DE VERMELHO
- D) O CONE DE LARANJA
- E) O PARALELEPÍPEDO DE AZUL
- F) O CILINDRO DE ROSA



IBIÚNA, 21 DE MAIO DE 2021

---

HOJE É SEXTA -FEIRA

---

MEU NOME É: \_\_\_\_\_

OS NOMES DE PESSOAS, ANIMAIS E COISAS PODEM SER MASCULINOS OU FEMININOS  
PARA O GÊNERO MASCULINO SEMPRE USAMOS OS ARTIGOS "O- UM" E, PARA O FEMININO USAMOS  
O "A- UMA".

**MASCULINO E FEMININO:**



E.M."PROFESSOR CALIL RAHAL NETO"

NOME: \_\_\_\_\_

PROFESSORA: JOCELI

TURMA: 2º ANO A

DATA: 21/05/2021

ENTREGA: 08/06/2021

LEIA OS NOMES DOS NÚMEROS E DEPOIS COMPLETE:

**FICHA DOS NUMERAIS**

41	QUARENTA E UM	51	CINQUENTA E UM
42	QUARENTA E DOIS	52	CINQUENTA E DOIS
43	QUARENTA E TRÊS	53	CINQUENTA E TRÊS
44	QUARENTA E QUATRO	54	CINQUENTA E QUATRO
45	QUARENTA E CINCO	55	CINQUENTA E CINCO
46	QUARENTA E SEIS	56	CINQUENTA E SEIS
47	QUARENTA E SETE	57	CINQUENTA E SETE
48	QUARENTA E OITO	58	CINQUENTA E OITO
49	QUARENTA E NOVE	59	CINQUENTA E NOVE
50	CINQUENTA	60	SESSENTA

COLOCA O SUCESSOR E O ANTECESSOR DOS NÚMEROS:

<input type="text"/>	42	<input type="text"/>	<input type="text"/>	56	<input type="text"/>	<input type="text"/>	55	<input type="text"/>
<input type="text"/>	44	<input type="text"/>	<input type="text"/>	58	<input type="text"/>	<input type="text"/>	53	<input type="text"/>
<input type="text"/>	46	<input type="text"/>	<input type="text"/>	60	<input type="text"/>	<input type="text"/>	51	<input type="text"/>
<input type="text"/>	48	<input type="text"/>	<input type="text"/>	62	<input type="text"/>	<input type="text"/>	49	<input type="text"/>
<input type="text"/>	50	<input type="text"/>	<input type="text"/>	61	<input type="text"/>	<input type="text"/>	47	<input type="text"/>
<input type="text"/>	52	<input type="text"/>	<input type="text"/>	59	<input type="text"/>	<input type="text"/>	45	<input type="text"/>
<input type="text"/>	54	<input type="text"/>	<input type="text"/>	57	<input type="text"/>	<input type="text"/>	43	<input type="text"/>

E.M."PROFESSOR CALIL RAHAL NETO"


IBIÚNA,24 DE MAIO DE 2021

















HOJE É SEGUNDA -FEIRA

MEU NOME É: \_\_\_\_\_

### JOGO DA MEMÓRIA

FAÇA UM VÍDEO E MANDE PARA PROFESSORA



 <b>BOI</b>	 <b>VACA</b>	 <b>BODE</b>	 <b>CABRA</b>
 <b>CACHORRO</b>	 <b>CADELA</b>	 <b>CAVALO</b>	 <b>ÉGUA</b>
 <b>CARNEIRO</b>	 <b>OVELHA</b>	 <b>GALO</b>	 <b>GALINHA</b>
 <b>ZANGÃO</b>	 <b>ABELHA</b>	 <b>MENINO</b>	 <b>MENINA</b>

E.M."PROFESSOR CALIL RAHAL NETO"

NOME: \_\_\_\_\_

PROFESSORA: JOCELI


TURMA: 2º ANO A

DATA: 24/05/2021


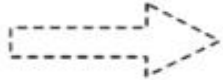

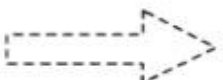


ENTREGA: 08/06/2021



1- OBSERVE A PROMOÇÃO DOS DINOSSAUROS DE COLEÇÃO NAS **LOJAS MIL**.



VEJA QUANTOS DINOSSAUROS ALICE COMPROU E COLOQUE O VALOR QUE ELA PAGOU POR CADA GRUPO.

		<input data-bbox="1220 1590 1460 1702" type="text"/>
		<input data-bbox="1220 1736 1460 1848" type="text"/>
		<input data-bbox="1220 1892 1460 2004" type="text"/>



E.M."PROFESSOR CALIL RAHAL NETO"

NOME: \_\_\_\_\_

PROFESSORA: JOCELI

TURMA: 2º ANO A

DATA: 25/05/2021

ENTREGA: 08/06/2021

# CONTINHAS DE ADIÇÃO


D	U
3	7
+ 1	3

D	U
2	2
+ 3	4

D	U
4	5
+ 5	2

D	U
7	9
+ 1	0

D	U
6	5
+ 2	1



D	U
8	6
+ 1	3

D	U
7	0
+ 2	0

D	U
6	4
+ 1	4

D	U
2	9
+ 2	0

D	U
5	6
+ 3	1

D	U
4	2
+ 4	0

D	U
7	2
+ 1	0

D	U
3	8
+ 1	1

D	U
6	0
+ 1	4

IBIÚNA,26 DE MAIO DE 2021

HOJE É QUARTA -FEIRA

MEU NOME É: \_\_\_\_\_

CONFECCIONE UM CAMELO,TIRE FOTO E MANDE PARA PROFESSORA:

# Camelo

**MATERIAIS**  
Bandeja de ovos (papelão)  
Rolha de cortiça  
Quatro prendedores de roupa  
Tinta de cor laranja, branca,  
preta e vermelha  
Pincel  
Cola  
Tesoura

**1** Para fazer as corcovas do camelo, recorte dois bojos da bandeja;

**2** Coloque dois prendedores em cada corcova. Serão as patas;

**3** Para fazer o pescoço, recorte a parte central de um bojo da bandeja e cole-o em uma das corcovas;

**4** Recorte duas orelhas da bandeja e cole-as na rolha de cortiça, que será a cabeça. Em seguida, cole a cabeça ao colo;

**5** Pinte o camelo de laranja e desenhe os olhos, o nariz e a boca.

Veja que lindo camelo!

E.M."PROFESSOR CALIL RAHAL NETO"

NOME: \_\_\_\_\_


PROFESSORA: JOCELI

TURMA: 2º ANO A

DATA: 26/05/2021

ENTREGA: 08/06/2021

2 - OBSERVE A PREFERÊNCIA DE DINOSSAUROS DA COLEÇÃO DE NOAH, ENTRE SUA TURMA DO 1º ANO.



ANOTE OS DADOS DE ACORDO COM AS INFORMAÇÕES.

TÍTULO DO GRÁFICO: \_\_\_\_\_

A QUEM SE DIRIGIU A PESQUISA: \_\_\_\_\_

NÚMERO DE ALUNOS DA PESQUISA: \_\_\_\_\_

QUANTOS GOSTARAM DE:





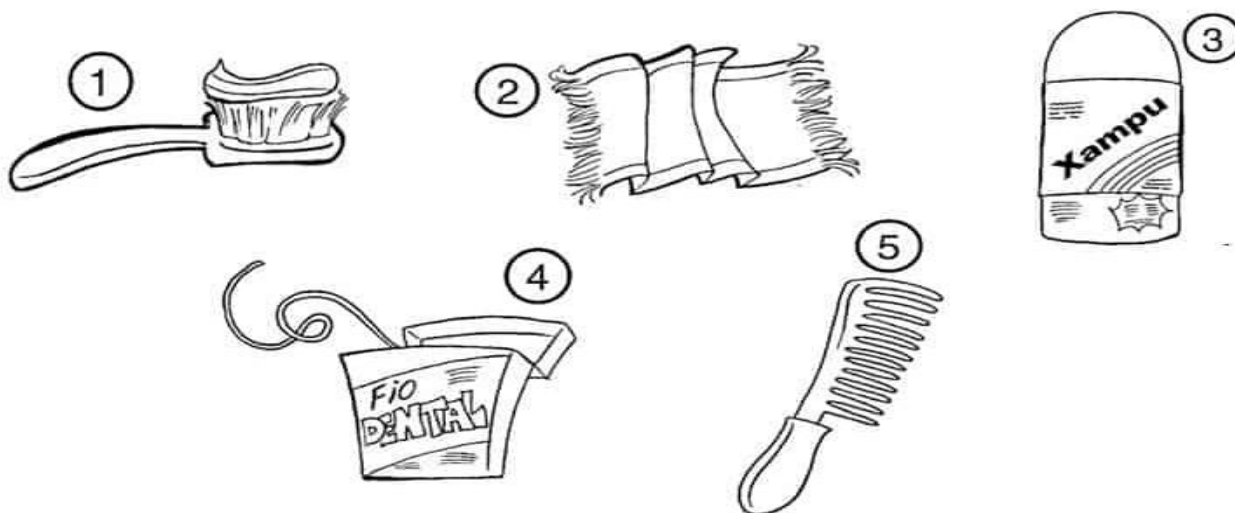
IBIÚNA, 27 DE MAIO DE 2021

HOJE É QUINTA -FEIRA

MEU NOME É: \_\_\_\_\_

**A LIMPEZA CORRETA E REGULAR DO CORPO É FUNDAMENTAL NA PREVENÇÃO DE DOENÇAS CAUSADAS POR VERMES, VÍRUS, FUNGOS E BACTÉRIAS.**

Preencha a cruzadinha de acordo com a numeração das imagens e descubra a palavra oculta



		1 -								
		2 -								
3 -										
	4 -									
		5 -								

E.M."PROFESSOR CALIL RAHAL NETO"

NOME: \_\_\_\_\_

PROFESSORA: JOCELI

TURMA: 2º ANO A

DATA: 27/05/2021

ENTREGA: 08/06/2021

## Continhas de subtração

D	U
7	5
- 2	3

D	U
5	1
- 3	1

D	U
6	7
- 5	0

D	U
6	0
- 2	4



D	U
3	4
- 0	1

D	U
4	5
- 0	7

D	U
8	1
- 0	6

D	U
7	0
- 6	2

D	U
1	4
- 1	2

D	U
1	0
- 0	4



D	U
2	1
- 2	0

D	U
3	0
- 1	0

E.M."PROFESSOR CALIL RAHAL NETO"

---

IBIÚNA, 28 DE MAIO DE 2021

---

HOJE É SEXTA -FEIRA

---

MEU NOME É: \_\_\_\_\_

**NA HISTÓRIA, O CAMELO, O BURRO E A ÁGUA, VOCÊS VIRAM QUE O CAMELO E O BURRO  
ERAM VIZINHOS:**



• Responda as seguintes questões a seguir:

① Você tem uma boa convivência com os seus vizinhos? Marque.

{ } Sim

{ } Não

② Que atividades vocês costumam praticar juntos? Nomeie algumas.

---

---

---

③ Escreva o Nome dos vizinhos que você mais gosta.

_____	_____
_____	_____
_____	_____
_____	_____

E.M."PROFESSOR CALIL RAHAL NETO"

NOME: \_\_\_\_\_

PROFESSORA: JOCELI

TURMA:2º ANO A

DATA:28/05/2021

ENTREGA:08/06/2021

## A SEMANA

A semana vai e vem,  
Cada dia trabalho tem.  
Domingo, segunda-feira, terça-feira  
Quarta-feira, quinta-feira, sexta-feira  
E sábado também.

Gerusa Rodrigues Pinto



1. Circule, no poema, os dias da semana que você vai à escola e pinte os dias que não tem aula.

2. Quantos dias tem a semana?

3. Que dia da semana é hoje?

4. Amanhã que dia será?

5. Qual é o primeiro dia da semana?

6. O que, o que é?

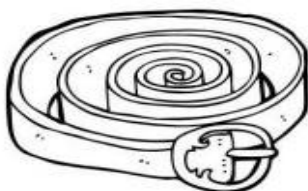
São 7 irmãos. 5 têm o mesmo sobrenome e 2, não.

IBIÚNA, 31 DE MAIO DE 2021

HOJE É SEGUNDA- FEIRA

MEU NOME É: \_\_\_\_\_

1- Circule a sílaba correta e complete a palavra.




CE CO CI  
\_\_ NTO



CU CA CO  
\_\_ BRA



CI CA CE  
\_\_ LULAR



CO CA CU  
\_\_ MA



CA CU CO  
\_\_ BIDE



CA CE CI  
\_\_ REJA



CO CA CU  
\_\_ RATIVO



CU CO CI  
\_\_ LHER

2- Complete o nome dos desenhos com as sílabas CA, CE, CI, CO ou CU e separe as sílabas.



\_\_ PO

--	--



\_\_ MISETA

--	--	--	--



\_\_ BOLA

--	--	--



\_\_ ECA

--	--	--

E.M."PROFESSOR CALIL RAHAL NETO"

NOME: \_\_\_\_\_

PROFESSORA: JOCELI

TURMA: 2º ANO A

DATA: 31/05/2021

ENTREGA: 08/06/2021

1. Vamos contar com muita atenção para não errar.



Quantos reais? R\$ \_\_\_\_\_



Quantos reais? R\$ \_\_\_\_\_



Quantos reais? R\$ \_\_\_\_\_



Quantos reais? R\$ \_\_\_\_\_



Quantos reais? R\$ \_\_\_\_\_



## REFERÊNCIAS:

- [https://www.google.com/search?q=trecho+do+livro+camelo+o+burro+e+a+agua+atividades&tbm=isch&ved=2ahUKEwj6tr Ivq3wAhUGLbkGHafSCUQQ2-cCegQIABAA&og=trecho+do+livro+camelo+o+burro+e+a+agua+atividades&gs\\_lcp=CgNpbWcQA1CKhAJYv68CYJ-yAmgAcAB4AIABb4gBwQqSAQXNC4xmAEAoAEBqgELZ3dzLXdpei1pbWfAAQE&sclient=img&ei=Q-mPYLqJFYba5OUPp6WnoAQ&bih=654&biw=1024&client=firefox-b-d#imgsrc=6l MYUa0YsYDTM](https://www.google.com/search?q=trecho+do+livro+camelo+o+burro+e+a+agua+atividades&tbm=isch&ved=2ahUKEwj6tr Ivq3wAhUGLbkGHafSCUQQ2-cCegQIABAA&og=trecho+do+livro+camelo+o+burro+e+a+agua+atividades&gs_lcp=CgNpbWcQA1CKhAJYv68CYJ-yAmgAcAB4AIABb4gBwQqSAQXNC4xmAEAoAEBqgELZ3dzLXdpei1pbWfAAQE&sclient=img&ei=Q-mPYLqJFYba5OUPp6WnoAQ&bih=654&biw=1024&client=firefox-b-d#imgsrc=6l MYUa0YsYDTM)
- <https://es.liveworksheets.com/worksheets/pt/Alfabetiza%C3%A7%C3%A3o/Leitura e escrita/O camelo, o burro e a %C3%A1gua zu1734184lqhttps://www.slideshare.net/andreaalves378199/sequncia-didtica-sobre-o-livro-o-camelo-o-burro-e-a-gua>
- <https://www.google.com/url?sa=i&url=https%3A%2F%2Fwww.slideshare.net%2Fandreaalves378199%2Fsequncia-didtica-sobre-o-livro-o-camelo-o-burro-e-a-gua&psig=AOvVaw1sURWC4bmEh L71q4PiO7j&ust=1620145868643000&source=images&cd=vfe&ved=0CAIQjRqxqFwoTCMjPhuz3rfACFQAAAAAdAAAAABAD>
- <https://www.google.com/url?sa=i&url=https%3A%2F%2Fwww.liveworksheets.com%2Fworksheets%2Fpt%2F%25C3%25ADngua portuguesa%2FAlfabetiza%25C3%25A7%25C3%25A3o%2FO camelo%2C o burro e a %25C3%25A1gua 2 qe1734301cf&psig=AOvVaw1sURWC4bmEh L71q4PiO7j&ust=1620145868643000&source=images&cd=vfe&ved=0CAIQjRqxqFwoTCMjPhuz3rfACFQAAAAAdAAAAABAJ>
- <https://www.google.com/url?sa=i&url=https%3A%2F%2Fwww.pinterest.com%2Fpin%2F847028642409220967%2F&psig=AOvVaw3HnUslORa2kA92CrXo7z1M&ust=1620147296691000&source=images&cd=vfe&ved=0CAIQjRqxqFwoTCLiNxZr9rfACFQAAAAAdAAAAABAO>
- <https://www.google.com/url?sa=i&url=https%3A%2F%2Fbr.pinterest.com%2Fpin%2F849984129644468198%2F&psig=AOvVaw1IUUV7 -i7wiO7puJp5Ngcd&ust=1620148650117000&source=images&cd=vfe&ved=0CAIQjRqxqFwoTCID05ZyCrvACFQAAAAAdAAAAABAD>
- <https://www.google.com/url?sa=i&url=https%3A%2F%2Fbr.pinterest.com%2Fpin%2F223983781451181833%2F&psig=AOvVaw0R9QuEd1fyd-8kExpqz6&ust=1620149050741000&source=images&cd=vfe&ved=0CAIQjRqxqFwoTCJCwptqDrvACFQAAAAAdAAAAABA>
- <https://www.google.com/url?sa=i&url=http%3A%2F%2Fprofessorescompartilhandoatividades.blogspot.com%2F2013%2F07%2Fcamelo-feito-com-caixa-de-ovos.html&psig=AOvVaw3BSQ4dwdokzZsnOUFmcytle&ust=1620151060561000&source=images&cd=vfe&ved=0CAIQjRqxqFwoTCPDZ5ZeLrvACFQAAAAAdAAAAABAJ>
- <https://www.google.com/url?sa=i&url=https%3A%2F%2Fbr.pinterest.com%2Fpin%2F411657222173265621%2F&psig=AOvVaw0V-MWo5LjkHgeADUOtRIg3&ust=1620152625818000&source=images&cd=vfe&ved=0CAIQjRqxqFwoTCKCy9oKRrvACFQAAAAAdAAAAABAJ>
- <https://www.google.com/url?sa=i&url=https%3A%2F%2Falunoseprofessores.com%2Fatividades-com-a-letra-c%2F&psig=AOvVaw24GkDadoRvf5mPH->

[d5qkVJ&ust=1620153506403000&source=images&cd=vfe&ved=0CAIQjRxqFwoTCNCi1K6UrvACFQAAAAAdAAAAABA](https://www.google.com/search?q=d5qkVJ&ust=1620153506403000&source=images&cd=vfe&ved=0CAIQjRxqFwoTCNCi1K6UrvACFQAAAAAdAAAAABA)

[https://1.bp.blogspot.com/-GxZ77B3Ksqw/X5mY8vSSs5I/AAAAAAAAABLo/Cgj\\_QoUYukEVDeQ-HJYQKIC-R0swpoIQCLcBGAsYHQ/s2048/ATIVIDADES-COM-NUMERAIS-N%25C3%259AMEROS-PRONTAS-REMOTAS-IMPRIMIR-100-50-9-10-1-2-3-4-5-6-7-8-9-0-%2B%252811%2529.jpg](https://1.bp.blogspot.com/-GxZ77B3Ksqw/X5mY8vSSs5I/AAAAAAAAABLo/Cgj_QoUYukEVDeQ-HJYQKIC-R0swpoIQCLcBGAsYHQ/s2048/ATIVIDADES-COM-NUMERAIS-N%25C3%259AMEROS-PRONTAS-REMOTAS-IMPRIMIR-100-50-9-10-1-2-3-4-5-6-7-8-9-0-%2B%252811%2529.jpg)

[https://1.bp.blogspot.com/-rp2zcG-zizo/X5mbg7EeTzI/AAAAAAAAABNc/AgMZxGY4OyM5\\_GLB2OamMqFH26pLvIbBQCLcBGAsYHQ/s2048/ATIVIDADES-COM-NUMERAIS-N%25C3%259AMEROS-PRONTAS-REMOTAS-IMPRIMIR-100-50-9-10-1-2-3-4-5-6-7-8-9-0-%2B%25286%2529.jpg](https://1.bp.blogspot.com/-rp2zcG-zizo/X5mbg7EeTzI/AAAAAAAAABNc/AgMZxGY4OyM5_GLB2OamMqFH26pLvIbBQCLcBGAsYHQ/s2048/ATIVIDADES-COM-NUMERAIS-N%25C3%259AMEROS-PRONTAS-REMOTAS-IMPRIMIR-100-50-9-10-1-2-3-4-5-6-7-8-9-0-%2B%25286%2529.jpg)

[https://2.bp.blogspot.com/-mP9WUS42SWU/WfiTW2RyeKI/AAAAAAAAA5og/whyVdvBYybaI5-TwUxKPP\\_fOQvjNzXsUACLcBGAs/s1600/ficha-numerais-por-extenso-matematica-imprimir-4.JPG](https://2.bp.blogspot.com/-mP9WUS42SWU/WfiTW2RyeKI/AAAAAAAAA5og/whyVdvBYybaI5-TwUxKPP_fOQvjNzXsUACLcBGAs/s1600/ficha-numerais-por-extenso-matematica-imprimir-4.JPG)

<http://atividadeparaeducacaoespecial.com/wp-content/uploads/2019/02/80.png>

<https://encrypted-tbn0.gstatic.com/images?q=tbn:ANd9GcQxBv-fzaM1X8ufXqxFtcDspVWlmdnPjTRalg&usqp=CAU>

<https://i.pinimg.com/564x/48/49/35/4849356d1485d5006f3eaca9c2abdfdf.jpg>

[https://4.bp.blogspot.com/-xdPg7NYjZos/WXfe0CYziqI/AAAAAAAAAEvo/TK8w0C-Y2awO-qvBI\\_9OD1a1BTcJvu1bwCLcBGAs/s1600/Novo%2BDocumento%2B2017-07-23%2B%25281%2529\\_1.jpg](https://4.bp.blogspot.com/-xdPg7NYjZos/WXfe0CYziqI/AAAAAAAAAEvo/TK8w0C-Y2awO-qvBI_9OD1a1BTcJvu1bwCLcBGAs/s1600/Novo%2BDocumento%2B2017-07-23%2B%25281%2529_1.jpg)

<https://amorensina.com.br/wp-content/uploads/2019/08/alfabetizaC3A7C3A3o-matemC3A1tica-leitura-de-grC3A1fico-valor-monetC3A1rio-1C2BA-ano1-724x1024.png>

<https://amorensina.com.br/wp-content/uploads/2019/08/alfabetizaC3A7C3A3o-matemC3A1tica-leitura-de-grC3A1fico-valor-monetC3A1rio-1C2BA-ano2-724x1024.png>

<https://3.bp.blogspot.com/--H6QVlv8qrl/WA6mr4Czczi/AAAAAAAAAOI/kTKjR5qKAnYkX5tctv6OzInQinEKHubFgCLcB/s1600/GR%25C3%2581FICO.png>

<https://2.bp.blogspot.com/-EbaOT0ZEesE/UPBJRsKddal/AAAAAAAAAGwi/MK-vYYAwVOU/s1600/7+blog.png>





PREFEITURA DA ESTÂNCIA TURÍSTICA DE IBIÚNA  
EM PROF. CALIL RAHAL NETO

Rua Projetada, 620 - Capim Azedo - Ibiúna - SP - Telefone: 3241-5917



# 5ª. APOSTILA DE ESTUDOS ATIVIDADES NÃO PRESENCIAIS

## 2º BIMESTRE



### ENSINO FUNDAMENTAL

ALUNO:

PROFESSORA - **JOCELI**

TURMA: **2º ANO - A**

DATA DE DEVOLUÇÃO: **08/06/2021**