



Prefeitura da Estância Turística de  
**IBIÚNA**  
TRANSFORMAÇÃO RESPONSÁVEL. CUIDANDO DE PESSOAS.



**E.M. "PROFESSORA MARCIA BELMIRO DO LAGO"**

*EDUCAÇÃO INFANTIL E ENSINO FUNDAMENTAL*

*ESTRADA MUNICIPAL DO VERAVA KM 05, S/Nº*

PROFESSORA: INAIARA RUBIA LUCIO MENDONÇA

# **APOSTILA DE ATIVIDADES NÃO PRESENCIAIS**

## **3º ANO A**

### **5ª APOSTILA**

11/05/2021 À 31/05/2021

**DATA PARA DEVOLUÇÃO: 08/06/2021**

ATIVIDADE DE PORTUGUÊS

❖ CANTE JUNTO COM SUA FAMÍLIA A CANTIGA ABAIXO:

**PARÓDIA CORONAVÍRUS MÚSICA: (CIRANDA, CIRANDINHA)**

**LETRA: ADILÉA M.I. GENEROSO**

ESTAMOS EM ALERTA  
COM ESSA PANDEMIA  
É O CORONAVÍRUS  
QUE MATA E CONTAGIA.



É PRECISO TER CUIDADO  
PARA NÃO CONTAMINAR  
USE LENÇO DE PAPEL  
QUANDO VOCÊ ESPIRRAR.

É MUITO IMPORTANTE LAVAR  
SEMPRE NOSSAS MÃOS  
COM ÁGUA LIMPA E CORRENTE  
ESFREGANDO COM SABÃO.



ÁLCOOL GEL 70°  
TAMBÉM NÃO PODE FALTAR  
POIS ASSIM AJUDAREMOS  
CORONAVÍRUS ELIMINAR.

OUTRA COISA IMPORTANTE  
É NÃO TOMAR MEDICAÇÃO  
SEM A PRESCRIÇÃO DO MÉDICO  
PRA EVITAR COMPLICAÇÃO.

1) AGORA DE ACORDO COM O POEMA RESPONDA AS QUESTÕES QUE SEGUEM:

- A) O ASSUNTO DO POEMA É \_\_\_\_\_
- B) O NOME DA AUTORA É \_\_\_\_\_
- C) O POEMA POSSUI \_\_\_\_\_ VERSOS E \_\_\_\_\_ ESTROFES.
- D) PINTE NO POEMA AS RIMAS COM CORES DIFERENTES.
- E) QUAIS OS PRODUTOS DE LIMPEZA QUE APARECEM NO POEMA?

F) ESCREVA O QUE PODEMOS FAZER PARA ELIMINAR O CORONAVÍRUS:

2) RETIRE DO POEMA O QUE SE PEDE:

- A) UMA PALAVRA COM RR: \_\_\_\_\_
- B) DUAS PALAVRAS TERMINADAS COM ÃO: \_\_\_\_\_
- C) DUAS PALAVRAS COM TRÊS SÍLABAS: \_\_\_\_\_
- D) TRÊS PALAVRAS COM DUAS SÍLABAS \_\_\_\_\_



4) LEIA AS PALAVRAS ABAIXO, E ORGANIZE EM ORDEM ALFABÉTICA.

\_\_\_\_\_

\_\_\_\_\_

\_\_\_\_\_

\_\_\_\_\_

ATIVIDADE DE CIÊNCIAS

1-LEIA O POEMA, EM SEGUIDA PINTE, NO TEXTO, OS CUIDADOS QUE DEVEMOS TER COM O NOSSO CORPO.

HIGIENE PESSOAL

PARA TER BOA SAÚDE  
DEVEMOS DO CORPO CUIDAR  
TOMAR BANHO DIARIAMENTE  
E ROUPAS LIMPAS USAR.

MANTER AS MÃOS BEM LAVADAS  
E AS UNHAS SEMPRE CORTADAS  
LAVAR FRUTAS E VERDURAS  
ANTES DE SEREM USADAS.

COMER SEMPRE NA HORA CERTA  
E OS DENTES ESCOVAR  
AO DORMIR, AO ACORDAR  
E DEPOIS DE SE ALIMENTAR.

SEMPRE ESPORTES PRATICAR  
E BEM CEDO LEVANTAR  
BEBER ÁGUA FILTRADA  
PARA AS DOENÇAS EVITAR.



1) PINTE NO QUADRO ABAIXO AS PALAVRAS GRIFADAS NO POEMA:




2) E VOCÊ, O QUE TEM FEITO PARA MANTER SEU CORPO SAUDÁVEL?

---



---

3) COMPLETE A CRUZADINHA, OBSERVANDO A NUMERAÇÃO DAS FIGURAS.



4) COMPLETE AS FRASES UTILIZANDO AS PALAVRAS DA CRUZADINHA:

- A) O \_\_\_\_\_ SERVE PARA LAVAR OS CABELOS.
- B) A \_\_\_\_\_ SERVE PARA ENXUGAR O ROSTO.
- C) COM O \_\_\_\_\_ PENTEIO OS CABELOS.
- D) COM O \_\_\_\_\_ LIMPO OS DENTES.
- E) COM A \_\_\_\_\_ ESCOVO OS DENTES.

5) ESCREVA O NOME DE OUTROS PRODUTOS UTILIZADOS NA HIGIENE DE SUA FAMÍLIA:

---



---




---



ATIVIDADE DE GEOGRAFIA

LOCALIZAÇÃO

OBSERVE AS FIGURAS ABAIXO E FAÇA O QUE SE PEDE:



- A) NO QUADRO 1 PINTE O MENINO QUE ESTÁ ATRÁS DE UMA URNA.
- B) NO QUADRO 2, RISQUE O ANIMAL QUE ESTÁ DENTRO DA TELEVISÃO.
- C) NO QUADRO 3, PASSE UM TRAÇO NA CRIANÇA QUE ESTÁ MAIS PERTO DA ÁRVORE.
- D) NO QUADRO 4, FAÇA UM X NA CRIANÇA DO MEIO.
- E) NO QUADRO 5, RISQUE A CRIANÇA QUE ESTÁ MAIS LONGE DO BALDE DE TINTA.
- F) NO QUADRO 6, PINTE OS BRINQUEDOS QUE ESTÃO À DIREITA DA CASA.

ATIVIDADE DE MATEMÁTICA


HORA DE DORMIR

ESPREGUIÇA O PALHAÇO,  
TÁ NA HORA DE DORMIR.  
SEU CORPO ESTÁ CANSADO  
PULOU TANTO E FEZ SORRIR.

ÀS 10 HORAS ELE VAI  
DESCANSAR O SEU CORPINHO  
AMANHÃ ÀS 9 HORAS  
ACORDA DESCANSADINHO.

GI BARBOSA



DE OLHO NO TEXTO



1. REGISTRE CORRETAMENTE DE ACORDO COM O TEXTO:

O PALHAÇO DORME

O PALHAÇO ACORDA



2. REGISTRE SEUS HORÁRIOS:

ACORDAR \_\_\_\_\_ IR PARA ESCOLA \_\_\_\_\_

BRINCAR \_\_\_\_\_ DORMIR \_\_\_\_\_

ATIVIDADE DE PORTUGUÊS

LEIA O TEXTO ABAIXO

O GATO MALHADO

O GATO MALHADO  
 COMEU A SARDINHA  
 FUGIU PRO TELHADO  
 E PÓS TODA A CULPA  
 NA LINDA GATINHA  
 QUE, DISTRAÍDA,  
 LAMBIA A PATINHA...



1-COPIE DO TEXTO:

PALAVRAS COM LH	PALAVRAS COM NH

2- O GATO MALHADO COMEU:

( ) A GALINHA      ( ) A JOANINHA      ( ) A SARDINHA

3 - O GATO FUGIU:

( ) PARA O MATO      ( ) PARA O TELHADO

4 - A GATINHA:

( ) TOMAVA LEITE      ( ) DORMIA  
 ( ) LAMBIA A PATINHA      ( ) BRINCAVA

5 – FORME UMA FRASE COM A PALAVRA GATO.

ATIVIDADE DE HISTÓRIA



ALGUMAS INFORMAÇÕES SOBRE MIM...



1) PREENCHA O RETÂNGULO ABAIXO COM SEUS DADOS PESSOAIS:

- A) NOME \_\_\_\_\_  
 B) DATA DE NASCIMENTO: DIA \_\_\_\_\_ MÊS \_\_\_\_\_ ANO \_\_\_\_\_  
 C) NOME DO PAI \_\_\_\_\_  
 D) NOME DA MÃE \_\_\_\_\_  
 E) MUNICÍPIO ONDE NASCEU \_\_\_\_\_  
 F) ESTADO \_\_\_\_\_  
 G) PAÍS \_\_\_\_\_  
 H) NOME DE SUA ESCOLA \_\_\_\_\_

2) AGORA FAÇA O QUE SE PEDE:

A) PINTO O QUADRADO COM A MESMA COR DE SUA PELE.



3) PINTO O CÍRCULO COM A MESMA COR DE SEU CABELO.



4) PINTO O TRIÂNGULO COM A MESMA COR DE SEUS OLHOS.



5) MEUS CABELOS SÃO:

( ) COMPRIDOS    ( ) CURTOS    ( ) LISOS    ( ) CRESPOS

6) AGORA DESENHE NO QUADRO SEU ROSTO OU COLE SUA FOTO:



ATIVIDADE DE MATEMÁTICA

1- LIGUE CADA RELÓGIO ÀS HORAS INDICADAS.



7:15



2:30



11:45



9:00



1:15



5:30



12:45



4:00



6:15



10:30



3:45



8:00

ATIVIDADE DE GEOGRAFIA

O MEU LUGAR NO MUNDO.

O LUGAR ONDE VIVEMOS É MUITO IMPORTANTE. HÁ PESSOAS QUE VIVEM NAS CIDADES E HÁ PESSOAS QUE VIVEM NO CAMPO. AS PESSOAS QUE MORAM NA CIDADE FORMAM A COMUNIDADE URBANA E AS PESSOAS QUE MORAM NO CAMPO FORMAM A COMUNIDADE RURAL.

1) E VOCÊ FAZ PARTE DE QUAL COMUNIDADE? MARQUE:

( ) COMUNIDADE URBANA ( ) COMUNIDADE ZONA RURAL



2) COMPLETE CORRETAMENTE AS FRASES ABAIXO:

A) EU MORO NA REGIÃO DO (A) \_\_\_\_\_

B) O MEU MUNICÍPIO É \_\_\_\_\_

C) MEU ESTADO É A \_\_\_\_\_

D) O MEU PAÍS É O \_\_\_\_\_

E) E TUDO ISSO FAZ PARTE DO PLANETA \_\_\_\_\_


3) AGORA FAÇA UM BONITO DESENHO DO LUGAR QUE VOCÊ MORA COM SUA FAMÍLIA:











ATIVIDADE DE MATEMÁTICA

LIGUE OS NÚMEROS DE 1 ATÉ 10 E ESCREVA NO CORAÇÃO.



CONTE AS FIGURAS E CIRCULE O NUMERAL CORRETO DA SOMA.

 5   7   4	 10   8   6	 8   6   9
 1   9   8	 5   3   0	 9   6   2

OBSERVE OS NÚMEROS E FAÇA O QUE SE PEDE:

2 3 4 1 8 0 10 5 9 6 7

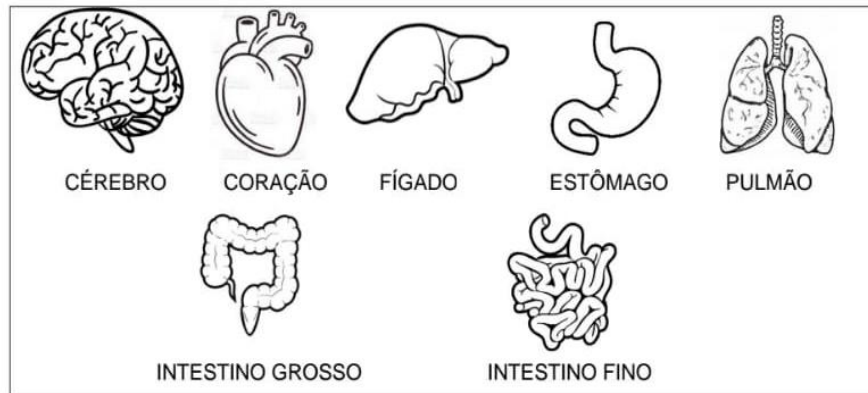
ORDEM CRESCENTE

CRESCENTE DECRESCENTE

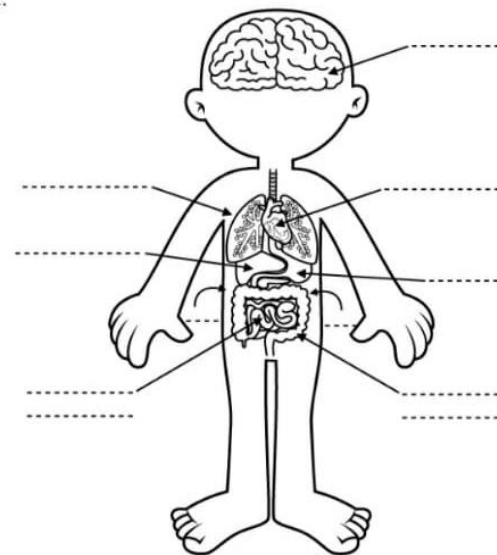
ATIVIDADE DE CIÊNCIAS

ÓRGÃOS DO CORPO HUMANO

1. OBSERVE OS ÓRGÃOS DO CORPO HUMANO NO QUADRO ABAIXO:



A- AGORA OBSERVE ONDE ESTÁ LOCALIZADO CADA ÓRGÃO NO CORPO HUMANO E ESCREVA O NOME:



ATIVIDADE DE ARTES

❖ QUE TAL REUNIR A FAMÍLIA E APROVEITAR UMAS HORINHAS DE LAZER E DESCONTRAÇÃO?

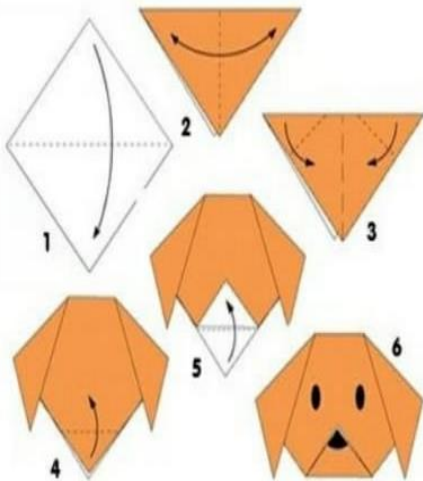
❖ UMA ÓTIMA FORMA DE CURTIR ESSE TEMPO, É FAZENDO A MILENAR ARTE DA DOBRADURA DE PAPEL: O ORIGAMI. ALÉM DE SER TERAPÊUTICO, A DOBRADURA EXIGE BASTANTE ATENÇÃO E COORDENAÇÃO, O QUE A TORNA UMA BRINCADEIRA MUITO SAUDÁVEL PARA A CRIANÇA.

➤ VAMOS CONFECCIONAR UM CACHORRO. VOCÊ VAI PRECISAR DE: PAPEL EM FORMATO QUADRADO, CANETA PRETA.

PASSO A PASSO:

- DOBRE O PAPEL AO MEIO E FORME UM TRIÂNGULO;
- DOBRE NOVAMENTE E FORME UM TRIÂNGULO MENOR A FIM DE DEIXAR AS MARCAÇÕES NECESSÁRIAS NO PAPEL;
- ABRA O PAPEL PARA VOLTAR AO TRIÂNGULO INICIAL. DOBRE AS DUAS PONTAS LATERAIS DO TRIÂNGULO PARA BAIXO PARA FORMAR AS ORELHAS DO CACHORRO;
- DOBRE A PONTA DO PAPEL QUE FICOU ABERTA PARA O LADO DE CIMA PARA FAZER O NARIZ. EM SEGUIDA, DESENHE A FACE DO CÃO, COM SEUS OLHOS E NARIZ COM CANETA PRETA E PRONTO!

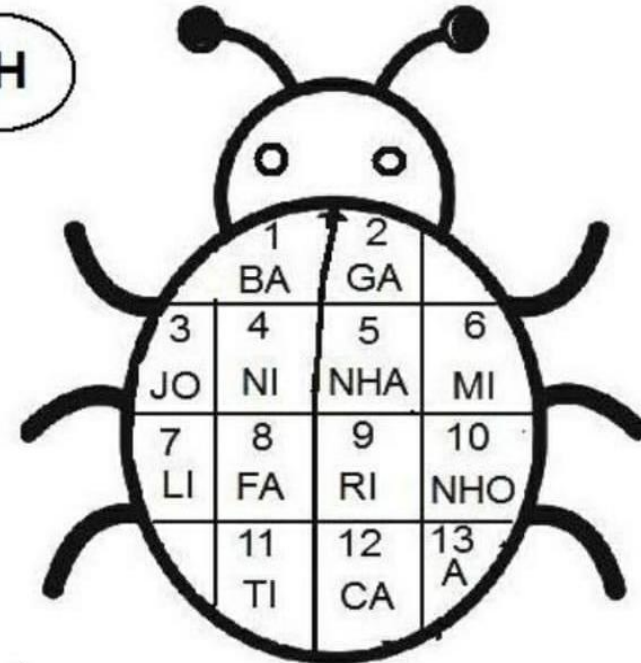
COLE O SEU ORIGAMI AQUI!



ATIVIDADE DE PORTUGUÊS

1) SUBSTITUA OS NÚMEROS PELAS SÍLABAS E FORME PALAVRAS COM NH.

NH



- |                  |                |
|------------------|----------------|
| 3-13-4-5 = _____ | 1-5= _____     |
| 2-7-5= _____     | 4-10= _____    |
| 7-5= _____       | 12-6-10= _____ |
| 8-9-5= _____     | 6-5= _____     |
| 2-11-5= _____    | 2-5= _____     |

2) ESCOLHA DUAS PALAVRAS QUE VOCÊ FORMOU E CRIE UMA FRASE COM CADA UMA.

---



---






ATIVIDADE DE CIÊNCIAS

FASES DA VIDA.

COM O PASSAR DO TEMPO, NÓS CRESCEMOS E NOSSO CORPO SE MODIFICA. O DESENHO ABAIXO REPRESENTA AS VÁRIAS ETAPAS QUE PASSAMOS DURANTE A VIDA.



1) AGORA É COM VOCÊ...

NO ESPAÇO ABAIXO COLE OU DESENHE FIGURAS DE UM BEBÊ, DE UMA CRIANÇA, DE UM ADOLESCENTE, DE UMA PESSOA ADULTA E DE UM IDOSO. DEPOIS CIRCULE A FIGURA QUE REPRESENTA EM QUE FASE DA VIDA VOCÊ SE ENCONTRA.

ATIVIDADE DE MATEMÁTICA

NÚMEROS NATURAIS

A IDEIA DE **QUANTIDADE** É CHAMADA DE **NÚMERO NATURAL**. OS DEZ MENORES NÚMEROS NATURAIS SÃO: 0,1,2,3,4,5,6,7,8,9. COM ESTES ALGARISMOS, PODEMOS REPRESENTAR QUALQUER NÚMERO:

EXEMPLOS:

8 - 9 = 89      2 - 3 = 23      1 - 0 - 3 = 103      5 - 6 - 7 = 567

AGORA É SUA VEZ...

1- REPRESENTE OITO NÚMEROS USANDO OS SEGUINTE ALGARISMOS:

0	5	2	3
---	---	---	---


2- RESPONDA, ESCRIVENDO NO PONTILHADO.

- A) SOU UM A MENOS QUE 120, SOU O .....
- B) FICO ENTRE 34 E 36, SOU O .....
- C) SOU UM A MAIS QUE 56, SOU O .....
- D) VENHO ANTES DE 100, SOU O .....
- E) VENHO DEPOIS DE 87, SOU O .....



**ATIVIDADE DE HISTÓRIA**

**SOMOS DIFERENTES?**

1) OBSERVE OS ALUNOS DA PROFESSORA MÁRCIA.



2) AGORA, PENSE JUNTO COM SUA FAMÍLIA:

A) PODEMOS DIZER QUE SOMOS IGUAIS? POR QUÊ?

---



---

B) QUAIS SÃO AS DIFERENÇAS QUE VOCÊ OBSERVA NESTA TURMA?

---



---



---

C) NORMALMENTE, HERDAMOS ALGUMAS CARACTERÍSTICAS FÍSICAS DE NOSSOS PARENTES. ALGUNS SE PARECEM COM O PAI, OUTROS COM A MAMÃE OU COM A VOVÓ, OUTROS COM ALGUM TIO, ETC. E VOCÊ COM QUEM SE PARECE?

---

D) AGORA É COM VOCÊ! NO PORTA RETRATO FAÇA UM BONITO DESENHO DE SUA FAMÍLIA.

**ATIVIDADE DE PORTUGUÊS**

1) OLHA QUE POEMA LEGAL! COMPLETE-O COM NOMES DE ANIMAIS.

ESTA CASA É DE CACO  
QUEM MORA NELA É O 

ESTA CASA TÃO BONITA  
QUEM MORA NELA É A 

ESTA CASA É DE CIMENTO  
QUEM MORA NELA É O 

ESTA CASA É DE TELHA  
QUEM MORA NELA É A 

ESTA CASA É DE LATA  
QUEM MORA NELA É A 

ESTA CASA É ELEGANTE  
QUEM MORA NELA É O 

E DESCOBRI DE REPENTE  
QUE NÃO FALEI EM  
CASA DE GENTE.



ELIAS JOSÉ

2) COMPLETE O QUADRO ABAIXO

PALAVRA	SEPARAÇÃO EM SÍLABA	NÚMERO DE SÍLABAS
ELEFANTE		
TELHA		
BONITA		
ELEGANTE		
CIMENTO		
GENTE		





ATIVIDADE DE MATEMÁTICA

**COMPLETE A SEQUÊNCIA**

1						8		
	12							20
		33						
			44					
					57			
							69	
								80
81						88		
			94					100

APÓS COMPLETAR O QUADRO, CONSULTE E RESPONDA:

O ANTECESSOR DE 49.

ESTOU ENTRE 20 E 25, SOU UM NÚMERO PAR QUE NÃO REPETE O ALGARISMO.

SOU MAIOR QUE O NÚMERO 36 E MENOR QUE 38.

VENHO ANTES DE 25.



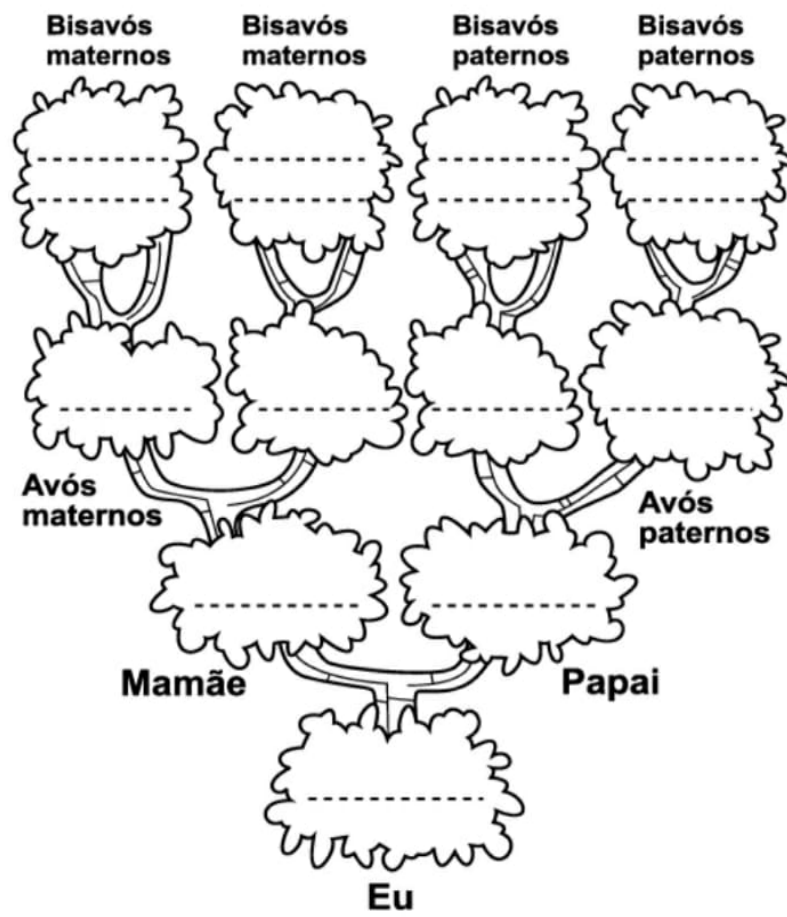
ATIVIDADE DE HISTÓRIA

1) LEIA O TEXTO ABAIXO:

FAMÍLIA É...

UM GRUPO DE PESSOAS QUE VIVEM JUNTAS, UNIDAS POR LAÇOS FAMILIARES OU AFETIVOS. PODENDO SER FORMADA POR MÃE, PAI, FILHOS, PARENTES E ATÉ BICHINHOS DE ESTIMAÇÃO.

A) AGORA COMPLETE A ÁRVORE GENEALÓGICA COM OS NOMES DAS PESSOAS DE SUA FAMÍLIA.



ATIVIDADE DE MATEMÁTICA



LEIA A PARLENDIA E RESPONDA

O TEMPO PERGUNTOU PARA O TEMPO

QUANTO TEMPO O TEMPO TEM.

E O TEMPO RESPONDEU AO TEMPO

QUE O TEMPO TEM TANTO TEMPO

QUANTO O TEMPO TEM.



FAÇA UMA ESTIMATIVA DE EM QUANTO TEMPO VOCÊ:

TOMA BANHO \_\_\_\_\_

ESCOVA OS DENTES \_\_\_\_\_

FAZ A LIÇÃO \_\_\_\_\_

ALMOÇA \_\_\_\_\_

BRINCA \_\_\_\_\_

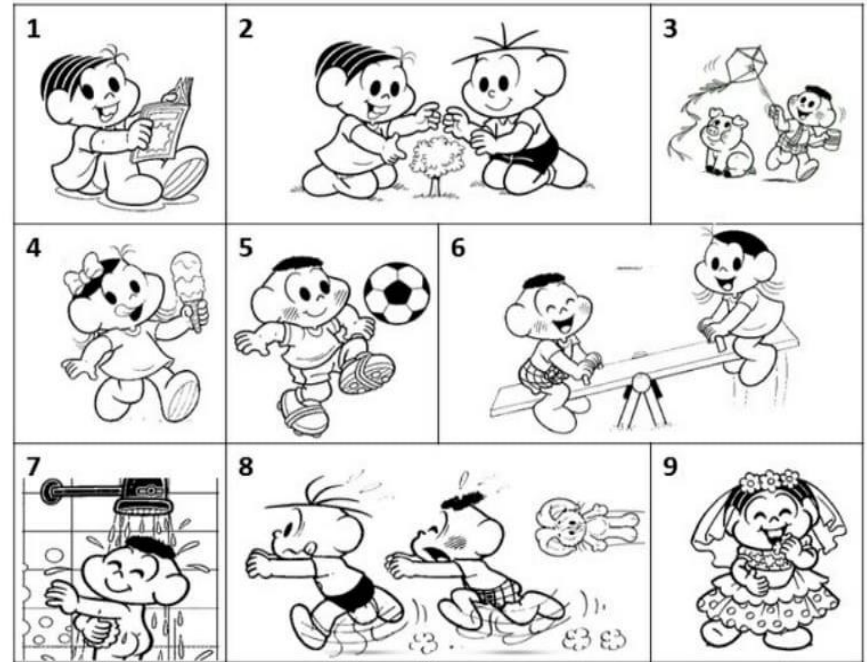
ESTUDA \_\_\_\_\_

ASSISTE TV \_\_\_\_\_



ATIVIDADE DE PORTUGUÊS

1) RELACIONE UMA FRASE PARA CADA IMAGEM ABAIXO:



( ) O CASÇÃO E A MAGALI ESTÃO BRINCANDO NA GANGORRA.

( ) A MÔNICA E O CEBOLINHA PLANTARAM UMA ÁRVORE.

( ) QUE SURPRESA! O CASÇÃO TOMOU BANHO HOJE.

( ) A MAGALI COMPROU UM SORVETE ENORME.

( ) CASÇÃO ADORA SOLTAR PIPA.

( ) A MÔNICA FOI A NOIVA DA FESTA JUNINA.

( ) O CEBOLINHA E O CASÇÃO CORRERAM DA MÔNICA.

( ) A MÔNICA LÊ REVISTINHA TODOS OS DIAS.

( ) O CASÇÃO É UM ÓTIMO JOGADOR DE FUTEBOL.





ATIVIDADE DE PORTUGUÊS

OBSERVE AS CENAS E ESCREVA UMA FRASE SOBRE CADA UMA.




---



---



---




---



---



---




---



---



---




---



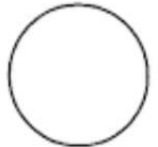
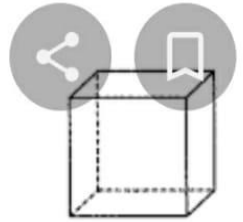
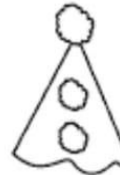
---



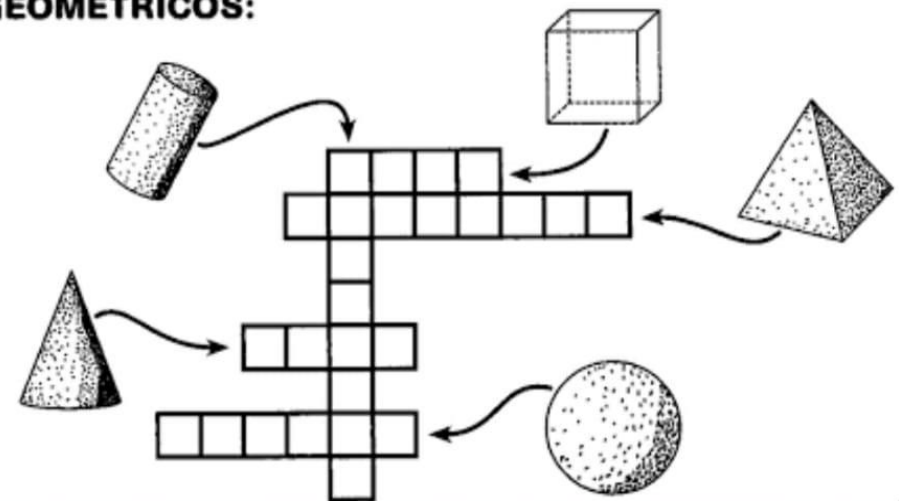
---



 **LIGUE OS DESENHOS ÀS FIGURAS CORRESPONDENTES:**



 **COMPLETE A CRUZADINHA SOBRE OS SÓLIDOS GEOMÉTRICOS:**



## REFERÊNCIAS

<https://pt-br.facebook.com/Escolas-do-Campo-em-El%C3%ADsio-Medrado-511709082288518>

<https://br.pinterest.com/pin/394557617346493673/>