



Prefeitura da Estância Turística de
IBIÚNA
TRANSFORMAÇÃO RESPONSÁVEL. CUIDANDO DE PESSOAS.



**U.E.
43**

E.M Profª Márcia Belmiro do lago

Estrada Municipal do Verava – Km 05 – S/Nº - Ibiúna/SP

5º apostila

Atividades referentes aos dias: 11, 12, 13,14, 17,18, 19,20, 21 24,25
26,27,28 e 31/05

Nome: _____

Professora: Elaine Fernandes/ série 5º ano B



(EF01LP08) NESTA ATIVIDADE, SEU FILHO (A), VAI IDENTIFICAR EM QUAL SÍLABA APARECE A LETRA P, FALANDO PAUSADAMENTE CADA PALAVRA. CADA ESTRELA REPRESENTA UMA SÍLABA, ELE (A) DEVE PINTAR A SÍLABA QUE APARECE A LETRA P. FAÇA COMO NAS ATIVIDADES ANTERIORES.

P



(EF01MA04) SABENDO QUE CADA PEÇA, CONTÉM DEZ UNIDADES FORMANDO UMA DEZENA E CADA QUADRADINHO SEPARADO CORRESPONDE A UMA UNIDADE, OBSERVE E RESPONDA.

= 10 = 1


NÚMEROS NATURAIS


PINTE AS QUANTIDADES INDICADAS EM CADA QUADRO.


<p>12</p>	<p>8</p>	<p>13</p>
<p>19</p>	<p>20</p>	<p>4</p>
<p>16</p>	<p>18</p>	<p>9</p>


ATIVIDADES REFERENTES AO DIA 21/10/2020


(EF01LP07) NESTA ATIVIDADE O ALUNO (A) DEVE, PINTAR AS SÍLABAS QUE CORRESPONDEM A CADA IMAGEM E DEPOIS ESCREVER A PALAVRA CORRETA NAS LINHAS PONTILHADAS.


	PI	PA	PE
	PU	PO	CU
	CE	CO	CA
.....			

	PE	PA	PU
	PI	PO	TA
	TE	TO	TI
.....			


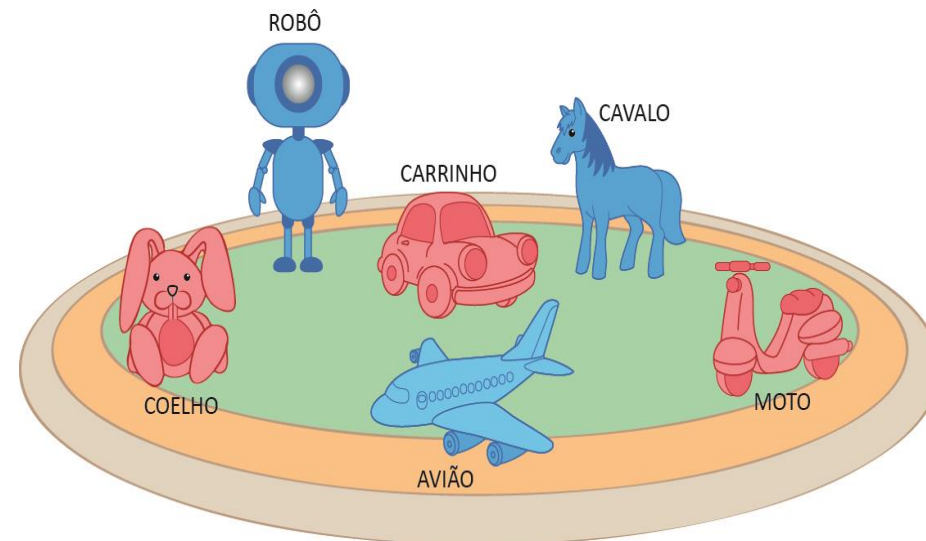
	PA	PE	PI
	TA	TE	TI
	CE	CA	CU
.....			

	PA	PE	PI
	E	I	A
	NA	NI	NO
.....			

	PI	PA	PO
	NE	NU	NA
	LI	LO	LA
.....			

	PA	PE	PI
	PO	PU	A
	E	I	ÃO
.....			

(EF01MA09) GABRIEL VAI ORGANIZAR ESTES BRINQUEDOS EM 2 CAIXAS, SEPARANDO-OS POR COR.

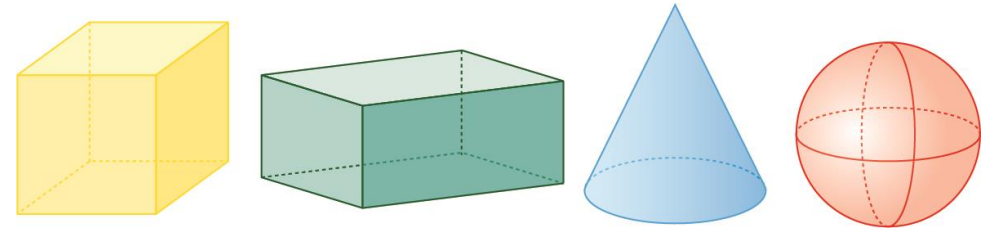


QUAIS BRINQUEDOS FICARÃO EM CADA CAIXA? PARA DESCOBRIR, LIGUE CADA OBJETO NA CAIXA AONDE ELE DEVE FICAR.

(EF01LP16, EF12LP01, EF01LP19) AGORA VAMOS LER A POESIA DE VÍNÍCIUS DE MORAES E ACOMPANHAR COM A MÚSICA ENVIADA PELA PROFESSORA. DEPOIS CIRCULE TODAS AS SÍLABAS PA,PE,PI,PO,PU QUE VOCÊ ENCONTRAR COM LÁPIS DE COR VERMELHO E AS PALAVRAS PATO DE VERDE..







(EF01MA13) DAVI ESTÁ APRENDENDO NA ESCOLA SÓLIDOS GEOMÉTRICOS. VEJA OS SÓLIDOS GEOMÉTRICOS QUE ELE JÁ ESTUDOU.



DAVI PERCEBEU QUE ALGUNS OBJETOS NO QUARTO DELE TINHAM A FORMA DESSES SÓLIDOS GEOMÉTRICOS.

QUAL OBJETO ABAIXO **NÃO** TEM A FORMA DESSES SÓLIDOS GEOMÉTRICOS?

- A)  BOLA DE FUTEBOL.
- B)  CAIXA DE SAPATOS.
- C)  CESTO DE LIXO.
- D)  CHAPÉU DE FESTA.

(EF15LP03, EF01LP12) OBSERVE ESTE TRECHO DO POEMA "O PATO"

O PATO PATETA



O PATO PATETA
PINTOU O CANECO
SURROU A GALINHA
BATEU NO MARRECO.

CIRCULE AS PALAVRAS DO TEXTO INICIADAS COM A LETRA P E ESCREVA:

PINTE A ÚLTIMA PALAVRA DO TEXTO E ESCREVA-A:

PINTE OS ESPAÇOS ENTRE AS PALAVRAS. QUANTAS PALAVRAS TEM O TRECHO?

OBSERVE A PALAVRA:

PATO

QUANTAS LETRAS? _____ QUANTAS SÍLABAS? _____

VAMOS ESCREVER OUTRAS PALAVRAS COMEÇADAS COM P

(EF01MA18) O DIA DO ANIVERSÁRIO DE JOÃO ESTÁ ASSINALADO NO CALENDÁRIO DO MÊS DE JANEIRO DO ANO DE 2019.

JANEIRO



DOMINGO	SEGUNDA	TERÇA	QUARTA	QUINTA	SEXTA	SABADO
		1	2	3	4	5
6	7	8	9	10	11	12
13	14	15	16	17	18	19
20	21	22	23	24	25	26
27	28	29	30	31		

O ANIVERSÁRIO DE JOÃO FOI EM QUAL DIA DA SEMANA?

- QUINTA- FEIRA
- SEXTA- FEIRA
- SÁBADO
- TERÇA- FEIRA

(EF12LP01) PINTE O NOME CORRETO DE CADA FIGURA.

Top Left: GALO, COELHO, CAVALO

Top Right: PANELA, PATETA, JANELA

Middle Left: JANELA, PANELA, TIGELA

Middle: MOÇO, POÇO, LAÇO

Middle Right: JEGUE, JENIPAPO, GELATINA

Bottom Left: CANECO, MARRECO, BONECO





Bottom Center: GALINHA, GALO, GELO

Bottom Right: MATO, POTE, PATO

<http://ler-com-prazer.blogspot.com>

(EF01MA21) OBSERVE O GRÁFICO ABAIXO E RESPONDA AS QUESTÕES.

A PROFESSORA FEZ UM CONCURSO DE DINOSSAUROS NA CLASSE. DUDA E SUAS AMIGAS LEVARAM OS SEUS. DE ACORDO COM O QUADRO DE PREFERÊNCIA, COMPLETE RESPONDENDO.

				
	DUDA	DANIELA	JÚLIA	CAMILA
9				
8				
7				
6				
5				
4				
3				
2				
1				

A) O DINOSSAURO VENCEDOR FOI O DE:

B) O DINO DE DUDA GANHOU VOTOS.

C) O DINOSSAURO DE CAMILA GANHOU VOTOS.

D) O DINOSSAURO DE JÚLIA GANHOU VOTOS.

(EF15LP03) APÓS A LEITURA DO TEXTO,
RESPONDA AS QUESTÕES ABAIXO.



1) QUAL O TÍTULO DO TEXTO?

2) QUAL O SEU AUTOR ?

3) O PATO ERA PATETA?

NÃO

SIM

4) O PATO BATEU NO.



CAVALO



CANECO



MARRECO

5) NO FINAL DO TEXTO O PATO FOI PARAR NA...



JANELA



PANELA



TIGELA

(EF01MA07) SEGUINDO O EXEMPLO ABAIXO VAMOS DECOMPOR
OS NÚMEROS.



DECOMPOSIÇÃO

59	50	+	9
12		+	
85		+	
32		+	
46		+	
19		+	
92		+	
64		+	

(EF12LP01, EF01LP12) AGORA OBSERVE A LETRA DA POESIA E COMPLETE O TEXTO COM AS LETRAS FALTOSAS:

O PATO

COMPLETE:

O PATO

O PATO PATETA
 PINTOU O CANECO
 SURROU A GALINHA
 BATEU NO MARRECO
 PULOU O POLEIRO
 NO PÉ DO CAVALO
 LEVOU UM COICE
 CRIOU UM GALO



O PATO
 PINTOU O
 SURROU A GALINHA
 BATEU NO
 PULOU O POLEIRO
 NO PÉ DO
 LEVOU UM COICE
 CRIOU UM

COMEU UM PEDAÇO
 DE JENIPAPO
 FICOU ENGASGADO
 COM DOR NO PAPO
 CAIU NO POÇO
 QUEBROU A TIGELA
 TANTAS FEZ O MOÇO
 QUE FOI PRA PANELA













COMEU UM PEDAÇO
 DE
 FICOU ENGASGADO
 COM DOR NO
 CAIU NO
 QUEBROU A
 TANTAS FEZ O MOÇO
 QUE FOI PRA

VINÍCIUS DE MORAIS

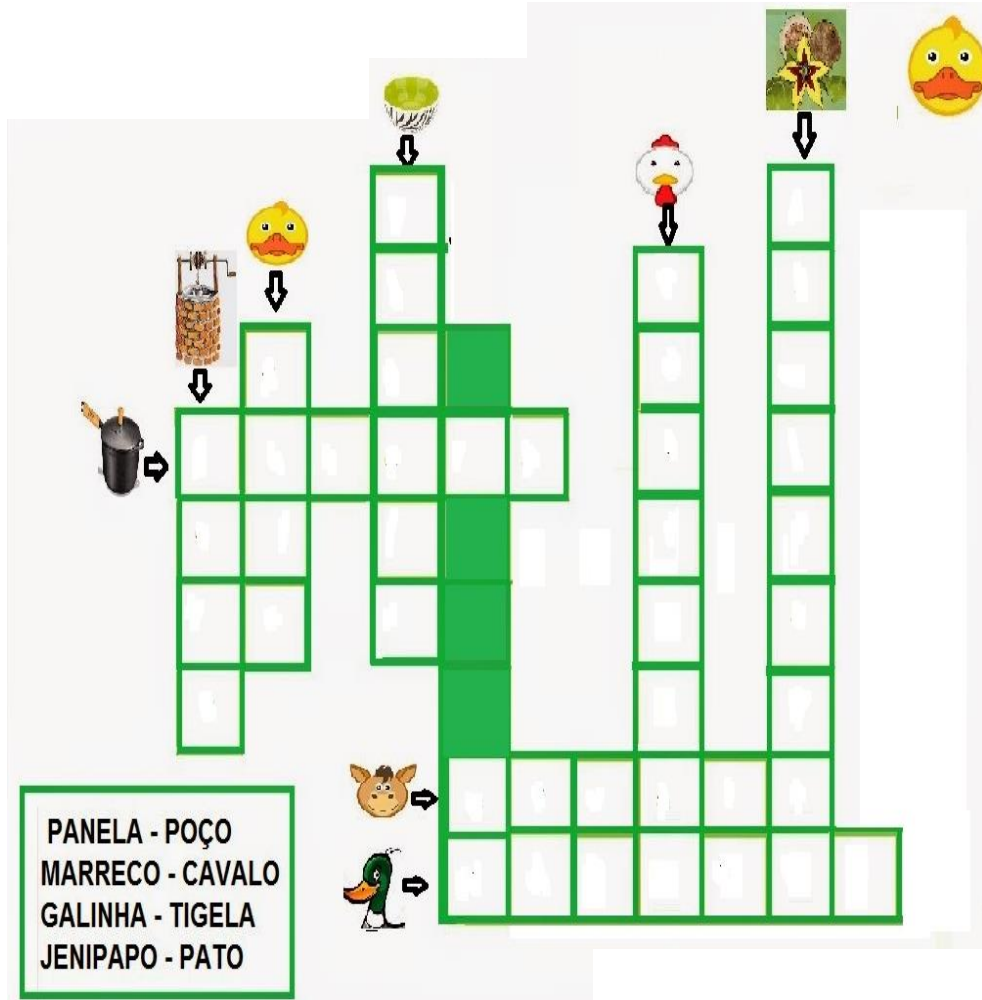
VINÍCIUS DE MORAIS

(EF01MA10) DESCUBRA, NO QUADRO OS NÚMEROS QUE ESTARIAM NO LUGAR DOS SÍMBOLOS E ESCREVA-OS ABAIXO NO LUGAR CORRESPONDENTE.

1	2	3		5	6	7	
9	10	11	12		14	15	16
	18	19		21	22	23	
25		27	28	29		31	32
33	34		36	37	38		40


	<input type="text"/>		<input type="text"/>		<input type="text"/>
	<input type="text"/>		<input type="text"/>		<input type="text"/>
	<input type="text"/>		<input type="text"/>		<input type="text"/>
	<input type="text"/>		<input type="text"/>		<input type="text"/>

(EF12LP01) COMPLETE A CRUZADINHA ABAIXO COM AS PALAVRAS DO TEXTO USANDO O BANCO DE APOIO DE PALAVRAS.



PANELA - POÇO
MARRECO - CAVALO
GALINHA - TIGELA
JENIPAPO - PATO

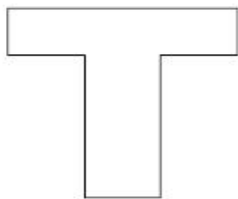
(EF01MA14) LUCAS OBSERVOU O MOLDE DE UM SÓLIDO GEOMÉTRICO E IDENTIFICOU 6 FIGURAS GEOMÉTRICAS PLANAS IGUAIS.



QUAIS FIGURAS GEOMÉTRICAS PLANAS LUCAS IDENTIFICOU NESSE MOLDE?

- A) FIGURAS CIRCULARES
- B) FIGURAS TRIANGULARES
- C) FIGURAS QUADRADAS
- D) FIGURAS RETANGULARES

(EF01LP08) NESTA ATIVIDADE, SEU FILHO (A), VAI IDENTIFICAR EM QUAL SÍLABA APARECE A LETRA T, FALANDO PAUSADAMENTE CADA PALAVRA. CADA ESTRELA REPRESENTA UMA SÍLABA, ELE (A) DEVE PINTAR A SÍLABA QUE APARECE A LETRA T. FAÇA COMO NAS ATIVIDADES ANTERIORES.



(EF01MA17) OS DIAS DA SEMANA

UMA SEMANA É FORMADA POR UM GRUPO DE 7 DIAS. A CONTAGEM DOS DIAS E SEU AGRUPAMENTO POR SEMANA, MESES E ANO É UMA FORMA DE CONTAR O TEMPO.

OS DIAS DA SEMANA SÃO: SEGUNDA-FEIRA, TERÇA-FEIRA, QUARTA-FEIRA, QUINTA-FEIRA, SEXTA-FEIRA, SÁBADO E DOMINGO.

DE ACORDO COM O TEXTO E SEUS CONHECIMENTOS JÁ ADQUIRIDOS, RESOLVAS AS ATIVIDADES A SEGUIR.

1 - UMA SEMANA TEM:

- () 5 DIAS.
- () 7 DIAS.
- () 8 DIAS.



2 - OS DIAS DA SEMANA QUE NÃO TÊM AULAS, SÃO:

- () SEXTA-FEIRA E SÁBADO.
- () SÁBADO E DOMINGO.
- () SÁBADO E SEGUNDA-FEIRA.

(EF01LP07) SEPRE AS SÍLABAS DAS PALAVRAS CADA UMA EM UM QUADRADINHO.



--	--	--

PANELA



--	--

PATO



--	--	--

CAVALO



--	--	--

TIGELA



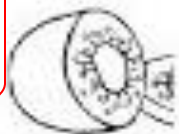
--	--

POÇO



--	--	--

GALINHA



NÃO SE ESQUEÇA QUE LETRAS IGUAIS NÃO PODEM FICAR NA MESMA SÍLABA, PEDACINHO DA PALAVRA!

--	--	--

MARRECO

--	--	--	--

JENIPAPO

(EF01MA04) CONTE E RESPONDA!!!

OBSERVE A QUANTIDADE DE CARRINHOS DE JOÃO E LUCAS. OS DOIS RESOLVERAM JUNTAR SUAS COLEÇÕES. QUANTOS CARRINHOS POSSUEM OS DOIS JUNTOS? ASSINALE A ALTERNATIVA CORRETA.

João



Lucas


 6

 12

 20

 18



(EF01LP07) VAMOS COMPLETAR AS PALAVRAS COM: TA, TE, TI, TO, TU.

 ___CANO	 ___URO	 ___NTA
 ___LEFONE	 ___IA	 ___GRE
 ___ALHA	 ___RTARUGA	 ___BARÃO
 ___NIS	 ___TU	 ___JOLO

(EF01MA21) OBSERVE ATENTAMENTE OS GRÁFICOS A E B E RESPONDA.



QUAL DOS DOIS GRÁFICOS, A OU B, É O CORRETO PARA AS INFORMAÇÕES DESCOBERTAS DESTA ANO PRESENTES NA TABELA AO LADO?


	GOSTO	10
	ÀS VEZES	5
	NÃO GOSTO	8


GRÁFICO A



GRÁFICO B




(EF01LP16,EF01LP14) VAMOS REESCREVER AS FRASES NA LINHA ABAIXO SUBSTITUINDO AS IMAGENS PELO NOME CORRETO E NÃO SE ESQUEÇA DE COLOCAR O PONTO FINAL AO TERMINAR A FRASE!

1. O  DE CASA É VERDE.

2. MAMÃE USOU A  ONTEM.

3. NO ZOOLOGICO TEM  E .

4. NA LOJA TEM .

5. VOVÓ FEZ UMA  DE .

CIÊNCIAS

(EF01CI01) VAMOS OBSERVAR AGORA A UTILIDADE DE ALGUNS OBJETOS QUE ESTÃO PRESENTES EM NOSSA VIDA COTIDIANA

▶ EQUIPAMENTOS PARA PLANTAR

VAMOS CONHECER ALGUNS OBJETOS USADOS NO CULTIVO E NO CUIDADO DE JARDINS E HORTAS.

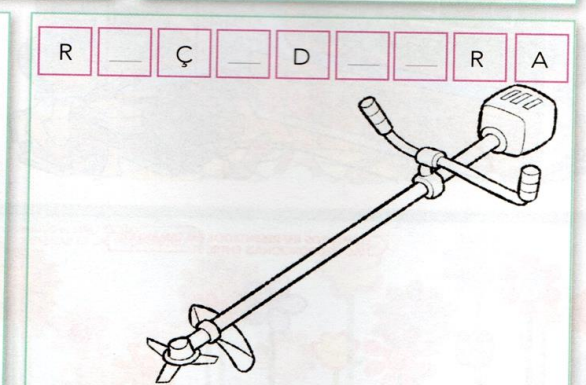
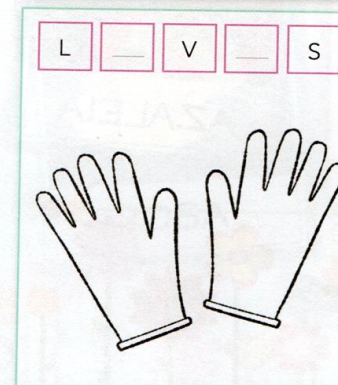
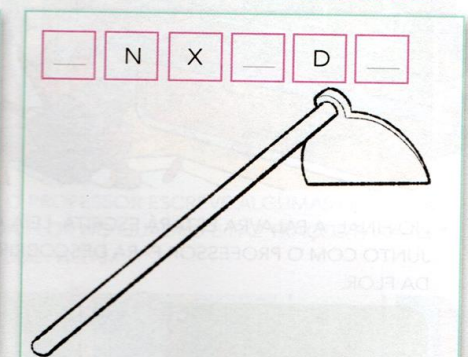
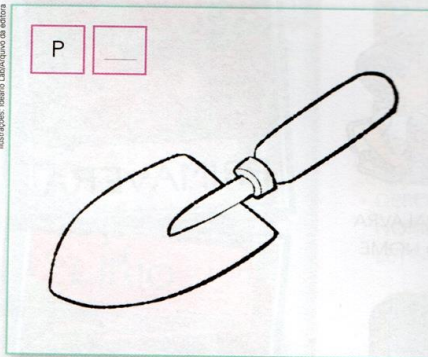
LEIA ATENTAMENTE AS PALAVRAS ABAIXO:

PÁ ENXADA LUVAS ROÇADEIRA

- A) NOS QUADROS ABAIXO, TERMINE DE ESCREVER AS LETRAS QUE FALTAM. USE O BANCO DE PALAVRAS PARA AJUDÁ-LO.
- B) PINTE OS EQUIPAMENTOS COM AS MESMAS CORES USADAS NO BANCO DE PALAVRAS.

ELEMENTOS REPRESENTADOS EM TAMANHOS NÃO PROPORCIONAIS ENTRE SI.

Ilustrações: Isabela Lapa/Arquivo da Editora



(EF12LP01) CONTE AS PALAVRAS QUE COMEÇAM COM A MESMA LETRA E PINTE NO GRÁFICO, A QUANTIDADE CORRESPONDENTE.



⋮

PATETA	CAVALO	PANELA
JENIPAPO	TIGELA	PATO
SURROU	MARRECO	GALINHA
COICE	GALO	PAPO
POÇO	MOÇO	COMEU

(EF01MA21) GRÁFICO DE BARRAS

C							
G							
J							
M							
P							
S							
T							

A) QUAL É A LETRA QUE TEM MAIS PALAVRAS?

B) E MENOS PALAVRAS? _____

COMPLETE A SEQÜÊNCIA NÚMERICA.

	2		4		6		8
	10		12		14		16
	18		20		22		24
	26		28		30		

GEOGRAFIA

(EF01GE11) DE ACORDO COM A TEMPERATURA QUE PRESENCIAMOS AO LONGO DO ANO, DEVEMOS ADOTAR MEDIDAS DE ALIMENTAÇÃO E VESTUÁRIO ADEQUADOS A CADA UMA DELAS. SEGUINDO ESSA INFORMAÇÃO, RESPONDA A QUESTÃO ABAIXO


EDUARDA E SEUS AMIGOS GOSTAM MUITO DE IR À PRAIA BRINCAR. OBSERVE A IMAGEM ABAIXO.



ASSINALE COM X A ALTERNATIVA QUE MOSTRA O MELHOR TÍTULO PARA A IMAGEM, O QUE DESCREVE MELHOR A SITUAÇÃO ACIMA.

- A) APROVEITANDO O CALOR.
- B) FAZ FRIO NA CIDADE.
- C) DIVERSÃO COM CHUVA.
- D) ESQUENTANDO-SE COM ROUPAS QUENTES

(EF15AR13) HOJE VAMOS CONHECER UM POUCO SOBRE O AUTOR VINÍCIUS DE MORAES OU SEJA, SUA BIOGRAFIA:



Biografia do autor

- Marcos Vinícius de Melo Moraes nasceu no Rio de Janeiro, em 1913.
- Advogado e boêmio, começou cedo nas rodas literárias e musicais.
- Estreou na literatura com *O Caminho para a Distância*, em 1933, e firmou sua carreira poética com a publicação de outras obras.

ATENÇÃO!!!!

(EF01LP11) AGORA PINTE DE **AZUL** O NOME COMPLETO DO AUTOR.

(EF15AR01) COMO VOCÊ ACHA QUE É O PATO DA POESIA? USE SUA IMAGINAÇÃO E PINTE DE ACORDO COM O QUE VOCÊ IMAGINOU.

