

E.M. “PROFESSORA YOLANDA AGOSTINHO DE LIMA.”

MINHAS ATIVIDADES



PROFESSORA: ARIADNE PUZONE.

TURMA: 2º ANO A

ALUNO(A): _____

5ª APOSTILA: 11/05/2021 À 31/05/2021

2021

BOM TRABALHO!

NOME: _____ DATA: 11/05/21

PROFESSORA: ARIADNE

LÍNGUA PORTUGUESA

2º ANO A

VAMOS LER UM POEMA? SE PRECISAR PEÇA AJUDA PARA UM ADULTO:

POEMA: NOME DA GENTE

PEDRO BANDEIRA

EU NÃO GOSTO
DO MEU NOME
NÃO FUI EU
QUEM ESCOLHEU.
EU NÃO SEI
PORQUE SE METEM
COM UM NOME
QUE É SÓ MEU!

O NENÊ
QUE VAI NASCER
VAI CHAMAR
COMO O PADRINHO
VAI CHAMAR
COMO O VOVÔ
MAS NINGUÉM
VAI PERGUNTAR
O QUE PENSA O COITADINHO

FOI MEU PAI QUEM DECIDIU
QUE O MEU NOME FOSSE AQUELE
ISSO SÓ SERIA JUSTO
SE EU ESCOLHESSE
O NOME DELE.

QUANDO EU TIVER UM FILHO,
NÃO VOU POR NOME NENHUM.
QUANDO ELE FOR BEM GRANDE,
ELE QUE ESCOLHA UM !

-VOCÊ SABE QUEM ESCOLHEU SEU NOME? _____

-SE PUDESSE ESCOLHER OUTRO NOME, QUAL SERIA? _____

-VOCÊ SABE A ORIGEM OU O QUE SIGNIFICA SEU NOME? _____

NOME: _____ DATA: 12/05/21

PROFESSORA: ARIADNE

LÍNGUA PORTUGUESA

2º ANO A

VAMOS RESOLVER O CAÇA-PALAVRAS?

CAÇA NOME

VAMOS ENCONTRAR
E PINTAR OS
NOMES NO
DIAGRAMA?



DOUGLAS JOSÉ CARLOS DANIEL
MAURÍCIO CARLOS

P	A	T	R	Í	C	I	A	P	A
M	A	U	R	Í	C	I	O	T	O
I	J	O	Ã	O	D	A	V	I	S
C	T	E	D	O	U	G	L	A	S
A	M	A	R	C	I	L	E	N	E
R	D	A	N	I	E	L	C	A	O
D	A	C	A	R	L	O	S	D	T
O	M	O	N	I	C	A	J	A	U
J	O	S	É	C	A	R	L	O	S

NOME: _____ DATA: 13/05/21

PROFESSORA: ARIADNE LÍNGUA PORTUGUESA / HISTÓRIA 2º ANO A

VOCÊ SABIA QUE A CERTIDÃO DE NASCIMENTO É O PRIMEIRO E MAIS IMPORTANTE DOCUMENTO PARA O CIDADÃO?

-PEÇA PARA UM ADULTO PROCURAR SUA CERTIDÃO DE NASCIMENTO PARA REALIZARMOS A PRÓXIMA ATIVIDADE:



CONSULTANDO O DOCUMENTO, RESPONDA:

1. COMO É O NOME DESSE DOCUMENTO?

2. SEU NOME COMPLETO

3. NOME COMPLETO DA SUA MÃE

4. NOME COMPLETO DO SEU PAI

5. CIDADE ONDE VOCÊ NASCEU

6. DIA, MÊS E ANO EM QUE VOCÊ NASCEU

7. HORA EM QUE VOCÊ NASCEU

8. MATERNIDADE ONDE VOCÊ NASCEU


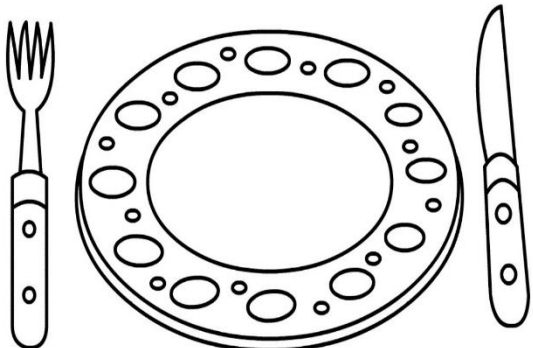
9. NOME DOS SEUS AVÓS PATERNOS

10. NOME DOS SEUS AVÓS MATERNO

NOME: _____ DATA: 14/05/21

PROFESSORA: ARIADNE LÍNGUA PORTUGUESA / HISTÓRIA 2º ANO A

EU SOU ASSIM...

BRINCADEIRA FAVORITA	ANIMAL PREFERIDO
COR FAVORITA	COMIDA PREFERIDA
	

A COR DOS MEUS OLHOS É:



MEUS CABELOS
SÃO ASSIM:



NOME: _____ DATA: 18/05/21

PROFESSORA: ARIADNE










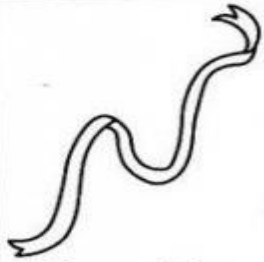






LÍNGUA PORTUGUESA

2º ANO A

O NOSSO ALFABETO É DIVIDIDO EM VOGAIS E CONSOANTES.

AS VOGAIS SÃO: A-E-I-O-U

-COMPLETE AS PALAVRAS UTILIZANDO AS VOGAIS:

 B _ L _	 _ V _	 T _ T _	 G _ L _
 _ V _	 B _ T _	 B _ L _	 S _ P _
 C _ C _	 F _ T _	 _ V _	 V _ L _
 C _ J _	 M _ L _	 L _ _	 _ M _

NOME: _____ DATA: 19/05/21


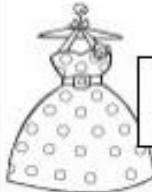






PROFESSORA: ARIADNE

LÍNGUA PORTUGUESA

2º ANO A



NESTA ATIVIDADE, TODAS AS CONSOANTES SUMIRAM DAS PALAVRAS. OBSERVE AS FIGURAS E COMPLETE AS PALAVRAS COM AS CONSOANTES QUE FALTAM.

 <table border="1"><tr><td></td><td>A</td><td></td><td>E</td><td>I</td><td>A</td></tr></table>		A		E	I	A	 <table border="1"><tr><td></td><td>E</td><td></td><td></td><td>I</td><td></td><td>O</td></tr></table>		E			I		O
	A		E	I	A									
	E			I		O								
 <table border="1"><tr><td></td><td>A</td><td></td><td>A</td><td></td><td>O</td></tr></table>		A		A		O	 <table border="1"><tr><td></td><td></td><td>I</td><td></td><td>A</td><td></td><td>A</td></tr></table>			I		A		A
	A		A		O									
		I		A		A								
 <table border="1"><tr><td></td><td>A</td><td></td><td>A</td></tr></table>		A		A	 <table border="1"><tr><td></td><td></td><td>O</td><td></td><td>E</td><td></td><td>A</td></tr></table>			O		E		A		
	A		A											
		O		E		A								
 <table border="1"><tr><td></td><td>A</td><td></td><td>A</td><td></td><td>O</td></tr></table>		A		A		O	 <table border="1"><tr><td></td><td>A</td><td></td><td>Ã</td><td>O</td></tr></table>		A		Ã	O		
	A		A		O									
	A		Ã	O										

NOME: _____ DATA: 20/05/21

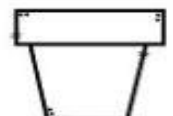
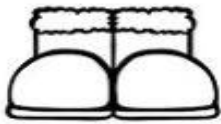
PROFESSORA: ARIADNE

LÍNGUA PORTUGUESA

2º ANO A

CONSOANTES

1 - LEIA E ESCREVA NOS QUADRINHOS ABAIXO, A PRIMEIRA LETRA DE CADA PALAVRA.



AS LETRAS QUE VOCÊ REGISTROU SÃO **CONSOANTES**.

2 - CIRCULE SOMENTE OS NOMES QUE COMEÇAM E TERMINAM COM **CONSOANTES**.

JOEL

ISABEL

RAQUEL

TALES

JÚLIA

CAIO

LIZ

HUGO

RITA

NOAH

ANA

LUCAS

www.amoreemleitura.com.br

2 - CIRCULE E REESCREVA O NOME DO DESENHO QUE TEM **MAIS CONSOANTES**.



OVELHA



CORUJA



ESQUILO



CASTELO

NOME: _____ DATA: 21/05/21

PROFESSORA: ARIADNE

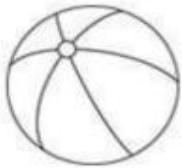
LÍNGUA PORTUGUESA

2º ANO A


CIRCULE AS SÍLABAS QUE FORMAM O NOME DE CADA FIGURA E
COPIE:



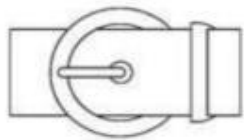
BA	RA	MI	DO
CE	VA	TO	PE



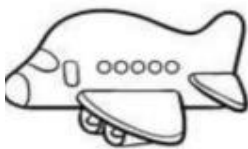
PA	RA	MO	LA
FE	BO	TO	PE



FI	GA	LI	VO
FO	CA	TU	LE




FI	RA	LA	DO
CE	VE	TA	PE



O	VI	MI	FO
A	PA	ÃO	XE



PI	RE	MO	DA
CE	VA	CO	LÉ



CA	RA	LO	DO
CE	VA	TO	PE

NOME: _____ DATA: 24/05/21

PROFESSORA: ARIADNE

LÍNGUA PORTUGUESA

2º ANO A

VAMOS FAZER A LEITURA DO POEMA:

A CASA

(VINICIUS DE MORAES)

ERA UMA CASA
MUITO ENGRAÇADA
NÃO TINHA TETO
NÃO TINHA NADA

NINGUÉM PODIA
ENTRAR NELA NÃO
PORQUE NA CASA
NÃO TINHA CHÃO

NINGUÉM PODIA
DORMIR NA REDE
PORQUE A CASA
NÃO TINHA PAREDE

NINGUÉM PODIA
FAZER PIPI
PORQUE PENICO
NÃO TINHA ALI

MAS ERA FEITA
COM MUITO ESMERO
NA RUA DOS BOBOS
NÚMERO ZERO.




LISTE O QUE **NÃO TINHA**
NA CASA:

-NOSSA CASA É UM LUGAR MUITO ESPECIAL. MARQUE NAS LINHAS
ABAIXO O ENDEREÇO (NOME DA RUA, NÚMERO E BAIRRO) DA CASA
ONDE VOCÊ MORA:

NOME: _____ DATA: 25/05/21

PROFESSORA: ARIADNE LÍNGUA PORTUGUESA/GEOGRAFIA 2º ANO A

-A CASA DESCRITA NO POEMA É BEM DIFERENTE DAS CASAS QUE CONHECEMOS, NÃO É? UTILIZE O ESPAÇO ABAIXO E DESENHE SUA CASA.



-EXISTEM DIFERENTES TIPOS DE CASAS, CIRCULE DE AZUL UMA CASA PARECIDA COM A SUA:



NOME: _____ DATA: 26/05/21


PROFESSORA: ARIADNE

LÍNGUA PORTUGUESA

2º ANO A

OS TRÊS PORQUINHOS

Gerusa Rodrigues Pinto



OS TRÊS PORQUINHOS,
MUITO BONITINHOS,
FIZERAM SUAS CASINHAS
E O LOBO APARECEU.

A PRIMEIRA CASINHA,
QUE ERA DE PALHA,
O LOBO SOPROU
E A CASINHA DERRUBOU.

A SEGUNDA CASINHA,
QUE ERA DE PAU,
O LOBO SOPROU
E A CASINHA DERRUBOU.

MAS A ÚLTIMA CASINHA,
QUE ERA DE PEDRA,
O LOBO SOPROU, SOPROU
E A CASINHA EM PÉ FICOU.

(Música Marcha Soldado)

1º - RESPONDA SOBRE A HISTÓRIA.

A) QUAL É O TÍTULO DA HISTÓRIA?

B) QUAIS SÃO OS PERSONAGENS DESTA HISTÓRIA?

C) O QUE ACONTECEU COM AS CASAS DOS PORQUINHOS QUE FIZERAM AS SUAS CASAS DE PALHA E DE MADEIRA?

D) QUAL FOI O MATERIAL UTILIZADO NA CONSTRUÇÃO DA CASA QUE NÃO FOI DERRUBADA PELO LOBO?


NOME: _____ DATA: 27/05/21

PROFESSORA: ARIADNE

LP/GEOGRAFIA/ARTES

2º ANO A

-VAMOS COLORIR?



-VAMOS FAZER UMA LISTA COM O NOME DE MATERIAIS QUE PODEM SER USADOS NA CONSTRUÇÃO DE UMA CASA:

NOME: _____ DATA: 28/05/21

PROFESSORA: ARIADNE

LÍNGUA PORTUGUESA

2º ANO A

-RESOLVA A CRUZADINHA:

CRUZADINHA

Clues for the crossword puzzle:

- Violin
- Wolf
- Pig
- Broom
- Logs
- Flute
- Piano
- Stack of books

NOME: _____ DATA: 31/05/21

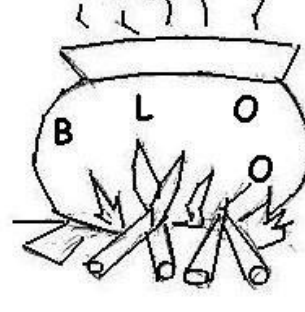


PROFESSORA: ARIADNE

LÍNGUA PORTUGUESA

2º ANO A


SOPA DE PALAVRAS

O CALDEIRÃO DO LOBO:



E.M. "PROFESSORA YOLANDA AGOSTINHO DE LIMA."

MATEMÁTICA



5ª APOSTILA: 11/05/2021 À 31/05/2021

ALUNO(A): _____

PROFESSORA: ARIADNE PUZONE.

TURMA: 2º ANO A

IBIÚNA-2021

NOME: _____ DATA: 11/05/21

PROFESSORA: ARIADNE

MATEMÁTICA

2º ANO A

VAMOS COMPLETAR A SEQUÊNCIA NUMÉRICA?

1					6				10
	12			15			18		
		23	24			27			30
	32		34					39	
41				45		47			50
		53			56			59	
	62		64			67			
71				75			78		80
	82		84				88	89	
		93			96	97			100

NOME: _____ DATA: 12/05/21

PROFESSORA: ARIADNE

MATEMÁTICA

2º ANO A

COMPLETE COM O NÚMERO QUE VEM ANTES E O QUE VEM DEPOIS:



	25	
	18	
	30	
	56	
	74	
	15	
	27	
	71	



	95	
	23	
	69	
	99	
	12	
	20	
	40	
	69	


NOME: _____ DATA: 13/05/21


PROFESSORA: ARIADNE


MATEMÁTICA

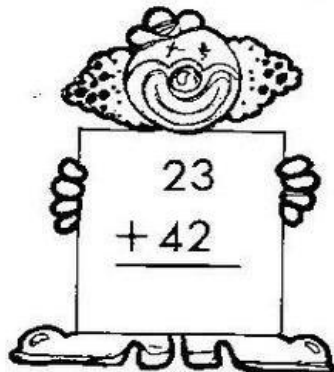
2º ANO A


RESOLVA AS ADIÇÕES:



$$\begin{array}{r} 12 \\ + 15 \\ \hline \end{array}$$

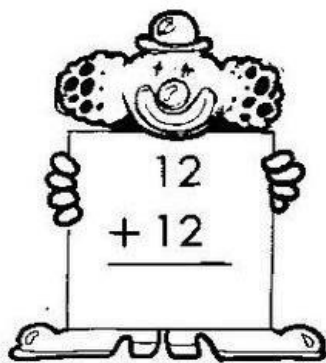

$$\begin{array}{r} 22 \\ + 12 \\ \hline \end{array}$$



$$\begin{array}{r} 46 \\ + 11 \\ \hline \end{array}$$



$$\begin{array}{r} 23 \\ + 42 \\ \hline \end{array}$$



$$\begin{array}{r} 32 \\ + 10 \\ \hline \end{array}$$



$$\begin{array}{r} 34 \\ + 12 \\ \hline \end{array}$$



$$\begin{array}{r} 12 \\ + 12 \\ \hline \end{array}$$


$$\begin{array}{r} 25 \\ + 20 \\ \hline \end{array}$$


$$\begin{array}{r} 16 \\ + 12 \\ \hline \end{array}$$


$$\begin{array}{r} 51 \\ + 16 \\ \hline \end{array}$$


$$\begin{array}{r} 64 \\ + 11 \\ \hline \end{array}$$


$$\begin{array}{r} 72 \\ + 12 \\ \hline \end{array}$$


NOME: _____ DATA: 14/05/21

PROFESSORA: ARIADNE

MATEMÁTICA

2º ANO A

PINTE O PALHAÇO DE ACORDO COM O RESULTADO DAS SUBTRAÇÕES:



NOME: _____ DATA: 15/05/21

























PROFESSORA: ARIADNE

MATEMÁTICA

2º ANO A

QUANTOS SÃO?





NOME: _____ DATA: 17/05/21

PROFESSORA: ARIADNE

MATEMÁTICA


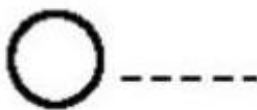
2º ANO A

COLORIR


- OS CÍRCULOS DE AMARELO
- OS TRIÂNGULOS DE VERMELHO
- OS QUADRADOS DE AZUL



2 - CONTE ACIMA E ESCREVA AS QUANTIDADES:



Qual destes pirulitos é o maior?



NOME: _____ DATA: 18/05/21

PROFESSORA: ARIADNE

MATEMÁTICA/CIÊNCIAS

2º ANO A


ACIDENTES DOMÉSTICOS

CRIANÇAS, PRINCIPALMENTE AS MENORES, PASSAM MUITO TEMPO EM CASA E, POR VEZES, OS RESPONSÁVEIS ACREDITAM QUE ESSE SEJA O LUGAR MAIS SEGURO PARA ELAS. ENTRETANTO, NESSE AMBIENTE EXISTEM MUITOS OBJETOS QUE REPRESENTAM POTENCIAIS RISCOS DE ACIDENTES PARA AS CRIANÇAS.

Sendo eles:

ENGASGAMENTO, QUEIMADURA, ASFIXIA, INTOXICAÇÃO, QUEDA, AFOGAMENTO, CHOQUES E CORTES.

CIRCULE OS OBJETOS QUE OFERECEM RISCO DE ACIDENTES:



NOME: _____ DATA: 19/05/21



PROFESSORA: ARIADNE

MATEMÁTICA/CIÊNCIAS

2º ANO A

JOGO DOS 7 ERROS:

NÃO ESQUEÇA DE DESLIGAR O FERRO!!!!



NOME: _____ DATA: 20/05/21

PROFESSORA: ARIADNE

MATEMÁTICA

2º ANO A



VAMOS SUBTRAIR?

RESOLVA OS PROBLEMINHAS.

1.

GUTO TINHA... COMEU... QUANTAS RESTARAM?

$5 - 2 = \quad$

2.

ANA GANHOU... ESTOUROU... QUANTOS RESTARAM?

$4 - 1 = \quad$

3.

JOÃO PEGOU... CAÍRAM... QUANTAS RESTARAM?

$6 - 4 = \quad$

4.


LUÍZA COMPROU... DEU... QUANTOS RESTARAM?

$8 - 3 = \quad$

NOME: _____ DATA: 21/05/21

PROFESSORA: ARIADNE **MATEMÁTICA/ARTES** 2º ANO A

PINTE A FIGURA ABAIXO, COM CAPRICHOS:



AGORA RESPONDA:

-QUANTOS RETÂNGULOS: _____

-QUANTOS CÍRCULOS: _____

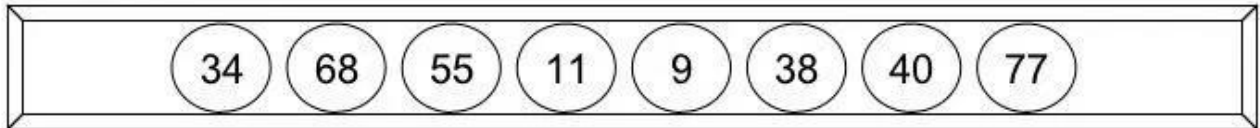
-QUANTOS TRIÂNGULOS: _____

NOME: _____ DATA: 24/05/21

PROFESSORA: ARIADNE **MATEMÁTICA** 2º ANO A

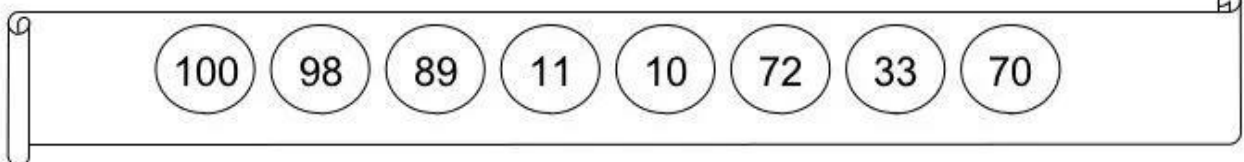
COMPLETE COM O QUE SE PEDE:

CRESCENTE




○ > ○ > ○ > ○ > ○ > ○ > ○ > ○

DECRESCENTE




○ < ○ < ○ < ○ < ○ < ○ < ○ < ○

DECRESCENTE



○ < ○ < ○ < ○ < ○ < ○ < ○ < ○

CRESCENTE



















○ > ○ > ○ > ○ > ○ > ○ > ○ > ○

NOME: _____ DATA: 25/05/21

PROFESSORA: ARIADNE **MATEMÁTICA** 2º ANO A

SISTEMA MONETÁRIO BRASILEIRO

CONTE QUANTOS REAIS CADA CRIANÇA POSSUI:

<p>Camila</p> 	<p>R\$ __, __</p> 	<p>Felipe</p> 	<p>R\$ __, __</p> 
<p>Joana</p> 	<p>R\$ __, __</p> 	<p>Marina</p> 	<p>R\$ __, __</p> 
<p>Henrique</p> 	<p>R\$ __, __</p> 	<p>Manuela</p> 	<p>R\$ __, __</p> 
<p>Gabriel</p> 	<p>R\$ __, __</p> 	<p>José</p> 	<p>R\$ __, __</p> 

NOME: _____ DATA: 26/05/21

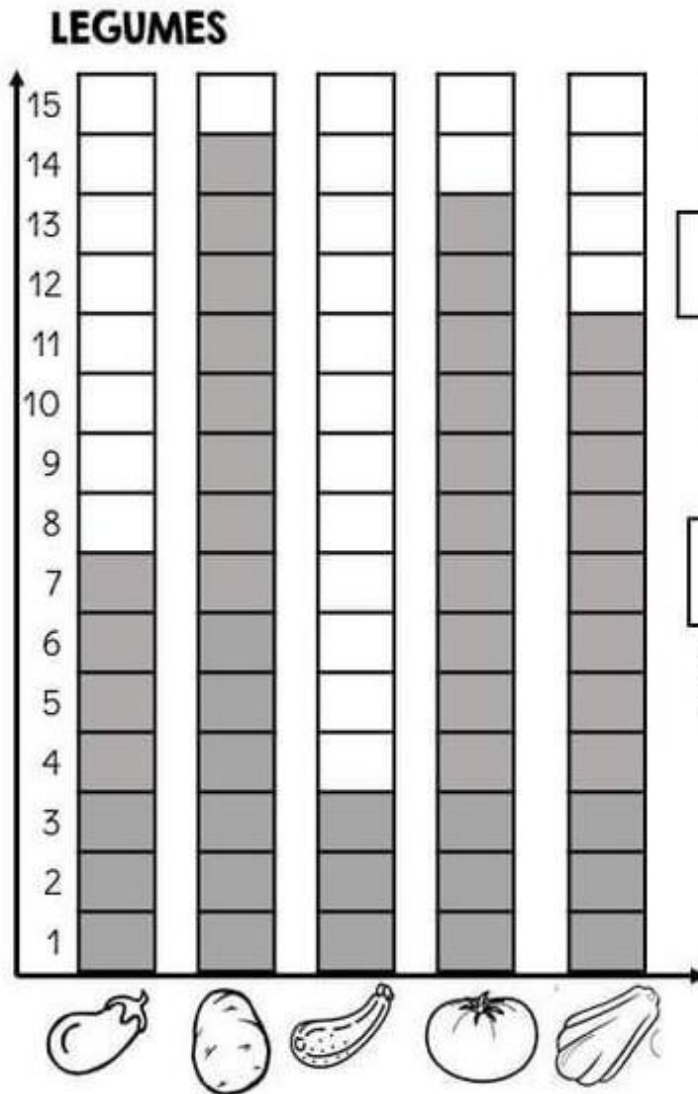
PROFESSORA: ARIADNE

MATEMÁTICA

2º ANO A

GRÁFICOS

VEJA OS LEGUMES QUE UM FEIRANTE CONSEGUIU VENDER EM UM DIA NA SUA FEIRA E RESPONDA.



1- QUAL LEGUME MAIS VENDIDO?

2- QUAL LEGUME MENOS VENDIDO?

3- QUANTOS TOMATES FORAM VENDIDOS?

4- QUANTOS CHUCHUS E BERINJELAS FORAM VENDIDOS?

5- QUANTAS BATATAS A MAIS QUE ABOBRINHAS FORAM VENDIDAS ?



NOME: _____ DATA: 27/05/21

PROFESSORA: ARIADNE

MATEMÁTICA

2º ANO A

OS TRÊS PORQUINHOS

PINTANDO A CASINHA



PINTE AS JANELAS DA CASA DO TORRESMO SEGUINDO AS PISTAS ABAIXO.

A JANELA QUE ESTÁ EM CIMA É AZUL.

A JANELA QUE ESTÁ DO LADO DIREITO É VERDE.

A JANELA QUE ESTÁ DO LADO ESQUERDO É LARANJA.

AGORA, DESENHE UMA PORTA ENTRE A JANELA DA ESQUERDA E A DA DIREITA.



NOME: _____ DATA: 28/05/21

PROFESSORA: ARIADNE

MATEMÁTICA

2º ANO A

COMPLETE A SEQUÊNCIA:

101									
			114					119	
				125					
		133					138	139	
	142						148		
					156				
				175		177			
191					196				

NOME: _____ DATA: 31/05/21
PROFESSORA: ARIADNE **MATEMÁTICA** 2º ANO A

OBSERVE BEM AS CASAS ABAIXO E RESPONDA O QUE SE PEDE:



1- QUANTAS CASAS VOCÊ VÊ NA IMAGEM ACIMA?

2- QUAL É O NÚMERO DA CASA QUE TEM ANTENA?

3- QUAL É O NÚMERO DA CASA QUE TEM CORTINAS EM TODAS AS JANELAS?

4- QUAL É O NÚMERO DA CASA QUE FICA ENTRE A CASA 46 E A CASA 52?

5- SE HOUVESSE OUTRA CASA DEPOIS DA CASA 52, QUAL SERIA O NÚMERO DELA?

REFERÊNCIAS:

- PINTEREST
- www.cartorionobrasil.com.br/duvidas/praqueserveacertidao
- www.ensinareaprender.com.br
- www.oespacoeducador.com.br
- www.aartedeensinareaprender.com
- www.meucantinhopoeticopedagogico.com
- www.misturadealegria.blogspot.com.br
- www.acessasaber.com.br
- www.amorensina.com.br
- www.atividadesparaimprimir.com
- www.smartkids.com.br
- <http://www.sol.eti.br>