


E.M. "Pe. Elídio Mantovani"

ATIVIDADES REMOTAS

De 11/05/2021 à 31/05/2021

DEVOLUÇÃO DA APOSTILA 08/06/2021

Prof^a Silvaneide



1º Ano C

Nome Completo: _____

ESTA TAREFA É DO(A) _____

DATA: 11/05/2021

A BARATA DIZ QUE TEM...



A BARATA DIZ QUE TEM SETE SAIAS DE FILÓ

É MENTIRA DA BARATA, ELA TEM É UMA SÓ

A BARATA DIZ QUE TEM UM SAPATO DE FIVELA

É MENTIRA DA BARATA, O SAPATO É DA IRMÃ DELA

A BARATA DIZ QUE TEM UM ANEL DE FORMATURA

É MENTIRA DA BARATA, ELE TEM É CASCA DURA

A BARATA DIZ QUE USA UM PRODUTO DA AVON


É MENTIRA DA BARATA, ELA USA DETEFON.



ESTA TAREFA É DO(A) _____

DATA: 11/05/2021

RESPONDA



1) QUAL O TÍTULO DO TEXTO?

2) ESCREVA QUANTAS SAIAS A BARATA DIZ QUE TEM.

3) DE QUEM É O SAPATO DE FIVELA?

4) QUANTAS SAIAS A BARATA TEM?

7 4 2 1

5) A BARATA DIZ QUE USA O PERFUME DA




É MENTIRA DA BARATA, ELA USA É



ESTÁTAREFAE DO(A) _____

DATA: 12 / 05 / 2021



PINTE, LEIA E COPIE!

BARATA

BA

BE

BI

BO..... ..

BU


BÃO..... ..

ESTA TAREFA É DO(A) _____

DATA: 12/05/2021



1- A BARATA QUERIA MUITO TER UM SAPATO DE FIVELA. VAMOS AJUDA-LA A TER 15 SAPATO DE FIVELA. DESENHE OS 15 SAPATOS.



2- PINTA A QUANTIDADE DE SAIAS QUE A BARATA DIZ QUE TEM:



ESTA TAREFA É DO(A) _____

DATA: 13/05/2021

A BARATA DIZ QUE TEM...



A DIZ QUE TEM SETE DE FILÓ
É MENTIRA DA BARATA, ELA TEM É UMA SÓ

A BARATA DIZ QUE TEM UM DE FIVELA
É MENTIRA DA BARATA, O SAPATO É DA IRMÃ DELA

A BARATA DIZ QUE TEM UM DE FORMATURA
É MENTIRA DA BARATA, ELE TEM É CASCA DURA

A BARATA DIZ QUE USA UM PRODUTO DA
É MENTIRA DA BARATA, ELA USA DETEFON.

BARATA

SAPATO



SAIAS

AVON

ESTA TAREFA É DO(A) _____

DATA: 13/05/2021

PINTE TODOS OS DESENHOS QUE APARECEM NO TEXTO




ESTA TAREFA É DO(A) _____

DATA: 14/05/2021

ENCONTRE AS PALAVRAS NO DIAGRAMA ABAIXO



B	A	N	E	L	A	C	P
S	A	P	A	T	O	P	C
S	A	I	A	É	J	B	U
P	E	R	F	U	M	E	O
B	A	R	A	T	A	U	C



BARATA
SAPATO
ANEL
SAIA
PERFUME



ESTÁTAREFA É DO(A) _____

DATA: 14/05/2021



CONTE AS PALAVRAS QUE COMEÇAM COM A MESMA LETRA, E PINTE, NO GRÁFICO, A QUANTIDADE CORRESPONDENTE.

DETEFOM	SETE	SAIA
ANEL	FIVELA	MENTIRA
SAIA	BARATA	AVON
SAPATO	DURA	CASCA
UM	SÓ	FORMATURA

GRÁFICO DE BARRAS

D							
A							
B							
S							
M							
F							
C							
U							

A) QUAL É A LETRA QUE TEM MAIS PALAVRAS?

B) E MENOS PALAVRAS? _____


COMPLETE A SEQÜÊNCIA NÚMERICA.

1		3		5		7	
	10		12		14		16
		19		21		23	

ESTA TAREFA É DO(A) _____

DATA: 17/05/2021

PINTE O NOME CORRETO DE CADA FIGURA



PARADA
BATATA
BARATA

SAPATO
PATADA
SAPO

SACO
SAIA
SACAÇA



ANA
AMA
ANEL

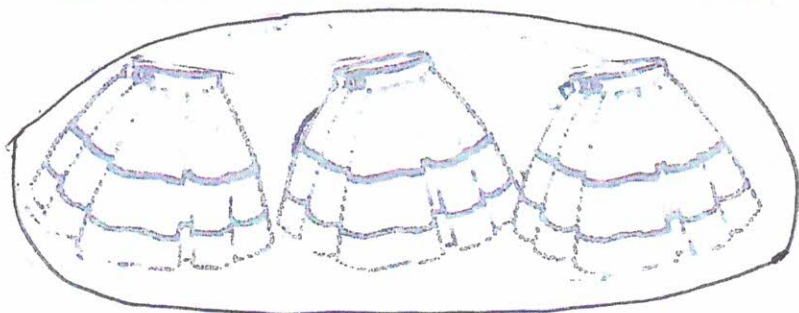
PERFUME
PETECA
PERNA

ESTA TAREFA É DO(A) _____

DATA: 17/05/2021

CADA CONJUNTO UMA QUANTIDADE

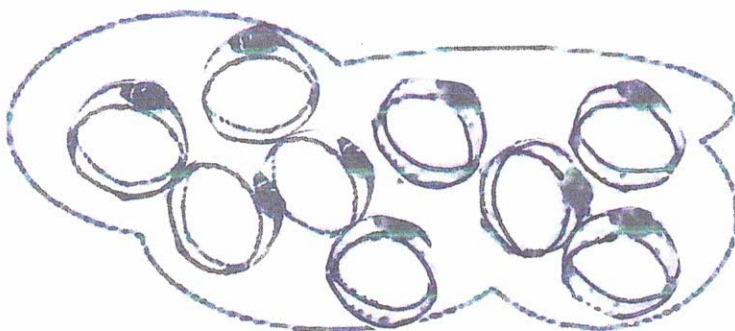
1) CIRCULE O NUMERAL CORRESPONDENTE AOS ELEMENTOS DE CADA CONJUNTO.



6 - 9 - 3 - 1



2 - 7 - 4 - 5



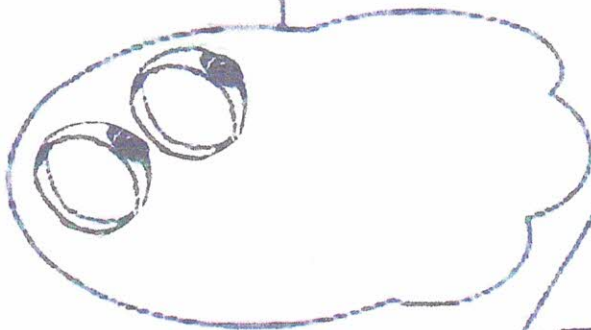
8 - 6 - 9 - 7




4 - 3 - 5 - 1

2) COMPLETE OS CONJUNTOS PARA QUE FIQUEM COM AS QUANTIDADES PEDIDAS.


6



4



8

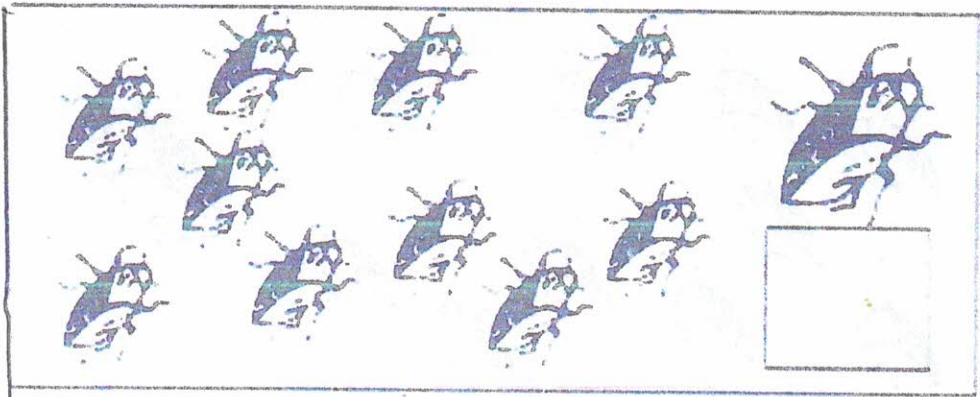


ESTA TAREFA É DO(A) _____


DATA: 18/05/2021



1- CONTE E ESCREVA QUANTAS BARATAS APARECEM NO QUADRO ABAIXO.



VOCÊ JÁ VIU UMA BARATA? COMO ELA É? DESENHE ELA NO QUADRO ABAIXO:



ESTA TAREFA É DO(A) _____

DATA: 19/05/2021

FAMÍLIA SILÁBICA B

UNA A LETRA B COM CADA VOGAL E FORME AS SÍLABAS:

B


A →

E →

I →

O →

U →



ESTA TAREFA É DO(A) _____

DATA: 19/05/2021



ESCREVA AQUI A FIGURA QUE CAIR NO DADO:


1

2

3

4

5








ESTA TAREFA É DO(A) _____

DATA: 20/05/2021


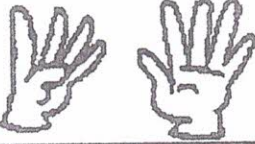











DESCUBRA COMO ESCRIBE



CONTANDO NOS DEDOS

① COLOQUE O NUMERAL CORRESPONDENTE A CADA QUANTIDADE INDICADA PELAS MÃOZINHAS E, EM SEGUIDA, ESCREVA-O CONFORME MODELO.

	NUMERAL	ESCRITA
	0	ZERO
		
		
		
		
		
		
		
		
		




ESTATAREFAÉ DO(A) _____

DATA: 21/05/2021




LIGUE CORRETAMENTE



SAPATO



PERFUME



BARATA



SAIA



ANEL

SABEMOS QUE O CALENDÁRIO MARCA OS DIAS DA SEMANA

PREENCHA O CALENDÁRIO COM DIAS DESTE MÊS

ANO:

MÊS:

DOMINGO	SEGUNDA- -FEIRA	TERÇA- -FEIRA	QUARTA- -FEIRA	QUINTA- -FEIRA	SEXTA- -FEIRA	SÁBADO

QUE DIA DO MÊS É HOJE?

QUANTOS DIAS TEM ESSE MÊS?



PINTE DE VERDE O QUADRINHO DO DIA DE HOJE.

ESTATAREFA É DO(A) _____

DATA: 24 / 105 / 2021



JUNTE AS SÍLABAS E FORME PALAVRAS:

BU + LE _____

BA + RA + TA _____

BO + LO _____

BE + BÊ _____

BA + LA _____

BO + LA _____

COMPLETE AS PALAVRAS ABAIXO COM AS SÍLABAS:

BA - BE - BI - BO - BU - BÃO



_____ LA



_____ LE




_____ LO



_____ LA



_____ ZINA








_____ BÊ

ESTA TAREFA É DO(A) _____

DATA: 24/05/2021

NA LOJA DE CALÇADOS

OS CALÇADOS SÃO VENDIDOS AOS PARES. CADA **PAR** TEM 2 SAPATOS, UM PARA CADA PÉ. AJUDE AO VENDEDOR A GUARDAR OS PARES DE SAPATOS NAS CAIXAS.



ESTA TAREFA É DO(A) _____



DATA: 25/05/2021

RESPONDA

VOCÊ SABE O QUE É MENTIRA? _____

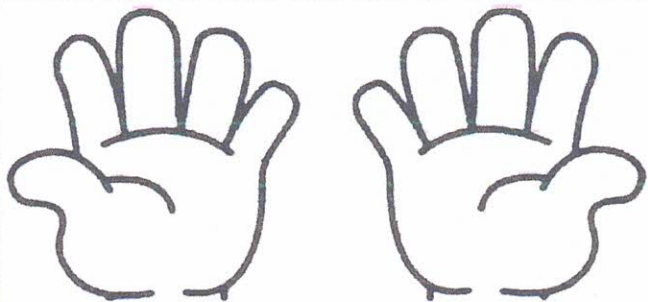
É CORRETO MENTIR? _____

PINTE AS CENAS COM OUTRAS ATITUDES ERRADAS QUE NUNCA DEVEMOS FAZER:




NOME: _____ DATA: 25/05/2021

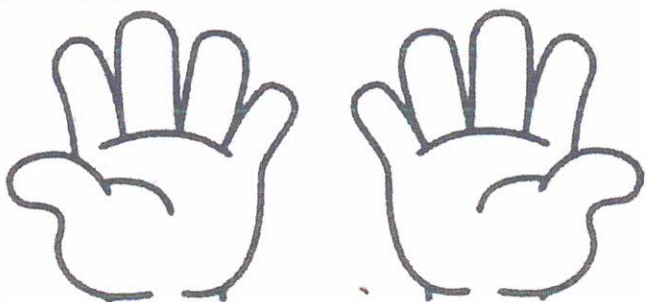
PINTE OS DEDINHOS PARA RESOLVER AS ADIÇÕES:



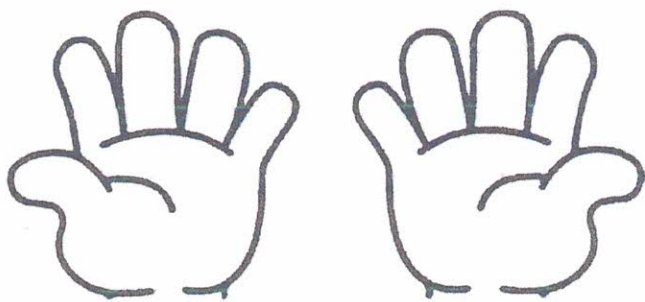
$$4 + 5 =$$



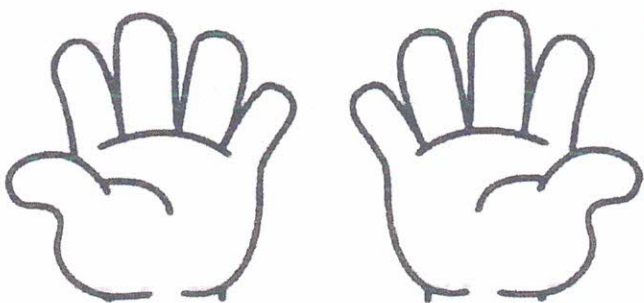
$$3 + 2 =$$



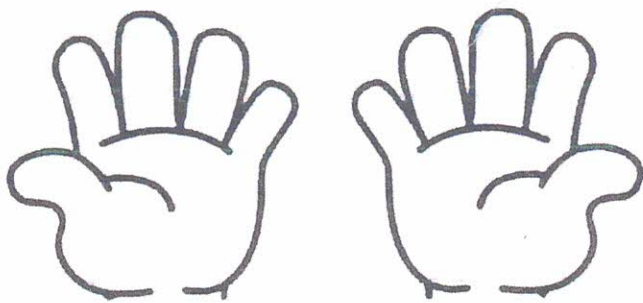
$$2 + 1 =$$



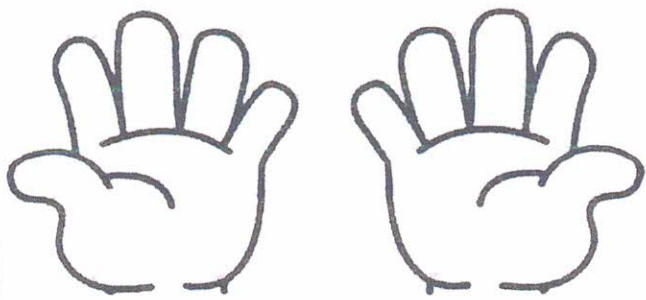
$$6 + 2 =$$




$$7 + 1 =$$



$$5 + 3 =$$



$$5 + 5 =$$



$$3 + 4 =$$

SERES VIVOS



VAMOS RECITAR?

TODOS OS SERES HUMANOS,
AS PLANTINHAS E OS ANIMAIS,
TÊM VIDA.


ELES NASCEM...

ELES CRESCEM...




REPRODUZEM-SE

E, TAMBÉM, MORREM!

Rosália Araújo



NAS FIGURAS ABAIXO, APENAS UM DOS ELEMENTOS NÃO É SER VIVO.
PINTE-O.



- ESTA TAREFA É DO(A) _____

DATA: 26/05/2021

✂️ RECORTE OS OBJETOS ABAIXO E COM A AJUDA DO PESSOAL DE CASA COLE-OS NO QUADRO, DE ACORDO COM O QUE SE PEDE:

SERES VIVOS	SERES NÃO VIVOS




ESTATAREFA É DO(A) _____

DATA: 27/05/2021

FAMÍLIA

DIGA QUEM MORA NA SUA CASA
QUEM MORA COM VOCÊ
COM QUEM VOCÊ DIVIDE O QUE GOSTA
QUEM OLHA POR VOCÊ



QUANDO AS VOGAIS SE ENCONTRAM


O TÍTULO DA CANÇÃO É FAMÍLIA.

LEIA A PALAVRA E OBSERVE COMO É FORMADA.

FAMÍLIA

CIRCULE AS LETRAS QUE REPRESENTAM VOGAIS E QUE APARECEM JUNTAS, FORMANDO UM ENCONTRO DE VOGAIS.

AS VOGAIS FORMAM PALAVRINHAS
QUANDO SE JUNTAM!
LIGUE AS PALAVRAS A CENA CORRETA E AS
ESCREVA DENTRO DOS BALÕES:



AI



AU



OI

ESTA TAREFA É DO(A) _____

DATA: 27/05/2021

CONTE COM SEUS DEDINHOS QUANTAS PESSOAS HÁ NA SUA FAMÍLIA. PINTE UM QUADRADINHO PARA CADA PESSOA:

--	--	--	--	--	--	--	--	--	--	--

AGORA, ESCREVA A QUANTIDADE DE PESSOAS DA SUA FAMÍLIA COM UM NÚMERO:

COMPARE ESTE NÚMERO COM O DOS SEUS AMIGUINHOS. REGISTRE ABAIXO:

**FAMÍLIA COM MAIOR
NÚMERO DE PESSOAS**



**FAMÍLIA COM MENOR
NÚMERO DE PESSOAS**

ESTA TAREFA É DO(A) _____

DATA: 28/05/2021

MINHA FAMÍLIA


RECORTE AS ILUSTRAÇÕES ABAIXO E MONTE O RETRATO DE SUA FAMÍLIA. ATENÇÃO! USE SÓ AS FIGURAS DAS PESSOAS QUE MORAM COM VOCÊ. DEPOIS, PINTE AS LETRAS QUE FORMAM A PALAVRA FAMÍLIA.



ESTA TAREFA É DO(A) _____

DATA: 28/05/2021

QUAL O NÚMERO DO SEU SAPATO?



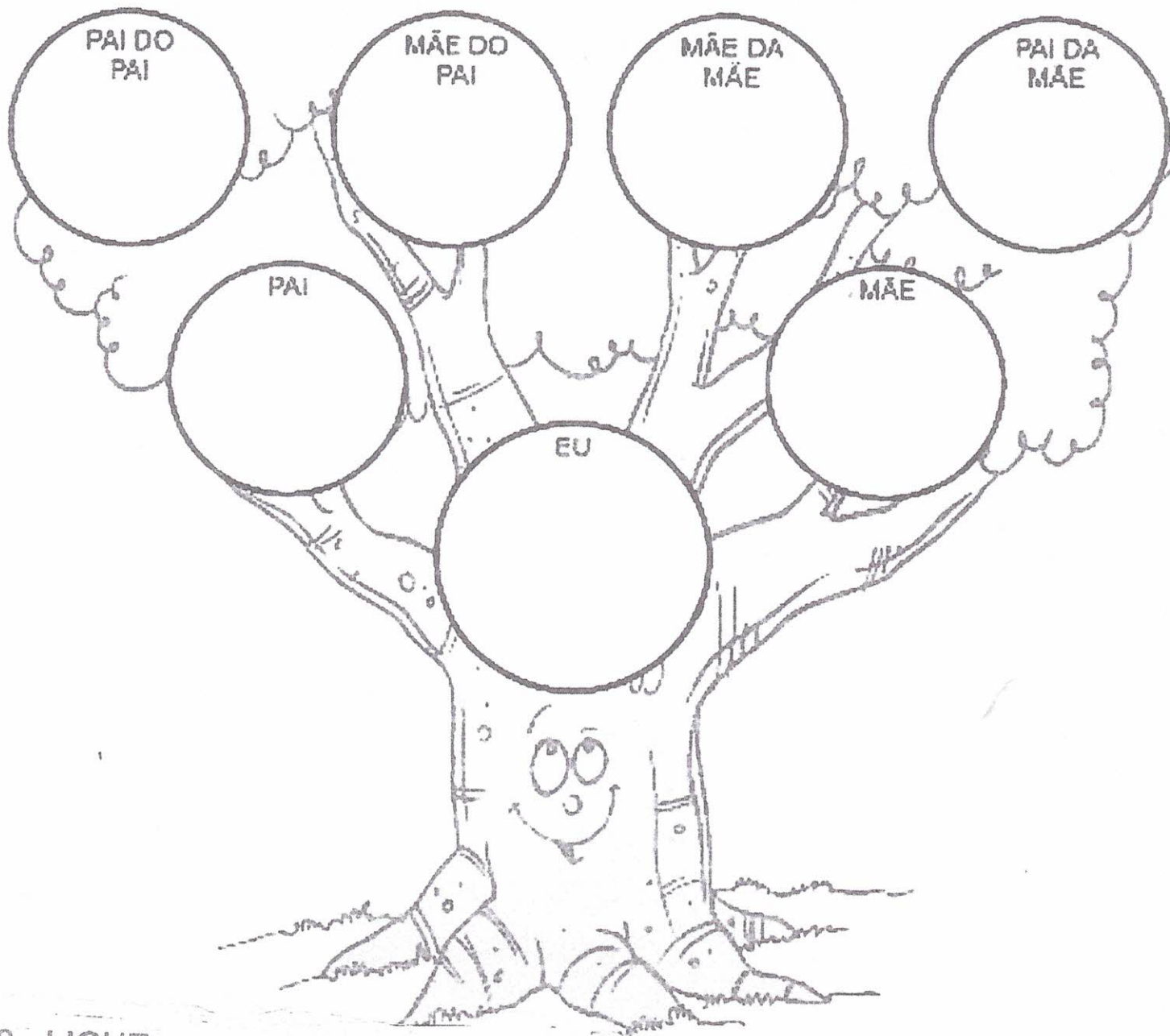
ESCREVA NA LINHA ABAIXO OS NÚMEROS DOS
SAPATOS DOS SEUS FAMILIARES SEM REPETIR:

TENTE ESCREVÊ-LOS NOVAMENTE DO MENOR
PARA O MAIOR. VOCÊ CONSEGUE!!!

ESTA TAREFA É DO(A) _____

DATA: 31/05/2021

COMPLETE SUA ÁRVORE GENEALÓGICA FAZENDO O DESENHO DE CADA UM E ANOTANDO O NOME DELES.



2 - LIGUE:

O IRMÃO DA MINHA MÃE É MEU

O QUE EU SOU DO MEU AVÔ

O FILHO DA MINHA TIA É MEU

NETO


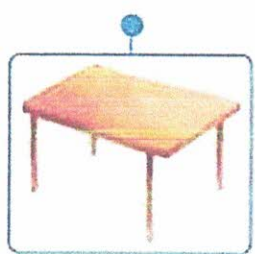



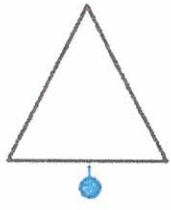
PRIMO

TIO

1. Pinta os  de  (amarelo), os  de  (vermelho), os  de  (laranja) e os  de  (azul).



2. Liga as figuras geométricas aos objectos que têm formas semelhantes.



3. Pinta de  (amarelo) as **superfícies planas** e de  (verde) as **superfícies não planas**.

