


NOME: _____

DATA: ____/____/____



5. PINTE AS MAÇÃS COM AS CORES PEDIDAS E, DEPOIS, ARME AS ADIÇÕES NA VERTICAL:


A) 5 VERMELHAS E 4 VERDES:



.....
+

.....


B) 4 VERMELHAS E 3 VERDES:



.....
+

.....


C) 6 VERMELHAS E 4 VERDES:



.....
+

.....

D) 3 VERMELHAS E 5 VERDES:



.....
+

.....



NOME: _____

DATA: ____/____/____

PROBLEMAS ENVOLVENDO ADIÇÃO ATÉ RESULTADO 10

1. BRUNO GANHOU 3 PIPAS. COMPROU MAIS 4. COM QUANTAS PIPAS FICOU?

DESENHO	OPERAÇÃO	RESPOSTA
 + -----	FICOU COM ____ PIPAS.

2. JANETE FEZ 6 BRIGADEIROS E GANHOU MAIS 3. COM QUANTOS BRIGADEIROS FICOU?

DESENHO	OPERAÇÃO	RESPOSTA
 + -----	FICOU COM ____ BRIGADEIROS.

3. TENHO 5 PIRULITOS. GANHEI MAIS 4. COM QUANTOS PIRULITOS FIQUEI?

DESENHO	OPERAÇÃO	RESPOSTA
 + -----	FIQUEI COM ____ PIRULITOS.

4. JOÃO TEM 3 CARRINHOS. PEDRO TEM 6. QUANTOS CARRINHOS TEM OS DOIS JUNTOS?

DESENHO	OPERAÇÃO	RESPOSTA
 + -----	OS DOIS JUNTOS TÊM ____ CARRINHOS.

NOME: _____

DATA: ___/___/___



5. HAVIA 5 OVOS NA GELADEIRA. MAMÃE COLOCOU MAIS 5. HÁ QUANTOS OVOS NA GELADEIRA AGORA?

DESENHO	OPERAÇÃO	RESPOSTA
 + -----	NA GELADEIRA HÁ _____ OVOS.

6. MARIANA TEM 2 CADERNOS. JÚLIA TEM 4. QUANTOS CADERNOS SÃO AO TODO?

DESENHO	OPERAÇÃO	RESPOSTA
 + -----	AO TODO SÃO _____ CADERNOS.

7. NO 1º ANO, HÁ 2 MENINAS DE ÓCULOS E 3 MENINOS DE ÓCULOS. QUANTAS CRIANÇAS DE ÓCULOS HÁ NA SALA?

DESENHO	OPERAÇÃO	RESPOSTA
 + -----	SÃO _____ CRIANÇAS DE ÓCULOS.

8. CHUPEI PELA MANHÃ 4 BALAS E, À TARDE, 6. QUANTAS BALAS CHUPEI NESSE DIA?

DESENHO	OPERAÇÃO	RESPOSTA
 + -----	NESSE DIA CHUPEI _____ BALAS.

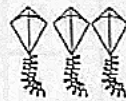
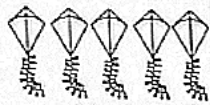
NOME: _____

DATA: ____/____/____

9. RESOLVA OS PROBLEMAS:



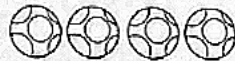
_____ + _____ = _____



_____ + _____ = _____



_____ + _____ = _____



_____ + _____ = _____



_____ + _____ = _____



_____ + _____ = _____



_____ + _____ = _____







_____ + _____ = _____

NOME: _____

DATA: ____/____/____



10. PROBLEMAS POR MEIO DE GRÁFICO:

				
10				
9				
8				
7				
6				
5				
4				
3				
2				
1				

A) ESCREVA O NÚMERO DE ANIMAIS DO SÍTIO DO VOVÔ:

• PORCOS

• COELHOS

• GALINHAS

• CACHORROS

B) ESCREVA A QUANTIDADE TOTAL DE ANIMAIS:

• PORCOS E COELHOS: ____

• CACHORROS E GALINHAS: ____

• PORCOS E GALINHAS: ____

• CACHORROS E COELHOS: ____



NOME: _____

DATA: ____/____/____

SUBTRAÇÃO NA HORIZONTAL

I. COMPLETE O QUADRO DA SUBTRAÇÃO:

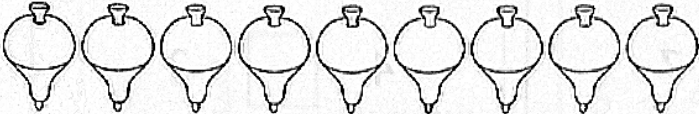
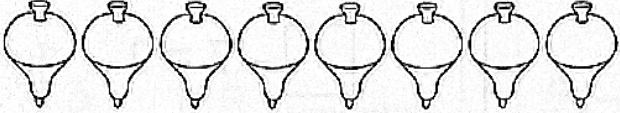

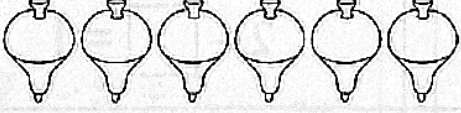
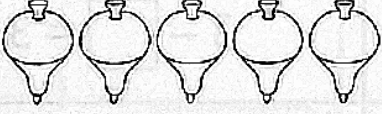
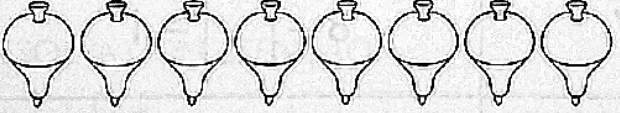
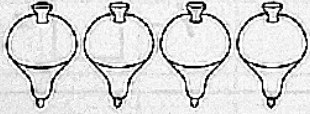
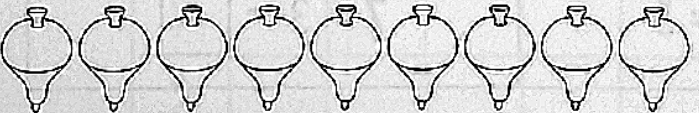
TINHA	COMEU	SOBROU	CÁLCULO	
3	2	1	$3 - 2 = 1$	○ ○ ○
7	4			
6	2			
9	6			
8	5			
4	1			
5	3			

NOME: _____

DATA: ___/___/___



2. RESOLVA AS SUBTRAÇÕES:

	$9 - 3 = \dots\dots\dots$
	$8 - 2 = \dots\dots\dots$
	$7 - 4 = \dots\dots\dots$
	$6 - 3 = \dots\dots\dots$
	$5 - 2 = \dots\dots\dots$
	$8 - 5 = \dots\dots\dots$
	$4 - 2 = \dots\dots\dots$
	$9 - 7 = \dots\dots\dots$



NOME: _____

DATA: ____/____/____

3. COMPLETE AS SUBTRAÇÕES COM O TERMO QUE FALTA:

$9 - \square = 7$	$4 - \square = 3$
$5 - \square = 3$	$\square - 7 = 2$
$6 - 4 = \square$	$7 - 2 = \square$
$\square - 3 = 4$	$2 - \square = 1$
$9 - 4 = \square$	$3 - \square = 3$
$\square - 2 = 7$	$8 - \square = 1$
$9 - 3 = \square$	$7 - \square = 5$
$\square - 2 = 5$	$7 - 3 = \square$

NOME: _____

DATA: ____/____/____



4. REPRESENTE AS SUBTRAÇÕES COM DESENHOS:

$6 - 3 = \dots\dots\dots$
$5 - 1 = \dots\dots\dots$
$8 - 3 = \dots\dots\dots$
$7 - 5 = \dots\dots\dots$
$4 - 1 = \dots\dots\dots$

$6 - 4 = \dots\dots\dots$
$9 - 4 = \dots\dots\dots$
$5 - 2 = \dots\dots\dots$
$4 - 3 = \dots\dots\dots$
$6 - 5 = \dots\dots\dots$

5. RESOLVA COM ATENÇÃO:

$\nearrow -$	0	1	2	3	4	5	6
8							
6							
7							
9							

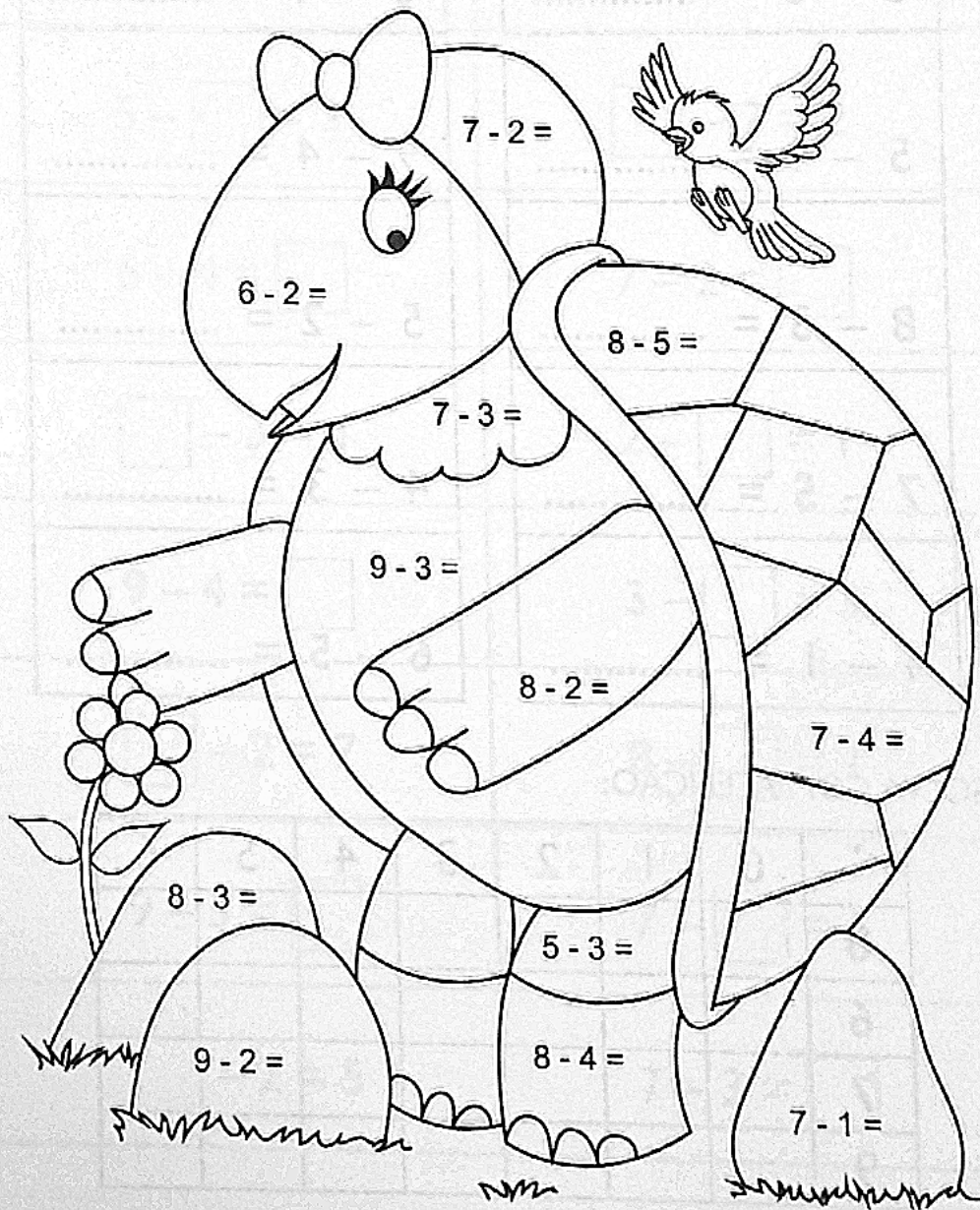
11ª
Semana

NOME: _____

DATA: ____/____/____

6. PINTE O DESENHO CONFORME A LÉGENDA:

- | | |
|-------------------------|--------------------------|
| • RESULTADO 4 - MARROM | • RESULTADO 6 - AZUL |
| • RESULTADO 5 - AMARELO | • RESULTADO 2 - ROSA |
| • RESULTADO 3 - VERDE | • RESULTADO 7 - VERMELHO |



NOME: _____

DATA: ___/___/___



SUBTRAÇÃO NA VERTICAL

I. RESOLVA AS SUBTRAÇÕES COM DESENHOS:

$$\begin{array}{r} 6 \\ -2 \\ \hline 4 \end{array}$$



$$\begin{array}{r} 9 \\ -2 \\ \hline \end{array}$$

$$\begin{array}{r} 3 \\ -1 \\ \hline \end{array}$$

$$\begin{array}{r} 8 \\ -4 \\ \hline \end{array}$$

$$\begin{array}{r} 5 \\ -3 \\ \hline \end{array}$$

$$\begin{array}{r} 7 \\ -5 \\ \hline \end{array}$$

$$\begin{array}{r} 8 \\ -3 \\ \hline \end{array}$$

$$\begin{array}{r} 5 \\ -2 \\ \hline \end{array}$$

$$\begin{array}{r} 6 \\ -4 \\ \hline \end{array}$$

$$\begin{array}{r} 4 \\ -1 \\ \hline \end{array}$$

$$\begin{array}{r} 7 \\ -3 \\ \hline \end{array}$$







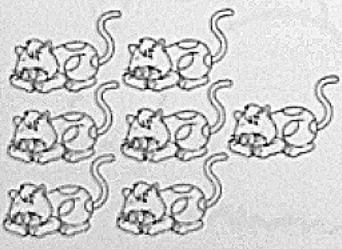
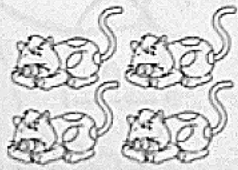
$$\begin{array}{r} 1 \\ -0 \\ \hline \end{array}$$

12ª
Semana

NOME: _____

DATA: ____/____/____

2. OBSERVE OS DESENHOS E ARME AS OPERAÇÕES:


ERAM	SAÍRAM	OPERAÇÃO VERTICAL
		<p>.....</p> <p>—</p> <p>.....</p> <p>.....</p>
		<p>.....</p> <p>—</p> <p>.....</p> <p>.....</p>
		<p>.....</p> <p>—</p> <p>.....</p> <p>.....</p>
		<p>.....</p> <p>—</p> <p>.....</p> <p>.....</p>

NOME: _____


DATA: ____/____/____




3. ARME AS OPERAÇÕES DE ACORDO COM OS DESENHOS:



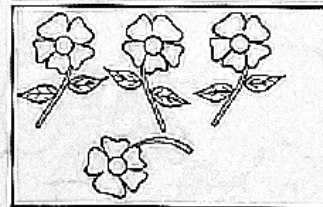
.....
—
.....
.....




.....
—
.....
.....




.....
—
.....
.....



.....
—
.....
.....



.....
—
.....
.....



.....
—
.....
.....

NOME: _____

DATA: ____/____/____

4. RESOLVA AS SUBTRAÇÕES E LIGUE AO RESULTADO:

$$\begin{array}{r} 5 \\ -1 \\ \hline \end{array}$$

.....

$$\begin{array}{r} 9 \\ -2 \\ \hline \end{array}$$

.....

$$\begin{array}{r} 5 \\ -3 \\ \hline \end{array}$$

.....

$$\begin{array}{r} 7 \\ -2 \\ \hline \end{array}$$

.....

$$\begin{array}{r} 9 \\ -3 \\ \hline \end{array}$$

.....

$$\begin{array}{r} 5 \\ -2 \\ \hline \end{array}$$

.....

$$\begin{array}{r} 9 \\ -1 \\ \hline \end{array}$$

.....

6



2



5



8



3



7



4



E.M." JOSÉ GABRIEL MACHADO"

ATIVIDADES NÃO PRESENCIAIS.

3º ANO B

5ª APOSTILA

***Referente aos dias: 11, 12, 13, 14, 17, 18, 19, 20, 21,
24, 25, 26, 27, 28 e 31/05.***

NOME DO ALUNO (A) _____

PROFESSORA: MARGARETH GUARDÃO