

OLÁ MEUS AMORES !

ESPERO QUE TODOS ESTEJAM BEM !

ESTA APOSTILA É REFERENTE AOS DIAS : 11 , 12 , 13 , 14 , 17 , 18 , 19 , 20 , 21 , 24 , 25 , 26 , 27 , 28 E 31/5 .

A APOSTILA IRÁ ATIVIDADES INTERDISCIPLINARES, ESPERO QUE RESOLVAM DEVAGAR TODO DIA, TIRE UM TEMPINHO PARA FAZER SUAS ATIVIDADES . NÃO FAÇA CORRENDO

AS QUESTÕES QUE NÃO CONSEGUIREM RESOLVER , ANOTEM EM UMA FOLHA O QUE NÃO ENTENDEREM , PROCURAREI RESPONDER SUAS DÚVIDAS OU PODERÁ MANDAR UM VIA WHATSAAP, ESTAREI SEMPRE A DISPOSIÇÃO .

PINTE OS DESENHOS BEM BONITO , SEMPRE COLOCAR NOME COMPLETO NAS ATIVIDADES . AS ATIVIDADES QUE NÃO TIVEREM DATA MARCADA, PEDIR PARA A CRIANÇA COLOCAR . PINTAR O CALENDÁRIO NOS DIAS CORRESPONDENTES .

TERÃO ATIVIDADES DOS LIVROS DE MATEMÁTICA , HISTÓRIA , POR FAVOR FAZER NOS DIAS MARCADOS CRONOLOGICAMENTE . TERÃO QUE FAZER ATIVIDADES DOS LIVROS E DA APOSTILA .

IRÁ UMA ATIVIDADE EXTRA PARA COORDENAÇÃO MOTORA. O DIA A SER RERSOLVIDO CABERA PARA CADA UM DECIDIR,POIS CADA CRIANÇA TEM UM HABILIDADE DIFERENTE.

ORIENTAÇÕES PARA FAZER AS ATIVIDADES DOS LIVROS

LIVRO ÁPIS DE MATEMÁTICA

<p>•DIA 11 /5 FAZER AS ATIVIDADES DAS PÁGINAS 21 E 22 / DEZENA INTEIRA OU DEZENAS EXATAS / FAZER UMA ATIVIDADE DA APOSTILA TAMBÉM .</p>
<p>•DIA 12 /5 FAZER AS ATIVIDADES DAS PÁGINAS 23, 24 E 25 / RECURSOS PARA FACILITAR A CONTAGEM AGRUPANDO DE 10 EM 10. FAZER UMA ATIVIDADE DA APOSTILA TAMBÉM .</p>
<p>•DIA 13 /5 FAZER AS ATIVIDADES DAS PÁGINAS 28 E 29 / UTILIZANDO O DINHEIRO .FAZER UMA ATIVIDADE DA APOSTILA TAMBÉM .</p>
<p>•DIA 14 /5 FAZER AS ATIVIDADES DAS PÁGINAS 30 , 31 E 32 /ORDEM DOS NÚMEROS MAIOR OU MENOR .FAZER UMA ATIVIDADE DA APOSTILA TAMBÉM .</p>
<p>•DIA 17 / 5 FAZER AS ATIVIDADES DAS PÁGINAS 34 ,35 E 36 / NUMERAÇÃO ORDINAL. FAZER UMA ATIVIDADE DA APOSTILA TAMBÉM .</p>
<p>•DIA 18 / 5 FAZER AS ATIVIDADES DAS PÁGINA 37 / COMPOSIÇÃO E DECOMPOSIÇÃO DOS NUMEROS / AS ATIVIDADES DAS PÁGINA 38 / NÚMERO PAR E NÚMERO ÍMPAR FAZER UMA ATIVIDADE DA APOSTILA TAMBÉM .</p>
<p>•DIA 19/5 FAZER AS ATIVIDADES DAS PÁGINA 41 , DÚZIA E MEIA DÚZIA / FAZER AS ATIVIDADES DAS PÁGINA 48 SÓLIDOS GEOMETRICOS. FAZER UMA ATIVIDADE DA APOSTILA TAMBÉM .</p>
<p>NAS ATIVIDADES ORAL E EM GRUPO (OU COLEGA) PODERÁ SER DEIXADO PARA EM OUTRO MOMENTO SER RESOLVIDO. PODERÁ SER RESOLVIDO NESTE MOMENTO SE CONSEGUIREM, CONTE COM MINHA AJUDA .</p>
<h3>LIVRO ÁPIS DE HISTÓRIA</h3>
<p>•DIA 20 / 5 FAZER AS ATIVIDADES DAS PÁGINAS 16 , 17 , 18 E 19 / A LINHA DO TEMPO / FAZER UMA ATIVIDADE DA APOSTILA TAMBÉM .</p>
<p>•DIA 21 / 5 FAZER AS ATIVIDADES DAS PÁGINA 24 / CADA CRIANÇA COM SUA HISTÓRIA / NÃO PRECISA FAZER A ATIVIDADE NÚMERO 2 DESTA PÁGINA .FAZER UMA ATIVIDADE DA APOSTILA TAMBÉM .</p>
<p>•DIA 24 / 5 FAZER AS ATIVIDADES DAS PÁGINAS 25, 26 E 27 /AS CRIANÇAS BRASILEIRAS /FAZER UMA ATIVIDADE DA APOSTILA TAMBÉM .</p>
<p>•DIA 25 / 5 FAZER AS ATIVIDADES DAS PÁGINAS 30 , 31, 32, 33, 34, E 35 AS CRIANÇAS DE OUTROS PAÍSES .</p>
<p>•DIA 26 / 5 FAZER AS ATIVIDADES DAS PÁGINA 42 / O TIQUE - TAQUE DO RELÓGIO /FAZER UMA ATIVIDADE DA APOSTILA TAMBÉM .</p>

**•DIA 27 / 5 FAZER AS ATIVIDADES DAS PÁGINA 43 / QUANTAS HORAS TEM O DIA ?
/FAZER UMA ATIVIDADE DA APOSTILA TAMBÉM .**

**•NAS ATIVIDADES ORAL E EM GRUPO (OU COLEGA) PODERÁ SER DEIXADO PARA EM
OUTRO MOMENTO SER RESOLVIDO. MAS TAMBÉM PODERÁ SER RESOLVIDO NESTE
MOMENTO SE CONSEGUIREM, CONTE COM MINHA AJUDA .**

AOS PAIS E RESPONSÁVEIS , QUERO AGRADECER MUITO PELA AJUDA .

DEUS ABENÇOE MUITO VOCÊS. BEIJOS .

PROFESSORA : PATRÍCIA ELAINE

Nome: _____

Data: 11 / 05 / 2021

Dia do trabalhador - 1º de maio

LIGUE O PROFISSIONAL AO NOME CORRESPONDENTE:



CARTEIRO

BOMBEIRO

PINTORA

PROFESSORA

PEDREIRO

MÉDICO

POLICIAL

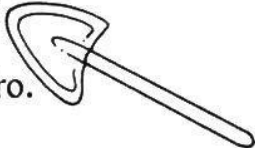
ENFERMEIRA

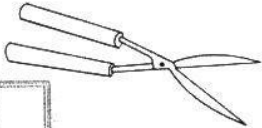
ASTRONAUTA


MARINHEIRO


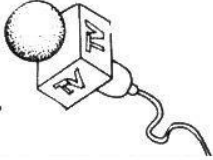


DE ACORDO COM CADA PROFISSÃO, COMPLETE AS FRASES OBSERVANDO OS DESENHOS:

1- A é do pedreiro. 

2- O jardineiro utiliza-se da para cortar a grama. 

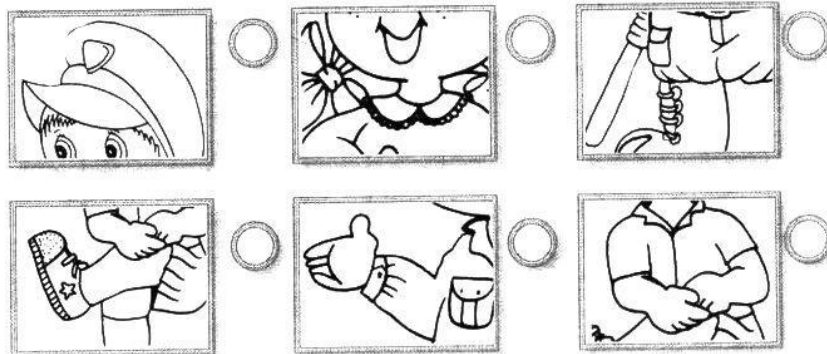
3- O é um amigo inseparável dos professores. 

 4- Jogar tornou-se a paixão nacional. 

5- O que seria do repórter sem o seu

OBSERVE E MARQUE UM X NOS QUADROS COM DETALHES QUE PERTENCEM À ILUSTRAÇÃO MAIOR:

O soldado _____ é um policial muito atento e responsável!



NOME COMPLETO :

DATA : 12 / 5

PINTAR BEM BONITO .

**TODOS OS DIAS É DIA DAS MÃES .
OU DA PESSOA QUE TE AMA IGUAL .**



***Hoje é o seu dia!!
E amanhã, depois
e depois e depois...***

NOME: _____

DATA: **12 / 5 / 2021** _____

www.mestredosaber.com.br
www.alfabetiza.net

SEPARE AS PALAVRAS E DESCUBRA AS FRASES.



HOJEEUQUEROBRINCAR.



ÉHORADEDANÇA.



MEDIVIRTOSOZINHO.



GANHEILINDASBEXIGAS.

NOME: _____

DATA: **13 / 5 / 2021** _____

www.mestredosaber.com.br
www.alfabetiza.net

ESCREVA OS NOMES DAS FRUTAS OU ANIMAIS. SE PRECISAR,
USE O BANCO DE PALAVRAS.

- ESCREVA UMA SÍLABA EM CADA QUADRADINHO.



--	--	--	--



--	--



--	--	--



--	--	--



--	--	--	--

2 SÍLABAS	3 SÍLABAS	4 SÍLABAS
PATO	CAVALO	BORBOLETA
LEÃO	CARACOL	ABACAXI
CAJU	ARARA	ELEFANTE
UVA	TOMATE	ABACATE

NOME: _____

DATA: **13 / 5 / 2021** _____

www.mestredosaber.com.br
www.alfabetiza.net

SEPARE AS PALAVRAS E DESCUBRA AS FRASES.



HOJEPEGUEIUMAFLOR.



QUEROCHEGARCEDOEMCASA.



ESTOUFELIZEVOUGRITAR.




PRECISOCORRERUMPOUCO.

ESCOLA _____


NOME COMPLETO: _____

DATA: 13 / 5 / 2021



ATIVIDADE

1-ESCREVA DE SEU JEITO OS NOMES DAS FIGURAS.



2-OBSERVE A IMAGEM E CRIE 3 FRASES



NOME: _____

DATA: **14 / 5 / 2021** _____

www.mestredosaber.com.br
www.alfabetiza.net

ESCREVA OS NOMES DAS FRUTAS OU ANIMAIS. SE PRECISAR,
USE O BANCO DE PALAVRAS.

- ESCREVA UMA SÍLABA EM CADA QUADRADINHO.



--	--



--	--	--	--



--	--	--



--	--	--



--	--

2 SÍLABAS	3 SÍLABAS	4 SÍLABAS
CAJU	BANANA	MELANCIA
RATO	ARARA	BORBOLETA
FOCA	CEREJA	ABACAXI
MANGA	MINHOCA	CARAMBOLA

NOME :

DATA : 17 / 5 / 2021

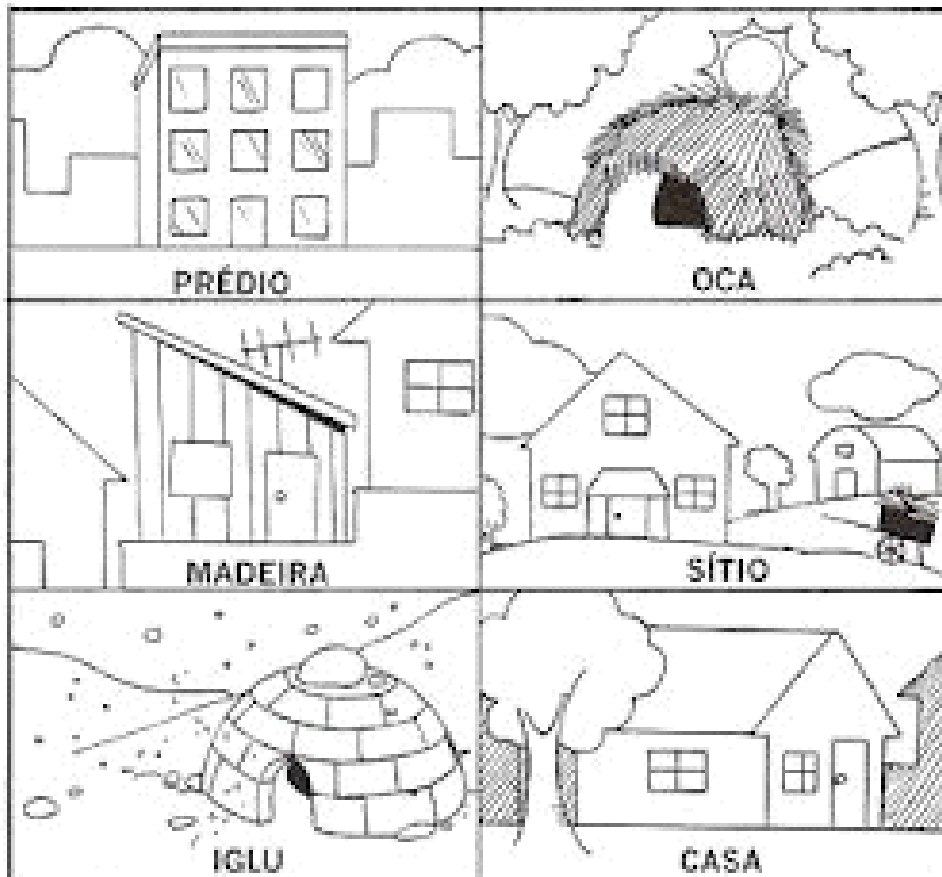
TODA FAMÍLIA PRECISA DE UMA CASA PARA MORAR.

AS FAMÍLIAS SÃO DIFERENTES .

TODA FAMÍLIA PRECISA TER UMA CASA PARA MORAR, SEJA GRANDE , PEQUENA , CONFORTÁVEL OU NÃO .

TODOS PRECISAM DE ABRIGO.

PINTE BEM BONITO O DESENHO QUE SE PARECE COM SUA CASA .



Escola :


Aluno (a): _____

Data: 17 / 5 / 2021

ATIVIDADE DE SOCIEDADE

ESTE É O BARRIO ONDE PEDRO MORA. ELE TEM MORADIAS E CASAS COMERCIAIS.

PEDRO VAI À ESCOLA, MAS ANTES DEVE PASSAR PELA PADARIA E PELA BANCA DE FRUTA. TRACE O CAMINHO QUE ELE DEVE SEGUIR.



NOME: _____


DATA: **18 / 05 / 2021** _____

www.mestredosaber.com.br
www.alfabetiza.net

LEIA COM ATENÇÃO E RESPONDA AS PERGUNTAS.

CAMILA NASCEU

HOJE CAMILA NASCEU.
CAMILA É UM LINDO BEBÊ.
FOI PAPAÍ QUE ESCOLHEU O SEU NOME.
MAMÃE FICOU FELIZ COM SUA FILHA.
CAMILA GANHOU MUITOS PRESENTES.
CAMILA GANHOU UMA MAMADEIRA, MEIAS E UMA CHUPETA.



1 - QUAL O NOME DO BEBÊ?

- () ALINE
- () CAROL
- () CAMILA



2 - QUEM ESCOLHEU O NOME DE CAMILA?

- () MAMÃE
- () IRMÃO
- () PAPAÍ



NOME: _____

DATA: _____

www.mestredosaber.com.br
www.alfabetiza.net

LEIA COM ATENÇÃO E RESPONDA AS PERGUNTAS.

3 - O QUE CAMILA GANHOU?

- () MARACUJÁ, MELÃO E CHUCHU
- () MAMADEIRA, MEIAS E UMA CHUPETA
- () MAMÃE, PAPAÍ E UM IRMÃO



4 - COMO MAMÃE FICOU?

- () FELIZ
- () TRISTE
- () FRIORENTA



5 - CAMILA É UM BEBÊ?

- () NÃO
- () TALVEZ
- () SIM




NOME COMPLETO :

DATA : 19 /05/2021

► **O corpo humano**

► **Leia:**


O nosso corpo é formado por três partes: cabeça, tronco e membros.



► **Troque os desenhos por palavras e reescreva as frases.**

• Na cabeça ficam os   , o  , a  e ouvidos.

.....

• No tronco ficam o  , os pulmões, o estômago, os intestinos e outros órgãos.

.....

• Membros superiores são os  e os inferiores são as .


.....

NOME COMPLETO :

DATA : 19 / 5 / 2021

MATEMÁTICA

1. COMPLETE A TABELA NUMÉRICA ABAIXO:



0	1	2							9
			13						
				24					
					35				
						46			
50									

2. ORGANIZE OS NÚMEROS DAS DEZENAS EM ORDEM CRESCENTE:

34 36 31 30 37 39 32 38 34 35 33

15 11 16 19 18 10 12 14 17 13

3. CIRCULE A CÉDULA DE MAIOR VALOR



NOME: _____

DATA: 20 / 5 / 2021

1) RECORTE E COLE AS PARTES DO CORPO.



MÃO	PÉ	OMBRO	PERNAS	COXA
BRAÇO	ORELHA	OLHOS	PESCOÇO	CABEÇA

Escola

Alfabetizar com AMOR
www.amorensina.com

Nome


1) Complete a sequência numérica.

1	2	3							

2) Complete o quadro de 2 em 2 até 54.

2	4				12			
		24						36
38				46				54

3) Circule em grupinhos de 10 e complete o quadro ao lado.



D	U

NOME :

DATA : 24 / 5/ 2021

Descubra as palavras a seguir no caça-palavras.

guelra cegueira guincho aluguel amiguinho
zagueiro esguicha guichê guia



F	E	S	G	U	I	C	H	A	F	B	C	X	Q
J	H	S	N	X	S	E	Z	D	H	D	H	G	Y
J	Z	B	A	L	U	G	U	E	L	B	X	U	Z
M	S	J	H	R	P	U	X	M	L	G	Z	I	K
S	T	B	X	H	R	E	F	G	C	U	N	N	C
G	Z	S	P	G	U	I	A	K	T	I	Z	C	W
F	R	G	J	R	K	R	M	H	Z	C	R	H	D
J	G	U	E	L	R	A	G	C	S	H	V	O	M
K	C	Y	H	B	R	D	N	B	Z	Ê	L	J	L
X	Z	A	G	U	E	I	R	O	K	P	R	W	R
N	B	H	V	R	X	C	B	M	X	R	Y	T	X
A	M	I	G	U	I	N	H	O	K	L	V	L	V

NOME COMPLETO :

DATA : 24 / 05 / 2021

DESENHE QUALQUER OBJETO DENTRO DOS POTES DE ACORDO COM OS NÚMEROS INDICADOS NOS POTES .



Complete de acordo com o exemplo.

$20 + 1 =$
2 dezenas e 1 unidade = 21

$10 + 8 =$
___ dezena e ___ unidades = 18

$20 + 8 =$
___ dezena e ___ unidades = ___

$40 + 9 =$
___ dezena e ___ unidades = ___



Represente os números no quadro valor de lugar, como no modelo.

cinquenta e oito

D	U
5	8

b) sessenta e dois

D	U

a) setenta e seis

D	U

c) oitenta e um

D	U

NOME :

DATA : 26 /5 /2021

LER O TEXTO E RESPONDA AS QUESTÕES .

O PALHAÇO PAÇOCA

WENIDARC CINTRA

EU CONHEÇO UM PALHAÇO.
SEU NOME É PAÇOCA.
ELE É UM BOM MOÇO
E MORA NA ROÇA.

TODA TERÇA VAI À CIDADE
TRABALHAR NA PRAÇA.
FAZ MÁGICAS, PALHAÇADA,
TUDO DE GRAÇA!

NÃO TIRA O CHAPÉU DA CABEÇA.
USA CALÇA LARGA E ENGRAÇADA.
ALEGRA MUITAS PESSOAS.
AMA A CRIANÇA!



D ESENHE O PALHAÇO PAÇOCA:

NOME :

DATA : 26 / 5 / 2021

⇒ **QUEM É PAÇOCA?**

⇒ **AONDE ELE VAI TODA TERÇA-FEIRA?**

⇒ **O QUE ELE FAZ?**

⇒ **QUAL O LOCAL DA CIDADE ONDE FAZ MÁGICA E PALHAÇADA?**

⇒ **MARQUE COM UM AS AFIRMATIVAS CORRETAS SOBRE O PALHAÇO PAÇOCA:**

A) AMA A CRIANÇA.

B) NÃO TIRA O CHAPÉU DA CABEÇA.


C) NÃO GOSTA DE CRIANÇA.


D) ALEGRA MUITAS PESSOAS.

E) É UM BOM MOÇO.

F) ELE MORA NA ROÇA.

G) USA CALÇA APERTADA.






ESCOLA _____

ALUNO (A) _____

DATA ___ / ___ / ____.

DE OLHO NA ATIVIDADE

1. OBSERVE A CENA E ESCREVA EM ORDEM ALFABÉTICA OS NOMES DOS BRINQUEDOS DE MÔNICA.



2. ESCREVA UMA FRASE UTILIZANDO O NOME DE CADA UM DOS BRINQUEDOS.

NOME ;
DATA 27 /5 /2021

ATIVIDADE DE MATEMÁTICA.

1- PINTE UMA DÚZIA DE SORVETE.



LEMBRE -SE 1 DÚZIA SÃO 12 UNIDADES







RESPONDA.

1-) QUANTOS SORVETES VOCÊ PINTOU? _____

2) QUANTOS SORVETES FICARAM SEM PINTAR? _____

3) DESENHE QUANTOS SORVETES FALTAM PARA COMPLETAR 20? _____

2- RESOLVA AS ADIÇÕES COM ATENÇÃO.

					
$\begin{array}{r} 44 \\ +12 \\ \hline \end{array}$	$\begin{array}{r} 53 \\ +14 \\ \hline \end{array}$	$\begin{array}{r} 32 \\ +24 \\ \hline \end{array}$	$\begin{array}{r} 25 \\ +23 \\ \hline \end{array}$	$\begin{array}{r} 47 \\ +21 \\ \hline \end{array}$	$\begin{array}{r} 56 \\ +23 \\ \hline \end{array}$

3-COLOQUE O NÚMERO QUE VEM ANTES E DEPOIS.

	27	
	15	
	9	
	22	
	10	

	6	
	29	
	35	
	17	
	5	

Escola: _____

Aluno: _____

DATA : 28 / 5 / 2021

atividades-portugues-1-ano.blogspot.com



PROCURANDO PALAVRAS

1) Coloque a letra **n** nas palavras e faça conforme o modelo.

nuca → nunca nun – ca
troco → _____
mudo → _____
cato → _____
veto → _____



2) Procure, no quadro, as palavras que completam as frases e escreva-as no lugar certo.

a) Quem **canta** é _____.

b) Quem **mente** é _____.

c) Quem sabe **dançar** é _____.

d) Quem trata dos **dentes** é o _____.

e) Quem **vende** mercadorias é o _____.

f) Quem trabalha no **banco** é o _____.

mentiroso – bancário
dentista – cantor
vendedor – dançarino



3) Substitua os números pelas sílabas e escreva as palavras.

1-bin 2-an 3-ta 4-fla 5-pin 6-go 7-do 8-fun 9-min 10-jo

(7,9,6) → _____ (5,6) → _____

(2,10) → _____ (1,6) → _____

(2,3) → _____ (5,3) → _____

NOME COMPLETO :

DATA:

MATEMÁTICA

QUESTÃO 1- Pelo o que foi estudado sobre a **ADIÇÃO**, responda às questões abaixo:

a- A ideia de adição equivale à ação de :

() esquecer.

() medir.

() juntar ou acrescentar.

QUESTÃO 2- Observe a ilustração e complete com as quantidades:



A. QUANTOS MENINOS HÁ NESSA IMAGEM?

B. QUANTAS MENINAS HÁ NESSA IMAGEM?

C. QUANTAS CRIANÇAS HÁ NO TOTAL?

QUESTÃO 3- Com a ajuda do colar de contas complete as adições.



$$2 + 5 = \square$$



$$4 + 3 = \square$$



$$3 + 5 = \square$$



$$2 + 2 = \square$$



$$6 + 1 = \square$$



$$3 + 2 = \square$$

NOME :

DATA : 30 / 5 / 2021

QUESTÃO 4 -Resolva os problemas abaixo :

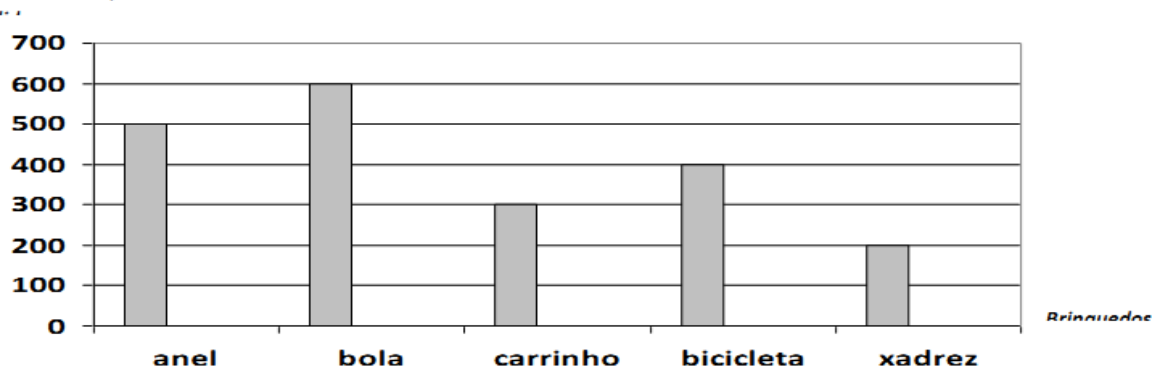
a- Titia deu 6 flores à mamãe, e Juca deu mais 2 a ela.Desenhe quantas flores a mamãe recebeu.

b-João fez 5 pipas, e Pedro fez 3. Desenhe as pipas que eles fizeram juntos.

c-Gustavo tinha 2 bolas e ganhou mais 4 bolas de sua prima. Desenhe as bolas que Gustavo ficou.

QUESTÃO 5 - Observe o gráfico abaixo que mostra a quantidade de brinquedos mais vendidos durante um mês na loja de Brinquedos.

Número de brinquedos mais



Qual o brinquedo mais vendido?

- (A) Xadrez (B) Carrinho (C) Anel (D) Bola

QUESTÃO 6- Resolva as adições com reserva .

$$\begin{array}{r} \bigcirc \\ 49 \\ + 11 \\ \hline \end{array}$$

$$\begin{array}{r} \bigcirc \\ 45 \\ + 45 \\ \hline \end{array}$$

$$\begin{array}{r} \bigcirc \\ 28 \\ + 02 \\ \hline \end{array}$$

$$\begin{array}{r} \bigcirc \\ 45 \\ + 45 \\ \hline \end{array}$$

$$\begin{array}{r} \bigcirc \\ 44 \\ + 16 \\ \hline \end{array}$$

$$\begin{array}{r} \bigcirc \\ 46 \\ + 34 \\ \hline \end{array}$$

PARABÉNS !



Super heroínas e super heróis
das continhas de adição.



BEIJOS !

PROFESSORA : PATRÍCIA ELAINE

ATIVIDADE EXTRA .

Escola: _____

Data: _____ |

Aluno: _____

TREINANDO A LEITURA



Andorinha
Bem-te-vi
Coleirinha
Dorminhoco
Ema
Falcão
Graúna
Harpia
Inhambu
Jacutinga
Lindo-azul
Mainá



Noivinha
Oitibó
Pintassilgo
Quiriri
Rolinha
Sabiá
Tico-tico
Uirapuru
Viuvinha
Xexéu
Zabelê

Lalau e Laurabeatriz

Copie o alfabeto, bem caprichado.

a b c d e f g h i j l m

n o p q r s t u v x z

A B C D E F G H I J L M

N O P Q R S T U V X Z

PASSATEMPO

EM CASA!

PINTE BEM BONITO



**FAÇA O MESMO QUE O CASÇÃO,
LAVE SEMPRE AS MÃOS , PARA
PREVINIR O COVID**

FONTES UTILIZADAS

WWW.AMORENSIN.COM

PINTEREST.COM.CIÊNCIAS

PEDAGOGIA AOPEDALETRA.COM

ATIVIDADES SUZANINHO.COM

A ARTE ENSINA E APRENDER.COM.BR

ATIVIDADES PARA PROFESSORES

PEDAGOGIA SEM VERBA.COM

DANIEDUCAR.COM.BR

SOESCOLA.COM

WWW.CANTINHO DOSABER.COM.BR

WWW.METRE DO SABER.COM.BR

WWW.ALFABETIZA.NET

PEPITOATIVIDADES.COM

WWW.MISTURA DA ALEGRIA

IDEIA CRIATIVA GI BARBOSA

CLUBEPEDAGOGIA.COM