



ESCOLA MUNICIPAL: E.M "BAIRRO MANUEL CLEMENTE"

NOME DO

ALUNO: \_\_\_\_\_

DATA: 10 / 05 /2021

ANO/SÉRIE: 2ªA \_\_\_\_\_

PROFº: Marcia Aguiar

### ATIVIDADES



ATIVIDADES DO PERÍODO DE 11/05 a 31/05

DATA DE ENTREGA 10/05

PRÓXIMA RETIRADA 08/06

ROTEIRO E REFERÊNCIAS EM ANEXO

## Apostila de Matemática

11/05

-Página 01.

-Ligue de 01a 42, descubra a figura e colorir.

12/05

-Página 11.

-Complete o último quadro.

Obs\* Exercício nº01, não é possível realizar devido a pandemia.

13/05

-Página 12.

-preencha a ficha com seus dados .

14/05

-Página 15.

-Responda às questões.

Obs \* exercício nº02 não é possível realizar devido a pandemia.

17/05

-Página 16.

-Complete o desenho.

Obs\*exercício nº01-comente com seus familiares se você identificou esse padrão.

18/05

-Página 17.

-Observe e responda os exercícios.

19/05

-Página 18.

-Resolva o exercício .

20/05

-Página 20.

-Calendário de fevereiro responda às perguntas use o (anexo) calendário de fevereiro de 2021.

21/05

-Página 31.

-Meses do ano e contagens, responda.

24/05

-Página 32.

-contagens e responda.

25/05

-Página 33.

-Leitura dos números e complete as cartelas.

26/05

-Página 34.

-Meses do ano e números

27/05

-Páginas 35e36.

-Responda as alternativas .

28/05

-Páginas 59.

-marque as alternativas corretas.

31/05

-página 60.

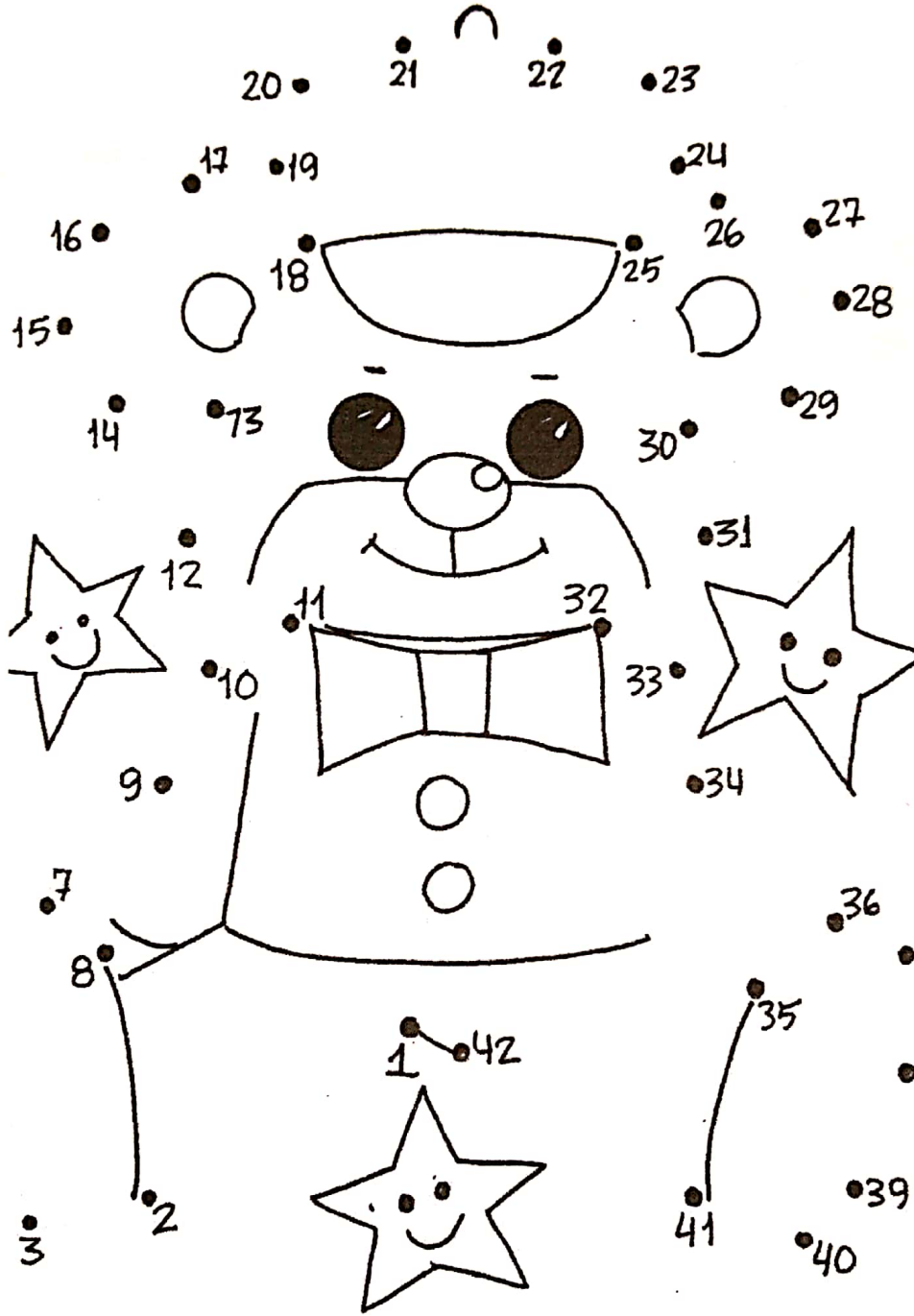
-marque as alternativas corretas

Referências:

-Livro "EMAI" 2ºano - caderno do aluno - vol.1-Curriculo Paulista.

-Atividades educativas - <https://atividadesparacrianças.blogs>

# ☺ LIGAR DE 1 A 42. ✎



# SEQUÊNCIA 1

## VOCÊ E OS NÚMEROS



### ATIVIDADE 1.1

CERTAMENTE VOCÊ JÁ SABE QUE OS NÚMEROS FAZEM PARTE DA NOSSA VIDA. USAMOS NÚMEROS ...

<p>PARA CONTAR PESSOAS</p>	<p>PARA CONTAR OBJETOS</p>
	
<p>PARA INDICAR A DATA</p>	<p>PARA INDICAR AS HORAS</p>
	
<p>PARA NUMERAR CASAS</p>	<p>PARA ...</p>
	

Arte: IMESP

**1** COMPLETE O ÚLTIMO QUADRO COM UM DESENHO. DEPOIS COMPARE, COM OUTRA DUPLA, AS ANOTAÇÕES E O NÚMERO REGISTRADO.

QUAL É O MAIOR? QUAL É O MENOR?

**ATIVIDADE 1.2**

**1.** AGORA VAMOS PREENCHER UMA FICHA COM OS SEUS DADOS.

NOME

IDADE

DATA DE NASCIMENTO

NÚMERO DE IRMÃOS

ENDEREÇO DA MINHA CASA

NÚMERO DO CEP

NÚMERO DO MEU SAPATO

MEU PESO


MINHA ALTURA

**ATIVIDADE 1.5**

**1.** É MUITO IMPORTANTE SABER O NOME DA RUA ONDE MORAMOS E O NÚMERO DA NOSSA CASA. ESCREVA SEU ENDEREÇO COMPLETO:

NOME DA MINHA RUA: \_\_\_\_\_

NÚMERO DA MINHA CASA:



**2.** AGORA, COMPLETE OS QUADROS COM OS NOMES DE ALGUNS AMIGOS E OS NÚMEROS DAS CASAS DE CADA UM DELES:

NOMES DOS AMIGOS			
NÚMERO DAS CASAS			

**3.** RESPONDA ÀS QUESTÕES:

**A.** VOCÊ SABE LER TODOS ESSES NÚMEROS? \_\_\_\_\_


**B.** QUAL É O MAIOR DELES? \_\_\_\_\_

**C.** E QUAL É O MENOR? \_\_\_\_\_

**ATIVIDADE 1.6**

JÚLIO COMEÇOU A PINTAR UMA CENTOPEIA E ESTABELECEU UM PADRÃO PARA REALIZAR A PINTURA.

1. OBSERVE O DESENHO E COMENTE COM SEU COLEGA SE VOCÊ IDENTIFICA ESSE PADRÃO.



Arte: IMESP

2. AGORA, COMPLETE A PINTURA COMO VOCÊ ACHA QUE JÚLIO IRIA FAZER.





## SEQUÊNCIA 2

# PLACAS DE CARROS E CALENDÁRIO




10

### ATIVIDADE 2.1

1. OBSERVE OS DOIS AQUÁRIOS, UM DE JULIANA E OUTRO DE SUA PRIMA HELENA, E ANOTE A QUANTIDADE DE PEIXES DE CADA UM DELES.

AQUÁRIO DE JULIANA



AQUÁRIO DE HELENA



Fonte: <https://pixabay.com/pt/illustrations/search/peixe/>. Acesso em: 23 out. 2019.

2. ESTIME A QUANTIDADE DE CARRINHOS VERMELHOS QUE THIAGO POSSUI. ANOTE A QUANTIDADE ESTIMADA: \_\_\_\_\_



3. A COLEÇÃO DE CARRINHOS DE MATHEUS ESTÁ NA IMAGEM ABAIXO. ESTIME A QUANTIDADE DE CARRINHOS DE MATHEUS.




Foto: IMESP

4. SE THIAGO E MATHEUS JUNTAREM SUAS COLEÇÕES ELES TERÃO MAIS OU MENOS QUE 100 CARRINHOS?



## ATIVIDADE 2.3

OS NÚMEROS NOS AJUDAM A CONTROLAR O TEMPO.

1. CONSTRUA O CALENDÁRIO DO MÊS DE FEVEREIRO DESTE ANO. PRESTE ATENÇÃO EM QUE DIA DA SEMANA COMEÇA O MÊS.



FEVEREIRO						
DOMINGO	SEGUNDA- -FEIRA	TERÇA- -FEIRA	QUARTA- -FEIRA	QUINTA- -FEIRA	SEXTA- -FEIRA	SÁBADO

A. QUANTOS DIAS TEM ESTE MÊS?

B. QUANTOS SÃO OS SÁBADOS?

C. EM QUE DIA DESTE MÊS OCORREU O PRIMEIRO DOMINGO?

# Fevereiro 2021

Domingo	Segunda-feira	Terça-feira	Quarta-feira	Quinta-feira	Sexta-feira	Sabado
	1	2	3	4	5	6
7	8	9	10	11	12	13
14	15	16	17	18	19	20
21	22	23	24	25	26	27
28						




## SEQUÊNCIA 5


### MESES DO ANO E CONTAGENS

#### ATIVIDADE 5.1

1. CONTE OS GATINHOS DA ILUSTRAÇÃO E REGISTRE QUANTOS SÃO:



2. CONTE OS RATINHOS DA ILUSTRAÇÃO E REGISTRE QUANTOS SÃO:



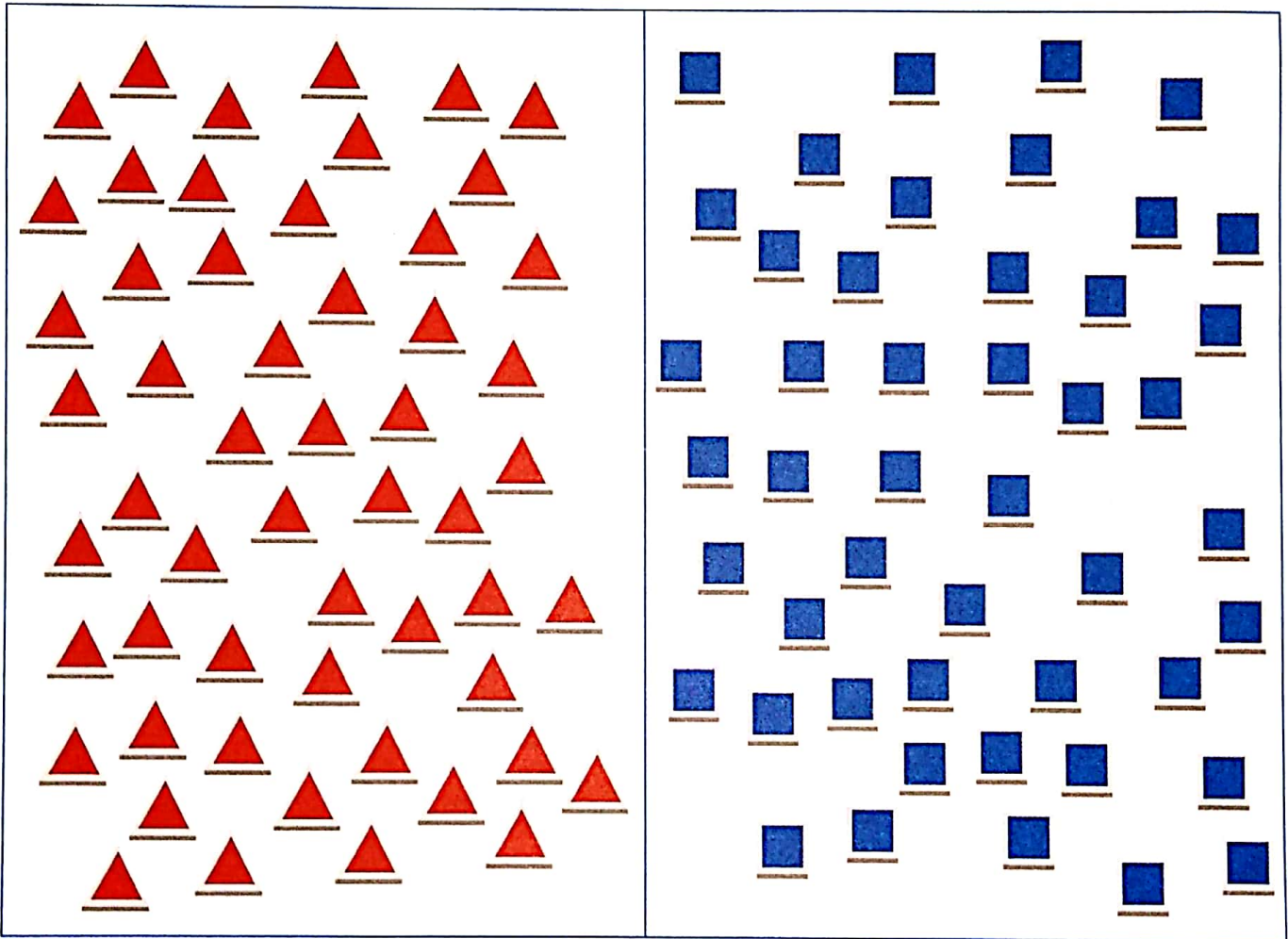
3. O QUE HÁ MAIS: GATINHOS OU RATINHOS? \_\_\_\_\_

4. QUANTOS A MAIS? \_\_\_\_\_

5. QUANTOS SÃO OS GATINHOS E RATINHOS JUNTOS? \_\_\_\_\_

## ATIVIDADE 5.2

1. TIAGO TEM DUAS COLEÇÕES DE PEÇAS PARA A MONTAGEM DE FIGURAS. QUANTAS PEÇAS HÁ EM CADA COLEÇÃO?

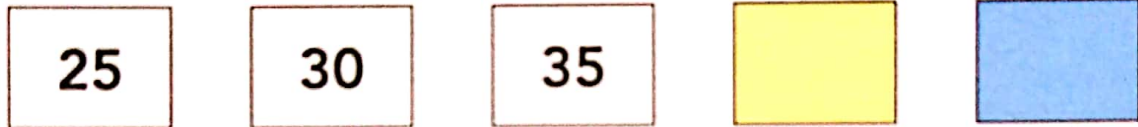


Arte: IMESP

- A. O QUE HÁ MAIS: PEÇAS VERMELHAS OU AZUIS? \_\_\_\_\_
- B. QUANTAS A MAIS? \_\_\_\_\_
- C. SE TIAGO JUNTAR OS TRIÂNGULOS COM OS QUADRADOS, QUAL É O TOTAL DE PEÇAS QUE ELE TERÁ? \_\_\_\_\_
- D. DESENHE O NÚMERO DE PEÇAS QUE FALTAM PARA QUE TIAGO TENHA A MESMA QUANTIDADE DE PEÇAS DOS DOIS TIPOS.

**ATIVIDADE 5.3**

**1.** LUCAS ESCREVEU NÚMEROS EM CARTELAS E PERGUNTOU SE SOFIA SABIA FAZER A LEITURA DELES.



EM SEGUIDA, PERGUNTOU QUAIS PODERIAM SER OS DOIS PRÓXIMOS NÚMEROS QUE ELE HAVIA ESCRITO NAS CARTELAS QUE ESTAVAM VIRADAS PARA BAIXO. QUAIS NÚMEROS VOCÊ RESPONDERIA? POR QUÊ?





---



---

**2.** AGORA FOI A VEZ DE SOFIA ESCREVER NÚMEROS EM CARTELAS, E ELA DISSE QUE UTILIZOU UM PADRÃO PARA REALIZAR A TAREFA.

VEJA SE VOCÊ IDENTIFICA O PADRÃO QUE SOFIA UTILIZOU E QUAIS DEVEM SER OS NÚMEROS ESCRITOS NAS CARTELAS PINTADAS DE AMARELO. EXPLIQUE PARA UM COLEGA COMO VOCÊ FEZ.



## ATIVIDADE 5.4

1. VOCÊ JÁ OBSERVOU QUE CADA MÊS DO ANO É REPRESENTADO POR UM NÚMERO? ESCREVA AO LADO DE CADA MÊS O NÚMERO CORRESPONDENTE A ELE.

JANEIRO		MARÇO		DEZEMBRO	
ABRIL		FEVEREIRO		JUNHO	
SETEMBRO		MAIO		NOVEMBRO	
JULHO		OUTUBRO		AGOSTO	

2. ESCREVA ABAIXO OS MESES QUE TÊM 30 DIAS:

--	--	--	--

3. AGORA, ESCREVA QUAIS MESES TÊM 31 DIAS:


4. ESCREVA O NOME DO MÊS QUE TEM 28 OU 29 DIAS:

--

5. O PAI DE LUIZA VIAJOU EM UMA SEGUNDA-FEIRA E VOLTOU PARA CASA NA SEXTA-FEIRA DA MESMA SEMANA. QUANTO DIAS DUROU SUA VIAGEM?

--



**ATIVIDADE 5.5**

VOCÊ VAI RESOLVER QUESTÕES QUE APRESENTAM ALTERNATIVAS. APÓS A RESOLUÇÃO, ASSINALE COM UM "X" APENAS A ALTERNATIVA CORRETA:

**1.** O MÊS DE MARÇO TEM:

- A. 28 DIAS
- B. 29 DIAS
- C. 30 DIAS
- D. 31 DIAS

**2.** NA SEQUÊNCIA DE NÚMEROS 21, 23, 25, 27, 29, O PRÓXIMO NÚMERO DEVE SER:


- A. 26
- B. 28
- C. 30
- D. 31

**3.** OBSERVE ESTA PARTE DE UM QUADRO NUMÉRICO. O NÚMERO COBERTO COM CARTÃO VERMELHO É:

- A. 83
- B. 84
- C. 85
- D. 86

75	76	77
85		87
95	96	97

4. NA ILUSTRAÇÃO ABAIXO, A QUANTIDADE DE MORANGOS DESENHADOS É:



Fonte: Arquivo IMESP

- A. 17
- B. 20
- C. 34
- D. 36

5. CONSIDERE OS NÚMEROS 202, 133, 1000, 587. O MAIOR DELES É:

- A. 133
- B. 202
- C. 587
- D. 1000

**ATIVIDADE 9.5**

VOCÊ VAI RESOLVER QUESTÕES QUE APRESENTAM ALTERNATIVAS. APÓS A RESOLUÇÃO, ASSINALE APENAS A ALTERNATIVA CORRETA:

**1.** A DATA DE NASCIMENTO DE SOFIA É 24/4. SOFIA NASCEU NO MÊS DE:

- A.** MARÇO
- B.** ABRIL
- C.** MAIO
- D.** JUNHO

**2.** OBSERVE A PARTE DE UM QUADRO NUMÉRICO EM QUE FALTA UM NÚMERO. ASSINALE QUAL É ELE:

144	145	146
154	155	156
164	165	?

- A.** 167
- B.** 166
- C.** 177
- D.** 188

**3.** NUMA CONTAGEM DE 2 EM 2, NA SEQUÊNCIA 144, 146, 148, O PRÓXIMO NÚMERO A SER ESCRITO É:

- A.** CENTO E QUARENTA E SETE
- B.** CENTO E QUARENTA E NOVE
- C.** CENTO E CINQUENTA
- D.** CENTO E CINQUENTA E DOIS

4. TAÍS CONTOU BOTÕES QUE ESTAVAM NUMA CAIXA. ELA ESQUECEU A QUANTIDADE EXATA, MAS SE LEMBRA DE QUE HAVIA MAIS DE 114 E MENOS QUE 130. ASSINALE O NÚMERO DE BOTÕES QUE PODERIA HAVER NA CAIXA:
- A. 110
  - B. 113
  - C. 126
  - D. 132
5. UM BARBANTE TEM 1 METRO DE COMPRIMENTO. PODEMOS TAMBÉM DIZER QUE ELE MEDE:
- A. 1 CM
  - B. 10 CM
  - C. 50 CM
  - D. 100 CM
6. PAULO DIGITOU EM SUA CALCULADORA AS TECLAS 8 E 7, NESSA ORDEM. O NÚMERO QUE APARECEU NO VISOR DA CALCULADORA FOI:
- A. 77
  - B. 78
  - C. 87
  - D. 88
7. NA SEQUÊNCIA 94, 93, 92, O PRÓXIMO NÚMERO É:
- A. 93
  - B. 91
  - C. 90
  - D. 95