

# **E.M “ALICE VIEIRA DE CAMARGO”**

**NOME:**

**SÉRIE: 2º ANO A**

## **MINHAS ATIVIDADES**

**5º REMESSA**



**REFERENTES AOS DIAS: 11, 12, 13, 14, 17,18,  
19, 20, 21, 24, 25, 26, 27, 28 E 31 DE MAIO**

**DATA DE ENTREGA:11/05**

**DATA DE DEVOLUÇÃO: 08/06**

**PROF<sup>a</sup>: NADIR MELO**

E.M "ALICE VIEIRA DE CAMARGO"

IBIÚNA, 11 DE MAIO DE 2021

HOJE É: TERÇA-FEIRA

NOME: \_\_\_\_\_

### A BARATA DIZ QUE TEM

A BARATA DIZ QUE TEM  
SETE SAIA DE FILÓ.  
É MENTIRA DA BARATA,  
ELA TEM É UMA SÓ!

HA HÁ HÁ HO HO HO  
ELA TEM É UMA SÓ!

A BARATA DIZ QUE TEM  
UM ANEL DE FORMATURA  
É MENTIRA DA BARATA  
ELA TEM É CASCA DURA!

HA HA HA HO HO HO  
ELA TEM É CASCA DURA!

A BARATA DIZ QUE TEM  
UM TAPETE DE CETIM.  
É MENTIRA DA BARATA,  
ELA DORME É NO CAPIM!

HA HA HA HO HO HO  
ELA DORME É NO CAPIM!

A BARATA DIZ QUE TEM  
UM SAPATO DE FIVELA  
É MENTIRA DA BARATA  
O SAPATO É DA MÃE DELA!

HA HA HA HO HO HO  
O SAPATO É DA MÃE DELA!

A BARATA DIZ QUE TEM  
UM CHINELO DE VELUDO  
É MENTIRA DA BARATA,  
ELA TEM O PÉ PELUDO

HA HA HA HO HO HO  
ELA TEM O PÉ PELUDO!



## INTERPRETAÇÃO DO TEXTO

O TEXTO LIDO É UMA CANTIGA E FOI ESCRITO EM VERSOS. CADA LINHA É UM VERSO.

### PINTE NA CANTIGA

- DE AZUL, UM VERSO QUE DIZ QUE A BARATA É MENTIROSA.
- DE VERMELHO, UM VERSO QUE SE REPETE EM TODA A CANTIGA.

CIRCULE NA CANTIGA AS PALAVRAS QUE RIMA.

LEIA ESTE VERSO.

HA HA HA HO HO HO

MARQUE COM X A RESPOSTA ADEQUADA .

ESSE VERSO QUER MOSTRAR QUE:

- A) A BARATA É ENGRAÇADA.
- B) ALGUÉM RI DAS MENTIRAS DA BARATA.
- C) A BARATA DÁ RISADA.

COPIE O TÍTULO DA CANTIGA: \_\_\_\_\_

ASSINALE O QUE A BARATA TEM DE VERDADE:

- A) SAPATO DE FIVELA.
- B) PÉ PELUDO
- C) CHINELO DE VELUDO



E.M "ALICE VIEIRA DE CAMARGO"

IBIÚNA, 12 DE MAIO DE 2021


HOJE É: QUARTA-FEIRA

NOME: \_\_\_\_\_



### O CAMINHO DAS DEZENAS

AJUDE O BIZERRINHO A ENCONTRAR SUA MÃE, PASSANDO PELO CAMINHO COM A SEQUÊNCIA CRESCENTE, DE 10 EM 10.



LIGUE AS IMAGENS DO QUE A BARATA DIZ TER COM AS EXPRESSÕES:



SAPATO DE FIVELA



ANEL DE FORMATURA



SAIA DE FILÓ

EM SUA OPINIÃO, POR QUE A BARATA DIZ QUE TEM COISAS QUE ELA NÃO TEM?

---

VOCÊ ACHA QUE ESSA BARATA É DIFERENTE DAS OUTRAS? POR QUÊ?

---

---



E.M "ALICE VIEIRA DE CAMARGO"

IBIÚNA, 13 DE MAIO DE 2021

HOJE É: QUINTA-FEIRA

NOME: \_\_\_\_\_

**POSSIBILIDADE: O QUE QUER DIZER?**

VEJA O EXEMPLO AO LADO.

JOGUEI 2 DADOS IGUAIS E SAÍRAM 4 E 1 PONTOS NAS  
FACES VOLTADAS PARA CIMA. ESSA É UMA POSSIBILIDADE  
DE OBTER SEIS PONTOS.



A) DESENHE ABAIXO OUTRAS DUAS POSSIBILIDADES DE OBTER 5 PONTOS.



B) RESPONDA: HÁ OUTRAS POSSIBILIDADES? \_\_\_\_\_

COMPLETE ESTA SEQUÊNCIA EM 1 EM 1, COMEÇANDO DO 0 E ESCRREVENDO OS NÚMEROS DA ESQUERDA PARA DIREITA.

\_\_\_\_\_, \_\_\_\_\_, \_\_\_\_\_, 3, \_\_\_\_\_, \_\_\_\_\_, \_\_\_\_\_, 7, 8, 9, \_\_\_\_\_

ESQUERDA

DIREITA

ANA MORA EM UM SÍTIO.

OBSERVE ALGUMAS PALAVRAS DO DIA A DIA DELA E COLOQUE EM CADA LINHA O NÚMERO DE LETRAS DA PALAVRA.

**CURRAL**

**PLANTAÇÃO**

**TRATOR**

**LARANJEIRA**

**PASTO**

6

NO DIA DIA USAMOS OBJETOS QUE SÃO FEITOS DE DIFERENTES MATERIAIS. CADA MATERIAL POSSUI SUA CARCTERÍSTICA, ELES PODEM SER:

- ✓ DUROS – MATERIAIS RESISTENTES QUE SÃO DIFÍCIES DE RISCAR.
- ✓ MALEÁVEIS – MATERIAIS QUE VOCÊ PODE MOLDAR OU DOBRAR.
- ✓ OPACOS MATERIAIS QUE NÃO PERMITEM QUE VOCÊ ENXERGUE ATRAVÉS DELES.
- ✓ TRANSPARENTES – MATERIAIS QUE PERMITEM QUE VOCÊ ENXERGUE ATRAVÉS DELES.

ESCREVA ABAIXO OS OBJETOS QUE VOCÊ UTILIZA TODOS OS DIAS:



---

---

---





E.M "ALICE VIEIRA DE CAMARGO"

IBIÚNA, 14 DE MAIO DE 2021

HOJE É: SEXTA-FEIRA

NOME: \_\_\_\_\_

## OS TRANSPORTES

OS SERES HUMANOS TÊM NECESSIDADE DE SE LOCOMOVER DE UM LUGAR PARA O OUTRO.

NO INÍCIO, O HOMEM SE DESLOCAVA A PÉ DE UM LADO PARA O OUTRO. DEPOIS, COMEÇOU A UTILIZAR ANIMAIS.

COM O PASSAR DOS TEMPOS, FORAM CRIADOS MEIOS PARA AJUDAR A LOCOMOÇÃO E O TRANSPORTE, COMO CARROÇAS, BICICLETAS, BONDES, ÔNIBUS, TRENS, AVIÕES E OUTROS.

NOS DIAS DE HOJE, OS TRANSPORTES SÃO CLASSIFICADOS EM:



- TERRESTRES: MEIOS DE TRANSPORTE QUE TRAFEGAM NA TERRA, CARRO, BICICLETA, AVIÃO, METRÔS E OUTROS
- AÉREOS: SÃO OS MEIOS DE TRANSPORTE QUE TRAFEGAM NO AR, AVIÃO, HELECÓPTERO, TECO-TECO.
- AQUÁTICOS: SÃO OS MEIOS DE TRANSPORTE QUE TRAFEGAM NOS MARES E RIOS, NAVIO, BARCO E BOTE.





OBSERVANDO O BANCO DE PALAVRAS, ESCREVA OS MEIOS DE TRANSPORTES DE ACORDO COM A SUA CLASSIFICAÇÃO:

TERRESTRES
AQUÁTICOS
AÉREOS



E.M "ALICE VIEIRA DE CAMARGO"

IBIÚNA, 17 DE MAIO DE 2021

HOJE É: SEGUNDA-FEIRA

NOME: \_\_\_\_\_

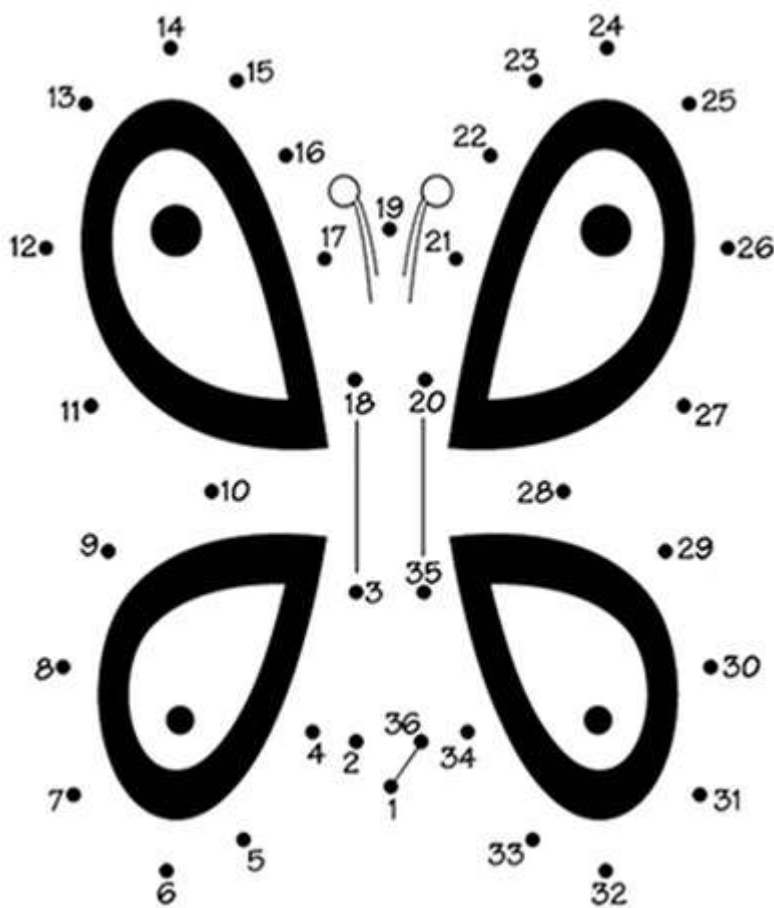
### PALAVRAS EM JOGO

O ALFABETO É UM CONJUNTO DE LETRAS.

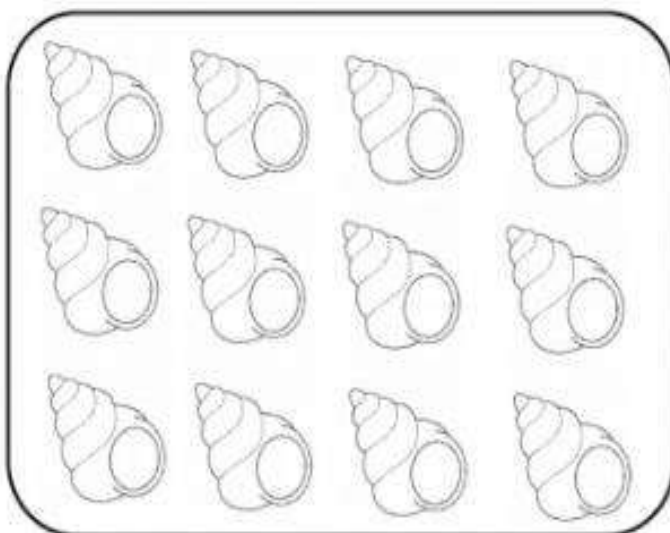
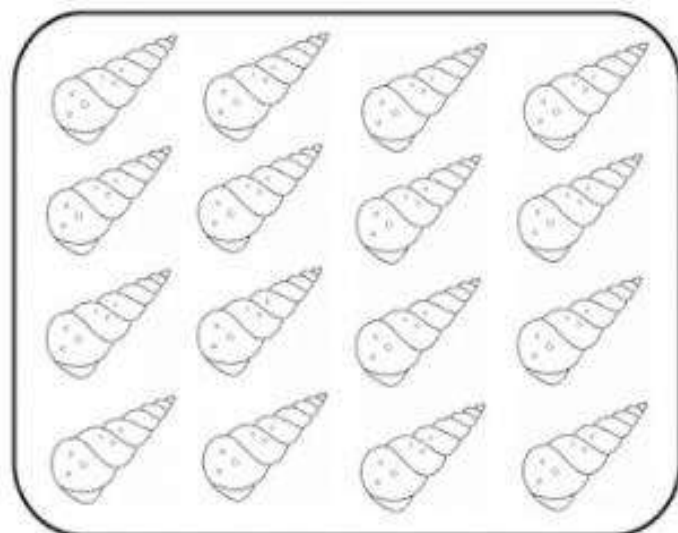
LEIA O ALFABETO EM VOZ ALTA APONTANDO CADA LETRA.






OS NÚMEROS SEGUEM UMA ORDEM. DESCUBRA QUAL É O DESENHO LIGANDO OS NÚMEROS EM SEQUÊNCIA



1- PINTE UMA DEZENA EM CADA QUADRO.



2- COMPLETE A SÉRIE.



3- VAMOS SOMAR?

$7 + 3 = \underline{\quad}$

$5 + 5 = \underline{\quad}$

$9 + 1 = \underline{\quad}$

$6 + 4 = \underline{\quad}$

$8 + 2 = \underline{\quad}$

$10 + 0 = \underline{\quad}$

E.M “ALICE VIEIRA DE CAMARGO”


IBIÚNA, 18 DE MAIO DE 2021

HOJE É: TERÇA-FEIRA

NOME: \_\_\_\_\_


TODOS NÓS TEMOS OS NOSSOS COMPROMISSOS E AS NOSSAS TAREFAS DIÁRIAS, TEMOS HORA PARA ACORDAR, TOMAR CAFÉ, ALMOÇAR, ESTUDAR, DORMIR E PRATICAR ESPORTES.

TODO ESSE TEMPO É DIVIDIDO EM HORÁRIOS DIFERENTES. NÃO PODEMOS FAZER DUAS COISAS AO MESMO TEMPO.



### DIA E NOITE

1. EM QUE MOMENTO DO DIA VOCÊ REALIZA ESTAS ATIVIDADES? INDIQUE O HORÁRIO COM OS DESENHOS DA LEGENDA.

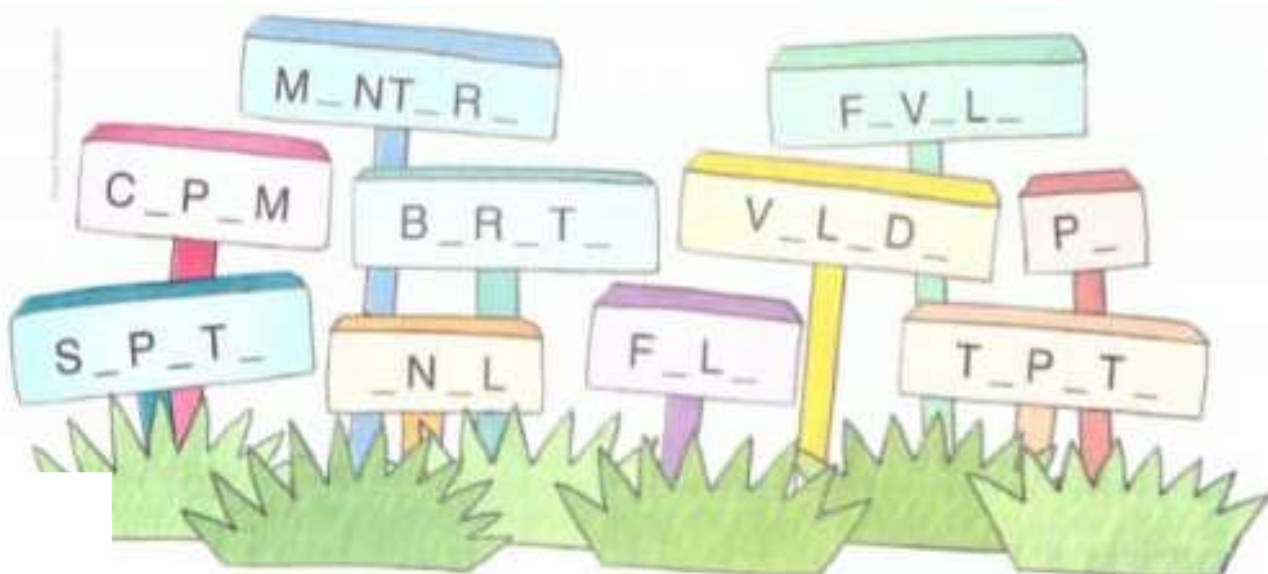
 FAÇO DURANTE O DIA       FAÇO DURANTE A NOITE

VOU À ESCOLA	FAÇO LIÇÃO DE CASA	ALMOÇO
BRINCO	ASSISTO À TV	JANTO
TOMO BANHO	USO COMPUTADOR	AJUDO MINHA FAMÍLIA

2. DORMIR PELO MENOS OITO HORAS POR NOITE É MUITO IMPORTANTE PARA A SAÚDE. ANOTE:

HORA QUE VOU DORMIR	
HORA QUE ACORDO	
QUANTIDADE DE HORAS DORMIDAS	

COMPLETE AS PALAVRAS DA CANTIGA "A BARATA DIZ QUE TEM" COM AS LETRAS QUE FALTAM:



DESCUBRA COMO ESCREVE:



E.M "ALICE VIEIRA DE CAMARGO"

IBIÚNA, 19 DE MAIO DE 2021

HOJE É: QUARTA-FEIRA

NOME: \_\_\_\_\_

1. QUE NÚMEROS ESTÃO COBERTOS POR CARTÕES COLORIDOS NESTE QUADRO NUMÉRICO?

0		2	3	4	5		7	8	9
10	11	12		14	15	16	17	18	19
	21	22	23	24	25	26		28	
30	31	32	33	34	35	36	37	38	
40		42	43	44		46	47	48	49
50	51	52	53	54	55	56		58	59
60	61		63	64	65	66	67	68	69
70	71	72	73		75	76	77	78	
80		82	83	84	85		87	88	89
90	91	92		94	95	96	97		99

ESCREVA-OS EM ORDEM CRESCENTE:

---

---

2. LEIA CADA UM DOS NÚMEROS ABAIXO E OS ESCREVA NOS QUADROS EM ORDEM DECRESCENTE:

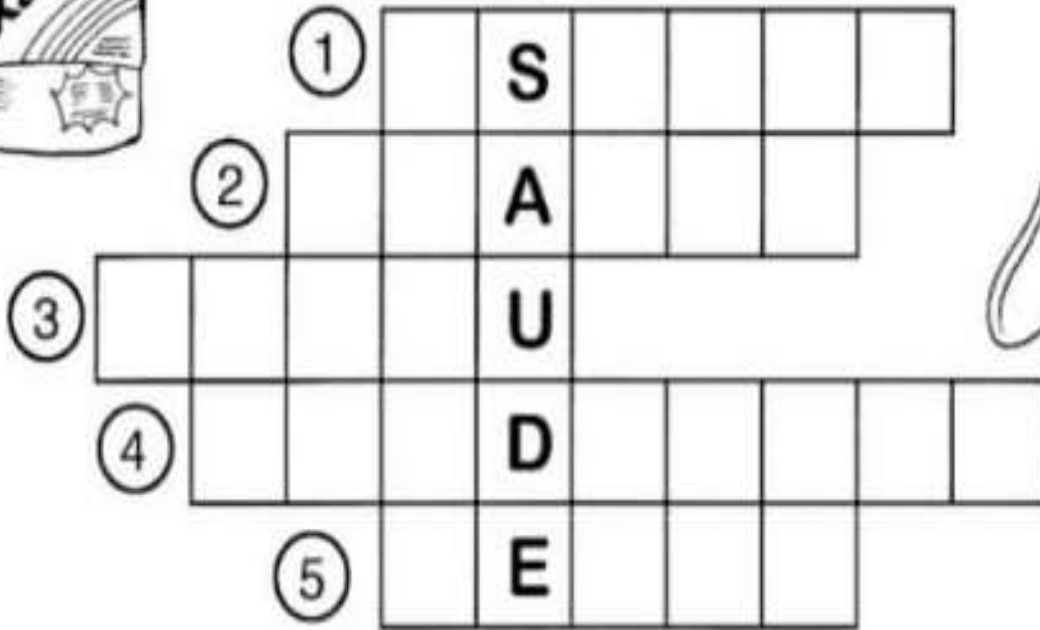

**37 – 105 – 91 – 19 – 73**

--	--	--	--	--



# Cruzadinha

COMPLETE A CRUZADINHA, OBEDECENDO A NUMERAÇÃO DAS ILUSTRAÇÕES:



COMPLETE, RETIRANDO DA CRUZADINHA:

O \_\_\_\_\_ SERVE PARA LAVAR A CABEÇA.

A \_\_\_\_\_ SERVE PARA ENXUGAR O CORPO.

COM O \_\_\_\_\_ EU PENTEIO OS CABELOS.

COM O \_\_\_\_\_ EU LIMPO OS DENTES.

COM A \_\_\_\_\_ EU ESCOVO OS DENTES.



E.M "ALICE VIEIRA DE CAMARGO"

IBIÚNA, 20 DE MAIO DE 2021

HOJE É: QUINTA-FEIRA

NOME: \_\_\_\_\_

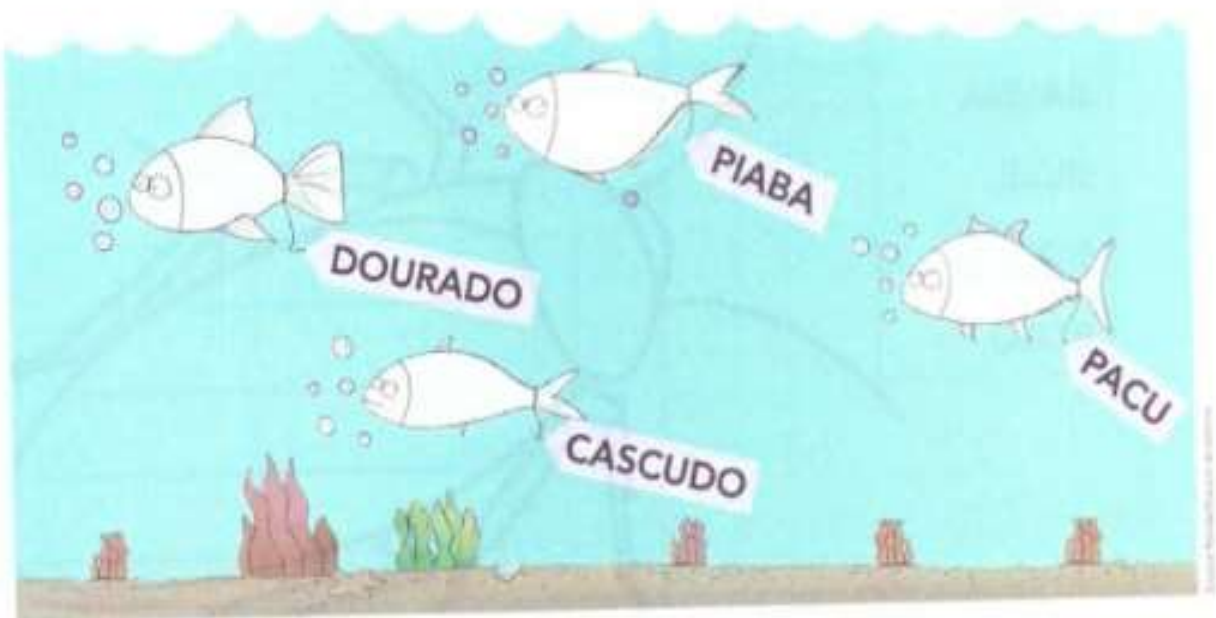
COMPLETE O ALFABETO ABAIXO COM AS CONSOANTES QUE ESTÃO FALTANDO:

A, B, C, \_\_\_\_\_, E, F, \_\_\_\_\_, H, I, \_\_\_\_\_, K, \_\_\_\_\_, \_\_\_\_\_, N, O, \_\_\_\_\_, Q, R, \_\_\_\_\_ T, U

\_\_\_\_\_, W, \_\_\_\_\_, Y, \_\_\_\_\_

É HORA DA PESCARIA. LEIA OS NOMES E PINTE OS PEIXES QUE VOCÊ PODE PESCAR. ATENÇÃO ÀS REGRAS! USE:

- **VERMELHO** PARA O PEIXE DO NOME COM 2 LETRAS QUE REPRESENTAM VOGAIS E 2 LETRAS QUE REPRESENTAM CONSOANTES.
- **AZUL** PARA O PEIXE DO NOME COM O MAIOR NÚMERO DE VOGAIS.
- **ROSA** PARA O PEIXE DO NOME COM O MAIOR NÚMERO DE CONSOANTES.



AGORA VAMOS PRECISAR OBSERVAR EM UM CALENDÁRIO:

VOCÊ JÁ OBSERVOU QUE CADA MÊS DO ANO É REPRESENTADO POR UM NÚMERO? ESCREVA AO LADO DE CADA MÊS O NÚMERO CORRESPONDENTE A ELE.

JANEIRO		MARÇO		DEZEMBRO	
ABRIL		FEVEREIRO		JUNHO	
SETEMBRO		MAIO		NOVEMBRO	
JULHO		OUTUBRO		AGOSTO	

ESCREVA ABAIXO OS MESES QUE TÊM 30 DIAS:

--	--	--	--

AGORA, ESCREVA QUAIS MESES TÊM 31 DIAS:


ESCREVA O NOME DO MÊS QUE TEM 28 OU 29 DIAS:

--



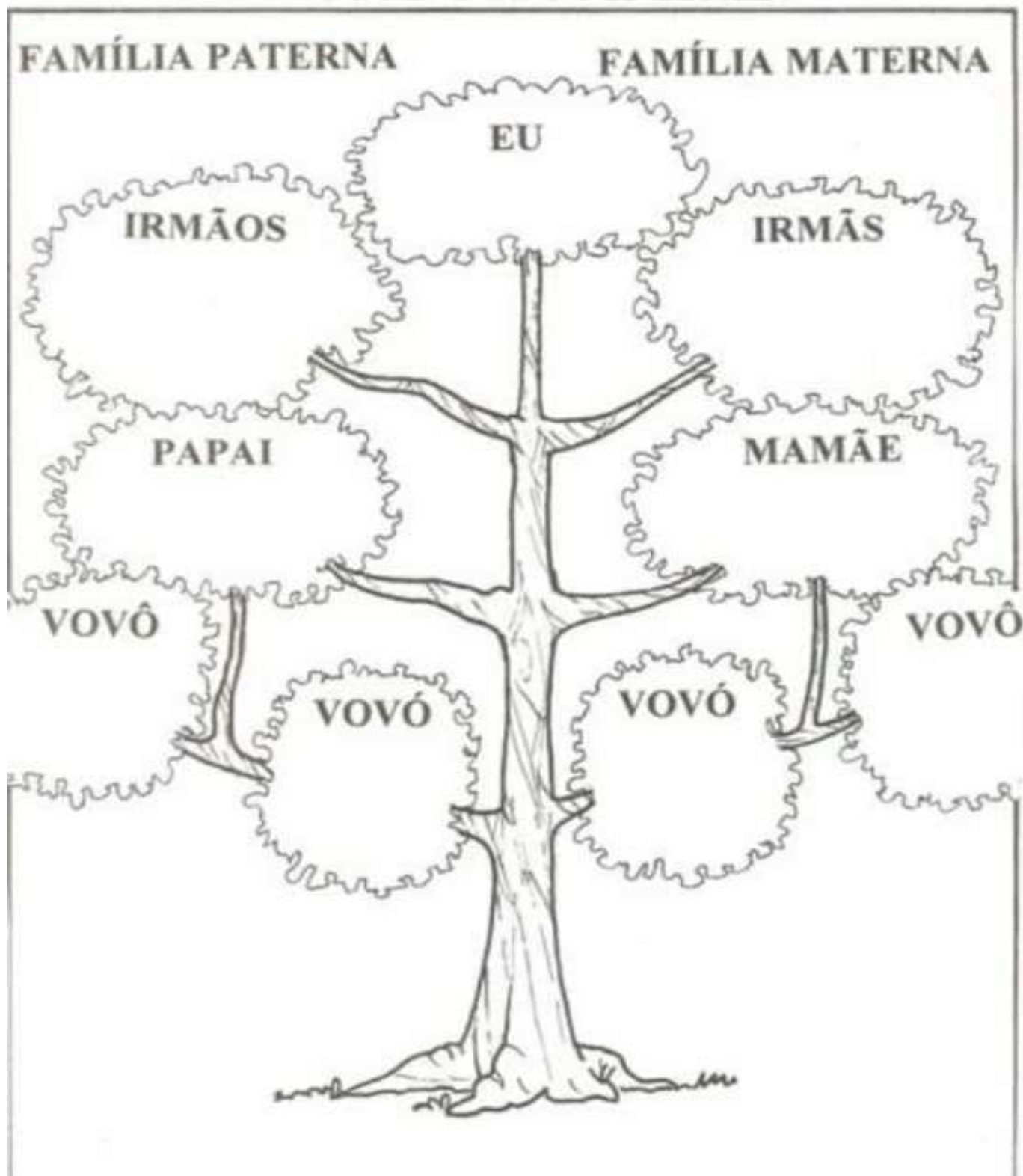
E.M "ALICE VIEIRA DE CAMARGO"

IBIÚNA, 21 DE MAIO DE 2021

HOJE É: SEXTA-FEIRA

NOME: \_\_\_\_\_

### VAMOS COMPLETAR A ÁRVORE DA FAMÍLIA



COMPLETE O TEXTO COM AS PALAVRAS ABAIXO. EM SEGUIDA, FAÇA A LEITURA.

A BARATA DIZ QUE TEM...



A  DIZ QUE TEM SETE  DE FILÓ

É MENTIRA DA BARATA, ELA TEM É UMA SÓ

A BARATA DIZ QUE TEM UM  DE FIVELA

É MENTIRA DA BARATA, O SAPATO É DA IRMÃ DELA

A BARATA DIZ QUE TEM UM  DE FORMATURA


É MENTIRA DA BARATA, ELE TEM É CASCA DURA

A BARATA DIZ QUE USA UM PRODUTO DA

É MENTIRA DA BARATA, ELA USA DETEFON.

BARATA

SAPATO



SAIAS

AVON




E.M "ALICE VIEIRA DE CAMARGO"

IBIÚNA, 24 DE MAIO DE 2021

HOJE É: SEGUNDA-FEIRA

NOME: \_\_\_\_\_


## Como é Minha Casa



MARQUE SIM OU NÃO, COLORINDO OS QUADRINHOS

	SIM	NÃO
MORO EM UM APARTAMENTO.	<input type="checkbox"/>	<input type="checkbox"/>
MORO NA ZONA RURAL.	<input type="checkbox"/>	<input type="checkbox"/>
MINHA RUA É ASFALTADA.	<input type="checkbox"/>	<input type="checkbox"/>
NA MINHA CASA, A TELEVISÃO FICA NO QUARTO.	<input type="checkbox"/>	<input type="checkbox"/>
MINHA AVÓ FICA CONOSCO.	<input type="checkbox"/>	<input type="checkbox"/>
MINHA TEM QUINTAL.	<input type="checkbox"/>	<input type="checkbox"/>
NA MINHA CASA TEM ALGUM ANIMAL DE ESTIMAÇÃO	<input type="checkbox"/>	<input type="checkbox"/>

ESCREVA AS PALAVRAS QUE DÃO NOME AOS DESENHOS:

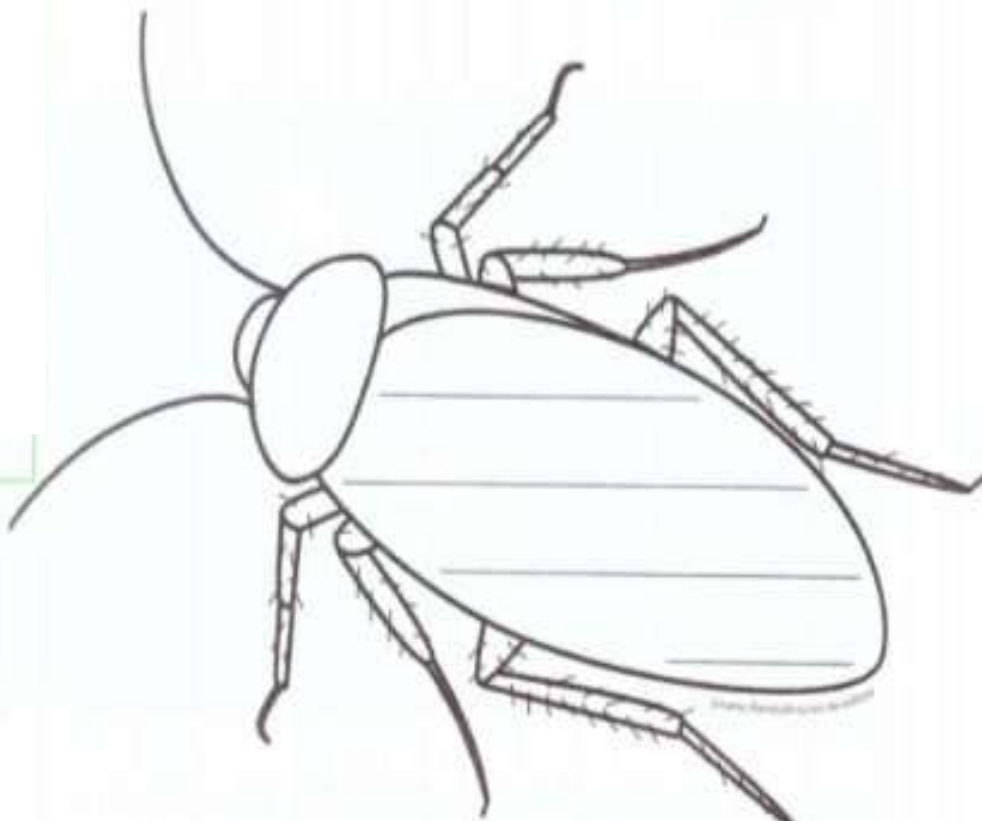


**BARATA OU PÉ**

ESCREVAM ESSAS PALAVRAS NA BARATA SEGUINDO A DICA.

**DICA:** SÓ VALEM OS NOMES DE BICHOS QUE COMEÇAM COM A LETRA B.

BOI  
BARATA  
LOBO  
BALEIA  
BULE  
BURRO  
BOLO



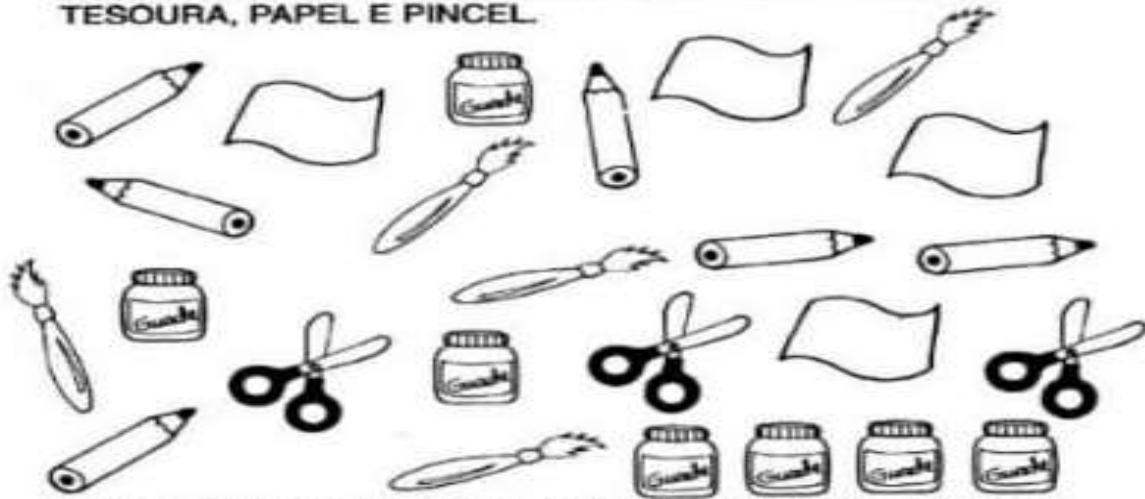
E.M "ALICE VIEIRA DE CAMARGO"

IBIÚNA, 25 DE MAIO DE 2021






HOJE É: TERÇA-FEIRA

NOME: \_\_\_\_\_

- PARECE QUE O ARTISTA DEIXOU SEUS OBJETOS ESPALHADOS PELO ATELIÊ: LÁPIS, VIDROS DE TINTA, TESOURA, PAPEL E PINCEL.



- PINTE OS QUADRINHOS DE ACORDO COM A QUANTIDADE DE CADA OBJETO:

1) QUAL OBJETO TEM MENOR QUANTIDADE? \_\_\_\_\_

2) QUAL O TOTAL DA SOMA ENTRE TESOURAS E LÁPIS? \_\_\_\_\_

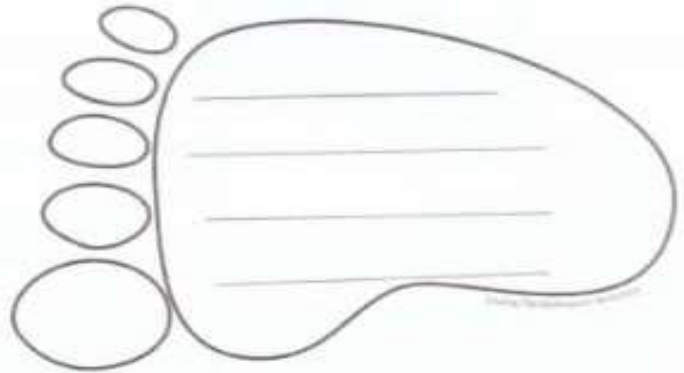
3) QUAL A QUANTIDADE DE PINCÉIS? \_\_\_\_\_

4) QUAL A DIFERENÇA ENTRE COLAS E TESOURAS? \_\_\_\_\_

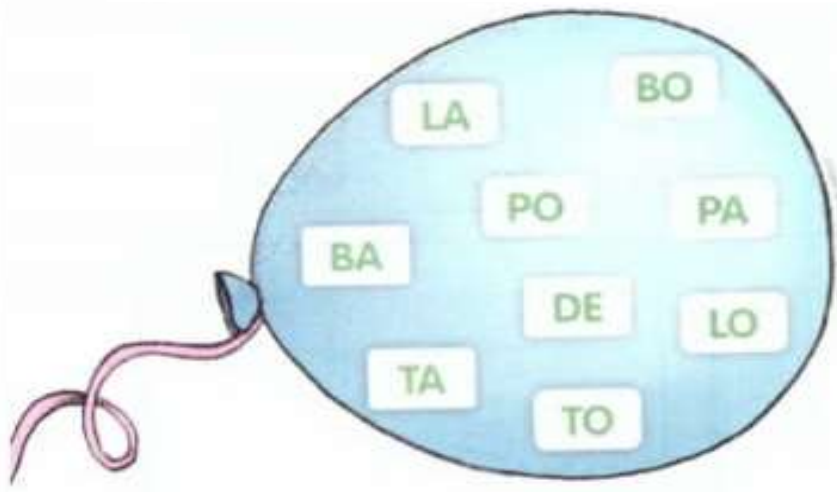


ESCREVAM ESSAS PALAVRAS NO PÉ, SEGUINDO A DICA  
**DICA:** SÓ VALEM OS NOMES DE ALIMENTOS QUE COMEÇAM COM A LETRA P.

- PIPOCA
- TAPIOCA
- PETECA
- BATATA
- BOLO
- PEPINO
- PERA



FORME PALAVRAS COM AS SÍLABAS QUE ESTÃO NO BALÃO




ESCOLHA DUAS PALAVRAS QUE VOCÊ FORMOU E COMPLETE A FRASE:

A \_\_\_\_\_ ENCOSTA NO \_\_\_\_\_



E.M "ALICE VIEIRA DE CAMARGO"

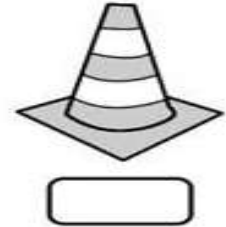
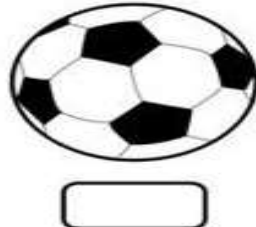
IBIÚNA, 26 DE MAIO DE 2021

HOJE É: QUARTA-FEIRA


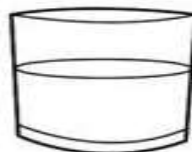
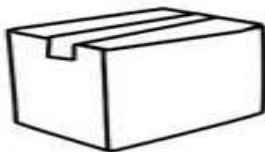
NOME: \_\_\_\_\_

ATIVIDADES DE MATEMÁTICA

MARQUE UM X NA ÚNICA FORMA DIFERENTE:



PINTE DA MESMA COR OS OBJETOS QUE TÊM MESMA FORMA:



CONTE, ESCREVA E PINTE:



PAR  ÍMPAR



PAR  ÍMPAR

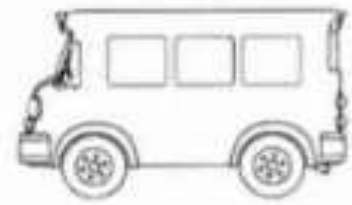


PAR  ÍMPAR



PAR  ÍMPAR

ESCREVA O NOME DOS MEIOS DE TRANSPORTE:



DOS MEIOS DE TRANSPORTE ACIMA, ESCREVA OS QUE VOCÊ JÁ UTILIZOU:

---

---

---








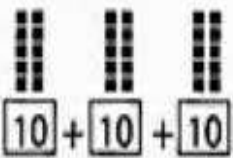
## TRABALHANDO COM UNIDADES E DEZENAS




1 DEZENA OU 10 UNIDADES



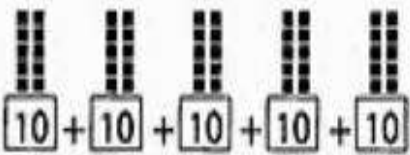
2 DEZENAS OU .....UNIDADES




..... DEZENAS OU ..... UNIDADES



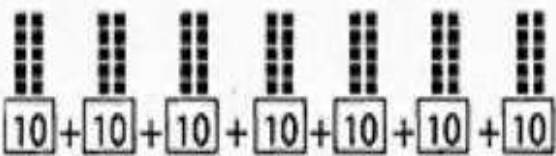
..... DEZENAS OU .....UNIDADES



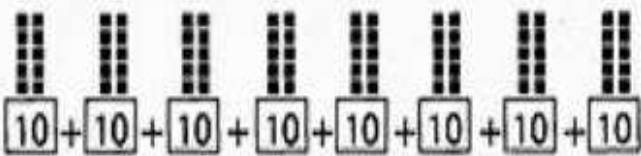
.....DEZENAS OU .....UNIDADES



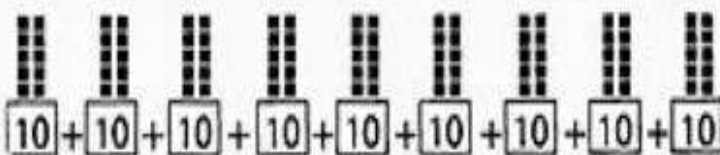
.....DEZENAS OU.....UNIDADES



.....DEZENAS OU.....UNIDADES



.....DEZENAS OU.....UNIDADES



.....DEZENAS OU.....UNIDADES



E.M "ALICE VIEIRA DE CAMARGO"

IBIÚNA, 28 DE MAIO DE 2021

HOJE É: SEXTA-FEIRA

NOME: \_\_\_\_\_

COMPLETE AS FRASES COM AS PALAVRAS DO QUADRO:

OUVIDOS - PELE - NARIZ - LÍNGUA - OLHOS

COM OS \_\_\_\_\_, PAULO ESCUTOU UM BARULHÃO QUE VINHA DA CASA AO LADO.

COM O \_\_\_\_\_ LIANA SENTIU O CHEIRINHO GOSTOSO QUE VINHA DA COZINHA.

COM A \_\_\_\_\_ DE SEU CORPO, BRUNO SENTIU O CALOR DO SOL.

COM OS \_\_\_\_\_, ANA VIU SEUS COLEGAS ENTRAREM NA SALA.

COM A \_\_\_\_\_, TADEU SENTIU O SABOR DO SORVETE.

LIGUE CADA ÓRGÃO DO SENTIDO AO QUE ELE NOS PERMITE FAZER:



POSSO TOCAR.



POSSO OUVIR.



POSSO VER.



POSSO SENTIR O SABOR.



POSSO SENTIR O CHEIRO.

CIRCULE A PALAVRA QUE COMPLETA CADA FRASE DA FORMA CORRETA.

A) TODOS TEMOS UM \_\_\_\_\_ EM NOSSA FAMÍLIA DE CUIDAR E DAR AMOR.

PAPEL

VAZIO

B) A \_\_\_\_\_ É DE RESPONSABILIDADE DE TODOS OS MEMBROS DE UMA FAMÍLIA.

HARMONIA

SEPARAÇÃO

AS IMAGENS A SEGUIR MOSTRAM FAMÍLIAS DIFERENTES, OBSERVE-AS. QUANTAS PESSOAS FORMAM CADA UMA DAS FAMÍLIAS? PINTE UM QUADRADINHO PARA CADA UMA DELAS.

A)



B)



A) ADULTOS

CRIANÇAS

B) ADULTOS

CRIANÇAS

OBSERVE ESTAS FAMÍLIAS: ASSINALE COM UM X AS ALTERNATIVAS CORRETAS.



A)  AS FAMÍLIAS POSSUEM O MESMO NÚMERO DE PESSOAS.

B)  A PRIMEIRA FAMÍLIA É FORMADA POR AVÔ, AVÓ E NETOS.

C)  A SEGUNDA FAMÍLIA É FORMADA POR PAI E FILHA.

D)  A SEGUNDA FAMÍLIA É FORMADA POR MÃE E FILHO.



E.M "ALICE VIEIRA DE CAMARGO"


IBIÚNA, 31 DE MAIO DE 2021

HOJE É: SEGUNDA-FEIRA

NOME: \_\_\_\_\_

COMPLETE A AMARELINHA. EM SEGUIDA, DESENHE UMA AMARELINHA NA SUA CASA E BRINQUE COM A FAMÍLIA.


VAMOS BRINCAR DE AMARELINHA?



## AGORA VAMOS USAR A IMAGINAÇÃO!

A RELEITURA DE UMA OBRA DE ARTE É A CRIAÇÃO DE UMA NOVA OBRA, TENDO COMO REFERÊNCIA UMA OBRA ANTERIOR PARA DAR A ESSA NOVA OBRA OUTRO SENTIDO, ACRESCENTANDO A ELA UM TOQUE PESSOAL.

VAMOS FAZER A RELEITURA DA OBRA "GATO" DO ARTISTA BRASILEIRO ROMERO BRITTO? USE SUA CRIATIVIDADE. VOCÊ PODE COLORIR, FAZER COLAGEM COM PAPEL COLORIDO OU COM ELEMENTOS QUE VOCÊ ENCONTRA NA NATUREZA (FOLHAS, PEDRINHAS, AREIA...). SE NÃO TIVER A FOLHA IMPRESSA, DESENHE O GATO DO SEU JEITINHO NO CADERNO. CAPRICHE!



## REFERÊNCIAS BIBLIOGRÁFICAS:

- <https://br.pinterest.com/pin/313140980328012914/>
  - <https://www.soescola.com/2017/11/plano-de-aula-cuidando-do-corpo.html>
  - [https://www.google.com/imgres?imgurl=https://i.pinimg.com/474x/b4/f5/38/b4f538cf6dc20d656638a3b58d942bf5.jpg&imgrefurl=https://br.pinterest.com/etna-marcia/a-barata-diz-que-tem/&tbnid=MR2H6FQD\\_tAdJM&vet=1&docid=4PrqnTsCG8srrM&w=224&h=320&hl=pt-BR&source=sh/x/im](https://www.google.com/imgres?imgurl=https://i.pinimg.com/474x/b4/f5/38/b4f538cf6dc20d656638a3b58d942bf5.jpg&imgrefurl=https://br.pinterest.com/etna-marcia/a-barata-diz-que-tem/&tbnid=MR2H6FQD_tAdJM&vet=1&docid=4PrqnTsCG8srrM&w=224&h=320&hl=pt-BR&source=sh/x/im)
  - <https://www.google.com/imgres?imgurl=https://i.pinimg.com/originals/bb/ba/67/bbba679aaaa8f08d1070d63d0847947f.jpg&imgrefurl=https://br.pinterest.com/pin/839428818017697623/&docid=Y6WNe3IrvUzIM&tbnid=c5--tlCD8opulM&vet=1&w=601&h=678&itg=1&hl=pt-BR&source=sh/x/im>
  - <https://br.pinterest.com/pin/8162843063623385/>
  - <https://drive.google.com/drive/folders/1e8tldaviH039zqTMvdi1IOne3gRf-09N>
  - [https://www.google.com/imgres?imgurl=https://revistazunai.com.br/wp-content/uploads/2018/09/1-aval-ciencias-2-ano-3-etapa-2013-page-002.jpg&imgrefurl=https://revistazunai.com.br/atividades-de-ciencias-2o-ano/&tbnid=ymZ5vwIDpI0UVM&vet=1&docid=o\\_ac2aJHnsAfM&w=1131&h=1600&hl=pt-BR&source=sh/x/im](https://www.google.com/imgres?imgurl=https://revistazunai.com.br/wp-content/uploads/2018/09/1-aval-ciencias-2-ano-3-etapa-2013-page-002.jpg&imgrefurl=https://revistazunai.com.br/atividades-de-ciencias-2o-ano/&tbnid=ymZ5vwIDpI0UVM&vet=1&docid=o_ac2aJHnsAfM&w=1131&h=1600&hl=pt-BR&source=sh/x/im)
  - <https://br.pinterest.com/pin/777715429399418605/>
  - <https://www.google.com/imgres?imgurl=https://corujapedagogica.com/wp-content/uploads/2020/08/2%25C2%25BA-ANO-ATIVIDADES-REMOTAS-5%25C2%25BA-BLOCO-2-28.jpg&imgrefurl=https://corujapedagogica.com/atividades-remotas-apostila-completa-incluindo-meio-ambiente-artes-ed-fisica-e-ensino-religioso-2o-ano/&docid=KG5-0Wt-MBQM1M&tbnid=I9p8AAHpHYxCvM&vet=1&w=1654&h=2339&hl=pt-BR&source=sh/x/im>
  - <https://br.pinterest.com/pin/80290805841126522/>
  - <https://images.app.goo.gl/uC53DGwm8QtY5CAt6>
- 
- Livro EMAI 2º ano Fundamental
  - Livro ÁPIS 2º ano Fundamental