

E.M “ALICE VIEIRA DE CAMARGO”

NOME: _____ **3º ANO A**

5ª APOSTILA

MINHAS ATIVIDADES



REFERENTES AOS DIAS: 11,12,13,14,17,18,19,20,21,24,25,26,27,28 E 31 DE MAIO.

DATA DE ENTREGA: 11/05

DATA DE DEVOLUÇÃO: 08/06

PROFESSORA: BIANCA MIRANDA

NOME: _____

ESCOLA: _____ TURMA: _____

DATA: IBIÚNA, 11 DE MAIO DE 2021

DISCIPLINA: LÍNGUA PORTUGUESA

CARACOL

Rodolfo é um caracol.
Ele adora viajar.
Ele não tem pressa de chegar.
Rodolfo leva a casa nas costas.
A barriga vai no chão.
A cabeça vai no ar.
Rodolfo vive sempre satisfeito.
Ele não tem aluguel pra pagar.



Sônia Junqueira. *O caracol viajante*.
São Paulo: Ática, 1987.

1) QUAL O NOME DO TÍTULO DO TEXTO?

2) QUEM É RODOLFO?

3) QUEM É A AUTORA?

NOME: _____

ESCOLA: _____ TURMA: _____

DATA: IBIÚNA, 11 DE MAIO DE 2021. _____

DISCIPLINA: MATEMÁTICA _____

12. QUANTOS REAIS DONA JOANA GASTOU PARA COMPRAR 4 CAIXAS DE LEITE?



RESOLUÇÃO:

13. ANA TEM MASSA DE 40 QUILOGRAMAS. ELA E SEU IRMÃO LUCAS SOBEM JUNTOS EM UMA BALANÇA, QUE MARCA 65 QUILOGRAMAS. QUANTOS QUILOGRAMAS TEM LUCAS?



RESOLUÇÃO:

NOME: _____

ESCOLA: _____ TURMA: _____

DATA: IBIÚNA, 12 DE MAIO DE 2021. _____


DISCIPLINA: LÍNGUA PORTUGUESA _____

LEIA A MÚSICA ABAIXO E FAÇA UMA ILUSTRAÇÃO.

LAVA OUTRA, LAVA UMA (MÃO)
LAVA OUTRA, LAVA UMA (MÃO)
LAVA OUTRA (MÃO), LAVA UMA (MÃO)
LAVA OUTRA MÃO
LAVA UMA
DEPOIS DE BRINCAR NO CHÃO DE AREIA A TARDE INTEIRA
ANTES DE COMER, BEBER, LAMBER, PEGAR NA MAMADEIRA

LAVA UMA (MÃO), LAVA OUTRA
LAVA UMA(MÃO) , LAVA OUTRA
LAVA UMA

A DOENÇA VAI EMBORA JUNTO COM A SUJEIRA
VERMES, BACTÉRIAS, MANDOU EMBORA EMBAIXO DA TORNEIRA
ÁGUA UMA, ÁGUA OUTRA
ÁGUA UMA (MÃO), ÁGUA OUTRA
ÁGUA UMA
A SEGUNDA, TERÇA, QUARTA, QUINTA E SEXTA-FEIRA
NA BEIRA DA PIA, TANQUE, BICA, BACIA, BANHEIRA
LAVA UMA MÃO, MÃO, MÃO, MÃO
ÁGUA UMA MÃO, LAVA OUTRA MÃO
LAVA UMA MÃO
LAVA OUTRA, LAVA UMA




NOME: _____

ESCOLA: _____ TURMA: _____

DATA: IBIÚNA, 12 DE MAIO DE 2021. _____

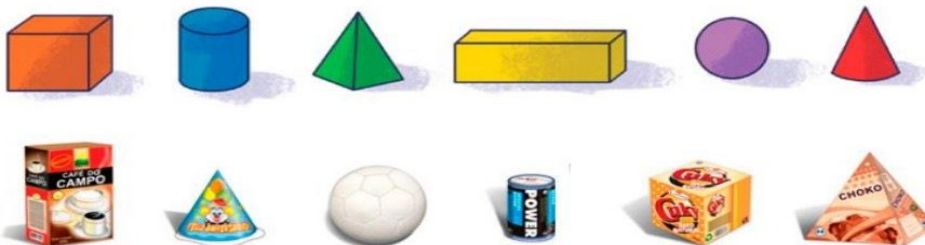
DISCIPLINA: MATEMÁTICA _____

14. KELI EMBALA OS BOMBONS QUE VENDE COLOCANDO 5 BOMBONS EM CADA SAQUINHO. HOJE ELA VENDEU 3 SAQUINHOS. VEJA COMO LUCAS E SEUS AMIGOS CALCULARAM A QUANTIDADE DE BOMBONS VENDIDOS POR KELI.



QUEM RESOLVEU CORRETAMENTE? _____

15. ESSES SÓLIDOS SE PARECEM COM MUITAS COISAS QUE USAMOS NO DIA A DIA. LIGUE OS OBJETOS COM O SÓLIDO QUE LEMBRA A SUA FORMA.



NOME: _____

ESCOLA: _____ TURMA: _____

DATA: IBIÚNA, 13 DE MAIO DE 2021. _____

DISCIPLINA: LÍNGUA PORTUGUESA _____

AS PARLENDAS SÃO VERSINHOS (POESIA CANTADA) COM TEMÁTICAS INFANTIS QUE SÃO RECITADAS PELAS CRIANÇAS EM JOGOS E BRINCADEIRAS, POSSUEM RIMAS FÁCEIS, TEM ORIGEM POPULAR, POR ISSO REPRESENTAM UM IMPORTANTE COMPONENTE DA CULTURA DO NOSSO POVO.

✓ **LEIA A PARLENDA ABAIXO E RESPONDA**

CADÊ O TOUCINHO QUE ESTAVA AQUI?

O GATO COMEU.

CADÊ O GATO?

FOI PRO MATO.

CADÊ O MATO?

O FOGO QUEIMOU.

CADÊ O FOGO?

A ÁGUA APAGOU.

CADÊ A ÁGUA?

O BOI BEBEU.

CADÊ O BOI?

FOI AMASSAR TRIGO.

CADÊ O TRIGO?

A GALINHA COMEU.

CADÊ A GALINHA?

FOI BOTAR OVO.

CADÊ O OVO?

O LAGARTO BEBEU.

1. FAÇA UMA LISTA COM OS NOMES DE ANIMAIS QUE APARECEM NA PARLENDA QUE VOCÊ ACABOU DE LER.

2. COPIE DO TEXTO AS PALAVRAS QUE RIMAM COM:

GATO: _____

QUEIMA: _____

COMEU: _____

NOME: _____

ESCOLA: _____ TURMA: _____

DATA: IBIÚNA, 13 DE MAIO DE 2021. _____

DISCIPLINA: HISTÓRIA _____

ATIVIDADES DE HISTÓRIA

1. LEIA O TEXTO ABAIXO E RESPONDA.

APRENDIZADO EM FAMÍLIA

NO CONVÍVIO FAMILIAR APRENDEMOS VALORES, COSTUMES E COMO NOS COMPORTAR EM DIFERENTES LUGARES E SITUAÇÕES.

A VIVÊNCIA EM FAMÍLIA NOS ENSINA QUE OS PROBLEMAS PODEM SER RESOLVIDOS EM CONJUNTO, RESPEITANDO AS DIFERENÇAS INDIVIDUAIS.

NA ROTINA FAMILIAR, ALGUMAS REGRAS SÃO ESTABELECIDAS E É PRECISO RESPEITA-LAS PARA QUE A CONVIVÊNCIA SEJA BOA E HARMONIOSA.

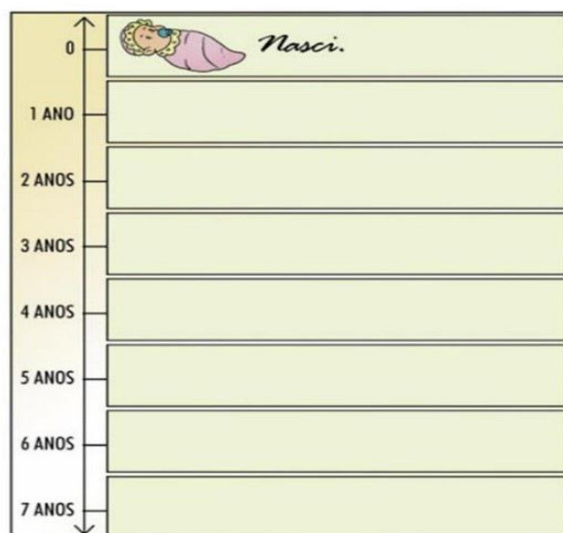
EM CADA CASA, POR EXEMPLO, HÁ UM HORARIO DETERMINADO PARA TOMAR BANHO, SE ALIMENTAR, FAZER A LIÇÃO DE CASA E DORMIR.

SENDO ASSIM, PRECISAMOS VALORIZAR, RESPEITAR E AMAR TODOS OS NOSSOS FAMILIARES.

- CONVERSE COM AS PESSOAS QUE MORAM COM VOCÊ E PERGUNTE SE EXISTEM REGRAS DE CONVIVÊNCIA EM CASA. ESCREVA NAS LINHAS ABAIXO QUAIS SÃO ESSAS REGRAS.

OBSERVANDO SUA PRÓPRIA HISTÓRIA DESDE O SEU NASCIMENTO ATÉ OS DIAS DE HOJE E COM AJUDA DE UM FAMILIAR, COMPLETE A LINHA DO TEMPO COM OS FATOS IMPORTANTES DA SUA VIDA.

2. COM A AJUDA DA MAMÃE COMPLETE A LINHA DO TEMPO COM OS FATOS IMPORTANTES DA SUA VIDA.



NOME: _____

ESCOLA: _____ TURMA: _____

DATA: IBIÚNA, 14 DE MAIO DE 2021. _____

DISCIPLINA: LÍNGUA PORTUGUESA _____

1) LEIA O POEMA ABAIXO:

LEILÃO DE JARDIM

(CECÍLIA MEIRELLES)

QUEM ME COMPRA UM JARDIM COM FLORES?
BORBOLETAS DE MUITAS CORES,
LAVANDEIRAS E PASSARINHOS
OVOS VERDE E AZUIS NOS NINHOS!

QUEM ME COMPRA ESTE CARACOL?
QUEM ME COMPRA UM RAIOS DE SOL?
UM LAGARTO ENTRE O MURO E A HERA?
UMA ESTATUA DE PRIMAVERA?

QUEM ME COMPRA ESTE FORMIGUEIRO?
E ESTE SAPO, QUE É JARDINEIRO?
E A CIGARRA E A SUA CANÇÃO?
E O GRILINHO DENTRO DO CHÃO?



(ESTE É MEU LEILÃO)

1. QUAL O TÍTULO DO POEMA?

2. ESCREVA O NOME DOS ANIMAIS QUE SÃO CITADOS NO POEMA?

3. COPIE UMA FRASE DO POEMA QUE ESTEJA FAZENDO UMA PERGUNTA.

4. QUANTOS VERSOS ESSE POEMA POSSUI?

5. QUAL O NOME DA AUTORA DO TEXTO?

6. VOCÊ JÁ LEU OU OUVIU ALGUMA HISTÓRIA ESCRITA PELA AUTORA DESSE POEMA? QUAL.

NOME: _____

ESCOLA: _____ TURMA: _____

DATA: IBIÚNA, 17 DE MAIO DE 2021. _____

DISCIPLINA: LÍNGUA PORTUGUESA _____

A RECEITA É UM GÊNERO TEXTUAL QUE NOS ENSINA COMO OS ALIMENTOS PODEM SER PREPARADOS. PODEMOS FAZER MUITAS DELÍCIAS COM OS MAIS VARIADOS INGREDIENTES.

LEIA A RECEITA ABAIXO E RESPONDA
TORTA DE LIMÃO

INGREDIENTES:

- 1 XÍCARA (CHÁ) DE FARINHA DE TRIGO
- ¼ XÍCARA (CHÁ) DE MANTEIGA SEM SAL GELADA E EM CUBOS
- 1 GEMA
- 2 COLHERES (SOPA) DE ÁGUA
- 1 LATA DE LEITE CONDENSADO
- SUCO DE 2 LIMÕES
- 3 CLARAS
- 5 COLHERES (SOPA) DE AÇÚCAR
- RASPAS DA CASCA DE 1 LIMÃO



UTENSÍLIOS

- 1 TIGELA
- 1 COLHER
- 1 FORMA COM FUNDO REMOVÍVEL
- BATEDEIRA

FONTE: REVISTA RECEITAS E DELÍCIAS EXTRA. ANO 3. NO. 8

MODO DE PREPARO:

EM UMA TIGELA, COLOQUE A FARINHA DE TRIGO E A MANTEIGA. MISTURE ATÉ OBTER UMA FAROFA. FAÇA UM BURACO NO MEIO, ADICIONE A GEMA E A ÁGUA. AMASSE COM AS MÃOS ATÉ OBTER UMA MASSA HOMOGÊNEA. FORRE O FUNDO REMOVÍVEL COM A MISTURA, APERTANDO BEM COM AS PONTAS DOS DEDOS. LEVE AO FORNO, PRÉ-AQUECIDO POR 15 MINUTOS OU ATÉ DOURAR. NA BATEDEIRA, BATA O LEITE CONDENSADO, O SUCO DE LIMÃO E DESPEJE SOBRE A MASSA ASSADA. RESERVE. PARA O SUSPIRO, BATA AS CLARAS EM NEVE. JUNTE O AÇÚCAR AOS POUCOS, BATENDO ATÉ FORMAR PICOS FIRMES. DESPEJE SOBRE A MISTURA DE LEITE CONDENSADO. VOLTE AO FORNO ATÉ COMEÇAR A DOURAR. DECORE COM AS RASPAS DE LIMÃO E SIRVA.

1. ENUMERE AS AÇÕES A SEGUIR DE ACORDO COM A ORDEM EM QUE ELAS DEVEM ACONTECER NO PREPARO DA RECEITA:

- () BATA O SUCO DE LIMÃO JUNTO AO LEITE CONDENSADO.
- () ADICIONE A GEMA E A ÁGUA
- () DECORE COM AS RASPAS DE LIMÃO.
- () COLOQUE A FARINHA DE TRIGO E A MANTEIGA EM UMA TIGELA.
- () AMASSE COM AS MÃOS ATÉ OBTER UMA MASSA HOMOGÊNEA.
- () BATA AS CLARAS EM NEVE.

2. ESCREVA O NOME DA RECEITA QUE A MAMÃE PREPARA QUE MAIS GOSTA.

NOME: _____

ESCOLA: _____ TURMA: _____

DATA: IBIÚNA, 17 DE MAIO DE 2021. _____

DISCIPLINA: LÍNGUA PORTUGUESA _____

ESCOLHA UMA PESSOA DE SUA CASA E PEÇA PARA QUE ELA LHE CONTE QUAL O PRATO QUE MAIS GOSTA DE FAZER. COPIE ESSA RECEITA AQUI:

Minhas Receitas Favoritas

www.vamolaemcasa.com

NOME: _____

ESCOLA: _____ TURMA: _____

DATA: IBIÚNA, 18 DE MAIO DE 2021. _____

DISCIPLINA: LÍNGUA PORTUGUESA _____

LEIA O TEXTO E CANTE COM SEUS FAMILIARES

A BARATA DIZ QUE TEM

A BARATA DIZ QUE TEM
SETE SAIAS DE FILÓ
É MENTIRA DA BARATA
ELA TEM É UMA SÓ
AH AHA AHA
OH OH OH
ELA TEM É UMA SÓ
A BARATA DIZ QUE TEM
UM ANEL DE FORMATURA
É MENTIRA DA BARATA
ELA TEM É CASCA DURA
AH AHA AHA
OH OH OH
ELA TEM É CASCA DURA
A BARATA DIZ QUE TEM
UMA CAMA DE MARFIM
É MENTIRA DA BARATA
ELA TEM É DE CAPIM
AH AHA AHA
OH OH OH
ELA TEM É DE CAPIM

- O TEXTO QUE VOCÊ ACABOU DE OUVIR É SEMELHANTE A QUE CANTIGA?

- () CARNEIRINHO, CARNEIRÃO
- () CACHORRINHO ESTÁ LATINDO
- () A BARATA

- FAÇA UMA LISTA DO QUE A BARATA DIZ QUE TEM.

- CRIE NOVAS PALAVRAS COM AS LETRAS INICIAIS DA PALAVRA BARATA

B _____
A _____
R _____
A _____
T _____
A _____

NOME: _____

ESCOLA: _____ TURMA: _____

DATA: IBIÚNA, 18 DE MAIO DE 2021. _____

DISCIPLINA: GEOGRAFIA _____

ATIVIDADES DE GEOGRAFIA

A CIDADE É DIVIDIDA EM BAIRROS, CADA UM TEM O SEU NOME E SUA HISTÓRIA. ALGUNS BAIRROS FICAM PERTO E OUTROS FICAM AFASTADOS DO CENTRO DA CIDADE.

1. OBSERVE A IMAGEM ABAIXO E FAÇA UMA LISTA DO QUE VOCÊ VÊ NESSE BAIRRO



• ESCREVA A LISTA AQUI:

2. LIGUE FAZENDO A CORRESPONDÊNCIA ASSOCIANDO OS GRUPOS QUE FORMAM AS COMUNIDADES.



A FAMÍLIA



MORADORES DE UMA RUA OU BAIRRO



PESSOAS QUE FREQUENTAM A IGREJA

NOME: _____

ESCOLA: _____ TURMA: _____

DATA: IBIÚNA, 19 DE MAIO DE 2021. _____

DISCIPLINA: MATEMÁTICA _____

5. CARLOS MEDIU O COMPRIMENTO DO SEU LÁPIS.



A. QUAL INSTRUMENTO CARLOS USOU PARA MEDIR O LÁPIS?

B. QUAL A MEDIDA DO LÁPIS DE CARLOS?

6. MARQUE NO RELÓGIO A HORA INDICADA



A. QUE NÚMERO REPRESENTA MEIA HORA NESSE RELÓGIO?

7. RUBENS E SUA FAMÍLIA COMEÇARAM A ASSISTIR UM FILME EM CASA AS 14 HORAS, O FILME DUROU DUAS HORAS E MEIA. QUE HORAS ERAM AO TÉRMINO DESSE FILME?

RESOLUÇÃO:

NOME: _____

ESCOLA: _____ TURMA: _____

DATA: IBIÚNA, 19 DE MAIO DE 2021. _____

DISCIPLINA: HISTÓRIA _____

OBSERVE a imagem.

A que grupo social pertencem essas pessoas?



A- Quem são as pessoas retratadas na imagem? A partir de quais características você as identificou?

B- No que ela se parece com você e no que é diferente?

NOME: _____

ESCOLA: _____ TURMA: _____

DATA: IBIÚNA, 20 DE MAIO DE 2021. _____

DISCIPLINA: MATEMÁTICA _____

11. Observe a imagem abaixo e responda qual é a figura que representa a base de cada lata.



(A)



(B)



(C)



(D)



12. O gráfico a seguir apresenta o número de mochilas fabricadas por dia em uma empresa.



- De maneira similar aos gráficos, uma tabela também pode apresentar estes mesmos dados. Preencha a tabela a seguir com os mesmos dados do gráfico acima.

Dia da semana	Quantidade produzida
2ª-feira	4
3ª-feira	
4ª-feira	
5ª-feira	
6ª-feira	
Total de mochilas produzidas	

NOME: _____

ESCOLA: _____ TURMA: _____

DATA: IBIÚNA, 20 DE MAIO DE 2021. _____

DISCIPLINA: GEOGRAFIA _____

OBSERVE as imagens.



A- Com base nas informações, **ESCREVA** as características da zona urbana e rural.

- Zona urbana:

- Zona rural:

NOME: _____

ESCOLA: _____ TURMA: _____

DATA: IBIÚNA, 21 DE MAIO DE 2021. _____

DISCIPLINA: HISTÓRIA _____

OBSERVE a imagem.



As pessoas possuem estilos de vida diferentes, de acordo com a área que habitam, seus costumes, tradições e diversidade cultural. Por isso, nossas diferenças estão relacionadas com os lugares que temos relações de identidade e afetividade.

Com base no que você leu, **RESPONDA**.

A- Nossas roupas, hábitos, costumes, são iguais? Por quê?

NOME: _____

ESCOLA: _____ TURMA: _____

DATA: IBIÚNA, 21 DE MAIO DE 2021. _____

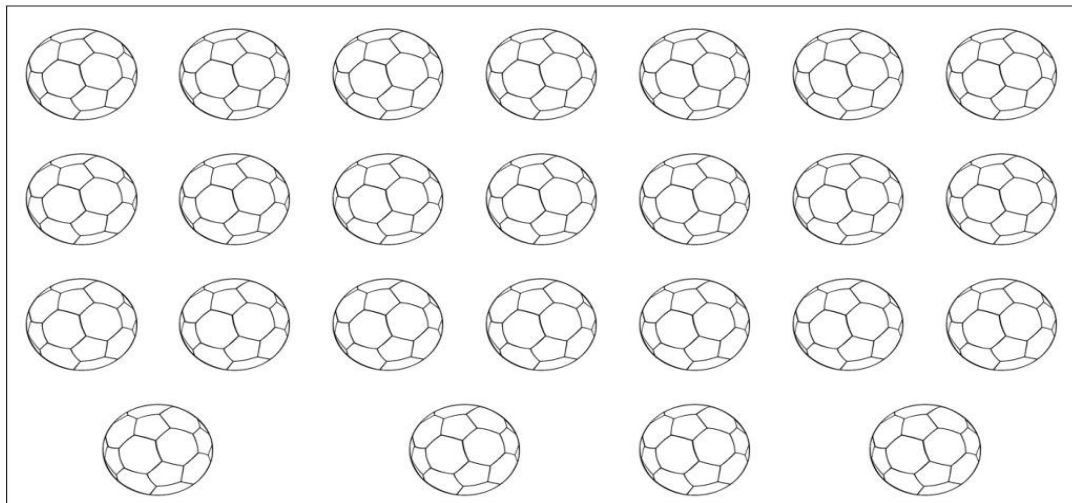
DISCIPLINA: MATEMÁTICA _____

D) PINTE

10 BOLAS DE AZUL.

1 DEZENA DE BOLAS DE AMARELO.

O RESTANTE DE VERMELHO.



O TOTAL DE BOLAS É _____.

TEMOS _____ DEZENAS E _____ UNIDADES.

NOME: _____

ESCOLA: _____ TURMA: _____

DATA: IBIÚNA, 24 DE MAIO DE 2021. _____

DISCIPLINA: MATEMÁTICA _____




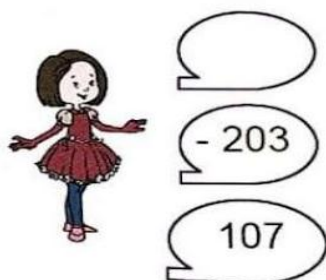
SITUAÇÕES PROBLEMAS

1 – Para instalar a internet na casa de José, são necessários 658 metros de fio. O técnico já utilizou 247 metros.
Quantos metros ainda faltam para terminar o serviço?

2 – tinha O cateiro Ricardo faz entrega diariamente aos seus destinatários. Hoje, pela manhã, Ricardo tinha 346 entregas. À tarde, às 14 h, ainda restavam 132 entregas. Quantas entregas Ricardo fez até às 14 horas?



3 – Complete os balões de modo que a subtração entre os termos encontre como resto 107:




NOME: _____

ESCOLA: _____ TURMA: _____

DATA: IBIÚNA, 24 DE MAIO DE 2021.

DISCIPLINA: ARTES

ROMERO BRITTO CRIANÇAS DO MUNDO



Children Of The World 2006 Serigraph on Paper Limited 24.5" x 29" Edition of 100 Gesso limited edition 100.

1- OBSERVA A TELA CHILDREN OF THE WORLD E PREENCHA OS QUADRINHOS.

NÚMERO DE ASAS

NÚMERO DE CRIANÇAS

NÚMERO DE PLANETAS




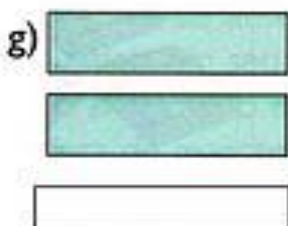


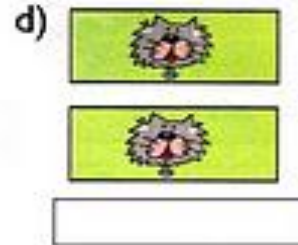

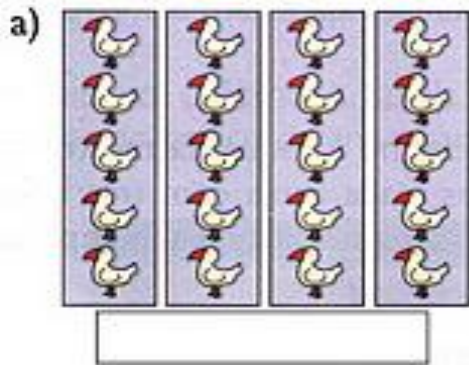
NOME: _____

ESCOLA: _____ TURMA: _____

DATA: IBIÚNA, 25 DE MAIO DE 2021. _____

DISCIPLINA: MATEMÁTICA _____

2. Escreva uma multiplicação para cada desenho.



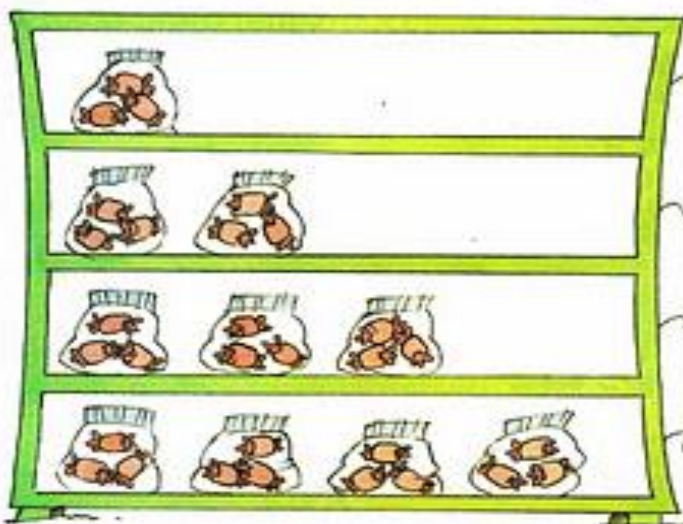
NOME: _____

ESCOLA: _____ TURMA: _____

DATA: IBIÚNA, 25 DE MAIO DE 2021. _____

DISCIPLINA: MATEMÁTICA _____

3. Todos os saquinhos têm 3 balas.
Calcule o total de balas de cada prateleira.



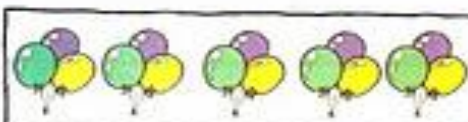
$1 \times 3 = \underline{\quad}$
3

$2 \times 3 = \underline{\quad}$
 $3 + 3 = \underline{\quad}$

$3 \times 3 = \underline{\quad}$
 $3 + 3 + 3 = \underline{\quad}$

$4 \times 3 = \underline{\quad}$
 $3 + 3 + 3 + 3 = \underline{\quad}$

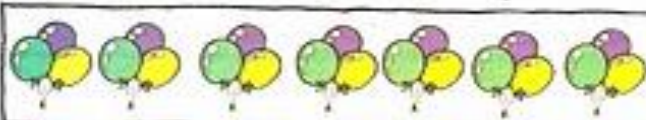
4. Continue a calcular os totais, contando os balões.



$5 \times 3 = \underline{\quad}$




$6 \times 3 = \underline{\quad}$



$7 \times 3 = \underline{\quad}$



$8 \times 3 = \underline{\quad}$



$9 \times 3 = \underline{\quad}$

NOME: _____

ESCOLA: _____ TURMA: _____


DATA: IBIÚNA, 26 DE MAIO DE 2021. _____

DISCIPLINA: CIÊNCIAS _____

Atividade 41 Animais nocivos

- Numere os animais de acordo com a forma como eles podem ser nocivos ao homem.

- 1 transmitem doenças
- 2 são venenosos
- 3 destroem as plantações



_____ ○




_____ ○



_____ ○



_____ ○



_____ ○



_____ ○

NOME: _____

ESCOLA: _____ TURMA: _____

DATA: IBIÚNA, 26 DE MAIO DE 2021. _____

DISCIPLINA: CIÊNCIAS _____

Encontre no caça-palavras, o nome dos mamíferos.

M	O	R	C	E	G	O	F	A	Q
Z	E	F	V	S	P	O	R	C	O
A	B	Q	C	H	K	L	N	A	C
P	Z	E	B	R	A	U	V	X	F
K	C	V	S	A	B	R	O	R	R
M	U	G	O	L	F	I	N	H	O

Escreva os nomes dos animais que você encontrou no caça-palavras, nos lugares corretos.

MAMÍFERO AÉREO

MAMÍFERO TERRESTRE

MAMÍFERO AQUÁTICO


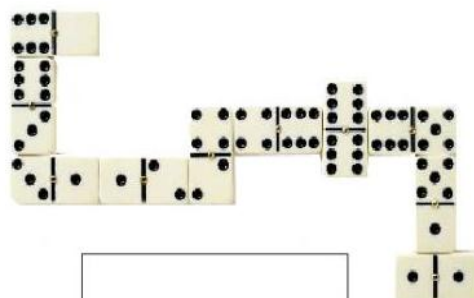
NOME: _____

ESCOLA: _____ TURMA: _____

DATA: IBIÚNA, 27 DE MAIO DE 2021. _____

DISCIPLINA: RECREAÇÃO _____

ESCREVA DENTRO DOS QUADROS, OS NOMES DOS JOGOS DE MESA:



NOME: _____


ESCOLA: _____ TURMA: _____

DATA: IBIÚNA, 27 DE MAIO DE 2021. _____

DISCIPLINA: ARTES _____

Data ___/___/___.

ROMERO BRITTO



NOME: _____

ESCOLA: _____ TURMA: _____

DATA: IBIÚNA, 28 DE MAIO DE 2021. _____

DISCIPLINA: LÍNGUA PORTUGUESA _____

Observe as cenas e forme frases usando o sinal de pontuação indicado.









NOME: _____


ESCOLA: _____ TURMA: _____


DATA: IBIÚNA, 28 DE MAIO DE 2021. _____

DISCIPLINA: LÍNGUA PORTUGUESA _____


ENCONTRO VOCÁLICO


ESCREVA OS NOMES DAS FIGURAS E CIRCULE O ENCONTRO VOCÁLICO DELAS.

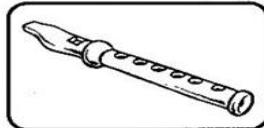


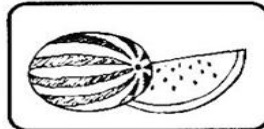

















NOME: _____



ESCOLA: _____ TURMA: _____

DATA: IBIÚNA, 31 DE MAIO DE 2021. _____

DISCIPLINA: ARTES _____

JOGO DOS SETE ERROS

ENCONTRE OS SETE ERROS FAZENDO UM X EM CADA ERRO.



NOME: _____

ESCOLA: _____ TURMA: _____

DATA: IBIÚNA, 31 DE MAIO DE 2021. _____

DISCIPLINA: CIÊNCIAS _____

Atividade 26 Animais selvagens


• Pinte e escreva o nome dos animais selvagens:











REFERÊNCIAS

ATIVIDADES 3º E 4º ANOS

https://educacaoetransformacaooficial.blogspot.com/2021/02/atividade-interdisciplinar-4-ano.html?fbclid=IwAR0j1ELAfuiQN3Tvb_z5eusHqMH3nLyfOMoYRqqiqeO-NPuSgxDXLitwzF4

MULTIPLICAÇÃO

<https://danieducar.com.br/atividades-de-multiplicacao-colorido-e-ilustrado>

<https://atividadesprofessores.com.br>

<https://br.pinterest.com>

PONTUAÇÃO

www.mestredosaber.com.br/atividades-de-pontuacao

ENCONTRO VOCÁLICO

escolaeducacao.com.br/atividades-de-portugues-3-ano/atividades-de-portugues-3-ano-encontro-vocalico