



E.M. “MAFALDA DALPRA MATIUSSO”

ALUNO(A):

PROFESSORA: ROSELI FERREIRA RAMALHO

4º ANO – A

5ª REMESSA DE ATIVIDADES

11/05 À 31/05/2021

Devolução em 08/06/2021



E.M. _____

NOME: _____ DATA: 11 / 05 /2021

PROFESSORA: ROSELI FERREIRA RAMALHO TURMA : 4º ANO – A

LÍNGUA PORTUGUESA

LEIA AS INFORMAÇÕES ABAIXO SOBRE O GÊNERO TEXTUAL REPORTAGEM:

O **gênero reportagem** é o gênero predominantes em jornais e revistas, com o objetivo de informar o leitor detalhadamente. Ela abriga, uma linguagem mais formal, depoimentos de especialistas (dar mais credibilidade), imagens, gráficos e tabelas.

<https://brainly.com.br/tarefa/20811779>

Reportagem

DEFINIÇÃO

- A reportagem é um gênero jornalístico que se baseia na observação direta das ocorrências;
- tenta mostrar os acontecimentos atuais em suporte escrito e através da imagem ou da emissão televisiva;
- hoje em dia, a divulgação dos acontecimentos é mais rápida e fácil de compreender através da televisão, pois mostra-nos testemunhos diretos e espontâneos.
- A reportagem escrita apresenta uma estrutura similar à da notícia.
- Os principais pontos que as distinguem são a oportunidade de opinião, que por vezes surge na reportagem, mas que é impensável quando se trata de uma notícia.
- Para além disso, a reportagem é mais extensa e complexa do que a notícia, devido ao seu elevado detalhe e à sua descrição.
- E, ainda, é quase sempre assinada, pelo repórter, que foi ao local “ver” e “ouvir” os “testemunhos”.

<http://promoveconhecimento.blogspot.com/2017/04/genero-reportagem.html>



E.M. _____

NOME: _____ DATA: 11 / 05 / 2021

PROFESSORA: ROSELI FERREIRA RAMALHO

TURMA : 4º ANO – A

MATEMÁTICA



<https://www.google.com/url?sa=i&url=https%3A%2F%2Fensinarhoje.com%2Fatividade-com-medidas-de-capacidade-litro-l-e-mililitro-ml%2F&psig=AOvVaw3vr3zKQCQOJsnItwHCFhwT&ust=1620269973865000&source=images&cd=vfe&ved=0CAIQjRxqFwoTCKDwm5TGsfACFQAAAAAdAAAAABAX>

LEIA E RESOLVA A SITUAÇÃO PROBLEMA.

PEDRO USOU ESTES BALDES PARA ENCHER A PISCINA DO BEBÊ. SABENDO QUE ELE USOU CADA BALDE DUAS VEZES, CALCULE A CAPACIDADE EM LITROS DA PISCINA.

nova
escola

<https://www.google.com/url?sa=i&url=https%3A%2F%2Fnovaescola.org.br%2Fplano-de-aula%2F1234%2Fmedida-de-capacidade-litro&psig=AOvVaw3vr3zKQCQOJsnItwHCFhwT&ust=1620269973865000&source=images&cd=vfe&ved=0CAIQjRxqFwoTCKDwm5TGsfACFQAAAAAdAAAAABAJ>

RESPOSTA: _____



E.M. _____

NOME: _____

DATA: 12 / 05 /2021

PROFESSORA: ROSELI FERREIRA RAMALHO

TURMA : 4º ANO – A

LÍNGUA PORTUGUESA

ALLEGRIA ESTÁ
Eventos

Jornal do Pedro

DESDE 2007

ANO 2009 Nº 6328 SÃO PAULO, 19 DE ABRIL DE 2009 EDIÇÃO ESPECIAL

Pedro Henrique promete que não vai faltar alegria !

REPORTAGEM LOCAL

16 de Abril de 2007 - Nasce Pedro Henrique de Vasconcelos, Raquel. Os brasileiros foram às ruas comemorar o nascimento de P.H. assim chamado pelos íntimos. O dia foi marcado com muita festa por todo o país e passa a partir desta data, a ser considerado um dos dias mais importantes do calendário nacional. O bebê recebeu a visita de diversas personalidades.

Quase 2013 anos após tanta agitação, a alegria continua. P.H. completará seu 1º aniversário.

E os pais, Juliana e Maikon tem o prazer de convidar apenas vocês assinantes desta edição exclusiva para a 2ª Festinha do Pedro Henrique. Será no dia 19/04/2009 - 16h00 Av. São Miguel 5.483 - Ponte Rasa

Previsão do Tempo

min. 26° C
máx. 33° C

E os meteorologistas afirmam: Tirem a alegria da gaveta, as emoções do baú, pois o dia será cheio de maravilhosos momentos.

"Venho a minha festinha não tenho se desculpar. Pois mesmo eu sendo pequenininho, não vou te perdoar. Declara Pedro Henrique ainda tropeçando nas palavras".

https://lh3.googleusercontent.com/proxy/Uz8-Fs6YFRu1Y67ZfhUNTZAYurRGxi8KHTgYKNWx83IUM6b_8HK4bNbcEDYuPIPYFuDJf4dirY6S2kGWg3rxE-koT9txpPW-HLIYb-KBkeMnitjtpPFFq4TPA0HP3-l_xzSp_geUHCQ-gSG4ipWlx2ixYxNQsgPHTYS__wk

OBSERVE A IMAGEM ACIMA E RESPONDA AS QUESTÕES ABAIXO:

A- EM QUAL SUPORTE FOI PUBLICADO A REPORTAGEM?

() REVISTA () JORNAL () TELEVISÃO

B – QUAL É O ANO E O NÚMERO DA EDIÇÃO DESSA PUBLICAÇÃO?

C – QUAL É A DATA DESSA PUBLICAÇÃO?

D – QUAL É O NOME DO JORNAL QUE PUBLICOU A NOTÍCIA?

E – QUAL É O TÍTULO DA REPORTAGEM ?



E.M. _____

NOME: _____

DATA: 12 / 05 /2021

PROFESSORA: ROSELI FERREIRA RAMALHO

TURMA : 4º ANO – A

CIÊNCIAS /HISTÓRIA /GEOGRAFIA

LOCALIZE O BRASIL NO MAPA E FAÇA UM (X)



<https://www.google.com/url?sa=i&url=https%3A%2F%2Fg1.globo.com%2Fbemestar%2Fcoronavirus%2Fnoticia%2F2020%2F04%2F27%2Fbrasil-aparece-entre-os-10-paises-com-mais-mortes-por-covid-19-mostra-levantamento.ghtml&psig=AOvVaw0vvmOdmjIMKmWGWgJLoJ0e&ust=1620259187457000&source=images&cd=vfe&ved=0CAIQjRxqFwoTCNDhglqesfACFQAAAAAdAAAAABAD>

EM RELAÇÃO AO NÚMERO DE MORTES POR COVID-19 NO BRASIL, MARQUE COM (X) QUAIS SÃO AS REGIÕES EM SITUAÇÕES MAIS CRÍTICA.



<https://www.google.com/url?sa=i&url=https%3A%2F%2Fg1.globo.com%2Fbemestar%2Fcoronavirus%2Fnoticia%2F2021%2F01%2F01%2Fcasos-e-mortes-por-coronavirus-no-brasil-em-1o-de-janeiro-segundo-consorcio-de-veiculos-de-imprensa.ghtml&psig=AOvVaw1trKBoyTskLOCQh4UbWk40&ust=1620259694833000&source=images&cd=vfe&ved=0CAIQjRxqFwoTCKDCy4mhsfACFQAAAAAdAAAAABAD>

EM QUAL FASE ESTÁ O MUNICÍPIO DE IBIÚNA?



<https://www.google.com/url?sa=i&url=https%3A%2F%2Ffredebrasilatual.com.br%2Fsaude-e-ciencia%2F2020%2F08%2Fmedia-pessoas-internadas-covid-sp%2F&psig=AOvVaw2r4GPJa79MXXk6FHiatqo9z&ust=1620260154175000&source=images&cd=vfe&ved=0CAIQjRxqFwoTCNDsk6OisfACFQAAAAAdAAAAABAD>



E.M. _____

NOME: _____

DATA: 12 / 05 / 2021

PROFESSORA: ROSELI FERREIRA RAMALHO

TURMA : 4º ANO – A

MATEMÁTICA



[https://www.facebook.com/prefeitura.ibiuna/photos/a.223102027871046/1773780332803200/?__cft__\[0\]=AZvfUZ1zy1t50-6smpdHazwUH6Dgd9mJA3qdaZVCDT9QYNQooqRaPFI_GaxR9o7Eu-1THADchrsfisgTeBnhNdt9Q7PA7mw4YTNZtcQGcBCS7JYcbBK7lhlTB188IVxiTvK245-q95QW3304xYPrPFRTEh96HzHNFvuyPyNj2VnRKpYSR7XR17grFFWrikc1j4&__tn__=EH-R](https://www.facebook.com/prefeitura.ibiuna/photos/a.223102027871046/1773780332803200/?__cft__[0]=AZvfUZ1zy1t50-6smpdHazwUH6Dgd9mJA3qdaZVCDT9QYNQooqRaPFI_GaxR9o7Eu-1THADchrsfisgTeBnhNdt9Q7PA7mw4YTNZtcQGcBCS7JYcbBK7lhlTB188IVxiTvK245-q95QW3304xYPrPFRTEh96HzHNFvuyPyNj2VnRKpYSR7XR17grFFWrikc1j4&__tn__=EH-R)

OBSERVE O QUADRO SOBRE COVID-19 EM IBIÚNA E FAÇA O QUE PEDE OS EXERCÍCIOS:

1 – SOME O NÚMERO DE CASOS AGUARDANDO RESULTADO E EM ISOLAMENTO DOMICILIAR.

RESPOSTA: _____

2 – ENCONTRE A DIFERENÇA ENTRE CASOS POSITIVOS E CASOS DESCARTADOS NEGATIVOS.

RESPOSTA: _____



E.M. _____

NOME: _____

DATA: 13 / 05 /2021

PROFESSORA: ROSELI FERREIRA RAMALHO

TURMA : 4º ANO – A

LÍNGUA PORTUGUESA

TEM MAIS NOTÍCIA!

Leia a notícia.

Sessão infantil lota sala e anima o Festival de Cinema de Gramado

Crianças de escolas da rede municipal também têm espaço no evento. Filme exibido este ano foi *Meu pé de laranja lima*, de Marcos Bernstein.

Márcio Luiz

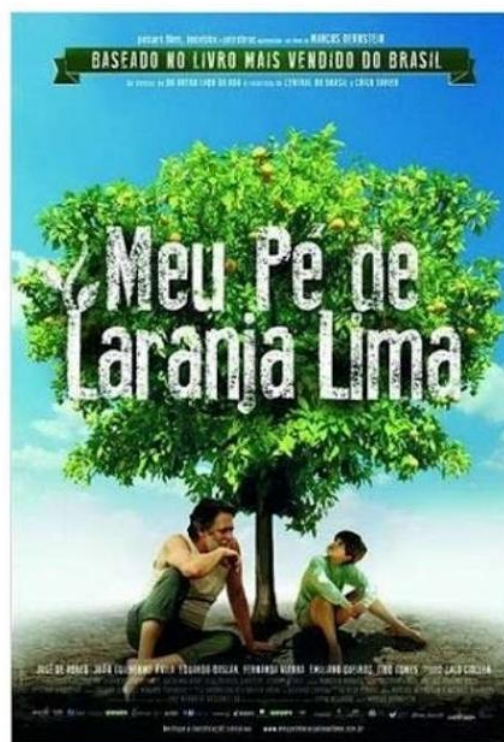
Do G1 RS, em Gramado.

Em um festival de Cinema marcado até aqui por aplausos protocolares ao final de cada filme da mostra competitiva, o Palácio dos Festivais viveu uma tarde de muito barulho e animação nesta quarta-feira (14). Crianças de escolas da rede municipal de Gramado lotaram o Cine Embaixador para uma das sessões infantis do evento.

Este ano, o filme exibido foi *Meu pé de laranja lima*, de Marcos Bernstein.

Acompanhados de pais, avós e professores, alunos da 3ª à 5ª série do Ensino Fundamental se divertiram e se emocionaram com a história de Zezé, o personagem interpretado pelo ator mirim João Guilherme Ávila, filho do cantor sertanejo Leonardo.

Para a professora Isabel Sthal, da Escola Senador Salgado Filho, a sessão infantil é importante para integrar as crianças da comunidade com o Festival de Cinema. “Além de ser uma atividade lúdica, é também uma forma de eles se sentirem participantes, se envolverem com esse grande evento sediado aqui na nossa cidade”, destaca ela.



INTERPRETAÇÃO DE TEXTO

1 – LEIA A NOTÍCIA E RESPONDA:

A – O QUE ACONTECEU?

B – ONDE ACONTECEU?

C – QUEM SÃO OS ENVOLVIDOS NA NOTÍCIA?

D – QUANDO ACONTECEU?

2 – “MEU PÉ DE LARANJA LIMA” É UMA OBRA LITERÁRIA, VOCÊ JÁ TINHA OUVIDO FALAR NESSE TÍTULO?

() SIM () NÃO

3 – QUAL É O NOME DA ESCOLA?

4 – QUEM FOI O REPORTER QUE ESCREVEU ESSA REPORTAGEM?

5 – EM QUAL JORNAL FOI PUBLICADA ESSA NOTÍCIA ?

6 – O PERSONAGEM ZEZÉ FOI INTERPRETADO PELO ATOR MIRIM JOÃO GUILHERME ÁVILA. ELE É FILHO DO CANTOR:

() ZÉ NETO () GUSTAVO LIMA () LEONARDO () CRISTIANO

7 – QUEM É O AUTOR DA OBRA “MEU PÉ DE LARANJA LIMA”?



E.M. _____

NOME: _____

DATA: 13 / 05 / 2021

PROFESSORA: ROSELI FERREIRA RAMALHO

TURMA : 4º ANO – A

MATEMÁTICA



[https://www.facebook.com/prefeitura.ibiuna/photos/a.223102027871046/1773780332803200/?__cft__\[0\]=AZVfUZ1zy1t50-6smpdHazwUH6Dgd9mJA3qdaZVCDT9QYNQoqoRaPFI_GaxR9o7Eu-1THADchrsfisgTeBnhNdT9Q7PA7mw4YTNZTcQGcBCS7JYcbBK7IhLTB1B8IVxiTvk245-q95QW3304xYPrPfRTrEh96HzHNfVuyPyNj2VnRKpYSR7XR17grFFWrikc1j4&__tn__=EH-R](https://www.facebook.com/prefeitura.ibiuna/photos/a.223102027871046/1773780332803200/?__cft__[0]=AZVfUZ1zy1t50-6smpdHazwUH6Dgd9mJA3qdaZVCDT9QYNQoqoRaPFI_GaxR9o7Eu-1THADchrsfisgTeBnhNdT9Q7PA7mw4YTNZTcQGcBCS7JYcbBK7IhLTB1B8IVxiTvk245-q95QW3304xYPrPfRTrEh96HzHNfVuyPyNj2VnRKpYSR7XR17grFFWrikc1j4&__tn__=EH-R)

CONTINUAÇÃO DA AULA ANTERIOR

RESPONDA:

1 – QUANTOS IBIUNENSES FORAM VACINADOS?

2 – QUANTOS ÓBITOS OCORRERAM NO MUNICÍPIO ATÉ A PRESENTE DATA?

3 - ESCREVA POR EXTENSO O NÚMERO DE ÓBITOS DO MUNICÍPIO:

4 - ESCREVA POR EXTENSO O NÚMERO DE CASOS POSITIVOS ATÉ A PRESENTE DATA:



E.M. _____

NOME: _____

DATA: 14 / 05 /2021

PROFESSORA: ROSELI FERREIRA RAMALHO

TURMA : 4º ANO – A

GEOGRAFIA

Estados do Brasil e suas Capitais

A depender do detalhamento do mapa político brasileiro, a representação cartográfica pode apresentar as 27 unidades federativas do país assinaladas por suas respectivas capitais e municípios.

Essas informações podem ser ainda analisadas a partir da organização de uma tabela.



<https://www.google.com/url?sa=i&url=https%3A%2F%2Fwww.pinterest.com%2Fpin%2F644085184178183461%2F&psig=AOvVaw3AQX09xdyL6diG3ZGyhLMh&ust=1620274371493000&source=images&cd=vfe&ved=0CAIQjRxxqFwoTCKji8ObWsfACFQAAAAAdAAAAABAD>

1 – QUANTAS UNIDADES FEDERATIVAS TEM O BRASIL?

2- EM QUANTAS REGIÕES O BRASIL ESTÁ DIVIDIDO?

3 – QUAIS SÃO AS REGIÕES DO BRASIL?



E.M. _____

NOME: _____ DATA: 14 / 05 /2021

PROFESSORA: ROSELI FERREIRA RAMALHO

TURMA : 4º ANO – A

ARTE/MATEMÁTICA

A IMAGEM ABAIXO APRESENTA **LINHAS CURVAS E LINHAS RETAS**. OBSERVE ESSES SEGMENTOS E PINTE O DESENHO DE FORMA QUE ELE FIQUE BEM COLORIDO E BONITO.

CAPRICHE!!!



[https://www.google.com/url?sa=i&url=https%3A%2F%2Fbr.pinterest.com%2Fpin%2F853080354400500645%2F&psig=AOvVaw0m-](https://www.google.com/url?sa=i&url=https%3A%2F%2Fbr.pinterest.com%2Fpin%2F853080354400500645%2F&psig=AOvVaw0m-SpyAfUhYh2P5nGjC3c&ust=1620271190336000&source=images&cd=vfe&ved=0CAIQjRxqFwoTCPC1iNzKsfaCFQAAAAAdAAAAABAJ)

SpyAfUhYh2P5nGjC3c&ust=1620271190336000&source=images&cd=vfe&ved=0CAIQjRxqFwoTCPC1iNzKsfaCFQAAAAAdAAAAABAJ



E.M. _____


NOME: _____ DATA: 17 / 05 /2021

PROFESSORA: ROSELI FERREIRA RAMALHO TURMA : 4º ANO – A

LÍNGUA PORTUGUESA

Leia a notícia.

O **presidente** dos Estados Unidos, Barack Obama, confirmou em **pronunciamento** na TV na **madrugada** desta segunda-feira (2) a morte de Osama Bin Laden, **líder** da rede terrorista da al-Qaeda, responsável pelos **ataques** terroristas de 11 de setembro de 2001 nos EUA, que mataram cerca de 3.000 **pessoas**.



De acordo com Obama, a **morte** foi **consequência** de uma ação de **inteligência** do **Exército** norte-americano em parceria com o governo do Paquistão, que localizou o **terrorista** -que tinha entre 53 e 54 anos- durante a semana passada.

De Olho na Notícia!

1 - Identifique as sílabas tônicas das palavras em destaque na notícia e circule:

- Organize cada uma das palavras em destaque de acordo com a tonicidade:

Oxítone	Paroxítone	Proparoxítone

LEMBRANDO QUE SÍLABA TÔNICA É AQUELA QUE QUANDO A PRONUNCIAMOS É A QUE SE DESTACA.

https://www.google.com/search?q=g%C3%A0nero+textual+reportagem+atividades+para+o+4%C2%BA+ano&tbm=isch&hl=pt-BR&chips=g:g%C3%A0nero+textual+reportagem+atividades+para+o+4%C2%BA+ano,online_chips:fundamental:ShKCMUBqoAY%3D&rlz=1C1SOJL_pt-BRBR927BR927&sa=X&ved=2ahUKEwiTuYrpbDwAhVWszUCHd-1BGkQ4IYoAnoECAEQHg&biw=1349&bih=657#imgrc=BqBqQDGCEkpOKM&imgdii=T2gJYtGLV6XBJM



E.M. _____

NOME: _____ DATA: 17 / 05 /2021

PROFESSORA: ROSELI FERREIRA RAMALHO TURMA : 4º ANO – A

MATEMÁTICA/ CIÊNCIAS



<https://i.pinimg.com/236x/40/19/39/401939a3380ed42efbbb601c60dec28f.jpg>

ASSINALE COM X A RESPOSTA CORRETA:

1 - ESSE APARELHO É O: () BARÔMETRO () BAFÔMETRO () TERMÔMETRO

2 - ELE SERVE PARA MEDIR: () PRESSÃO () TEMPERATURA () DIABETES

3 – PESQUISE E RESPONDA. O NÚMERO INDICADO NO TERMÔMETRO ACIMA INDICA FEBRE?

() SIM () NÃO

4 – A FEBRE É MEDIDA EM **GRAUS**. GRAUS CELSIUS ($^{\circ}$ C) OBSERVE AS TEMPERATURAS MARCADA NOS TERMÔMETROS ABAIXO E RESPONDA:

QUAL É A DIFERENÇA DE TEMPERATURA MARCADA ENTRE UM TERMÔMETRO E OUTRO?

RESPOSTA: _____





E.M. _____

NOME: _____ DATA: 18 / 05 /2021

PROFESSORA: ROSELI FERREIRA RAMALHO TURMA : 4º ANO – A

LÍNGUA PORTUGUESA/GEOGRAFIA/CIÊNCIAS

PIADA É UM GÊNERO TEXTUAL QUE TEM UMA HISTÓRIA CURTA, COM A FINALIDADE DE MEXER COM HUMOR DAS PESSOAS E PROVOCAR RISO. POR VEZES TAMBÉM APRESENTA UMA CRÍTICA SOCIAL.

LEIA A PIADA ABAIXO E RESPONDA AS QUESTÕES: LEMBRADO QUE A PONTUAÇÃO DO TEXTO É FUNDAMENTAL PARA O ENTENDIMENTO.

M

- Doutor, como eu faço para emagrecer?

- Basta a senhora mover a cabeça da esquerda para a direita e da direita para a esquerda.

- Quantas vezes, doutor?

- Todas as vezes que lhe oferecerem comida.

https://www.google.com.br/url?sa=i&url=https%3A%2F%2Fwww.maioresemelhores.com%2Fmelhores-piadas- curtas-para-morrer-de- rir%2F&psig=AOvVaw0dgUpte41e3CxW9v5OD9Rd&ust=1620341266667000&source=images&cd=vfe&ved=0CAIQjRxqFwoTCKDZ08PQs_ACFQAAAAAdAAAAABAJ

RESPONDA AS QUESTÕES:

1 – POR QUE A SENHORA FOI AO MÉDICO?

2 – QUAL FOI A PRESCRIÇÃO MÉDICA ?

3 – A PRESCRIÇÃO FEITA PELO MÉDICO À SENHORA ERA A SOLUÇÃO DO PROBLEMA DA PACIENTE?

4 – QUAL É O SENTIDO ENGRAÇADO DESSA PIADA?



E.M. _____

NOME: _____ DATA: 18 / 05 /2021

PROFESSORA: ROSELI FERREIRA RAMALHO TURMA : 4º ANO – A

MATEMÁTICA/ CIÊNCIAS

ESSE É UM TERMÔMETRO ANALÓGICO



<https://www.indiamart.com/proddetail/clinical-thermometer-6624783533.html>

OBSERVE A IMAGEM E RESPONDA AS QUESTÕES ABAIXO:

1 – QUAL É O NÚMERO MÍNIMO QUE APARECE NO TERMÔMETRO? _____

2 - QUAL É O NÚMERO MÁXIMO QUE APARECE NO TERMÔMETRO? _____

3 – VOCÊ JÁ TEVE FEBRE ALGUMA VEZ ? _____

4 – VOCÊ SABE DIZER O QUE A FEBRE INDICA? _____

5 – PESQUISE E RESPONDA. QUAL É A CONDIÇÃO DE SAÚDE DE UMA PESSOA QUE APRESENTAR FEBRE ACIMA DE 40 GRAUS ?

6 – QUAL É A TEMPERATURA MÉDIA NORMAL QUE INDICA UM CORPO SAUDÁVEL?



E.M. _____

NOME: _____ DATA: 19 / 05 /2021

PROFESSORA: ROSELI FERREIRA RAMALHO TURMA : 4º ANO – A

LÍNGUA PORTUGUESA/ CIÊNCIAS/ GEOGRAFIA/HISTÓRIA

LEIA A PIADA, MAS ATENÇÃO PARA A PONTUAÇÃO!



https://www.google.com.br/url?sa=i&url=https%3A%2F%2Fhuzzaz.com%2Fcollection%2Fpiadas-engraadas&psig=AOvVaw0dgUpte41e3CxW9vSOD9Rd&ust=1620341266667000&source=images&cd=vfe&ved=0CAIQjRxqFwoTKDZ08PQs_ACFQAAAAAdAAAAABAP

A PIADA ACIMA FAZ UMA CRÍTICA SOCIAL. NA ATUALIDADE O BRASIL E O MUNDO PASSAM POR UMA GRAVE SITUAÇÃO NO SISTEMA DE SAÚDE. AGORA RESPONDA AS QUESTÕES ABAIXO:

1 - ISSO SE REFERE A QUAL SITUAÇÃO?

2 – “FALTA DE AR” É UM DOS SINTOMAS DE QUAL DOENÇA DA ATUALIDADE?

3 - A QUE PROBLEMA ENFRENTADO PELO BRASIL O TEXTO SE REFERE?

4 – POSSO AFIRMAR QUE O HUMORISTA ESTÁ BRICANDO COM COISA SERIA OU QUE ELE ESTÁ CRITICANDO O SISTEMA DE SAÚDE DO BRASIL?



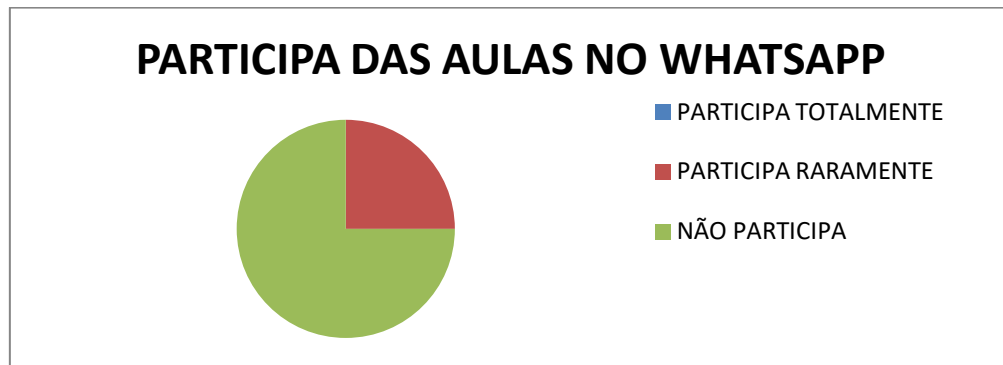
NOME: _____ DATA: 19 / 05 / 2021

PROFESSORA: ROSELI FERREIRA RAMALHO

TURMA : 4º ANO – A

MATEMÁTICA

OBSERVE O GRÁFICO RELACIONADO AOS DADOS COLETADOS PELA PROFESSORA DA TURMA DO 4º ANO – A DE 2021 DA E. M. MAFALDA DALPRA MATIUSSO E RESPONDA:



1 - EM QUAL PARCELA DO GRÁFICO VOCÊ SE ENQUADRA?

2 – ASSINALE AS ALTERNATIVAS QUE JUSTIFIQUE A SUA RESPOSTA:

- () NÃO TENHO INTERNET
- () NÃO TENHO CELULAR
- () PERCO A HORA DA AULA
- () NÃO CONSIGO FAZER SOZINHO
- () REALIZO TODAS AS ATIVIDADES
- () NÃO TENHO WIFI
- () USO DADOS MÓVEIS
- () PARTICIPO SOMENTE PARA TIRAR DÚVIDAS
- () CONSIGO REALIZAR SOZINHO E NÃO PRECISO TIRAR DÚVIDAS



E.M. _____

NOME: _____ DATA: 20 / 05 /2021

PROFESSORA: ROSELI FERREIRA RAMALHO TURMA : 4º ANO – A

LÍNGUA PORTUGUESA

GÊNERO TEXTUAL HISTÓRIA EM QUADRINHOS

Características Básicas:

- Balões de variados tipos e formas que mostram os diálogos dos personagens ou suas ideias.
- Possui elementos básicos de narrativa, tais como personagens, enredo, lugar, tempo e desfecho.
- Sequência de imagens que montam uma cena;
- Podem ser em Tirinhas, páginas inteiras ou várias páginas.

https://www.google.com.br/search?q=GENERO+HQ+CARACTERISTICAS&source=Imns&bih=809&bjw=1600&hl=pt-BR&sa=X&ved=2ahUKEwjz4_2hbTwhVappUCHXcODVgQ_AUoAHoECAEQAA



https://www.google.com.br/url?sa=i&url=http%3A%2F%2Fportal.doprofessor.mec.gov.br%2FfichaTecnicaAula.html%3Faula%3D27990&psig=AOvVaw06298aV7LD_6A0ODrKiSXa&ust=1620355812377000&source=images&cd=vfe&ved=0CAIQIRxgFwoTCLi3m_mGtPACFQAAAAAdAAAAABA

1 - VOCÊ GOSTA DE HISTÓRIA EM QUADRINHOS ?

2 - VOCÊ CONHECE PERSONAGENS DAS HISTÓRIAS EM QUADRINHOS? QUAIS ?

3 – TEM PREFERÊNCIA POR ALGUM PERSONAGEM?



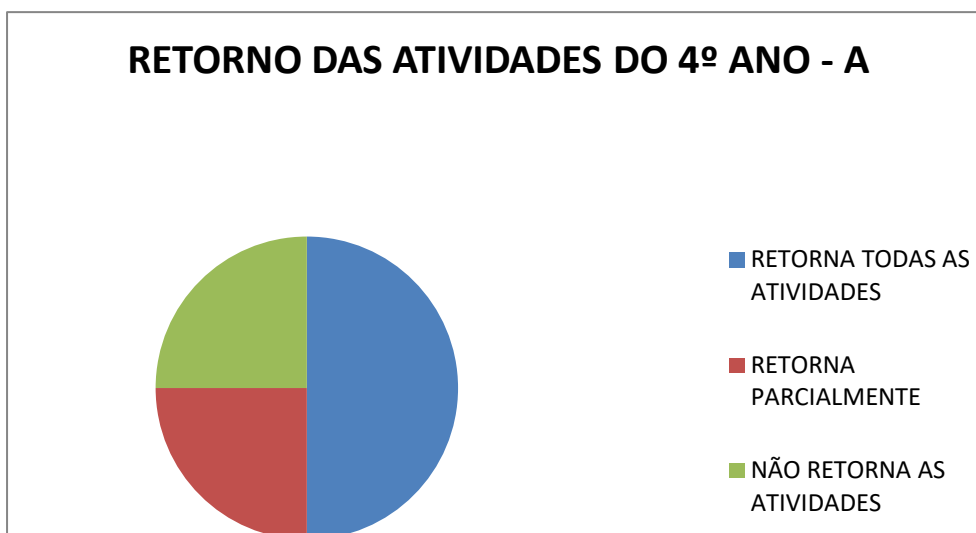
E.M. _____

NOME: _____ DATA: 20 / 05 /2021

PROFESSORA: ROSELI FERREIRA RAMALHO TURMA : 4º ANO – A

MATEMÁTICA

OBSERVE OS GRAFICOS E RESPONDA:



1 - POSSO AFIRMAR QUE METADE DA SALA RETORNA TODAS AS ATIVIDADES?

2 – O QUE REPRESENTA A PARTE VERMELHA DO GRÁFICO?

3 – O QUE REPRESENTA A PARTE VERDE DO GRÁFICO?

4 – QUE SUGESTÃO VOCÊ DARIA PARA MELHORAR A PARTICIPAÇÃO DOS ALUNOS NAS AULAS?



E.M. _____


NOME: _____ DATA: 21 / 05 /2021

PROFESSORA: ROSELI FERREIRA RAMALHO

TURMA : 4º ANO – A


ARTE/MATEMÁTICA

OBSERVE A SEQUÊNCIA...



<https://www.google.com/url?sa=i&url=https%3A%2Fwww.elo7.com.br%2Fadesivo-decorativo-faixas-greco-romanas%2Fdp%2FA2055A&psig=AOvVaw0m-SpyAfUhYh2P5nGjJC3c&ust=1620271190336000&source=images&cd=vfe&ved=0CAIQjRxqFwoTCPC1iNzKsfACFQAAAAAdAAAAABAU>

ESCOLHA CORES FORTES E CRIE UMA SEQUÊNCIA PARA COLORIR AS QUATRO FAIXAS ABAIXO.



<https://www.google.com/url?sa=i&url=https%3A%2Fbr.pinterest.com%2Fpin%2F116882552815234922%2F&psig=AOvVaw0m-SpyAfUhYh2P5nGjJC3c&ust=1620271190336000&source=images&cd=vfe&ved=0CAIQjRxqFwoTCPC1iNzKsfACFQAAAAAdAAAAABAF>



E.M. _____

NOME: _____ DATA: 21 / 05/ 2021

PROFESSORA: ROSELI FERREIRA RAMALHO

TURMA : 4º ANO – A

GEOGRAFIA

COMUNICAÇÃO IMEDIATA



<https://image.flaticon.com/icons/png/512/124/124034.png>

O ICONE (SÍMBOLO) ACIMA É DO WHATSAPP. UM MEIO DE COMUNICAÇÃO RÁPIDO VIA TELEFONE E CONECTADO A INTERNET.

ASSINALE AS ALTERNATIVAS QUE CORRESPONDE A FORMA COMO VOCÊ FAZ USO DO WHATSAPP:

- () TENHO UM CONTATO PESSOAL
- () NÃO TENHO CELULAR PESSOAL
- () USO DADOS MÓVEIS DO MEU CELULAR
- () USO DADOS MÓVEIS DO CELULAR DE ALGUÉM DA MINHA FAMÍLIA
- () TENHO WIFI E USO ELE DENTRO DE CASA
- () ONDE MORO NÃO TEM SINAL PARA LIGAÇÃO DE CELULAR
- () ONDE MORO NÃO TEM SINAL DE INTERNET
- () NÃO GOSTO E NÃO FAÇO USO DO WHATSAPP
- () NÃO USO PORQUE NÃO TENHO WHATSAPP NO MEU CELULAR



E.M. _____

NOME: _____

DATA: 24 / 05 /2021

PROFESSORA: ROSELI FERREIRA RAMALHO

TURMA : 4º ANO – A

LÍNGUA PORTUGUESA

DE OLHO NA TIRINHA

MAS COMO ERA A SUA VASSOURA? TINHA ALGUMA MARCA ESPECIAL?

PRECISO TER CERTEZA DE QUE A VASSOURA QUE EU ENCONTREI É A SUA!

Copyright ©1999 Mauricio de Sousa Produções Ltda. Todos os direitos reservados. 5799

1) ESTE TEXTO É UMA :

TIRINHA. CARTA. RECEITA.

2) A MENINA DO TEXTO É A:

MAGALI. ROSINHA. MÔNICA.

3) MÔNICA CONVERSAVA COM:

A BRUXA. A FADA. O DUENDE.

4) A BRUXA ESTAVA PROCURANDO:

O CHAPÉU. A VASSOURA. O CALDEIRÃO.

5) A EXPRESSÃO DO ROSTO DA MÔNICA É DE:

DÚVIDA. TRISTEZA. ALEGRIA.

WWW.ESCOLAS.PE.UEA.GO



E.M. _____

NOME: _____

DATA: 24 / 05 /2021

PROFESSORA: ROSELI FERREIRA RAMALHO



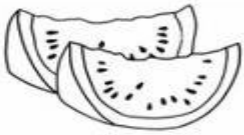
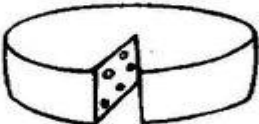

TURMA : 4º ANO – A

MATEMÁTICA

Medidas de capacidade (litro)

- Para medir líquidos usamos o **litro**.

1) Pinte o que se pode comprar por **litro**.



170



E.M. _____

NOME: _____ DATA: 25 / 05 /2021

PROFESSORA: ROSELI FERREIRA RAMALHO

TURMA : 4º ANO – A

LÍNGUA PORTUGUESA

Interpretação de tirinha e ortografia:



Copyright ©1999 Mauricio de Sousa Produções Ltda. Todos os direitos reservados.

1- Copie a fala de Cebolinha do segundo quadrinho corrigindo-a. Use travessão

2- Pinte os pontos na fala dos personagens: Copie-os:

<https://i.pinimg.com/originals/7d/e0/f6/7de0f6d49bb8fe2e5a9bd92e9d7679ec.jpg>

3 - O nome da pontuação que representa uma pergunta é:

() ponto final () ponto de interrogação () travessão

4 - Em um texto o que indica o travessão:

() A fala do personagem

() A narração



E.M. _____

NOME: _____ DATA: 25 / 05 /2021

PROFESSORA: ROSELI FERREIRA RAMALHO TURMA : 4º ANO – A

MATEMÁTICA

ProbleminHAS

1. Numa escola, há 577 alunos, sendo que 249 são meninas.
Quantos meninos estudam nessa escola?

Cálculo:

C	D	U

Resposta:

Nessa escola estudam _____ meninos.

2. As professoras do terceiro ano compraram 175 bolas e 183 bonecas. Quantos brinquedos elas compraram ao todo?

Cálculo:

C	D	U

Resposta:

Elas compraram _____ brinquedos.

3. Num prédio comercial, há 125 salas. Cada sala tem 3 janelas.
Quantas janelas tem nesse prédio?

Cálculo:

C	D	U

Resposta:

Nesse prédio tem _____ janelas.

@DIARIODATIAMARI



E.M. _____

NOME: _____

DATA: 26 / 05 /2021

PROFESSORA: ROSELI FERREIRA RAMALHO

TURMA : 4º ANO – A

LÍNGUA PORTUGUESA

Leia a tirinha e responda.



Copyright © 2000 Mauricio de Sousa Produções Ltda. Todos os direitos reservados.

5882

Cebolinha soube que Magali estava brincando com Cascão por que:

- Ela contou para ele.
- Ele viu as marcas das mãos sujas do cascão.
- Cebolinha estava vendo escondido.
- Cascão correu e contou para Cebolinha.

Leia a tirinha e responda a questão abaixo.



Copyright © 2002 Mauricio de Sousa Produções Ltda. Todos os direitos reservados.

7405

Podemos perceber lendo na tirinha acima que:

- Magali adora comer borboleta.
- Magali achou a mão do Cebolinha doce.
- Magali só pensa em comida.
- Cebolinha deu um soco na Magali.



E.M. _____

NOME: _____

DATA: 26 / 05 /2021

PROFESSORA: ROSELI FERREIRA RAMALHO

TURMA : 4º ANO – A

MATEMÁTICA

LEIA COM ATENÇÃO AS INFORMAÇÕES E REALIZE OS CÁLCULOS PARA RESPONDER AS QUESTÕES.

Sistema Monetário

@DIARIODATIAMARI

 URSO
Valor: R\$ 12,00
Pagou 
Troco: _____

 Valor: R\$ 7,00
Pagou 
Troco: _____

 Valor: R\$ 4,00
Pagou 
Troco: _____

 Valor: R\$ 23,00
Pagou 
Troco: _____

 Valor: R\$ 17,00
Pagou 
Troco: _____

 Valor: R\$ 3,00
Pagou 
Troco: _____

 Valor: R\$ 38,00
Pagou 
Troco: _____

 Valor: R\$ 14,00
Pagou 
Troco: _____



E.M. _____

NOME: _____ DATA: 27 / 05 /2021

PROFESSORA: ROSELI FERREIRA RAMALHO TURMA : 4º ANO – A

LÍNGUA PORTUGUESA

SOESCOLA.COM



1. Para quem Snoopy está escrevendo?

2. Por que ele está escrevendo?

3. Ele está escrevendo um bilhete ou uma carta?

4. Explique a diferença entre um bilhete e uma carta.

5. Escreva um bilhete para o Snoopy.




E.M. _____

NOME: _____ DATA: 27 / 05 /2021

PROFESSORA: ROSELI FERREIRA RAMALHO TURMA : 4º ANO – A

LÍNGUA PORTUGUESA

OBSERVE BEM A HISTÓRIA EM QUADRINHOS E COMPLETE OS BALÕES COM AS FALAS DOS PERSONAGENS. DE UM TÍTULO PARA ESSA HISTÓRIA!





E.M. _____

NOME: _____ DATA: 27 / 05 /2021

PROFESSORA: ROSELI FERREIRA RAMALHO

TURMA : 4º ANO – A

MATEMÁTICA

RESOLVA AS ADIÇÕES --- NÃO SE ESQUEÇA QUE QUANTO A SOMA DE CADA ORDEM É UM NÚMERO COM DOIS ALGARISMOS A DEZENA DESSE NÚMERO TEM QUE SUBIR NA BOLINHA DA CASA MAIOR .

Reagrupamento

$$\begin{array}{r} \textcircled{0} \textcircled{0} \\ 1 \mid 7 \mid 9 \\ + 3 \mid 5 \mid 2 \\ \hline \end{array}$$

$$\begin{array}{r} \textcircled{0} \textcircled{0} \\ 3 \mid 7 \mid 9 \\ + 5 \mid 6 \mid 4 \\ \hline \end{array}$$

$$\begin{array}{r} \textcircled{0} \textcircled{0} \\ 4 \mid 5 \mid 7 \\ + 2 \mid 9 \mid 6 \\ \hline \end{array}$$

$$\begin{array}{r} \textcircled{0} \textcircled{0} \\ 6 \mid 8 \mid 5 \\ + 2 \mid 6 \mid 8 \\ \hline \end{array}$$

$$\begin{array}{r} \textcircled{0} \textcircled{0} \\ 2 \mid 6 \mid 6 \\ + 3 \mid 8 \mid 5 \\ \hline \end{array}$$

$$\begin{array}{r} \textcircled{0} \textcircled{0} \\ 4 \mid 5 \mid 8 \\ + 2 \mid 7 \mid 9 \\ \hline \end{array}$$

$$\begin{array}{r} \textcircled{0} \textcircled{0} \\ 5 \mid 9 \mid 6 \\ + 1 \mid 2 \mid 7 \\ \hline \end{array}$$

$$\begin{array}{r} \textcircled{0} \textcircled{0} \\ 2 \mid 8 \mid 5 \\ + 3 \mid 4 \mid 9 \\ \hline \end{array}$$

$$\begin{array}{r} \textcircled{0} \textcircled{0} \\ 3 \mid 8 \mid 6 \\ + 1 \mid 9 \mid 9 \\ \hline \end{array}$$

$$\begin{array}{r} \textcircled{0} \textcircled{0} \\ 5 \mid 5 \mid 8 \\ + 2 \mid 7 \mid 7 \\ \hline \end{array}$$





E.M. _____

NOME: _____ DATA: 28 / 05 /2021

PROFESSORA: ROSELI FERREIRA RAMALHO TURMA : 4º ANO – A

LÍNGUA PORTUGUESA

SUBSTANTIVOS ABSTRATOS

É aquele que indica sentimentos, qualidades, ações, estados e sensações.
Exemplos:

- Sentimento: amor, ódio, paixão;
- Qualidade: honestidade, fidelidade, perfeccionismo;
- Ações: trabalho, doação;
- Estado: vida, solidão, morte;
- Sensação: calor, frio.

140608075646-phpapp01/95/aulas-substantivos-4-638.jpg?cb=1402214365

<https://image.slidesharecdn.com/substantivoslides-090531185513-phpapp02->

ESCREVA 5 FRASES COM SUBSTANTIVOS QUE REPRESENTAM SENTIMENTOS. ESCOLHA-OS NO QUADRO ACIMA:

A-

B -

C -

D -

E -



E.M. _____

NOME _____ DATA 28 / 05 /2021

PROFESSORA: ROSELI FERREIRA RAMALHO

TURMA : 4º ANO – A

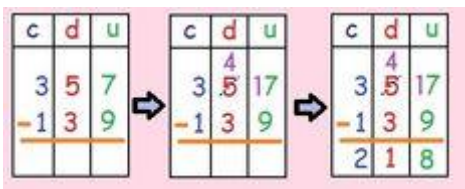
MATEMÁTICA

RESOLVA AS SUBTRAÇÕES E NÃO ESQUEÇA DE “EMPRESTAR” PARA NÚMERO QUE NÃO TEM O SUFICIENTE

$\begin{array}{r} \text{D U} \\ 67 \\ - 23 \\ \hline \end{array}$	$\begin{array}{r} \text{D U} \\ 303 \\ - 17 \\ \hline \end{array}$	$\begin{array}{r} \text{D U} \\ 405 \\ - 19 \\ \hline \end{array}$	$\begin{array}{r} \text{D U} \\ 401 \\ - 29 \\ \hline \end{array}$	$\begin{array}{r} \text{D U} \\ 804 \\ - 39 \\ \hline \end{array}$
$\begin{array}{r} \text{D U} \\ 802 \\ - 56 \\ \hline \end{array}$	$\begin{array}{r} \text{D U} \\ 805 \\ - 48 \\ \hline \end{array}$	$\begin{array}{r} \text{D U} \\ 902 \\ - 56 \\ \hline \end{array}$	$\begin{array}{r} \text{D U} \\ 306 \\ - 19 \\ \hline \end{array}$	$\begin{array}{r} \text{D U} \\ 501 \\ - 36 \\ \hline \end{array}$

<https://l.piniimg.com/564x/33/0a/17/330a173ab4aad5821ea37da57a53c082.jpg>

EXEMPLO



<https://l.piniimg.com/236x/e5/78/4b/e5784b466b849a334c4dbd9b515de770.jpg>

RESOLVA MAIS ESSAS SUBTRAÇÕES :

A) C D U

6 5 7

_ 1 3 9

B) C D U

4 0 2

_ 2 3 9

C) C D U

4 5 6

_ 4 9




E.M. _____

NOME: _____ DATA: 31 / 05 /2021

PROFESSORA: ROSELI FERREIRA RAMALHO TURMA : 4º ANO – A

LÍNGUA PORTUGUESA

NO CAÇA PALAVRA MARQUE AS QUALIDADES DA MAMÃE
 E REESCREVA AO LADO.



R	G	H	B	C	A	R	I	N	H	O	S	A	O
A	V	A	M	O	R	O	S	A	G	B	F	C	G
M	Q	E	R	T	Y	U	U	I	O	V	D	X	E
Á	F	C	V	H	J	H	O	N	E	S	T	A	N
V	D	F	L	S	E	R	T	V	H	J	K	I	T
E	T	W	I	A	X	D	X	F	V	B	J	F	I
L	D	F	N	U	I	O	A	M	I	G	A	H	L
S	C	V	D	Z	S	D	R	G	H	J	N	V	N
C	F	M	A	R	A	V	I	L	H	O	S	A	G
B	O	A	O	P	I	L	E	G	A	L	A	S	D

1. _____
2. _____
3. _____
4. _____
5. _____
6. _____
7. _____
8. _____
9. _____
10. _____

SEPARE AS SÍLABAS DAS PALAVRAS:

MAMÃE	<input type="text"/>	<input type="text"/>	AMOR	<input type="text"/>	<input type="text"/>		
CARINHO	<input type="text"/>	<input type="text"/>	<input type="text"/>	EXEMPLO	<input type="text"/>	<input type="text"/>	<input type="text"/>
PROTEÇÃO	<input type="text"/>	<input type="text"/>	<input type="text"/>	CORAÇÃO	<input type="text"/>	<input type="text"/>	<input type="text"/>
FLOR	<input type="text"/>	DEDICAÇÃO	<input type="text"/>	<input type="text"/>	<input type="text"/>	<input type="text"/>	<input type="text"/>



E.M. _____

NOME: _____ DATA: 31 / 05 /2021

PROFESSORA: ROSELI FERREIRA RAMALHO TURMA : 4º ANO – A

MATEMÁTICA

COLOQUE O RESULTADO DAS MULTIPLICAÇÕES:

1	x	1	=	
1	x	2	=	
1	x	3	=	
1	x	4	=	
1	x	5	=	
1	x	6	=	
1	x	7	=	
1	x	8	=	
1	x	9	=	
1	x	10	=	

2	x	1	=	
2	x	2	=	
2	x	3	=	
2	x	4	=	
2	x	5	=	
2	x	6	=	
2	x	7	=	
2	x	8	=	
2	x	9	=	
2	x	10	=	

3	x	1	=	
3	x	2	=	
3	x	3	=	
3	x	4	=	
3	x	5	=	
3	x	6	=	
3	x	7	=	
3	x	8	=	
3	x	9	=	
3	x	10	=	

4	x	1	=	
4	x	2	=	
4	x	3	=	
4	x	4	=	
4	x	5	=	
4	x	6	=	
4	x	7	=	
4	x	8	=	
4	x	9	=	
4	x	10	=	

5	x	1	=	
5	x	2	=	
5	x	3	=	
5	x	4	=	
5	x	5	=	
5	x	6	=	
5	x	7	=	
5	x	8	=	
5	x	9	=	
5	x	10	=	

6	x	1	=	
6	x	2	=	
6	x	3	=	
6	x	4	=	
6	x	5	=	
6	x	6	=	
6	x	7	=	
6	x	8	=	
6	x	9	=	
6	x	10	=	

7	x	1	=	
7	x	2	=	
7	x	3	=	
7	x	4	=	
7	x	5	=	
7	x	6	=	
7	x	7	=	
7	x	8	=	
7	x	9	=	
7	x	10	=	

8	x	1	=	
8	x	2	=	
8	x	3	=	
8	x	4	=	
8	x	5	=	
8	x	6	=	
8	x	7	=	
8	x	8	=	
8	x	9	=	
8	x	10	=	

9	x	1	=	
9	x	2	=	
9	x	3	=	
9	x	4	=	
9	x	5	=	
9	x	6	=	
9	x	7	=	
9	x	8	=	
9	x	9	=	
9	x	10	=	