



PREFEITURA DA ESTÂNCIA TURÍSTICA DE
IBIÚNA

Por uma Ibiúna próspera. Investindo no presente, gerando o futuro.



E.M. PREFEITO SEME ISSA

Aluno(a): _____

Ano: _____ Bairro: _____

Professor(a): _____ Fone: _____

5ª APOSTILA 2021



- A apostila é referente aos dias (Referente aos dias: 11, 12, 13, 14, 17, 18, 19, 20, 21, 24, 25, 26, 27, 28 e 31/05);
- Esta APOSTILA deverá ser devolvida para correção no **dia 08/06 (TERÇA-FEIRA)**;
- Horário de funcionamento da escola: **TERÇAS E QUINTAS-FEIRAS 08h00 às 16h00.**

Atenciosamente

Equipe E.M “Prefeito Seme Issa”

NOME: _____

DATA: 11/05/2021

MARCAR AS DATAS CORRESPONDENTES AOS DIAS DAS DATAS DAS ATIVIDADES. EX: 11, 12, 13, 14, 17, 18, 19, 20, 21, 24, 25, 26, 27, 28 E 31-05. OS FINAIS DE SEMANA PINTAR DE VERMELHO.

CALENDÁRIO MAIO - 2021







DOMINGO	SEGUNDA - FEIRA	TERÇA- FEIRA	QUARTA- FEIRA	QUINTA- FEIRA	SEXTA- FEIRA	SABADO
						1
2	3	4	5	6	7	8
9	10	11	12	13	14	15
16	17	18	19	20	21	22
23	24	25	26	27	28	29
30	31					

NOME: _____

DATA: 11/05/2021

RESOLVA ESTA!

PINTE, EM CADA FILEIRA,
O ANIMAL COM
TAMANHO MÉDIO.



NOME: _____ DATA: 12/05/2021

JUNTE AS LETRAS COM AS VOGAIS E FORME AS SILÁBAS

★PREENCHA O QUADRO COM AS FAMÍLIAS SILÁBICAS:

	A	E	i	O	U	ÃO
B						
C						
D						
F						
G						
H						
J						
K						
L						


NOME: _____

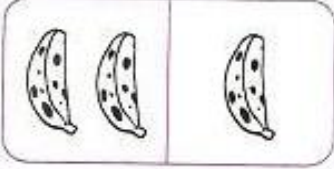
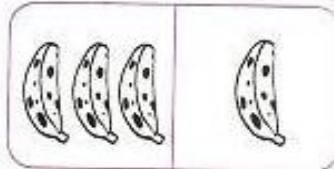
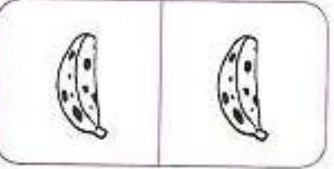
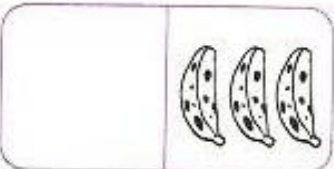
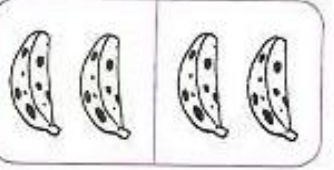
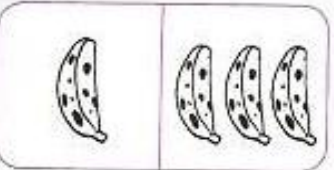
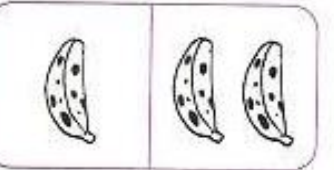
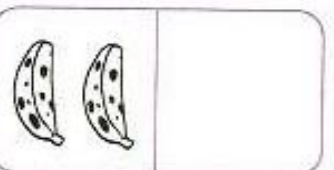
DATA: 12/05/2021



JUNTANDO BANANAS

- DESENHE O TOTAL DE BANANAS QUE OS MACACOS PEGARAM NA BANANEIRA.



 $2 + 1 = \underline{\quad}$	 $3 + 1 = \underline{\quad}$
 $1 + 1 = \underline{\quad}$	 $0 + 3 = \underline{\quad}$
 $2 + 2 = \underline{\quad}$	 $1 + 3 = \underline{\quad}$
 $1 + 2 = \underline{\quad}$	 $2 + 0 = \underline{\quad}$

NOME: _____ DATA: 13/05/2021

OBSERVE O NÚMERO JUNTE E FORME A PALAVRA, COMO NO EXEMPLO

FORMANDO PALAVRAS

1 BA	2 BO	3 FU	4 DO	5 LA
6 CU	7 MA	8 PI	9 NE	10 TA
11 CE	12 PO	13 ÇA	14 VE	15 PE
16 FI	17 LA	18 TE	19 BA	20 CA

1-5

BALA

2-9-20

6-2

3-7-13

4-11

8-12-20

10-15-18

16-14-17

NOME: _____

DATA: 13/05/2021

VAMOS LIGAR OS OBJETOS DE DEFESA AO PIOLHO FAZENDO A CORRESPONDÊNCIA?

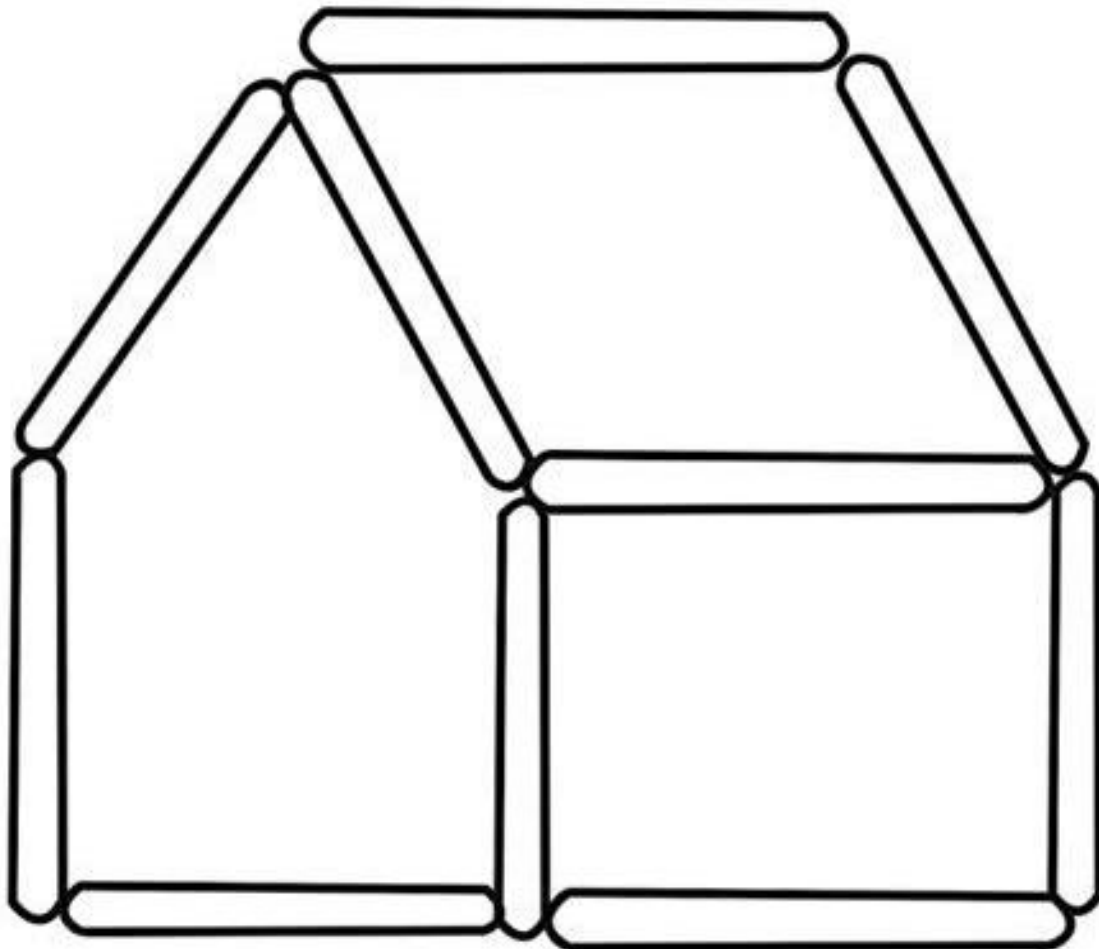
The image contains two columns of illustrations for a matching exercise. The left column, from top to bottom, shows: a showerhead with water spraying, a baseball cap, a comb, a bottle of shampoo, and a bar of soap with bubbles. The right column, from top to bottom, shows: a bottle of shampoo, a bar of soap with bubbles, a baseball cap, a showerhead with water spraying, and a comb.

E.M. PREFEITO SEME ISSA

NOME: _____ DATA:14/05/2021

APÓS COLAR OS PALITOS USEM SUA IMAGINAÇÃO, DESENHE PORTA, JANELAS E PINTE BEM BONITO!

COLE PALITOS DE SORVETE E MONTE A CASINHA.



NOME: _____

DATA:14/05/2021

ESSA ATIVIDADES VOCÊ IRÁ FAZER JUNTO COM SEUS FAMILIARES.
ENVIE VIDEOS OU FOTOS FAZENDO A ATIVIDADES NO NOSSO GRUPO!

Atividades com cordas:

. Colocar a corda em labirinto no chão.

- Andar em cima da corda.
- Correr sem pisar na corda.
- Pular com os pés unidos.
- Pular num pé só.
- Saltar livremente.
- Saltar em ziguezague



. A corda trançada em forma de rede e presa no chão

- Andar nos quadrinhos sem pisar na corda.
- Escalar a rede engatinhando.



. A corda em círculo no chão:

- Caminhar em cima da corda
- Pular de um pé só de um lado para o outro
- Pular com os dois pés juntos.

. A corda em movimento:

- Pular corda.
- Passar por baixo correndo.
- Pular uma vez e sair.
- Pular até errar.



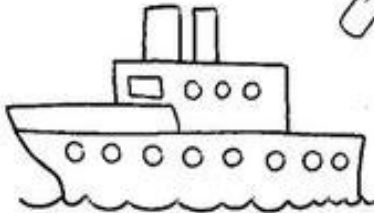


- ✍ PEDIR AOS ALUNOS QUE ESCREVAM EM SEU CADERNO ALGUMAS PALAVRAS QUE COMECEM IGUAL A CORDA.

NOME: _____

DATA: 17/05/2021

Circule os meios de transporte que você já utilizou.

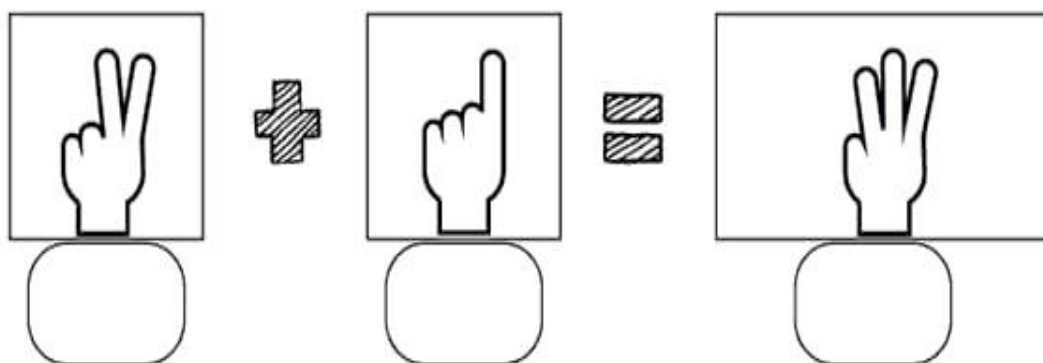
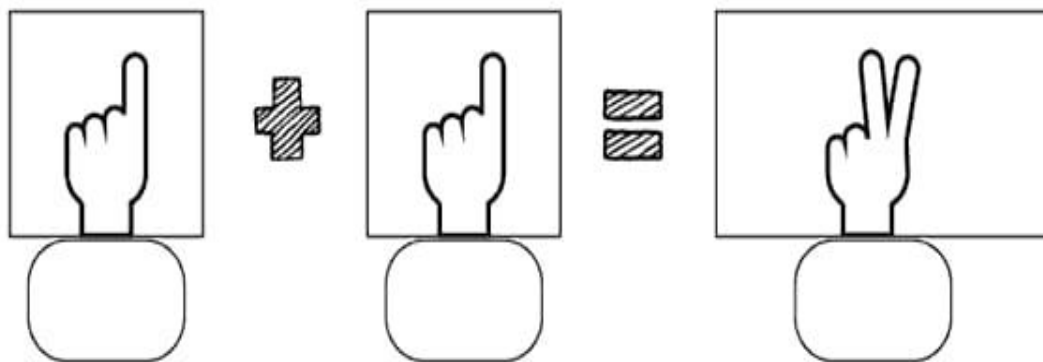
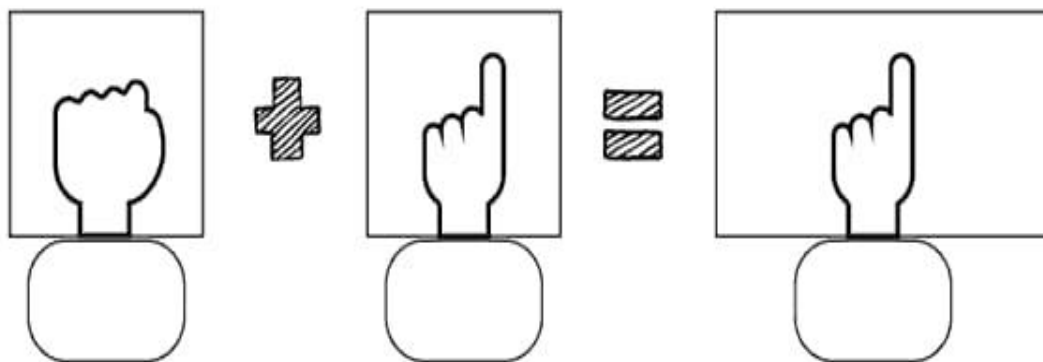


NOME: _____

DATA: 17/05/2021

SOMANDO COM OS DEDINHOS

0 1 2 3 4 5 6 7 8 9




NOME: _____

DATA: 18/05/2021


QUANTOS SONS?

1- LEIA A PALAVRA E INDIQUE A QUANTIDADE DE SONS.




AVIÃO

QUANTOS
SONS?




TELEVISÃO

QUANTOS
SONS?



BOCA

QUANTOS
SONS?







SOL

QUANTOS
SONS?

NOME: _____

DATA: 18/05/2021

Amoreco,
Ligue os animais à sua família. Agora, pinte bem bonito
os animais domésticos.



NOME: _____ DATA: 19/05/2021

Nome: _____
Data: __/__/____

FAMÍLIA SILÁBICA

F

UNA A LETRA F COM CADA VOGAL E FORME AS SÍLABAS:

F	A	
	E	
	I	
	O	
	U	

www.atividadesparaimprimir.com

NOME: _____

DATA: 19/05/2021

FAMÍLIA SILÁBICA

F

LIGUE:


FA •



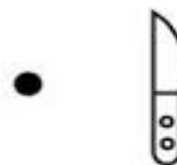
FE •



FI •



FO •



FU •




NOME: _____


DATA: 20/05/2021


ESCOLA: _____
TURMA: _____ PROFESSOR(A): _____
EU SOU: _____





1- RECORTE E COLE A SÍLABA INICIAL DE CADA PALAVRA E ESCREVA A PALAVRA FORMADA ABAIXO.



[] TEBOL



[] IJÃO


[] CA 



[] DA


[] RRO


[] TA


[] SCA


[] LA

[] GO 



FA FA FE FE FI FI FO FU FU

NOME: _____

DATA: 20/05/2021

ESCOLA: _____

DATA: ____ / ____ / ____

NOME: _____

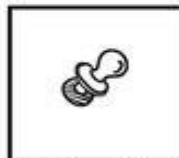
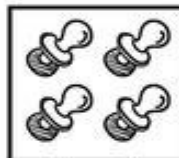


MATEMÁTICA

ADIÇÃO

VAMOS SOMAR?

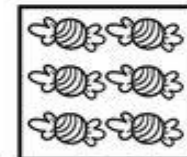

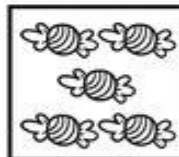
O BEBÊ TINHA 4 CHUPETAS E GANHOU MAIS UMA.
QUANTAS ELE TEM AGORA?



+

=

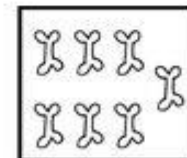
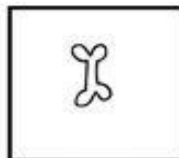

BRUNOTINHA 5 BALAS E GANHOU MAIS UMA.
QUANTAS ELE TEM AGORA?



+

=

O CACHORRO TINHA 6 OSSOS E GANHOU MAIS UM.
QUANTOS ELE TEM AGORA?



=

NOME: _____

DATA: 21/05/2021

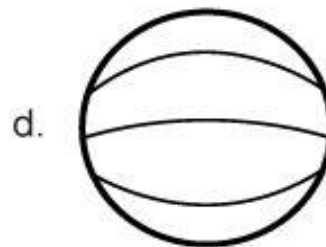
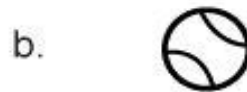
RELACIONE



www.smartkids.com.br


-Instruções:

Para brincar com o jogo do relacione, basta imprimir essa página, depois ligar as modalidades com suas respectivas bolas. Boa diversão!



E.M. PREFEITO SEME ISSA

NOME: _____ DATA:21/05/2021

The picture can't be displayed.

NOME: _____

DATA:24/05/2021

A FOCA
(VINÍCIUS DE MORAES)



QUER VER A FOCA
FICAR FELIZ?
É POR UMA BOLA
NO SEU NARIZ.

QUER VER A FOCA
BATER PALMINHA?
É DAR A ELA
UMA SARDINHA.

QUER VER A FOCA
FAZER UMA BRIGA?
É ESPETAR ELA
BEM NA BARRIGA!



NOME: _____

DATA: 24/05/2021

PROCURE NO CAÇA-PALAVRAS AS PALAVRAS ABAIXO. COMO NO EXEMPLO!

C G P G W F B L J
F R T R R O Q F H
R Q L B L C F Á G
Q W N S F A I B F
W T S H W B A I W
M A B A F A D O J
T P A F E I O K G
N W F L Q S R V T
M W O W F I C A Q

FOCA FEIO ~~BAFO~~ FICA
ABAFADO FÁBIO FIADO

NOME: _____ DATA: 25/05/2021

ESCOLA: _____

TURMA: _____ DATA: ____ / ____ / ____

ALUNO: _____


FAMÍLIA SILÁBICA



1- COMPLETE AS PALAVRAS COM O SOM INICIAL:



CA



IÃO



TA



GO



MAÇA

NOME: _____

DATA: 25/05/2021

FAÇA UM X NA DIFERENÇA QUE ENCONTRAR!



NOME: _____

DATA: 26/05/2021

Nome: _____

Data: _/ _/ _

FAMÍLIA SILÁBICA

G

UNA A LETRA B COM CADA VOGAL E FORME AS SÍLABAS:

G	A	
	E	
	I	
	O	
	U	

NOME: _____

DATA: 26/05/2021











LIGUE A SILABA A FIGURA INICIAL CORRESPONDENTE

Nome: _____
Data: __/__/____

FAMÍLIA SILÁBICA

G

LIGUE:

	•	•	
	•	•	
	•	•	
	•	•	
	•	•	

NOME: _____

Nome: _____

Data: __/__/__

FAMÍLIA SILÁBICA

G

COMPLETE AS PALAVRAS COM GA, GE, GI, GO OU GU:



T O



L A D E I R A



Z



T A



A R D A C H U V A

NOME: _____

DATA: 27/05/2021






ESCOLA: _____

ALUNO(A): _____

DATA: ___ / ___ / ___ TURMA: _____






CONTANDO E REGISTRANDO



NOME: _____

DATA: 28/05/2021

FAÇA UM X NAS SUAS BRINCADEIRAS PREFERIDAS



NOME: _____

DATA: 28/05/2021



NOME _____

PROF. _____

DATA

____/____/____

LIGUE OS PONTOS E COMPLETE O DESENHO



NOME: _____

DATA: 31/05/2021

Nome: _____

Data: __/__/__

FAMÍLIA SILÁBICA

G

COMPLETE AS PALAVRAS COM GA, GE, GI, GO OU GU:



T O



L A D E I R A



Z



T A



A R D A C H U V A

NOME: _____

DATA: 31/05/2021



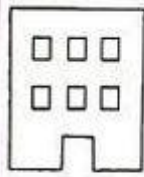


DESCOBRINDO FORMAS GEOMÉTRICAS

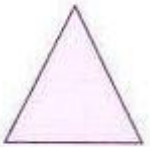
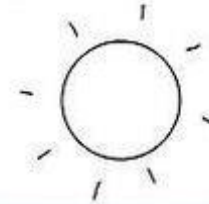
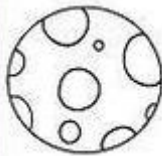
- VEJA OS DESENHOS E AS FORMAS DELES! PINTE AQUELES CUJAS FORMAS SÃO SEMELHANTES ÀS DO PRIMEIRO QUADRO.



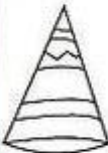
QUADRADO



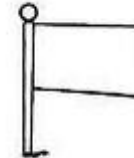
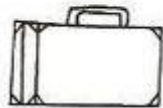
CÍRCULO



TRIÂNGULO



RETÂNGULO



E.M. PREFEITO SEME ISSA

NOME: _____

- REFERÊNCIAS:

<https://www.espacokids.com.br>> acesso em 04/05/2021

<https://www.atividadesparaimprimir.com.br> acesso em 04/05/2021

<https://www.cantinhoeducativo.com.br> acesso em 04/05/2021

<https://www.ideiacriativa.com.br> acesso em 04/05/2021

<https://www.smartkids.com.br/> acesso em 04/05/2021

<https://www.pequenosgrandespensantes.com.br> acesso em 04/05/2021

<https://www.ivaniferreira.blogspot.com.br> acesso em 04/05/2021

<https://www.notebookdoprofessor.blogspot.com.br> acesso em 04/05/2021