



Prefeitura da Estância Turística de
IBIÚNA
TRANSFORMAÇÃO RESPONSÁVEL. CUIDANDO DE PESSOAS.



E.M “ZENI SOARES RAMALHO”

Atividades para estudo em Casa

5 º apostila

Período das atividades:11/05 a 31/05/2021

Data da devolução:08/06/2021

Data da retirada da próxima:08/06/2021

Aluno (a): _____

Professora: Lucila Helena S.C. Germano

3º ano B

Roteiro para realização das atividades

Siga o roteiro para a realização das atividades:

Dia 11/05	Matemática e Geografia
Dia 12/05	Língua portuguesa e História
Dia 13/05	Matemática e Ciências
Dia 14/05	Língua Portuguesa e Artes
Dia 17/05	Língua Portuguesa e Matemática
Dia 18/05	Matemática e Geografia
Dia 19/05	Língua Portuguesa e História
Dia 20/05	Matemática e Ciências
Dia 21/05	Língua Portuguesa e Artes
Dia 24/05	Língua Portuguesa e Matemática
Dia 25/05	Matemática e Geografia
Dia 26/05	Língua Portuguesa e História
Dia 27/05	Matemática e Ciências
Dia 28/05	Língua Portuguesa e Artes
Dia 31/05	Língua Portuguesa e Matemática

Combinados das lições

- Lavar as mãos para fazer as lições;
- Escolher um lugar tranquilo e adequado para realizar as atividades;
- Ler com atenção;
- Seguir o roteiro das datas e fazer 2 atividades por dia, evitando assim o acúmulo;
- Fazer as tarefas com capricho e dedicação;
- Não amassar, não sujar e rasgar as atividades;
- Assistir aos links enviados pela professora no grupo de whatsApp;
- Se tiver dúvidas perguntar para a professora.

Lembre-se:

Você é capaz!!!

Eu acredito em você!!!

E.M "ZENI SOARES RAMALHO"

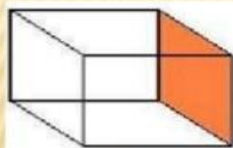
MATEMÁTICA

O QUE É FACE, VÉRTICE E ARESTA?

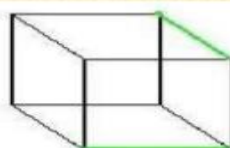
Face: são as partes planas.

Vértice: o ponto comum a três ou mais arestas.

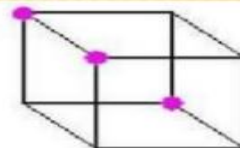
Aresta: A intersecção de duas faces.



Face

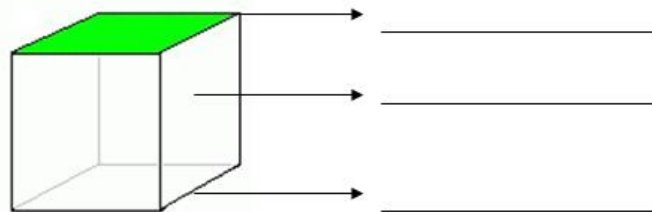


Aresta



Vértice

1 Além das faces, os poliedros têm arestas e vértices. Escreva na linha correta o nome de cada parte no cubo abaixo:



SÓLIDO	NÚMERO DE FACES	NÚMERO DE VÉRTICES	NÚMERO DE ARESTAS

9. Vamos resolver...



<https://image.slidesharecdn.com/projetodematemticageometria-iunidade-150118043324-conversion-gate02/95/projeto-de-matemtica-geometria-i-unidade-6-638.jpg?cb=1421577379>

<https://i.pinimg.com/originals/c8/77/07/c877079a452893c2d53f729958d570ae.png>

E.M “ZENI SOARES RAMALHO”

GEOGRAFIA


ZONA URBANA OU RURAL

Coloque V para as frases verdadeiras e F para as frases falsas.

- () A zona urbana é formada pelo centro da cidade e os bairros
- () Na zona rural, uma casa fica distante da outra
- () Na zona rural tem grandes lojas
- () Eu estudo na zona rural
- () Os alimentos naturais como frutas verduras e legumes vem da zona urbana
- () Na zona rural o ar é poluído
- () Na zona urbana tem muita movimentação e trânsito

Reescreva as frases falsas, do exercício anterior, fazendo-as ficarem verdadeiras.

Pinte somente a paisagem urbana



http://3.bp.blogspot.com/_c5LdjeDtBc8/TB7cAbiRwvI/AAAAAAA AAOw/8owKn1OUIHI/s1600/Paisagem+rural+e+urbana+2.jpg

E.M “ZENI SOARES RAMALHO”

LÍNGUA PORTUGUESA

LEITURA E INTERPRETAÇÃO

**A CIGARRA E A FORMIGA
RUTH ROCHA**

A CIGARRA PASSOU TODO O VERÃO CANTANDO, ENQUANTO A FORMIGA JUNTAVA SEUS GRÃOS.

QUANDO CHEGOU O INVERNO A CIGARRA VEIO À CASA DA FORMIGA PARA PEDIR QUE LHE DESSE O QUE COMER.

A FORMIGA ENTÃO PERGUNTOU A ELA:

- E O QUE É QUE VOCÊ FEZ DURANTE TODO O VERÃO?

- DURANTE O VERÃO EU CANTEI – DISSE A CIGARRA.

E A FORMIGA RESPONDEU:

- MUITO BEM, POIS AGORA DANCE!



RESPONDA:

1) O QUE A FORMIGA FEZ NO VERÃO?

2) O QUE A CIGARRA FEZ NO VERÃO?

3) POR QUE A FORMIGA NÃO DEU COMIDA À CIGARRA?

4) O QUE VOCÊ ACHA QUE ACONTECEU À CIGARRA?

5) SE VOCÊ FOSSE A FORMIGA, VOCÊ DARIA COMIDA PARA A CIGARRA? POR QUÊ?

<https://i.pinimg.com/736x/50/fb/9b/50fb9bf36f63758701b76bff12250080.jpg>

E.M “ZENI SOARES RAMALHO”

HISTÓRIA

ABOLIÇÃO DA ESCRAVATURA

ANTIGAMENTE OS NEGROS ERAM TRAZIDOS DE OUTROS PAÍSES PARA TRABALHAR COMO ESCRAVOS.

ELES SOFRIAM MUITO E ERAM MALTRATADOS. UM DIA UMA MULHER CHAMADA PRINCESA ISABEL ASSINOU UM DOCUMENTO QUE ABOLIU A ESCRAVIDÃO NO BRASIL.

ISSO ACONTECEU NO DIA 13 DE MAIO DE 1888. E FICOU CONHECIDO COMO O DIA DA ABOLIÇÃO DA ESCRAVATURA.



RESPONDA:

1 - COMO OS NEGROS ERAM TRATADOS NO BRASIL?

2 - QUEM ASSINOU O DOCUMENTO PARA ABOLIR A ESCRAVIDÃO NO BRASIL?

3 - EM QUE DIA MÊS E ANO FOI ASSINADO ESSE DOCUMENTO?

4 - COMO ESSE DIA FOI CONHECIDO?



[https://1.bp.blogspot.com/-](https://1.bp.blogspot.com/-jWbMnVmW0Gg/UZFRyhrPIEI/AAAAAAAAQEs/zGe_KPCU5qE/s320/Atividades+aboli%C3%A7%C3%A3o+da+escravatua+1.jpg)

[jWbMnVmW0Gg/UZFRyhrPIEI/AAAAAAAAQEs/zGe_KPCU5qE/s320/Atividades+aboli%C3%A7%C3%A3o+da+escravatua+1.jpg](https://1.bp.blogspot.com/-jWbMnVmW0Gg/UZFRyhrPIEI/AAAAAAAAQEs/zGe_KPCU5qE/s320/Atividades+aboli%C3%A7%C3%A3o+da+escravatua+1.jpg)

[https://3.bp.blogspot.com/-Ue-](https://3.bp.blogspot.com/-Ue-jhB_wDw/UZFRyCN1kVI/AAAAAAAAQEo/zrQRcrBmEUM/s1600/Atividades+aboli%C3%A7%C3%A3o+da+escravatua+2.jpg)

[jhB_wDw/UZFRyCN1kVI/AAAAAAAAQEo/zrQRcrBmEUM/s1600/Atividades+aboli%C3%A7%C3%A3o+da+escravatua+2.jpg](https://3.bp.blogspot.com/-Ue-jhB_wDw/UZFRyCN1kVI/AAAAAAAAQEo/zrQRcrBmEUM/s1600/Atividades+aboli%C3%A7%C3%A3o+da+escravatua+2.jpg)

E.M “ZENI SOARES RAMALHO”

MATEMÁTICA

MEDIDA DE TEMPO:HORA, MINUTOS E SEGUNDOS

ATENÇÃO:O PONTEIRO GRANDE INDICA OS MINUTOS E O PONTEIRO PEQUENO INDICA A HORA.

UMA HORA TEM 60 MINUTOS.

UM MINUTO TEM 60 SEGUNDOS.

MEIA HORA TEM 30 MINUTOS.

UM DIA TEM 24 HORAS.

Marque a alternativa correta.

Uma hora tem:

() 45 segundos

() 60 minutos

() 50 minutos

Um minuto tem:

() 60 segundos

() 70 segundos

() 120 minutos

O que marca o ponteiro pequeno no relógio?

E o que marca o ponteiro grande?

E.M "ZENI SOARES RAMALHO"

CIÊNCIAS

TIPOS DE ANIMAIS

ANFÍBIOS

São animais que nascem na água e depois vivem na terra.
Ex.: sapo, rã, perereca, etc.



AVES

São animais que possuem bico e o corpo coberto de penas.
Ex.: tucano, arara, beija-flor, gavião, pingüim, etc.



PEIXE

São animais que vivem na água e a maioria possui o corpo coberto de escamas.
Ex.: sardinha, dourado, tubarão, etc.




RÉPTEIS

São os animais que se locomovem rente ao chão. Alguns possuem patas curtas, outros não, somente rastejam.
Ex.: cobra, jacaré, lagartixa, tartaruga, etc.



CRUZADINHA DOS ANIMAIS



- 1- É uma ave de bico comprido.
- 2- É um réptil que tem veneno.
- 3- É um anfíbio que come moscas.
- 4- É um peixe perigoso.
- 5- É um mamífero que come banana.

<https://i.pining.com/originals/1c/cb/78/1ccb780ebe394dea6ad8ad8fd3a9cffa.jpg>


<http://4.bp.blogspot.com/>

[iQTDGmiHgPk/UISXyfcyCdl/AAAAAAAAATE/IYP5H31nrCo/s1600/cruzadinha.jpg](http://4.bp.blogspot.com/iQTDGmiHgPk/UISXyfcyCdl/AAAAAAAAATE/IYP5H31nrCo/s1600/cruzadinha.jpg)

E.M "ZENI SOARES RAMALHO"

LÍNGUA PORTUGUESA

1-LEIA AS PALAVRAS E ENCAIXE NA CRUZADINHA




PINTE AS SÍLABAS QUE FORMAM O NOME DE CADA FIGURA.
DEPOIS ESCREVA NA ORDEM CORRETA.



RA CI HA GAR



MI BA FOR GA



VI NA O LÃO

Contínio Anáyu

E.M “ZENI SOARES RAMALHO”

ARTES

13 DE MAIO-DIA DA ABOLIÇÃO DA ESCRAVATURA

PINTE BEM BONITO.



<https://3.bp.blogspot.com/-DG-tRQbASI4/TdAs09p10YI/AAAAAAAAUq0/L5fGGQAwu1w/s1600/1.JPG>

E. M "ZENI SOARES RAMALHO"

LÍNGUA PORTUGUESA

OBSERVE AS IMAGENS E REESCREVA A HISTÓRIA "A CIGARRA E A FORMIGA"

Reescrita

Fábula

A Cigarra e a Formiga









E.M "ZENI SOARES RAMALHO"

MATEMÁTICA

Ligue cada relógio com as horas indicadas:



7:15



2:30



11:45



9:00



1:15



5:30



12:45



4:00



6:15



10:30



3:45



8:00







E.M "ZENI SOARES RAMALHO"

MATEMÁTICA

O DIA E A SEMANA

A SEMANA INTEIRA

1-RECORTE E COLE OS NOMES DOS DIAS DA SEMANA, SEGUINDO A ORDEM CORRETA E ENUMERE-OS.

	<input type="text"/>		
	<input type="text"/>	-FEIRA	
	<input type="text"/>	-FEIRA	
	<input type="text"/>	-FEIRA	
	<input type="text"/>	-FEIRA	
	<input type="text"/>	-FEIRA	
	<input type="text"/>	-FEIRA	



SEXTA	QUINTA	QUARTA
SÁBADO	DOMINGO	TERÇA
SEGUNDA		

A ARTE DE ENSINAR E APRENDER

<http://3.bp.blogspot.com/-HeQPBrLodH4/VfdLeNtP81I/AAAAAAAAAbyo/Z-FSVgRJzCs/s1600/A%2BSEMANAINTEIRA.png>

E.M “ZENI SOARES RAMALHO”

GEOGRAFIA

TIPOS DE BAIRRO

RESIDENCIAIS- A MAIOR PARTE DAS CASAS SÃO RESIDÊNCIAS.

COMERCIAIS- SÃO ONDE EXISTEM MUITOS ESTABELECIMENTOS COMERCIAIS(ONDE COMPRAM E VENDEM MERCADORIAS.

INDUSTRIAIS- ONDE HÁ MUITAS FÁBRICAS (ONDE PRODUZEM ALIMENTOS, ROUPAS, MATERIAIS DE CONSTRUÇÃO E ARTIGOS EM GERAL).


1. Nos bairros residenciais, há predomínio de:

fábricas lojas restaurantes moradias

2. Anote o que normalmente predomina em um bairro comercial:

moradias lojas restaurantes fábricas
 bancos plantações escritórios casas comerciais

3. Observe esta ilustração.



a) Que tipo de bairro aparece na cena acima?

bairro residencial bairro comercial bairro industrial

b) Por que há tanto movimento de veículos na cena?

E.M “ZENI SOARES RAMALHO”

LÍNGUA PORTUGUESA

SUBSTANTIVOS PRÓPRIOS E COMUNS

SUBSTANTIVO É a palavra que designa o nome de algo.

SUBSTANTIVOS COMUNS: São aqueles que dão nome a todos os seres da mesma espécie. Eles são escritos com a letra inicial minúscula.

Exemplo: árvore, lápis, caneta, nariz.

SUBSTANTIVOS PRÓPRIOS: São aqueles que dão nome ao ser da mesma espécie, sendo escrito com a letra inicial maiúscula. São substantivos próprios nomes de cidade, pessoas, estados, ruas, países.

Exemplo: Raul, Cecília, Londrina, São Paulo, Brasil, Argentina.

Preencha o quadro:

Substantivos próprios	Substantivos comuns
<i>Nomes de cidades</i>	<i>Nomes de brinquedos</i>
_____	_____
_____	_____
_____	_____
_____	_____
_____	_____
<i>Nomes de pessoas</i>	<i>Nomes de objetos de cozinha</i>
_____	_____
_____	_____
_____	_____
_____	_____
_____	_____

<https://i.pinimg.com/originals/d4/e6/1f/d4e61f79cacd0b9553d994f7c9b7be1b.png>

<https://i.pinimg.com/originals/7a/45/bf/7a45bf61c0cfa9a715fd15bd0f0e47cd.png>

E.M "ZENI SOARES RAMALHO"

HISTÓRIA

O NEGRO E SUA INFLUÊNCIA NA COZINHA BRASILEIRA



VOCÊ SABIA QUE MUITOS DOS ALIMENTOS DO NOSSO DIA-A-DIA SÃO DE ORIGEM AFRICANA?

PODEMOS CITAR O AZEITE-DE-DENDÊ, A PIMENTA-MALAGUETA, O FEIJÃO-PRETO E O QUIABO.

ALÉM DISSO, OS NEGROS NOS ENSINARAM A FAZER VATAPÁ, CARURU, MUNGUNZÁ, ACARAJÉ, ANGU E PAMONHA.

FORAM OS NEGROS, TAMBÉM, QUE NOS ENSINARAM A FAZER PRATOS COM CAMARÃO SECO E A USAR AS PANELAS DE BARRO E A COLHER DE PAU.

1 CIRCULE, NO TEXTO, AS CONTRIBUIÇÕES DO NEGRO PARA A COZINHA BRASILEIRA. DEPOIS, COMPLETE A RELAÇÃO ABAIXO EM ORDEM ALFABÉTICA.

1- ACARAJÉ

2- ANGU

3- AZEITE-DE-DENDÊ

4- _____

5- _____

6- _____

7- _____

8- _____

9- _____

10- _____

11- _____

12- _____

13- _____



<http://3.bp.blogspot.com/-n4Z5aoO-->

[Sg/UJZhc0BV9vl/AAAAAAAAAddI/n8fjIzIOQyo/s1600/Digitalizar00](http://3.bp.blogspot.com/-n4Z5aoO--Sg/UJZhc0BV9vl/AAAAAAAAAddI/n8fjIzIOQyo/s1600/Digitalizar00)

[01.jpg](http://3.bp.blogspot.com/-n4Z5aoO--Sg/UJZhc0BV9vl/AAAAAAAAAddI/n8fjIzIOQyo/s1600/Digitalizar0001.jpg)

E.M "ZENI SOARES RAMALHO"

MATEMÁTICA



MESES DO ANO

→ COMPLETE A CRUZADINHA:

1	J	A	N	E	I	R	O			
2										
3										
4										
5										
6	J	U	N	H	O					
7										
8										
9										
10										
11										
12										



E.M "ZENI SOARES RAMALHO"


CIÊNCIAS

CLASSIFICAÇÃO DOS ANIMAIS VERTEBRADOS

Recorte os animais e cole-os em seus respectivos grupos.

GRUPOS DE VERTEBRADOS:				
MAMÍFEROS	AVES	PEIXES	ANFÍBIOS	RÉPTEIS

© SMARTKIDS



<https://www.smartkids.com.br/content/puzzles/images/1591/original/vertebrados-grupos.png>

E.M "ZENI SOARES RAMALHO"

LÍNGUA PORTUGUESA

Substantivos próprio e comum

1. Escreva o nome de cinco objetos existentes em sua sala de aula.

2. Escreva cinco nomes próprios.

3. Recorte de jornais e revistas quatro substantivos próprios e quatro comuns e cole-os.

<p>Próprios</p>

<p>Comuns</p>

<https://www.new-social.com/wp-content/uploads/2016/05/Atividade-com-substantivos-comum-e-proprio-3.png>

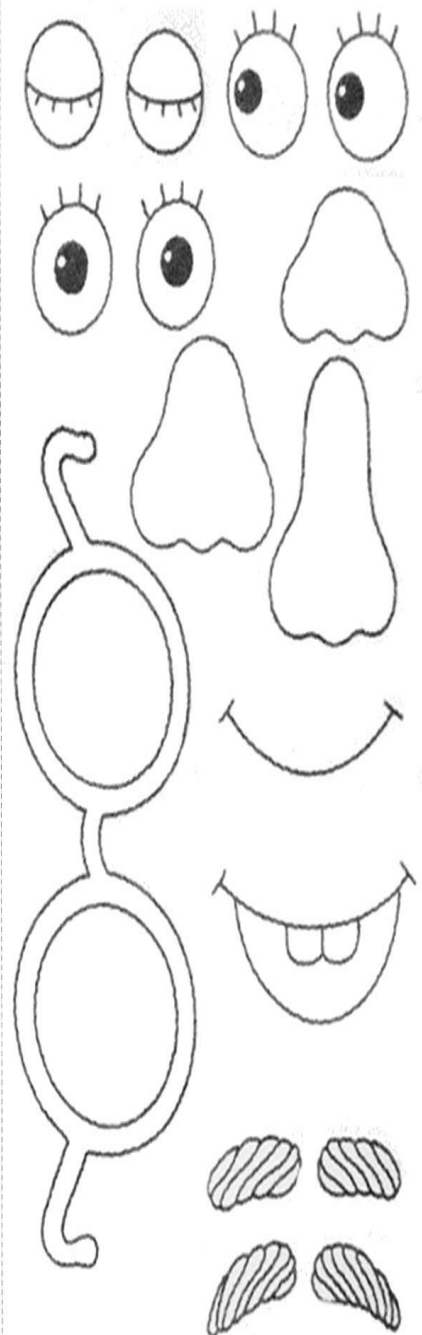
E.M “ZENI SOARES RAMALHO”

ARTES

RECORTE AS PARTES QUE ESTÃO AO LADO E COMPLETE O ROSTO.

NÃO ESQUEÇA DE COLORIR.

Expressões
Escolha as partes e complete o rosto




https://4.bp.blogspot.com/_wDXCxmC-nU/TL2Q-OntAI/AAAAAAAAAEc/uDUMUxRWU6U/s1600/Expressoes.jpg

E.M “ZENI SOARES RAMALHO”

LÍNGUA PORTUGUESA

TRABALHANDO COM OS SINAIS DE PONTUAÇÃO

USAMOS OS SINAIS DE PONTUAÇÃO PARA REPRESENTAR PAUSAS E ENTONAÇÕES DE VOZ QUE REPRODUZ A NOSSA FALA, NA ESCRITA.



?	INTERROGAÇÃO INDICA PERGUNTAS.
!	EXCLAMAÇÃO INDICA SENTIMENTO DE SUSTO, ADMIRAÇÃO E OUTROS.
,	VÍRGULA INDICA PEQUENA PAUSA, OU SEPARAÇÃO DE PALAVRAS NUMA FRASE.
.	PONTO INDICA O FINAL DE UMA FRASE.
:	DOIS PONTOS INDICA QUE ALGUÉM VAI FALAR.
—	TRAVESSÃO INDICA QUE ALGUÉM ESTÁ FALANDO.

- PONTUE.



EU GOSTO DE ESTUDAR



HOJE IARA PLANTOU

MARGARIDAS ROSAS E VIOLETAS

1 – COLOQUE OS SINAIS:



OU




QUANTAS HORAS

FELIZ ANIVERSÁRIO



DE QUEM É ESTE PAR DE MEIAS



OH, QUE SUSTO

<https://cucasuperlegal.com/wp-content/uploads/2020/07/GG-2-2-724x1024.jpg>

<https://cucasuperlegal.com/wp-content/uploads/2020/07/GG-2-1-724x1024.jpg>

E.M “ZENI SOARES RAMALHO”

MATEMÁTICA

CALENDÁRIO

CONSULTE UM CALENDÁRIO DE 2021 E COMPLETE O MÊS DE MAIO.

CALENDÁRIO MAIO



@danieducar

DOMINGO	SEGUNDA	TERÇA	QUARTA	QUINTA	SEXTA	SÁBADO

DEPOIS DE COMPLETAR O CALENDÁRIO RESPONDA:

1. ESTE MÊS TEM QUANTOS DIAS? _____
2. QUE DIA É HOJE DO MÊS? _____
3. QUANTOS DOMINGOS TEM ESTE MÊS? _____
4. PINTE OS FERIADOS DO MÊS.
5. QUE DIA DA SEMANA É O 1º DIA? _____

<https://danieducar.com.br/wp-content/uploads/2019/05/1efbc-calend25c32581rio2bmes2bde2bmaios2bdanieducar.jpg>

E.M “ZENI SOARES RAMALHO”

MATEMÁTICA

CALENDÁRIO 2021

RESPONDA:

Janeiro							Fevereiro													
D	S	T	Q	Q	S	S	D	S	T	Q	Q	S	S							
					1	2						1	2	3	4	5	6			
3	4	5	6	7	8	9	7	8	9	10	11	12	13	14	15	16	17	18	19	20
10	11	12	13	14	15	16	14	15	16	17	18	19	20	21	22	23	24	25	26	27
17	18	19	20	21	22	23	21	22	23	24	25	26	27	28						
24	25	26	27	28	29	30	28													
31																				

Março							Abril													
D	S	T	Q	Q	S	S	D	S	T	Q	Q	S	S							
					1	2						1	2	3						
7	8	9	10	11	12	13	4	5	6	7	8	9	10	11	12	13	14	15	16	17
14	15	16	17	18	19	20	11	12	13	14	15	16	17	18	19	20	21	22	23	24
21	22	23	24	25	26	27	18	19	20	21	22	23	24	25	26	27	28	29	30	
28	29	30	31				25	26	27	28	29	30								

Maio							Junho													
D	S	T	Q	Q	S	S	D	S	T	Q	Q	S	S							
						1						1	2	3	4	5				
2	3	4	5	6	7	8	6	7	8	9	10	11	12	13	14	15	16	17	18	19
9	10	11	12	13	14	15	13	14	15	16	17	18	19	20	21	22	23	24	25	26
16	17	18	19	20	21	22	20	21	22	23	24	25	26	27	28	29	30			
23	24	25	26	27	28	29	27	28	29	30										
30	31																			

Julho							Agosto													
D	S	T	Q	Q	S	S	D	S	T	Q	Q	S	S							
					1	2	1	2	3	4	5	6	7							
4	5	6	7	8	9	10	8	9	10	11	12	13	14	15	16	17	18	19	20	21
11	12	13	14	15	16	17	15	16	17	18	19	20	21	22	23	24	25	26	27	28
18	19	20	21	22	23	24	22	23	24	25	26	27	28	29	30	31				
25	26	27	28	29	30	31	29	30	31											

Setembro							Outubro													
D	S	T	Q	Q	S	S	D	S	T	Q	Q	S	S							
					1	2						1	2							
5	6	7	8	9	10	11	3	4	5	6	7	8	9	10	11	12	13	14	15	16
12	13	14	15	16	17	18	10	11	12	13	14	15	16	17	18	19	20	21	22	23
19	20	21	22	23	24	25	17	18	19	20	21	22	23	24	25	26	27	28	29	30
26	27	28	29	30			24	25	26	27	28	29	30	31						

Novembro							Dezembro													
D	S	T	Q	Q	S	S	D	S	T	Q	Q	S	S							
					1	2						1	2	3	4					
7	8	9	10	11	12	13	5	6	7	8	9	10	11	12	13	14	15	16	17	18
14	15	16	17	18	19	20	12	13	14	15	16	17	18	19	20	21	22	23	24	25
21	22	23	24	25	26	27	19	20	21	22	23	24	25	26	27	28	29	30	31	
28	29	30					26	27	28	29	30	31								

2021

 Nome: _____

Atividade @atividadesSuzano
De acordo com o calendário responda:

Em qual ano estamos?

Em qual mês?

Qual é o nome do primeiro dia da semana?

Qual é o nome do último dia da semana?

Quantos dias tem uma semana?

Pinte de azul o dia de hoje.

Escreva qual dia da semana você mais gosta e explique o motivo:


<https://atividadesSuzano.com/wp-content/uploads/2021/01/calendario-atividades-suzano.jpg>

E.M "ZENI SOARES RAMALHO"

GEOGRAFIA

4. Classifique estes bairros em comercial, residencial ou industrial.

(A)



Esse é um trecho de um bairro _____

(B)



Esse é um trecho de um bairro _____

5. Qual característica mais predomina em seu bairro?

- comercial residencial industrial misto

E.M “ZENI SOARES RAMALHO”

LÍNGUA PORTUGUESA

TRABALHANDO COM OS SINAIS DE PONTUAÇÃO

- VAMOS PONTUAR AS FRASES.

1 - A MENINA CAIU DA ESCADA

2 - O GATO É MANCHADO

3 - CADÊ O BOLINHO QUE DEIXEI AQUI

4 - QUE MAÇÃ GOSTOSA

5 - VOCÊ GOSTA DE MAÇÃ

- PONTUE O TEXTO.

IARA FOI À CASA DE DIEGO


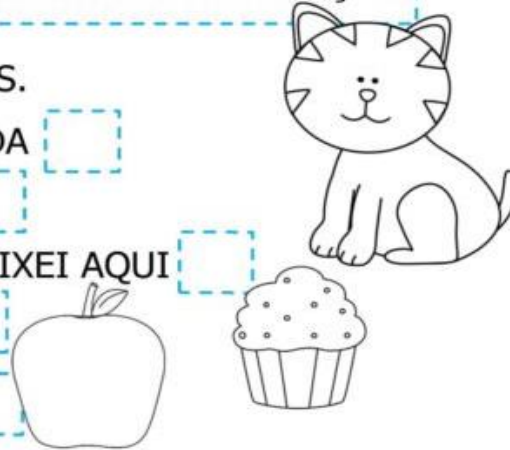
CHEGANDO LÁ IARA PERGUNTOU

DIEGO VAMOS BRINCAR

DIEGO ACEITOU O

CONVITE E FOI BRINCAR

COM IARA



www.amorensina.com.br

<https://cucasuperlegal.com/wp-content/uploads/2020/07/GG-2-3-724x1024.jpg>

E.M “ZENI SOARES RAMALHO”

HISTÓRIA

FEIJOADA PRATO DE ORIGEM AFRICANA



INGREDIENTES DE UMA FEIJOADA


1 COMPLETE A CRUZADINHA COM OS INGREDIENTES EM DESTAQUE NA RECEITA.



DICA: OBSERVE A QUANTIDADE E A POSIÇÃO DA LETRA NA PALAVRA.

INGREDIENTES






- 1 QUILO DE FEIJÃO PRETO.
- 1 QUILO DE LINGÜIÇA DEFUMADA.
- LOMBO DE PORCO DEFUMADO.
- CARNE-SECA (OU CARNE-DE-SOL).
- ORELHA DE PORCO.
- PÉS E RABOS DE PORCO.
- PAIO.
- TOUCINHO DEFUMADO.
- CARNE DE PORCO SALGADA.
- TEMPEROS HABITUAIS.









E.M "ZENI SOARES RAMALHO"

MATEMÁTICA

EFETUE AS OPERAÇÕES, OBSERVE O CÓDIGO E ENCAIXE O RESULTADO NA CRUZADINHA.

VERTICAIS	
$343 + 39$	
$67 + 38$	
$748 - 73$	
$36 + 27$	
$746 - 381$	

HORIZONTAIS	
$134 + 85$	
$24 + 39$	
$365 - 40$	
$128 + 194$	
$843 - 321$	



FAÇA OS CÁLCULOS NO ESPAÇO ABAIXO:

<https://i.pinimg.com/originals/1a/7d/68/1a7d684f9778a177b8212b6b8066c905.jpg>

E.M "ZENI SOARES RAMALHO"

CIÊNCIAS

Classificação dos animais

Dê exemplos de animais.

Mamíferos	
Répteis	
Aves	
Peixes	
Anfíbios	


<http://1.bp.blogspot.com/-eJsvvveNtvG/T0Ublr5lePI/AAAAAAAAASrE/QdiDaCX0HQA/s1600/atividades+ci%C3%A2ncias+3+ano+4+ano+5+ano+467.jpg>

E.M "ZENI SOARES RAMALHO"

LÍNGUA PORTUGUESA

ENCONTRO CONSONANTAL É O ENCONTRO DE DUAS OU MAIS CONSOANTES SEGUIDAS NA MESMA PALAVRA.

EXEMPLOS: **BR**ANCO-**CL**ASSE- **TR**AIVE- **FL**ECHA

 **ENCONTROS CONSONANTAIS DO R**

br cr dr fr gr pr tr vr

1) As palavras do quadro estão misturadas. Leia-as e, depois, escreva-as nas colunas certas.

grama	praia	Cristina	livro
trigo	grito	palavra	preto
alegre	truque	fraco	frio
primo	Rodrigo	bravo	broa
cravo	zebra	livre	creme
fruta	Patrícia	madrugada	pedra

br	cr	dr	fr
gr	pr	tr	vr

<https://www.soescola.com/wp-content/uploads/2017/07/Atividades-de-portugu%C3%AAs-3-ano-fundamental.png>

E.M “ZENI SOARES RAMALHO”

ARTES

ENCONTRE NA CENA ABAIXO, OITO OBJETOS:

- UMA BOLA
- UM PÉ DE TÊNIS
- UMA RAQUETE DE PINGUE-PONGUE
- UMA LANCHEIRA
- UM BONÉ
- UMA PETECA

PINTE CADA UM DESTES OBJETOS DE VERMELHO BEM FORTE.
DEPOIS PINTE TODA A CENA COM SUAS CORES PREFERIDAS.



<https://lereaprender.com.br/wp-content/uploads/2016/11/atividade-de-historia-do-3-ano-encontre-os-objetos.png>

E.M "ZENI SOARES RAMALHO"

LÍNGUA PORTUGUESA



COMPLETANDO COM CONSOANTES

1) Complete as palavras com as consoantes em destaque e, depois, escreva-as ao lado.

cl - gl - pl - bl - tl - fl

_____ aca		_____ ima	
_____ auta		a _____ eta	
_____ obo		_____ anela	
_____ usa		pro_____ ema	

2) Junte as sílabas e forme palavras.

(fle) (cha)	
(clas) (se)	
(bí) (bli) (a)	
(pla) (ne) (ta)	
(bi) (ci) (cle) (ta)	

Pratique esporte!
Seja um atleta!



3) Observe as ilustrações e crie frases interrogativas.





<https://i.pinimg.com/originals/52/0b/12/520b127f70f2951dddc15faca0739400.jpg>

E.M “ZENI SOARES RAMALHO”

MATEMÁTICA

SITUAÇÕES PROBLEMAS COM ADIÇÃO E SUBTRAÇÃO	
VITOR E JONAS FAZEM ANIVERSÁRIO NO MESMO DIA . JONAS TEM 16 E VITOR 12. QUANTOS ANOS UM TEM A MAIS QUE O OUTRO?	
MARISA TINHA 25 REAIS E GASTOU 13. COM QUANTOS REAIS ELA FICOU?	
LUÍZA QUER COMPLETAR UMA COLEÇÃO DE 28 SELOS . ELA JÁ TEM 12 . QUANTOS SELOS AINDA FALTAM PARA ELA COMPLETAR SUA COLEÇÃO?	
NA BANCA DE JORNAL DO BAIRRO VENDE -SE NA SEGUNDA FEIRA 45 JORNAIS E NA TERÇA, 24. QUANTOS JORNAIS SÃO VENDIDOS AO TODO?	
EM UMA CAIXA DE LÁPIS DE COR HÁ 43 LÁPIS DOS QUAIS 13 TEM DEFEITO. QUANTOS LÁPIS ESTÃO BONS AINDA NA CAIXA?	
EM UMA GINCANA , UMA EQUIPE REUNIU 27 GARRAFAS PETS E A OUTRA EQUIPE 21. QUANTAS GARRAFAS ELE REUNIRAM NO TOTAL?	
EM UMA FESTA DE ANIVERSÁRIO HAVIA 22 MENINOS E 36 MENINAS. QUANTAS CRIANÇAS HAVIA NA FESTA?	
GIL TINHA ALGUMAS FIGURINHAS . DEPOIS DE JOGAR COM SEUS AMIGOS ELE PERDEU 25 DAS FIGURINHAS E SOBARAM 13. QUANTAS FIGURINHAS GIL TINHA ANTES DE JOGAR?	

<https://3.bp.blogspot.com/-HTpniEd-RtQ/TrIP0a14Syl/AAAAAAAAACZE/pT1Yd0WPqvU/s640/PROBLEM AS3.jpg>