

# E.M. "RAIMUNDO VIEIRA BASTOS"

1º ANO A



[https://image.freepik.com/vetores-gratis/tres-criancas-lendo-livros\\_1308-6424.jpg](https://image.freepik.com/vetores-gratis/tres-criancas-lendo-livros_1308-6424.jpg)

5º REMESSA DE ATIVIDADES

**NOME:**








PROFESSORA CAMILA MACHADO 1º ANO

## COMUNICADO IMPORTANTE:

### QUERIDOS ALUNOS E RESPONSÁVEIS,

QUERO AGRADECER O RETORNO DAS ATIVIDADES POR 99% DOS ALUNOS CORRIGINDO AS APOSTILAS FOI POSSÍVEL NOTAR O EMPENHO E A DEDICAÇÃO DE TODOS NA REALIZAÇÃO DAS ATIVIDADES.

COMO SOMOS UMA GRANDE EQUIPE TRABALHANDO TODOS JUNTOS NESSE MOMENTO, VOU PASSAR ALGUMAS ORIENTAÇÕES PARA QUE O DESENVOLVIMENTO DAS ATIVIDADES NO AMBIENTE DOMICILIAR SE TORNE CADA VEZ MAIS PROVEITOSO.

-  NÃO SE ESQUEÇA DE REALIZAR O CABEÇALHO "DATA" DIARIAMENTE;
-  RESPEITE AS DATAS DAS ATIVIDADES, REALIZANDO DIARIAMENTE E ASSIM OPORTUNIZANDO O ALUNO DE ATINGIR OS OBJETIVOS PROPOSTOS;
-  REALIZAR AS ATIVIDADES DA APOSTILA POR COMPLETO. SE HOUVER DÚVIDAS CHAME A PROFESSORA QUE ESTÁ DISPONÍVEL PARA O ESCLARECIMENTO DAS MESMAS;
-  PROCURE ENTREGAR A APOSTILA NA DATA CORRETA, EVITANDO ASSIM DEMAIS TRANSTORNOS;
-  NÃO DEIXEM DE PARTICIPAR DO GRUPO DE WHATSAPP, ENVIANDO FOTOS E VÍDEOS DAS ATIVIDADES REALIZADAS;
-  A DEVOLUÇÃO DESSA APOSTILA QUE ESTÃO RECEBENDO NO DIA DE HOJE SERÁ 08/06/21
-  LEMBRE-SE A PROFESSORA FICA A DISPOSIÇÃO NO WHATSAPP (15) 99830-0816.

ATIVIDADES REFERENTE AO DIA 11/05/21

DATA: \_\_\_\_\_

NOME: \_\_\_\_\_

LÍNGUA PORTUGUESA

PARLENDA

VACA AMARELA

ERA UMA VEZ,  
UMA VACA AMARELA.  
QUE PULOU DA JANELA  
E FICOU BANGUELA.

TRABALHANDO COM O TEXTO:

1- PINTE AS RIMAS DO TEXTO.

2- CONTE QUANTAS PALAVRAS TEM NO TEXTO:

3- QUE COR TINHA A VACA?

PRETA

AMARELA


VERMELHA

4- POR ONDE A VACA PULOU?

CERCA

PORTA

JANELA



<https://escolaeducacao.com.br/brincadeiras-da-regiao-sudeste/vaca-amarela/>

# MATEMÁTICA

## CALENDÁRIO


OBSERVE O CALENDÁRIO DO ANO DE 2021.



<https://www.imagemlegal.com.br/calendarios/calendario-2021-png-infantil-para-foto-montagem/attachment/moldura-para-foto-calendario-2021-moana-png/>

COM O AUXÍLIO DO CALENDÁRIO ACIMA REALIZE A ATIVIDADE DO LIVRO:

LIVRO EMAI PÁGINA 27, TRABALHANDO COM OS MESES DO ANO.



PROFESSORA CAMILA MACHADO 1º ANO

ATIVIDADES REFERENTE AO DIA 12/05/21

DATA: \_\_\_\_\_

NOME: \_\_\_\_\_

LÍNGUA PORTUGUESA

VACA AMARELA

ERA UMA VEZ,  
UMA VACA AMARELA.  
QUE PULOU DA JANELA  
E FICOU BANGUELA.

- FAÇA A LEITURA DA PARLENDAS PINTANDO OS ESPAÇOS ENTRE AS PALAVRAS.

- PRATIQUE A LEITURA DAS PALAVRAS E CONTE QUANTAS SÍLABAS TEM, PINTANDO UMA BOLINHA PARA CADA SÍLABA:

JANELA ○ ○ ○ ○

AMARELA ○ ○ ○ ○


VACA ○ ○ ○ ○

BANGUELA ○ ○ ○ ○

PULOU ○ ○ ○ ○

UMA ○ ○ ○ ○

VEZ ○ ○ ○ ○



<https://escolaeducacao.com.br/brincades-da-regiao-sudeste/vaca-amarela/>




## MATEMÁTICA

LIVRO EMAI PÁGINA 29, SEQUÊNCIA NUMÉRICA.



FIQUE DE OLHO NO GRUPO PARA AS ORIENTAÇÕES DA PROFESSORA.



### ATIVIDADES REFERENTE AO DIA 13/05/21

DATA: \_\_\_\_\_

NOME: \_\_\_\_\_

### LÍNGUA PORTUGUESA

OBSERVE A PALAVRA:

# VACA

QUANTAS LETRAS TEM?

QUANTAS SÍLABAS TEM?

FORME AS SÍLABAS CORRETAMENTE:

	A	_____	
	E	_____	
	I	_____	
	O	_____	
	U	_____	


<https://dicasparaomatemal.blogspot.com/2018/04/atividades-com-as-familias-silabicas.html>

PROFESSORA CAMILA MACHADO 1º ANO

# MATEMÁTICA

## SITUAÇÃO PROBLEMA

SEU CHICO TINHA EM SUA FAZENDA




E COMPROU MAIS,



QUANTAS VACAS O SEU CHICO TEM AGORA?

\_\_\_\_\_

SEU CHICO GANHOU DE SEU IRMÃO MAIS:



COM QUANTAS VACAS O SEU CHICO FICOU AGORA?

\_\_\_\_\_


DURANTE A NOITE ESCAPARAM



QUANTAS VACAS FICOU NO CERCADO?

\_\_\_\_\_

O SEU CHICO ENTÃO RESOLVEU COMPRAR MAIS:



AGORA O SEU CHICO TEM \_\_\_\_\_ VACAS.

## ATIVIDADES REFERENTE AO DIA 14/05/21

DATA: \_\_\_\_\_

NOME: \_\_\_\_\_

### LÍNGUA PORTUGUESA

COMPLETE AS PALAVRAS COM AS SÍLABAS  
VA - VE - VI - VO OU VU



\_\_\_STIDO



\_\_\_ADO



\_\_\_CA

20

\_\_\_NTE



\_\_\_OLÃO



\_\_\_VÓ



\_\_\_SO



\_\_\_LA



\_\_\_SSOURA


<https://i.pinimg.com/564x/40/60/da/4060dae448bef2e1889f93ff77f756e4.jpg>

### HISTÓRIA

LIVRO ÁPIS PÁGINA 10 E 11, A MINHA VIDA DE CRIANÇA.



FIQUE DE OLHO NO GRUPO PARA AS ORIENTAÇÕES DA PROFESSORA.





ATIVIDADES REFERENTE AO DIA 17/05/21

DATA: \_\_\_\_\_

NOME: \_\_\_\_\_

LÍNGUA PORTUGUESA

ATIVIDADE DE ESCRITA

ESCREVA AS PALAVRAS DO SEU JEITINHO:



\_\_\_\_\_



\_\_\_\_\_



\_\_\_\_\_



\_\_\_\_\_




\_\_\_\_\_

# MATEMÁTICA

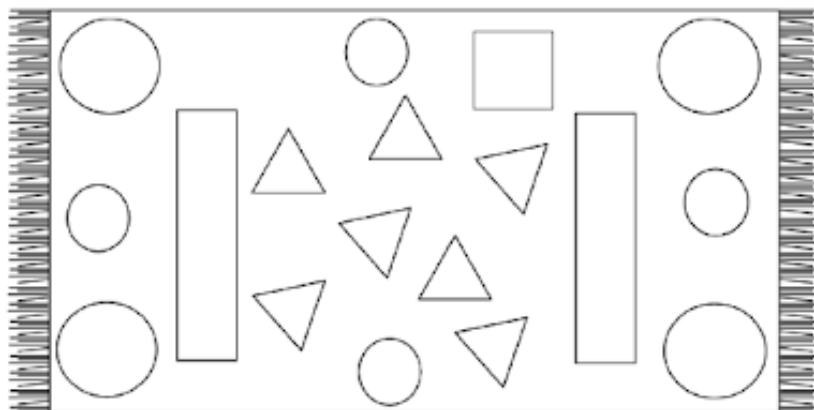
## FIGURAS GEOMÉTRICAS

### AJUDE A VACA AMARELA COM AS FIGURAS GEOMÉTRICAS



<https://escolaeducacao.com.br/brincadeiras-da-regiao-sudeste/vaca-amarela/>

COLORIR NO TAPETE AS FORMAS GEOMÉTRICAS DE ACORDO COM AS ORIENTAÇÕES:



PINTE A QUANTIDADE DE FORMAS GEOMÉTRICAS EXISTENTES DENTRO DO TAPETE:

• CÍRCULOS: ○ ○ ○ ○ ○ ○ ○ ○ ○ ○

• QUADRADOS: □ □ □ □ □ □ □ □ □ □

• RETÂNGULOS: ▭ ▭ ▭ ▭ ▭ ▭ ▭ ▭

• TRIÂNGULOS: △ △ △ △ △ △ △ △ △ △

CONTINUE A SEQUÊNCIA:



<https://atividadesparaeducadores.blogspot.com/2016/10/1-ano-figuras-geometricas.html?pref=pi>

PROFESSORA CAMILA MACHADO 1º ANO

## ATIVIDADES REFERENTE AO DIA 18/05/21

DATA: \_\_\_\_\_

NOME: \_\_\_\_\_

### ARTES

VAMOS FAZER UMA DOBRADURA COM CIRCULOS, RECORTE OS CÍRCULOS E MONTE A VAQUINHA NA PÁGINA A SEGUIR:

ORELHAS



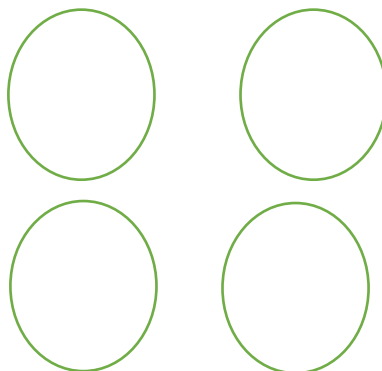

UTILIZE ESSE ESPAÇO PARA DESENHAR O ROSTO DA VACA

OBSERVE O MODELO COMO BASE:



<https://i.pinimg.com/originals/42/3e/24/423e24063d66f4234bcb408bb6ccb4b6.jpg>

CORPO



PATAS



VAMOS MONTAR AQUI SUA VAQUINHA, USE SUA CRIATIVIDADE PARA DECORAR TODO ESPAÇO:

PROFESSORA CAMILA MACHADO 1º ANO

## ATIVIDADES REFERENTE AO DIA 19/05/21


DATA: \_\_\_\_\_

NOME: \_\_\_\_\_

### LÍNGUA PORTUGUESA

COM A AJUDA DE UM ADULTO, FAÇA A LEITURA DO TEXTO:

TAMANDUÁ – BANDEIRA  
FOI À FEIRA  
COMPRAR FORMIGA  
PRA ENCHER A BARRIGA.  
SÓ ENCONTROU VERDUREIRO,  
PASTELEIRO, BANANEIRO,  
BATATEIRO, PEIXEIRO  
E NENHUM FORMIGUEIRO.






Lalau e Laurabeatriz, Barsileirinhos - Poesia para os bichos mais especiais da nossa fauna. São Paulo: Cosac Naif, 2007

### ATIVIDADES DO TEXTO:

1- QUAL É O PERSONAGEM PRINCIPAL DO TEXTO:

- VERDUREIRO
- BATATEIRO
- TAMANDUÁ – BANDEIRA

2- O QUE O TAMANDUÁ FOI COMPRAR NA FEIRA? CIRCULE A IMAGEM CORRESPONDENTE:





3- O TAMANDUÁ ENCONTROU O QUE ELE PROCURAVA?

SIM

NÃO

4- CONTE QUANTAS PALAVRAS O TEXTO TEM? \_\_\_\_\_

5- OBSERVE A PALAVRA:

# TAMANDUÁ

QUANTAS LETRAS TEM?  QUAL A SÍLABA INICIAL?

QUANTAS SÍLABAS TEM NO TOTAL?

6- ESCREVA OUTRAS PALAVRAS QUE COMEÇAM COM A LETRA:



---

---


---

## MATEMÁTICA

LIVRO EMAI PÁGINA 33, SEQUÊNCIA NUMÉRICA.



FIQUE DE OLHO NO GRUPO PARA AS ORIENTAÇÕES DA PROFESSORA.




# ATIVIDADES REFERENTE AO DIA 20/05/21

DATA: \_\_\_\_\_

NOME: \_\_\_\_\_

## LÍNGUA PORTUGUESA

### AJUDE O TAMANDUÁ COM A CRUZADINHA:



<https://i.pinimg.com/564x/9b/5e/fe/9b5efefe3c1fe697e6f7608455b968ed.jpg>


#### BANCO DE PALAVRAS

TOMADA	TATU
TOCA	TOALHA
TRAVESSEIRO	
TARTARUGA	
TUCANO	
TAPETE	
TESOURA	
TELHA	


PROFESSORA CAMILA MACHADO 1º ANO

# MATEMÁTICA

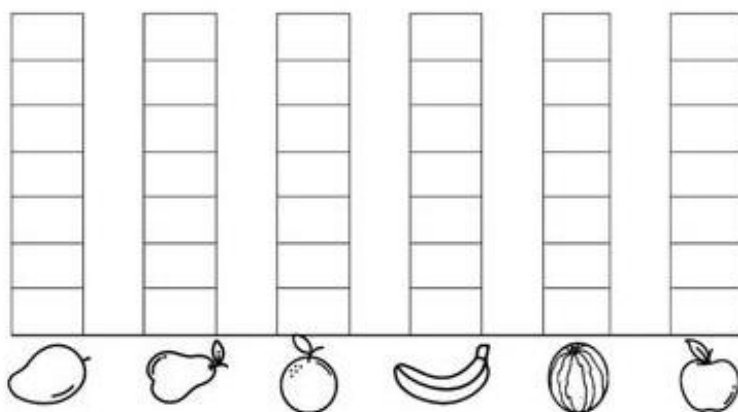
## TRABALHANDO COM GRÁFICO



COMO O TAMANDUÁ NÃO ENCONTROU FORMIGAS PARA COMPRAR NA FEIRA, ELE DECIDIU FAZER UMA COMPRA DE FRUTAS, OBSERVE AS FRUTAS QUE ELE COMPROU:



A) CONTE AS FRUTAS E PINTE O GRÁFICO. DEPOIS RESPONDA AS QUESTÕES PROPOSTAS.



<https://i.pinimg.com/564x/41/4c/37/414c3777d9e83faf4cf365e1e62f7670.jpg>

AGORA RESPONDA:

A) QUAL FRUTA ELE COMPROU EM MAIOR QUANTIDADE?

MANGA  LARANJA  MALANCIA  BANANA

B) O QUE ELE COMPROU EM MENOR QUANTIDADE: PERAS OU MAÇÃS?

\_\_\_\_\_

C) QUAIS FRUTAS ELE COMPROU EM QUANTIDADE IGUAIS?

- ( ) BANANA E LARANJA                      ( ) LARANJA E MANGA  
( ) BANANA E MANGA                      ( ) MAÇÃ E PÊRA


## ATIVIDADES REFERENTE AO DIA 21/05/21

DATA: \_\_\_\_\_

NOME: \_\_\_\_\_

### LÍNGUA PORTUGUESA

#### DITADO RECORTADO




RECORTE E COLE NA FIGURA CORRESPONDENTE:

<b>BANANA</b>	<b>BATATA</b>	<b>FORMIGA</b>
<b>PASTEL</b>	<b>PEIXE</b>	<b>TAMANDUÁ</b>

## HISTÓRIA

LIVRO ÁPIS PÁGINA 12 E 13, A MINHA VIDA DE CRIANÇA.




 FIQUE DE OLHO NO GRUPO PARA AS ORIENTAÇÕES DA PROFESSORA.

### ATIVIDADES REFERENTE AO DIA 24/05/21

DATA: \_\_\_\_\_

NOME: \_\_\_\_\_



## LÍNGUA PORTUGUESA

### TEXTO FATIADO

O TEXTO ESTÁ TODO FORA DE ORDEM, VAMOS COLOCAR NA ORDEM CORRETA.


<b>FOI À FEIRA</b>
<b>PRA ENCHER A BARRIGA.</b>
<b>BATATEIRO, PEIXEIRO</b>
<b>E NENHUM FORMIGUEIRO.</b>
<b>COMPRAR FORMIGA</b>
<b>TAMANDUÁ – BANDEIRA</b>
<b>SÓ ENCONTROU VERDUREIRO,</b>
<b>PASTELEIRO, BANANEIRO,</b>

COLE NA PÁGINA A SEGUIR





**COLE NA ORDEM CORRETA:**





**MATEMÁTICA**

LIVRO EMAI PÁGINA 44, QUANTIDADE.




FIQUE DE OLHO NO GRUPO PARA AS ORIENTAÇÕES DA PROFESSORA.



ATIVIDADES REFERENTE AO DIA 25/05/21

DATA: \_\_\_\_\_

NOME: \_\_\_\_\_




LÍNGUA PORTUGUESA

OBSERVE A FAMÍLIA SILABICA DO T:

**TA – TE – TI – TO – TU**

COMPLETE COM A SÍLABA FALTOSA:



\_\_\_\_\_ PE \_\_\_\_\_



COR \_\_\_\_\_ NA



\_\_\_\_\_ BARÃO



\_\_\_\_\_



\_\_\_\_\_ CANO




BA \_\_\_\_\_

## MATEMÁTICA

LIVRO EMAI PÁGINA 45, SEQUÊNCIA NUMÉRICA.



FIQUE DE OLHO NO GRUPO PARA AS ORIENTAÇÕES DA PROFESSORA.



### ATIVIDADES REFERENTE AO DIA 26/05/21

DATA: \_\_\_\_\_

NOME: \_\_\_\_\_

## ARTES

VAMOS CONFECCIONAR UM TAMANDUÁ-BANDEIRA:

- VOCÊ VAI PRECISAR DE UM ROLINHO DE PAPEL HIGIÊNICO;
- DESENHAR A PATA E O RABO NO SULFITE 180 QUE RECEBERAM;
- DE UM PEDAÇO DE COLOR SET RECEBIDO, PARA FAZER A CABEÇA;
- DO OLHO E DA ORELHA E MUITA CRIATIVIDADE.



<https://i.pinimg.com/originals/74/52/5b/74525bf874b13f06256e6a2de3207bb1.jpg>



FIQUE DE OLHO NO GRUPO PARA AS ORIENTAÇÕES DA PROFESSORA.

OBS: NÃO SE ESQUECER DE ENVIAR FOTOS OU VÍDEOS DA ATIVIDADE PARA A AVALIAÇÃO DA PROFESSORA.

PROFESSORA CAMILA MACHADO 1º ANO


ATIVIDADES REFERENTE AO DIA 27/05/21

DATA: \_\_\_\_\_


NOME: \_\_\_\_\_

LÍNGUA PORTUGUESA

ESCREVA AS PALAVRAS DO SEU JEITINHO:




\_\_\_\_\_




\_\_\_\_\_



\_\_\_\_\_



\_\_\_\_\_



\_\_\_\_\_

# MATEMÁTICA

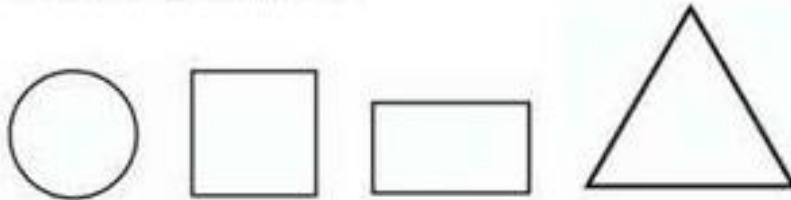
## FIGURAS GEOMÉTRICAS

### BRINCANDO COM FORMAS GEOMÉTRICAS



### BRINCANDO DE: QUAL É A PEÇA?

QUAL É A PEÇA GRANDE COM TRÊS PONTAS?  
PINTÉ – A DE AMARELO.



QUAL É A PEÇA PEQUENA SEM NENHUMA PONTA?  
PINTÉ – A DE AZUL.



QUAL É A PEÇA DE 4 LADOS IGUAIS?  
PINTÉ – A DE VERMELHO.



[HTTPS://I.PINIMG.COM/564X/A2/92/25/A292257A8788B3422262765919C690B4.JPG](https://i.pinimg.com/564x/A2/92/25/A292257A8788B3422262765919C690B4.JPG)



# ATIVIDADES REFERENTE AO DIA 28/05/21

DATA: \_\_\_\_\_

NOME: \_\_\_\_\_

## AVALIAÇÃO – LÍNGUA PORTUGUESA



ESCREVA O SEU NOME AQUI SEM O AUXÍLIO DO CRACHÁ:









COMPLETE AS LETRAS DO ALFABETO QUE FALTAM:

A	○	○	○	E	○	○
○	I	○	○	○	○	○
O	○	○	○	○	○	U
○	○	○	○	○		

[HTTPS://WWW.MESTREDOSABER.COM.BR/WP-CONTENT/UPLOADS/6-ATIVIDADES-COM-ALFABETO.JPG](https://www.mestredosaber.com.br/wp-content/uploads/6-atividades-com-alfabeto.jpg)



ESCREVA A LETRA INICIAL DAS FIGURAS:

	○		○		○
	○		○		○

[HTTPS://WWW.MESTREDOSABER.COM.BR/WP-CONTENT/UPLOADS/6-ATIVIDADES-COM-ALFABETO.JPG](https://www.mestredosaber.com.br/wp-content/uploads/6-atividades-com-alfabeto.jpg)



ESCOLHA O QUADRINHO QUE APARECE SOMENTE LETRAS



PINTE O QUADRO QUE APARECE O NOME DA FIGURA ABAIXO

BONECA

MACACO

PIPOCA

MALA




MARQUE O QUADRO DA FRASE QUE CORRESPONDE A CENA

A VACA VIVE NO MATO

O CAVALO GALOPA

A VACA PULA

O CAVALO É ROXO



MARQUE O QUADRO DAS LETRAS QUE VOU DITAR

M - L - P

R - J - S

D - T - V

B - E - F



**APLICADOR LEIA O TEXTO E PEÇA AO ALUNO PARA MARCAR A OPÇÃO**



O GATO MIMI BEBEU O LEITE NA CASA DA DONA RITA. ELE VIVE COM SONO E COM FOME, MIA PARA LÁ E MIA PARA CÁ. MIMI ADORA RECEBER AFETO.



**QUAIS AS PALAVRAS QUE INICIA E FINALIZA O TEXTO? OU SEJA A PALAVRA QUE COMEÇA E A PALAVRA QUE TERMINA O TEXTO:**

- GATO - SONO
- MIMI - LEITE
- O - AFETO
- BEBEU - CASA



**QUAL A FRASE QUE ESTÁ SEPARADA CORRETAMENTE.**

- O LOBOÉMAU.
- O LOBO É MAU.
- O LOBOÉ MAU.
- OLOBO É MAU.

[HTTPS://4.BP.BLOGSPOT.COM/-DCOA-](https://4.bp.blogspot.com/-DCOA-)

[ZCLKGS/W\\_3G7AUWMNI/AAAAAAAAAZXK/HBPQJVTWOLKD6SDYEJHWU2ROBGV0G1VWWCEWYBHGL/S1600/0003%2B%25285%2529.JPG](https://4.bp.blogspot.com/-DCOA-ZCLKGS/W_3G7AUWMNI/AAAAAAAAAZXK/HBPQJVTWOLKD6SDYEJHWU2ROBGV0G1VWWCEWYBHGL/S1600/0003%2B%25285%2529.JPG)

BOA SORTE

## ATIVIDADES REFERENTE AO DIA 31/05/21

DATA: \_\_\_\_\_


NOME: \_\_\_\_\_

### AVALIAÇÃO – MATEMÁTICA

#### QUESTÃO 1



OBSERVE A FIGURA ABAIXO E MARQUE UM X NA ALTERNATIVA CORRETA.



QUAIS FORMAS GEOMÉTRICAS FORAM UTILIZADAS NO DESENHO DO TRENZINHO?

- A)  TRIÂNGULO, QUADRADO E RETÂNGULO.
- B)  TRIÂNGULO E RETÂNGULO.
- C)  TRIÂNGULO E QUADRADO.
- D)  TRIÂNGULO, RETÂNGULO, QUADRADO E CÍRCULO.

## QUESTÃO 2



PAULO E HENRIQUE FAZEM COLEÇÃO DE CARRINHOS.  
OBSERVE:

PAULO



HENRIQUE



QUANTOS CARRINHOS HENRIQUE POSSUI A MENOS  
QUE PAULO?

- A)  6
  - B)  9
  - C)  2
  - D)  11
- 

## QUESTÃO 3



OBSERVE A SEQUÊNCIA NUMÉRICA:

**20 – 21 – 22 – 23 – 24 – 25 – \_\_\_\_\_**



QUAL SERÁ O PRÓXIMO NUMERAL A SER ESCRITO?

- A)  30
- B)  27
- C)  26
- D)  28



## QUESTÃO 4



OBSERVE O CALENDÁRIO DO MÊS DE JUNHO E RESPONDA:

Domingo	Segunda-feira	Terça-feira	Quarta-feira	Quinta-feira	Sexta-feira	Sábado
						<b>1</b>
<b>2</b>	<b>3</b> ☀️	<b>4</b>	<b>5</b>	<b>6</b>	<b>7</b>	<b>8</b>
<b>9</b>	<b>10</b> 🌙	<b>11</b>	<b>12</b>	<b>13</b>	<b>14</b>	<b>15</b>
<b>16</b>	<b>17</b> ☀️	<b>18</b>	<b>19</b>	<b>20</b> Corpus Christi	<b>21</b>	<b>22</b>
<b>23</b>	<b>24</b>	<b>25</b> 🌙	<b>26</b>	<b>27</b>	<b>28</b>	<b>29</b>
<b>30</b>	12 QUA - Dia dos Namorados 20 QUI - Corpus Christi 24 SEG - Dia de São João					



QUANTOS DOMINGOS TÊM ESSE MÊS?

- A)  4 DOMINGOS.
- B)  3 DOMINGOS.
- C)  5 DOMINGOS.
- D)  6 DOMINGOS.


## QUESTÃO 5



FAÇA UM X NO QUADRADINHO DO OBJETO QUE USAMOS PARA VER A HORA.



A)



B)



C)

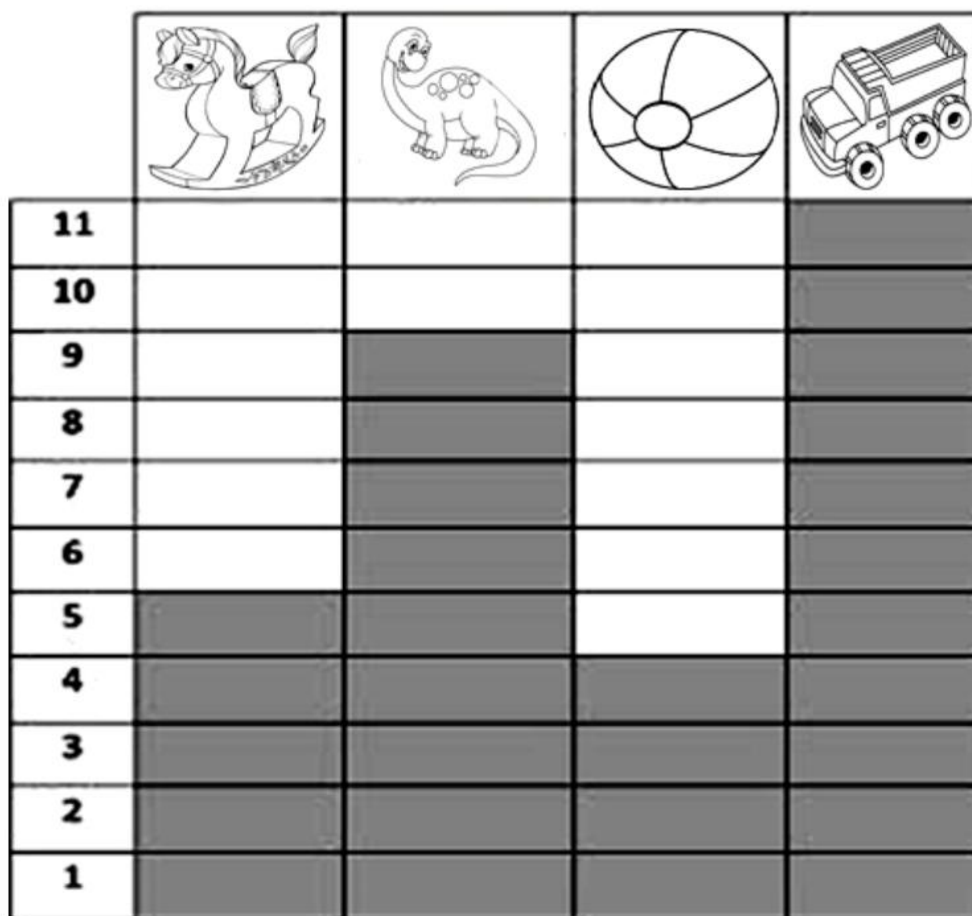



D)

## QUESTÃO 6



CARLOS ADORA BRINQUEDOS. VEJA A QUANTIDADE DE BRINQUEDOS QUE ELE TEM NO GRÁFICO ABAIXO:



DE ACORDO COM O GRÁFICO, RESPONDA:  
QUANTOS DINOSSAUROS CARLOS TÊM?

- A)  9
- B)  12
- C)  7
- D)  3

[HTTPS://1.BP.BLOGSPOT.COM/-](https://1.bp.blogspot.com/)

[TDW3OSE1B0/XQTEGBN8NII/AAAAAADP5Y/6RYTFLOCICWK2FDTFAPFZKE07UD6CRWWCLCBGASYHQ/S1600/20200425\\_210138.JPG](https://1.bp.blogspot.com/-TDW3OSE1B0/XQTEGBN8NII/AAAAAADP5Y/6RYTFLOCICWK2FDTFAPFZKE07UD6CRWWCLCBGASYHQ/S1600/20200425_210138.JPG)