



PREFEITURA DA ESTÂNCIA TURÍSTICA DE  
**IBIÚNA**  
*Por uma Ibiúna próspera. Investindo no presente, gerando o futuro.*  
SECRETARIA DE EDUCAÇÃO



**E.M. "JOANA MARIA DE GÓES"**

**APOSTILA 6**

**ATIVIDADES REMOTAS-REFERENTE AOS DIAS 07,08,09,10,11,14,15,16,17,18 E 19/06 = (11 DIAS).**

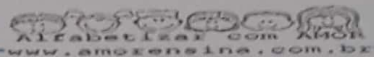
**OBS. 19/06-SÁBADO LETIVO.**

**PROFESSOR (A) LUCIMAR H. DOS SANTOS**



**ALUNO(A)**

Escola \_\_\_\_\_  
Nome: \_\_\_\_\_  
Data: \_\_\_\_/\_\_\_\_/\_\_\_\_


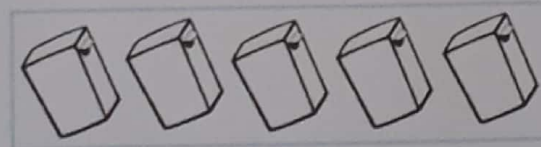



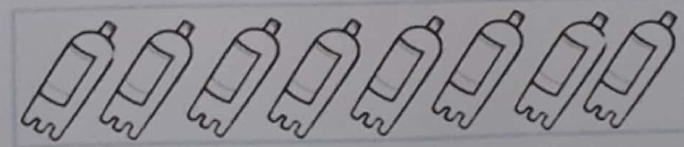
**Matemática e Meio Ambiente limpo**

As crianças da sala da professora Isabel, combinaram de formar grupos para juntar todo o lixo da escola. Hoje é a vez do "grupo 1", que é formado por Renata, Renan, Rafael, Elizabete e Aisha.



Observe que cada criança ficou responsável por um tipo de lixo. Conte e registre a quantidade que cada um juntou.

www.amozensina.com.br

NOME \_\_\_\_\_

SEGUNDA-FEIRA DIA 07 DE JUNHO

1- Vamos descobrir qual o tipo de lixo cada criança ficou responsável!

Vamos rimar para encontrar?

a) Renan escolheu a

b) Renata escolheu a

c) Rafael escolheu o

d) Elizabete escolheu o

e) E Aisha escolheu a

caixa – pet – maçã – lata – papel

2 - Agora escreva o nome de cada criança.












MW • CMOLESIER • COE • AL

NOME \_\_\_\_\_

TERÇA-FEIRA DIA 08 DE JUNHO

3 - Responda de acordo com a tabela de lixo recolhido pelas crianças.

a) De todas as crianças, quem recolheu mais lixo?

\_\_\_\_\_

b) Quem recolheu menos lixo?

\_\_\_\_\_

c) Qual a quantidade de lixo, recolheram as três meninas juntas?

\_\_\_\_\_

d) Qual a quantidade de lixo, recolheram os dois meninos juntos?

\_\_\_\_\_

d) Quem recolheu mais lixo, foram:

( ) as meninas                      ( ) os meninos

4 - Se cada papel que Rafael recolheu, valesse por dois, quantos ele teria recolhido?

( ) 11

( ) 10

( ) 12



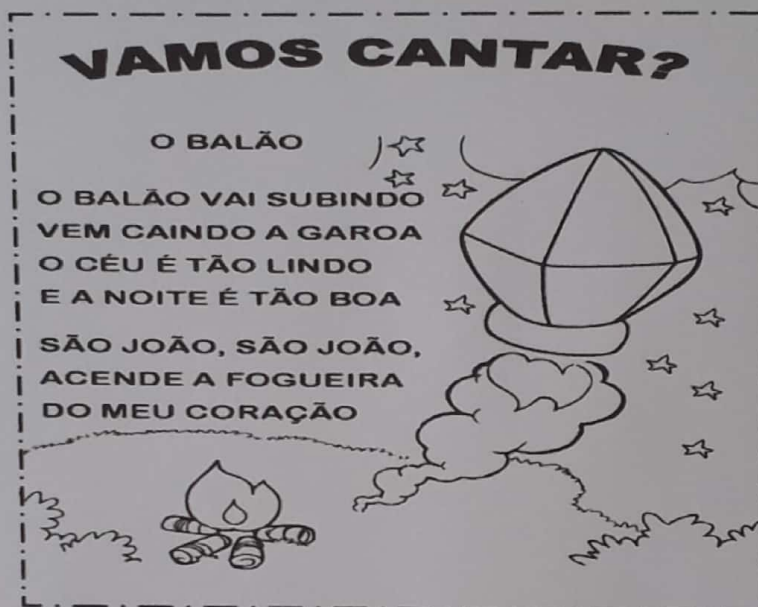
WWW.MEIOAMBIENTE.COM.BR

NOME \_\_\_\_\_

TERÇA-FEIRA DIA 08 DE JUNHO

LÍNGUA PORTUGUESA

1. CANTE A MÚSICA, ACOMPANHANDO A LEITURA COM O DEDO INDICADOR:



2. DE ACORDO COM A MÚSICA, O QUE SOBE EM DIREÇÃO AO CÉU?

- (A) A FOGUEIRA
- (B) O BALÃO
- (C) A GAROA
- (D) O CORAÇÃO

3. E O QUE CAI DO CÉU?

- (A) A FOGUEIRA
- (B) O BALÃO
- (C) A GAROA
- (D) O CORAÇÃO

4. ESSA MÚSICA REPRESENTA QUAL PERÍODO DO DIA?

- (A) NOITE
- (B) MANHÃ
- (C) TARDE
- (D) MANHÃ E NOITE

5. ESSA MÚSICA É UMA TRADIÇÃO DAS FESTAS:

- (A) NATALINAS
- (B) DE ANIVERSÁRIO
- (C) DE PÁSCOA
- (D) JUNINAS

NOME \_\_\_\_\_

## QUARTA-FEIRA DIA 09 DE JUNHO

8. VAMOS ESCRIVER UMA LISTA PARA AJUDAR A MAGALI E O CEBOLINHA A VER O QUE TEM NA FESTA JUNINA. (AUXILIAR A CRIANÇA, QUESTIONANDO QUAL A PALAVRA ELA QUER ESCRIVER NA LISTA, PERGUNTANDO QUANTAS VEZES ABRE A BOCA PARA FALAR ESSA PALAVRA, QUAL A LETRA INICIAL E ASSIM COM TODAS AS LETRAS QUE COMPÕEM CADA SILABA)



1-	7-
2-	8-
3-	9-
4-	10-
5-	11-
6-	12-

9. AGORA VAMOS PINTAR QUAL É A LETRA INICIAL DE CADA ITEM



J	S	Z
---	---	---



M	N	P
---	---	---



B	T	P
---	---	---



P	T	F
---	---	---

NOME \_\_\_\_\_



QUINTA-FEIRA DIA 10 DE JUNHO

SE VAMOS À FESTA ESTÁ FALTANDO BOM VIMOS LÁ, MAS FALTA ORGANIZAR OS OUTROS TONS PARA DEIXAR NOSSA FESTA BOM MONTO! AJUDE O CARIÓ BOMTO A ESCREVER AS PALAVRAS NO LUGAR DEBIDAMENTE. LEIA CADA PALAVRA PARA QUE A ORFografia LOCALIZE E DEPOIS QUESTIONE EM QUAL COLUNA ELA DEVERÁ RESIDIR (VÉ- LA):

- BOCA DO PALHAÇO
- QUINTÃO
- MUCHO COCCO
- PIPOCA
- PÉ DE MOLEQUE
- QUERELHA
- CURIOUZ
- COGADA
- SOLA NA LATA
- CRANICA
- PESCARIA
- REFRIGERANTE

COMIDA	BEBIDA	BRINCADEIRA - DANÇA



11. VAMOS PERCORRER AS PALAVRAS QUE TÊMAM COM O DESENHO NA FESTA JUNINA? UN BEM SENSITIVO FAÇA UM X NA PALAVRA QUE TÊMAM COM CADA UM DESSOS DESENHOS:

SALA  
 BANANA  
 PIÃO

FOGO  
 FIGUEIRA  
 FOGUETE

SANTO  
 SALÃO  
 MAMONA

PRODUÇÃO DE TEXTO: CONTINUE A HISTORIA

\_\_\_\_\_

NOME \_\_\_\_\_



## PRODUÇÃO DE TEXTO

**Continue a história :**



**Era dia de festejos juninos, toda turma da Mônica saiu para se divertir. Cebolinha levou a Magali agarrada em seu braço; comprou milho e pipoca pra ela, tudo parecia ir as mil maravilhas até que ela avistou ...**

---

---

---

---

---

---

---

---

---

---

SEXTA-FEIRA DIA 11 DE JUNHO

COMPLETE COM AS CONSOANTES QUE FALTAM. (AS LETRAS QUE VOCÊ VAI PRECISAR ESTÃO ABAIXO)



	A			O		A
--	---	--	--	---	--	---



	I			O
--	---	--	--	---



A		E			O	I	
---	--	---	--	--	---	---	--



	I		O		A
--	---	--	---	--	---



	A		Ã	O
--	---	--	---	---



	O		U	E	I		A
--	---	--	---	---	---	--	---

S-N-N-N-F-F-M-M-LH-M-D-P-P-C-B-L-G-R

## CAÇA-PALAVRAS.

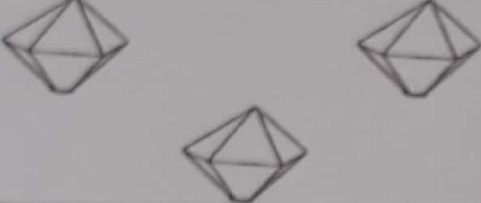


LUAR-BALÃO-PAR-CANJICA-FOGUEIRA-PIPOCA-SANFONA-FORRÓ-QUENTÃO-AMENDOIM- COCADA-FOGUETE.

F	O	G	U	E	I	R	A	S
O	A	T	N	E	U	Q	M	A
G	L	U	A	R	A	C	E	N
U	A	P	A	R	D	O	N	F
E	B	R	O	M	A	C	D	O
T	P	I	P	O	C	A	O	N
E	F	O	R	R	O	D	I	A
C	A	N	J	I	C	A	M	O

NOME \_\_\_\_\_

SEXTA-FEIRA DIA 11 DE JUNHO

VAMOS CONTAR QUANTOS ELEMENTOS TEM EM CADA CONJUNTO E PINTAR O QUADRADINHO COM O NÚMERO CORRESPONDENTE:

	<table border="1"> <tbody> <tr> <td>4</td> <td>5</td> </tr> <tr> <td>3</td> <td>6</td> </tr> </tbody> </table>	4	5	3	6
4	5				
3	6				
	<table border="1"> <tbody> <tr> <td>4</td> <td>5</td> </tr> <tr> <td>3</td> <td>6</td> </tr> </tbody> </table>	4	5	3	6
4	5				
3	6				
	<table border="1"> <tbody> <tr> <td>4</td> <td>5</td> </tr> <tr> <td>3</td> <td>6</td> </tr> </tbody> </table>	4	5	3	6
4	5				
3	6				

18. VAMOS AJUDAR O CHIQUINHO A ORGANIZAR A NOSSA FESTA? SEPRE OS GRUPOS PINTANDO COM AS MESMAS CORES OS ELEMENTOS IGUAIS E RESPONDA:



- |                         |       |
|-------------------------|-------|
| - QUANTAS ESTRELAS?     | _____ |
| - QUANTOS BALÕES?       | _____ |
| - QUANTAS BANDEIRINHAS? | _____ |
| - QUANTOS CORAÇÕES?     | _____ |

SEGUNDA-FEIRA DIA 14 DE JUNHO

### ACRÓSTICO

ESCREVA UMA PALAVRA PARA CADA LETRA DAS FIGURAS JUNINAS.



C \_\_\_\_\_  
 A \_\_\_\_\_  
 N \_\_\_\_\_  
 J \_\_\_\_\_  
 I \_\_\_\_\_  
 C \_\_\_\_\_  
 A \_\_\_\_\_



P \_\_\_\_\_  
 A \_\_\_\_\_  
 M \_\_\_\_\_  
 O \_\_\_\_\_  
 N \_\_\_\_\_  
 H \_\_\_\_\_  
 A \_\_\_\_\_



C \_\_\_\_\_  
 U \_\_\_\_\_  
 S \_\_\_\_\_  
 C \_\_\_\_\_  
 U \_\_\_\_\_  
 Z \_\_\_\_\_



P \_\_\_\_\_  
 I \_\_\_\_\_  
 P \_\_\_\_\_  
 O \_\_\_\_\_  
 C \_\_\_\_\_  
 A \_\_\_\_\_



B \_\_\_\_\_  
 O \_\_\_\_\_  
 L \_\_\_\_\_  
 O \_\_\_\_\_



M \_\_\_\_\_  
 I \_\_\_\_\_  
 L \_\_\_\_\_  
 H \_\_\_\_\_  
 O \_\_\_\_\_



Q \_\_\_\_\_  
 U \_\_\_\_\_  
 E \_\_\_\_\_  
 N \_\_\_\_\_  
 T \_\_\_\_\_  
 A \_\_\_\_\_  
 O \_\_\_\_\_




C \_\_\_\_\_  
 O \_\_\_\_\_  
 C \_\_\_\_\_  
 A \_\_\_\_\_  
 D \_\_\_\_\_  
 A \_\_\_\_\_

NOME \_\_\_\_\_

## SEGUNDA-FEIRA DIA 14 DE JUNHO

19. XI...!!! ALGUÉM QUER COMER TUDO ANTES DA FESTA!!! ANTES QUE ISSO ACONTEÇA, VAMOS CONTAR QUANTAS PIPOCAS TEM NOS SAQUINHOS DA MAGALI? REGISTRE A QUANTIDADE DE CADA SAQUINHO:




QUANTAS PIPOCAS NO TOTAL?

- (A) 23
- (B) 32
- (C) 30
- (D) 28

20. CIRCULE NA SEQUÊNCIA OS NÚMEROS QUE VOCÊ ACABOU DE ESCREVER EM CADA SAQUINHO DE PIPOCA, DA QUESTÃO ANTERIOR:

0 - 1 - 2 - 3 - 4 - 5 - 6 - 7 - 8 - 9 - 10 - 11  
12 - 13 - 14 - 15 - 16 - 17 - 18 - 19 - 20

21. CONTINUE COMPLETANDO OS NUMERAIS EM SEQUÊNCIA ATÉ CHEGAR AO NÚMERO 20.



NOME \_\_\_\_\_

TERÇA-FEIRA DIA 15 DE JUNHO



# ATIVIDADE

ROSINHA EMBARALHOU AS LETRAS  
QUE FORMAM OS NOMES DE  
COMIDAS TÍPICAS JUNINAS.  
VAMOS ORGANIZÁ-LAS NOVAMENTE?

**DICA:**  
É PRECISO UTILIZAR TODAS AS LETRAS.  
NÃO PODE ACRESCENTAR NENHUMA LETRA NOVA

[www.foliaC.nativa/rosinolundamental1.blogspot.com](http://www.foliaC.nativa/rosinolundamental1.blogspot.com)

A H M  
P O  
N A

A C J  
I N C  
A

M U G  
U Á  
Z N

M H  
I L O

U N  
O Q E  
Ã T

C O  
A A  
Ç P

NOME \_\_\_\_\_

TERÇA-FEIRA DIA 15 DE JUNHO

24. CHICO JÁ TINHA GANHADO 3 PRÊMIOS NO BINGO, E LOGO GANHOU MAIS 2! COM QUANTOS PRÊMIOS CHICO FICOU?

- (A) 2
- (B) 3
- (C) 4
- (D) 5

COMO RESOLVE:

25. MAGALI FOI NA BARRACA DOS DOCES E COMPROU 2 DOCES. LOGO, COMPROU MAIS 10. QUANTOS DOCES ELA COMPROU?

- (A) 10 DOCES
- (B) 11 DOCES
- (C) 12 DOCES
- (D) 13 DOCES


COMO RESOLVE:

26. CEBOLINHA TINHA 10 FICHAS PARA GASTAR NA BARRACA E PERDEU 3 FICHAS. COM QUANTAS FICHAS CEBOLINHA FICOU?

- (A) 7 FICHAS
- (B) 6 FICHAS
- (C) 5 FICHAS
- (D) 8 FICHAS

COMO RESOLVE:

O CASCÃO FALOU QUE VAI NOS AJUDAR A FAZER O TRAJE DE ROUPA PARA A NOSSA QUADRILHA JUNINA!!! VAMOS AJUDÁ-LO? OBSERVE A FORMA COMO ELE AGRUPOU OS BOTÕES E RESPONDA.



27. O AGRUPAMENTO DE CASCÃO POSSUI QUANTOS BOTÕES?

- (A) 8 BOTÕES
- (B) 9 BOTÕES
- (C) 10 BOTÕES
- (D) 11 BOTÕES

28. PODEMOS DIZER QUE O CASCÃO AGRUPOU:


- (A) 2 UNIDADES
- (B) 1 DEZENA
- (C) 2 DEZENAS
- (D) 1 CENTENA

QUARTA-FEIRA DIA 16 DE JUNHO

29. QUANTAS UNIDADES FICARAM DE FORA DO AGRUPAMENTO DE CASÇÃO?

- (A) 1 UNIDADE
- (B) 2 UNIDADES
- (C) 3 UNIDADES
- (D) 4 UNIDADES

OBA!!! O TRAJE ESTÁ FICANDO QUASE PRONTO! VAMOS CIRCULAR OS GRUPOS DE 10 BOTÕES PARA O CASÇÃO TERMINAR OS ÚLTIMOS AJUSTES.



30. QUANTOS GRUPOS VOCÊ FORMOU?

- (A) 2 GRUPOS
- (B) 3 GRUPOS
- (C) 4 GRUPOS
- (D) 5 GRUPOS

31. IRRÁ!!!! AGORA FALTA ARRUMAR A CASA E DEIXAR BEM ALEGRE PARA A FESTA!!!

"O BAILE LÁ NA ROÇA FOI ATÉ O SOL RAIAR  
A CASA ESTAVA CHEIA, MAL SE PODIA ANDAR"



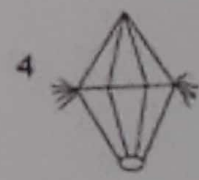

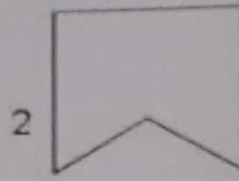





QUARTA-FEIRA DIA 16 DE JUNHO

### ATIVIDADE

PROCURE NO BANCO DE PALAVRAS O NOME DAS FIGURAS QUE APARECEI NA CRUZADINHA E PREENCHA OS QUADRINHOS. FIQUEM ATENTOS A QUANTIDADE DE LETRAS DE CADA PALAVRA.



5 LETRAS	6 LETRAS	7 LETRAS	8 LETRAS	11 LETRAS
FOGÃO BICÃO BALÃO	PEPINO CAVALO CHAPÉU PIPOCA	SANFONA SORVETE CORAÇÃO	FANTASMA FOGUEIRA BEIJINHO	PANDEIRINHO BANDEIRINHA

NOME \_\_\_\_\_

QUINTA-FEIRA DIA 17 DE JUNHO

32. VAMOS ANALISAR O NOSSO ARRAIÁ!!! CONTE CADA ELEMENTO E PINTE NO GRÁFICO, A QUANTIDADE CORRESPONDE:



AGORA PINTE O GRÁFICO DE FORMA CORRETA:



33. QUAL FOI O ELEMENTO DE MAIOR QUANTIDADE, PINTADO NO GRÁFICO?

- (A) BANDEIRINHA
- (B) ESTRELA
- (C) BALÃO
- (D) FOGUEIRA

34. E QUAL FOI O ELEMENTO DE MENOR QUANTIDADE, PINTADO NO GRÁFICO?

- (A) BANDEIRINHA
- (B) ESTRELA
- (C) BALÃO
- (D) FOGUEIRA

NOME \_\_\_\_\_

QUINTA-FEIRA DIA 17 DE JUNHO

**CIÊNCIAS HUMANAS E DA NATUREZA**

VOCÊ JÁ APRENDEU MUITAS COISAS SOBRE AS FESTAS JUNINAS. VAMOS APRENDER MAIS UM POUQUINHO? LEIA O TEXTO PARA A CRIANÇA:

**FESTA JUNINA E TRADIÇÕES**



ANTIGAMENTE OS FAZENDEIROS, PARA A SUA SOBREVIVÊNCIA, TINHAM QUE PLANTAR OS SEUS ALIMENTOS. NA ÉPOCA CERTA, FAZIAM A COLHEITA COM FARTURA E PARA COMEMORAR E AGRADECER A COLHEITA FARTA, SE REUNIAM PARA UMA GRANDE FESTA, COM MUITA DANÇA, ENFEITES E MUITA COMIDA. COMO O MÊS DE JUNHO É A ÉPOCA DA COLHEITA DO MILHO, GRANDE PARTE DOS DOCES, BOLOS E SALGADOS, RELACIONADOS ÀS FESTIVIDADES, SÃO FEITOS DESTE ALIMENTO. ALÉM DAS RECEITAS COM MILHO, TAMBÉM FAZEM PARTE DO CARDÁPIO DESTA ÉPOCA, O ARROZ DOCE, A BROA, A COCADA, A PAÇOCA E MUITO MAIS.

ASSIM SURGIRAM AS FESTAS JUNINAS PARA ALEGRAR TODOS OS POVOS.

35. A FESTA JUNINA TEM ESSE NOME PORQUE ACONTECE NO MÊS:

- (A) MAIO
- (B) JUNHO
- (C) AGOSTO
- (D) JULHO

36. A ROUPA USADA, TRADICIONALMENTE, PARA DANÇAR QUADRILHA É A:

- (A) SHORTS E CAMISETA LONGA
- (B) BLUSA E REGATA VERMELHA
- (C) CAMISA XADREZ E VESTIDO DE CHITA
- (D) VESTIDO DE NOIVA

37. NA FESTA JUNINA, A MÚSICA TRADICIONALMENTE MAIS TOCADA É:

- (A) CANTIGAS, MODA DE VIOLA, FORRÓ
- (B) MODA DE VIOLA, ROCK E SAMBA
- (C) ROCK, FORRÓ, TANGO
- (D) SAMBA, AXÉ, ROCK

NOME \_\_\_\_\_

SEXTA-FEIRA DIA 18 DE JUNHO



AGORA FAÇA UMA LISTA COM OS ERROS QUE VOCÊ ENCONTROU.

---

---

---

---

---

---

---

---

ESCREVA UMA FRASE COM A CENA ACIMA.

---

---

---

---

NOME \_\_\_\_\_

SEXTA-FEIRA DIA 18 DE JUNHO

ARME E RESOLVA:

$34 + 9 =$

<b>D</b>	<b>U</b>

$27 + 5 =$

<b>D</b>	<b>U</b>

$76 + 2 =$

<b>D</b>	<b>U</b>

$70 + 8 =$

<b>D</b>	<b>U</b>



$11 + 24 =$

<b>D</b>	<b>U</b>

$29 + 20 =$

<b>D</b>	<b>U</b>

$45 + 23 =$

<b>D</b>	<b>U</b>

$41 + 24 =$

<b>D</b>	<b>U</b>

$50 + 15 =$

<b>D</b>	<b>U</b>

$15 + 34 =$

<b>D</b>	<b>U</b>

$47 + 17 =$

<b>D</b>	<b>U</b>

$13 + 25 =$

<b>D</b>	<b>U</b>

$68 - 22 =$

<b>D</b>	<b>U</b>

$79 - 51 =$

<b>D</b>	<b>U</b>

$68 - 35 =$

<b>D</b>	<b>U</b>

$88 - 25 =$

<b>D</b>	<b>U</b>

$89 - 51 =$

<b>D</b>	<b>U</b>

$88 - 43 =$

<b>D</b>	<b>U</b>

$96 - 25 =$

<b>D</b>	<b>U</b>

$67 - 43 =$

<b>D</b>	<b>U</b>

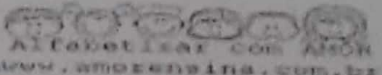
NOME \_\_\_\_\_

SEXTA-FEIRA DIA 18 DE JUNHO

ESCOLA \_\_\_\_\_

NOME: \_\_\_\_\_


DATA: \_\_\_\_/\_\_\_\_/\_\_\_\_





OBA! MÊS DE JUNHO TEM FESTA!





VAMOS REESCREVER AS FRASES TROCANDO OS DESENHOS POR PALAVRAS!

- O  VAI SUBINDO!


\_\_\_\_\_

- JÚLIA COMPROU  NA .

\_\_\_\_\_

-  DANÇOU QUADRILHA COM .

\_\_\_\_\_

- O MENINO PULOU A .

\_\_\_\_\_

www.amorezinha.com.br

NOME \_\_\_\_\_

SABADO DIA 19 DE JUNHO

ESCOLA \_\_\_\_\_


NOME: \_\_\_\_\_

DATA: \_\_\_\_/\_\_\_\_/\_\_\_\_


 Alfabetizar com AMOR  
 www.amorensina.com.br

## MATEMÁTICA NA FESTA JUNINA

CEBOLINHA E MAGALI FORAM COMPRAR PIPOCAS NA  
BARRAQUINHA DA FESTA JUNINA.



- 1) QUANTOS SAQUINHOS DE PIPOCAS TEM ACIMA?  
 1 DÚZIA                       1 DEZENA
- 2) DISTRIBUA IGUALMENTE OS SAQUINHOS DE PIPOCAS ENTRE  
MAGALI E CEBOLINHA. FAÇA UMA LINHA LIGANDO.
- 3) QUANTOS SAQUINHOS DE PIPOCAS GANHOU CADA?  
 5 SAQUINHOS       4 SAQUINHOS       6 SAQUINHOS
- 4) CEBOLINHA DEU 3 SAQUINHOS DE PIPOCAS PARA CASCÃO.  
QUANTOS SAQUINHOS SOBRARAM?
- 5) MAGALI COMEU TODOS OS SAQUINHOS DE PIPOCAS DELA E MAIS 2  
DO CEBOLINHA. QUANTOS ELA COMEU AO TODO?
- 6) NO FINAL, CEBOLINHA FICOU COM  SAQUINHO DE PIPOCAS.

www.amorensina.com.br

NOME \_\_\_\_\_

SÁBADO DIA 19 DE JUNHO

COPIE O ALFABETO, BEM CAPRICHADO.

a b c d e f g h i

Blank handwriting practice lines.

j k l m n o p q r

Blank handwriting practice lines.

s t u v w x y z

Blank handwriting practice lines.

A B C D E F G H I

Blank handwriting practice lines.

J K L M N O P Q R

Blank handwriting practice lines.

S T U V W X Y Z

Blank handwriting practice lines.

NOME \_\_\_\_\_





LIVRO DE LEITURA

TITULO: \_\_\_\_\_

VOCÊ GOSTOU DO LIVRO? \_\_\_\_\_

O QUE MAIS TE CHAMOU A ATENÇÃO? \_\_\_\_\_

\_\_\_\_\_  
\_\_\_\_\_  
\_\_\_\_\_

FAÇA UM DESENHO DA PÁGINA DO LIVRO QUE VOCÊ MAIS GOSTOU.

NOME \_\_\_\_\_



PREFEITURA DA ESTÂNCIA TURÍSTICA DE  
**IBIÚNA**  
*Por uma Ibiúna próspera. Investindo no presente, gerando o futuro.*  
SECRETARIA DE EDUCAÇÃO



E.M. "JOANA MARIA DE GÓES"

PROFESSORA: LUCIMAR H. DOS SANTOS

#### REFERÊNCIAS

- [www.amorensina.com.br](http://www.amorensina.com.br)
- [www.espacoeducar.net](http://www.espacoeducar.net)
- Coleção. Zigue-zague: caligrafia: ensino fundamental
- Apostila junina (PDF)