



Prefeitura da Estância Turística de

IBIÚNA

TRANSFORMAÇÃO RESPONSÁVEL. CUIDANDO DE PESSOAS.

Av. São Sebastião, 192. 4º Piso. Centro. Fones: (15) 3248 1292. 3248 1574. Email: apoiopedagogicosmeibiuna@hotmail.com



EM TEREZA FALCI

EM BAIRRO RECANTO PRIMAVERA

2º BIMESTRE

BLOCO 6 07/06 A 19/06



NOME: _____

PROFESSORA MIÚCHA

1º ANO

2021

ORIENTAÇÕES IMPORTANTES:

- ✓ **RESERVAR UM LUGAR LIMPO E TRANQUILO PARA REALIZAÇÃO DAS ATIVIDADES**
- ✓ **NÃO DEIXE AS ATIVIDADES ACUMULAREM, RESERVE UM TEMPO DIÁRIO**
- ✓ **AJUDAR NÃO É REALIZAR A ATIVIDADE PELA CRIANÇA! SE NECESSÁRIO SOLICITE AJUDA E LEMBRE-SE ESTOU A DISPOSIÇÃO PARA TIRAR DÚVIDAS, ME PROCURE NO WHATSAPP**
- ✓ **REALIZE SUAS ATIVIDADES COM CAPRICHOS!**
- ✓ **FIQUE DE OLHO NO GRUPO DE WHATSAPP, PARTICIPE!!!**

SUA PARTICIPAÇÃO É MUITO IMPORTANTE!!!

**LEMBRE-SE ESTAMOS JUNTOS POR UM BEM COMUM, O MELHOR PARA AS CRIANÇAS
INCENTIVE A LEITURA, LEIAM COM AS CRIANÇAS!**

**APROVEITEM CADA MOMENTO EM CASA, PARA QUE ELES PERCEBAM A IMPORTÂNCIA
DE ESTUDAR E TENHAM PRAZER EM REALIZAR SUAS ATIVIDADES**

AOS PAIS:

**OBRIGADA POR SUA DEDICAÇÃO E EMPENHO, SEM ISSO MEU TRABALHO SERIA
IMPOSSÍVEL!!!!**

PROFª MIÚCHA

ROTEIRO DE REALIZAÇÃO DAS ATIVIDADES NO LIVRO DIDÁTICO:

AVISO IMPORTANTE:

- ✓ **CUIDE DO SEU LIVRO**
- ✓ **MANTENHA-O LIMPO E SEM RASGAR**
- ✓ **A PROFEESORA ENVIOU SEU LIVRO EM UMA SACOLINHA E É NELA QUE SEU LIVRO DEVE RETORNAR PARA CORREÇÃO**
- ✓ **NÃO PERCA SEU LIVRO**

ATIVIDADES DESSE BLOCO:

- ✓ **LÍNGUA PORTUGUESA**

- **PÁGINAS 12 A 15**

**LEITURA DA CAPA DO LIVRO
REALIZAR AS ATIVIDADES 1,2,3,4 E 5**

- **PÁGINAS 16 E 17**

LEITURA

PREENCHER A FICHA PESSOAL

- **PÁGINAS 18 E 19**

LETRAS DAS IMAGENS E DO TEXTO

DIFERENCIAÇÃO LETRA, NÚMERO E SÍMBOLO

- **PÁGINAS 20 E 21**

LEITURA DO ALFABETO

VOGAIS

- **PÁGINAS 24 A 26**

ATIVIDADES COM CAPA DE LIVRO

- **PÁGINAS 27 A 29**

ATIVIDADES COM A VOGAL A

- PÁGINAS 30 E 31

ATIVIDADES COM A VOGAL O

- PÁGINAS 32 E 33

ATIVIDADES COM A VOGAL I

✓ MATEMÁTICA

- PÁGINAS 33 A 35

QUANTIDADES

REPRESENTAÇÃO DE QUANTIDADES

- PÁGINAS 36 A 38

NÚMERO 1,2 E 3

- PÁGINAS 39

NÚMERO 4

- PÁGINAS 41

NÚMERO 5

- PÁGINAS 43

PESQUISA, GRÁFICOS E NÚMEROS

- PÁGINAS 44 A 46

NÚMERO 0

REALIZAR AS ATIVIDADES 1,2,3,4 E 5

NÚMERO 6

- PÁGINAS 48 A 51

NÚMERO 7 E 8

JOGO DOS 8 ERROS

- PÁGINAS 52 A 55

NÚMERO 9 E 10


REALIZAR PESQUISA E GRÁFICO

OBS: AGUARDE VÍDEO AULA EXPLICATIVA NO NOSSO GRUPO

BONS ESTUDOS!!!!!!

NOME: _____

DATA _____

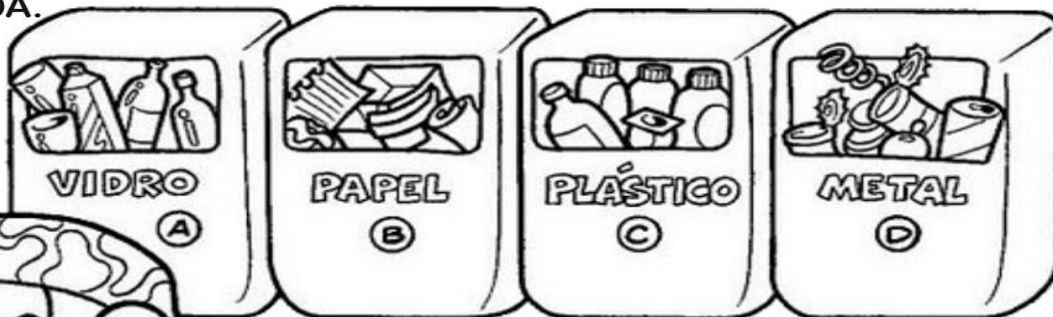


Meio Ambiente

Nome:

Atividade

1. OBSERVE A CENA E PINTE CORRETAMENTE DE ACORDO COM A LEGENDA.



-  PAPEL
-  PLÁSTICO
-  VIDRO
-  METAL

2. COM AJUDA DO ALFABETO MÓVEL ESCREVA A FRASE «SALVE O PLANETA!» E COLE NO QUADRO:

NOME: _____

DATA _____

SEMANA DO MEIO AMBIENTE

NOME

PROFESSOR(A)



FIQUE DE OLHO!

COM AJUDA DO ALFABETO MÓVEL MONTE O NOME DO PLANETA EM QUE VIVEMOS E COLE NO QUADRO.

COMPLETE CORRETAMENTE:

APARECE NO NOME DE
MEU PLANETA ...

Nº DE LETRAS


Nº DE VOGAIS

Nº DE CONSOANTES



NOME: _____

DATA



- PÁGINAS 12 A 15

LEITURA DA CAPA DO LIVRO

REALIZAR AS ATIVIDADES 1,2,3,4 E 5

- PÁGINAS 16 E 17

LEITURA

PREENCHER A FICHA PESSOAL

- PÁGINAS 18 E 19

LETRAS DAS IMAGENS E DO TEXTO


DIFERENCIAÇÃO LETRA, NÚMERO E SÍMBOLO

AGUARDE VÍDEO EXPLICATIVO NO GRUPO

NOME: _____

DATA _____

Recorte e cole seguindo a ordem correta dos numerais.




1	2		4		6
8	9		11	12	13
5		7		9	10
12	13		15		17
15	16	17		19	20

Ms Makinson TpT, 2014

3	10	6	5	14	8	16	18
---	----	---	---	----	---	----	----

NOME: _____

DATA



- **PÁGINAS 20 E 21**

LEITURA DO ALFABETO

VOGAIS

AGUARDE VÍDEO AULA EXPLICATIVA NO GRUPO

NOME: _____

DATA

ATIVIDADE


EU SOU: _____

CADÊ AS VOGAIS?

1- COMPLETE AS PALAVRAS ABAIXO COM AS LETRAS FALTOSAS.



_____ B _____ LH _____




B _____ N _____ N _____



B _____ RC _____




B _____ RB _____ L _____ T _____



_____ V _____ _____ _____

NOME: _____

DATA



- **PÁGINAS 33 A 35**

QUANTIDADES

REPRESENTAÇÃO DE QUANTIDADES

AGUARDE VÍDEO AULA EXPLICATIVA NO GRUPO

NOME: _____

DATA _____

OS NOSSOS CINCO SENTIDOS

É ATRAVÉS DOS SENTIDOS QUE PERCEBEMOS O MUNDO AO NOSSO REDOR.

TEMOS CINCO SENTIDOS:


- **VISÃO:** PARA VERMOS USAMOS OS **OLHOS**
- **OLFATO:** PARA SENTIR O CHEIRO USAMOS O **NARIZ**
- **AUDIÇÃO:** PARA ESCUTAR OS SONS USAMOS OS **OUVIDOS**
- **PALADAR:** PARA SENTIR O SABOR USAMOS A **LÍNGUA**
- **TATO:** COM A **PELE** SENTIMOS OS OBJETOS

Escola: _____
 Data: _____ Turma: _____ EducacaoeTransformacao.com.br
 Aluno: _____

VAMOS PROCURAR AS PALAVRAS:




B	N	O	L	H	O	D
N	A	R	I	Z	D	O
T	Y	U	D	G	P	É
T	R	D	M	Ã	O	V
A	B	O	C	A	Y	X
O	R	E	L	H	A	C



NOME: _____

DATA



- **PÁGINAS 36 A 38**

NÚMERO 1,2 E 3

- **PÁGINAS 39**

NÚMERO 4

- **PÁGINAS 41**

NÚMERO 5


AGUARDE VÍDEO AULA EXPLICATIVA NO GRUPO

NOME: _____

DATA _____


NOME: _____

ABELHA	ELEFANTE	IOIÔ	UNHA
ALFACE	ESCADA	OLHO	URUBU
ALHO	ESPELHO	OVELHA	



NOME: _____

DATA




- **PÁGINAS 43**

PESQUISA, GRÁFICOS E NÚMEROS

AGUARDE VÍDEO AULA EXPLICATIVA NO GRUPO

NOME: _____

DATA



- PÁGINAS 24 A 26

ATIVIDADES COM CAPA DE LIVRO

AGUARDE VÍDEO AULA EXPLICATIVA NO GRUPO

NOME: _____

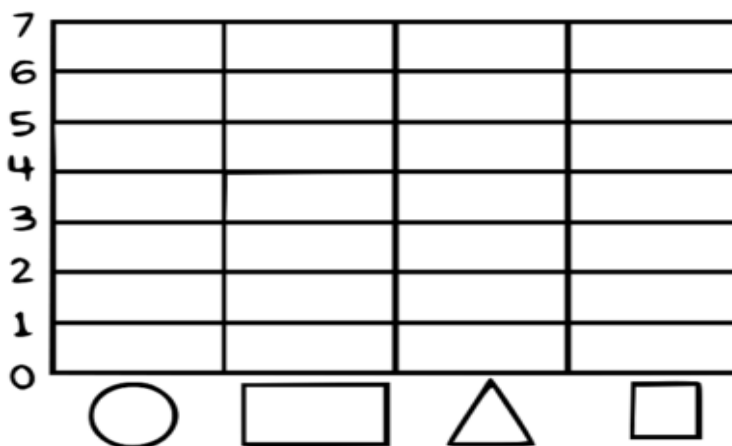

DATA

ESCOLA: _____

NOME: _____


DATA: ____/____/____

- REALIZE A CONTAGEM E PINTE O GRÁFICO ABAIXO DE ACORDO COM A LEGENDA.



NOME: _____

DATA



- **PÁGINAS 27 A 29**

ATIVIDADES COM A VOGAL A

AGUARDE VÍDEO AULA EXPLICATIVA NO GRUPO

NOME: _____

DATA _____

ESCOLA: _____

NOME: _____

DATA: ____/____/____




PARTES DE UMA CASA

1 - OBSERVE O DESENHO E COMPLETE.

A - ESTE DESENHO MOSTRA AS PARTES DE UMA: _____

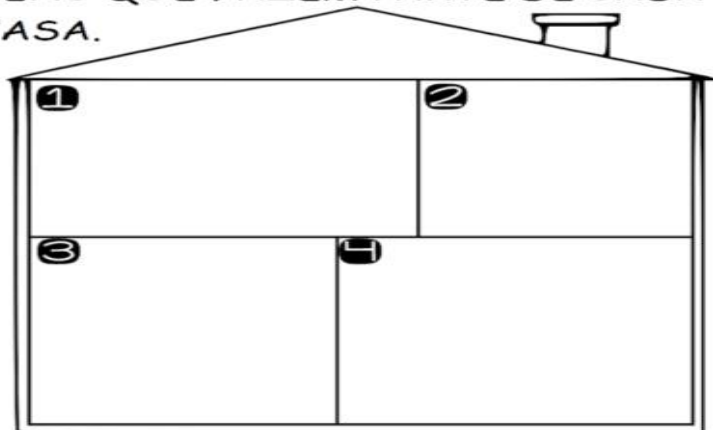
B - ESTAS PARTES CHAMAM-SE: _____

C - ESTA CASA TEM _____ CÔMODOS.



2 - DESENHE OS ITENS QUE FAZEM PARTE DE CADA CÔMODO DE UMA CASA.


- 1 QUARTO
- 2 BANHEIRO
- 3 COZINHA
- 4 SALA



NOME: _____

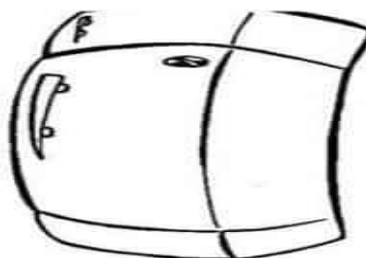
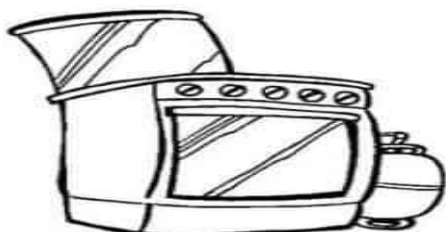
DATA

DESENHE SUA CASA NO ESPAÇO ABAIXO




ESCOLA _____ DATA: ____ / ____ / ____
PROF: _____ TURMA: _____
NOME: _____

FAÇA UM X NO OBJETO QUE NÃO UTILIZAMOS NA COZINHA.



NOME: _____

DATA



- PÁGINAS 30 E 31

ATIVIDADES COM A VOGAL O

- PÁGINAS 32 E 33


ATIVIDADES COM A VOGAL I

AGUARDE VÍDEO EXPLICATIVO NO GRUPO

NOME: _____

DATA

7 - VOCÊ FAZ PARTE DE UMA FAMÍLIA. DESENHE SUA FAMÍLIA NO ESPAÇO ABAIXO.



8 - MARQUE AS PESSOAS QUE TAMBÉM FAZEM PARTE DE SUA FAMÍLIA.

() PAI

() MÃE

() PADRASTO

() MADRASTA

() IRMÃO

() IRMÃ

() AVÓ

() AVÔ


() TIA

() TIO



NOME: _____

DATA



- PÁGINAS 44 A 46

NÚMERO 0

REALIZAR AS ATIVIDADES 1,2,3,4 E 5

NÚMERO 6

AGUARDE VÍDEO AULA EXPLICATIVA NO GRUPO

NOME: _____

DATA _____

NOME: _____
DATA _____



LIGUE JUNINO



PIPOCA



BANDEIRINHA



FOGUEIRA



SANFONA




BARRAQUINHA



BALÃO

NOME: _____

DATA



- **PÁGINAS 48 A 51**

NÚMERO 7 E 8

JOGO DOS 8 ERROS

AGUARDE VÍDEO AULA EXPLICATIVA NO GRUPO

NOME: _____

DATA



ESCOLA: _____


NOME: _____

ANO: _____ TURMA: _____ DATA / /



FESTA JUNINA

COMPLETE COM AS VOGAIS OS NOMES DAS FIGURAS ABAIXO:



B R R Q U N H



Q U N T



P P C



S N F N R



V L R



C C H R R - Q U N T



Q U D R L H




N V S



© direitos reservados www.diretoeducar.com.br

NOME: _____

DATA



- **PÁGINAS 52 A 55**

NÚMERO 9 E 10


REALIZAR PESQUISA E GRÁFICO






OBS: AGUARDE VÍDEO AULA EXPLICATIVA NO NOSSO GRUPO

NOME: _____

DATA __/05/2021

QUANTOS DOCES GOSTOSOS! SÃO PARA A FESTA JUNINA!
VAMOS CONTAR QUANTOS DOCES TÊM EM CADA BANDEJA!




NOME: _____

DATA _____

JOGO DA TRILHA



A	A	A	B	B	C	C	D
D	E	E	E	F	F	G	G
H	H	I	I	I	J	J	L
L	M	M	N	N	O	O	O
P	P	Q	Q	R	R	S	S
T	T	U	U	U	V	V	X
X	Z	Z	W	K	Y	B	C
D	F	G	H	J	L	M	N
P	Q	R	S	T	V	X	Z
A	E	I	O	U	A	A	E
E	I	I	O	O	U	U	B
C	D	F	G	H	J	L	M

BIBLIOGRAFIA:

- www.pinterest.com.br
- LIVRO ÁPIS 1º ANO