


E.M. "Vereador Lourival Correia de Araújo"

Nome: _____

PROFESSORA -ª MARIA DE FÁTIMA

3º ANO B



6º Remessa

Atividades referentes a 07, 08, 09, 10, 11, 14, 15, 16, 17,18 e 19/06.

E.M. "Vereador Lourival Correia de Araújo"

Nome: _____

Data: 07/06

A BICHARADA ATRAPALHADA

NUM LUGAR MUITO DISTANTE
ATRÁS DO MORRO MOLHADO
EXISTE UMA FLORESTA
ONDE TUDO É TROCADO.

OS ANIMAIS SÃO DIFERENTES
NUNCA VI NENHUM IGUAL
E TODOS VIVEM CONTENTES
POIS ACHAM TUDO NORMAL.

A ZEBRA É TODA PINTADA
E A GIRAFA LISTRADA
O MACACO NÃO TEM CAUDA
O ELEFANTE É BEM MAGRO.

A ONÇA ANDA BEM DEVAGAR
O HIPOPÓTAMO CORRE SEM PARAR
O COELHO ANDA SE ARRASTANDO
E A TARTARUGA SALTANDO.

PAPAGAIO NÃO SABE FALAR
E O PAVÃO VIVE A TAGARELAR
OS PEIXES SABEM VOAR
E OS PASSARINHOS A NADAR.

AVESTRUZ NÃO SABE CORRER
A CORUJA PODE MORDER
O PATO SABE CACAREJAR
E A CIGARRA VIVE A PIAR.

QUE ALI PASSAR
VAI FICAR ADMIRADO
DE VER QUE NUMA FLORESTA
SÓ TEM BICHO ATRAPALHADO.

SOLANGE VALADARES

E.M. "Vereador Lourival Correia de Araújo"

Nome: _____

Data: 07/06

INTERPRETAÇÃO DO TEXTO

1) QUAL O TÍTULO DO TEXTO?

2) QUAL O NOME DE SUA AUTORA?

3) QUANTAS LINHAS E QUANTAS ESTROFES TEM O TEXTO?

4) ESCREVA SEGUNDO O TEXTO O QUE ACONTECE COM:

- A ONÇA _____
- O PAPAGAIO _____
- OS PEIXES _____
- O AVESTRUZ _____
- O PATO _____
- O HIPOPÓTAMO _____

5) CITE DUAS RIMAS DAS SEGUINTE ESTROFES:

1º _____

3º _____

5º _____

7º _____

6) ESCREVA AS PALAVRAS GIRAFA, ZEBRA, CORUJA, AVESTRUZ, PATO, PAPAGAIO, COELHO, PAVÃO, ONÇA, PEIXE, HIPOPÓTAMO, NO PLURAL.



E.M. "Vereador Lourival Correia de Araújo"

Nome: _____

Data: 07/06








SITUAÇÕES PROBLEMAS

- 1) O ÔNIBUS DA ESCOLA DE MARIANA TEM CAPACIDADE PARA 50 ALUNOS. EM UMA EXCURSÃO PARA O ZOOLOGICO FORAM APENAS 38 ALUNOS. QUANTOS ALUNOS FALTARAM PARA COMPLETAR O ÔNIBUS?
- 2) EM UMA ALA DO ZOOLOGICO, HÁ 125 CANÁRIOS E 12 ARARAS. QUANTAS AVES HÁ NESTA ALA?
- 3) A TURMA DE LUCIANO E CLÁUDIA, FORAM FAZER UM PASSEIO NO ZOOLOGICO. OS AMIGOS DE LUCIANO, FOTOGRAFARAM 100 ANIMAIS. E OS AMIGOS DE CLÁUDIA, FOTOGRAFAM 134. QUANTAS FOTOGRAFIAS A TURMA DE CLÁUIDA FOTOGRAFOU A MAIS QUE A TURMA DE LUCIANO?
- 4) NO ZOOLOGICO TEM 3 SETORES DE BORBOLETAS DE DIFERENTES ESPÉCIES. EM CADA SETOR, TEM 90 BORBOLETAS. QUAL O TOTAL DESSE BORBOLETÁRIO?

Data: 08/06

CURIOSIDADES VITAIS

Conheça o tempo de vida de alguns animais:

	Cavalo – 30 anos
	Gato – 15 anos
	Tartaruga – 100 anos
	Elefante – 60 anos
	Camelo – 40 anos
	Rato – 3 anos
	Galinha – 7 anos

De acordo com as informações acima, responda:

- 1- Qual o mamífero que vive mais tempo? _____
- 2- E o mamífero que vive menos tempo? _____
- 3- Qual é o réptil que pode chegar a viver um século? _____



Você sabia que o ciclo vital dos seres vivos vai do nascimento até a morte?

E.M. "Vereador Lourival Correia de Araújo"

Nome: _____

Data: 08/06

RECORDE DOS ANIMAIS

OBSERVE A TABELA ABAIXO E RESPONDA AS PERGUNTAS

ANIMAL	RECORDE	TAMANHO	ALIMENTAÇÃO	AMBIENTE
ELEFANTE	MAIOR DA TERRA	3,5 METROS DE ALTURA. 6000 QUILOS	CAPIM, PLANTAS, FOLHAGENS, CASCA DE ÁRVORES	ÁFRICA
GIRAFÁ	MAIS ALTO	5,5 METROS DE ALTURA. 1800 QUILOS	FOLHAS, CASCAS DE ÁRVORES, SEMENTES E FRUTAS	ÁFRICA
BALEIA AZUL	MAIOR DO MAR E DA TERRA	33 METROS DE COMPRIMENTO. 150 TONELADAS	PEQUENOS CRUSTÁCEOS MARINHOS	OCEANOS ATLÂNTICO E PACÍFICO
GUEPARDO	MAIS VELOZ	1,4 METROS DE COMPRIMENTO SEM CORTAR A CAUDA	COELHOS, ANTÍLOPES, ANIMAIS DE PASTO	ÁFRICA
CARAMUJO	MAIS LENTO	0,6 A 5 CENTÍMETROS	ALGAS, PLANTAS DECOMPOSTAS	TODOS OS CONTINENTES, MENOS ANTÁRTIDA
TARTARUGA	VIDA MAIS LONGA	1,5 METROS DE COMPRIMENTO	FOLHAS, SEMENTES E FRUTAS	ILHAS GALÁPAGOS

1) O QUE DIZ A TABELA ACIMA SOBRE A ALIMENTAÇÃO DO MAIS LENTO DE TODOS OS ANIMAIS?

2) O QUE DIZ A TABELA SOBRE O ANIMAL MAIS VELOZ DE TODOS? ALIMENTAÇÃO-

3) QUAL É O TAMANHO DO MAIOR ANIMAL DA TERRA? _____

4) QUAIS OS ANIMAIS QUE TÊM COMO AMBIENTE A ÁFRICA?

5) QUAL ANIMAL QUE TEM A VIDA MAIS LONGA? _____

6) QUAL ANIMAL MAIS ALTO DA TERRA? _____

E.M. "Vereador Lourival Correia de Araújo"

Nome: _____

Data: 09/06

◉ Casamento na Mata

Hoje a mata está em festa
Todos estão a comemorar
Pois o pardal e a pardoca
Resolveram se casar

O padrinho e a madrinha
Foram o zangão e a abelha
Que vieram de carona
Com o carneiro e a ovelha

E todos os casais da mata
Até o bode e a cabra
Viraram a noite inteira
Dançando na festa animada.



Graça Batituci

♦ Colorir no texto os masculinos de vermelho e os femininos de azul.

Carneiro
Bode
Ovelha
Coelha

Leoa
Égua
Cão
Cavalo

Zangão
Coelho
Pardoca
Cadela

Leão
Pardal
Abelha
Cabra

MASCULINOS

FEMININOS

E.M. "Vereador Lourival Correia de Araújo"

Nome: _____

Data: 10/06



AGORA RESPONDA

- A) QUAL ANIMAL VIVE MAIS TEMPO? _____
- B) QUAL ANIMAL VIVE MENOS TEMPO? _____
- C) QUANTOS ANOS VIVE O GORILA? _____
- D) QUANTO TEMPO O GORILA VIVE A MAIS DO QUE O LEÃO? _____
- E) QUAL A SOMA ENTRE A BALEIA E O JACARÉ? _____

ORGANIZE OS NÚMEROS EM ORDEM CRESCENTE E DECRESCENTE:

CRESCENTE: _____

DECRESCENTE: _____

E.M. "Vereador Lourival Correia de Araújo"

Nome: _____

Data: 10/06

CLASSES	CARACTERÍSTICAS	REPRODUÇÃO	ALIMENTAÇÃO
MAMÍFEROS	GERALMETE, TEM O CORPO COBERTO PÊLO. A MAIOR PARTE ANDA, OUTROS NADAM, OUTROS VOAM.	NASCEM NO ÚTERO DA MÃE.	QUANDO SÃO PEQUENOS MAMAM. EXISTEM MAMÍFEROS HERBÍVOROS, CARNÍVIROS E ONÍVOROS.
RÉPTEIS	TÊM O CORPO COBERTO DE ESCAMAS E ALGUNS TÊM UMA CARAPAÇA COM PLACAS.	NASCEM DE OVOS.	TODOS SÃO CARNÍVOROS E CAÇADORES, ÀS VEZES TAMBÉM COMEM VEGETAL.
PEIXES	OS PEIXES VIVEM E RESPIRAM DENTRO DA ÁGUA.	NASCEM DE OVOS.	ALIMENTAM-SE DE OUTROS PEIXES MAIS PEQUENOS OU DE SUBSTÂNCIAS QUE FLUTUAM NA ÁGUA.
AVES	TÊM O CORPO COBERTO DE PLUMAS. A MAIORIA VOA.	NASCEM DE OVOS.	SÃO ONÍVOROS. COMEM FOLHAS, GRÃOS, INSETOS, CARACÓIS, ETC.
INSETOS	OS INSETOS TÊM DUAS ANTENAS E SEIS PATAS. ALGUNS TÊM ASAS.	NASCEM DE OVOS.	ALIMENTAM-SE DE VEGETAIS, OU MATÉRIA EM DECOMPOSIÇÃO.
ANFÍBIOS	TÊM A PELE ÚMIDA. OS ANFÍBIOS VIVEM NA TERRA E NA ÁGUA.	NASCEM DE OVOS.	ALIMENTAM-SE DE INSETOS QUE CAPTURAM COM A SUA LARGA LÍNGUA.

E.M. "Vereador Lourival Correia de Araújo"

Nome: _____

Data: 10/06

ESCREVA O NOME DE 3 ANIMAIS PARA:

Mamíferos

Insetos

Répteis

Aves

Peixes

Anfíbios

E.M. "Vereador Lourival Correia de Araújo"

Nome: _____

Data: 11/06

CALENDÁRIO 2021



1- Que dia da semana começa o mês de junho?

2- Escreva quais números representam os domingos:

3- Quantos dias terá o mês de junho?

4- Dia 3 está em vermelho. Você sabe por quê?

5- Qual dia da semana será:

Dia 8- _____

Dia 17 _____

Dia 30 _____

E.M. "Vereador Lourival Correia de Araújo"

Nome: _____

Data: 11/06

ATIVIDADE

- 1) NAS IMAGENS ABAIXO, HÁ ALGUNS INSTRUMENTOS DE MEDIÇÃO USADOS NO DIA A DIA.



- QUAL DOS INSTRUMENTOS MOSTRADOS ACIMA É USADO PARA MEDIR O TEMPO? ASSINALE A ALTERNATIVA CORRETA.

- (A) RÉGUA
- (B) RELÓGIO
- (C) BALANÇA
- (D) TERMÔMETRO

- QUAL HORÁRIO ESTÁ INDICANDO O RELÓGIO?

- (A) 14 horas
- (B) 10 horas e 10 minutos
- (C) 13 horas e 50 minutos
- (D) 14 horas e 50 minutos

E.M. "Vereador Lourival Correia de Araújo"

Nome: _____

Data: 14/06

AMBIENTE EM QUE VIVEM OS ANIMAIS

TERRESTRE

SÃO OS ANIMAIS QUE VIVEM TODOS OU A MAIORIA DO SEU TEMPO NA TERRA, POR EXEMPLO: OS CÃES, ELEFANTES, MINHOCAS, ETC. SEUS CORPOS SÃO ADAPTADOS PARA PODER RASTEJAR, ANDAR, CORRER, ESCALAR OU PULAR. DEPENDENDO DO ECOSISTEMA EM QUE VIVEM

AQUÁTICO

ENTRE OS ANIMAIS AQUÁTICOS QUE VIVEM NO MAR, PODEMOS DESTACAR OS CAVALOS-MARINHOS, BALEIAS, ETC. CADA ESPÉCIE AQUÁTICA PASSOU POR ADAPTAÇÕES AO LONGO DOS SÉCULOS DE EVOLUÇÃO, A FIM DE SOBREVIVER, SE ALIMENTAR E SE REPRODUZIR NA ÁGUA.

AÉREO



SÃO AQUELES QUE TÊM CAPACIDADE DE VOAR E SE MOVER PELO AR. ELES PODEM SE DESENVOLVER, DORMIR E PROCURAR COMIDA NA TERRA E ÁGUA. MAS SE MOVEM PELO AR.

E.M. "Vereador Lourival Correia de Araújo"

Nome: _____

Data: 14/06

SELVAGENS



Quando com
Apego

SÃO OS QUE VIVEM LIVREMENTE EM SEU HABITAT NATURAL, NÃO SÃO DOMESTICADOS E PODEM POSSUIR UM INSTINTO AGRESSIVO COM RELAÇÃO AOS SERES HUMANOS, POR UMA QUESTÃO DE DEFESA.

DOMÉSTICOS



SÃO AQUELES QUE ESTÃO ACOSTUMADOS A VIVER COM O SER HUMANO. ESSES ANIMAIS AGEM ASSIM COMO RESULTADO DE UMA SÉRIE DE PROCESSOS PARA DOMESTICÁ-LOS.

RESPONDA

1) CITE DOIS ANIMAIS DE CADA HABITAT NATURAL EM VIVEM

AQUÁTICO _____

AÉREO _____

SELVAGEM _____

DOMÉSTICO _____

E.M. "Vereador Lourival Correia de Araújo"

Nome: _____

Data: 15/06

ANIMAIS EM EXTINÇÃO



UM ANIMAL É CONSIDERADO EM EXTINÇÃO QUANDO SUA POPULAÇÃO VEM DIMINUINDO DE NÚMERO EM CONSEQUÊNCIA DA PERSEGUIÇÃO DO HOMEM, USO DE AGROTÓXICO, OU MESMO FALTA DE ALIMENTAÇÃO POR SUA PRESA JÁ TER SIDO EXTINTA.

ALGUNS DESTES ANIMAIS ESTÃO EM EXTINÇÃO: LOBO GUARÁ, ARIRANHA, TATU-BOLA, CURIÓ, LONTRA, MUTUM, JACU, CACHORRO DO MATO, VEADO, MACACO MURIQUI OU MONOCARVOEIRO, ARIRANHA-AZUL, MICO-LEÃO-DOURDO, JAGUATIRICA.

OUTRO EXEMPLO, COM RELAÇÃO AO DESEQUILÍBRIO ECOLÓGICO RELACIONADO COMA EXTINÇÃO DE UMA ESPÉCIE, É O QUE PODE OCORRER COM O DESAPARECIMENTO DE CORUJAS E GAVIÕES QUE SE ALIMENTAM DE RATOS, QUE POR SUA VEZ SE ALIMENTAM DE GRÃOS. SE ESSAS AVES FOREM EXTERMINADAS DE UMA REGIÃO, PODERÁ OCORRER UM AUMENTO DA POPULAÇÃO DE RATOS, QUE PODERÃO FAZER SÉRIOS ESTRAGOS NAS PLANTAÇÕES E NOS GRÃOS JÁ ARMAZENADOS.

DE ACORDO COM O TEXTO, RESPONDA:

1) QUAIS SÃO AS POSSÍVEIS CAUSAS DE EXTINÇÃO DE UM ANIMAL?

2) DÊ EXEMPLOS DE ANIMAIS QUE ESTÃO AMEAÇADOS DE SER EXTINTOS EM NOSSO PAÍS.

E.M. "Vereador Lourival Correia de Araújo"

Nome: _____

Data: 15/06

ONÇA PINTADA



A ONÇA VIVE EM FLORESTAS E CAVERNAS DA AMÉRICA DO SUL E AMÉRICA CENTRAL. NO BRASIL, PRINCIPALMENTE NO PANTANAL E NA AMAZÔNIA.

O SEU PRATO PREFERIDO É COMER CAPIVARAS, PORCOS-DO-MATO E OUTROS MAMÍFEROS, AVES, RÉPTEIS E ATÉ PEIXES.

SEU PESO É DE 130 A 160 QUILOS E O SEU TAMANHO É DE 70 E 80 CENTÍMETROS DE ALTURA E CERCA DE 2 METROS PODENDO CHEGAR ATÉ 3 METROS DE COMPRIMENTO

SEU TEMPO DE VIDA É DE CERCA DE 20 ANOS.

UMA CARACTERÍSTICA IMPORTANTE É QUE AS ONÇAS-PINTADAS SÃO SOLITÁRIAS E SÓ BUSCAM A COMPANHIA DE UM PAR DURANTE A ÉPOCA DE ACASALAMENTO. A GESTAÇÃO DURA EM MÉDIA 100 DIAS E ATÉ QUATRO FILHOTES PODEM SER GERADOS.

AGORA VAMOS PREENCHER A FICHA DO ANIMAL QUE VOCÊ LEU:

FICHA TÉCNICA
NOME DO ANIMAL -
PESO -
FILHOTES -
ONDE VIVE -
ALIMENTAÇÃO -
HÁBITOS -

E.M. "Vereador Lourival Correia de Araújo"

Nome: _____

Data: 16/06

PASSEIO NO ZOO LÓGICO

DIA DA SEMANA	HOMENS	MUHERES	MENINOS	MENINAS
DOMINGO	340	345	360	376
SEGUNDA-FEIRA	FECHADO	FECHADO	FECHADO	FECHADO
TERÇA-FEIRA	145	140	135	130
QUARTA-FEIRA	190	195	192	180
QUINTA-FEIRA	187	182	172	160
SEXTA-FEIRA	210	233	227	211
SÁBADO	322	325	320	326

RESPONDA AS QUESTÕES

- 1) QUA DIA DA SEMANA TEVE MENOS MENINOS E MENINAS JUNTOS?

- 2) QUAL FOI A SOMA DOS HOMENS E MULHERES NA QUINTA-FEIRA? _____
- 3) QUAL A SOMA DAS MENINAS E DOS MENINOS NO SÁBADO? _____
- 4) QUAL A DIFERENÇA DAS MULHERES ENTRE DOMINGO E TERÇA-FEIRA?

- 5) QUAL A SOMA TOTAL DE MENINOS E MENINAS NA SEGUNDA-FEIRA?

- 6) QUAL DIA DA SEMANA TEVE MAIS MENINOS? _____
- 7) QUAL A DIFERENÇA ENTRE AS MENINAS E MENINOS NO DOMINGO? _____
- 8) QUAL A SOMA DOS HOMENS E DAS MENINAS NA QUARTA-FEIRA? _____
- 9) QUAL A SOMA DAS MENINAS EM TODOS OS DIAS DA SEMANA? _____

E.M. "Vereador Lourival Correia de Araújo"

Nome: _____

Data: 16/06



1) UMA ONG PREOCUPADA COM OS ANIMAIS EM EXTINÇÃO, DESCRITOS NO MAPA CONSEGUIRAM CRIAR UM CATIVEIRO COM 180 ARARAS AZUIS; 110 FALCÕES E 85 ANTA.

A) QUAL FOI A SOMA DE TODOS OS ANIMAIS? _____

B) QUAL A DIFERENÇA ENTRE A ARARA AZUL E A ANTA? _____

2) EM UM VIVEIRO COLOCARAM 10 FLAMINGOS. QUANTOS FLAMINGOS CABERIAM EM 9 VIVEIROS? _____

3) NASCERAM 486 FILHOTES DE TARTARUGAS E JÁ POSSUIA 74. QUANTOS FILHOTES SÃO AO TODO AGORA? _____

E.M. "Vereador Lourival Correia de Araújo"

Nome: _____

Data: 17/06

FESTAS JUNINAS



HISTÓRIA DAS FESTAS JUNINAS

NA ÉPOCA DA COLONIZAÇÃO DO BRASIL, APÓS O ANO DE 1500, OS PORTUGUESES INTRODUIZIRAM EM NOSSO PAÍS MUITAS CARACTERÍSTICAS DA CULTURA EUROPEIA, COMO AS FESTAS JUNINAS. SUA ORIGEM É PAGÃ EM COMEMORAÇÃO À GRANDE FERTILIDADE DA TERRA, ÀS BOAS COLHEITAS.

OS NEGROS E OS ÍNDIOS QUE VIVIAM NO BRASIL NÃO TIVERAM DIFICULDADE EM SE ADAPTAR ÀS FESTAS JUNINAS, POIS SÃO MUITO PARECIDAS COM AS DE SUAS CULTURAS.

AOS POUCOS, AS FESTAS JUNINAS FORAM SENDO DIFUNDIDAS EM TODO O TERRITÓRIO DO BRASIL, MAS FOI NO NORDESTE QUE SE ENRAIZOU, TORNANDO-SE FORTE NA NOSSA CULTURA. NESSA REGIÃO, AS COMEMORAÇÕES SÃO BEM ACIRRADAS - DURAM UM MÊS, E SÃO REALIZADOS VÁRIOS CONCURSOS PARA ELEGER OS MELHORES GRUPOS QUE DANÇAM A QUADRILHA. ALÉM DISSO, PROPORCIONAM UMA GRANDE MOVIMENTAÇÃO DE TURISTAS EM SEUS ESTADOS, AUMENTANDO AS RENDAS DA REGIÃO.

1) Qual a origem das festas juninas?

2) Qual a região que a festa junina enraizou?

Pinte no mapa ao lado essa região.

3) Qual a dança típica das festas juninas?



E.M. "Vereador Lourival Correia de Araújo"

Nome: _____

Data: 17/06

TRADIÇÕES

COM O PASSAR DOS ANOS, AS FESTAS JUNINAS GANHARAM OUTROS SÍMBOLOS CARACTERÍSTICOS. COMO É REALIZADA NUM MÊS MAIS FRIO, ENORMES FOGUEIRAS PASSARAM A SER ACESAS PARA QUE AS PESSOAS SE AQUECESSEM EM SEU REDOR. VÁRIAS BRINCADEIRAS ENTRARAM PARA A FESTA, COMO O PAU DE SEBO, O CORREIO ELEGANTE, OS FOGOS DE ARTIFÍCIO, O CASAMENTO NA ROÇA, ENTRE OUTROS, COM O INTUÍTO DE ANIMAR AINDA MAIS A FESTIVIDADE.

OBSERVE AO LADO AS BRINCADEIRAS QUE UM COLÉGIO REALIZOU NA FESTA JUNINA DO ANO PASSADO. NA TABELA ABAIXO ESTÁ ANOTADO A QUANTIDADE DE FICHAS VENDIDAS PARA CADA BRINCADEIRA.

BRINCADEIRAS	FICHAS
BOCA DO PALHAÇO	129
CORREIO ELEGANTE	56
MIRA AO ALVO	180
ARGOLAS	138
PESCARIA	254
BOLICHE	203
TOTAL	



1) QUAL BRINCADEIRA FOI A MAIS VOTADA?

2) SOME A BRINCADEIRA DE ARGOLAS COM O CORREIO ELEGANTE

3) QUANTAS FICHAS DE PESCARIA FORAM VENDIDAS A MAIS DO QUE O BOLICHE?

4) É UMA FESTA QUE ACONTECE NUM MÊS MAIS:

() FRIO

() CALOR

5) SOME TODAS AS BRINCADEIRAS:

E.M. "Vereador Lourival Correia de Araújo"

Nome: _____

Data: 18/06

O TEXTO AO LADO É UM _____

O QUE VAI ACONTECER?

QUAIS AS COMIDAS QUE SERÃO SERVIDAS?

QUE ROUPA OS CONVIDADOS DEVERÃO VESTIR?

ONDE ACONTECERÁ A FESTA?

LOCALIZE NO TEXTO A DATA E HORÁRIO DA FESTA E COPIE.

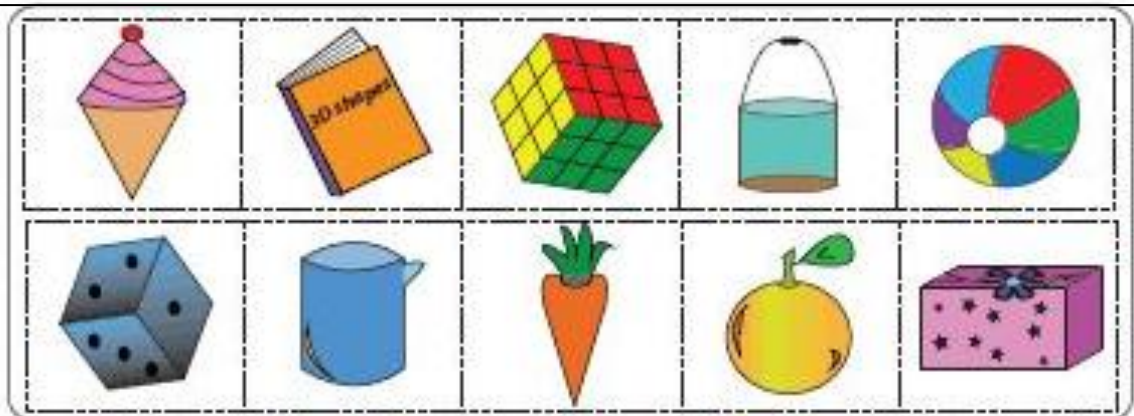

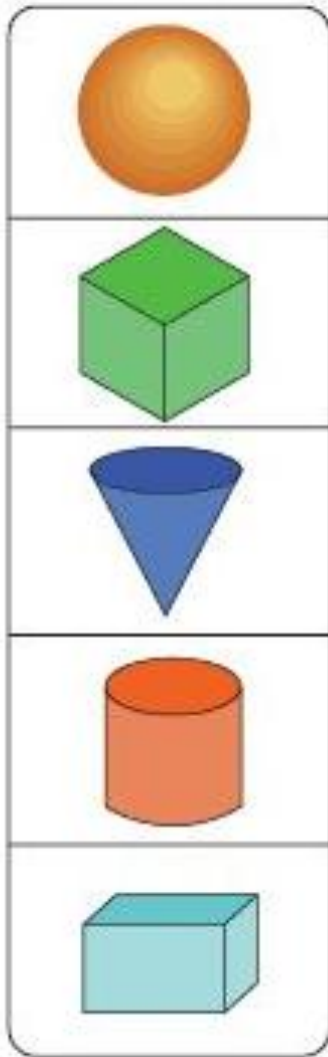
E.M. "Vereador Lourival Correia de Araújo"

Nome: _____

Data: 18/06

MATEMÁTICA

RECORTE OS OBJETOS E COLE NA FRENTE DAS FIGURAS GEOMÉTRICAS COM AS QUAIS SE PARECEM:



E.M. "Vereador Lourival Correia de Araújo"

Nome: _____

Data: 19/06

ARME E RESOLVA

$83 + 5 =$

D	U

$94 + 8 =$

D	U

$31 + 5 =$

D	U

$58 + 2 =$

D	U

$11 + 2 =$

D	U

$93 + 9 =$

D	U

$24 + 33 =$

D	U

$58 + 12 =$

D	U

$18 + 26 =$

D	U

$19 + 11 =$

D	U

$30 + 38 =$

D	U

$34 + 31 =$

D	U



E.M. "Vereador Lourival Correia de Araújo"

Nome: _____

Data: 19/06

LISTA DE PALAVRAS:
O QUE TEM NA FESTA JUNINA:



AGORA, AGRUPE CONSIDERANDO O NÚMERO DE SÍLABAS

DISSÍLABA

TRISSÍLABA

POLISSÍLABA

E.M. "Vereador Lourival Correia de Araújo"

Nome: _____

BIBLIOGRAFIA

- ✓ A bicharada atrapalhada
[http://1.bp.blogspot.com/_7RyHiBWdRgo/S8l8OXyzLol/AAAAAA
AAApw/q2m8pi9BwMQ/s1600/IMG_0057.jpg](http://1.bp.blogspot.com/_7RyHiBWdRgo/S8l8OXyzLol/AAAAAA
AAApw/q2m8pi9BwMQ/s1600/IMG_0057.jpg)
EMAI 3º ano - Volume I
- ✓ Classificação dos animais
[https://i.pinimg.com/originals/f8/49/fd/f849fd1b7431de6bcec6f865
86bde3c8.jpg](https://i.pinimg.com/originals/f8/49/fd/f849fd1b7431de6bcec6f865
86bde3c8.jpg)

[https://image.slidesharecdn.com/caracteristicasdosanimais3ano-
150813194816-lva1-app6891/95/caracteristicas-dos-animais-3-
ano-1-638.jpg?cb=1439495366](https://image.slidesharecdn.com/caracteristicasdosanimais3ano-
150813194816-lva1-app6891/95/caracteristicas-dos-animais-3-
ano-1-638.jpg?cb=1439495366)
- ✓ Curiosidades vitais dos animais
[https://www.soescola.com/wp-
content/uploads/2016/01/Atividades-Educativas-Ciencias-3C2BA-
ano-21-212x300.jpg](https://www.soescola.com/wp-
content/uploads/2016/01/Atividades-Educativas-Ciencias-3C2BA-
ano-21-212x300.jpg)
- ✓ O casamento da mata
Escola Educação
- ✓ Papa Capim-
<https://i.ytimg.com/vi/uwoO83gDHAA/maxresdefault.jpg>
- ✓ Atividades festa junina
[https://encrypted-
tbn0.gstatic.com/images?q=tbn:ANd9GcSHtSQAL8rJaRAHijxK6U
VFWqb5Te7R88U1LA&usqp=CAU](https://encrypted-
tbn0.gstatic.com/images?q=tbn:ANd9GcSHtSQAL8rJaRAHijxK6U
VFWqb5Te7R88U1LA&usqp=CAU)