



E.M. " Benedito Luiz Braga "



Nome do aluno



Prof^a Juliana






5^ª A – 2.021



Período: 07/06 a 19/06



Cpéstila 6



E.M. " Benedito Luiz Braga" .

Ibiúma, 07 de junho de 2.021.

Professora Juliana.

Orientações para a utilização dos livros didáticos

As atividades com explicações via whatsapp, serão complementares, ou seja; as crianças que não possuem acesso à internet, conseguirão realizá-las se utilizando da leitura, apostila e livro didático.

As leituras compartilhadas via whatsapp - bem como as explicações adicionais de atividades -, também poderão ser realizadas por ligações telefônicas, quando houver necessidade.

O cronograma abaixo, é uma sugestão. Os alunos e responsáveis, podem enviar as atividades de leitura e áudios em outras datas, dentro do período de realização desta apostila.

Prof^a Juliana.

Croneograma:

Dia:	Páginas do Livro Ápis Ciências	Páginas da Apostila
07/06/2.021 (segunda-feira)	08 e 09 (leitura), 10 (exercícios).	2 e 3.
08/06/2.021 (terça-feira)	12 (leitura), 13 (exercício 1), 14 (leitura e exercícios).	4 e 5.
09/06/2.021 (quarta-feira)	15 e 16 (leitura), 17 (exercícios).	6 e 7.
10/06/2.021 (quinta-feira)	18 e 19 (leitura e exercícios).	8 e 9.
11/06/2.021 (sexta-feira)	20 (leitura), 21 (exercícios).	10.
14/06/2.021 (segunda-feira)	24 (leitura), 25 (exercícios).	11 e 12.
15/06/2.021 (terça-feira)	26 e 27 (leitura e exercícios).	13 e 14.
16/06/2.021 (quarta-feira)	28 (leitura), 29 (exercícios).	15 (pesquisa).
17/06/2.021 (quinta-feira)	30,31 (leitura e relatório).	16.
18/06/2.021 (sexta-feira)	32 (leitura) e 33 (exercícios).	17.
19/06/2.021 (sábado letivo)	34 (realizar o desenho na última página da apostila)	18 e 19.

NOME: _____

TURMA: _____ DATA: ____/____/____



@sosprofessoratividades.com

As cinco maiores festas juninas do Brasil

Campina Grande e Caruaru são consideradas as "maiores festas de São João" do mundo. Regado a comida típica, forró e muito folclore, o mês de junho é marcado pelas tradicionalíssimas festas de celebração dos principais santos juninos: Santo Antônio, São Pedro, São João e São Paulo.

Veja quais são as principais celebrações juninas do Brasil.



Festa junina de São João de Caruaru (Pernambuco)

Disputa com Campina Grande (PB) o título de maior festa de São João do Mundo. Quadrilhas com até 4 mil pessoas, forrós, comida típica e desfiles lotam o Pátio de Eventos Luiz Gonzaga, no Centro, e o bairro Alto do Moura. Começa em maio e vai até o final de junho.

Bumba Meu Boi, São Luis

É a festa mais tradicional do folclore maranhense. A partir do dia de Santo Antônio (13 de junho) até o dia 30 do mesmo mês (dia de São Marçal), grupos folclóricos de todo o estado se encontram nas ruas de São Luís para contar a história da escrava Catirina e de seu marido, que precisam ressuscitar o animal que haviam matado. Os grupos se apresentam ao redor de bois coloridos, num festival marcado por danças e ritmos.

São João, Aracaju

Em junho o som da sanfona e da zabumba tomam conta do centro e da orla de Aracaju. No centro acontece o Forró Caju, com apresentações de grandes nomes da música brasileira artistas regionais, e na orla de Atalaia é realizado o Arraial do Povo, uma cidade cenográfica imita uma vila no interior.



Festa de São João em Campina Grande (PB)

Conhecida como o "maior São João do Mundo", a festa ocupa o espaço da grandiosa Praça Parque do Povo. O evento conta com palcos de forró, quadrilhas e shows. A festa acontece do dia 6 de junho até o dia 6 de julho. O dia de São João, 24 de junho, é quando a festa tem mais movimento.

Encontro Nacional de Folguedos, Teresina

Acontece na segunda quinzena de junho. Apresentações de grupos folclóricos, quadrilhas, comidas típicas e oficinas agitam os palcos montados especialmente para o Festival em Teresina.

Julia Latorre

Após a leitura do texto, responda.

1- Qual o assunto principal do texto?

2- As cidades citadas no texto são de qual região do Brasil?

3- Você conhece essa região?


() Sim () Não


4- Em qual região brasileira você mora? Em qual cidade?

5- Copie o nome das cidades e estados que aparecem no texto.

6- Pinte no mapa.

a) os estados onde ficam as cidades:

 Campina Grande	 São Luís	 Caruaru
 Aracaju	 Teresina	

b)  Contorne a região Nordeste.

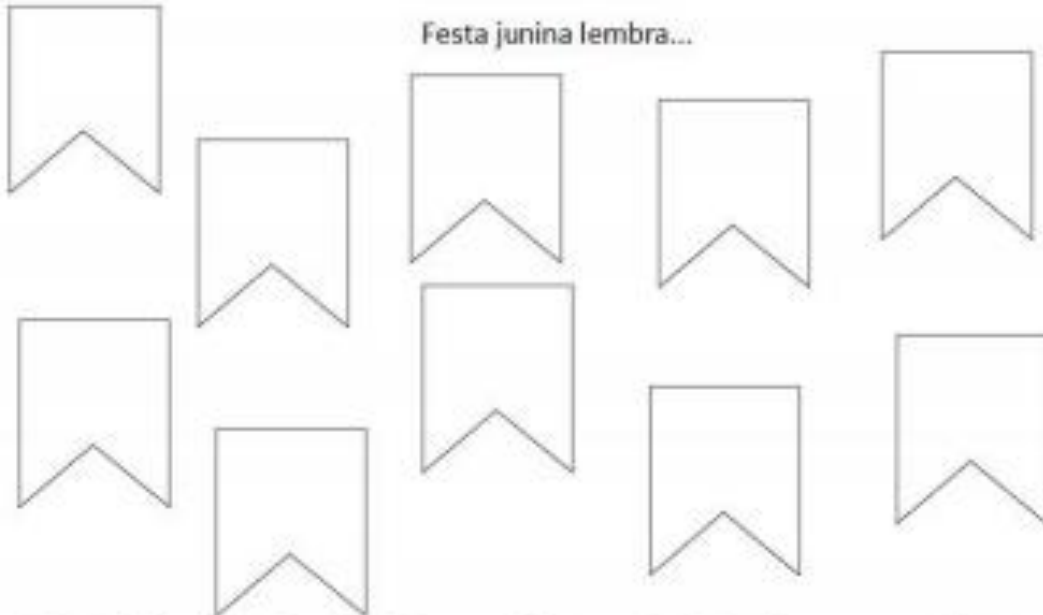


ESCOLA _____

NOME: _____ DATA: ____/____/____



Festa junina lembra...



Atividade



1. EM UMA FAZENDA HÁ UM REBANHO COM 874 CABEÇAS DE GADO. SE EU DIVIDIR ESTE REBANHO EM 2 GRUPOS, QUANTO CABEÇAS DE GADO CADA GRUPO TERÁ?

2. EM UM GALINHEIRO, NASCERAM O TOTAL DE 378 PINTINHOS. SE EU COLOCAR ESTES PINTINHOS EM TRÊS GRUPOS, QUANTOS PINTINHOS HAVERÁ EM CADA GRUPO?

3. ELIANE É PRODUTORA DE ABACATES. ELA COLHEU O TOTAL DE 496 ABACATES E DISTRIBUIU EM 4 CAIXAS. QUANTOS ABACATES CADA CAIXA RECEBEU?

4. HENRIQUE TEM UM PACOTE COM 936 BALAS. ELE RESOLVEU GUARDAR SUAS BALAS EM 4 POTES. QUANTAS BALAS CADA POTE RECEBEU?

5. ALISON COMPROU UM SOFÁ NO VALOR DE 1.050 REAIS. ELE DIVIDIU SUA COMPRA EM 5 PARCELAS IGUAIS. QUANTOS REAIS ELE PAGARÁ EM CADA PARCELA?

PRODUÇÃO DE TEXTO

@Atividades Suzano



De acordo com as imagens crie o meio da história:

Juca e o ratinho ligeiro:



Juca é o gato de dona Clara. Ele mora em uma bela casa cercada por um lindo jardim.

Juca gosta de ficar descansando na sala de estar.

Certo dia, Juca foi acordado por um barulhinho estranho:

___ Qui, qui , qui, qui.....

Era um ratinho que havia entrado na casa.



O ratinho ficou curioso e voltou para ver o que havia acontecido e viu Joça no chão gritando de dor na cabeça.


Ele riu muito e falou:

Nunca ninguém te falou para não mexer com quem está quieto? Qui, qui.....




PRODUÇÃO DE TEXTO

@AtividadesSuzana



Crie o começo da história: O ninho



Joãozinho saiu correndo para contar a novidade para seus amigos.

De repente, a casca de um dos ovos começa a se romper...

E um lindo pássaro sai voando do ninho cantando de alegria ao ver o céu tão brilhante à sua frente.

Aquela sensação de liberdade do primeiro voo era algo inesquecível.

No dia seguinte, logo pela manhã, Joãozinho foi correndo ver os ovos no ninho e qual não foi sua surpresa ao perceber que faltava um ovo.

Até hoje Joãozinho não conseguiu entender o que aconteceu.

Você não vai contar o segredo, vai?

NOME: _____

TURMA: _____ DATA: ____/____/____

@sosprofessoratividades.com



FESTAS JUNINAS

FESTA JUNINA
TEM UMA PORÇÃO
DE COISAS BACANAS!
OS FOGOS...



...A QUADRILHA...
EM ESPECIAL O
CASAMENTO...



ER... GLUP!
TEM OS
FOGOS...



EU GOSTO
DA PIPOCA, DO
DOCE DE BATATA-
DOCE, DA MAÇA
DO AMOR...



ADORO AS
GINCANAS E
AS BRINCA-
DEIRAS...



TEM A
BARRACA
DO BEJO...



SEM ESSA DI
BEJO, ROSINHA!

MIOR É A
GENTE CONHECÊ
OTRAS COISA!



MAURICIO

ESTACIA

1- Copie o que a Turma da Mônica diz que tem na Festa Junina:

2- O que meninos dizem que tem na festa, mas é perigoso?

3- Por que Chico Bento fica bravo com a Rosinha?

4- Mônica está vestida de noiva, por quê?

5- Chico Bento representa o homem do campo. Ele tem uma forma peculiar de falar. Transcreva a fala abaixo, para o vocabulário formal.



ESCOLA _____

NOME: _____ DATA: ____ / ____ / ____



Multiplicação junina

$$\begin{array}{r} 89 \\ \times 7 \\ \hline \end{array}$$

$$\begin{array}{r} 74 \\ \times 4 \\ \hline \end{array}$$

$$\begin{array}{r} 48 \\ \times 6 \\ \hline \end{array}$$

$$\begin{array}{r} 92 \\ \times 8 \\ \hline \end{array}$$

$$\begin{array}{r} 68 \\ \times 4 \\ \hline \end{array}$$

$$\begin{array}{r} 45 \\ \times 5 \\ \hline \end{array}$$

$$\begin{array}{r} 37 \\ \times 6 \\ \hline \end{array}$$

$$\begin{array}{r} 44 \\ \times 8 \\ \hline \end{array}$$

$$\begin{array}{r} 23 \\ \times 5 \\ \hline \end{array}$$

$$\begin{array}{r} 76 \\ \times 7 \\ \hline \end{array}$$

$$\begin{array}{r} 84 \\ \times 4 \\ \hline \end{array}$$

$$\begin{array}{r} 39 \\ \times 3 \\ \hline \end{array}$$

$$\begin{array}{r} 64 \\ \times 5 \\ \hline \end{array}$$

$$\begin{array}{r} 99 \\ \times 7 \\ \hline \end{array}$$

$$\begin{array}{r} 85 \\ \times 8 \\ \hline \end{array}$$

$$\begin{array}{r} 80 \\ \times 4 \\ \hline \end{array}$$

$$\begin{array}{r} 69 \\ \times 6 \\ \hline \end{array}$$

$$\begin{array}{r} 47 \\ \times 4 \\ \hline \end{array}$$

$$\begin{array}{r} 58 \\ \times 3 \\ \hline \end{array}$$

$$\begin{array}{r} 46 \\ \times 6 \\ \hline \end{array}$$

$$\begin{array}{r} 57 \\ \times 4 \\ \hline \end{array}$$

$$\begin{array}{r} 38 \\ \times 5 \\ \hline \end{array}$$

$$\begin{array}{r} 96 \\ \times 7 \\ \hline \end{array}$$


$$\begin{array}{r} 59 \\ \times 8 \\ \hline \end{array}$$

$$\begin{array}{r} 78 \\ \times 8 \\ \hline \end{array}$$

$$\begin{array}{r} 49 \\ \times 5 \\ \hline \end{array}$$

$$\begin{array}{r} 94 \\ \times 4 \\ \hline \end{array}$$

$$\begin{array}{r} 87 \\ \times 7 \\ \hline \end{array}$$



NOME: _____

TURMA: _____ DATA: ____/____/____



@sosprofessoratividades.com

TEXTO VERBAL E NÃO VERBAL

1- Observe a capa do DVD de Toy Story 4.



Texto verbal: é constituído por palavras.
Texto não verbal: é constituído com imagens.

2- O que chama mais a atenção do leitor nessa capa: o texto verbal ou o não verbal?

a) Por que esse tipo de texto predomina na capa?



@sosprofessoratividades.com

3- Agora leia o texto verbal que está na parte de trás da capa.

Agora morando na casa da pequena Bonnie, Woody apresenta aos amigos o novo brinquedo construído por ela: Forky, baseado em um garfo de verdade. O novo posto de brinquedo não o agrada nem um pouco, o que faz com que Forky fuja de casa. Decidido a trazer de volta o atual brinquedo favorito de Bonnie, Woody parte em seu encalço e, no caminho, reencontra Bo Peep, que agora vive em um parque de diversões.


a) Para que esse texto foi escrito?

b) Por que Forky foge de casa?

c) Copie do texto os substantivos próprios.

d) Procure e copie do dicionário o significado da palavra **encalço**.

e) Só em olhar para a capa do DVD, você saberia dizer para qual público é o filme? Qual é? Justifique.



@sasprofessoratividades.com

NOME: _____

TURMA: _____ DATA: ____/____/____

@sasprofessoratividades.com



Rainha da Pipoca

1- Rita, Joelma e Arlete estão concorrendo ao título Rainha da Pipoca do nosso arraial.

a) Rita ganhou 56 votos dos alunos do matutino e 49 votos dos alunos do vespertino. Quantos votos ela ganhou?

R: _____

b) Joelma recebeu 102 votos dos alunos do matutino e a metade desse número do vespertino. Quantos votos ela recebeu ao todo?

R: _____

c) Arlete, ganhou o triplo dos votos matutinos da Rita. Quantos votos ela recebeu?

R: _____



@sasprofessoratividades.com

d) Quem recebeu mais votos? _____

e) Quem recebeu menos votos? _____

2- Vamos calcular os votos:

a) Arlete recebeu quantos votos a mais que Joelma?



R: _____

b) Rita recebeu quantos votos a menos que Joelma?

R: _____

c) Qual a diferença entre o total dos votos da Arlete e Rita?

R: _____

d) Qual a diferença entre os votos vespertinos da Rita e Joelma?

R: _____

e) A Rainha da Pipoca do nosso arraial é _____.



@sasprofessoratividades.com

NOME: _____

PROFESSOR: _____ DATA: _____

ATIVIDADES SUZANO



Geografia

Pesquisando para saber

“Papo legal” com os experientes! Converse com as pessoas mais velhas da família ou com pessoas idosas que você conheça. Compare aspectos de antigamente com os dias atuais.

Em nossos dias	Antigamente
	Só havia rádio, que era o único meio de comunicação com o mundo.
Há vacinas para prevenção de muitas doenças, tanto para crianças quanto para adultos.	
	As ruas não eram asfaltadas e podia-se brincar na terra, com bola de gude, pião etc.
	Houve uma grande guerra, que envolveu o mundo todo, na qual milhões de pessoas morreram. Os brasileiros foram à guerra na Europa.
Há bolos, balas, doces prontos nos mercados, shoppings centers etc.	
	Vovó lia e contava histórias à noite, depois do jantar. Não havia televisão.
	Vovô e vovó tinham medo do escuro de cemitério, mas brincavam na rua, andavam sozinhos, iam longe para fazer compras.

Escola:

Data: Turma: **EDUCALUNOS.COM**

Aluno:

DESAFIO

Cinco amigas foram passear na pracinha com seus cachorrinhos. Leia as dicas abaixo para descobrir o nome de cada menina e quais são os cachorrinhos delas.



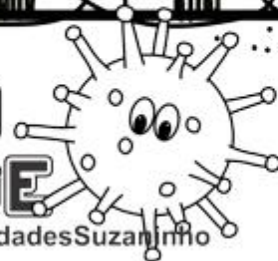
- 1- Patrícia tem o cabelo preto, está perto da Juliana e seu cachorro Rex tem a cauda cortada.
- 2- Paula tem o cabelo curto e seu cachorro Bob tem as orelhas em pé.
- 3- Beatriz está de maria-chiquinha e sua cadela Sula tem o pêlo comprido.
- 4- Juliana está de rabo-de-cavalo e sua cadela Laila tem as orelhas caídas.
- 5- Clara usa boné, está ao lado de Beatriz e sua cadela Nina está com o pêlo tosado.
- 6- Juliana está entre Patrícia e Paula.

R.:

NOME:

CRIANDO CHARGE

@AtividadesSuzaninho



CHARGE: DESENHO HUMORÍSTICO, COM OU SEM LEGENDA

OU BALÃO ENCONTRADO EM JORNAIS E REVISTAS, TENDO
COMO TEMA ALGUM ACONTECIMENTO ATUAL.

CRIE UMA CHARGE NO ESPAÇO ABAIXO E DEPOIS INTERPRETE
O QUE ELA QUER DIZER.



PROBLEMATIZANDO

✂ Recorte, cole no caderno e resolva.

A) Frederico me emprestou R\$ 1 450,00 e eu já devolvi R\$ 875,00. Quantos reais ainda estou lhe devendo?

Operação

Resposta



B) Um computador custa R\$ 2 750,00. Não posso comprá-lo, pois faltam R\$ 1 050,00. Quantos reais eu tenho?

Operação


Resposta



C) Para pagar um televisor, dei R\$ 250,00 de entrada, e o restante vou pagar em 4 prestações de R\$ 102,00. Qual o valor do televisor?

Operação


Resposta



D) No supermercado, dei R\$ 500,00 para pagar as compras. Recebi R\$ 98,00 de troco. Quanto gastei com as compras?

Operação

Resposta



CRUZA - CÉPUAS

