

E.M. "PROFESSORA YOLANDA AGOSTINHO DE LIMA."

MINHAS ATIVIDADES



PROFESSORA: ARIADNE PUZONE.

TURMA: 2º ANO A

ALUNO(A): _____

6ª APOSTILA: 07/06/2021 À 19/06/2021

2021
BOM TRABALHO!



5 de junho

Dia do Meio Ambiente



**1. ENCONTRE AS PALAVRAS QUE ESTÃO
NO NOSSO CAÇA – PALAVRAS.**



O E R T T E C O N O M I Z A R A H C
O H F T C A E N E W T F S S N O I E
G O O A Á G U A F N O A E I N A M D
T N T E M H N T T T Ú A M I P P O R
N T U L E A H U E D O A W O L L N F
H T R O T S E R E C I C L A R F A I
L I U A T T O E L S S U N U T S R T
C O G K E F D Z U D I T E Y E R G N
N T O I B N I A N Ç A S D E T N S L
P O O O E F D A ã S A E E A B L O N
O V O H I N L O E T O S L L M N I F
F A D P Y E E A T P O E E L D I I T




**ANIMAIS – ECONOMIZAR – HIGIENE – NATUREZA –
PLANTAS – POLUIÇÃO – RECICLAR – SAÚDE - ÁGUA**



NOME: _____ DATA: 08/06/2021
PROFESSORA: ARIADNE LÍNGUA PORTUGUESA 2º ANO A

PINTE SOMENTE OS NOMES DOS ANIMAIS QUE APARECEM NA ILUSTRAÇÃO:



GATO

PORCO

CACHORRO

GALINHA

OVELHA

CAVALO

GIRAFÁ

GALO

PEIXE

PORCO

VACA










PATO

NOME: _____
PROFESSORA: ARIADNE

LÍNGUA PORTUGUESA

DATA: 09/06/2021
2º ANO A

RECORTE E COLE A PALAVRA CORRESPONDENTE AO NOME DOS ANIMAIS:

BORBOLETA

FOCA

CORUJA

BALEIA

ARARA

COELHO

BARATA

FORMIGA

ABELHA


NOME: _____
PROFESSORA: ARIADNE

DATA: 10/06/2021
2º ANO A

LÍNGUA PORTUGUESA

**SEPARE OS NOMES DOS ANIMAIS E DOS BRINQUEDOS,
ORGANIZANDO-OS NA TABELA ABAIXO:**

ANIMAIS	BRINQUEDOS

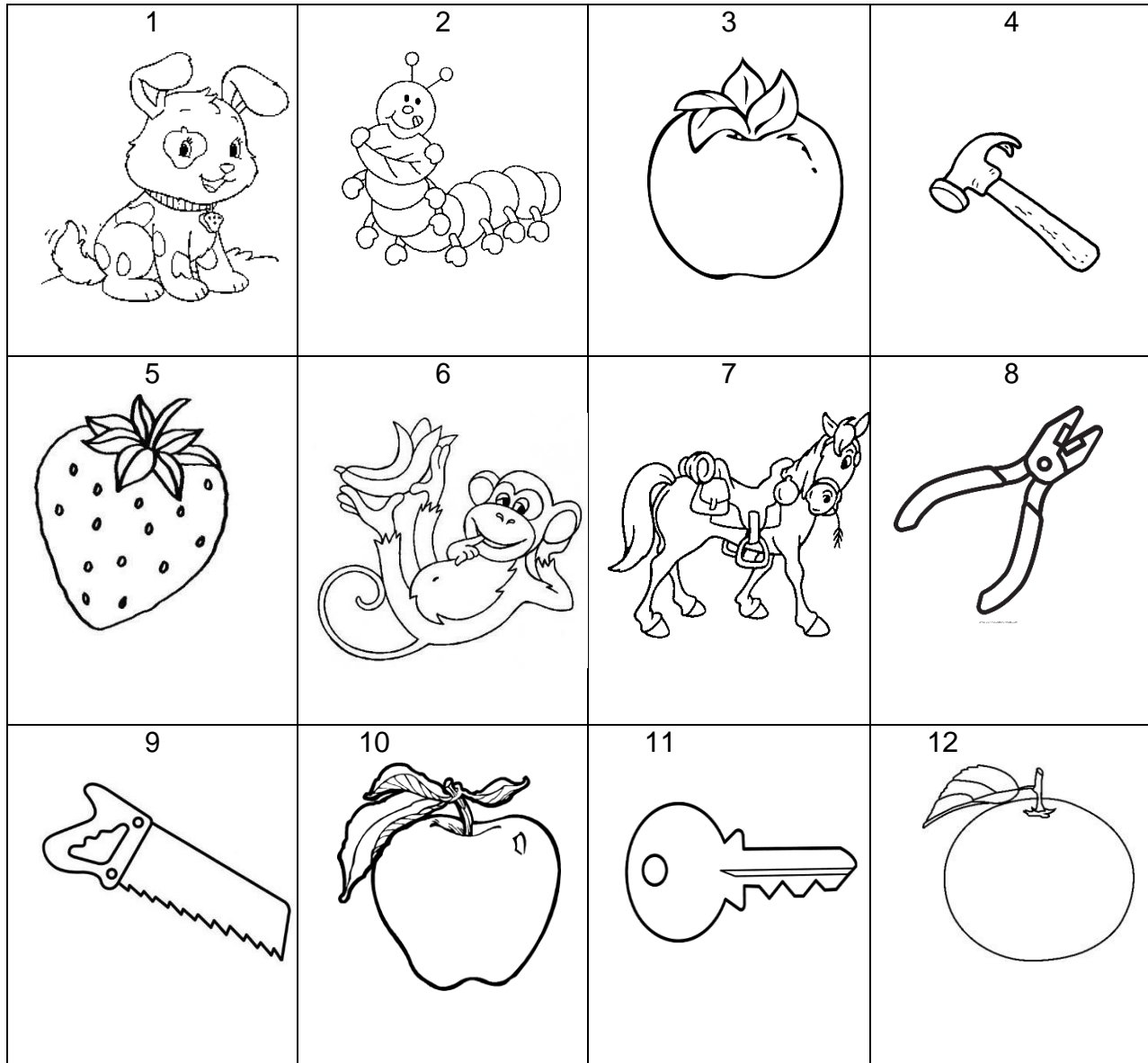


NOME: _____
PROFESSORA: ARIADNE

DATA: 11/06/2021
2º ANO A

LÍNGUA PORTUGUESA

NUMERE AS COLUNAS DE ACORDO COM OS NOMES DAS FIGURAS:



() MARTELO

() MACACO

() MAÇÃ

() MORANGO

() CAVALO

() CAQUI

() CHAVE

() CACHORRO

() LARANJA

() SERROTE

() LAGARTA

() ALICATE

NOME: _____

DATA: 14/06/2021

PROFESSORA: ARIADNE

LÍNGUA PORTUGUESA/HISTÓRIA 2º ANO A

FESTAS JUNINAS

O MÊS DE JUNHO É CARACTERIZADO POR DANÇAS, COMIDAS TÍPICAS E BANDEIRINHAS.

A FESTA JUNINA SE INICIA NO DIA 12 DE JUNHO, VÉSPERA DO DIA DE SANTO ANTÔNIO E ENCERRA NO DIA 29, DIA DE SÃO PEDRO.

O PONTO MAIS ELEVADO DA FESTA OCORRE NOS DIAS 23 E 24, O DIA DE SÃO JOÃO.

DURANTE OS FESTEJOS ACONTECEM QUADRILHAS, FORRÓS, LEILÕES, BINGOS, BRINCADEIRAS E CASAMENTOS CAIPIRAS.



ESCREVA AQUI OS NOMES DOS SANTOS QUE APARECEM NO TEXTO:

--	--	--

NOME: _____
PROFESSORA: ARIADNE

LÍNGUA PORTUGUESA

DATA: 15/06/2021
2º ANO A

TEXTO E INTERPRETAÇÃO

FESTA JUNINA

É NOITE DE SÃO JOÃO!
VOU COMER PÉ-DE-MOLEQUE
ALGODÃO DOCE, COCADA
CACHORRO-QUENTE E QUENTÃO

NO ARRAIAL TEM MUITA BARRACA,
TIRO AO ALVO, COELHO NA TOCA
PESCARIA E BOLANA LATA.

TEM ATÉ ALTO FALANTE
CONVIDADO E GAROTADA
PRA MANDAR SEUS RECADINHOS
PELO CORREIO ELEGANTE.

E EM VOLTADA FOGUEIRA
NINGUÉM FICA PARADO
É PRA DANÇAR A NOITE INTEIRA
NESSE FORRÓ ANIMADO!



COMPREENDENDO O TEXTO.

NO POEMA DE QUAL FESTA FALA?

--	--	--	--	--	--	--	--	--	--

CIRCULE AS COMIDAS TÍPICAS DESTA FESTA.

ESCREVA OS TIPOS DE BRINCADEIRAS QUE APARECE NO POEMA.

NOME: _____
PROFESSORA: ARIADNE

LÍNGUA PORTUGUESA

DATA: 16/06/2021
2º ANO A

CAÇA - PALAVRAS _ JUNINA



- * ALEGRIA
- * QUENTÃO
- * PIPOCA
- * PASTEL
- * PRENDA
- * SANFONA
- * FOGUEIRA
- * BALÃO
- * CHAPÉU
- * BARRACA
- * QUADRILHA
- * BANDEIROLA
- * CANJICA
- * BEIJINHO
- * RECADINHO


Q U A D R I L H A J X V N J K L O N F É
H Y T A L E G R I A R I Ç P Y T R W Q U
Z A B A R R A C A E S J K O E V R X P T
Y A R Q U B A N D E I R O L A B K G H I
Q W I R I R E C A D I N H O X M A I F C
G H F O G U E I R A E I R O B V N M I O
Q U E N T ã O I T A X I O S A N F O N A
C A N J I C A H J L S V B E I J I N H O
X K J O P I P O C A Z R V S T A E N T Y
B P A S T E L M T I R I O W Z B A L ã O
G D P R E N D A R X V O I R C H A P É U

NOME: _____
PROFESSORA: ARIADNE

LÍNGUA PORTUGUESA

DATA: 17/06/2021
2º ANO A

CIRCULE A PALAVRA DE CADA CONJUNTO QUE INICIA COM A MESMA LETRA DA PALAVRA ABAIXO:



NOME: _____
PROFESSORA: ARIADNE

DATA: 18/06/2021
2º ANO A

LÍNGUA PORTUGUESA

CRUZADINHA JUNINA

AGORA, VAMOS PREENCHER A CRUZADINHA COM OS NOMES DAS FIGURAS QUE LEMBRA A ÉPOCA JUNINA.

1. → [] [] [] [] [] [] [] []

2. → [] [] [] [] [] [] [] []

3. ↓ [] [] [] []

4. ↓ [] [] [] []

5. ↓ [] [] [] []

ESCREVA AS PALAVRAS DA CRUZADINHA NA ORDEM ALFABÉTICA:

[] [] [] [] [] [] [] []	[] [] [] [] [] [] [] []
[] [] [] [] [] [] [] []	[] [] [] [] [] [] [] []
[] [] [] [] [] [] [] []	[] [] [] [] [] [] [] []

NOME: _____ DATA: 19/06/2021
PROFESSORA: ARIADNE LÍNGUA PORTUGUESA 2º ANO A

VAMOS LER?

QUENTÃO INFANTIL

INGREDIENTES

6 XÍCARAS DE ÁGUA
500G DE AÇÚCAR
¼ DE XÍCARA DE GENGIBRE LASCADO
1 MAÇÃ CORTADA
CASCAS DE LIMÃO E LARANJA
CRAVO DA ÍNDIA A GOSTO
CANELA A GOSTO

MODO DE PREPARO



DERRETA O AÇÚCAR, AS CASCAS, AS ESPECIARIAS E O GENGIBRE EM UMA PANELA. ANTES QUE SE FORME O CARAMELO, COLOQUE A ÁGUA E COZINHE POR 20 MINUTOS. COE E SIRVA COM A MAÇÃ PICADA.

<http://revistacrescer.globo.com/Revista/Crescer/0,,EMI5723-16812,00.html>

QUENTÃO INFANTIL

1. QUE TIPO DE TEXTO É ESTE?

2. O QUE ESTA RECEITA ENSINA?

3. QUAIS OS INGREDIENTES UTILIZADOS NELA?

4. QUAIS INGREDIENTES SÃO REPRESENTADOS PELO NOME «ESPECIARIAS».

NOME: _____
PROFESSORA: ARIADNE

MATEMÁTICA/CIÊNCIAS

DATA: 07/06/2021
2º ANO A



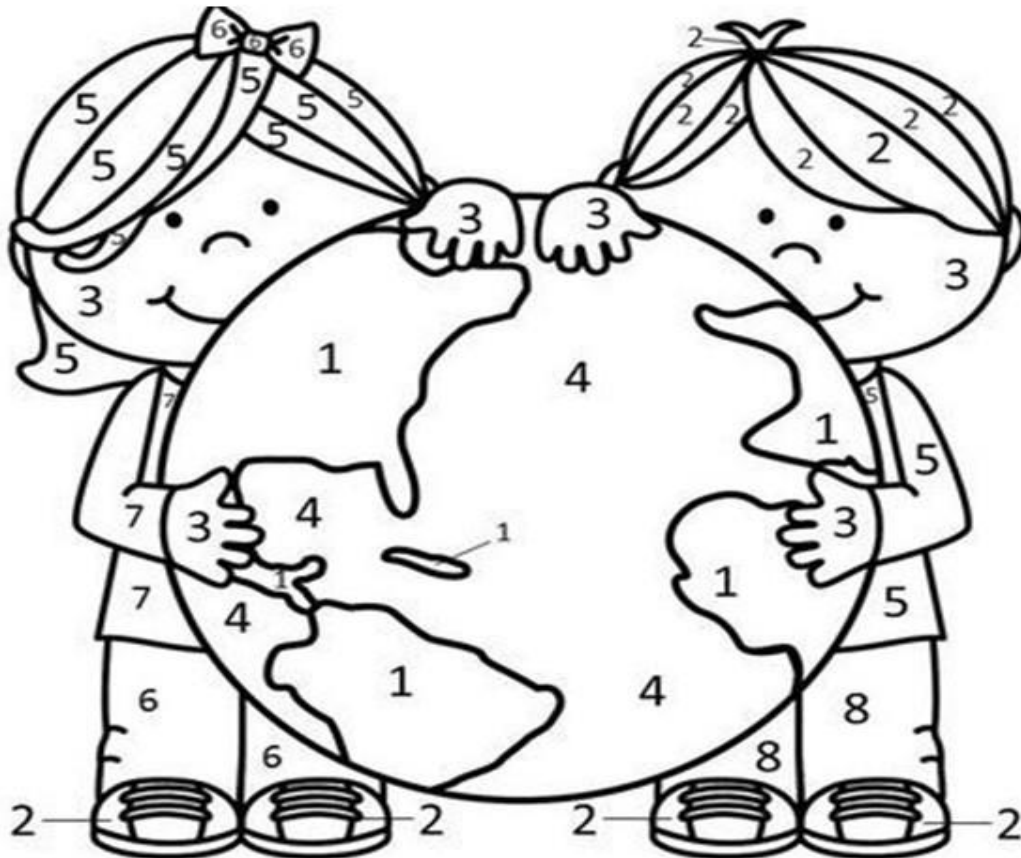
5 de junho




Dia do Meio Ambiente



1. Vamos colorir de acordo com a legenda.



- | | | |
|--------------|-------------|-----------|
| 1 = VERDE | 2 = MARROM | 3 = CREME |
| 4 = AZUL | 5 = AMARELO | 6 = ROSA |
| 7 = VERMELHO | 8 = LARANJA | |



NOME: _____
PROFESSORA: ARIADNE

MATEMÁTICA

DATA: 08/06/2021
2º ANO A

VOCÊ SABE QUANTOS DIAS TEM UMA SEMANA?

DIAS DA SEMANA

VAMOS APRENDER OS DIAS DA SEMANA!

SETE DIAS
A SEMANA TEM
QUANDO UM VAI
O OUTRO LOGO VEM
DOMINGO
SEGUNDA-FEIRA
TERÇA-FEIRA
QUARTA-FEIRA
QUINTA-FEIRA
SEXTA-FEIRA
SÁBADO

CANTEMOS JUNTOS
A CANÇÃO DO DIA
HOJE É _____
DIA DE ALEGRIA
A TODOS BOA TARDE
O MEU CANTO DIZ
QUE O DIA DE HOJE
SEJA BEM FELIZ!



CAÇA-DIAS DA SEMANA

J	K	U	S	E	G	U	N	D	A	F	E	I	R	A
K	H	S	B	A	V	Z	P	O	I	N	H	F	S	U
T	E	R	Ç	A	F	E	I	R	A	J	M	V	X	P
O	W	E	S	E	G	U	N	L	O	P	Ç	M	T	E
Q	U	A	R	T	A	F	E	I	R	A	J	A	H	F
T	E	R	Ç	S	E	X	T	A	F	E	I	R	A	B
Ç	P	N	H	Q	U	I	N	T	A	F	E	I	R	A
J	N	M	H	R	T	S	G	M	L	L	N	M	V	O
D	O	M	M	J	H	F	D	O	M	I	N	G	O	K
V	G	K	M	G	D	X	O	O	E	S	W	G	L	P
D	H	K	S	A	B	A	D	O	D	J	O	H	N	V

NOME: _____
PROFESSORA: ARIADNE

MATEMÁTICA

DATA: 09/06/2021
2º ANO A

OBSERVE O CALENDÁRIO E RESPONDA:



TRABALHANDO COM O CALENDÁRIO



DOM	SEG	TER	QUA	QUI	SEX	SAB
						1
2	3	4	5	6	7	8
9	10	11	12	13	14	15
16	17	18	19	20	21	22
23	24	25	26	27	28	29
30	31					



1 - PINTA NO CALENDÁRIO E ESCREVA O DIA DO MÊS.

A - DIA DO TRABALHO:

B - DIA DAS MÃES:

2 - QUANTAS SEMANAS COMPLETAS?

3 - QUANTAS SEMANAS INCOMPLETAS?

4 - QUAIS OS DIAS DO MÊS COMPÕEM A 4ª SEMANA COMPLETA?

5 - EM QUE DIA DA SEMANA COMEÇA O MÊS.

6 - EM QUE DIA DA SEMANA TERMINA O MÊS.

NOME: _____
PROFESSORA: ARIADNE

MATEMÁTICA/CIÊNCIAS

DATA: 10/06/2021
2º ANO A

JOGO DOS 7 ERROS



A TURMA DA MÔNICA ESTÁ AJUDANDO NO COMBATE AO MOSQUITO TRANSMISSOR DA DENGUE! VAMOS PARTICIPAR TAMBÉM, TOMANDO OS CUIDADOS NECESSÁRIOS E ENCONTRANDO OS SETE ERROS ENTRE AS FIGURAS?



NOME: _____ DATA: 14/06/2021
 PROFESSORA: ARIADNE MATEMÁTICA 2º ANO A

Sistema Monetário Brasileiro

	R\$ 2,00	DOIS REAIS
	R\$ 5,00	CINCO REAIS
	R\$ 10,00	DEZ REAIS
	R\$ 20,00	VINTE REAIS
	R\$ 50,00	CINQUENTA REAIS
	R\$ 100,00	CEM REAIS



@DIARIODATIAMARI

ESCREVA O VALOR CORRESPONDENTE:



--	--	--



--	--	--


DOIS REAIS	CINCO REAIS	VINTE E CINCO CENTAVOS
VINTE REAIS	CEM REAIS	CINCO CENTAVOS

SISTEMA MONETÁRIO


— OBSERVE AS QUANTIAS E MARQUE O CERTO.



() 35 REAIS
() 15 REAIS
() 25 REAIS



() 10 REAIS
() 9 REAIS
() 11 REAIS



() 15 REAIS
() 10 REAIS
() 12 REAIS



() 4 REAIS
() 5 REAIS
() 3 REAIS

— OBSERVE A QUANTIA QUE SOFIA E PEDRO TÊM, E RESOLVA AS QUESTÕES A SEGUIR.



A) QUANTO SOFIA TEM?

B) QUANTO PEDRO TEM?

C) QUEM TEM MAIS?








D) QUANTO SOFIA TEM A MAIS?

NOME: _____ DATA: 16/06/2021
 PROFESSORA: ARIADNE MATEMÁTICA 2º ANO A

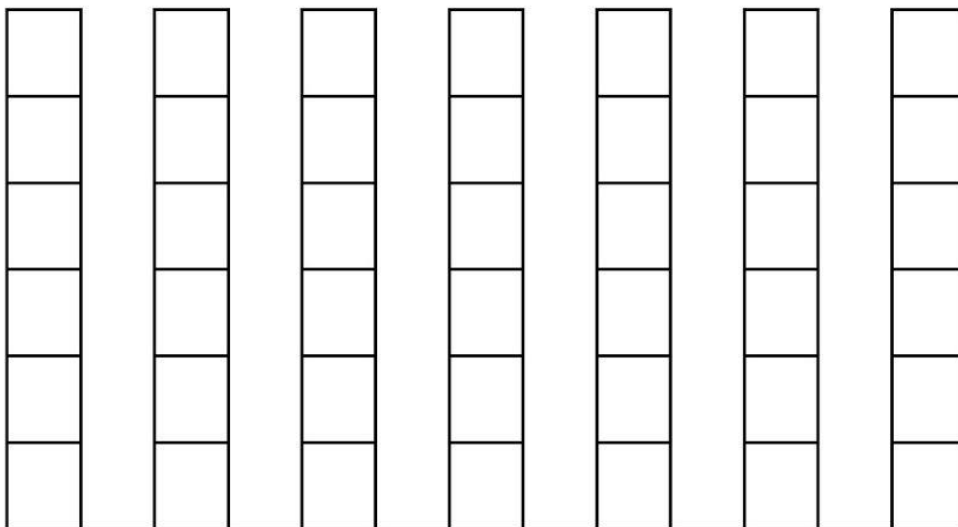
A ROSINHA GANHOU ALGUMAS PRENDAS PARA A BARRACA DA PESCARIA DE UMA FESTA JUNINA.
 ELA PRECISA CONTAR QUANTAS PRENDAS RECEBEU, AJUDE-A COMPLETANDO A TABELA E DEPOIS O GRÁFICO:



- COMPLETE A TABELA COM OS NUMERAIS REFERENTES À QUANTIDADE DAS PRENDAS:

- AGORA MARQUE AS QUANTIDADES NO GRÁFICO:



QUANTAS PRENDAS ELA RECEBEU AO TODO ? _____

NOME: _____





DATA: 17/06/2021


PROFESSORA: ARIADNE

MATEMÁTICA

2º ANO A

CONTE OS OBJETOS E COLOQUE A QUANTIDADE:



NOME: _____
PROFESSORA: ARIADNE

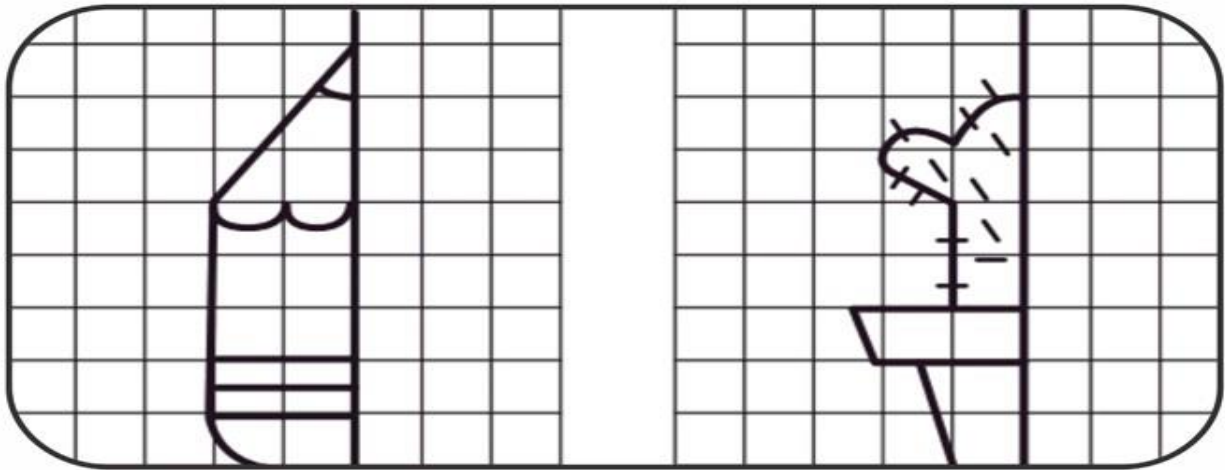
MATEMÁTICA

DATA: 18/06/2021
2º ANO A

NÚMEROS PARES SÃO :0-2-4-6 E 8 E AQUELES QUE TERMINAM COM ESSES.

NÚMEROS ÍMPARES SÃO:1-3-5-7 E 9 E AQUELES TERMINADOS COM ESSES.

COMPLETE OS DESENHOS



PESCARIA DIVERTIDA

PESQUE OS PEIXINHOS PINTANDO OS NÚMEROS PARES DE AZUL E OS NÚMEROS ÍMPAR DE VERMELHO



NOME: _____
PROFESSORA: ARIADNE

DATA: 19/06/2021
2º ANO A

MATEMÁTICA/ARTES

FAÇA UM BELO COLORIDO, RECORTE E É SÓ BRINCAR!!!!

JOGO DA MEMÓRIA

