

A decorative border of colorful, stylized letters (A, B, C, D, E, F, G, H, I, J, K, L, M, N, O, P, Q, R, S, T, U, V, W, X, Y, Z) surrounds the central text. The letters are in various colors including red, yellow, blue, green, purple, and orange, and are arranged in a circular pattern around the text.

E.M. "JOSÉ GABRIEL MACHADO"  
APOSTILA DE ESTUDOS REMOTOS  
Nº 06

CONTEÚDOS DO 2º BIMESTRE

**PERÍODO DE 07 A 19 DE JUNHO**

5º ANO B

2021

PROFESSOR: MARCELO DE ALMEIDA ALVES

*ELABORADA DE ACORDO COM AS ORIENTAÇÕES PEDAGÓGICAS Nº09 DA SME DE 20/05/2021*

## ORIENTAÇÕES APOSTILA 6

OLÁ, VOCÊ ESTÁ É A SEXTA APOSTILA DE ESTUDOS REMOTOS, DO PERÍODO DE 07 A 19 DE JUNHO. SÃO 22 ATIVIDADES, QUE DEVEM SER REALIZADAS DIARIAMENTE DE ACORDO COM O CRONOGRAMA ABAIXO, ACOMPANHE OS VÍDEOS DAS AULAS DIARIAMENTE E SE TIVER ALGUMA DÚVIDA PROCURE O PROFESSOR PARA SANAR. O LIVRO ENVIADO JUNTO COM A APOSTILA DEVE SER GUARDADO PARA UTILIZAR NA APOSTILA 7. NÃO DEIXE DE FAZER AS ATIVIDADES E ENVIAR AS FOTOS SOLICITADAS. MEU NÚMERO DE TELEFONE É (15) 99836-1401. ESSA APOSTILA DEVE SER DEVOLVIDA DIA 22 DE JUNHO.

TABELA DE ENVIO DOS VÍDEOS DAS AULAS

ATIVIDADE	ENVIO DO VÍDEO	HORÁRIO DO ENVIO
01 e 02	08/06	10h
03 e 04	08/06	10h
05 e 06	09/06	10h
07 e 08	10/06	10h
09 e 10	11/06	10h
11 e 12	14/06	10h
13 e 14	15/06	10h
15 e 16	16/06	10h
17 e 18	17/06	10h
19 e 20	18/06	10h
21 e 22	19/06	10h

ASSINATURA DO RESPONSÁVEL PELO(A) ALUNO(A)

E.M. José Gabriel Machado

Ibiúna, 07 de junho de 2021

### Atividade 01 Língua Portuguesa

Leia o texto abaixo

#### Festa caipira

Oba! Junho é o mês de muitos santos. Santo Antônio, São João e São Pedro recebem homenagens e ganham festas. A mais legal é a de São João. Meninos e meninas se vestem de caipira e caem na farrá:



- . dançam a quadrilha
- . pulam a fogueira
- . pescam surpresas
- . participam do casamento na roça
- . comem delícias: canjica, pipoca, churrasquinho, cachorro-quente, pé de moleque.

Que tentação! A gente come tanto que vem a reclamação:

\_ Criança, não tenha o olho maior que a barriga.

Dad Squarisi

#### Veja só

O nome do santo é substantivo próprio. Escreve-se São João.

O nome da festa é substantivo comum. Escreve-se São João.

#### Desafio

Escreva uma frase com os dois nomes - o próprio e o comum:

---

---

#### Caça-resposta

Busque a palavra que completa a frase: As festas juninas se chamam junina: porque derivam de:

M Ê S J U L H O F E S T A  
J U N I O R E S S A N T O  
J A N E I R O J U N H O S  
J U L I E T A J O ã O D O



## Atividade 02 Ciências

AGORA QUE VOCÊ JÁ SABE A IMPORTÂNCIA DE PRESERVAR O MEIO AMBIENTE VAMOS ESTUDAR MAIS UMA POUCO.



### ENTENDENDO O HABITAT

**Habitat é onde uma planta ou animal vive.**

Seu habitat é provavelmente uma casa ou um apartamento. Árvores, plantas, rochas, solo e água são habitats para muitos outros animais. Os peixes, por exemplo, vivem na água e por isso dizemos que seu habitat é aquático. Já as minhocas vivem embaixo da terra, sendo esse o seu habitat. Quando removemos árvores e outras plantas para dar lugar a pessoas, animais e plantas perdem seus habitats.

Construir cidades, casas, estradas e rodovias causam a perda de habitat. O mesmo acontece com as florestas cortadas para vender a madeira ou cultivar a terra.

A destruição de um habitat acontece quando grandes transformações ocorrem em um ambiente. Geralmente os principais fatores que causam a destruição de um habitat são o desmatamento, queimadas, pecuária, agricultura e a ocupação humana.

A perda do habitat pode ser agravada ainda pela seca e outros efeitos da mudança climática.

Quando plantas e animais perdem seus habitats, eles podem se tornar ameaçados de extinção, ou seja, eles podem até se tornar extintos. Dizemos que uma planta ou animal está ameaçado se houver muito poucos deles. Se todos eles morrerem, dizemos que se extinguiu.

### FLORESTAS TROPICAIS

Florestas tropicais são usadas para cobrir uma enorme quantidade da Terra. Mas agora elas estão sendo destruídas em uma velocidade assustadora. Extração de madeira, agricultura, pastagem e mineração destruíram quase todas as florestas tropicais.

A cada segundo, uma parte das florestas tropicais do tamanho de um campo de futebol é cortada. Todos os anos, uma área enorme dessas florestas são destruídas.

Nesse ritmo, em 50 anos, não haverá mais florestas tropicais na Terra!



Ibiúna, 08 de junho de 2021

## Atividade 03 Matemática

1- ESCREVA O NUMERO DE ACORDO COM A CENA.  
QUANTOS(A) SÃO:

PESSOAS:  ESTRELAS:  FOGUEIRA:  BANDEIRINHAS:  CHAPÉUS:



2. PINTO O QUADRINHO DE **VERDE** SE FOR **VERDADE**, E DE **VERMELHO** SE FOR **MENTIRA**:

- HÁ MAIS PESSOAS DO QUE ESTRELAS?
- HÁ MAIS BANDEIRINHAS DO QUE CHAPÉUS?
- HÁ MAIS PESSOAS DO QUE BANDEIRINHAS?
- HÁ MENOS ESTRELAS DO QUE BANDEIRINHAS?



LEIA O TEXTO:

## JOSÉ E FRANCISCA

Adiléa M. Isaltino Generoso



É NOITE DE SÃO JOÃO.  
JOSÉ E FRANCISCA ESTÃO BEM FANTASIADOS.  
FRANCISCA ENFEITA A SALA E O QUINTAL.  
ELA VESTE UM VESTIDO DE CHITA.  
JOSÉ USA UM CHAPÉU DE PALHA.  
ELES VÃO DANÇAR QUADRILHA.  
A QUADRILHA É DENTRO DE CASA.  
JOSÉ LIGA A TELEVISÃO E PEGA O SEU VIOLÃO.  
FRANCISCA ARRASTA O SOFÁ.  
JOSÉ TOCA VIOLÃO E ACOMPANHA A MÚSICA.  
ELES COMEM PIPOCA, CANJICA E PASTEL.  
QUE FESTA MARAVILHOSA!  
JOSÉ E FRANCISCA SE DIVERTEM PRA VALER!  
VIVA SÃO JOÃO!...

## FESTAS JUNINAS A ORIGEM



A típica Festa Junina, foi inicialmente chamada de “Festa Joanina”.

Teve origem, segundo alguns historiadores nos países católicos europeus, no século IV, e era realizada a fim de prestar homenagem a São João, motivo pelo qual recebia este nome.

Chegando ao Brasil, trazida pelos portugueses, teve o nome modificado para “Festa Junina”, e logo foi incorporada aos costumes dos povos indígenas e negros.

A influência brasileira na tradição da festa pode ser percebida na alimentação, quando foram introduzidos o aipim (mandioca), milho, jenipapo, o leite de coco e também nos costumes, como o forró, o boi-bumbá, a quadrilha e o tambor-de-crioula. Mas não foi somente a influência brasileira que permaneceu nas comemorações juninas. Os franceses, por exemplo, acrescentaram à quadrilha, passos e marcações inspirados na dança da nobreza européia. Já os fogos de artifício, que tanto embelezam a festa, foram trazidos pelos chineses.

Adaptado de: [www.brasilcultura.com.br](http://www.brasilcultura.com.br) LIPITIPLOFS

## Atividade 06 Geografia

### LEIA O TEXTO

#### Cidades: urbanização e desigualdades sociais

O tempo traz transformações para qualquer lugar. As cidades, portanto, também passam por transformações em suas paisagens: antigas construções são demolidas para dar lugar a novas, novas ruas são abertas ou ampliadas, novos bairros surgem e as pessoas ou vem procurar um novo lugar para viver ou deixam esse lugar em busca de outro. A ampliação das cidades brasileiras ocorre, geralmente, sem planejamento, ou seja, casas, comércios e ruas vão surgindo conforme a população daquele lugar a faz ocorrer. Esse crescimento desordenado causa problemas na qualidade de vida das pessoas, pois casas são construídas em áreas inapropriadas como encostas de morros, por exemplo. Ruas sem asfaltamento adequado, causam transtornos tanto no período da seca, com a poeira, quanto no período de chuvas com alagamentos e lama. Essa situação reflete a desigualdade social a qual a população brasileira enfrenta diariamente. Em uma mesma cidade observa-se a diferença entre bairros, pois há bairros que oferecem aos seus moradores uma boa distribuição dos serviços públicos além da uma infraestrutura adequada.



Por outro lado, os moradores dos bairros de periferia carecem de uma infraestrutura decente, pois sofrem com a falta de saneamento básico, ruas sem calçamentos, ineficiência na prestação de serviços básicos como coleta de lixo, iluminação pública, transporte coletivo, falta de creches, escolas, postos de saúde, entre outros, o que prejudica a qualidade de vida dos moradores desses bairros.

Brasília, a capital de nosso país, foi totalmente planejada, isso claramente beneficia seus moradores que podem usufruir de uma infraestrutura adequada, que garante uma boa qualidade de vida.

## Ibiúna 10 de junho de 2021

### Atividade 07 Matemática

#### RESOLVA OS PROBLEMINHAS

OBSERVE ATENTAMENTE A TABELA DE PREÇOS DA FESTA JUNINA E RESOLVA OS PROBLEMAS ABAIXO:

TABELA DE PREÇOS	
PULA - PULA	3,00 REAIS
TIRO AO ALVO	2,00 REAIS
JOGO DA ARGOLA	2,00 REAIS
PESCARIA	3,00 REAIS
BOCA DO PALHAÇO	1,00 REAL
CORRIDA DO SACO	3,00 REAIS
CORREIO ELEGANTE	2,00 REAIS
CARTELA DE BINGO	1,00 REAL

1. CLARA, QUER COMPRAR INGRESSOS PARA AS BRINCADEIRAS:

- 2 PULA-PULAS;
- 1 JOGO DA ARGOLA;
- 1 CARTELA DE BINGO.

QUANTO ELA PAGARÁ?

RESPOSTA: \_\_\_\_\_



TABELA DE PREÇOS	
PULA - PULA	3,00 REAIS
TIRO AO ALVO	2,00 REAIS
JOGO DA ARGOLA	2,00 REAIS
PESCARIA	3,00 REAIS
BOCA DO PALHAÇO	1,00 REAL
CORRIDA DO SACO	3,00 REAIS
CORREIO ELEGANTE	2,00 REAIS
CARTELA DE BINGO	1,00 REAL

2. FRANCISCO, TEM R\$10,00 REAIS PARA GASTAR NA FESTA.

ELE QUER GASTAR TUDO SE DIVERTINDO! ESCREVA 3 SUGESTÕES PARA GASTAR SEUS R\$ 10,00 REAIS NAS BRINCADEIRAS:

A) \_\_\_\_\_

B) \_\_\_\_\_

C) \_\_\_\_\_

## Atividade 08 Arte

LEIA O TEXTO.



A quadrilha foi criada, na Inglaterra, para comemorar as boas colheitas com fartura de comidas e festejos. Chegou ao Brasil trazido pelos portugueses.

O simbolismo da festa é de fertilidade do solo.

Os santos em destaque são: Santo Antônio, 13 de junho São João, 24 de junho e São Pedro, 29 de junho.

A fogueira é o elemento principal.

Na culinária temos as comidas típicas: a canjica, o pé-de moleque, a mandioca, a batata assada, o quentão, a pipoca etc.

Os fogos enfeitam o céu, e a música sertaneja e o forró alegam as pessoas que dançam e se balançam sorridentes: a noite toda.

Ibiúna, 11 de junho de 2021

## Atividade 09 Língua Portuguesa

RESPONDA AS QUESTÕES DE ACORDO COM O TEXTO DA ATIVIDADE 5

### ATIVIDADES



1- COMPLETE:

TÍTULO DA LEITURA: \_\_\_\_\_

NOME DA AUTORA: \_\_\_\_\_

É NOITE DE \_\_\_\_\_.

2- RESPONDA:

QUAIS SÃO OS PERSONAGENS DA LEITURA?

\_\_\_\_\_

QUAL É O VESTUÁRIO DE FRANCISCA?

\_\_\_\_\_

O QUE JOSÉ USA?

\_\_\_\_\_

ONDE É A QUADRILHA?

\_\_\_\_\_

3- FORME UMA FRASE COM A PALAVRA:

QUADRILHA: \_\_\_\_\_

\_\_\_\_\_

### Atividade 10 Matemática

RESOLVA AS ADIÇÕES

$$\begin{array}{r} 982 \\ +756 \\ \hline \end{array}$$

$$\begin{array}{r} 530 \\ +305 \\ \hline \end{array}$$

$$\begin{array}{r} 876 \\ +257 \\ \hline \end{array}$$

$$\begin{array}{r} 962 \\ +313 \\ \hline \end{array}$$

$$\begin{array}{r} 430 \\ +221 \\ \hline \end{array}$$



$$\begin{array}{r} 571 \\ +169 \\ \hline \end{array}$$

$$\begin{array}{r} 347 \\ +228 \\ \hline \end{array}$$

$$\begin{array}{r} 693 \\ +154 \\ \hline \end{array}$$

$$\begin{array}{r} 281 \\ +112 \\ \hline \end{array}$$

$$\begin{array}{r} 746 \\ +217 \\ \hline \end{array}$$

Ibiúna, 14 de junho de 2021

### Atividade 11, língua portuguesa

CONTINUAÇÃO DA ATIVIDADE 9

4- SEPARE AS SÍLABAS:

TELEVISÃO

QUINTAL

CANJICA

SÃO


5- COPIE DA LEITURA TODAS AS PALAVRAS QUE RIMAM COM:

VIOLÃO

--	--	--

6- DÊ UM ADJETIVO PARA:

VIOLÃO: \_\_\_\_\_ VESTIDO: \_\_\_\_\_

PASTEL: \_\_\_\_\_ CHAPÉU: \_\_\_\_\_

## Atividade 12, ciências

### Continuação do texto da atividade 2

Mais da metade das espécies de plantas e animais do mundo vivem em florestas tropicais. Quando as florestas são derrubadas, as plantas morrem e os animais perdem suas casas. É por isso que muitos animais e plantas da floresta tropical estão em perigo. A maioria dos cientistas concorda que 100 espécies de animais da floresta tropical estão sendo extintas - todos os dias!

#### ANIMAIS EM EXTINÇÃO

Nenhum tigre do sul da China foi visto em estado selvagem em 30 anos. Os cientistas acreditam que menos de 20 podem estar vivos na natureza e apenas 50 permanecem em cativeiro.

Esses números baixos significam que esse tigre está criticamente em perigo. Na verdade está quase extinto. A espécie será declarada extinta se não for encontrada na natureza em 50 anos. Em pouco mais de um século, 97% de todas as subespécies de tigres foram perdidas para a caça e a destruição de habitats.

Os humanos têm sido um problema para os ursos polares por anos. Desenvolvimento e caça furtiva costumavam ser os principais problemas. Agora, graças ao aquecimento global, o urso polar corre sérios riscos de extinção.

Todos os anos, o gelo do Ártico acontece por um longo período. Os ursos polares só podem viver onde o mar congela. Eles só podem caçar focas quando estão no gelo.

A lista de espécies ameaçadas dos EUA diz que esses ursos estão ameaçados de extinção, principalmente devido ao aquecimento global. O urso polar foi o primeiro animal listado por esse motivo.

A lista de animais que já passaram pelo planeta terra é muito extensa

Ibiúna, 15 de maio de 2021

## Atividade 13 Matemática

resolva as atividades abaixo.

01) Os organizadores da Festa Junina deste ano resolveram fazer pizzas para vender para os pais e alunos que irão participar da festa. Observe as pizzas e ligue a fração equivalente:



$\frac{4}{7}$



$\frac{3}{8}$



$\frac{2}{6}$



$\frac{3}{5}$

02) Utilizamos o metro para medir o comprimento. Com o metro medimos ruas, tecidos, pessoas. Para enfeitar nossa Festa Junina, utilizamos diferentes objetos usados para medir. Observe e complete as frases corretamente:



Fita métrica



Régua



Metro



Trena



## Atividade 14 História

De acordo com o texto da atividade 4 responda as questões abaixo.

### DE OLHO NO TEXTO



1- Preencha as lacunas:

A típica \_\_\_\_\_, foi inicialmente chamada de \_\_\_\_\_.  
Teve origem, segundo alguns \_\_\_\_\_ nos países católicos \_\_\_\_\_  
no século \_\_\_\_\_, e era realizada a fim de prestar homenagem a \_\_\_\_\_  
motivo pelo qual recebia este nome.

2- O texto informa que as Festas Juninas receberam influência de outros países. Quais foram estes países?

3- Em relação à alimentação, qual foi a influência do Brasil nas Festas Juninas?

4- De qual país foram trazidos os fogos de artifício que tanto embelezam as Festas Juninas?

5- Você sabe o que é um historiador? Responda com suas palavras.

### CONTINUE DE OLHO

1- Responda com atenção....

Típica é o mesmo que \_\_\_\_\_

Origem diz respeito a \_\_\_\_\_


Tradição é \_\_\_\_\_

LIPITDIPL.org

Ibiúna, 16 de maio de 2021

## Atividade 15 língua portuguesa

### VAMOS RESOLVER A CRUZADINHA?



1 - fogueira  
2 - São Pedro  
3 - traques  
4 - Santo Antônio  
5 - amendoim

6 - São João  
7 - foguetes  
8 - bandeirinhas  
9 - pescaria  
10 - casamento

11 - chapéu  
12 - quadrilha  
13 - pipoca  
14 - bombas  
15 - sanfona

16 - quantão  
17 - milho  
18 - paçoca  
19 - buscapês  
20 - balões

## Atividade 16 Geografia

### As conexões entre as cidades

O Brasil possui 5.570 municípios, deste total 75% tem até 20 mil habitantes, ou seja, a maioria das cidades brasileiras é pequena. Porém, mais de 80% da população brasileira vive nas cidades médias e grandes. O aumento da população urbana é chamado de urbanização. O processo de urbanização do Brasil se tornou mais intenso a partir de 1940, quando uma boa parte da população deixou o campo e migrou para as grandes cidades. A população das cidades pequenas e grandes está conectada de diversas formas. Muitos moradores das cidades pequenas procuram nas cidades grandes serviços de saúde, educação, comércio etc. As cidades médias e grandes também estão conectadas entre si, rodovias, portos e aeroportos, garantem uma interação maior entre as populações dessas cidades. O processo de urbanização também modifica as paisagens rurais, uma vez que, há um aumento da interdependência entre campo e cidade, com maior circulação de pessoas, mercadorias e informações entre esses espaços. As metrópoles são cidades que possuem uma grande quantidade de habitantes, com várias atividades econômicas e intenso fluxo de comunicação e serviços. As capitais de cada estado brasileiro, são metrópoles que exercem forte influência no fluxo de bens e serviços para a população daquele estado. No entorno das metrópoles, agrupam-se vários municípios, que juntos formam uma região metropolitana. Nas regiões metropolitanas, a área urbana de um município une-se à de outro, formando uma área urbana contínua, ou seja, no dia a dia, não se percebe onde termina um município e onde começa o outro. Quando ocorre a fusão de duas ou mais metrópoles, temos a formação de uma megalópole. Em nosso país, a primeira megalópole que está se formando abrange o eixo Rio de Janeiro – São Paulo/ Campinas.

### Atividades

1. Quais as desvantagens da ampliação das cidades sem planejamento?

---

---

---

## Ibiúna, 17 de junho de 2021

### Atividade 17 Matemática

#### Festa Junina

O mês de Junho é caracterizado por danças, comidas típicas, bandeirinhas, além das peculiaridades de cada região. É a festa junina, que se inicia no dia 12 de Junho, véspera do Dia de Santo Antônio e encerra no dia 29, dia de São Pedro.

O ponto mais elevado da festa ocorre entre os dias 13 o Dia de Santo Antônio e 24, o Dia de São João. Durante os festejos acontecem as quadrilhas, os forrós, leilões, bingos e os casamentos caipiras.



#### 1 - Resolva os problemas:

1) A escola Pantoja pretende arrecadar R\$ 1.500,00 em votinhos de Rainha da Pipoca e Rei do Amendoim. Com essa quantia poderá comprar os ingredientes para fazer as comidas e bebidas para a grande Arraiá da escola. A diretora da escola gastará R\$ 578,80 no supermercado, R\$ 495,50 no açougue e R\$287,00 em refrigerantes. Quanto gastará? Quanto receberá de troco se levar a quantia de R\$ 1.500,00 pretendidos ser arrecadados em votos?

Resposta: \_\_\_\_\_

2) Para a festa junina, serão feitos os seguintes salgados:

Coxinhas	2950
Pasteis	1896
Empadas	1376
Espetinhos	1345
Bolinhas de queijo	1240

a) Qual salgado terá a maior quantidade? \_\_\_\_\_

b) Quantas coxinhas serão feitas as mais que as empadas? \_\_\_\_\_

c) Quantos salgados serão feitos ao todo? \_\_\_\_\_


## Atividade 18 arte

### Aprenda a dançar os passos mais importantes da quadrilha

"Marcador" usa palavras de origem francesa para orientar os movimentos dos pares

#### Salu de Damas (*Salut de Dames*) ou Saudação de Damas

Damas convergem para o centro, segurando a barra da saia. Estendem a ponta do pé esquerdo à frente e inclinam o tronco.



#### Promenade (*Promenade*) ou Passeio

As duas fileiras se dirigem à direita e se unem, formando um círculo. As damas, à direita dos cavalheiros, dão-lhes o braço de dentro da roda e balançam o outro ao longo do corpo, no ritmo da música.

#### A Ponte

O primeiro par pára e eleva os braços, com as mãos dadas, fazendo uma ponte.

O segundo passa por baixo, coloca-se à frente do primeiro e repete o movimento. Todos os casais passam sob as pontes.



#### Caminho da Roça

As fileiras formam uma coluna: o primeiro da fila, com as mãos sobre os próprios ombros e o demais com as mãos estendidas sobre os ombros de quem vai à frente. Avançam e dão meia-volta, conforme a marcação.



SUPERINTERESSANTE. Nhã-história do arraiá. São Paulo : Abril, 93. ed., ano 9, n. 6, jun. 1995. p. 27.

## Ibiúna, 18 de junho de 2021

## Atividade 19 Língua Portuguesa

### Caça-palavras



Encontre 9 palavras relacionadas a festa junina

M	A	Q	U	E	N	T	Ã	O	P	R	R	A	E	I
R	U	M	L	E	O	B	T	T	B	H	E	M	Y	L
O	E	U	É	B	A	L	Ã	O	S	E	A	E	F	K
Y	A	T	H	O	T	Q	L	C	L	F	O	N	U	Q
O	B	G	O	F	U	E	S	R	A	Z	T	D	R	U
H	E	U	Y	H	Q	A	R	E	I	E	Q	O	L	A
D	K	I	A	O	H	T	S	O	G	L	G	I	O	D
L	O	D	O	T	E	I	A	D	P	I	U	M	F	R
K	P	R	E	C	H	A	P	É	U	R	F	T	A	I
E	I	O	S	H	Y	B	Q	R	O	B	O	F	R	L
O	P	Y	B	A	R	R	A	C	A	S	R	U	B	H
L	O	É	T	I	F	T	U	S	G	A	R	O	R	A
H	C	R	A	H	Y	D	Q	A	O	E	Ó	H	T	E
V	A	A	E	U	A	S	R	T	H	I	A	D	B	I
A	E	H	F	O	G	U	E	I	R	A	F	L	A	O

Fogueira    Forró    Balão    Amendoim  
Chapéu    Pipoca    Barracas    Quadrilha    Quentão

ESCREVA AS PALAVRAS ACIMA EM ORDEM ALFABÉTICA:

- 1- \_\_\_\_\_ 4- \_\_\_\_\_ 7- \_\_\_\_\_  
2- \_\_\_\_\_ 5- \_\_\_\_\_ 8- \_\_\_\_\_  
3- \_\_\_\_\_ 6- \_\_\_\_\_ 9- \_\_\_\_\_


## Atividade 20 Matemática

### RESOLVA OS PROBLEMINHAS

- b) No dia da festa, Bianca comprou dois pasteis por \$5,20, duas maçãs do amor por \$ 3,40 e dois refrigerantes por \$7,60. Quanto Bianca gastou?

Cálculo	Resposta

- 05) Toda Festa Junina tem deliciosos quitutes. Maria, mãe da aluna Juliana, comprou 5 pipocas, 3 bolos de fubá, 4 maçãs do amor, 6 refrigerantes. Pinte no gráfico abaixo os itens que a mãe de Juliana comprou:



- a) Qual item a mãe de Juliana comprou em maior quantidade?  
\_\_\_\_\_
- b) Qual item a mãe de Juliana comprou em menor quantidade?  
\_\_\_\_\_
- c) Quantos itens ela comprou ao todo?  
\_\_\_\_\_

## Ibiúna, 19 de junho de 2021

### Atividade 21 Matemática

- d) Se somar o total de maçãs do amor com o total de refrigerante, obteremos que resultado?  
\_\_\_\_\_
- e) Se diminuirmos o total de refrigerantes pelo o total de pipocas, obteremos que resultado?  
\_\_\_\_\_

- 06) Outra diversão das Festas Juninas são os totós. Gabriel comprou fichas para jogar e decidiu fracionar o tempo para que todos os seus amigos jogassem. Ajude João e seus colegas, representando as frações em desenhos:

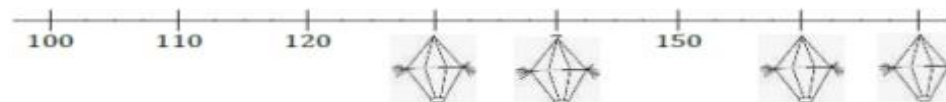
$$\frac{1}{2}$$

$$\frac{2}{4}$$

$$\frac{1}{3}$$

$$\frac{1}{5}$$

- 07) Na reta abaixo, a distância entre as marcas consecutivas são 10. Ajude o caipirinha Lucas a descobrir o número que corresponde a cada balãozinho e marque a opção correta:




- ( ) 120, 170, 150, 130
- ( ) 130, 140, 160, 170
- ( ) 110, 130, 170, 140
- ( ) 130, 140, 170, 180



Você é show!

## Atividade 22 Língua Portuguesa



### A PESCARIA

O EVENTO DE FESTAS JUNINAS NA ESCOLA DE MÔNICA E CEBOLINHA FOI MARAVILHOSO. TEVE ATÉ PESCARIA. MAS , ONDE ESSES DOIS ESTÃO ACONTECEM SITUAÇÕES BEM ENGRAÇADAS, NÃO É VERDADE? IMAGINE COMO FOI ESTE MOMENTO E CONTE PARA SEUS COLEGAS EM UM TEXTO CURTO COM O GÊNERO QUE DESEJAR.

---

---

---

---

---

---

---

---

---

---

---

LIPITIPi.org

## Referências

- <https://www.lipitipi.org/2015/06/atividade-texto-interpretacao-origem.html>
- <https://www.taubate.sp.gov.br/wp-content/uploads/2020/07/Atividade-90-Festa-Junina-dos-n%C3%BAmoros.pdf>
- <https://misturadealegria.blogspot.com/2016/05/musicas-juninas-com-interpretacoes.html>
- <https://misturadealegria.blogspot.com/2020/06/leitura-e-interpretacao-de-texto-festa.html>
- <https://www.slideshare.net/andreaalves378199/sequencia-de-atividades-de-matematica-festa-junina>
- <https://miriamveiga.com.br/festa-junina-problemas/>
- <https://www.pinterest.co.uk/amp/pin/124341639692728181/>
- [https://www.pinterest.co.uk/pin/504755070726656223/?amp\\_client\\_id=amp-2vb4SvamUStvWdskLI-Pg&mweb\\_unauth\\_id=537f2a909bc44e5e9c506fcb39fc5416&url=https%3A%2F%2Fwww.pinterest.co.uk%2Famp%2Fpin%2F124341639692728181%2F](https://www.pinterest.co.uk/pin/504755070726656223/?amp_client_id=amp-2vb4SvamUStvWdskLI-Pg&mweb_unauth_id=537f2a909bc44e5e9c506fcb39fc5416&url=https%3A%2F%2Fwww.pinterest.co.uk%2Famp%2Fpin%2F124341639692728181%2F)
- <https://miriamveiga.com.br/festa-junina-caca-palavras-e-texto/>
- <https://alfakids.org/atividades-ciencias-habitat-4-ano-5-ano/>
- <http://jardimcoloridodatiassuh.blogspot.com/2013/05/atividades-de-festa-junina-para-o-5-ano.html>
- <https://ensinarhoje.com/cidades-urbanizacao-e-desigualdades-social/>