



PREFEITURA DA ESTÂNCIA TURÍSTICA DE  
**IBIÚNA**  
*Por uma Ibiúna próspera. Investindo no presente, gerando o futuro.*  
SECRETARIA DE EDUCAÇÃO



6º Apostila ( 7 a 19 de Junho )

## 5º Ano B

Devolução dia 22/06.



**Nome da Escola:**

E.M" Maria Benedita Rodrigues

*Profº Grazielle Clemente Machado*

**2º BIMESTRE/2021**



#AulasEmCasa



# Atividades Juninas

**LÍNGUA  
PORTUGUESA**

**MATEMÁTICA**

**5° ANO**

## ATIVIDADE 1

Leia o texto abaixo:

### Um caipira apaixonado



Mentalmente Marcelo ensaiava a quadrilha : um, dois, três, volta. Ele ajoelha, ela dá uma volta. Um, dois, três, vira. Ela cumprimenta, ele gira.

Ele estava assim nervoso por causa de Carolina, a noiva. Ela era mesmo uma graça de menina e Marcelo, apaixonado, achava que na hora daria tudo errado.

Hora da festa, coração aos pulos, Marcelo pergunta aflito:

\_\_ Mamãe , será que na hora eu lembro?

\_\_ Claro, Marcelo, fique tranquilo - respondeu a mãe, no fundo sabendo que um coração apaixonado às vezes arruma grandes confusões.

De repente, a professora chamou:

\_\_ Todos em fila, vai começar. E...um, dois, três, quatro.

Ele deu a volta e ... Marcelo perdeu o sapato!

Ele pensou: E agora? Perco a noiva, perco tudo, a quadrilha vai embora.

Mas como era bem esperto, fingiu que tinha sido combinado. Fez papel de caipira atrapalhado e, pé com sapato e outro sem, Marcelo mancou com graça,

fez careta de pirraça.

A platéia deu risada e aplaudiu mesmo, com gosto, o noivo tão divertido.

Quando o padre perguntou:

\_\_ Qué casa cum seu cumpadre?

Carolina, encantada, bem depressa respondeu:

\_\_ Quero, sim! Quero, seu padre!

Responda:

A) Qual o nome do texto?

---

---

B) Como Marcelo ensaiava a quadrilha?

---

---

C) Qual a preocupação de Marcelo?

---

---

D) Por que Marcelo estava nervoso?

---

---

E) Segundo a mãe de Marcelo, o que acontece com um coração apixonado?

---

---

F) Quando iniciou a quadrilha, o que aconteceu com Marcelo?

---

---

G) Com sua esperteza, o que Marcelo fez quando perdeu o sapato?

---

---



## ATIVIDADE 2

### Preste atenção!

**Porque-** Porque junto e sem acento é usado em respostas e frases afirmativas.

**Por que-** Separado e sem acento, "por que" é usado para fazer perguntas.

**Porquê-** Junto e com acento, "porquê" é sinônimo de "motivo" ou "razão" e funciona como um substantivo, aparecendo sempre antes do pronome "o", deste modo: Não sei o porquê ele não veio.

**Por quê-** Separado e com acento, "por quê" também é usado para perguntas, mas aparece só no final das frases interrogativas. Ele não veio hoje por quê?

Complete as frases abaixo com: porque, por que, porquê ou por quê

- A) \_\_\_\_\_ Marcelo estava nervoso?
- B) Carolina estava encantada \_\_\_\_\_ Marcelo estava engraçado
- C) \_\_\_\_\_ a plateia deu risada?
- D) Não sei o \_\_\_\_\_ de tanto nervosismo.
- E) Tudo deu certo \_\_\_\_\_ Marcelo era muito esperto.
- F) Marcelo mancou \_\_\_\_\_?

Faça como o modelo:

A) Por que você não come?

Porque não estou com fome.

B) Por que você acorda?

\_\_\_\_\_

C) Por que o leão fugiu?

\_\_\_\_\_

D) Por que o cachorro late?

\_\_\_\_\_

E) Por que a xícara tem asas, mas não voa?

\_\_\_\_\_

## ATIVIDADE 2

### Preste atenção!

**Porque-** Porque junto e sem acento é usado em respostas e frases afirmativas.

**Por que-** Separado e sem acento, "por que" é usado para fazer perguntas.

**Porquê-** Junto e com acento, "porquê" é sinônimo de "motivo" ou "razão" e funciona como um substantivo, aparecendo sempre antes do pronome "o", deste modo: Não sei o porquê ele não veio.

**Por quê-** Separado e com acento, "por quê" também é usado para perguntas, mas aparece só no final das frases interrogativas. Ele não veio hoje por quê?

Complete as frases abaixo com: porque, por que, porquê ou por quê

- A) \_\_\_\_\_ Marcelo estava nervoso?
- B) Carolina estava encantada \_\_\_\_\_ Marcelo estava engraçado
- C) \_\_\_\_\_ a plateia deu risada?
- D) Não sei o \_\_\_\_\_ de tanto nervosismo.
- E) Tudo deu certo \_\_\_\_\_ Marcelo era muito esperto.
- F) Marcelo mancou \_\_\_\_\_?

Faça como o modelo:

- A) Por que você não come?

Porque não estou com fome.

- B) Por que você acorda?

\_\_\_\_\_

- C) Por que o leão fugiu?

\_\_\_\_\_

- D) Por que o cachorro late?

\_\_\_\_\_

- E) Por que a xícara tem asas, mas não voa?

\_\_\_\_\_



### ATIVIDADE 3

Substitua os nomes por pronomes pessoais do caso oblíquo. Siga o modelo:

Comprei **um carro**. Comprei-**o**.

A) Encontrei **o menino**.

\_\_\_\_\_

B) Guarde **as blusas**.

\_\_\_\_\_

C) Pegue **os vasos**.

\_\_\_\_\_

Os **pronomes oblíquos** podem ser subdivididos em tônicos (mim, comigo, ti, contigo, si, consigo, nós, conosco, vós, convosco) e átonos (me, te, se, o, a, lhe, nos, vos, se, os, as, lhes).

Venderam **o carro**. Venderam-**no**.

A) Deram **o recado**.

\_\_\_\_\_

B) Disseram **a verdade**.

\_\_\_\_\_

C) Acompanhe **as crianças**.

\_\_\_\_\_

Vou comprar **o carro**. Vou compra-**lo**.

A) Preciso varrer o quintal.

\_\_\_\_\_

B) Vou repartir o lanche.

\_\_\_\_\_

C) Consegui vender os doces.

\_\_\_\_\_







# JOGO DOS SETE ERROS



## MATEMÁTICA



A festa junina é celebrada no Brasil desde o século XVII e constitui a segunda maior comemoração realizada pelos brasileiros, ficando atrás apenas do Carnaval.

Comidas típicas, danças e enfeites utilizados nas festas de hoje são uma junção de partes da cultura africana,

Responda:

Escreva em língua materna o Algarismo Romano (XVII), citado no texto a cima.

Passe os números romanos para números indo-arábico.

a) CCXLIX = \_\_\_\_\_

d) CMLXXIX = \_\_\_\_\_

b) CDXVII = \_\_\_\_\_

e) MDCLI = \_\_\_\_\_

c) DLXVIII = \_\_\_\_\_

f) MDLXXXVI = \_\_\_\_\_



Para enfeitar a escola cada turma colaborou com a confecção de 60 bandeirinhas coloridas; sabendo que a escola tem 12 turmas no horário da manhã e 10 turmas no horário da tarde, responda as atividades a seguir.

Quantas bandeirinhas foram confeccionadas no período da manhã?

Quantas bandeirinhas foram confeccionadas no período da tarde?

Qual foi o total de bandeirinhas confeccionadas nos dois períodos?

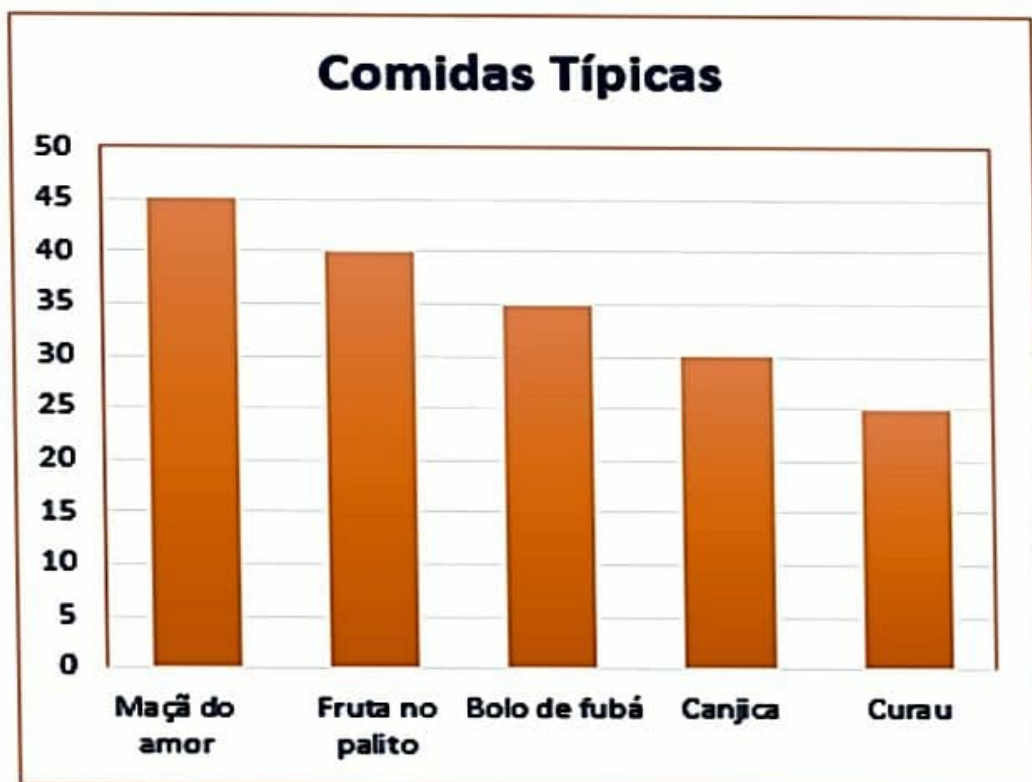
Aline estava separando os ingredientes para fazer uma receita do bolo de milho para sua festa, percebeu que o bolo ficaria pequeno, então resolveu fazer numa forma maior. Observe a imagem abaixo e responda:



Como ficaria a receita se Aline resolver dobrar o tamanho do bolo?

Como ficaria a receita se Aline resolver triplicar o tamanho do bolo?

Foi realizada uma pesquisa sobre as comidas típicas preferidas na festa junina. Observe o gráfico e responda:



Qual foi a comida típica mais votada e a menos votada?

Quantas pessoas no total participaram da pesquisa?

Percorra a trilha resolvendo as operações.



$9 \times 8 =$		$: 8 =$		$+ 16 =$	
----------------	--	---------	--	----------	--

$3 \times$		$= 9 \times$		$= 2 -$		$= 5$
------------	--	--------------	--	---------	--	-------

$=$						
-----	--	--	--	--	--	--

	$: 9 =$		$+ 26 =$		$: 7 =$	
--	---------	--	----------	--	---------	--

						$+$
--	--	--	--	--	--	-----

	$= 10 +$		$= 5 \times$		$= 8 :$		$= 27$
--	----------	--	--------------	--	---------	--	--------

$:$							
-----	--	--	--	--	--	--	--

$15 =$		$\times 14 =$		$: 4 =$		$\times 9 =$	
--------	--	---------------	--	---------	--	--------------	--

							$:$
--	--	--	--	--	--	--	-----

$3 \times$		$= 11 -$		$= 30 +$		$= 3$
------------	--	----------	--	----------	--	-------

$=$						
-----	--	--	--	--	--	--

	$: 6 =$		$- 14 =$		$\times 9 =$	
--	---------	--	----------	--	--------------	--

							$:$
--	--	--	--	--	--	--	-----

	$= 5 :$		$= 5 +$		$= 5 \times$		$= 3$
--	---------	--	---------	--	--------------	--	-------

$-$							
-----	--	--	--	--	--	--	--

$6 =$		$+ 8 =$		$: 7 =$		$\times 27$	
-------	--	---------	--	---------	--	-------------	--

							$=$
--	--	--	--	--	--	--	-----

	$= 27 +$		$= 7 \times$		$= 9 :$		
--	----------	--	--------------	--	---------	--	--

$:$							
-----	--	--	--	--	--	--	--

$5 =$		$\times 7 =$		$: 6 =$		$+ 74 =$	
-------	--	--------------	--	---------	--	----------	--

							$:$
--	--	--	--	--	--	--	-----

$133 = 7 \times$		$= 5$
------------------	--	-------



# As cinco maiores festas juninas do Brasil

Campina Grande e Caruaru são consideradas as "maiores festas de São João" do mundo. Regado a comida típica, forró e muito folclore, o mês de junho é marcado pelas tradicionalíssimas festas de celebração dos principais santos juninos: Santo Antônio, São Pedro, São João e São Paulo. Veja quais são as principais celebrações juninas do Brasil.



## Festa junina de São João de Caruaru (Pernambuco)

Disputa com Campina Grande (PB) o título de maior festa de São João do Mundo. Quadrilhas com até 4 mil pessoas, forrós, comida típica e desfiles lotam o Pátio de Eventos Luiz Gonzaga, no Centro, e o bairro Alto do Moura. Começa em maio e vai até o final de junho.

## Bumba Meu Boi, São Luís

É a festa mais tradicional do folclore maranhense. A partir do dia de Santo Antônio (13 de junho) até o dia 30 do mesmo mês (dia de São Marçal), grupos folclóricos de todo o estado se encontram nas ruas de São Luís para contar a história da escrava Catirina e de seu marido, que precisam ressuscitar o animal que haviam matado. Os grupos se apresentam ao redor de bois coloridos, num festival marcado por danças e ritmos.

## São João, Aracaju

Em junho o som da sanfona e da zabumba tomam conta do centro e da orla de Aracaju. No centro acontece o Forró Caju, com apresentações de grandes nomes da música brasileira e artistas regionais, e na orla de Atalaia é realizado o Arraial do Povo, uma cidade cenográfica imita uma vila no interior.

## Festa de São João em Campina Grande (PB)

Conhecida como o "maior São João do Mundo", a festa ocupa o espaço da grandiosa Praça Parque do Povo. O evento conta com palcos de forró, quadrilhas e shows. A festa acontece do dia 6 de junho até o dia 6 de julho. O dia de São João, 24 de junho, é quando a festa tem mais movimento.

## Encontro Nacional de Folguedos, Teresina

Acontece na segunda quinzena de junho. Apresentações de grupos folclóricos, quadrilhas, comidas típicas e oficinas agitam os palcos montados especialmente para o Festival em Teresina.



Após a leitura do texto, responda.

1- Qual o assunto principal do texto?

---

2- As cidades citadas no texto são de qual região do Brasil?

---

3- Você conhece essa região?

(     ) Sim                      (     ) Não

4- Em qual região brasileira você mora? Em qual cidade?

---

5- Copie o nome das cidades e estados que aparecem no texto.

---

---

6- Pinte no mapa.

a) os estados onde ficam as cidades:

 Campina Grande

 São Luís

 Caruaru

 Aracaju

 Teresina

b)  Contorne a região

Nordeste.





## História da Festa Junina

Existem duas explicações para o termo festa junina. A primeira é que surgiu em função das festividades de junho, a outra diz que seriam em homenagem a São João. No princípio, a festa era chamada de Joarina. Esta festa foi trazida para o Brasil pelos portugueses, durante o período colonial. Nesta época, havia uma grande influência cultural dos portugueses, chineses, espanhóis e franceses. Da França veio a dança marcada, característica típica das danças nobres. Já a tradição de soltar fogos de artifício veio da China, região de onde teria surgido a manipulação da pólvora para a fabricação de fogos. De Portugal e na Espanha veio a dança de fitas. Todos estes elementos culturais foram com o passar do tempo, misturando-se aos aspectos culturais dos brasileiros (índigenas, afro-brasileiros e imigrantes europeus). Embora sejam comemoradas nos quatro cantos do Brasil, na região Nordeste as festas ganham maior expressão. No mês de junho se homenageiam aos três santos católicos: São João, São Pedro e Santo Antônio. Como é uma região de seca, os nordestinos aproveitam as festividades para agradecer as chuvas caindo na região, que servem para manter a agricultura. Além de alegrar o povo, as festas melhoram a economia, pois muitos turistas visitam cidades. Como o mês de junho é a época da colheita do milho, grande parte dos doces, bolos e salgadinhos relacionados às festividades. As tradições fazem parte das comemorações. O mês de junho é marcado pelas fogueiras, que servem como cenário para a famosa dança do quadrilha. Os balões também compõem este cenário, embora cada vez mais raros em função das leis que proíbem esta prática, em função dos riscos de incêndio que representam. Como Santo Antônio é considerado o santo casamenteiro, são comuns as simpatias. No dia 13 de junho, as igrejas católicas distribuem o "pãozinho de Santo Antônio". Diz a tradição que o pão bento deve ser colocado junto aos outros mantimentos da casa, para que nunca ocorra a falta. As mulheres que querem se casar, diz a tradição, devem comer deste pão.

## Atividades.

1. Qual é a explicação para o termo "festa junina"?
2. Qual é a origem das festas juninas?
3. Qual a contribuição cultural de cada país para a festa junina?  
# França  
# Portugal e Espanha  
# China
4. Quem que região do Brasil as festas juninas são mais comemoradas?
5. As festas juninas são homenagens a quais santos católicos?
6. Qual é o principal agradecimento feito aos santos durante a festa junina no nordeste?
7. Qual é a importância das festas juninas para o nordeste?
8. Por que a maioria das comidas das festas juninas é à base de milho?
9. Cite três práticas que são tradição durante as festas juninas.
10. Por que é proibido soltar balão?
11. Quem é considerado o santo casamenteiro?
12. Escreva uma simpatia que as mulheres fazem para o santo casamenteiro, quando querem se casar.





1) Observe o mapa e responda:



- Região Norte
- Região Nordeste
- Região Centro-Oeste
- Região Sudeste
- Região Sul

1) Em quantas regiões está dividida o Brasil? E quais são elas?

---

---

---

2) Qual é o estado e a Capital que você mora?

---

---

3) Qual é o estado brasileiro com a maior extensão territorial? E com a menor?

---

---

---

4) Qual é a maior região brasileira em extensão territorial? E a menor região?

---

---

---

5) Qual estado está situada a sede, a capital do governo brasileiro?

---

---



# FESTA JUNINA

04. Em que estado brasileiro acontece a maior de todas as festas juninas?

---

---

05. Cite algumas brincadeiras, que são praticadas nas festas juninas.

---

---

06. Por que não podemos soltar balões para iluminar o céu?

---



---

07. A região brasileira que concentra as maiores festas juninas é:

- ( ) Norte
- ( ) Nordeste
- ( ) Centro-oeste
- ( ) Sul
- ( ) Sudeste



► Descubra as palavras e complete a cruzadinha.



- ① Mês das festas juninas.
- ② Todos comem ..... torrado. **men** **do**
- ③ É um dos santos comemorados neste mês: São ..... **dro** **re**
- ④ Todos gostam de batata-doce ..... **da** **sa**
- ⑤ A criança adora dançar ..... **gualha** **dri**
- ⑥ O terreiro fica todo enfeitado com ..... **nhas** **ri** **dei**
- ⑦ Mamãe faz um panelão de ..... com leite. **ji** **ca** **na**
- ⑧ Os senhores fazem ..... com canela e gengibre. **tão** **ben**
- ⑨ Santo ..... é o santo casamenteiro. **no** **tô**
- ⑩ A criança assa o ..... verde na brasa. **ão** **mi**
- ⑪ Capelinha de melão é de São ..... **do** **ão**

# Caça-palavras



Encontre 9 palavras  
relacionadas a festa junina

M	A	Q	U	E	N	T	Ã	O	P	R	R	A	E	I
R	U	M	L	E	O	B	T	T	B	H	E	M	Y	L
O	E	U	É	B	A	L	Ã	O	S	E	A	E	F	K
Y	A	T	H	O	T	Q	L	C	L	F	O	N	U	Q
O	B	G	O	F	U	E	S	R	A	Z	T	D	R	U
H	E	U	Y	H	Q	A	R	E	I	E	Q	O	L	A
D	K	I	A	O	H	T	S	O	G	L	G	I	O	D
L	O	D	O	T	E	I	A	D	P	I	U	M	F	R
K	P	R	E	C	H	A	P	É	U	R	F	T	A	I
E	I	O	S	H	Y	B	Q	R	O	B	O	F	R	L
O	P	Y	B	A	R	R	A	C	A	S	R	U	B	H
L	O	É	T	I	F	T	U	S	G	A	R	O	R	A
H	C	R	A	H	Y	D	Q	A	O	E	Ó	H	T	E
V	A	A	E	U	A	S	R	T	H	I	A	D	B	I
A	E	H	F	O	G	U	E	I	R	A	F	L	A	O

Fogueira

Forró

Balão

Amendoim

Chapéu

Quadrilha

Pipoca

Barracas

Quentão

**criatividade.**

**- Colar palha, fita, pedaços de tecido, papéis coloridos, lã, etc.**

