

E.M. Waldomiro Antonio Soares

6° APOSTILA



Minhas Atividades



PROFESSORA: Regina
ALUNO(a): _____
TURMA: 3º ano B



Ibiúna, 07 de Junho de 2021

COPIE AS PALAVRAS EXERCITANDO O DIMINUTIVO:



bolinha



avozinho



casinha



dadinho



elefantezinho

Escola: Waldemiro Antunes Soares

Data: 08/06/2021 Turma:

ESCOLAEDUCACAO.COM.BR

Aluno:

LEITURA

FESTAS JUNINAS



As festas juninas são realizadas no mês de junho, para comemorar os dias de Santo Antônio (dia 13), São João (dia 24) e São Pedro (dia 29).

Renato e Célia resolveram fazer uma festa no dia de São João. Depois da festa, Renato escreveu o seguinte no seu álbum:

Ontem, eu e Célia fizemos uma festa em comemoração ao Dia de São João.

Nós enfeitamos o quintal de nossa casa com bandeirinhas coloridas, feitas de papel de seda.

Mamãe fez docinhos de abóbora, de batata-doce, cocadinhas, pés-de-moleques e canjica.

Papai cuidou das pipocas, do amendoim torrado e preparou os refrescos.

Os convidados chegaram, todos vestidos de caipira.

Todos brincaram, correram, dançaram quadrilha, ouviram música. Enfim, todos nós nos divertimos muito.

Depois de todos terem comido e bebido à vontade, a festa terminou.

Gostei muito da minha festa junina!

NOME _____

TURMA _____

DATA 09/06/2021 PROF. REGINA

LEIA EM VOZ ALTA

Noite de São João

Gerusa Rodrigues Pinto.

Noite fria de junho
Noite de São João
Pra esquentar do frio
Vamos tomarquentão.

Quanta alegria
Na noite de São João
Vamos pular a fogueira
E soltar muito rojão

O balão é perigoso
Criança, não solte não.
Invente outra brincadeira
Pra noite de São João



ATIVIDADES

Questão 1 – Leia o texto e responda:

A) Qual o título do texto? _____

B) Qual o autor(a) do texto? _____

C) O assunto do texto é _____

D) Esse texto é um

fábula

poema

reportagem

lista

Questão 2 – A autora aconselha que crianças não devem soltar balão por quê é:

engraçado

perigoso

divertido

interessante

Questão 3 – Durante a festa, onde as pessoas devem depositar o lixo, como copinhos e pratinhos? Escreva uma frase contando o que deve ser feito com esse lixo.

NOME: _____

DATA: 10/06/2021



HÁ NOME PARA TUDO

Todas as coisas têm um nome. As palavras que nomeiam seres, objetos, sentimentos e todas as coisas são chamadas de **substantivos**.

1. Escreva o nome de tudo o que você vê nesta cena.



2. Encontre neste diagrama o nome destes brinquedos e anote-os no caderno.



NOMES PRÓPRIOS E NOMES COMUNS

As **letras maiúsculas** são usadas para escrever nomes próprios (nomes de pessoas, de lugares, de cidades, de firmas, etc.).

Exemplo: Carla, Avenida Paulista.

As **letras minúsculas** são usadas para escrever nomes comuns (objetos, animais, etc.).

Exemplo: canela, cama.

LIGUE-SE NESTA!

1. Escreva os nomes que estão em destaque no seu respectivo quadro, conforme o modelo.

Paulo - papel - rua - Cecília - meia - gato
sapato - Felipe - caneta - Fernanda - Cristina
casa - queijo - Riachuelo - São Paulo - Paraná
ônibus - Brasil - relógio - Márcio

NOMES PRÓPRIOS	NOMES COMUNS
PAULO	PAPEL



Bruma 14 de Junho de 2021.

ATIVIDADE 1

OBSERVE A MÚSICA ABAIXO E RESPONDA:

PEDRO, ANTÔNIO E JOÃO

COM A FILHA DE JOÃO

ANTÔNIO IA SE CASAR

MAS PEDRO FUGIU COM A NOIVA

NA HORA DE IR PRO ALTAR.



A FOGUEIRA ESTÁ QUEIMANDO

O BALÃO ESTÁ SUBINDO,

ANTÔNIO ESTAVA CHORANDO

E PEDRO ESTAVA SORRINDO.

A) COM QUEM ANTÔNIO IA SE CASAR?

B) QUEM FUGIU COM A NOIVA?

C) QUEM FICOU CHORANDO?



Quinta 15 de Junho de 2021

ATIVIDADE 3

AO DIGITAR AS PALAVRAS ABAIXO HOUE UM ERRO E PRECISAMOS ARRUMA-LAS. ESCREVA AS PALAVRAS CORRETAMENTE. COLOQUE NO CIRCULO A LETRA FALTANTE, COMUM AS PALAVRAS, DE CADA CÔLUNA:

QUAL LETRA ESTA FALTANDO?



CANE - _____
ATE - _____
CUTO - _____
GODA - _____
POTA - _____
BOBOLETA - _____
MECADO - _____
CATÃO - _____
AVORE - _____
SÔVETE - _____
PEFUME - _____
FOMIGA - _____
MATELO - _____
GAFO - _____
CANEIRO - _____



QUAL LETRA ESTA FALTANDO?



COTUREIRA - _____
MÁCARA - _____
TERRETRE - _____
TORREMO - _____
CATELO - _____
TETAMENTO - _____
EPADA - _____
ECADA - _____
ETRELA - _____
PATEL - _____
FANTAMA - _____
FETA - _____
EPANTO - _____
HITÓRIA - _____
MACULINO - _____



GRAMÁTICA
APLICADA

Classificação das palavras quanto ao número de sílabas

LEITURA I

Observe as palavras abaixo:



pés – pés

A palavra **pés** tem uma sílaba.

Ela é **monossílaba**.

Atenção!


As palavras que têm quatro ou mais sílabas são todas **polissílabas**.



bola – bo-la

A palavra **bola** tem duas sílabas.

Ela é **dissílaba**.



futebol – fu-te-bol

A palavra **futebol** tem três sílabas.

Ela é **trissílaba**.



jogadores – jo-ga-do-res

A palavra **jogadores** tem quatro sílabas.

Ela é **polissílaba**.

Ibúma, 17 de Junho de 2021

ATIVIDADE

SEPARE AS SÍLABAS DAS PALAVRAS E CLASSIFIQUE QUANTO AO NÚMERO DE SÍLABAS:

PALAVRA	SEPARAÇÃO SILÁBICA	CLASSIFICAÇÃO
BALÃO	_____	_____
SUBINDO	_____	_____
CAINDO	_____	_____
FOGUEIRA	_____	_____
MILHO	_____	_____
MÃO	_____	_____
PESCARIA	_____	_____
NOITE	_____	_____
SÃO	_____	_____
BARRACA	_____	_____

MONOSSÍLABA- QUANDO A PALAVRA TEM APENAS UMA SÍLABA.

DISSÍLABA- QUANDO A PALAVRA TEM DUAS SÍLABAS.

TRISSÍLABA- QUANDO A PALAVRA TEM TRÊS SÍLABAS.

POLISSÍLABA- QUANDO A PALAVRA TEM QUATRO OU MAIS SÍLABAS.



Ibiúma, 18 de junho de 2021

ATIVIDADE

ACRESCENTE **OSO, EZA, OSA** NAS PALAVRAS E FORME ADJETIVOS.
OBSERVE O MODELO:

A) ANTÔNIO FICOU **CHEIROSO** PARA O CASAMENTO. (CHEIRO)

B) O BOLO DO CASAMENTO ESTAVA _____. (GOSTO)

C) JOÃO FICOU _____ DE SUA FILHA. (ORGULHO)

D) PEDRO ACHOU _____ FUGIR COM A NOIVA. (MOLE)

E) O PAI DA NOIVA TINHA UMA GRANDE _____. (RICO)

F) A IGREJA ESTAVA _____ PARA O CASAMENTO. (JEITO)

G) PEDRO FICOU _____ DEPOIS QUE TOMOU BANHO. (CHEIRO)

H) MARIA ERA MUITO _____. (ESTUDO)

I) MEU GATO FICOU _____ QUANDO ESTAVA DOENTE. (MANHA)

J) A PIPOCA ESTAVA _____. (SABOR)

ADJETIVO- SÃO PALAVRAS QUE ATRIBUEM QUALIDADE A OUTRO TERMO COMO SUBSTANTIVOS, PRONOMES, ETC. ELES GERALMENTE CARACTERIZAM UM ASPECTO, ESTADO OU DEFEITO.



Ibiúna 19 de junho de 2021

ATIVIDADE 5

O casamento caipira é muito comum na festa junina. A Mônica e o Cebolinha entraram nessa brincadeira e aconteceram muitas coisas engraçadas. Escreva como você imagina que foi esse casamento.



Ibama, 07 de junho de 2021

nome: _____ 3º ano B

LEITURA

Adição com reserva

1º exemplo

Daniela comprou 35 figurinhas.

Sandra comprou 48 figurinhas.

Elas compraram ao todo:

$$35 + 48 = 83$$

Acompanhe os passos para efetuar a operação:

	C	D	U
		13	5
+		4	8
		8	3

- Somamos 5 unidades com 8 unidades = 13 unidades.
- 13 é formado de 1 dezena e 3 unidades.
- Escrevemos 3 unidades na ordem das unidades e vai 1 dezena para ordem das dezenas.
- Essa dezena será somada às demais que estão na casa das dezenas, 3 e 4. Portanto, 1 dezena + 3 dezenas + 4 dezenas é igual a 8 dezenas. Ao final, temos o resultado: 83.

2º exemplo

	C	D	U
	13	5	2
+	2	7	4
	6	2	6

- Somamos as unidades:
2 unidades + 4 unidades = 6 unidades.
- Somamos as dezenas:
5 dezenas + 7 dezenas = 12 dezenas.
- 12 dezenas são formadas de 1 centena e 2 dezenas.
- Escrevemos 2 dezenas na ordem das dezenas e vai 1 centena para a ordem das centenas.

Somando essa centena às que já estão nessa casa, 3 e 2, teremos 6 centenas. Ao final, temos o resultado: 626.

Nome: _____

Data: 08/06/2021

REAGRUPAMENTO

$$\begin{array}{r} \textcircled{0} \textcircled{0} \\ 1 \mid 7 \mid 9 \\ + 3 \mid 5 \mid 2 \\ \hline \end{array}$$

$$\begin{array}{r} \textcircled{0} \textcircled{0} \\ 3 \mid 7 \mid 9 \\ + 5 \mid 6 \mid 4 \\ \hline \end{array}$$

$$\begin{array}{r} \textcircled{0} \textcircled{0} \\ 4 \mid 5 \mid 7 \\ + 2 \mid 9 \mid 6 \\ \hline \end{array}$$

$$\begin{array}{r} \textcircled{0} \textcircled{0} \\ 6 \mid 8 \mid 5 \\ + 2 \mid 6 \mid 8 \\ \hline \end{array}$$

$$\begin{array}{r} \textcircled{0} \textcircled{0} \\ 2 \mid 6 \mid 6 \\ + 3 \mid 8 \mid 5 \\ \hline \end{array}$$

$$\begin{array}{r} \textcircled{0} \textcircled{0} \\ 4 \mid 5 \mid 8 \\ + 2 \mid 7 \mid 9 \\ \hline \end{array}$$

$$\begin{array}{r} \textcircled{0} \textcircled{0} \\ 5 \mid 9 \mid 6 \\ + 1 \mid 2 \mid 7 \\ \hline \end{array}$$

$$\begin{array}{r} \textcircled{0} \textcircled{0} \\ 2 \mid 8 \mid 5 \\ + 3 \mid 4 \mid 9 \\ \hline \end{array}$$

$$\begin{array}{r} \textcircled{0} \textcircled{0} \\ 3 \mid 8 \mid 6 \\ + 1 \mid 9 \mid 9 \\ \hline \end{array}$$

$$\begin{array}{r} \textcircled{0} \textcircled{0} \\ 5 \mid 5 \mid 8 \\ + 2 \mid 7 \mid 7 \\ \hline \end{array}$$



Ibiúna, 09 de junho de 2021

NOME _____

DATA _____

VOCÊ GOSTA DE BOLO DE FUBÁ?

3 OVOS

1/2 XÍCARA DE ÓLEO


2 XÍCARAS DE AÇÚCAR

2 XÍCARAS DE FUBÁ

1 XÍCARA DE TRIGO

1 COLHER DE FERMENTO EM PÓ

1 COPO DE LEITE



COMO FAZER?

MISTURE BEM OS OVOS, O ÓLEO E O AÇÚCAR.

ACRESCENTE O FUBÁ, O TRIGO E O LEITE.

MEXA BEM E LEVE AO FORNO EM FORMA UNTADA.

AGORA PESQUISE E ANOTE O PREÇO DE CADA PRODUTO

1 DÚZIA DE OVOS _____

1 LITRO DE LEITE _____

1 QUILO DE TRIGO _____

1 QUILO DE FUBÁ _____

1 POTE DE FERMENTO _____

1 ÓLEO DE SOJA _____


1 QUILO DE AÇÚCAR _____

ANOTE AQUI UMA RECEITA QUE VOCÊ CONHECE. JÁ FEZ OU JÁ VIU
ALGUÉM FAZER:


www.espacoeducar.net

Ilustrações de Liza Cavalcante

Blüna, 10 de junho de 2021



JOGO DOS SETE ERROS



Itiúma, 11 de junho de 2021

MATEMÁTICA

MARIA VENDE MILHO E MAÇÃ DO AMOR EM UMA DAS BARRACAS DA FESTA JUNINA. OBSERVE NA IMAGEM ABAIXO E RESPONDA.



MARIA LEVOU PARA A FESTA 50 MAÇAS E 35 MILHOS. ELA JÁ VENDEU 34 MAÇAS E 22 MILHOS. QUANTOS PRODUTOS DE CADA FALTAM PARA SEREM VENDIDOS?



Ibiúna, 14 de junho de 2021

NO BAIRRO QUE PAULA MORA, A FESTA JUNINA COMEÇOU NA SEXTA - FEIRA E TERMINOU NO DOMINGO. OBSERVE NA TABELA ABAIXO A QUANTIDADE DE PESSOAS QUE COMPARECERAM NA FESTA E RESPONDA:



SEXTA - FEIRA	SÁBADO	DOMINGO
320 PESSOAS	476 PESSOAS	423 PESSOAS

EM QUAL DIA TEVE O MAIOR NÚMERO DE PESSOAS?

QUANTAS PESSOAS TIVERAM NA FESTA NO TOTAL DOS TRÊS DIAS?

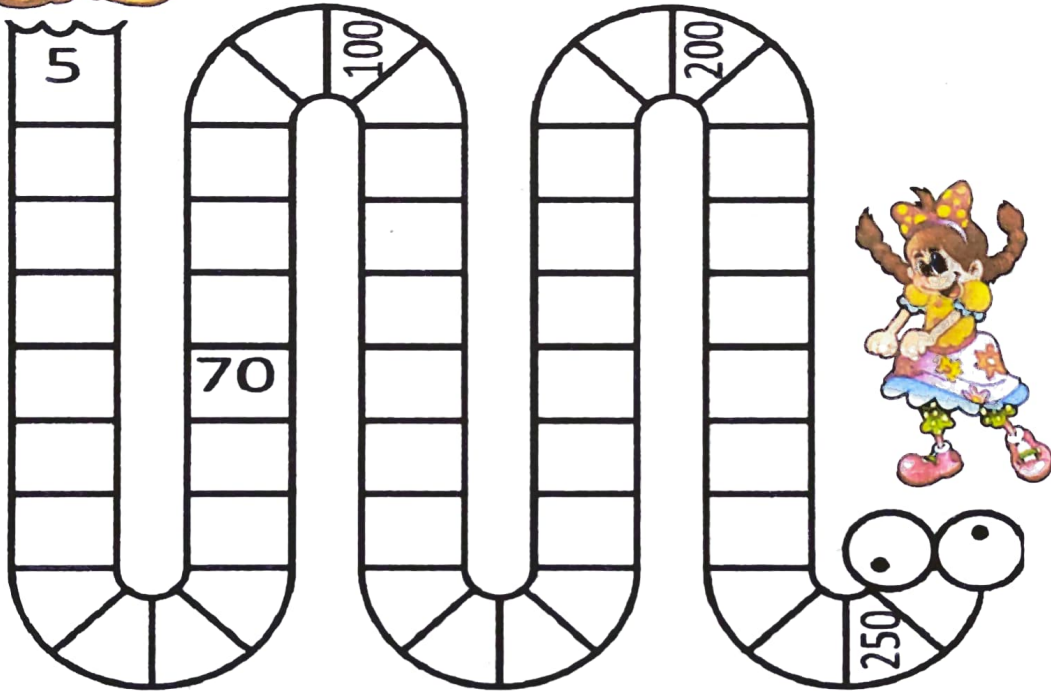


15/06/2025

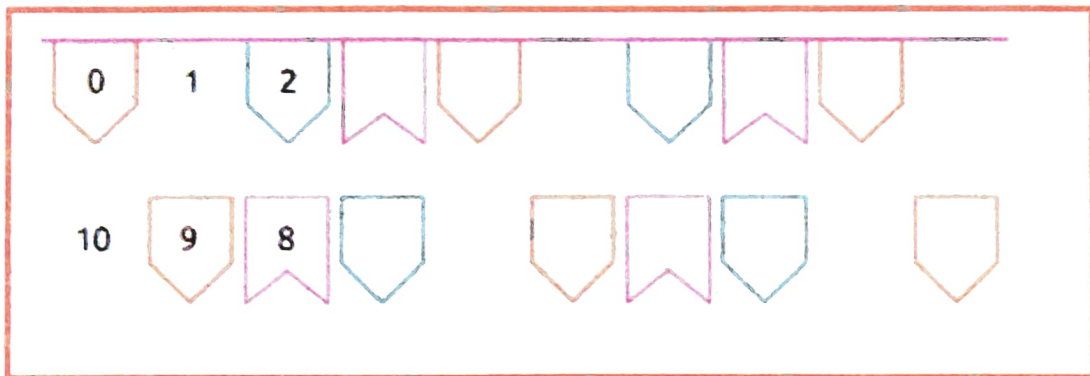
Nome _____



DESCUBRA O PADRÃO DE REGULARIDADE DA SEQUÊNCIA NUMÉRICA. COMPLETE E AJUDE O CASAL A SE ENCONTRAR.



COMPLETE COM AS BANDEIRINHAS E OS NÚMEROS FALTANTES NA SEQUÊNCIA.



Seiúma 16 de Junho de 2021

16

AJUDE O JOÃO A ENCONTRAR ANA, SEGUINDO O CAMINHO COM A MAIOR SOMA.

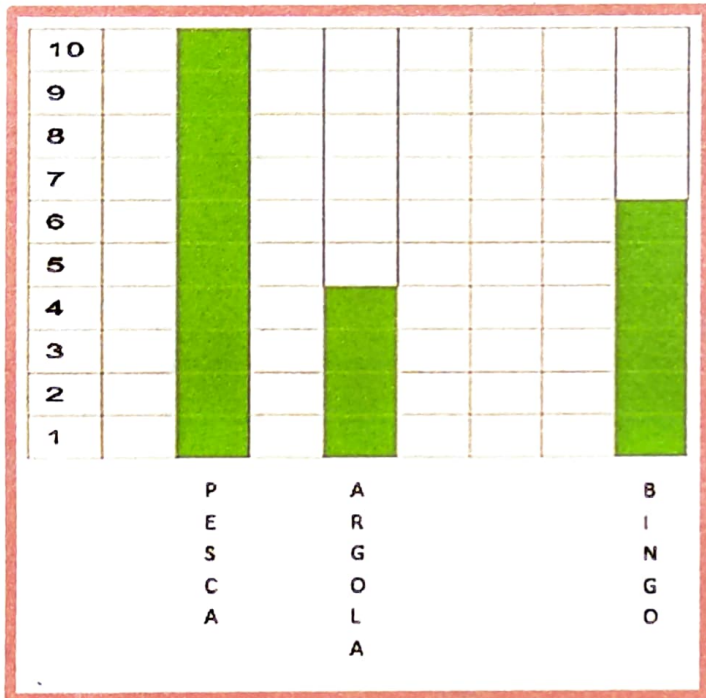
The maze consists of four paths, each starting from João and ending at Ana. The numbers in the cells are as follows:

- Path A:** 31, 3, 7, 9, 11, 5
- Path B:** 20, 9, 3, 27, 1, 8
- Path C:** 16, 5, 6, 10, 2
- Path D:** 2, 21, 18, 4, 12, 17, 0, 7, 14, 15, 10, 3, 13, 26, 18, 9, 7

Nome: _____



OBSERVE NO GRÁFICO ABAIXO A PESQUISA FEITA COM ALGUMAS CRIANÇAS SOBRE AS BRINCADEIRAS PREFERIDAS NA FESTA JUNINA. RESPONDA:



QUANTAS CRIANÇAS PARTICIPARAM DA PESQUISA?

QUAL BRINCADEIRA FOI A MAIS ESCOLHIDA?

QUANTOS VOTOS A ARGOLA E O BINGO RECEBERAM?




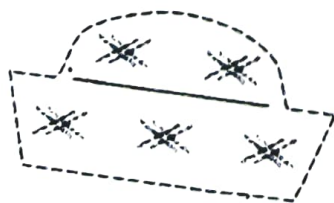
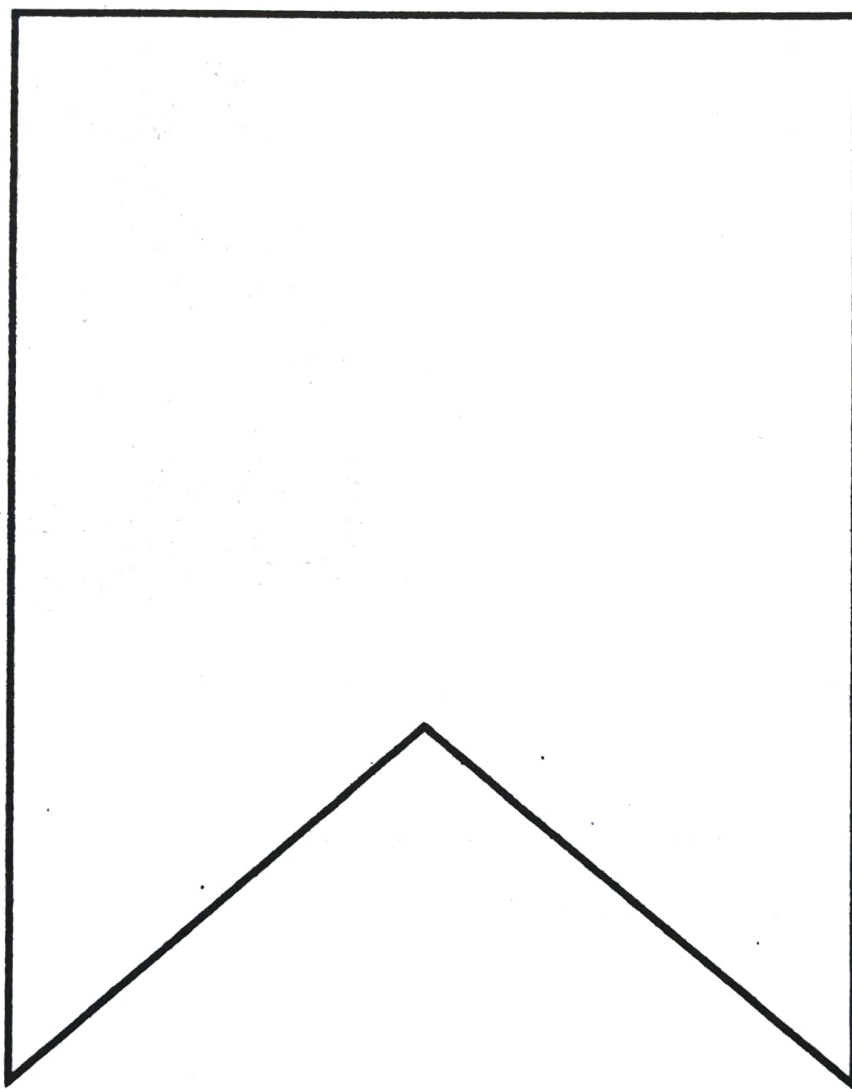
Escola: _____

Aluno: _____

Turma: 3º ano B Data: 18/06/2021

Festa Junina

Pinte a bandeirinha como quiser! Você pode usar as lápis de cor, giz ou papel picado. Também temos figuras para recortar e colar!



Imagem

REFERÊNCIAS

- LIVRO ÁPIS – LÍNGUA PORTUGUESA 3º ANO
- LIVRO ÁPIS – CIÊNCIAS 3º ANO
- LIVRO ÁPIS – MATEMÁTICA 3º ANO
- LIVRO ÁPIS – HISTÓRIA 3º ANO
- LIVRO LER E ESCREVER 3º ANO
- WWW.AMORENSINA.COM.BR
- WWW.PINTEREST.COM.BR
- wordwall.net
- ESCOLAEDUCACAO.COM.BR
- @DIARIODATIAMARI
- WWW.espacoeducar.net
- Atividades/ Crislaine Ponciano/ Fátima Laudelino