



Prefeitura da Estância Turística de
IBIÚNA
TRANSFORMAÇÃO RESPONSÁVEL. CUIDANDO DE PESSOAS.



E.M. "ZENI SOARES RAMALHO"

ATIVIDADES PARA ESTUDO EM CASA

SEXTA APOSTILA

7/6/21 A 19/6/21

RETIRADA 16-17-18/6/21

DEVOLUÇÃO:

PROFESSORA: SOLANGE DA PENHA MORAES GODINHO

3º ANO A

ROTEIRO PARA REALIZAÇÃO DAS ATIVIDADES

SIGA O ROTEIRO PARA A REALIZAÇÃO DAS ATIVIDADES, FAVOR NÃO DESGRAMPEAR AS FOLHAS, POIS JÁ ESTÃO NA SEQUÊNCIA DE ESTUDO E DE CORREÇÃO, SE TIVEREM DÚVIDAS NÃO HESITEM EM ME CHAMAR NO GRUPO DA SALA OU NO PRIVADO.

- AS SUAS MÃOS DEVEM ESTAR SECAS E LIMPAS PARA FAZER A ATIVIDADE
- ESCOLHA UM HORÁRIO E UM LUGAR TRANQUILO, COM POUCO BARULHO E BEM ILUMINADO.
- SIGA O ROTEIRO DAS DATAS E FAÇA DUAS ATIVIDADES POR DIA PARA NÃO CANSAR, E NÃO DEIXE TUDO PARA A ÚLTIMA HORA.
- LEIA A TAREFA COM ATENÇÃO E SE PRECISAR, PEÇA AJUDA AOS SEUS RESPONSÁVEIS.
- LEMBRE-SE: A TAREFA É SUA, POR ISSO, FAÇA COM A SUA LETRA COM BASTANTE CAPRICHOS. FAÇA O SEU MELHOR E PINTE BEM BONITO!
- TENHA CUIDADO PARA NÃO AMASSAR, RASGAR OU SUJAR AS FOLHAS.
- NUNCA DEIXE DE COLORIR OS DESENHOS DAS ATIVIDADES E FAÇA SEMPRE AS ATIVIDADES DE ARTES, POIS CONTAM NA PONTUAÇÃO E CAPRICHOS!
- SE TIVER DÚVIDA, PERGUNTE NO GRUPO DO WHATSAPP OU NO PARTICULAR.
- ESCREVA SEU NOME EM TODAS AS ATIVIDADES!

NÃO ESTÁ SENDO FÁCIL, MAS JUNTOS VENCEREMOS ESSE PERÍODO. NÃO DEIXE DE ESTUDAR, NEM DE BRINCAR! MAS FAÇA ISSO EM CASA. EU ME PREOCUPO COM VOCÊ E SUA FAMÍLIA. FIQUEM BEM! LOGO ESTAREMOS JUNTOS E RECUPERAREMOS O PERÍODO EM QUE PASSAMOS DISTANTES.

NÃO SE ESQUEÇA: VOCÊ É CAPAZ!

PROFESSORA: SOLANGE

E.M. "ZENI SOARES RAMALHO"

PROFESSORA: SOLANGE

DATA: 7/6/21

NOME: _____ TURMA: 3º ANO A

LÍNGUA PORTUGUESA

COMPLETE AS PALAVRAS COM:

R **OU** **RR**

U.....UBU
BO.....ACHA
TE.....AÇO
AMA.....ELO
BA.....IGA
FE.....ADURA
MA.....IPOSA
JA.....O
AMO.....A
CACHO.....O
TE.....EIRO
PI.....AÇA
CO.....IDA
GA.....AFA
GI.....AFA
VE.....UGA
TO.....ADA
PI.....ULITO

MACA.....ÃO
FA.....INHA
CADEI.....A
SE.....OTE
MO.....ANGO
GA.....OTE
BANDEI.....A
EMPU.....A
PENEI.....A
VERDU.....A
MA.....ECO
BA.....ATA



E.M. "ZENI SOARES RAMALHO"

PROFESSORA: SOLANGE

DATA: 8/6/21


NOME: _____ TURMA: 3º ANO A

LÍNGUA PORTUGUESA

DESAFIO ORTOGRÁFICO

Escreva as palavras substituindo o símbolo ★ por R ou RR.

En ★ aizado	
I ★ equieto	
Pi ★ alho	
Ca ★ ancudo	
Ten ★ o	
Guel ★ a	
Chima ★ ão	
En ★ ugado	
Te ★ ernoto	
Hon ★ ado	
I ★ eparável	
Esba ★ ar	
Embu ★ ado	
En ★ olado	
Mi ★ ado	
A ★ anhão	
En ★ iquecer	
A ★ epiado	
Ba ★ iga	
Ve ★ uga	



E.M. "ZENI SOARES RAMALHO"

PROFESSORA: SOLANGE

DATA: 9/6/21

NOME: _____TURMA: 3º ANO A

LÍNGUA PORTUGUESA

COMO SE ESCREVE? SE TIVER DÚVIDA PODE USAR UM DICIONÁRIO!

COM S OU SS?



Complete corretamente as palavras usando "s" ou "ss".

Ca__a

Sal__icha

Pa__eio

A__ado

Gira__ol

Pá__aro

Suce__o

Can__ado

Pe__oa

Carro__el

Pul__eira

So__ego

Aniver__ário

Pa__arela

A__obio

Progre__o

Pa__o



E.M. "ZENI SOARES RAMALHO"

PROFESSORA: SOLANGE

DATA: 10/6/21

NOME: _____ TURMA: 3º ANO A

LÍNGUA PORTUGUESA

FIQUE DE OLHO!

☞ Complete as palavras abaixo com **S** ou **SS**.

Bú____ola	Conde____a
Díscur____o	A____unto
Ave____o	Inten____idade
Carro____el	Progre____o
Descan____o	Suspen____o
Depre____a	Pê____ego
Sal____icha	Apre____ado
Pa____arela	A____umir
Pul____eira	Pa____eio



☞ Agora, escreva as palavras acima em ordem alfabética.

- 1 _____
- 2 _____
- 3 _____
- 4 _____
- 5 _____
- 6 _____
- 7 _____
- 8 _____
- 9 _____

- 11 _____
- 12 _____
- 13 _____
- 14 _____
- 15 _____
- 16 _____
- 17 _____
- 18 _____

E.M. "ZENI SOARES RAMALHO"

PROFESSORA: SOLANGE

DATA: 11/6/21

NOME: _____ TURMA: 3º ANO A

LÍNGUA PORTUGUESA

LEIA O TEXTO EM VOZ ALTA!


LEIA E CIRCULE AS PALAVRAS INICIADAS COM A LETRA R.

O RATO ROEDOR



O RATO RUI RÓI TUDO QUE VÊ.
RÓI O CHINELO DA RITA.
RÓI O SAPATO DA RAFAELA.
RÓI A BLUSA DA RAISSA.
RÓI O PALETÓ DO RAMIRO.
SÓ NÃO RÓI AS COISAS DA ROSINHA QUE É MUITO ESPERTA. ELA TRANCA SEU ARMÁRIO DE FORMA QUE O ROEDOR NÃO POSSA ENTRAR.

PINTE AS SÍLABAS DA PALAVRA **RATO**.




TA LO RE RA TE
CI RI
TI BO TO

COMPREENSÃO DA LEITURA

1. QUAL É O TÍTULO DO TEXTO?

2. LIGUE O NOME AO OBJETO QUE O RATO RÓI DE CADA PESSOA E ESCREVA O NOME DO DESENHO.


RAFAELA



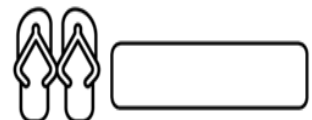
RITA



RAMIRO



RAISSA



3. POR QUE O RATO NÃO RÓI AS COISAS DA ROSINHA.

4. RETIRE DO TEXTO AS PALAVRAS INICIADAS COM A LETRA R.

E.M. "ZENI SOARES RAMALHO"

PROFESSORA: SOLANGE

DATA: 14/6/21



NOME: _____ TURMA: 3º ANO A

LÍNGUA PORTUGUESA



O QUE ELES ESTÃO FAZENDO?

1) Leia as frases e escreva os numerais nas cenas correspondentes.



- ① Leandro está estudando para a prova de ciências.
- ② Afonso está tomando suco de abacaxi.
- ③ O bombeiro está apagando o fogo.
- ④ Sandra está nadando no lago.
- ⑤ Felipe está pescando no rio.
- ⑥ Viviane está descansando na rede.

E.M. "ZENI SOARES RAMALHO"

PROFESSORA: SOLANGE

DATA: 15/6/21

NOME: _____ TURMA: 3º ANO A

LÍNGUA PORTUGUESA/CIÊNCIAS

Os animais


Os animais são seres vivos. Eles nascem, crescem, se reproduzem e morrem.

Existem os **animais domésticos** e os **animais silvestres** (selvagens).

Os animais domésticos são aqueles que vivem junto com as pessoas, dentro de casa ou nos quintais e fazendas como: cachorros, gatos, periquito, galinha, vaca, porco e outros.

Os animais silvestres são os animais que vivem livremente no lugar onde nasceu que pode ser floresta, savanas, oceanos, rios como: leão, tigre, elefante, lobo, baleia e outros.

Animais domésticos



Animais silvestres



E.M. "ZENI SOARES RAMALHO"

PROFESSORA: SOLANGE

DATA: 16/6/21

NOME: _____ TURMA: 3º ANO A

LÍNGUA PORTUGUESA/CIÊNCIAS

– MARQUE AS RESPOSTAS CORRETAS.

1 - OS ANIMAIS DOMÉSTICOS SÃO AQUELES QUE:

() MORAM SOZINHOS.

() VIVEM JUNTOS COM AS PESSOAS.

() VIVEM DISTANTES DAS PESSOAS.




2 - É UM DOS LUGARES ONDE PODEM VIVER OS ANIMAIS DOMÉSTICOS:

() ZOOLOGICO.

() FAZENDAS.

() FLORESTAS.



3 - OS ANIMAIS SELVAGENS:

() SÃO AQUELES QUE VIVEM NO LUGAR ONDE NASCERAM.

() SÃO AQUELES QUE VIVEM JUNTO COM AS PESSOAS.

() SÃO OS GATOS E CACHORROS.


4 – É UM DOS LUGARES ONDE VIVEM OS ANIMAIS SILVESTRES:

() OCEANOS

() CIDADE

() RUAS

() QUINTAL



E.M. "ZENI SOARES RAMALHO"

PROFESSORA: SOLANGE

DATA: 17/6/21

NOME: _____ TURMA: 3º ANO A

LÍNGUA PORTUGUESA / GEOGRAFIA

Marque com um x o que tem na zona rural e na zona urbana.

	ZONA URBANA	ZONA RURAL
ESTRADAS DE TERRA		
MUITAS CASAS E PRÉDIOS		
CARROS, ÔNIBUS, CAMINHÕES...		
CASAS SIMPLES		
CARROS DE BOI E CARROÇAS		
GRANDES AVENIDAS		
MUITAS LOJAS		
POUCOS MORADORES		
MUITAS PLANTAÇÕES		
RUAS ASFALTADAS E MOVIMENTADAS		
FUMAÇA DE FABRICAS		
CRIAÇÃO DE GADO		

E.M. "ZENI SOARES RAMALHO"

PROFESSORA: SOLANGE

DATA: 18/6/21

NOME: _____ TURMA: 3º ANO A

LÍNGUA PORTUGUESA / HISTÓRIA


AS PESSOAS E OS GRUPOS QUE COMPÕEM A CIDADE E O MUNICÍPIO

◎ **As comunidades não são iguais.**


Veja alguns grupos diferentes que formam uma comunidade

▶ **Relacione.**


* A família.



* Os moradores de uma rua, bairro ou cidade.



* Pessoas que freqüentam uma igreja.




▶ **Responda:**

❖ O que é comunidade?

.....
.....
.....

▶ **Faça um desenho representando sua família:**



E.M. "ZENI SOARES RAMALHO"


PROFESSORA: SOLANGE

DATA: 19/6/21

NOME: _____ TURMA: 3º ANO A

ARTES / CIÊNCIAS

PINTE SOMENTE OS ANIMAIS DOMÉSTICOS!



E.M. "ZENI SOARES RAMALHO"

PROFESSORA: SOLANGE

DATA: 7/6/21

NOME: _____

TURMA: 3º ANO A

MATEMÁTICA

OBSERVE O QUADRO E RESPONDA AS QUESTÕES:

1. O RAPAZ QUE CUIDA DA PESCARIA DISSE A MATHEUS QUE A BARRACA TEM UMA GRANDE QUANTIDADE DE BRINQUEDOS. OBSERVE O QUADRO ABAIXO:

BRINQUEDO	QUANTIDADE
 CACHORRINHO	27
 CARRINHO	99
 JOYSTICK	3
 BOLA DE PRAIA	120
 URSO ROSA	72
 URSO MARROM	102

A. ORDENE OS NÚMEROS RELATIVOS ÀS QUANTIDADES DE BRINQUEDOS, DO MENOR PARA O MAIOR:

--	--	--	--	--	--

B. QUAL É O BRINQUEDO EM MAIOR QUANTIDADE?

--

E.M. "ZENI SOARES RAMALHO"

PROFESSORA: SOLANGE

DATA: 8/6/21

NOME: _____ TURMA: 3º ANO A

MATEMÁTICA

B. THIAGO ANOTOU A QUANTIDADE DA SAÍDA DE ALGUNS BRINQUEDOS NA BARRACA DE PESCA. AJUDE-O A DETERMINAR AS QUANTIDADES QUE FICARAM DE CADA UM DOS BRINQUEDOS. UTILIZE CÁLCULO MENTAL E CONFIRA OS RESULTADOS COM A CALCULADORA:

BRINQUEDO	QUANTOS HAVIA	QUANTIDADE QUE SAIU	QUANTOS FICARAM
BOLA	17	1	
BOLINHA DE SABÃO	23	12	
FLAUTA	10	5	
IOIÔ	42	10	
JOGO DE DOMINÓ	7	1	
MOLA MÁGICA	26	6	



ANOTAÇÕES

LIVRO APRENDER SEMPRE, VOLUME 1, 3º ANO ENSINO FUNDAMENTAL, PÁGINA 85.

E.M. "ZENI SOARES RAMALHO"

PROFESSORA: SOLANGE

DATA: 9/6/21

NOME: _____ TURMA: 3º ANO A

MATEMÁTICA

1. BRUNO ESTAVA COM VONTADE DE TOMAR SUCO E PEDIU PARA QUE SEUS AMIGOS O ACOMPANHASSEM ATÉ A BARRACA DE LANCHES. VEJA A PROMOÇÃO QUE ENCONTRARAM.



PROMOÇÃO SUCO DE LARANJA

GARRAFA DE 250mL - R\$3,00

GARRAFA DE 500mL - R\$5,00

BRUNO SABE QUE 1 LITRO CORRESPONDE A 1000 MILILITROS.

$$1L = 1.000mL$$

A. BRUNO PEDIU UMA GARRAFA DE MEIO LITRO. VOCÊ SABE DIZER QUAL DAS GARRAFAS ACIMA ELE PEDIU?

B. QUAL É A CAPACIDADE MARCADA NA GARRAFA MENOR?

C. AS CAPACIDADES DAS DUAS GARRAFAS DE SUCO DE LARANJA SÃO MAIORES QUE 1 LITRO, MENORES OU EXATAMENTE 1 LITRO?

E.M. "ZENI SOARES RAMALHO"

PROFESSORA: SOLANGE

DATA: 10/6/21

NOME: _____ TURMA: 3º ANO A

MATEMÁTICA

1. THIAGO FEZ UMA PESQUISA, COM A TURMA DA ESCOLA, PARA SABER QUAIS OS BRINQUEDOS PREFERIDOS DO PARQUE DE DIVERSÕES. ELE MONTOU UMA TABELA COM AS PREFERÊNCIAS DA TURMA E SEPAROU OS VOTOS DAS MENINAS E DOS MENINOS.

VEJA O RESULTADO DA VOTAÇÃO.

BRINQUEDOS PREFERIDOS			
BRINQUEDO	MENINAS	MENINOS	TOTAL DE VOTOS
CARRINHO BATE-BATE	5	4	9
CARROSSEL DE CAVALINHOS	2	3	5
CARROSSEL DE CAMINHÕES	3	1	4
RODA GIGANTE	6	6	12
XÍCARA MALUCA	4	1	5
TOTAL DE VOTOS	20	15	35

FONTE: THIAGO – 2º A

A. QUAL BRINQUEDO TEVE MAIS VOTOS? QUANTOS VOTOS?

B. QUAL BRINQUEDO TEVE MENOS VOTOS? QUANTOS VOTOS?

C. HÁ BRINQUEDOS COM A MESMA QUANTIDADE TOTAL DE VOTOS? QUANTOS VOTOS?

D. QUAL BRINQUEDO TEVE A MESMA QUANTIDADE DE VOTOS DE MENINOS E MENINAS?

LIVRO APRENDER SEMPRE, VOLUME 1, 3º ANO, ENSINO FUNDAMENTAL, PÁGINA 93.

E.M. "ZENI SOARES RAMALHO"

PROFESSORA: SOLANGE

DATA: 11/6/20

NOME: _____ TURMA: 3º ANO A

MATEMÁTICA

1. AO FINAL DO PASSEIO NO PARQUE DE DIVERSÕES, BRUNO CONVIDOU THIAGO, ROBERTA E MATHEUS PARA IREM À SORVETERIA DE SEU PAI. SR. CLÁUDIO FICOU FELIZ COM A VISITA DAS CRIANÇAS.

A. ROBERTA DISSE QUE SUA MÃE FAZ PICOLÉS PARA QUANDO SEUS PRIMOS VÃO À SUA CASA. NO DOMINGO PASSADO, ELA FEZ PICOLÉS, SENDO 27 DE GROSELHA E 13 DE LIMÃO. QUANTOS PICOLÉS ELA FEZ?

B. DOS 40 PICOLÉS FEITOS PELA MÃE DE ROBERTA, AS CRIANÇAS CONSUMIRAM 28. QUANTOS PICOLÉS NÃO FORAM CONSUMIDOS?

2. O PAI DE BRUNO DISSE QUE HOJE ELE VENDEU MUITOS PICOLÉS. NO INÍCIO DO DIA ELE TINHA ALGUNS SORVETES DE MORANGO, VENDEU 58 E AINDA HÁ 45 SORVETES DESSE SABOR. QUANTOS SORVETES DE MORANGO ELE TINHA INICIALMENTE?

IMAGENS E ILUSTRAÇÕES
pixabay.com - freepik.com

LIVRO APRENDER SEMPRE, VOLUME 1, 3º ANO, ENSINO FUNDAMENTAL,
PÁGINA 94.

E.M. "ZENI SOARES RAMALHO"

PROFESSORA: SOLANGE

DATA: 14/6/21

NOME: _____ TURMA: 3º ANO A

MATEMÁTICA

AULA 2 – LOCALIZAÇÃO DAS CRIANÇAS NA PISTA DOS CARRINHOS

O QUE VAMOS APRENDER?

NESTA AULA, VAMOS VERIFICAR A LOCALIZAÇÃO DE ROBERTA, BRUNO E MATHEUS NA PISTA DE CARRINHOS DE BATE-BATE.

1. OBSERVE A POSIÇÃO DE CADA CRIANÇA NA PISTA DE CARRINHOS BATE-BATE. CONSIDERE COMO PONTO DE REFERÊNCIA O RAPAZ QUE AUTORIZA O MOMENTO DA LARGADA.



RESPONDA ÀS QUESTÕES:

A. QUEM ESTÁ AO LADO DIREITO DE ROBERTA?

B. QUEM ESTÁ AO LADO ESQUERDO DE MATHEUS?

E.M. "ZENI SOARES RAMALHO"

PROFESSORA: SOLANGE

DATA: 15/6/20

NOME: _____ TURMA: 3º ANO A

MATEMÁTICA

VAMOS PREENCHER O CALENDÁRIO DO MÊS EM QUE ESTAMOS.

PARA ISSO, VERIFIQUE, PRIMEIRAMENTE, EM QUE DIA DA SEMANA OCORREU DIA 1.

MÊS						
DOMINGO	SEGUNDA-FEIRA	TERÇA-FEIRA	QUARTA-FEIRA	QUINTA-FEIRA	SEXTA-FEIRA	SÁBADO

QUAL SERÁ O PRÓXIMO MÊS DESSE ANO?

E.M. "ZENI SOARES RAMALHO"

PROFESSORA: SOLANGE

DATA: 16/6/21




NOME: _____

TURMA: 3º ANO A

MATEMÁTICA

1. ROBERTA OBSERVOU QUE AS BARRACAS DE COMIDAS E DE BEBIDAS DO PARQUE DE DIVERSÕES FICAVAM EM ESPAÇOS EM QUE FORAM DESENHADAS AS FIGURAS GEOMÉTRICAS.

ASSOCIE OS ESPAÇOS COM AS FIGURAS GEOMÉTRICAS:

1 – O CARRINHO DE PIPOCA FICAVA NO ESPAÇO DELIMITADO POR UM CÍRCULO.	
2 – O CARRINHO DE CACHORRO QUENTE FICAVA NO ESPAÇO DELIMITADO POR UM RETÂNGULO	
3 – A BARRACA DE SUCO DE LARANJAS EM UM QUADRADO.	
4 – O CARRINHO DE ALGODÃO DOCE EM UM TRIÂNGULO.	

2. THIAGO DISSE QUE PEGOU A LATA DE REFRIGERANTE, COLOCOU-A SOBRE UM PAPEL E CONTORNOU A SUA BASE.



OBSERVE A ILUSTRAÇÃO E ASSINALE QUAL CONTORNO ELE DESENHOU.



C. QUAL O NOME DA FIGURA GEOMÉTRICA QUE THIAGO DESENHOU?

E.M. "ZENI SOARES RAMALHO"

PROFESSORA: SOLANGE


DATA: 17/6/21

NOME: _____ TURMA: 3º ANO A

MATEMÁTICA

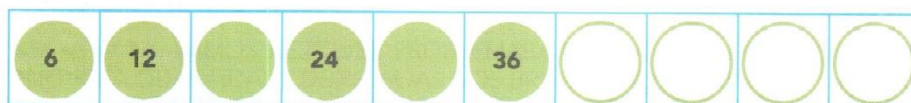
108 | MATEMÁTICA

A. VOCÊ IDENTIFICA UMA REGRA NA SEQUÊNCIA DOS NÚMEROS DAS ARGOLAS AMARELAS? COMPLETE A SEQUÊNCIA COM OS NÚMEROS QUE ESTÃO FALTANDO, DE ACORDO COM A REGRA QUE VOCÊ IDENTIFICOU.



B. QUAL É O NÚMERO DA ARGOLA QUE OCUPA A DÉCIMA POSIÇÃO DESSA SEQUÊNCIA?

C. VOCÊ IDENTIFICA UMA REGRA OU UM PADRÃO NA SEQUÊNCIA DOS NÚMEROS DAS ARGOLAS VERDES? COMPLETE O QUADRO.



D. QUAL É O NÚMERO DA ARGOLA QUE OCUPA A DÉCIMA POSIÇÃO DESSA SEQUÊNCIA?

E.M. "ZENI SOARES RAMALHO"

PROFESSORA: SOLANGE

DATA: 18/6/21

NOME: _____ TURMA: 3º ANO A

MATEMÁTICA

1. MATHEUS E THIAGO GOSTAM DE BRINCAR NA BARRACA DE PESCA. VEJA QUANTO CADA UM GASTOU NESTA BARRACA, EM REAIS, E REGISTRE NO QUADRO ABAIXO CORRESPONDENTE.

MATHEUS



THIAGO



A. MATHEUS GASTOU MAIS, MENOS OU EXATAMENTE A MESMA QUANTIA EM REAIS QUE THIAGO?

B. ROBERTA COMPROU FICHAS NA BARRACA DE PESCA COM A QUANTIA ABAIXO. VEJA QUANTOS REAIS ELA GASTOU E ANOTE ESSE VALOR.



C. ROBERTA GASTOU, EM REAIS, MAIS, MENOS OU EXATAMENTE A MESMA QUANTIA QUE THIAGO E MATHEUS?

LIVRO APRENDER SEMPRE, VOLUME 1, 3º ANO, ENSINO FUNDAMENTAL, PÁGINAS 109 E 110.

E.M. "ZENI SOARES RAMALHO"

PROFESSORA: SOLANGE

DATA: 19/6/21

NOME: _____ TURMA: 3º ANO A

MATEMÁTICA

1. THIAGO ENCONTROU EM UMA CAIXA UM CALENDÁRIO DE 2021. ELE PROPÔS AS SEGUINTESS ATIVIDADES PARA SEUS AMIGOS:

A. VOCÊ SABE QUAIS SÃO OS DIAS DA SEMANA? COMPLETE:

D _____ S _____

T _____ Q _____

Q _____ S _____

S _____

E OS NOMES DOS MESES DO ANO? VOCÊ SABE QUAIS SÃO? COMPLETE:

J _____	J _____
F _____	A _____
M _____	S _____
A _____	O _____
M _____	N _____
J _____	D _____

LIVRO APRENDER SEMPRE, VOLUME 1, 3º ANO, ENSINO FUNDAMENTAL,
PÁGINAS 115 E 116.