



Prefeitura da Estância Turística de  
**IBIÚNA**  
TRANSFORMAÇÃO RESPONSÁVEL. CUIDANDO DE PESSOAS.



E.M “ZENI SOARES RAMALHO”

Atividades para estudo em Casa

6º apostila

Período das atividades : 07/06 a 19/06/2021

Data da devolução:22/06/2021

Data da retirada da próxima:22/06/2021

Aluno (a):

Professora: Lucila Helena S. C. Germano

3º ano B

## Roteiro para realização das atividades

Siga o roteiro para a realização das atividades:

Dia 07/06	Língua Portuguesa e Matemática
Dia 08/06	Matemática e Geografia
Dia 09/06	Língua Portuguesa e História
Dia 10/06	Matemática e Ciências
Dia 11/06	Língua Portuguesa e Artes
Dia 14/06	Língua Portuguesa e Matemática
Dia 15/06	Matemática e Geografia
Dia 16/06	Língua portuguesa e História
Dia 17/06	Matemática e Ciências
Dia 18/06	Língua Portuguesa e Artes
Dia 19/06	Língua Portuguesa e Matemática

### Combinados das lições

- Lavar as mãos para fazer as lições;
- Escolher um lugar tranquilo e adequado para realizar as atividades;
- Ler com atenção;
- Seguir o roteiro das datas e fazer 2 atividades por dia, evitando assim o acúmulo;
- Fazer as tarefas com capricho e dedicação;
- Não amassar, não sujar e rasgar as atividades;
- Assistir aos links enviados pela professora no grupo de whatsApp;
- Se tiver dúvidas perguntar para a professora.

**Lembre-se:**

**Você é capaz!!!**

**Eu acredito em você!!!**

E. M “ZENI SOARES RAMALHO”

## LÍNGUA PORTUGUESA

### A RAPOSA E AS UVAS

UMA RAPOSA PASSOU POR BAIXO DE UMA PARREIRA CARREGADA DE LINADAS UVAS. FICOU LOGO COM MUITA VONTADE DE APANHAR AS UVAS PARA COMER.

DEU MUITOS SALTOS, TENTOU SUBIR NA PARREIRA, MAS NÃO CONSEGUIU.

DEPOIS DE MUITO TENTAR FOI-SE EMBORA, DIZENDO:  
EU NEM ESTOU LIGANDO PARA AS UVAS. ELAS ESTÃO VERDES MESMO...

ROCHA, RUTH. FÁBULA DE ESOPHO



### ENTENDENDO O TEXTO

1- A RAPOSA ESTAVA PASSEANDO QUANDO VIU UMA:

- ( ) MANGUEIRA CARREGADA DE UVAS.
- ( ) PARREIRA CARREGADA DE UVAS.
- ( ) LARANJEIRA CARREGADA DE UVAS.

2- A RAPOSA QUERIA COMER AS UVAS PORQUE:

- ( ) ESTAVA MUITO CANSADA.
- ( ) ESTAVA COM MUITA SEDE.
- ( ) ESTAVA COM MUITA FOME.

3- ESTE TEXTO É UM(A):

- ( ) CONVITE.
- ( ) BILHETE.
- ( ) FÁBULA.

4- O MOTIVO POR QUE A RAPOSA NÃO CONSEGUIU APANHAR AS UVAS FOI QUE:

- ( ) AS UVAS AINDA ESTAVAM VERDES.
- ( ) A PARREIRA ERA MUITO ALTA.
- ( ) AS UVAS ERAM POUCAS.

<https://i.pinimg.com/originals/79/35/5a/79355a67f01fbd71fe8bbada255d7561.jpg>

<https://i.pinimg.com/originals/b5/b6/b3/b5b6b3c313cb78a197fba7590217b642.jpg>

E. M “ZENI SOARES RAMALHO”

MATEMÁTICA

MEDIDA DE TEMPO:HORA

Responda:

Josiane foi à cidade às 7 horas. Voltou 4 horas depois. A que horas ela voltou?

Cálculo:

Resposta:



Praticando:

Recorte e cole as horas no relógio correto:



[ ]

[ ]

[ ]



[ ]

[ ]

[ ]

9:00

5:00

3:00

2:00

8:00

11:00

E. M “ZENI SOARES RAMALHO”

MATEMÁTICA

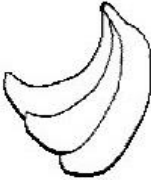





CALENDÁRIO: DIAS DA SEMANA

PAULO É UM GAROTO QUE ADORA COMER FRUTAS. ELE RESOLVEU COMER UMA FRUTA DIFERENTE A CADA DIA DA SEMANA.

OBSERVE AS FRUTAS QUE ELE ESCOLHEU E RESPONDA AS QUESTÕES ABAIXO:

PINTE DE AMARELO O PRIMEIRO DIA DA SEMANA.

PINTE DE AZUL O ÚLTIMO DIA DA SEMANA.

1º DIA	2º DIA	3º DIA	4º DIA	5º DIA	6º DIA	7º DIA
DOMINGO	SEGUNDA-FEIRA	TERÇA-FEIRA	QUARTA-FEIRA	QUINTA-FEIRA	SEXTA-FEIRA	SÁBADO
						

EM QUE DIA DA SEMANA ELE COMEU:

- A) PÊRA - \_\_\_\_\_
- B) BANANA - \_\_\_\_\_
- C) UVA - \_\_\_\_\_
- D) MORANGO - \_\_\_\_\_
- E) MAÇÃ - \_\_\_\_\_
- F) MELANCIA - \_\_\_\_\_
- G) ABACAXI - \_\_\_\_\_


<https://www.soescola.com/wp-content/uploads/2017/10/atividades-sobre-calendarios-4.jpg>

E. M "ZENI SOARES RAMALHO"

GEOGRAFIA

**Zona rural**

Encontre neste diagrama palavras relacionadas à zona rural.



F	A	Z	E	N	D	A	H	T	I	B	P
O	A	P	O	M	A	R	O	U	Q	O	E
V	U	R	V	A	C	A	R	T	U	I	A
O	R	P	O	R	C	O	T	I	O	P	A
P	G	A	L	I	N	H	A	P	I	A	U
U	P	E	R	C	A	V	A	L	O	T	I
C	A	R	R	O	D	E	B	O	I	G	O
T	Y	P	L	O	I	T	R	E	B	P	I
U	O	I	J	R	E	D	F	I	P	O	E

ESCOLHA UMA PALAVRA DO CAÇA -PALAVRAS E FORME UMA FRASE:

---


---

---

[https://1.bp.blogspot.com/-vpZYqwJT3rI/WzIISEGIQJ/AAAAAAAA9L8/aNG05d6Rk9I32CnmGI\\_OzbpYHI5MFhd4wCLcBGAs/s1600/122.jpg](https://1.bp.blogspot.com/-vpZYqwJT3rI/WzIISEGIQJ/AAAAAAAA9L8/aNG05d6Rk9I32CnmGI_OzbpYHI5MFhd4wCLcBGAs/s1600/122.jpg)

E.M “ZENI SOARES RAMALHO”

LÍNGUA PORTUGUESA



## Fábula

Complete a fábula com as palavras do quadro abaixo :

maduras

faminta

cabeça

uvas

cachos

verdes

### A RAPOSA E AS UVAS

Uma raposa \_\_\_\_\_ entrou num terreno onde havia uma parreira, cheia de uvas \_\_\_\_\_, cujos cachos se penduravam, muito alto, em cima de sua \_\_\_\_\_. A raposa não podia resistir à tentação de chupar aquelas \_\_\_\_\_ mas, por mais que pulasse, não conseguia abocanhá-las. Cansada de pular, olhou mais uma vez os apetitosos \_\_\_\_\_ e disse:

- Estão \_\_\_\_\_ . . . .

***É fácil desdenhar daquilo que não se alcança.***

## FORMAÇÃO DO POVO BRASILEIRO

O povo **brasileiro** é a união de vários povos.


O primeiro povo a habitar as terras brasileiras foram os **índios**.

Em 1500 chegaram os **portugueses**, depois os **espanhóis**, que constituíram os **brancos** na formação do nosso povo.

Com a colonização do Brasil, vieram os **africanos**. Eram os **negros**. Muito mais tarde, juntaram-se a esse povo os imigrantes **italianos**, **alemães**, **japoneses** e muitos outros, que ajudaram a construir o nosso país.

LIGUE-SE NESTA!

- ① Encontre, no caça, as palavra em destaque no texto.



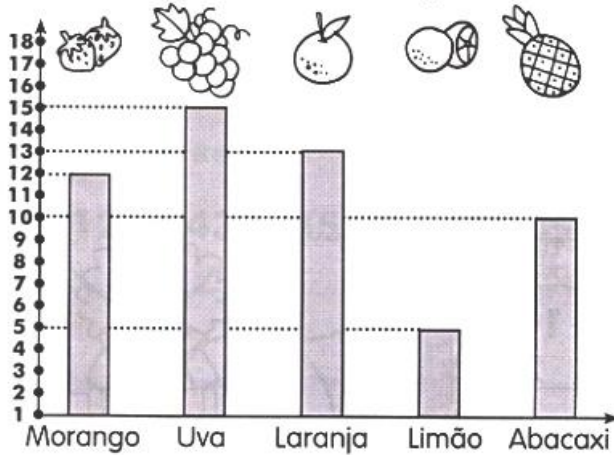


E.M “ZENI SOARES RAMALHO”

MATEMÁTICA

## GRÁFICO DOS SABORES

① Júlia fez uma pesquisa com seus colegas para descobrir o sabor de gelatina de que eles mais gostavam. Ela colocou o resultado no gráfico.  
Observe o gráfico abaixo e responda:



- A) Qual o sabor preferido dos alunos? .....
- B) Qual o sabor preferido por uma dezena de alunos? .....
- C) Quantos alunos preferiram morango e uva? (Faça a operação abaixo.)
- D) Quantos alunos preferiram laranja e limão? (Faça a operação abaixo.)
- E) Qual a diferença entre a quantidade de alunos que gostam de uva e de laranja?

C) Operação


D) Operação


E) Operação



[http://1.bp.blogspot.com/-4TPYEyYtL68/UKQ\\_4D-SD4I/AAAAAAAAQuQ/b9NC7JrXLHg/s1600/Fatos%25252520e%25252520opera%252525C3%252525A7oes%25252520-%252525207%25252520anos%25252520Vol%252525202%25252520p%252525C3%252525A1g%2525252098.jpg](http://1.bp.blogspot.com/-4TPYEyYtL68/UKQ_4D-SD4I/AAAAAAAAQuQ/b9NC7JrXLHg/s1600/Fatos%25252520e%25252520opera%252525C3%252525A7oes%25252520-%252525207%25252520anos%25252520Vol%252525202%25252520p%252525C3%252525A1g%2525252098.jpg)

E.M “ ZENI SOARES RAMALHO”

CIÊNCIAS

DIA 05 DE JUNHO-DIA MUNDIAL DO MEIO AMBIENTE

- O QUE PODEMOS FAZER PARA SALVAR O MEIO AMBIENTE? MARQUE UM X NAS ALTERNATIVAS CORRETAS E PINTE A CENA.



JOGAR LIXO NO  
CHÃO

RECICLAR TODO O  
LIXO

DERRUBAR TODAS  
AS ÁRVORES

PROTEGER A  
NATUREZA

NÃO DESPERDIÇAR  
A ÁGUA

JOGAR LIXO NO  
MAR E NOS RIOS

<http://3.bp.blogspot.com/>

[mNSa1Xoq8hg/Ua5EQMPv79I/AAAAAAAAOHg/4NOa3NpBNos/s1600/Imagem4+003.jpg](http://3.bp.blogspot.com/mNSa1Xoq8hg/Ua5EQMPv79I/AAAAAAAAOHg/4NOa3NpBNos/s1600/Imagem4+003.jpg)

E.M "ZENI SOARES RAMALHO"

LÍNGUA PORTUGUESA



CAÇA - PALAVRAS

A	L	M	I	A	T	X	U	T	E	F	P
Q	L	A	B	H	E	O	V	L	D	S	H
A	P	R	A	P	O	S	A	T	H	D	M
I	G	T	C	A	H	M	I	T	V	N	D
J	N	J	U	R	F	E	B	A	E	B	V
A	R	E	H	R	V	D	N	D	N	D	M
N	F	T	O	E	S	P	E	R	T	A	H
T	D	V	I	I	N	R	I	M	O	S	V
F	H	S	A	R	B	O	U	Y	J	O	D
K	S	P	U	A	E	J	O	V	E	M	E
H	J	A	H	B	V	E	Z	O	K	Y	H
T	S	V	L	S	T	T	T	S	C	J	A
A	R	T	H	F	L	O	R	E	S	T	A



VAMOS AJUDAR A RAPOSA A ENCONTRAR AS PALAVRAS ESCONDIDAS NO QUADRO.

- RAPOSA
- UVA
- ESPERTA
- PARREIRA
- VENTO
- PROJETO
- FLORESTA
- JOVEM

FORME FRASES COM:

UVA

---

RAPOSA

---

FLORESTA

---

<https://www.soescola.com/wp-content/uploads/2018/03/atividades-com-a-fabula-a-raposa-e-as-uvas-7.jpg>

E. M "ZENI SOARES RAMALHO"

ARTES

- Pinte as cenas que demonstram cuidado com o meio ambiente.



5 de Junho - dia mundial do meio ambiente

[https://4.bp.blogspot.com/-4LGHxQ1\\_otg/Ua5EcF-19UI/AAAAAAAAOH0/-LjzK5g6A8k/s1600/Imagem4+006.jpg](https://4.bp.blogspot.com/-4LGHxQ1_otg/Ua5EcF-19UI/AAAAAAAAOH0/-LjzK5g6A8k/s1600/Imagem4+006.jpg)

**M ANTES DE P E B**

1 Leia as palavras abaixo e observe o que elas têm em comum.

BOMBEIRO	LAMPIÃO
BOMBA	TEMPORAL
BOMBOM	EMPADA
SAMBA	LIMPEZA
LEMBRANÇA	TAMPA

ANTES DE P E B SEMPRE SE ESCRIVE M.

2 Complete as palavras abaixo com as letras M ou N.

BRA ____ CO	CO ____ PRA
SO ____ BRA	LA ____ ÇA
LE ____ ÇO	TE ____ PERO
Í ____ PAR	SA ____ TO
BA ____ DA	CA ____ PEÃO
TRO ____ BA	SA ____ GUE
CA ____ TO	E ____ PREGO
TA ____ PA	LE ____ DA
LI ____ PEZA	LE ____ BRANÇA
CRIA ____ ÇA	SEME ____ TE
O ____ ÇA	BA ____ CO
LA ____ PIÃO	MA ____ GA
CA ____ PO	LÃ ____ PADA



# E.M “ ZENI SOARES RAMALHO”

## MATEMÁTICA

1) Leitura e escrita de números.

- Escreva por extenso.

58: \_\_\_\_\_

42: \_\_\_\_\_

23: \_\_\_\_\_

37: \_\_\_\_\_

99: \_\_\_\_\_

84: \_\_\_\_\_

11: \_\_\_\_\_

15: \_\_\_\_\_

76: \_\_\_\_\_

100: \_\_\_\_\_

2) Realizar contagem de 2 em 2, 5 em 5 e 10 em 10

- Preencher as seqüências.

De 2 em 2

2			8			14			20
---	--	--	---	--	--	----	--	--	----

De 5 em 5

5		15			30				50
---	--	----	--	--	----	--	--	--	----

De 10 em 10

10			40			70			100
----	--	--	----	--	--	----	--	--	-----

E.M "ZENI SOARES RAMALHO"

MATEMÁTICA

RESOLVA AS ADIÇÕES:

$$\begin{array}{r} \text{○} \text{○} \\ 1 \mid 7 \mid 9 \\ + 3 \mid 5 \mid 2 \\ \hline \end{array}$$

$$\begin{array}{r} \text{○} \text{○} \\ 3 \mid 7 \mid 9 \\ + 5 \mid 6 \mid 4 \\ \hline \end{array}$$

$$\begin{array}{r} \text{○} \text{○} \\ 4 \mid 5 \mid 7 \\ + 2 \mid 9 \mid 6 \\ \hline \end{array}$$

$$\begin{array}{r} \text{○} \text{○} \\ 6 \mid 8 \mid 5 \\ + 2 \mid 6 \mid 8 \\ \hline \end{array}$$

$$\begin{array}{r} \text{○} \text{○} \\ 2 \mid 6 \mid 6 \\ + 3 \mid 8 \mid 5 \\ \hline \end{array}$$

$$\begin{array}{r} \text{○} \text{○} \\ 4 \mid 5 \mid 8 \\ + 2 \mid 7 \mid 9 \\ \hline \end{array}$$

$$\begin{array}{r} \text{○} \text{○} \\ 5 \mid 9 \mid 6 \\ + 1 \mid 2 \mid 7 \\ \hline \end{array}$$

$$\begin{array}{r} \text{○} \text{○} \\ 2 \mid 8 \mid 5 \\ + 3 \mid 4 \mid 9 \\ \hline \end{array}$$

$$\begin{array}{r} \text{○} \text{○} \\ 3 \mid 8 \mid 6 \\ + 1 \mid 9 \mid 9 \\ \hline \end{array}$$

$$\begin{array}{r} \text{○} \text{○} \\ 5 \mid 5 \mid 8 \\ + 2 \mid 7 \mid 7 \\ \hline \end{array}$$



<https://1.bp.blogspot.com/->

[gcWQm6vTNn8/XZoF0tYcwOI/AAAAAAAAACMo/I3\\_QIPgRCxskdRUHfjj\\_UR90D2pVDxigClcBGA](https://1.bp.blogspot.com/-gcWQm6vTNn8/XZoF0tYcwOI/AAAAAAAAACMo/I3_QIPgRCxskdRUHfjj_UR90D2pVDxigClcBGA)

[sYHQ/s1600/Atividades%2BProduzidas16.jpg](https://1.bp.blogspot.com/-sYHQ/s1600/Atividades%2BProduzidas16.jpg)

E.M “ZENI SOARES RAMALHO”

GEOGRAFIA

**Zona urbana**

Encontre neste diagrama palavras relacionadas à zona urbana.



Diagrama de uma zona urbana com edifícios e um sol.

P	R	É	D	I	O	L	E	T	L	C	S	A
S	H	O	P	P	I	N	G	A	O	R	O	I
Y	O	P	A	R	Q	U	E	O	J	O	P	A
D	S	A	P	A	T	A	R	I	A	L	P	E
R	P	B	A	N	C	O	E	L	P	I	R	J
A	I	L	O	C	A	D	O	R	A	D	E	I
L	T	J	O	A	L	H	E	R	I	A	P	U
D	A	N	C	E	T	E	R	I	A	J	O	A
A	S	U	P	E	R	M	E	R	C	A	D	O

ESCOLHA UMA PALAVRA DO CAÇA-PALAVRAS E FORME UMA FRASE:

---

---

---

<https://1.bp.blogspot.com/-t-1DBz4NYUQ/WzIISNY0->

[ul/AAAAAAAAA9MA/gZEJ3cTh1UwNZI4Xmkq8\\_PNQU0-fw9RvgCLcBGAs/s1600/123.jpg](ul/AAAAAAAAA9MA/gZEJ3cTh1UwNZI4Xmkq8_PNQU0-fw9RvgCLcBGAs/s1600/123.jpg)




# E.M "ZENI SOARES RAMALHO"

## LÍNGUA PORTUGUESA

### SINAIS DE PONTUAÇÃO

	<p>•</p> <p>PONTO FINAL</p>	Indica que a frase terminou.
	<p>?</p> <p>PONTO DE INTERROGAÇÃO</p>	Indica uma pergunta.
	<p>!</p> <p>PONTO DE EXCLAMAÇÃO</p>	Indica surpresa, admiração, espanto.

1) Ordene as palavras e forme frases, usando a pontuação pedida.




? O viu rato Onde Fabiano

• cozinha Ele rato na viu o

! Fabiano do rato tanto medo teve

2) Leia as frases e coloque os pontos (?), (!) e (•) no final delas.

	Você gosta de café Bia fez café agora Que delícia de café
---	---

	Vovó viu uma barata Onde a barata estava Ela estava debaixo da cama
---	---


<https://2.bp.blogspot.com/-ylegl1pZ->

[CM/T63gz8oN59I/AAAAAAAAiuY/bZF9ivl9rrs/s1600/atividades+gramatica+2+3+ano+fundamental+\(126\).jpg](https://2.bp.blogspot.com/-ylegl1pZ-CM/T63gz8oN59I/AAAAAAAAiuY/bZF9ivl9rrs/s1600/atividades+gramatica+2+3+ano+fundamental+(126).jpg)

<https://3.bp.blogspot.com/-MhGmJom0U0I/TZUQLb9a0tI/AAAAAAAAACWU/tbinGsDvMj0/s1600/14.jpg>

## E. M “ZENI SOARES RAMALHO”

### HISTÓRIA



## POVO BRASILEIRO


O povo brasileiro é formado, principalmente, por três etnias:

- **índios:** os primeiros habitantes do Brasil;
- **brancos:** os europeus, principalmente os portugueses;
- **negros:** africanos trazidos para trabalhar como escravos.

Da mistura dessas três etnias descende a maioria da população brasileira.

Apesar de ser um povo basicamente formado pela mistura de índios, portugueses e africanos, também estão presentes na formação do povo brasileiro os italianos, os espanhóis, os alemães, os árabes, os japoneses, dentre outros.

**1** Complete a cruzadinha, buscando as respostas no texto:



- (A) Os africanos foram trazidos para o Brasil para serem...
- (B) Os primeiros habitantes do Brasil.
- (C) Vieram do Japão e colaboraram para a formação do povo brasileiro.
- (D) Os primeiros representantes da população branca no Brasil.



<https://4.bp.blogspot.com/-iWQ8kX8L5Eg/XEO->

[DQt1HzI/AAAAAAAAAdVo/I4WUzBskGMc8PiR0jd\\_sMjYptvP3WwZPgCK4BGAYYCw/s1600/002.jpg](https://4.bp.blogspot.com/-iWQ8kX8L5Eg/XEO-DQt1HzI/AAAAAAAAAdVo/I4WUzBskGMc8PiR0jd_sMjYptvP3WwZPgCK4BGAYYCw/s1600/002.jpg)

E.M "ZENI SOARES RAMALHO"

MATEMÁTICA

## SUBTRAÇÃO



$$\begin{array}{r} 406 \\ -203 \\ \hline \square \end{array}$$

$$\begin{array}{r} 482 \\ -217 \\ \hline \square \end{array}$$

$$\begin{array}{r} 632 \\ -506 \\ \hline \square \end{array}$$

$$\begin{array}{r} 803 \\ -185 \\ \hline \square \end{array}$$

$$\begin{array}{r} 530 \\ -93 \\ \hline \square \end{array}$$

$$\begin{array}{r} 900 \\ -200 \\ \hline \square \end{array}$$

$$\begin{array}{r} 371 \\ -204 \\ \hline \square \end{array}$$

$$\begin{array}{r} 468 \\ -359 \\ \hline \square \end{array}$$

$$\begin{array}{r} 842 \\ -515 \\ \hline \square \end{array}$$

$$\begin{array}{r} 528 \\ -504 \\ \hline \square \end{array}$$

$$\begin{array}{r} 972 \\ -3 \\ \hline \square \end{array}$$

$$\begin{array}{r} 375 \\ -218 \\ \hline \square \end{array}$$

$$\begin{array}{r} 940 \\ -52 \\ \hline \square \end{array}$$

$$\begin{array}{r} 716 \\ -108 \\ \hline \square \end{array}$$

$$\begin{array}{r} 551 \\ -210 \\ \hline \square \end{array}$$

$$\begin{array}{r} 731 \\ -45 \\ \hline \square \end{array}$$

$$\begin{array}{r} 255 \\ -149 \\ \hline \square \end{array}$$

$$\begin{array}{r} 509 \\ -63 \\ \hline \square \end{array}$$

$$\begin{array}{r} 780 \\ -225 \\ \hline \square \end{array}$$

$$\begin{array}{r} 639 \\ -513 \\ \hline \square \end{array}$$

<https://1.bp.blogspot.com/>


[uJ3tllr3K8/VeYM1EliYil/AAAAAAAA1GU/kqhk4X9KQaE/s1600/subtrair-atividades-](https://1.bp.blogspot.com/uJ3tllr3K8/VeYM1EliYil/AAAAAAAA1GU/kqhk4X9KQaE/s1600/subtrair-atividades-prontaspng.png)

[prontaspng.png](https://1.bp.blogspot.com/uJ3tllr3K8/VeYM1EliYil/AAAAAAAA1GU/kqhk4X9KQaE/s1600/subtrair-atividades-prontaspng.png)

E.M "ZENI SOARES RAMALHO"

## CIÊNCIAS

1- Escreva dentro dos quadradinhos, de que maneira podemos contribuir para ajudar a salvar o nosso planeta:



"Vamos precisar de todo mundo, um mais um é sempre mais que dois".

<http://1.bp.blogspot.com/-FnbxhJwfpqY/TdldEq2nvpl/AAAAAAAAADRA/6zXvUTTrGCI/s1600/texto+8.jpg>

E.M “ZENI SOARES RAMALHO”

LÍNGUA PORTUGUESA

DÍGRAFO-É O ENCONTRO DE DUAS LETRAS QUE APRESENTAM UM ÚNICO SOM.

VEJA QUAIS SÃO OS DÍGRAFOS.

NH	LH	CH	QU	GU
SC	SÇ	SS	RR	XC

# CRUZA-DÍGRAFOS

1- Key (vertical, 7 letters)

2- Stove (horizontal, 7 letters)

3- Shell (vertical, 7 letters)

4- Fan (horizontal, 7 letters)

5- Umbrella (vertical, 5 letters)

6- Rain (horizontal, 7 letters)

7- Cloud (horizontal, 5 letters)

8- Chicken (horizontal, 7 letters)

✎ Separe as palavras acima em sílabas.

- 1- \_\_\_\_\_
- 2- \_\_\_\_\_
- 3- \_\_\_\_\_
- 4- \_\_\_\_\_

- 5- \_\_\_\_\_
- 6- \_\_\_\_\_
- 7- \_\_\_\_\_
- 8- \_\_\_\_\_

<http://4.bp.blogspot.com/>

[UenliG0wJVA/Uad7vonsK6I/AAAAAAAAAII/V1Wj6pAiftw/s1600/3+ano.jpg](http://4.bp.blogspot.com/UenliG0wJVA/Uad7vonsK6I/AAAAAAAAAII/V1Wj6pAiftw/s1600/3+ano.jpg)

E.M "ZENI SOARES RAMALHO"

ARTES

05 DE JUNHO-DIA MUNDIAL DO MEIO AMBIENTE

## Salve o Meio Ambiente!



<http://3.bp.blogspot.com/-iC->

[zUz0omq0/T7moAKc3bXI/AAAAAAAAqBI/fCPPVQ\\_r4O4/s1600/revista\\_figuras\\_13\\_010.jpg](http://3.bp.blogspot.com/-iC-zUz0omq0/T7moAKc3bXI/AAAAAAAAqBI/fCPPVQ_r4O4/s1600/revista_figuras_13_010.jpg)

E.M “ZENI SOARES RAMALHO”

LÍNGUA PORTUGUESA

DÍGRAFOS

1- Complete as frases abaixo com palavras que contenham dígrafos:



A cartoon girl with curly hair is pointing towards a rectangular box with a dashed border. Inside the box, there are ten rounded rectangular buttons, each containing a word. The words are arranged in three rows: the first row has 'orelhudo', 'osso', and 'coelho'; the second row has 'correu', 'chocou', and 'colher'; the third row has 'cachorro', 'galinha', and 'ninho'. Below the third row, there are two more buttons: 'coqueiro' and 'moleque'.

orelhudo      osso      coelho

correu      chocou      colher

cachorro      galinha      ninho


coqueiro      moleque

a) O   gosta de comer cenouras frescas.

b) A  carijó  seus ovos no .

c) O  latiu e  para pegar o .

d) O  subiu no  para  o coco.



## E.M “ZENI SOARES RAMALHO”

### MATEMÁTICA

RESOLVA COM ATENÇÃO.

1) ANA LUIZA COMPROU 30 FIGURINHAS E GANHOU 25 DA SUA AMIGA MARI. COM QUANTAS FIGURINHAS ANA LUIZA FICOU?

2) PAULO TEM 50 BOLINHAS DE GUDE, JOGOU COM GUSTAVO E PERDEU NO JOGO 15 BOLINHAS DE GUDE. QUANTAS BOLINHAS DE GUDE PAULO TEM AGORA?

3) BIA GANHOU 10 PACOTES DE BISCOITO DE MORANDO E GABRIEL GANHOU 24. QUANTOS PACOTES DE BISCOITO OS DOIS TÊM JUNTOS?

4) DONA JÔ FEZ 46 PÃES PARA VENDER EM SUA PADARIA, NA PARTE DA MANHÃ VENDEU 15 E A TARDE 5. QUANTOS PÃES AINDA RESTAM PARA DONA JÔ VENDER?

5) NA BIBLIOTECA DA ESCOLA TINHA 74 LIVROS, OS ALUNOS PEGARAM EMPRESTADO 14. QUANTOS LIVROS FICOU NA BIBLIOTECA?

FAÇA OS CÁLCULOS AQUI.

1)	2)	3)	4)	5)

<https://3.bp.blogspot.com/>

[f1uCZtgVh5l/WrQk3KY5DtI/AAAAAAAAA1w/vkkTgIiOREnnjAmV2ttD0HAAhi4dqVZQCLcBGAs/s1600/PROBLEMINHAS%20BADI%25C3%2587%25C3%2583O%20BE%20SUBTRA%25C3%2587%25C3%2583O-1.jpg](https://3.bp.blogspot.com/f1uCZtgVh5l/WrQk3KY5DtI/AAAAAAAAA1w/vkkTgIiOREnnjAmV2ttD0HAAhi4dqVZQCLcBGAs/s1600/PROBLEMINHAS%20BADI%25C3%2587%25C3%2583O%20BE%20SUBTRA%25C3%2587%25C3%2583O-1.jpg)