



E.M “INÊS NUNÊS MAKYAMA”

PROFESSORA: NOÊMIA

2º ANO B _____

NOME do ALUNO:

ENTREGA: 08/06/2021



Devolutiva: 22/06/2021

NOME DA

DESCOLA: _____

07/05/2021

Nome: _____

LEIA E RESPONDA AS QUESTÕES:

A FESTA DA BORBOLETA LILI



O GRANDE DIA CHEGOU!



A FESTA DA BORBOLETA LILI.

UMA LISTA DE AMIGOS ELA ESCREVEU, E UM POR UM NA SUA FESTA APARECEU.

O CORAL DE CIGARRAS CEDO ESTAVA LÁ, SE PREPARANDO PARA MAIS TARDE CANTAR.



A LEBRE RÁPIDA CHEGOU E MAIS DEPRESSA AINDA NA CARTOLA SE ASSENTOU. A CORUJA PÔS-SE A CHIRRIAR E RAPIDAMENTE TUDO PASSOU A OBSERVAR.

O PAVÃO EDGAR AJUDOU A FESTA ENFEITAR. JÁ O MACACO POPÓ SÓ FICOU PULANDO DE UM PÉ SÓ.

E PARA COMEÇAR SÓ FALTAVA UM CONVIDADO APARECER, ERA A TARTARUGA FILOMENA, QUE DEMOROU PRA VALER.



AGORA QUE TODOS CHEGARAM, VAMOS ENTÃO COMEMORAR, A FESTA DA LILI, QUE ESTÁ FELIZ A FESTEJAR.

Karla Valéria Alves Tavares de Sousa



07/05/202

LIGUE DE ACORDO COM AS CARACTERÍSTICAS DE CADA CONVIDADO



ENFEITOU A FESTA



OBSERVA TUDO



CORAL DA FESTA



PULA DE UM PÉ SÓ



DONA DA FESTA



ANDA DEVEGAR



ASSENTOU NA CARTOLA

08/05/2021

NOME: _____

MARQUE A ALTERNATIVA QUE APARECE A LISTA DOS CONVIDADOS:

- CIGARRAS, LEBRE, CORUJA, PAVÃO, MACACO, TARTARUGA.
- PORCO, LEBRE, CORUJA, PAVÃO, MACACO.
- CIGARRAS, VACA, CORUJA, PAVÃO, PICA PAU.
- CIGARRAS, LEBRE, LEÃO, PAVÃO, TARTARUGA.

QUEM SE ASSENTOU NA CARTOLA:



MARQUE A ALTERNATIVA QUE CORRESPONDE A IMAGEM ABAIXO:



- CORAL DE FORMIGAS
- CORAL DE MORCEGOS.
- CORAL DE LEBRES
- CORAL DE CIGARRAS.

MARQUE A SÍLABA INICIAL DA IMAGEM:

- RU
- CO
- CU
- JA



09/05/2021

NOME: _____

FORME UMA FRASE COM AS PALAVRAS:

BORBOLETA: _____

,


MACACOE: _____

PAVÃO.: _____

E DEPOIS, DESENHEOS PERSONAGENS.

10/05/2021

NOME: _____

ESCOLA: _____	Educação
PROFESSOR (A): _____	
DATA: _____ DE _____ DE _____	
ALUNO (A) : _____	

PINTE AS PALAVRAS QUE RIMAM COM BORBOLETA

CAMISA	MULETA	BONECA	MALETA
CANETA	ROLETA	BOLSA	LÁPIS
CUECA	NAVIO	CHUPETA	JANELA

SEPARE E CONTE AS SÍLABAS

PRETAS _____


LUZ _____

ALEGRES _____

BONITINHAS _____

COMPLETE O QUADRO

BORBOLETA			
NÚMERO DE LETRAS	NÚMERO DE VOGAIS	NÚMERO DE CONSOANTES	NÚMERO DE SÍLABAS





























11/05/2021

NOME: _____


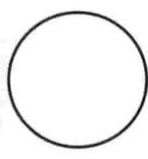

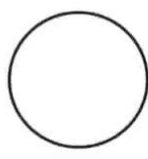

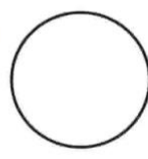






DATA: _____

www.mestredosaber.com.br

COMPLETE A SEQUÊNCIA ALFABÉTICA.

ESCREVA A LETRA INICIAL DE CADA DESENHO.










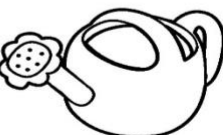

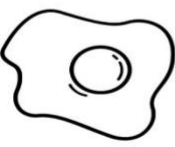
					
					

14/05/2021

NOME: _____ DATA: _____
ESCOLA: _____ PROF.(A): _____

PINTE APENAS O QUE SE INICIA POR VOGAIS:

A - E - I - O - U

WWW.OESPACOEDUCAR.COM.BR

COLOQUE A LETRA INICIAL DE CADA FIGURA:

16/05/2021

15/05/2021

NOME: _____



É difícil imaginar como um bicho esquisito igual a uma lagarta pode se transformar em uma linda borboleta.

► Relacione:

1 A mãe borboleta costuma deixar seus ovos em uma planta; é desses ovinhos que a lagarta irá nascer.



2 A lagarta é uma devoradora de folhas. Ela come tanto que de vez em quando precisa trocar de pele porque engordou demais. Depois de um tempo, ela faz um casulo.



3 Dentro do casulo, que é uma casquinha em que o inseto se abriga por um tempo, acontece a transformação do animal.



4 Quando, finalmente, a lagarta se transforma em borboleta, ela ainda tem que esperar suas asas se esticarem e secarem bem para poder voar.




16/05/201

NOME: _____

CICLO DE VIDA BORBOLETAS

ESCREVA UMA FRASE PARA CADA ETAPA DO CICLO DE VIDA DA BORBOLETA.









17/052021

NOME: _____

Marque um X onde está escrito o nome do desenho.

- BOLETO
- BOBOLETA
- BORBOLETA
- BORBORETA



Quantas sílabas têm a palavra **BORBOLETA**.

9 4 5 6

Qual é a primeira sílaba da palavra BORBOLETA

TA LE BOR BOR

Escreva outras palavras que começam com a mesma sílaba da palavra BORBOLETA.

Escreva outras palavras que terminam com a mesma sílaba da palavra BORBOLETA.

Marque um X na frase que descreve o que faz a borboleta.

- A BORBOLETA AZUL ESTÁ NO CASULO.
- A BORBOLETA AZUL ESTÁ NA ÁRVORE.
- A BORBOLETA AZUL ESTÁ PERTO DAS FLORES.
- A LAGARTA TRANSFORMOU - SE NUMA LINDA BORBOLETA.



18/052021

NOME: _____

ESCOLA: _____

TURMA: _____ PROFESSOR(A): _____

EU SOU: _____



1- FAÇA A CORRESPONDÊNCIA:

A

i

E

a

J

e

O

u

U

o

2- LEIA E ESCREVA:

a _____

A _____

e _____

E _____

i _____

J _____

o _____

O _____

u _____

U _____



07/05/2021


ESCOLA _____

NOME: _____

DATA: ____/____/____

Alfabetizar com AMOR
www.amorensina.com.br

COMPARANDO QUANTIDADES



NA ÁRVORE "A" TEM _____ MAÇÃS.

NA ÁRVORE "B" TEM _____ MAÇÃS.


NA ÁRVORE "C" TEM _____ MAÇÃS.

QUANTAS MAÇÃS NO CHÃO?

A → _____

B → _____

C → _____



A ÁRVORE COM **MAIS** MAÇÃS É:

() A () B () C

A ÁRVORE QUE TEM **MENOS** MAÇÃS NO CHÃO É:

() A () B () C

ADICIONE TODAS AS MAÇÃS QUE ESTÃO NO CHÃO E REGISTRE O RESULTADO.



- RISQUE TODAS AS MAÇÃS DA ÁRVORE **A**.

- RISQUE A MESMA QUANTIDADE NA ÁRVORE **B**.

* QUANTAS MAÇÃS A ÁRVORE **B** TEM A MAIS QUE A ÁRVORE **A**?



A ÁRVORE **C** TEM:

() UMA DEZENA DE MAÇÃS.

() UMA DÚZIA DE MAÇÃS.

08/05/2021

NOME: _____

100

NOME: _____

ESCREVA OS NÚMEROS ATÉ 100

1		4							
								20	
				26					
32									
						48			
	53								
					67				
			75						
81									
		94						100	

©2011 Tiptop Learning Resources, Inc.

©2011 Tiptop Learning Resources, Inc.

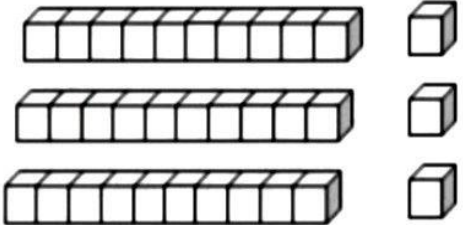

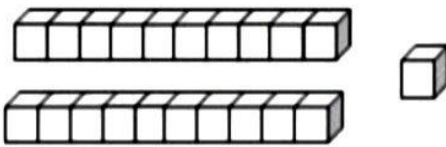

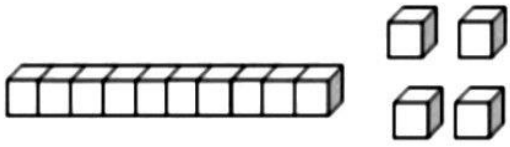

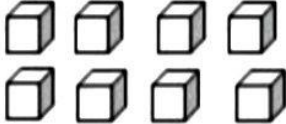

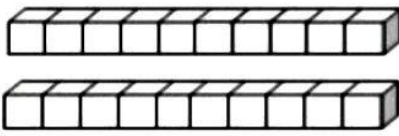

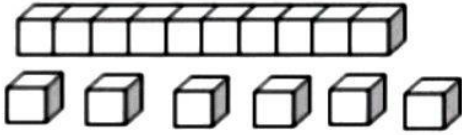

09/05/2021

ESCOLA _____
DATA _____ SÉRIE _____
PRO _____
ALUNO(A) _____




Atividade

1- CONTE AS DEZENAS E UNIDADES. PINTE O RESULTADO CORRETO:

Material dourado.ANEXO DA ATIVIDADE 9



10/05/2021

ESCOLA _____

NOME: _____

DATA: ____/____/____

Alfabetizar com Amor
www.amorena.love.com.br

RESOLVA AS ADIÇÕES!

$$\begin{array}{|c|c|} \hline D & U \\ \hline 4 & 3 \\ \hline + & 3 & 4 \\ \hline & & \\ \hline \end{array}$$

$$\begin{array}{|c|c|} \hline D & U \\ \hline 4 & 3 \\ \hline + & 2 & 5 \\ \hline & & \\ \hline \end{array}$$

$$\begin{array}{|c|c|} \hline D & U \\ \hline 3 & 7 \\ \hline + & 4 & 2 \\ \hline & & \\ \hline \end{array}$$

$$\begin{array}{|c|c|} \hline D & U \\ \hline 5 & 2 \\ \hline + & 3 & 3 \\ \hline & & \\ \hline \end{array}$$

$$\begin{array}{|c|c|} \hline D & U \\ \hline 3 & 4 \\ \hline + & 2 & 2 \\ \hline & & \\ \hline \end{array}$$

$$\begin{array}{|c|c|} \hline D & U \\ \hline 4 & 3 \\ \hline + & 5 & 3 \\ \hline & & \\ \hline \end{array}$$

$$\begin{array}{|c|c|} \hline D & U \\ \hline 6 & 2 \\ \hline + & 2 & 3 \\ \hline & & \\ \hline \end{array}$$

$$\begin{array}{|c|c|} \hline D & U \\ \hline 6 & 3 \\ \hline + & 3 & 5 \\ \hline & & \\ \hline \end{array}$$

$$\begin{array}{|c|c|} \hline D & U \\ \hline 5 & 3 \\ \hline + & 2 & 6 \\ \hline & & \\ \hline \end{array}$$



11/05/2021

Nome

Data

Matemática

1

A Ana juntou uma dezena de ovos a 5 que já tinha.
Com quantos ovos ficou ?



R: _____

2

O avô do Artur colheu 8 laranjas
7 maçãs e 5 pêssegos. Quantos
frutos colheu ao todo ?



R: _____

3

A Sofia tem 12 livros, o Sérgio
tem 5 e a Gabriela tem 3.
Quantos livros têm as três
crianças ?



R: _____

4

A Nádia tinha 40 rebuçados
mas vai oferecer 12 aos seus
amigos.
Com quantos rebuçados fica a
menina ?



R: _____

14/05/2021

NOME: _____

DATA: _____

www.mestredosaber.com.br

PINTE A QUANTIDADE DE QUADRADINHOS REFERENTE A IDADE DE CADA CRIANÇA.



CAROL

BETO

FABI

TIAGO

NINA

LUCA

8

10

7

9

6

5

15/05/2021








Escola: _____

Turma: _____ Data: ____ / ____ / ____

Aluno: _____

ANTECESSOR e SUCESSOR

1 - Escreva nos balões, o número que vem antes e depois do numeral em destaque.



16/05/2021

NOME: _____

Escola: _____

Data: _____ Turma: _____ ESCOLAEDUCACAO.COM.BR

Aluno: _____

Escreva os numerais pedidos.

Oitenta e nove	
Cinquenta e cinco	
Setenta e quatro	
Trinta e seis	
Noventa e um	
Quarenta e oito	
Vinte e dois	
Sessenta e três	










QUESTÃO 7

Observe o quadro numerado de 1 a 99.

1	2	3	4	5	6	□	8	9	10
△	12	13	14	15	16	17	18	19	20
21	22	23	24	*	26	27	28	29	☾
31	32	33	34	35	36	37	38	●	40
41	42	✕	44	45	46	47	48	49	50
51	52	53	54	55	56	57	☆	59	60
61	62	63	⊙	65	66	67	68	69	70
71	72	73	74	75	∞	77	78	79	80
81	♥	83	84	85	86	87	88	89	◇
91	92	93	94	95	96	☺	98	99	



Agora, substitua os símbolos pelos numerais.



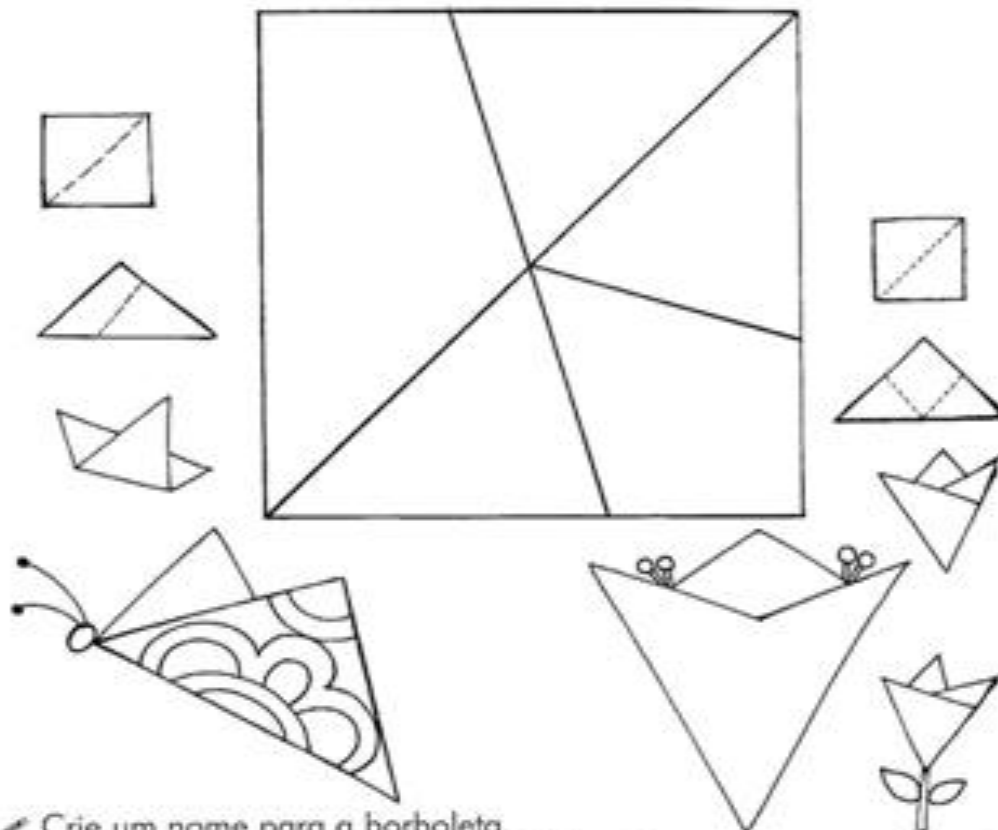
1/705/2021

NOME _____

Arte: VAMOS FAZER UMA BORBOLETA E UMA FLOR?

Material: papel fantasia, cola, tesoura e canetinha

Modo de fazer: depois de montado e colado, dê o acabamento usando as canetinhas e depois passe cola, jogue brocol, purpurina e farinha de mandioca colorida com anilina.



- ✍ Crie um nome para a borboleta.
- ✍ Cole a flor e a borboleta em uma folha de papel.
- ✍ Escreva um texto contando o que a borboleta está falando com a flor.

18/05/2021

ESCOLA: _____
TURMA: _____ PROFESSOR(A): _____
EU SOU: _____



A SEMANA INTEIRA

1- RECORTE E COLE OS NOMES DOS DIAS DA SEMANA, SEGUINDO A ORDEM CORRETA E ENUMERE-OS.



-FEIRA



-FEIRA



-FEIRA



-FEIRA



-FEIRA



SEXTA

QUINTA

QUARTA

SÁBADO

DOMINGO

TERÇA

SEGUNDA

Referências bibliográfica:

WWW.ESPACOPROFESSOR.COM

PINTREST A ARTE DE ENSINAR E APRENDER.

Novaescla.org.br

ATIVIDADESDESUZANINHO.COM

3.bp.blogspot.com

Cantinho alternativo.com.br

PORTALESCOLAINFANTIL.BLOGSPOT.COM

WWW.OESPACOEDUCAR.COM.BR

BR.PINTEREST.COM