



E.M. "Luiz Gonzaga Soares"



6ª apostila

Referente aos dias 07, 08, 09, 10, 11, 14, 15, 16, 17, 18 e 19 (Totalizando 11 dias)

Obs: 19/06 – Sábado Letivo.

Nome do aluno: _____

Professora: Milena Shizue Nakayama Nunes

Ano: 4º ano B

2º bimestre/2021

Orientações para as atividades do livro: Currículo em Ação EMAI.

1	Fazer a atividade 1 – A e B. Complete o quadro com os números que faltam e responda as perguntas.	Página 11
	Fazer as atividades 1 – A e B, 2 e 3.	Página 12
2	Fazer a atividade 2 – A, B, C, D, E, F e G. (Antecessor e Sucessor)	Página 13
	Fazer as atividades 1 – A, B e C. 2 – A e B. Complete o quadro e responda as perguntas.	Página 16
3	Fazer as atividades 1 – A e B. Observe o quadro de Ordens e Classes e responda.	Página 17
	Fazer as atividades C. 2 – A e B. 1, 2 e 3. (Ordem crescente, números pares e ímpares)	Página 18
4	Fazer a atividade 1 – A, B, C e D. Utilize o quadro de ordens e classes e escreva como se lê os números.	Página 19
	Fazer as atividades 1 – A, B, C, D e E. Observe a tabela e responda as perguntas.	Página 20
5	Fazer as atividades 1 – A, B e C. Pirâmides e Prismas.	Página 22
	Fazer as atividades 1. Figuras que lembram os sólidos geométricos.	Página 23
6	Fazer a atividade 1. Complete o texto com os números adequados.	Página 26
	Fazer as atividades 1 e 2 – A, B, C, D, E e F. Preenchas os calendários de Fevereiro e Março de 2021 e responda as perguntas.	Página 27
7	Fazer as atividades 1 – A e B, 2 e 3.	Página 28
	Fazer as atividades 1 e 2. Escreva a fora que os relógios estão marcando.	Página 29
8	Fazer a atividade 2. Descubra quanto tempo passou.	Página 31
	Fazer as atividades 1 – A, B, C, D, E e F. Resolva os probleminhas.	Página 33
9	Fazer as atividades 1 – A, B, C e D. Resolva os Problemas.	Página 34
	Fazer as atividades 1 – a, 2 e 3. Resolva as adições.	Página 35
10	Fazer as atividades 1 – A, B e C. 2 – A, B, C e D.	Página 36
11	Fazer as atividades 1, 2, 3 e 4. Teste o que já aprendeu.	Página 37
	Fazer as atividades 5, 6 e 7. Teste o que já aprendeu.	Página 38

FESTAS JUNINAS

FESTA JUNINA
TEM UMA PORÇÃO
DE COISAS BACANAS!
OS FOGOS...



...A QUADRILHA...
EM ESPECIAL O
CASAMENTO...



ER... GLUP!
TEM OS
FOGOS...



EU GOSTO
DA PIPOCA, DO
DOCE DE BATATA-
DOCE, DA MAÇA
DO AMOR...



ADORO AS
GINCANAS E
AS BRINCA-
DEIRAS...




TEM A
BARRACA
DO BEJO...



SEM ESSA DI
BEJO, ROSINHA!

MIOR É A
GENTE CONHECÉ
OTRAS COISA!



MAURICIO

1- Copie o que a Turma da Mônica diz que tem na Festa Junina:

2- O que meninos dizem que tem na festa, mas é perigoso?

3- Por que Chico Bento fica bravo com a Rosinha?

4- Mônica está vestida de noiva, por quê?

5- Chico Bento representa o homem do campo. Ele tem uma forma peculiar de falar. Transcreva a fala abaixo, para o vocabulário formal.





O estouro da pipoca

Do contato de um inocente grão de milho amarelo com uma panela quente surge uma branquinha e apetitosa pipoca. Mas como será que isso ocorre? Será que isso é mágica?

Não, tudo depende da transferência de calor para dentro do milho, que faz a água evaporar, aumentando a pressão até que o milho estoure e vire pipoca.

A pipoca (do tupi antigo *pira* – pele + *pok* – estourar = **pele estourada**) é um prato brasileiro feito de uma variedade especial de milho que explode quando aquecido.

Seu nome em inglês é **popcorn**.

Na Alemanha, onde poucas pessoas conhecem a pipoca, ela é comercializada apenas em pequenas escalas nos cinemas.

Interpretando o texto

a) Por que o texto que você leu é informativo? Explique com suas palavras.

b) Do contato de um inocente grão de milho amarelo com uma panela quente surge uma branquinha e apetitosa pipoca. Mas como será que isso ocorre?

c) A pipoca é um prato típico de qual país?

d) Como a pipoca é escrita em inglês?

e) Dê sua opinião. Em que ocasião você gosta de comer pipoca?

Consulte o texto e encaixe as respostas na cruzadinha.

- (A) Nome do país onde a pipoca é popular.
 (B) Grão amarelo usado para fazer pipoca.
 (C) Local onde a pipoca é comercializada na Alemanha.
 (D) É branquinha e apetitosa.




DESCUBRA OS 7 ERROS



Copyright: Livro do Magico - baseado no livro de Magico. As ilustrações são de autoria do autor. Todos os direitos reservados.

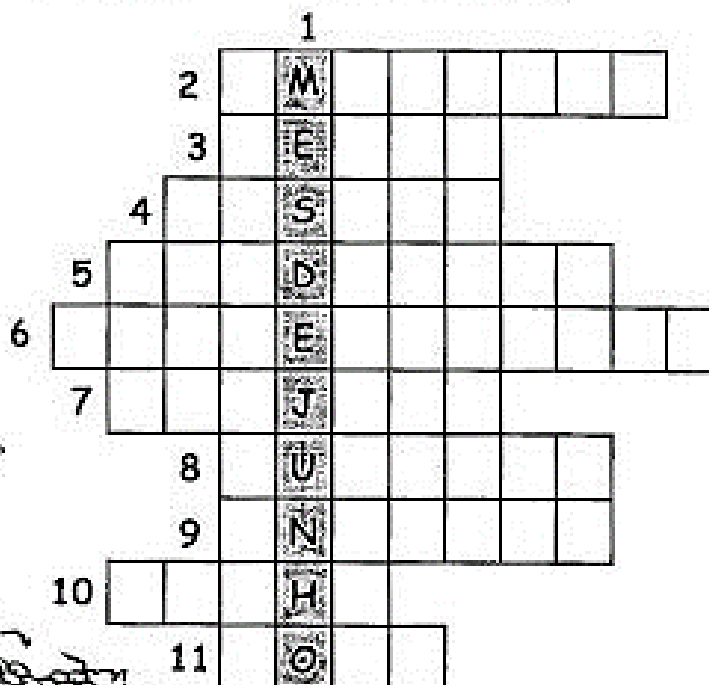

<http://smiletrocandoideias.blogspot.com.br/2015/06/atividades-para-festa-junina-parte-i.html?sref=pi&m=1>

Escreva os erros que você encontrou.



Festas Juninas

► Descubra as palavras e complete a cruzadinha.



① Mês das festas juninas.

② Todos comemtorrado. **men** **sim** **do** **ca**

③ É um dos santos comemorados neste mês: São **dro** **pe**

④ Todos gostam de batata-doce **ca** **ns** **sa**

⑤ A criança adora dançar **gua** **lha** **dri**

⑥ O terreiro fica todo enfeitado com **nas** **ban** **ri** **dei**

⑦ Mamãe faz um panelão de com leite. **li** **ca** **can**

⑧ Os senhores fazem com canela e gengibre. **tão** **quên**

⑨ Santo é o santo casamenteiro. **nio** **am** **tô**

⑩ A criança assa o verde na brasa. **lho** **mi**

⑪ Capelinha de melão é de São **ão** **lô**

Observe os números e coloque-os em ordem crescente:

1.034 3.859 3.000 825 83 1.476 600 4.324 2.199

Agora, separe os números acima em:

Pares _____

Ímpares _____



Escreva os números, abaixo, por extenso:

1.034 _____

825 _____

1.476 _____

3.000 _____

Leia, pense e resolva:

Na semana da Festa Junina realizada em agosto pela Escola do Dirceu Rovari, em Pedro de Toledo, as vendas de cada dia da semana foram anotadas na seguinte tabela:



DIAS DA SEMANA	PIPOCA	BOLO DE FUBÁ	MAÇA DO AMOR
QUINTA-FEIRA	875	65	900
SEXTA-FEIRA	1.135	253	1.240
SABADO	934	94	1.019
DOMINGO	1.245	83	935

De acordo com a tabela acima, responda as questões 1 a 7:

1 – Em qual dia da semana foi vendido mais maçã do amor?

2 – Quantas pipocas foram vendidas no sábado?

3 – Em qual dia da semana vendeu menos bolo de fubá?

4 – Que produto é menos vendido?

5 – Juntando as vendas de sábado e domingo, quantas maçãs do amor foram vendidas?

R: _____

6 – Qual a diferença da quantidade de pipocas vendidas entre “domingo” e “sexta-feira”?

R: _____

7 – Mamãe comprou uma caixa contendo 48 saquinhos de pipocas e irá repartir entre seus 2 filhos. Quantos saquinhos de pipocas cada um ganhará?

R: _____

Complete a tabela:

	UM	C	D	U
Dois Mil				
Seiscentos e trinta e cinco				
Setenta e oito				
Quatro mil e quarenta				



Produzir um lindo texto:

Observe a ilustração abaixo e crie uma linda história. Para te ajudar vamos lançar algumas perguntas. O que está acontecendo? Que nome daria aos personagens? O que seria este evento? O que eles fazem neste evento? O que o menino está fazendo na barraca de doce? Eles irão dançar quadrilha? O menino está trepado em uma coisa que faz parte das festas juninas... o que é isso? Para que serve? Como ele é feito? O menino alcançou o objetivo em subir neste material? Como terminou a Festa?



As cinco maiores festas juninas do Brasil

Campina Grande e Caruaru são consideradas as "maiores festas de São João" do mundo. Regado a comida típica, forró e muito folclore, o mês de junho é marcado pelas tradicionalíssimas festas de celebração dos principais santos juninos: Santo Antônio, São Pedro, São João e São Paulo.

Veja quais são as principais celebrações juninas do Brasil.



Festa junina de São João de Caruaru (Pernambuco)

Disputa com Campina Grande (PB) o título de maior festa de São João do Mundo. Quadrilhas com até 4 mil pessoas, forrós, comida típica e desfiles lotam o Pátio de Eventos Luiz Gonzaga, no Centro, e o bairro Alto do Moura. Começa em maio e vai até o final de junho.

Bumba Meu Boi, São Luís

É a festa mais tradicional do folclore maranhense. A partir do dia de Santo Antônio (13 de junho) até o dia 30 do mesmo mês (dia de São Marçal), grupos folclóricos de todo o estado se encontram nas ruas de São Luís para contar a história da escrava Catirina e de seu marido, que precisam ressuscitar o animal que haviam matado. Os grupos se apresentam ao redor de bois coloridos, num festival marcado por danças e ritmos.

São João, Aracaju

Em junho o som da sanfona e da zabumba tomam conta do centro e da orla de Aracaju. No centro acontece o Forró Caju, com apresentações de grandes nomes da música brasileira artistas regionais, e na orla de Atalaia é realizado o Arraial do Povo, uma cidade cenográfica imita uma vila no interior.



Festa de São João em Campina Grande (PB)

Conhecida como o "maior São João do Mundo", a festa ocupa o espaço da grandiosa Praça Parque do Povo. O evento conta com palcos de forró, quadrilhas e shows. A festa acontece do dia 6 de junho até o dia 6 de julho. O dia de São João, 24 de junho, é quando a festa tem mais movimento.

Encontro Nacional de Folguedos, Teresina

Acontece na segunda quinzena de junho. Apresentações de grupos folclóricos, quadrilhas, comidas típicas e oficinas agitam os palcos montados especialmente para o Festival em Teresina.

Julia Latorre

Após a leitura do texto, responda.

1- Qual o assunto principal do texto?

2- As cidades citadas no texto são de qual região do Brasil?

3- Você conhece essa região?

() Sim () Não

4- Em qual região brasileira você mora? Em qual cidade?

5- Copie o nome das cidades e estados que aparecem no texto.

6- Pinte no mapa.

a) os estados onde ficam as cidades:

 Campina Grande	 São Luís	 Caruaru
 Aracaju	 Teresina	

b)  Contorne a região

Nordeste.

