

E.M RECANTO FELIZ- Prof.ª SANDRA

REGINA RODRIGUES DA SILVA.

APOSTILA DE ATIVIDADES Nº 06

DIAS: 07, 08, 09, 10, 11, 14, 15, 16, 17, 18, E 19/06.



ALUNO(A): _____

1º ANO B _ PROFESSORA: THAÍS

QUERIDA FAMÍLIA!

- AS CRIANÇAS ESTÃO RECEBENDO ESSAS ATIVIDADES REMOTAS QUE DEVEM SER ACOMPANHADAS NESSE MOMENTO.
- ENTRE EM CONTATO SEMPRE QUE PRECISAR PARA TIRAR DUVIDAS.
- NOS DE UM RETORNO SOBRE AS ATIVIDADES FEITAS PELAS CRIANÇAS.
- BOM ESTUDOS!
- E SE CUIDEM !

COM CARINHO

PROFESSORA: THAÍS



IBIÚNA, 07 DE JUNHO DE 2021

LÍNGUA PORTUGUESA

HABILIDADE: (EF01LP03)

ATIVIDADE 1

- COMPLETE O CABEÇALHO COM O DIA DE HOJE E DEPOIS TENTE COPIAR BEM BONITO NAS LINHAS ABAIXO:

IBIÚNA, _____ DE JUNHO DE 2021

E.M RECANTO FELIZ PROFESSORA SANDRA REGINA

MEU NOME É:

ATIVIDADE 2

LEIA COM ATENÇÃO COM AJUDA DE UM ADULTO:

→ O ALFABETO É DIVIDIDO EM DOIS GRUPOS:

VOGAIS

CONSOANTES

A B C D E F G H I
J K L M N O P Q R
S T U V W X Y Z

FAÇA UM CÍRCULO NA PRIMEIRA E NA ÚLTIMA LETRA DO ALFABETO.

HABILIDADE: (EF01HI108)

ATIVIDADE 1

CIÊNCIAS DA NATUREZA
MEIO AMBIENTE

COM AJUDA DE UM ADULTO, LEIA O TEXTO ABAIXO.

O DIA MUNDIAL DO MEIO AMBIENTE É COMEMORADO NO DIA 05 DE JUNHO.

O MEIO AMBIENTE É O LOCAL ONDE SE DESENVOLVE A VIDA NA TERRA, OU SEJA, É A NATUREZA COM TODOS OS SERES VIVOS E NÃO VIVOS QUE NELA **HABITAM** E INTERAGEM. É TUDO AQUILO QUE NOS CERCA COMO A ÁGUA, O SOLO, A VEGETAÇÃO, O CLIMA, OS ANIMAIS, OS SERES HUMANOS, E DENTRE OUTROS.



***HABITAM:** PERMANECEM, MORAM, RESIDEM

LIGUE CADA DESENHO A PALAVRA CORRESPONDENTE.



ANIMAIS



ÁGUA



VEGETAÇÃO

IBIÚNA, 08 DE JUNHO DE 2021

MATEMÁTICA

HABILIDADE: (EF01MA17)

ATIVIDADE 1

OS NÚMEROS TAMBÉM SERVE PARA INDICAR EM QUE DIA DO MÊS ESTAMOS.

1- QUE DIA DO MÊS É HOJE?

2- COM AJUDA DE UM ADULTO , CONSTRUA O CALENDÁRIO DO MÊS QUE ESTAMOS.

MÊS DE _____						
DOMINGO	SEGUNDA- FEIRA	TERÇA- FEIRA	QUARTA- FEIRA	QUINTA- FEIRA	SEXTA- FEIRA	SÁBADO

3- QUANTOS DIAS TEM O MÊS?

4- EM QUE DIA DA SEMANA OCORRE O PRIMEIRO DIA DESTE MÊS?

5- QUANTOS DOMINGOS TEMOS NO MÊS ?


6- QUANTOS DIAS TEM A SEMANA?

LÍNGUA PORTUGUESA

HABILIDADE:(EF01LP10A)

ATIVIDADE 3

COMPLETE COM AS LETRAS QUE ESTÃO FALTANDO.

		C		E
		H		J
K		M		
P	Q		S	T
	V	W		
		Z		

O ALFABETO ESTÁ DIVIDIDO ENTRE CONSOANTES E VOGAIS.

VOGAIS



ATIVIDADE 4

C- CIRCULE DE VERMELHO AS VOGAIS DO ALFABETO.

D- ESCREVA AS VOGAIS NO QUADRO ABAIXO.

IBIÚNA, 09 DE JUNHO DE 2021

MATÉMATICA

HABILIDADE: (EF01MA15)

ATIVIDADE 2

COM DE ADULTO, LEIA E RESPONDA.

1- MEDIDAS DE COMPRIMENTO

OBSERVE AS ÁRVORES DAS FOTOS ABAIXO.

MARQUE X NO QUADRINHO DA ÁRVORE MAIS ALTA.


DEPOIS, MARQUE ● NO QUADRADINHO DA ÁRVORE MAIS BAIXA.



2- MEDIDAS DE TEMPO

MARQUE X NO QUADRINHO DA CENA QUE SE PASSA ÀS DEZ HORAS DA MANHÃ, OU SEJA, DURANTE O DIA.

DEPOIS, MARQUE ● NO QUADRINHO DA CENA QUE SE PASSA ÀS DEZ HORAS DA NOITE, OU SEJA, DURANTE A NOITE.



3- MEDIDA DE TEMPERATURA


PINTE O QUADRINHO DE CADA CENA DE ACORDO COM A LEGENDA.



MEDIDA DE TEMPERATURA MENOR (**MAIS FRIO**).




MEDIDA DE TEMPERATURA MAIOR (**MAIS QUENTE**).



4- MEDIDA DE MASSA (“ PESO”).

A) CONTORNE A FRUTA **MAIS PESADA**.
NA PESAGEM DA IMAGEM.



B) PENSE NAS FRUTAS DE CADA ITEM ABAIXO E PINTE O QUADRINHO DA
FRUTA **MAIS LEVE**.

MELÃO

E

PÊSSEGO

MAÇÃ

E

JACA

ABACAXI

E

BANANA

PERA

CEREJA

E

CAQUI

IBIÚNA, 10 DE JUNHO DE 2021

LÍNGUA PORTUGUESA E CIÊNCIAS DA NATUREZA

HABILIDADE:(EF12LP19) E (EF01C102)

ATIVIDADE 5

COM AJUDA DE ADULTO, LEIA O POEMA ABAIXO.

CORONAVÍRUS

(THUANY SILVEIRA S. VENADES)

UMA HISTÓRIA VOU CONTAR,
PRESTE MUITA ATENÇÃO.
PRA COVID NÃO PEGAR,
LAVE MUITO BEM A MÃO.

EXISTE OUTRA MANEIRA,
PARA NOS PROTEGER
USE MÁSCARA, NÃO É BRINCADEIRA!
E NADA VAI ACONTECER.

O ÁLCOOL TAMBÉM AJUDA,
PARA QUANDO NA RUA ESTAMOS.
VAMOS FAZER NOSSA PARTE,
E CUIDAR DE QUEM AMAMOS.



1- PINTE AS RIMAS DO POEMA.

2- CIRCULE NO POEMA OS MÉTODOS DE PREVENIR O COVID- 19.

LIGUE AS IMAGENS AOS SINTOMAS DO CORONAVÍRUS(COVID-19).



FEBRE

TOSSE



DIFICULDADE
PARA RESPIRAR

ESCREVA OS NOMES DOS OBJETOS QUE DEVEMOS USAR PARA EVITAR O CORONAVÍRUS (COVID-19).



A large, empty rectangular box with a dashed border, intended for writing the name of the object shown to the left.



A large, empty rectangular box with a dashed border, intended for writing the name of the object shown to the left.



A large, empty rectangular box with a dashed border, intended for writing the name of the object shown to the left.

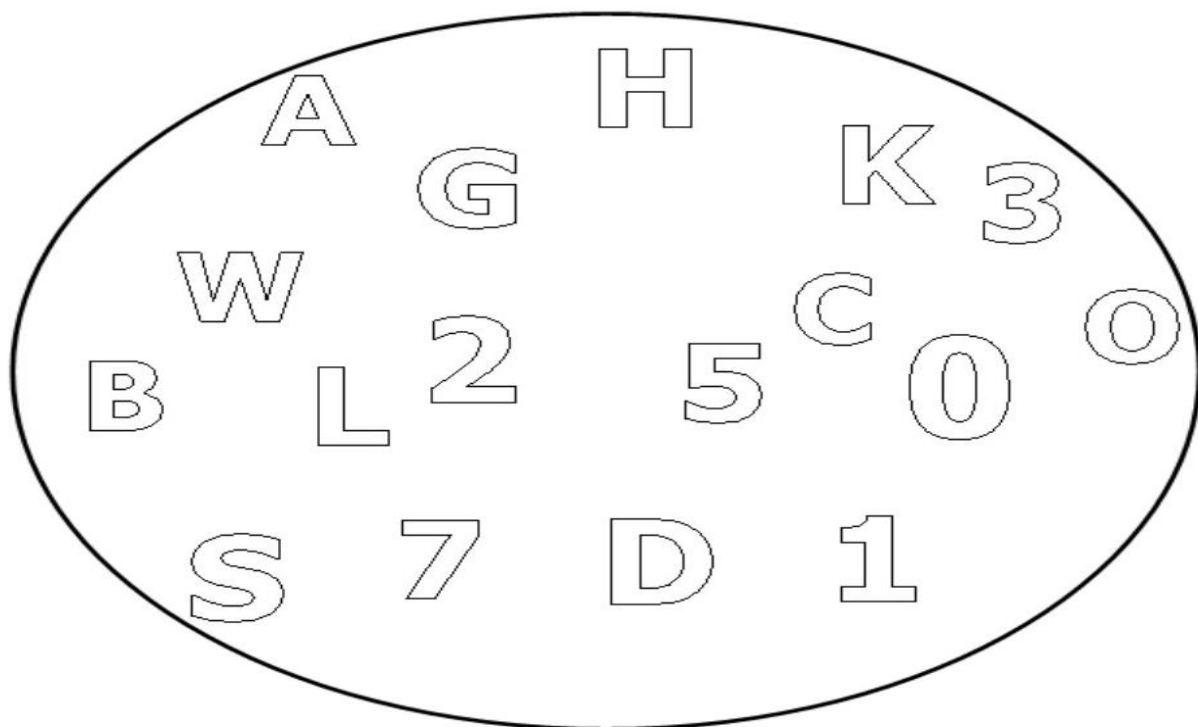
IBIÚNA, 11 DE JUNHO DE 2021

ATIVIDADE 6

HABILIDADE: (EF01LP04)

LÍNGUA PORTUGUESA

OBSERVE A IMAGEM ABAIXO E SIGA AS ORIENTAÇÕES.



A- PINTE DE AZUL AS LETRAS.

B- CIRCULE OS NÚMEROS.

C- COPIE ABAIXO APENAS OS NÚMEROS.

D- COPIE SOMENTES AS LETRAS.

MATEMÁTICA

HABILIDADE: (EF01MA06)

ATIVIDADE 3

OBSERVE A CENA E COM AJUDA DE UM ADULTO RESPONDA.



1- QUANTAS CRIANÇAS ESTÃO BRINCANDO NO BALANÇO?

2-QUANTAS CRIANÇAS BRINCAM NO ESCORREGADOR?

3-QUANTAS CRIANÇAS BRINCAM COM AREIA?

4-QUANTAS MENINAS?


5- QUANTOS MENINOS?

6- QUANTAS CRIANÇAS TÊM AO TODO NO PARQUINHO?

IBIÚNA, 14 DE JUNHO DE 2021




COMPETÊNCIA SOCIOEMOCIONAL

PINTE COSQUINHA E AS EMOÇÕES QUE ESTÁ SENTINDO



ATIVIDADE 2

1-COMO VOCÊ SE FICA QUANDO GANHA CARINHO? PINTE.



LÍNGUA PORTUGUESA

ATIVIDADE 7

HABILIDADE: (EFLP09)

COM AJUDA DE UM ADULTO ,LEIA A POESIA E PINTE AS RIMAS UTILIZANDO A MESMA COR.

FESTA JUNINA

WALDIRENE DIAS

HOJE A FESTA ESTÁ BOA
SINTO MUITA ANIMAÇÃO
A SANFONA ESTÁ AFINADA
POIS É NOITE DE SÃO JOÃO.


BRINCO NAS BARRAQUINHAS
É UMA GRANDE DIVERSÃO
LANÇO ARGOLAS COM ALEGRIA
GANHO PRENDAS DE MONTÃO.

E NA BOCA DO PALHAÇO
TENHO BOA PONTARIA
FISGO LOGO O MAIOR PEIXE
SOU O REI DA PESCARIA.



A- CIRCULE A LETRA J DA POESIA ACIMA.

B- FAÇA O TRACEJADO DA LETRA J.



IBIÚNA, 15 DE JUNHO 2021

MATEMÁTICA

HABILIDADE: (EF01MA05)

ATIVIDADE 4

1- COM AJUDA DE UM ADULTO, COMPLETE A SEQUÊNCIA NUMÉRICA E LEIA OS NÚMEROS EM VOZ ALTA.

1									10
11				15			18		
	22				26				30

2- OBSERVE AS SEQUÊNCIAS DE NÚMEROS E COMPLETE-AS.

1	2	3	4	5					
---	---	---	---	---	--	--	--	--	--

11	12	13	14	15					
----	----	----	----	----	--	--	--	--	--

21	22	23							
----	----	----	--	--	--	--	--	--	--

3- OBSERVE O QUADRO , RESPONDA:

A- QUAIS NÚMEROS TERMINAM EM 6?

B- QUAL É O NÚMERO QUE ESTÁ ENTRE 13 E 15?

C- QUAIS NÚMEROS ESTÃO ENTRE 22 E 27?

LÍNGUA PORTUGUESA

HABILIDADE: (EF01LP16)

ATIVIDADE 8

FELIPE VIAJOU PELO BRASIL E FOI A UMA FESTA POPULAR.

NO BRASIL HÁ MUITAS DESSAS FESTAS.

VEJA ABAIXO A OBRA DA PINTORA LOURDES DE DEUS, QUE FELIPE ENCONTROU EM SUA VIAGEM.

VEJA ABAIXO A OBRA DA PINTORA LOURDES DE DEUS, QUE FELIPE ENCONTROU EM SUA VIAGEM.



A GRANDE QUADRILHA, DE LOURDES DE DEUS, 2014.

LEITURA: PINTURA

A) VOCÊ CONHECE A FESTA REPRESENTADA NA PINTURA?

SIM

NÃO

B) EM QUE PERÍODO DO DIA A FESTA PARECE ESTAR ACONTECENDO?

DIA



NOITE



C) VOCÊ GOSTOU DESSA PINTURA? PORQUE?

IBIÚNA, 16 DE JUNHO DE 2021

MATEMÁTICA

HABILIDADE: (EF01MA02)


ATIVIDADE 5

COM AJUDA DE UM ADULTO ,LEIA A QUADRINHA A SEGUIR:

CONTE AGORA, MEU AMIGO,
CONTE COM MUITA ATENÇÃO.
CINCO DEDOS DIFERENTES,
CINCO DEDOS DE UMA MÃO.



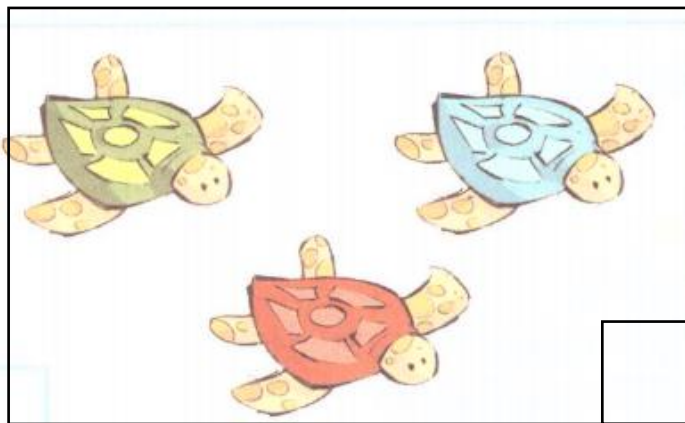


COPIE O TRAÇADO DO NÚMERO 5 (CINCO).



QUANTOS ANIMAIS HÁ EM CADA GRUPO?

ESCREVA O NÚMERO NO QUADRADINHO.



HABILIDADE: (EF01GE0

ATIVIDADE

COM AJUDA DE UM ADULTO, LEIA O TEXTO ABAIXO

HIGIENE AMBIENTAL

A HIGIENE AMBIENTAL É MUITO IMPORTANTE PARA A NOSSA SAÚDE. DEVEMOS MANTER ATITUDES DE CONSERVAÇÃO DOS LOCAIS ONDE VIVEMOS COMO A NOSSA CASA E LOCAIS PÚBLICOS. O AMBIENTE ONDE VIVEMOS, A NOSSA CASA, DEVE SER BEM AREJADO, LIMPO E COM ESPAÇO SUFICIENTE PARA NOS SENTIRMOS BEM.

A) **OBSERVE** A IMAGEM DE UM LOCAL PÚBLICO.



B- PINTE SOMENTE AS RESPOSTAS CORRETAS PARA COLABORAR COM A PRESERVAÇÃO DO ESPAÇO PÚBLICO.

NÃO JOGAR LIXO NO CORRÉGOS E RIOS.

QUEBRAR OS BRINQUEDOS DAS PRAÇAS PÚBLICAS.

USAR LIXEIRAS PARA DESCARTE DE LIXO.


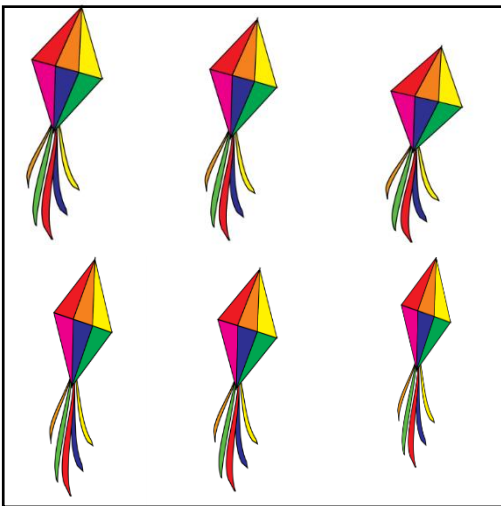


NÃO CORTAR ÁRVORES DE PRAÇAS E PARQUE

MATEMÁTICA

HABILIDADE: (EF01MA02)

ATIVIDADE 6

1- CONTE E ESCREVA AS QUANTIDADES NO QUADRADINHO AO LADO.




IBIÚNA, 18 DE JUNHO 2021

LÍNGUA PORTUGUESA

HABILIDADES: (EF15LP19) E (EF01LP08)

ATIVIDADE 10

1- COM AJUDA DE UM ADULTO, ACOMPANHE O QUE ESTÁ NA CAPA DO LIVRO.



- A- COM AJUDA DE UM ADULTO, PINTE DE AZUL O QUADRO COM O NOME DO AUTOR.
- B- COM AJUDA DE UM ADULTO, CIRCULE DE VERMELHO O NOME DE QUEM DESENHOU AS ILUSTRAÇÕES,

ORLANDO

CECÍLIA

EMA GULOSA

MODERNA

C- COM AJUDA DE UM ADULTO, RELEIA, O TÍTULO:

A EMA GULOSA

PINTE O QUADRO QUE INDICA O QUE QUER DIZER GULOSA.

BRINCALHONA

COMILONA

SABIA

ENGRAÇADA

DIVERTIDA




MATEMÁTICA

ATIVIDADE 7

HABILIDADE: (EF01MA05)

COM AJUDA DE UM ADULTO, LEIA E RESPONDA.

NA TURMA DE PEDRO, CADA CRIANÇA ESCREVEU O NÚMERO DE SUA CASA EM UMA CARTELA.



FORNTE: ARQUIVO IMESP

1- LEIA EM VOZ ALTA, AO NÚMEROS DAS CASAS DAS CRIANÇAS.

2- ALGUNS DESSES NÚMEROS É IGUAL O NÚMERO DE SUA CASA? FAÇA UM X NO QUADRINHO AO LADO.

SIM ()

NÃO ()

SE SIM, QUAL O NÚMERO?	
SE NÃO, QUAL O NÚMERO DA SUA CASA?	

3- QUAL É A CASA QUE POSSUI O MAIOR NÚMERO?

4- QUAL É A CASA QUE POSSUI O MENOR NÚMERO ?





IBIÚNA, 19 DE JUNHO 2021




LÍNGUA PORTUGUESA

HABILIDADE: (EF01LP12B)

ATIVIDADE 11

COM AJUDA DE UM ADULTO, RECORTE AS LETRAS DO ALFABETO MÓVEL QUE SE ENCONTRA EM ANEXO NO FINAL DA APOSTILA E CONSTRUA OS NOMES DAS FIGURAS E COLE.


ARTES


VAMOS COLORIR.



MOMENTO DA LEITURA FAMÍLIA.

LIVRO: VAMOS ABRAÇAR O MUNDINHO .
ESCRITO POR INGRID BIESEMEYER BELLINGHAUSEN.

 ESCOLHA UM MOMENTO TRANQUILO DE UM CANTINHO ACONCHEGANTE PARA A LEITURA (PODE SER EMBAIXO DE UMA ÁRVORE, SENTADO DO TAPETE DA SALA COM ALMOFADAS, NA REDE, ETC... O LOCAL FICA POR SUA ESCOLHA.

 LEIA E PARE EM DETERMINADOS TRECHOS, INSTIGUE-A A PENSAR, A IMAGINAR O QUE VEM A SEGUIR.

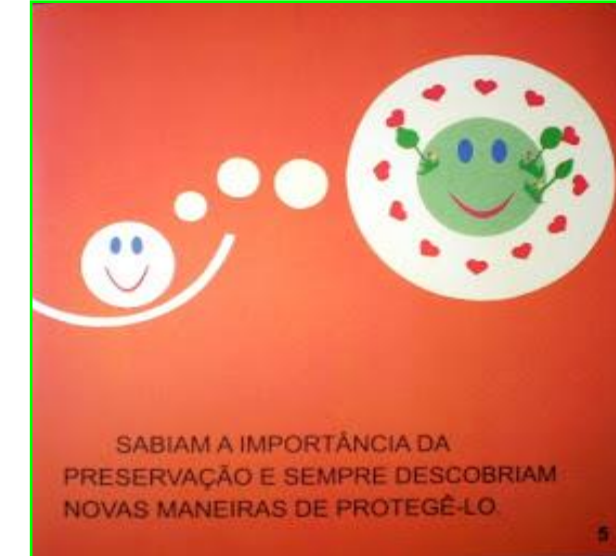
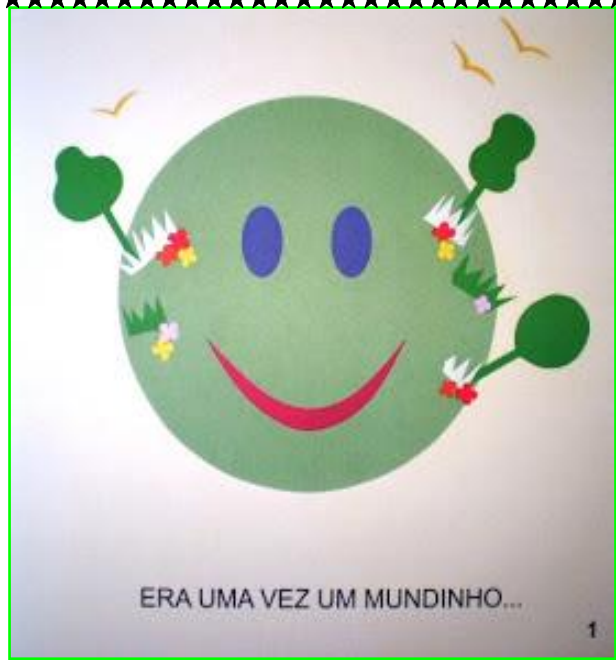
 LEIA COM FREQUÊNCIA, POIS ASSIM ESTAREMOS INCENTIVANDO A CRIANÇA A LER TAMBÉM. ELA NOS TÊM COMO EXEMPLO.

 CONVERSE COM O SEU FILHO OU FILHA SOBRE O QUE LEU.

 FAÇA DA LEITURA UM MOMENTO PRAZEROSO.

COM A AJUDA DE UM ADULTO LEIA E PREENCHA A FICHA DE LEITURA A SEGUIR.

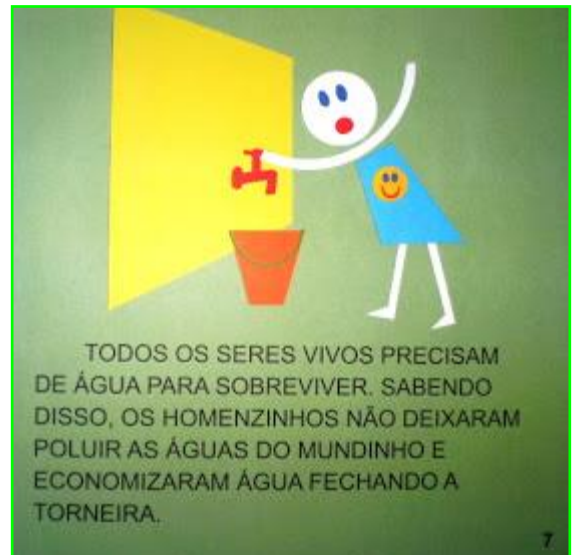






APRENDERAM QUE O PROGRESSO DEVE TER LIMITES: O QUE PODIAM E O QUE NÃO PODIAM FAZER.

6



TODOS OS SERES VIVOS PRECISAM DE ÁGUA PARA SOBREVIVER. SABENDO DISSO, OS HOMENZINHOS NÃO DEIXARAM POLUIR AS ÁGUAS DO MUNDINHO E ECONOMIZARAM ÁGUA FECHANDO A TORNEIRA.

7



PARA ECONOMIZAR ENERGIA, DURANTE O DIA USAVAM A LUZ DO SOL. NÃO SE ESQUECIAM DE DESLIGAR AS COISAS DEPOIS DE USÁ-LAS E DE APAGAR A LUZ NA SAÍDA.

8



OS HOMENZINHOS ERAM MUITO FELIZES, POIS O MUNDINHO LHESS DAVA TUDO. ASSIM, PENSARAM NUMA FORMA DE RETRIBUIR SUA GRATIDÃO. PLANTARAM ÁRVORES NAS RUAS, PARQUES E PRAÇAS, PARA MELHORAR A QUALIDADE DO AR.

9



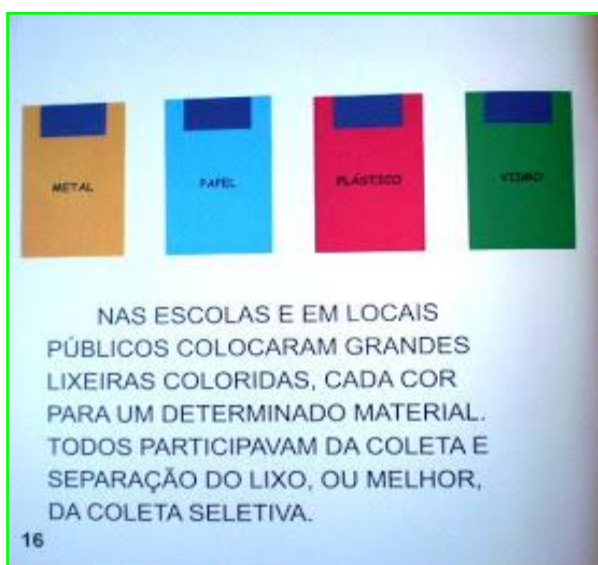
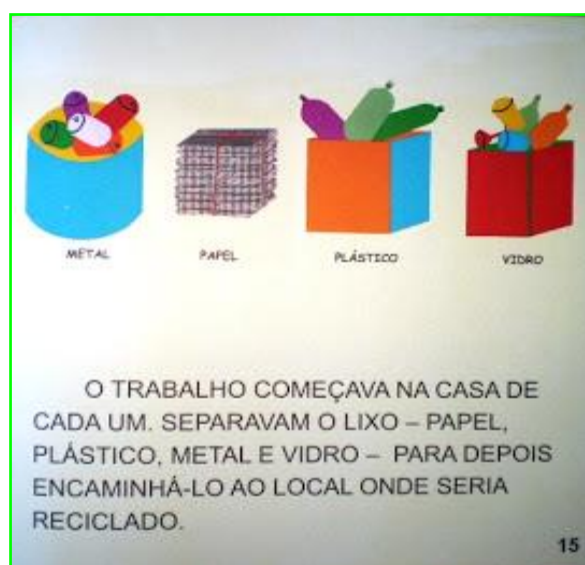
PROIBIRAM A CIRCULAÇÃO DE CARROS E CAMINHÕES COM MOTORES DESREGULADOS: SUAS FUMAÇAS SÃO TERRÍVEIS!


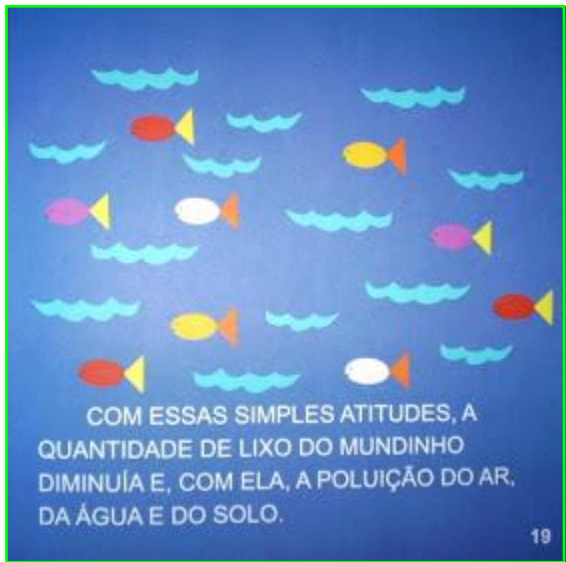
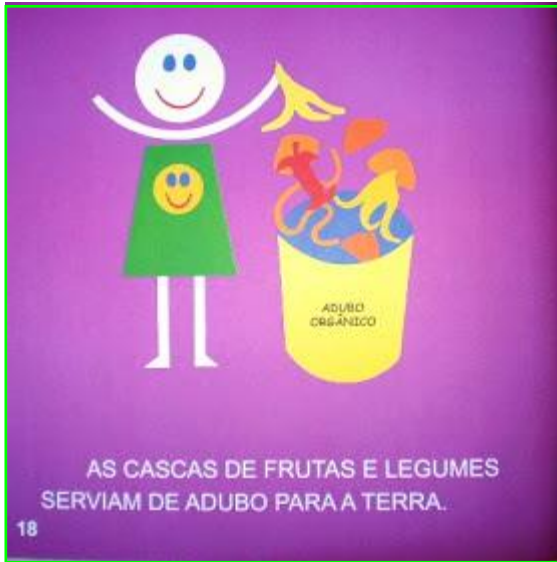
10



EVITARAM TAMBÉM A QUEIMA DE LIXO, DE FLORESTAS, DE CARVÃO E DE PETRÓLEO.

11





DATA: ___ / ___ / ___

FICHA DE LEITURA

PROJETO "NO MUNDO DA LEITURA"



ALUNO (A): _____

NOME DO LIVRO: _____

NOME DO (A) AUTOR (A): _____

DESENHO A PARTE DA HISTÓRIA QUE VOCÊ MAIS GOSTOU.

VOCÊ GOSTOU DA HISTÓRIA?

SIM

MAIS OU MENOS

NÃO

A	A	A	B	B	C
C	D	D	E	E	E
F	F	G	G	H	I
I	I	J	K	L	L
M	M	N	N	O	O
O	P	P	Q	R	R
S	S	T	T	U	U
U	V	W	X	Y	Z

A	A	A	B	B	C
C	D	D	E	E	E
F	F	G	G	H	I
I	I	J	K	L	L
M	M	N	N	O	O
O	P	P	Q	R	R
S	S	T	T	U	U
U	V	W	X	Y	Z

A	A	A	B	B	C
C	D	D	E	E	E
F	F	G	G	H	I
I	I	J	K	L	L
M	M	N	N	O	O
O	P	P	Q	R	R
S	S	T	T	U	U
U	V	W	X	Y	Z

A	A	A	B	B	C
C	D	D	E	E	E
F	F	G	G	H	I
I	I	J	K	L	L
M	M	N	N	O	O
O	P	P	Q	R	R
S	S	T	T	U	U
U	V	W	X	Y	Z

REFERÊNCIAS

www.soescola.com.br

<https://blog.artensinaraprender.com.br>

www.criarrecriarensinar.com.br

<https://amorensina.com.br>

<https://danieducar.com.br>

<https://atividadesgratuitas.com>

<https://aartedeensinaraprender.com.br>

artedeensinaraprender.com.br

<https://www.clickseducativos.com.br>

www.mestredosaber.com

<https://diariodatiamari.blogspot.com>

Livro Ápis Língua Portuguesa e Matemática

Currículo em Ação EMAI Educação Matemática anos iniciais do ensino fundamental