

**E.M. SALVADOR FERREIRA DE CAMPOS**

**6º REMESSA 07 /06 A 19/06/2021**

**PROFESSORA: FRANCIELE DE FÁTIMA VIEIRA FONTÃO**

***BONS ESTUDOS***



IBIÚNA, 7 DE JUNHO DE 2021

VAMOS ESCREVER AS SÍLABAS NOS QUADRADINHOS E O TOTAL DE LETRAS



# CAÇA-PALAVRAS

ENCONTRE NO CAÇA-PALAVRAS O NOME DAS PALAVRAS JUNINAS E PINTE CADA NOME DE AZUL. DEPOIS, CAPRICHE NA PINTURA.

K	B	E	I	J	O	R	N
O	O	B	A	L	Ã	O	O
P	I	P	O	C	A	T	I
C	M	I	L	H	O	L	V
F	O	G	U	E	I	R	A



# JOÃO PEDRO, RAPHAEL E JANAINA FIZERAM AS BANDEIRINHAS PARA ENFEITAR A FESTA DA ESCOLA.

JOÃO PEDRO FEZ  BANDEIRINHAS

RAPHAEL FEZ  BANDEIRINHAS

JANAIÁ FEZ  BANDEIRINHAS

QUEM FEZ MENOS BANDEIRINHAS? QUANTAS?

--	--

QUEM FEZ MAIS? QUANTAS?

--	--

QUAL FOI O TOTAL DE BANDEIRINHAS FEITO PELOS 3?

--

2- AGORA É COM VOCÊ! COMPLETE A SEQUÊNCIA NUMÉRICA, COLOCANDO CADA NÚMERO EM SEU LUGAR.



1				
		8		
11				
	17			20



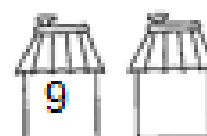
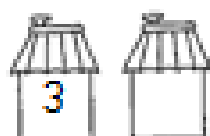
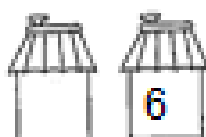
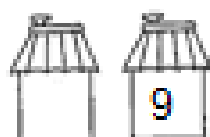
A CRIANÇA AJUDOU A ARRUMAR TODO ARRAIA COM CAPRICHOS E DEDICAÇÃO!

3- A) ARRUME VOCÊ TAMBÉM OS NÚMEROS ABAIXO, COMEÇANDO DO MENOR PARA O MAIOR. (ORDEM CRESCENTE)

5	7	3	2	0	8	9	1	4	6

NESTA FESTAÇÃO NÃO PODEM FALTAR AS BARRAQUINHAS!


B) OBSERVE AS BARRAQUINHAS E ESCREVA OS NUMERAIS QUE VEM ANTES OU DEPOIS.



ESCREVA SEU NOME COMPLETO

---

PINTE AS LETRAS DO SEU NOME, DEPOIS ESCREVA O COM CAPRICHOSO:



NOME:

A	B			E	
	H		J		L
M				Q	R
	T	U			X
Y					

IBIÚNA, 9 DE JUNHO DE 2021

CAPRICHE NA PINTURA DO PLANETA TERRA NÃO ESQUEÇA DAS  
CORES QUE FAZEM PARTE: MARROM, AZUL, VERDE E OUTROS.





Olá, vamos caprichar na  
lição.  
E não deixar atrasar para  
aprender com muita  
Dedicação !

Bons estudos !



COLOQUE CADA LETRA NO SEU QUADRADINHO E LEIA A FRASE:

O GATO PULOU A JANELA

--	--	--	--	--	--	--	--	--	--	--	--	--	--	--	--	--	--

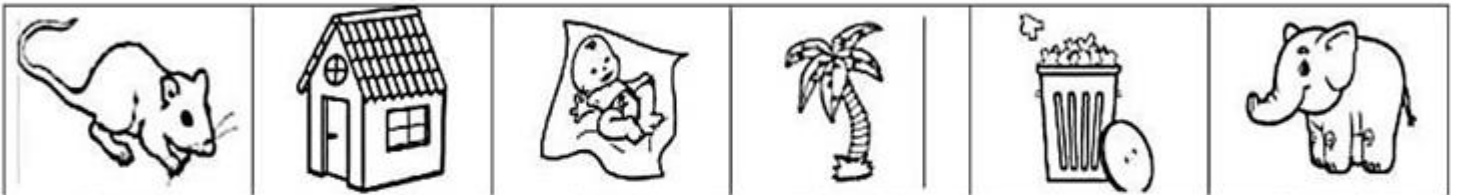
CAMILA TEM UM URSO.

--	--	--	--	--	--	--	--	--	--	--	--	--	--	--	--	--	--

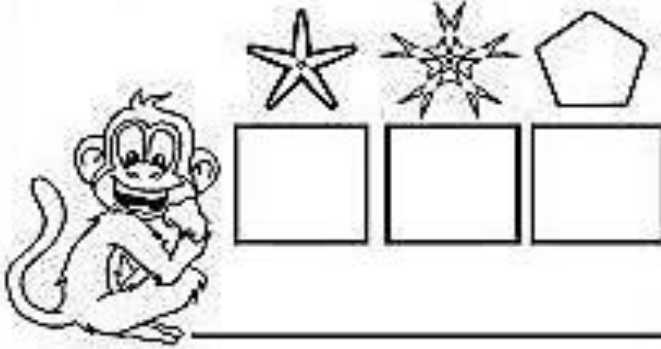
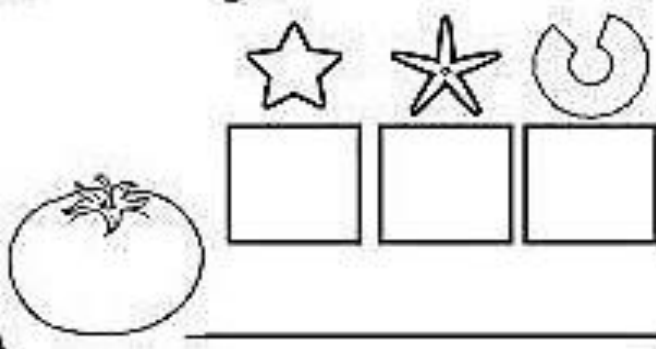

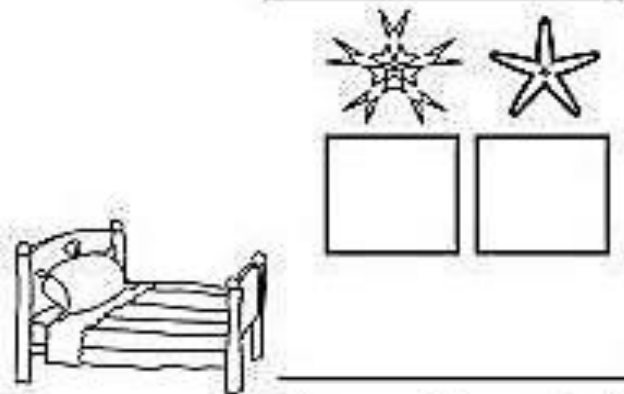


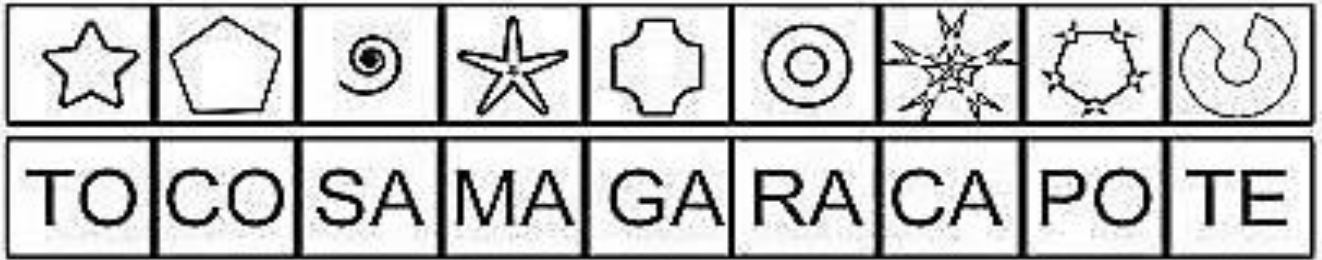
A FACCA FICOU AFIADA

--	--	--	--	--	--	--	--	--	--	--	--	--	--	--	--	--	--













ESCREVA A INICIAL DA FIGURA E ESCREVA A PALAVRA:





DESCUBRA O ENIGMA E FORME PALAVRAS.





PINTE A QUANTIDADE DE QUADRINHOS REFERENTE A IDADE DE CADA CRIANÇA.

					
					
CAROL	BETO	FABI	TIAGO	NINA	LUCA
8	10	7	9	6	5









 QUAL O NOME DA CRIANÇA MAIS VELHA ? \_\_\_\_\_

 QUAL O NOME DA CRIANÇA MAIS VELHA ? \_\_\_\_\_


 QUAL O NOME DA CRIANÇA QUE TEM A MESMA IDADE QUE VOCÊ? \_\_\_\_\_

 QUAL A SUA IDADE ? \_\_\_\_\_

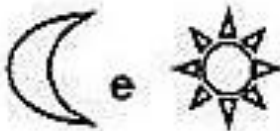
OBSEVE OS SÍMBOLOS E AS SÍLABAS CORRESPONDENTES.

<b>DA</b>	<b>TO</b>	<b>GA</b>	<b>FA</b>	<b>CA</b>	<b>FO</b>	<b>DO</b>	<b>BO</b>
							

AGORA VAMOS FORMAR PALAVRAS ?



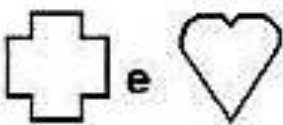
\_\_\_\_\_



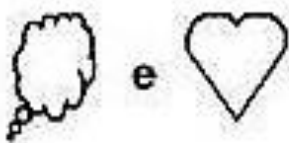
\_\_\_\_\_



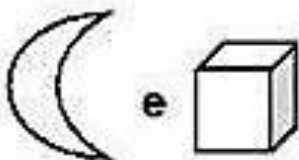
\_\_\_\_\_



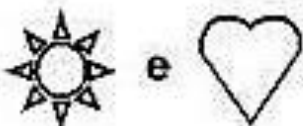
\_\_\_\_\_



\_\_\_\_\_



\_\_\_\_\_



\_\_\_\_\_

COMPLETE A SEQUÊNCIA NUMÉRICA ATÉ 30



1									
						17			
			24						

FAMÍLIA VAMOS FAZER UM DITADO DE NÚMEROS: COMEÇA DO 9 ATÉ 20 .  
POR FAVOR NÃO PODERÁ MOSTRAR NENHUM NÚMERO E NEM FAZER APAGAR O QUE ERROU,  
DESSA MANEIRA VAMOS PREPARAR AS ATIVIDADES PARA RESOLVER AS DIFICULDADES DE  
FILHOS. OBRIGADA PELA COMPREENSÃO !

--	--	--	--	--	--

--	--	--	--	--	--

VAMOS CIRCULAR TODAS AS MENINAS E CONTAR QUANTAS TÊM?

QUAL O TOTAL DE MENINOS QUE TÊM ?








QUAL O TOTAL DE MENINOS E MENINAS ?



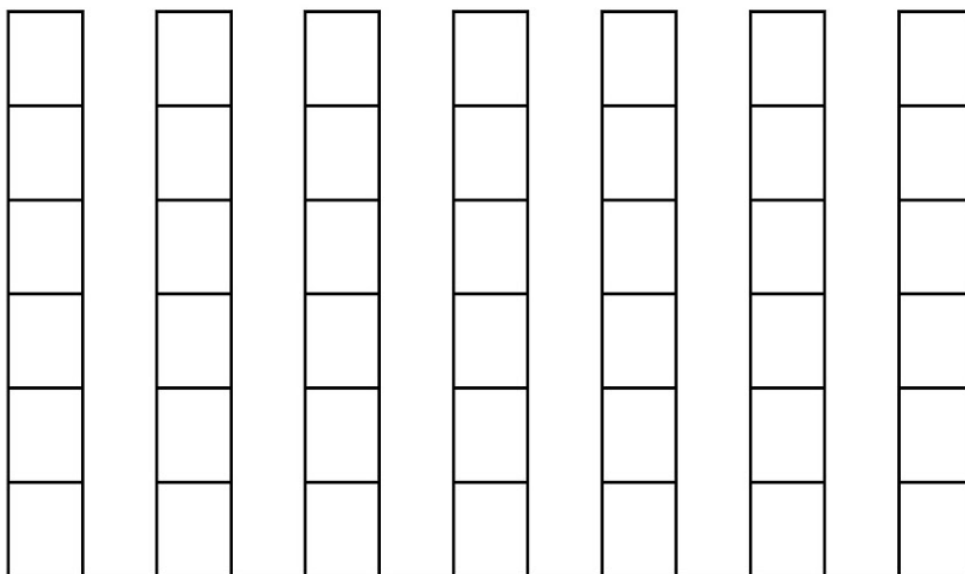
**A ROSINHA GANHOU ALGUMAS PRENDAS PARA A BARRACA DA PESCARIA DE UMA FESTA JUNINA.  
ELA PRECISA CONTAR QUANTAS PRENDAS RECEBEU, AJUDE-A COMPLETANDO A TABELA E DEPOIS O GRÁFICO:**



**- COMPLETE A TABELA COM OS NUMERAIS REFERENTES À QUANTIDADE DAS PRENDAS:**

**- AGORA MARQUE AS QUANTIDADES NO GRÁFICO:**



**QUANTAS PRENDAS ELA RECEBEU AO TODO ? \_\_\_\_\_**

CIRCULAR TODAS AS PALAVRAS QUE FAZEM PARTE DOS INGREDIENTES.

## **BOLO DE MILHO**

### **INGREDIENTES**

2 OVOS

1 LATA DE MILHO VERDE (COM A ÁGUA DA CONSERVA)

1/2 XÍCARA DE ÓLEO

1/2 XÍCARA DE LEITE

1/2 COLHER DE SOPA DE MARGARINA

1 XÍCARA DE FUBÁ

1 XÍCARA DE AÇÚCAR

1 COLHER DE MAISENA

1 COLHER DE FERMENTO EM PÓ



### **MODO DE FAZER:**

UNTE E ENFARINHE UMA FORMA COM BURACO NO MEIO

BATA TODOS OS INGREDIENTES NO LIQUIDIFICADOR POR DOIS MINUTOS.

COLOQUE A MASSA NA FORMA UNTADA E LEVE AO FORNO PRAQUECIDO

ATÉ QUE O BOLO ESTEJA DOURADO E FIRME, CERCA DE 40 MINUTOS.



**INTERPRETAR O TEXTO:**

**1-ESSE TEXTO É:**

- UM CONVITE
- UMA RECEITA

**2-ESSE TEXTO ENSINA A FAZER :**

- UM BOLO
- UM PÃO

**3-É A RECEITA DE UM....**

- DOCE
- SALGADO

**4-ESCREVA O NOME DA RECEITA:**



BRUNO

---

IBIÚNA, 14 DE JUNHO DE 2021

## LISTA DE INGREDIENTES PARA O BOLO DE MILHO:

---

---

---

---

---

---

---

---





---


---

---



Conte quantos elementos tem de cada item e coloque o número correspondente no quadro abaixo.



1-DEIXE A CENA DA FESTA JUNINA BEM COLORIDA.

# FESTA JUNINA



2-QUANTAS GULOSEIMAS O BARRAQUEIRO VENDEU?

  +   =

  +   =

- Resolva as situações-problema abaixo:

Isadora tinha .

Ela ganhou mais .


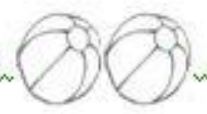
Quantas saias ela tem agora?

Fato	Resposta
$\underline{\quad} + \underline{\quad} = \underline{\quad}$	Isadora tem agora $\underline{\quad}$ saias.

Felipe tem  azuis.

Ele tem mais  de outras cores. Quantas camisetas tem Felipe no total?

Fato	Resposta
$\underline{\quad} + \underline{\quad} = \underline{\quad}$	Felipe tem agora $\underline{\quad}$ saias.

Emily tem  e .

Quantos brinquedos ela tem no total?

Fato	Resposta
$\underline{\quad} + \underline{\quad} = \underline{\quad}$	Ela tem no total $\underline{\quad}$ brinquedos.

- Resolva as adições:

$\begin{array}{r} \square \\ + 2 \\ \hline \end{array}$	$\begin{array}{r} \square \\ + 4 \\ \hline \end{array}$	$\begin{array}{r} \square \\ + 1 \\ \hline \end{array}$	$\begin{array}{r} \square \\ + 3 \\ \hline \end{array}$
---	---	---	---

IBIÚNA, 18 DE JUNHO DE 2021

SEPARE AS PALAVRAS EM SÍLABAS E ESCREVA NA LINHA ABAIXO

GIRAFÁ \_\_\_\_\_

GELO \_\_\_\_\_

CEREJA \_\_\_\_\_

AMORA \_\_\_\_\_

BARULHO \_\_\_\_\_

GEMADA \_\_\_\_\_

AMORA \_\_\_\_\_

ARARA \_\_\_\_\_

BARALHO \_\_\_\_\_

CENOURA \_\_\_\_\_

IBIÚNA, 19 DE JUNHO DE 2021

COMPLETE A FRASE E ESCREVA A FRASE INTEIRA NA LINHA ABAIXO:

A GIRAFA É MUITO \_\_\_\_\_

\_\_\_\_\_

MAMÃE COLOCOU GELO NO \_\_\_\_\_

\_\_\_\_\_

EU GOSTO DE COMER \_\_\_\_\_

\_\_\_\_\_

O CARRO DO MEU AMIGO FOI NA \_\_\_\_\_

\_\_\_\_\_

A LIÇÃO QUE EU FIZ ESTAVA MUITO \_\_\_\_\_

\_\_\_\_\_

IBIÚNA, 19 DE JUNHO DE 2021

<https://br.pinterest.com/pin/827606869026895274/>

<https://www.google.com/search?q=ATIVIDADES+meio+ambiente&tbm=isch&ved=2ahUKEwiv47mc94XxAhW9pZUC>

<http://2.bp.blogspot.com/-iZ5wEf53JZI/VYXdktNf5GI/AAAAAAAAAqc/5xdgFpN4mBA/s1600/ATI>

<http://blogdaprofessoraedivania.blogspot.com/2015/06/sequencia-de-atividades-festa-junina.h>

<https://br.pinterest.com/pin/433541901627935154/>