


É M José Gabriel Machado



Prof: Flávia R Carneiro da Luz

3 ano A. - 2021

6 apostila

Dias: 7,8,9,10,11,14,15,16,17,18 e 19/6



ATIVIDADES

PARA

FAZER EM

CASA

3º E 4º ANOS



Leia o anúncio com atenção e responda as questões:

Dog Show

Atenção, garotada!

Nos dias 26 e 27 de Março, das 9 às 12 horas, será realizado um concurso de cães de raça no Shopping Sul.

Chame o papai e a mamãe!

Não perca!!!



Você vai se divertir pra cachorro!

1- O evento que está sendo anunciado no texto é um:

- Concurso de gatos.
- Concurso de cães de raça.
- Concurso de animais de estimação em geral.

2- Quantos dias o evento tem de duração?

3- O nome do evento é:

- Shopping Sul Dog Show Cães de raça

4- Em que local será realizado o concurso?

5- O concurso será realizado em que data?

6- E qual horário será o concurso?

7- Esse texto é:

Carta Anúncio Piada

8- Qual frase indica que o evento será muito divertido:

- Não perca!
 Atenção garotada!
 Você vai se divertir para cachorro.

9- Esse anúncio é destinado ao público:

Idoso Adulto Infantil

10-Quantas palavras há na frase: "**Chame o papai e a mamãe!**"

11- No trecho "... **um concurso de cães de raça no Shopping Sul.**
A palavra destacada, dá ideia de:

Modo Tempo Lugar

12- A finalidade do texto é:

- () Dar uma informação científica.
- () Divertir o leitor.
- () Fazer o anúncio de um concurso de cães de raça.

13- Observe a palavra **CACHORRO** e responda:

- a) Quantas sílabas tem a palavra? _____
- b) Qual é a sílaba inicial? _____
- c) Qual é a sílaba final? _____
- d) E a sílaba mediana? _____


14- Que animal de estimação você tem ou gostaria de ter?

AGORA É COM VOCÊ! CRIE UM ANÚNCIO NO ESPAÇO ABAIXO:

Leia o texto com atenção:

TEXTO INFORMATIVO:

A FOCA



As focas fazem parte de um grupo de mamíferos chamados pinípedes. Apesar de grande e pesadas, as focas são excelentes nadadoras, pois têm corpo liso e alongado, adaptado ao ambiente aquático. A pelagem é espessa e oleosa, e uma camada de gordura sob a pele evita a perda de calor.

As focas impulsionam-se na água por meio de batidas alternadas das "nadadeiras" posteriores.

Em terra, tornam-se desajeitadas, arrastando-se vagarosamente sobre a barriga. alimentam-se de peixes, que capturam no mar.

Em geral, formam imensas colônias, com milhares de integrantes.

ATIVIDADE CONTEXTUALIZADA

1- Qual é o título do texto?

2- Esse texto é:

() Piada

() Poesia

() Informativo

3- A finalidade do texto é:

- Emocionar o leitor.
- Dar uma informação sobre as focas.
- Divertir o leitor.

4- As focas são excelentes... Marque a opção correta:

- Corredoras
- Nadadoras
- Cozinheiras

5- Como é o corpo das focas?

6- Quantas palavras há no 4º parágrafo?

7- A camada oleosa que cobre as focas serve para:

- Sujar as focas.
- Proteger das baleias.
- Evitar a perda de calor.

8- As focas vivem:

- Sozinhas
- Com milhares de outras focas
- Em duplas

9- As focas se alimentam de:

- Pessoas
- Ração
- Peixes que capturam no mar

Lela o texto:

Um dia um casal recebeu pelo correio um envelope com duas entradas para o teatro e um bilhete: *"Adivinha quem mandou?"*. Não sabiam. Pensaram, pensaram e não descobriram.

No dia marcado, foram eles para o teatro certos de que iam encontrar o autor da gentileza. Viram a peça, adoraram, mas não descobriram nada. Aí voltaram para casa e encontraram o apartamento todo revirado. Sobre a mesa, um bilhete: *"Agora vocês já sabem quem mandou os ingressos. Assinado, o ladrão."*

Ziraldo. *Anedotinhas do bichinho da maçã*. São Paulo: Melhoramentos, 1993.

1- O casal recebeu pelo correio um envelope. O que tinha dentro do envelope?

2- O envelope que o casal recebeu tinha remetente?

() Sim () Não

3- O casal pensou que iria encontrar o autor da gentileza no teatro. Eles o encontraram?

() Sim () Não

4- Quando o casal retornou para casa, como estava o apartamento?

5- O casal encontrou um bilhete sobre a mesa. Quem deixou o bilhete lá?

6- O ladrão mandou ingressos de teatro para o casal, pois:

- Eles eram muito amigos.
- A casa ia ficar vazia para o ladrão assaltar.
- Para o ladrão descansar na casa vazia.

7- O plano realizado pelo ladrão para assaltar a casa do casal foi:

- Fazer amizade com eles.
- Agradar o casal com muitos presentes.
- Enviar entradas de teatro para a casa ficar vazia.

8- No trecho: ***Um dia um casal recebeu pelo correio...*** a palavra destacada dá ideia de:

- Modo Tempo Lugar

9- Quantas palavras há na frase: "***Pensaram, pensaram e não descobriram***".

Leia o texto com atenção:



COMPREENDENDO O TEXTO

1-No outdoor acima, o que mais lhe chamou atenção: a imagem ou o texto escrito?

2-Por que, mesmo de longe, é possível ler o que está escrito nos outdoors?


- Porque os textos são bem longos e com letras brilhantes.
- Porque os textos dos outdoors são escritos com letras grandes para que fiquem bem visíveis.
- Porque os textos são simples, com cores claras, pretas e brancas.

3-As frases dos outdoors costumam ser curtas ou longas?

4- Os outdoors são geralmente coloridos pois:

- Acompanham as cores do verão.
- Querem chamar a atenção do leitor.
- Querem chamar a atenção só das crianças.

5-Nesse outdoor, a que o picolé foi comparado?



Sundown* é marca registrada da Johnson & Johnson, Indústria Comércio Ltda.

a) Que produto foi anunciado nesse outdoor?

b) Para que serve esse produto?

- Para bronzeamento da pele.
- Para proteger a pele dos raios solares.
- Para hidratação da pele.

c) O pimentão foi escolhido para ilustrar a propaganda pois:



- As pessoas que tomam sol, usam bronzeadores de pimentão para um lindo tom de pele.
- Quando uma pessoa se expõe aos raios solares sem proteção, a pele fica vermelha como um pimentão.

d) O que foi colocado no pimentão, para dar-lhe características humanas?

e) Em sua opinião, a figura do pimentão, poderia ser substituída por a do camarão?

QUESTÃO 3

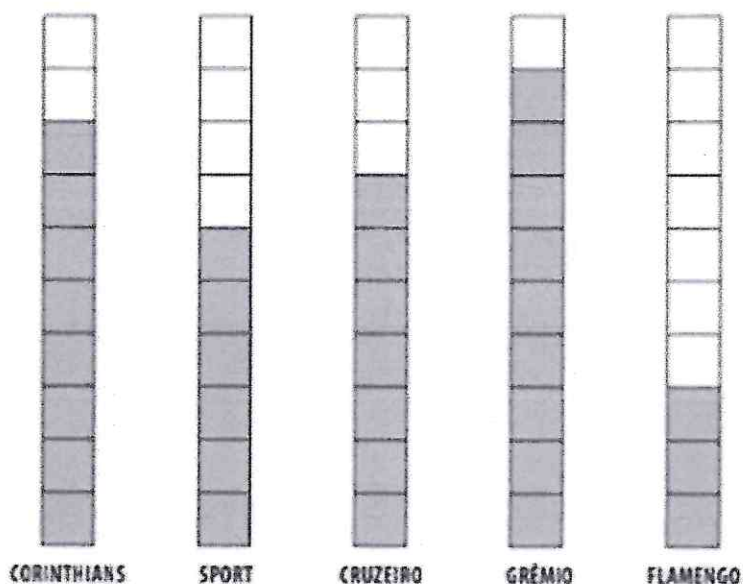
VEJA QUANTAS REVISTAS A PROFESSORA COMPROU.

REVISTA	NÚMERO DE REVISTAS
MÔNICA 	22
CEBOLINHA 	51

QUAL O TOTAL DE REVISTAS QUE A PROFESSORA COMPROU? _____

QUESTÃO 4


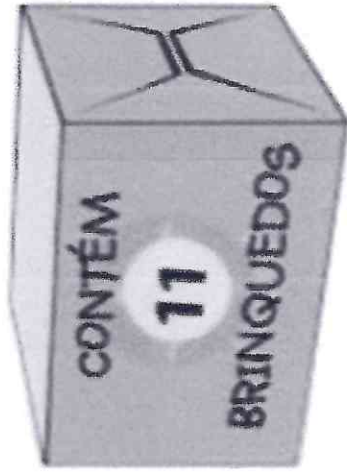
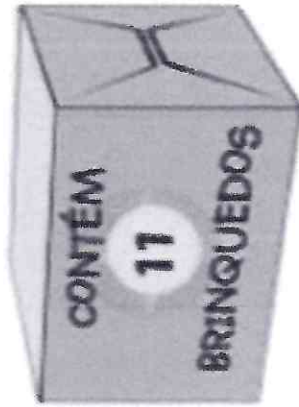
CINCO TIMES PARTICIPARAM DE UM CAMPEONATO DE FUTEBOL. CADA QUADRADINHO PINTADO INDICA 1 PONTO MARCADO.



QUAL TIME FEZ MAIS PONTOS NESSE CAMPEONATO? _____

QUESTÃO 5







LUCAS TEM 3 CAIXAS COM 11 BRINQUEDOS EM CADA UMA.



QUANTOS BRINQUEDOS LUCAS TEM AO TODO? _____

QUESTÃO 7

OBSERVE ABAIXO OS BRINQUEDOS DESENHADOS NA MALHA.

5				
4				
3				
2				
1				
	A	B	C	D

O BRINQUEDO QUE APARECE NO QUADRADO 4A É:


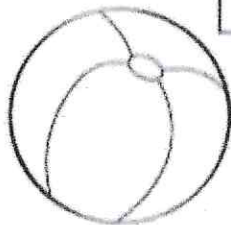


- () TRENZINHO
- () PIÃO
- () BOLA

1ª e 2ª
SEMANAS

NOME: _____

DATA: ____/____/____

I. Escreva o nome das figuras e, depois, dentro dos quadrinhos, anote SV para seres vivos ou NV para seres não vivos:



NOME: _____

DATA: ___/___/___



2. Recorte uma gravura de ambiente natural e cole-a no espaço a seguir:

A) Como é o ambiente que você escolheu?

B) Escreva o nome de dois seres vivos desse ambiente.

C) Agora, escreva o nome de dois seres não vivos.

D) Cite alguns cuidados que devemos ter para preservar o meio ambiente.


1ª e 2ª
SEMANAS

NOME: _____


DATA: ___/___/___

3. Desenhe animais que vivem:


Água



Terra



Ar






NOME: _____

DATA: ____/____/____

I. Observe o desenho e complete as frases a seguir:



A) A igreja localiza-se à _____ da escola.

B) O campo de futebol localiza-se _____ da escola.

C) A rodoviária localiza-se _____ da escola.

D) O cinema localiza-se à _____ da escola.



NOME: _____

DATA: ____/____/____

4. Complete o texto com uma das palavras do quadro:

ORIENTAÇÃO PELO SOL

Norte	nasce	estrelas	Oeste
Leste	constelação	nascente	cruz
poente	Cruzeiro do Sul	Sol	bússola


O dia começa quando o Sol _____.

O lugar onde o Sol nasce é chamado de _____. O nascente é também chamado de _____.

O lugar onde o Sol desaparece à tarde é chamado de _____.

O poente é também chamado de _____.

O _____ é um importante meio de orientação. Além dele, temos também as _____.



O homem procurou conhecer o céu e percebeu que as estrelas aparecem agrupadas. Esse agrupamento chama-se _____.

Essa constelação que aparece no céu do Brasil chama-se _____, Ela tem esse nome devido à sua apresentação em forma de _____.

A _____ é um aparelho que possui uma agulha que sempre aponta para o _____.



NOME: _____

DATA: ____/____/____

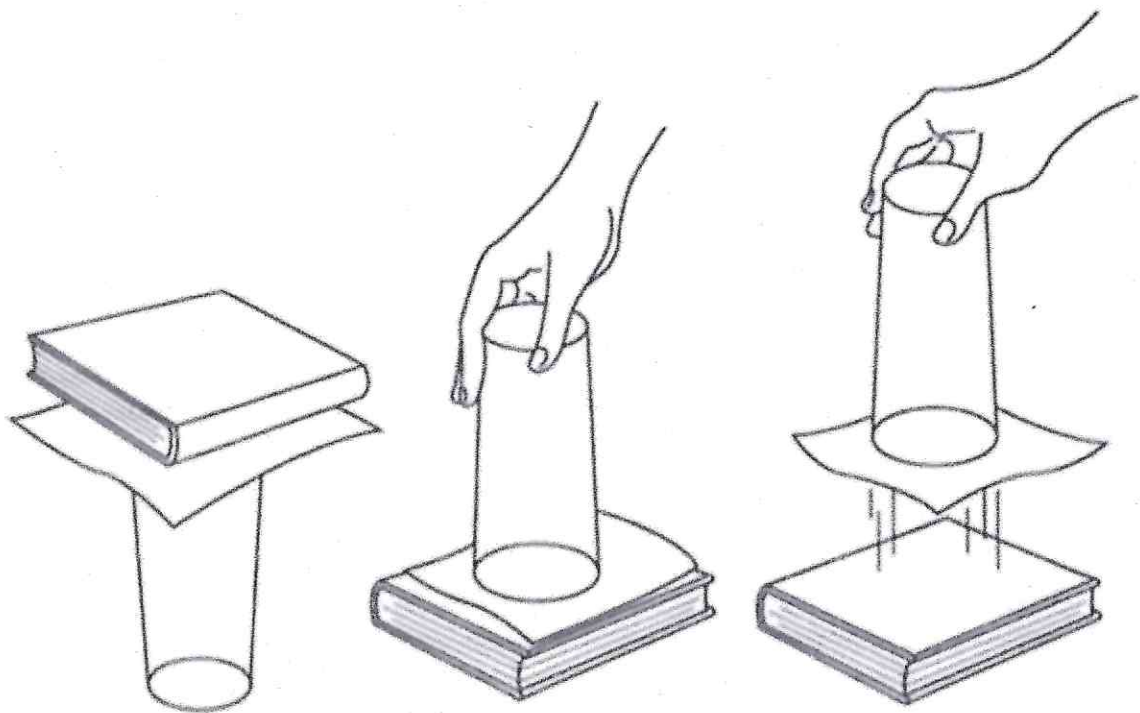
EXPERIÊNCIA: AR

Material necessário:

- Um copo com água até a boca.
- Uma folha de papel.
- Um livro.

Como fazer:

- Encha o copo com água até a boca.
- Coloque a folha de papel bem úmida na borda do copo.
- Apoie o livro sobre a folha de papel.
- Vire de boca para baixo todo o conjunto e, em seguida, tire o livro.



NOME: _____

DATA: ____/____/____



I. Agora responda de acordo com o que você concluiu sobre a experiência da página anterior:

A) Por que a água não caiu?

B) Como é exercida a pressão do ar?

C) O que é pressão atmosférica?

D) Explique com suas palavras:

"O ar ocupa espaço e tem peso."

E) Marque (V) para verdadeiro e (F) para falso:

O ar ocupa espaço.

O ar não tem peso.

A pressão do ar é exercida só de baixo para cima.

O ar tem peso e ocupa espaço.

A pressão do ar é maior quando estamos deitados.

O ar exerce pressão em todos os sentidos.

Todos os corpos exercem pressão quando estão sobre outros corpos.



NOME: _____

DATA: ____/____/____

O AR QUE RESPIRAMOS

Inspiramos oxigênio e liberamos gás carbônico.

O ar é formado por vários gases. Entre eles estão o gás carbônico e o oxigênio. Sem o gás carbônico, as plantas não produziram seus alimentos.


Os vegetais fabricam o próprio alimento por meio de:

- Clorofila (pigmentação que dá cor verde às plantas): que absorve a luz do Sol para a realização da fotossíntese.
- Água e sais minerais: que são retirados do subsolo pela raiz.
- Gás carbônico: que é absorvido do ar.

O processo de produção de alimento das plantas chama-se fotossíntese e é realizada durante o dia.

A respiração da planta é parecida com a do homem. Todos absorvem oxigênio. Durante a noite, as plantas absorvem gás carbônico e liberam oxigênio.

No campo, o ar é considerado mais puro porque há uma grande concentração de plantas.



REFERÊNCIAS BIBLIOGRÁFICAS

- CONHECIMENTO E TRANSFORMAÇÃO.