



EM Salvador Ferreira de Campos

7ª apostila - 3º ano

Professora Sandra Luz Camargo

Atividades referentes aos dias: 21, 22, 23, 24, 25, 28,

29, 30 de junho, 01, 02 de julho

Nome: \_\_\_\_\_

## Origem da Festa Junina no Brasil

A quadrilha foi criada na Inglaterra, para comemorar as boas colheitas com fartura de comidas e festejos. Em pares, os dançarinos faziam uma sequência coreografada de movimentos alegres. O estilo chegou ao Brasil no século 19, trazido pelos nobres portugueses, e foi sendo adaptado até fazer sucesso nas festas juninas.

O simbolismo da festa é a fertilidade do solo e a fogueira é o elemento principal.

As festas juninas homenageiam três santos em destaque: Santo Antônio (no dia 13 de junho), São João Batista (dia 24) e São Pedro (dia 29).

Na culinária temos comidas típicas: a canjica, o pé-de-moleque, bolo de fubá, a batata assada, milho cozido, o quentão, a pipoca, etc.

Os fogos enfeitam o céu, e a música sertaneja e o forró alegoram as pessoas que dançam quadrilha e se balançam sorridentes a noite toda.

## Compreendendo o Texto

1- O texto é:

( ) uma poesia. ( ) uma fábula. ( ) texto informativo. ( ) uma carta.

2- Qual o título do texto?

---


3- A dança da quadrilha foi trazida ao Brasil por quem?

---

4- Qual é o simbolismo da festa?

---

5- É o elemento principal? Represente desenhando.



6- Você conhece comidas típicas da Festa Junina? Cite algumas que já experimentou.

---

---

7- Pesquise uma receita de uma comida típica da Festa Junina e escreva-a aqui. Se preferir, com o auxílio da família poste uma foto sua no grupo de estudos ou o vídeo com sua receita finalizada.

---

---

---

---

---

---

---

---

---

---

---

---

---

---

---

---

---

---

---

---

---

---

---

---

---

---



## Ortografia e Gramática

1. Como ficaria as frases no plural? Escreva abaixo.

a) Na Festa Junina existe fogueira, bandeirinha, balão e dança típica.

---

---

b) Na dança de quadrilha o dançarino faz uma sequência de coreografia e movimento.

---

---

2- Reescreva as palavras em ordem alfabética.

barraca - pipoca - quentão - paçoca - dança - fogueira - canjica


---

3- mepare as sílabas das palavras e classifique-as em monossílabo, dissílabo, trissílabo ou polissílabo.

quadrilha		
dança		
pipoca		
barraca		
bandeirinha		
fogueira		
canjicada		

## Ortografia e Gramática

4- Coloque os sinais de pontuação corretamente nas frases abaixo:



- a) Viva São João —  
b) Que horas vai começar a quadrilha —  
c) Na barraca tem — pipoca — pamonha — queijão e milho cozido —

5- Coloque as palavras em ordem conforme os numerais e forme as frases:

a) noite quadrilha. Hoje tem dança à de

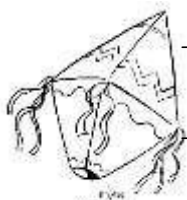
\_\_\_\_\_

—

b) vai O animá! pra começá, você arraiá falta festança

\_\_\_\_\_

6- Forme frases com os desenhos:



\_\_\_\_\_

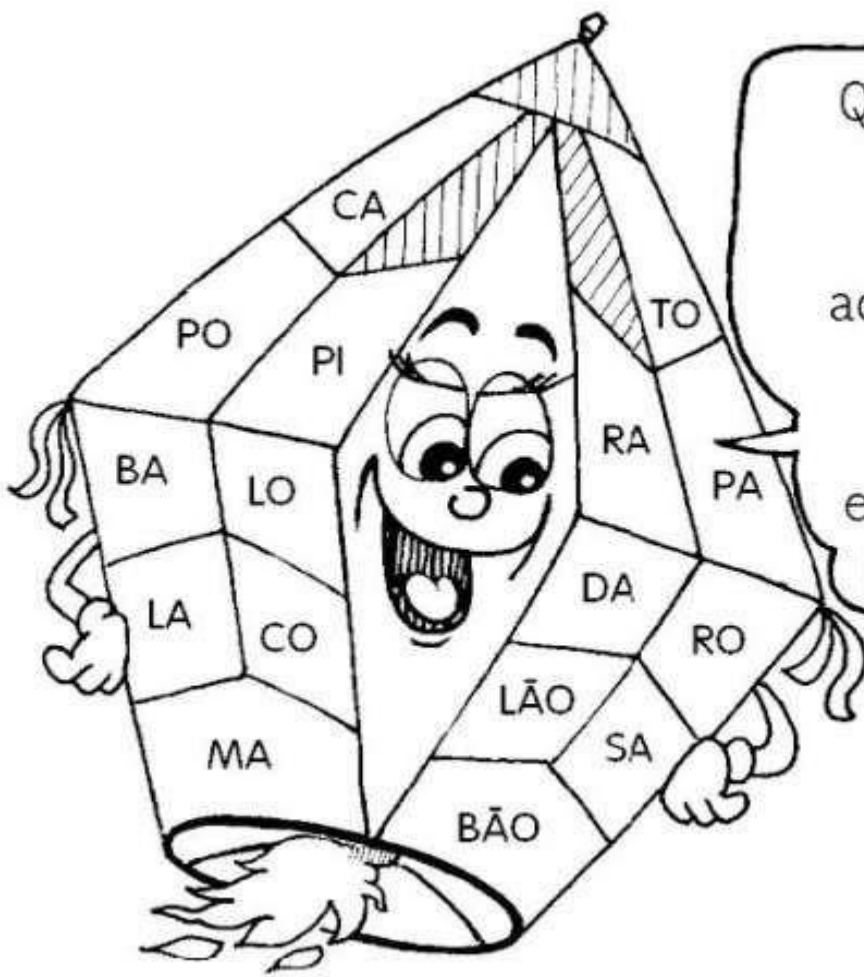
\_\_\_\_\_

\_\_\_\_\_



\_\_\_\_\_

\_\_\_\_\_



Quem consegue descobrir  
palavrinhas  
aqui misturadas?  
Mostre que é  
craque,  
escrevendo nas  
linhas abaixo.

Escreva abaixo as palavras que você encontrou e forme frases com elas.

---

---

---

---

---

---

Encontre as palavras no diagrama e pinte-as.

B	A	R	R	A	C	A	S	V	T	R	G	A	S	A	N	F	O
Q	A	M	E	N	D	O	I	M	A	P	C	N	P	A	M	L	M
S	D	N	C	X	E	S	M	H	M	I	H	O	F	O	G	U	N
Q	U	A	D	R	I	L	H	A	E	P	U	F	D	R	S	B	A
U	H	J	V	E	M	I	K	L	N	O	T	N	H	J	L	M	C
A	C	O	H	L	I	M	V	B	T	C	R	A	X	R	A	S	I
S	G	U	E	I	A	R	G	O	L	A	A	S	F	G	I	Y	A
O	B	R	A	R	F	G	I	U	O	J	S	E	C	L	R	U	C
T	J	K	L	N	M	B	V	N	L	R	C	L	H	Ç	A	J	I
N	C	H	Á	P	I	L	D	C	H	U	R	R	A	S	C	O	J
A	R	I	E	U	G	O	F	B	Ç	A	O	F	P	N	S	L	N
S	M	N	H	A	S	D	U	I	É	G	S	U	É	J	E	Ç	A
N	H	N	G	I	C	A	R	F	U	G	L	H	U	K	P	N	C


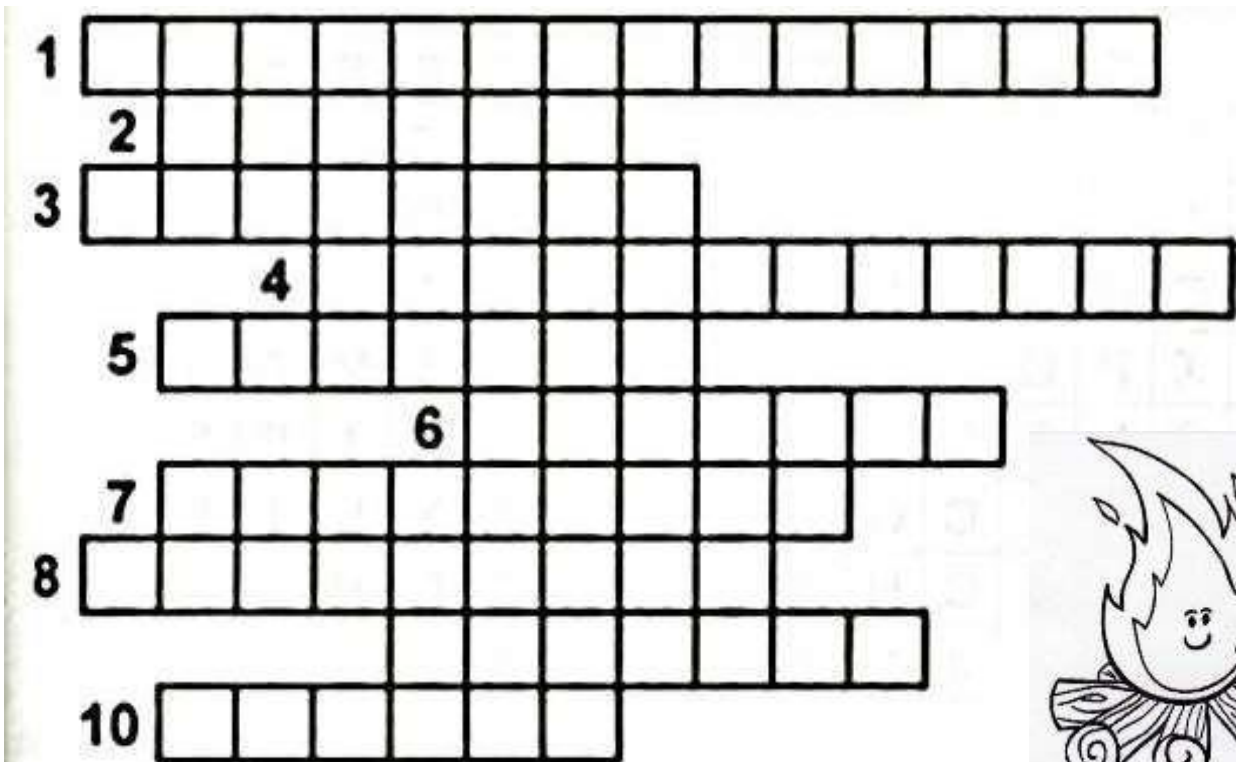


AMENDOIM	ARGOLA	BANDEIRINHAS
BARRACAS	CAPIRA	CANICA
CHAPÉU	CHURRASCO	FOGUEIRA
MILHO	PESCARIA	PIPOCA
QUADRILHA	SANFONA	SANTOS



## Cruzadinha Junina



1. Roupa usada pelas mulheres.
2. Os homens usam na cabeça.
3. Colocamos fogo para esquentar a moite fria.
4. Enfeite usado na festança.
5. Comida feita com grãos, leite, coco e amendoim.
6. Instrumento muito usado na festa.
7. Dança que predomina.
8. Brincadeira em que todos escorregam.
9. Bebida feita com gengibre.
10. É branquinha, pode ser doce ou salgada.



Pinte de azul as palavras que estão no masculino e de verde as que estão no feminino

vaca	rei	menina	bode
ator	mamãe	cavalo	mulher
aluna	segre	abelha	amigo
príncipe	tia	galo	leoa

Classifique as palavras no quadro:

 <p>Masculino</p> <hr/> <hr/> <hr/> <hr/> <hr/> <hr/> <hr/> <hr/> <hr/> <hr/>	 <p>Feminino</p> <hr/> <hr/> <hr/> <hr/> <hr/> <hr/> <hr/> <hr/> <hr/> <hr/>
---	---

Leia as palavras e separe em dois grupos

tempo – quando – ninguém – campo – cansadinha –  
tombo – amendoim – embora – divertimento – zumbido –  
enquanto – limpo – embrulhada – entrou – emprestou –  
cantora – limpeza- mendiga – campanha – bambu –  
lembrou – antigo – jantar .


Copie com letra cursiva

COM A FILHA DE JOÃO  
ANTÔNIO IA SE CASAR  
MAS PEDRO FUGIU COM A NOIVA  
NA HORA DE IR PRO ALTAR!



---

---

---

---

---

## Matemática

01. Observe o preço das comidas típicas e ajude Mariaginha vendê-las no valor correto. Não se esqueça de conferir o troco!

R\$ 2,00



R\$ 3,00



R\$ 6,00



R\$ 5,00

R\$ 4,00



João foi comprar 4 saquinho de pipoca. Quanto João pagou?

$$2 + 2 + 2 + 2 = \underline{\hspace{2cm}}$$

$$4 \times 2 = \underline{\hspace{2cm}} \quad 2 \times 4 = \underline{\hspace{2cm}}$$

Dalva comprou 3 cachorros-quentes, quanto terá que pagar?

$$5 + 5 + 5 = \underline{\hspace{2cm}}$$

$$4 \times 3 = \underline{\hspace{2cm}} \quad 3 \times 5 = \underline{\hspace{2cm}}$$

Mas Dalva pagou com uma nota de R\$ 20,00 ela terá troco? Quanto?

a) O Senhor Benedito levou toda família para a festa e eles não comeram a mesma comida. Juntos eram 7 pessoas. Veja o que eles comeram e descubra o valor da conta que Sr. Benedito terá que pagar.

Valor unitário                      total

2 pessoas comeram 4 salgados. \_\_\_\_\_

3 pessoas comeram 3 cachorros-quentes. \_\_\_\_\_

2 crianças comeram 2 pipocas. \_\_\_\_\_

\_\_\_\_\_

Qual o valor total da conta?

\_\_\_\_\_

Arme e efetue!

$34 + 9 =$

<b>D</b>	<b>U</b>

$27 + 5 =$

<b>D</b>	<b>U</b>



$93 + 9 =$

<b>D</b>	<b>U</b>

$76 + 2 =$

<b>D</b>	<b>U</b>

$70 + 8 =$

<b>D</b>	<b>U</b>

$58 + 12 =$

<b>D</b>	<b>U</b>

$11 + 24 =$

<b>D</b>	<b>U</b>

$29 + 20 =$

<b>D</b>	<b>U</b>

$45 + 23 =$

<b>D</b>	<b>U</b>

$41 + 24 =$

<b>D</b>	<b>U</b>

$34 + 31 =$

<b>D</b>	<b>U</b>

$50 + 15 =$

<b>D</b>	<b>U</b>

$15 + 34 =$

<b>D</b>	<b>U</b>

$47 + 17 =$

<b>D</b>	<b>U</b>

$13 + 25 =$

<b>D</b>	<b>U</b>



# Matemática

## ARME E RESOLVA

$62 + 6 =$

<b>D</b>	<b>U</b>

$82 + 5 =$

<b>D</b>	<b>U</b>

$85 + 4 =$

<b>D</b>	<b>U</b>

$10 + 3 =$

<b>D</b>	<b>U</b>

$45 + 33 =$

<b>D</b>	<b>U</b>

$21 + 17 =$

<b>D</b>	<b>U</b>

$37 + 19 =$

<b>D</b>	<b>U</b>

$10 + 22 =$

<b>D</b>	<b>U</b>

$47 + 31 =$

<b>D</b>	<b>U</b>

$37 + 20 =$

<b>D</b>	<b>U</b>

$23 + 23 =$

<b>D</b>	<b>U</b>

$23 + 16 =$

<b>D</b>	<b>U</b>



## Resolva as adições

$$\begin{array}{r} 422 \\ + 552 \\ \hline \end{array}$$

$$\begin{array}{r} 463 \\ + 216 \\ \hline \end{array}$$

$$\begin{array}{r} 568 \\ + 421 \\ \hline \end{array}$$

$$\begin{array}{r} 311 \\ + 566 \\ \hline \end{array}$$

$$\begin{array}{r} 216 \\ + 641 \\ \hline \end{array}$$

$$\begin{array}{r} 127 \\ + 672 \\ \hline \end{array}$$

$$\begin{array}{r} 442 \\ + 112 \\ \hline \end{array}$$

$$\begin{array}{r} 715 \\ + 181 \\ \hline \end{array}$$

$$\begin{array}{r} 244 \\ + 655 \\ \hline \end{array}$$

$$\begin{array}{r} 135 \\ + 333 \\ \hline \end{array}$$

$$\begin{array}{r} 636 \\ + 313 \\ \hline \end{array}$$

$$\begin{array}{r} 488 \\ + 111 \\ \hline \end{array}$$

$$\begin{array}{r} 225 \\ + 443 \\ \hline \end{array}$$

$$\begin{array}{r} 377 \\ + 122 \\ \hline \end{array}$$

$$\begin{array}{r} 373 \\ + 512 \\ \hline \end{array}$$

$$\begin{array}{r} 443 \\ + 243 \\ \hline \end{array}$$

$$\begin{array}{r} 338 \\ + 341 \\ \hline \end{array}$$

$$\begin{array}{r} 536 \\ + 342 \\ \hline \end{array}$$

$$\begin{array}{r} 547 \\ + 211 \\ \hline \end{array}$$

$$\begin{array}{r} 823 \\ + 146 \\ \hline \end{array}$$

Produção de Texto

Você é o autor! Use sua imaginação e conte-nos uma história sobre Festa Junina.



---

---

---

---

---

---

---

---

---

---



NOME: \_\_\_\_\_ Nº \_\_\_\_\_

SALA: \_\_\_\_\_ PROFª \_\_\_\_\_ TURMA: \_\_\_\_\_



## Matemática

Resolva

$$\begin{array}{r} 76 \\ - 4 \\ \hline \end{array}$$

$$\begin{array}{r} 29 \\ - 2 \\ \hline \end{array}$$

$$\begin{array}{r} 58 \\ - 5 \\ \hline \end{array}$$

$$\begin{array}{r} 98 \\ - 5 \\ \hline \end{array}$$

$$\begin{array}{r} 76 \\ - 5 \\ \hline \end{array}$$

$$\begin{array}{r} 38 \\ - 3 \\ \hline \end{array}$$

$$\begin{array}{r} 36 \\ - 2 \\ \hline \end{array}$$

$$\begin{array}{r} 58 \\ - 5 \\ \hline \end{array}$$

$$\begin{array}{r} 82 \\ - 4 \\ \hline \end{array}$$

$$\begin{array}{r} 88 \\ - 8 \\ \hline \end{array}$$

$$\begin{array}{r} 94 \\ - 9 \\ \hline \end{array}$$

$$\begin{array}{r} 26 \\ - 2 \\ \hline \end{array}$$

$$\begin{array}{r} 97 \\ - 27 \\ \hline \end{array}$$

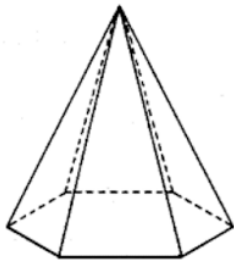
$$\begin{array}{r} 89 \\ - 33 \\ \hline \end{array}$$

$$\begin{array}{r} 78 \\ - 25 \\ \hline \end{array}$$

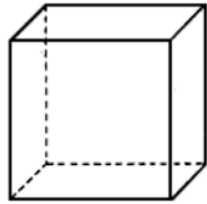
$$\begin{array}{r} 96 \\ - 37 \\ \hline \end{array}$$



Encontre os nomes dos sólidos no caça - palavras



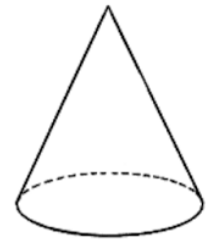
PIRÂMIDE



CUBO



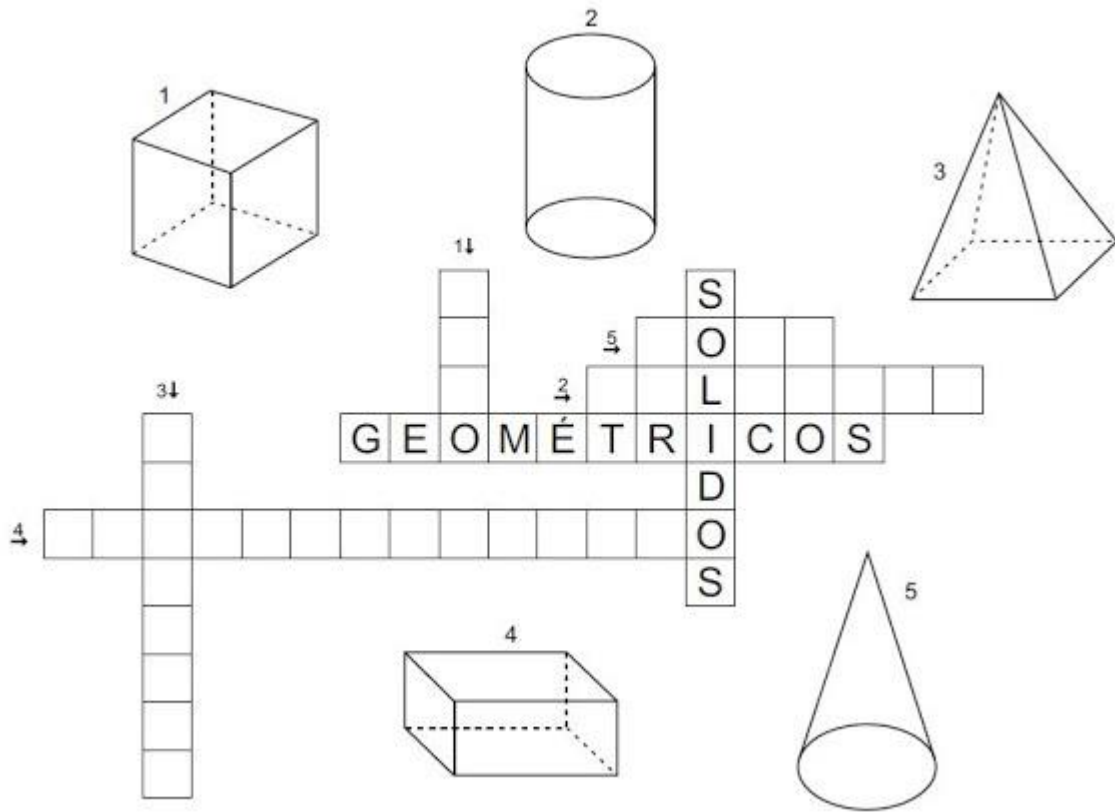
CILINDRO



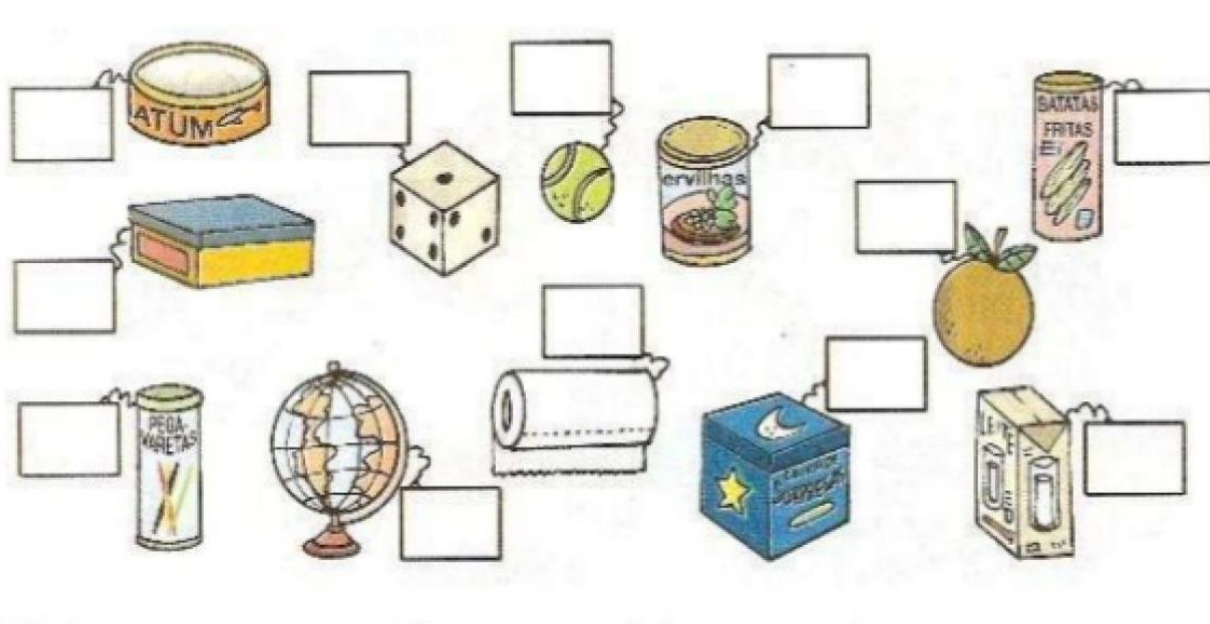
CONE

P	I	R	Â	M	I	D	E
C	R	A	H	M	A	Â	Ç
I	Ç	R	C	O	S	T	O
L	L	P	C	V	A	B	N
I	O	X	C	U	B	O	J
N	G	G	R	Â	M	E	O
D	Ç	C	U	B	A	Z	N
R	I	R	O	À	G	E	H
O	E	R	V	C	O	N	E

PREENCHA A CRUZADINHA:



Complete com números as figuras abaixo de acordo com os sólidos acima





Encontre os 7 erros, depois pinte a cena.

# Jogo dos 7 ERROS



## Arte



### **Como fazer:**

- colar algodão nas nuvens
- colar barbante nas bandeirinhas
- pintar com tinta guache as bandeirinhas (pintura a dedo)
- colar palito de fósforo na fogueira

Esse ano, devido a pandemia, as Festas Juninas foram canceladas, ou adiadas. Você vai sentir falta? O que você mais gosta nas Festas Juninas? Represente desenhando.

# Geografia

Faça uma pesquisa e descubra quais regiões do Brasil a Festa Junina é mais comemorada e pinte no mapa.

