

ATIVIDADES DE REPOSIÇÃO 7



PERÍODO DE DISTANCIAMENTO SOCIAL (QUARENTENA) COVID 19

ESCOLA MUNICIPAL: EM JOÃO JOSÉ DA SILVA

1º FASE A

PROFESSORA: MAIARA ROSA

DIAS: 21,22,23,24,25,28,29,30 DE JUNHO

01 E 02 DE JULHO

CONFORME ORIENTAÇÕES PEDAGÓGICAS Nº 01 - 29 DE JANEIRO DE 2021

CRONOGRAMA

DATA: 21/06

HISTÓRIA: CAMILÃO, O COMILÃO
LETRA INICIAL E LETRA FINAL

DATA: 22/06

QUANTIDADES E NÚMEROS
INTERPRETANDO A HISTÓRIA

DATA: 23/06

ILUSTRAÇÃO
COMO EU ERA E COMO EU SOU

DATA: 24/06

LETRA A
LETRA B

DATA: 25/06

LETRA C
NÚMERO 1

DATA: 28/06

NÚMERO 2
NÚMERO 3

DATA: 29/06

QUANTIDADE DE PEIXE
CÍRCULO

DATA: 30/06

QUADRADO
TRIÂNGULO

DATA: 01/07

RETÂNGULO
CORES

DATA: 02/07

FORMAS GEOMETRICAS
POEMA A TARTARUGA


NOME: _____ DATA:21/06/21

ATIVIDADE 1

OS ALIMENTOS SÃO INDISPENSÁVEIS PARA O CRESCIMENTO, FORNECEM ENERGIA PARA O NOSSO CORPO, PROTEGENDO-NOS DAS DOENÇAS E ELES FORMAM NOSSOS DENTES E OSSOS.

EM TEMPO DE PANDEMIA, ALÉM DA HIGIENE, PRECISAMOS TER UMA ALIMENTAÇÃO EQUILIBRADA E RICA EM VITAMINAS PARA QUE NOSSA IMUNIDADE SE MANTENHA ALTA. LEMBRANDO QUE ALIMENTAÇÃO SAUDÁVEL DEVE SER FEITA EM QUALQUER ÉPOCA DE NOSSAS VIDAS.

ASSISTA O VIDEO DE "CAMILÃO, O COMILÃO" DA AUTORA ANA MARIA MACHADO.



APÓS A HISTÓRIA PERGUNTAR A CRIANÇA:

- COMO ERA CAMILÃO?
- O QUE ELE GOSTAVA DE FAZER?
- COMO ELE CONSEGUIA COMIDA?
- QUAIS SÃO OS ANIMAIS E QUAIS SÃO SEUS NOMES?
- QUAIS ALIMENTOS CADA UM DAVA A CAMILÃO?

QUE TAL BRINCAR DE IMITAR O SOM E A LOCOMOÇÃO DOS ANIMAIS? USE O AUDIO QUE A PROFESSORA ENVIOU PARA REALIZAR A ATIVIDADE. FAÇA UM VIDEO BEM LEGAL E ENVIE PARA A PROFESSORA.

NOME: _____ DATA:21/06/21

ATIVIDADE 2

OBSERVAÇÃO: UTILIZE A FOLHA DE RASCUNHO PRIMEIRO, PARA TREINO DAS LETRAS DEPOIS PASSA PARA ESTÁ FOLHA.

COMPLETE A TABELA:

FIGURA	LETRA INICIAL	LETRA FINAL
 MACACO		
 COELHO		
 ABELHA		
 CAMILÃO		
 CACHORRO		

NOME: _____ DATA: 22/06/21

ATIVIDADE 3

CIRCULE O NÚMERO CORRESPONDENTE AS QUANTIDADES. OBSERVAÇÃO: APONTE COM O DEDINHO E VA CONTANDO, PARA OBTER MELHOR APRENDIZAGEM.



4 6 8



3 4 5


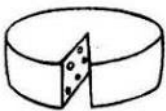
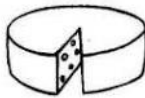


4 5 6

NOME: _____ DATA: 22/06/21

ATIVIDADE 4

PINTE A QUANTIDADE DE CADA UM DOS ALIMENTOS QUE CAMILÃO GANHOU.



NOME: _____ DATA:23/06/21

ATIVIDADE 5

FAÇA UMA ILUSTRAÇÃO DA HISTÓRIA QUE MAIS GOSTOU "A CESTA DA DONA MARICOTA" OU "CAMILÃO, O COMILÃO"

NOME: _____ DATA: 23/06/21

ATIVIDADE 6

COMO EU ERA E COMO EU SOU.

CRIANÇA, VOCÊ JÁ REPAROU COMO VOCÊ CRESCE RÁPIDO? VAMOS BUSCAR FOTOS ANTIGAS E REFAZÊ-LAS? ASSIM VOCÊ VAI PODER NOTAR AS MUDANÇAS DO SEU CORPINHO. ENVIE TODA A SUA EXPERIÊNCIA A PROFESSORA ATRAVÉS DAS FOTOS QUE RECRIAR. OBSERVE OS EXEMPLOS ABAIXO.



NOME: _____ DATA: 24/06/21

ATIVIDADE 7

A

DE



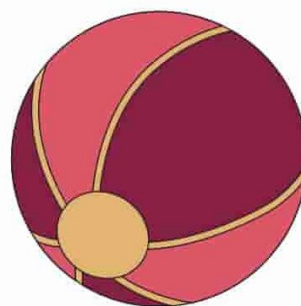
AVIÃO



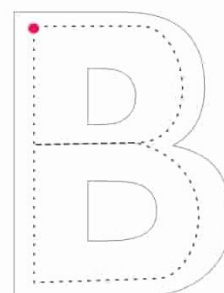
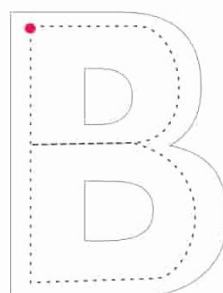
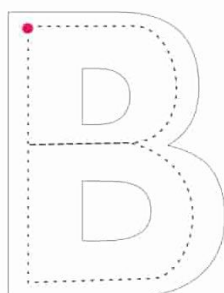
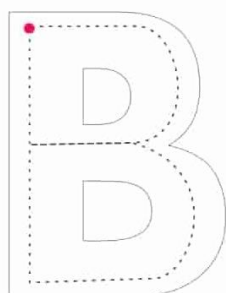
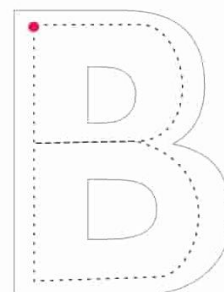
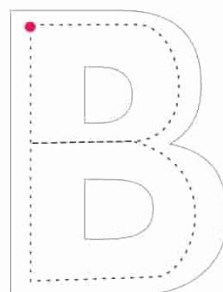
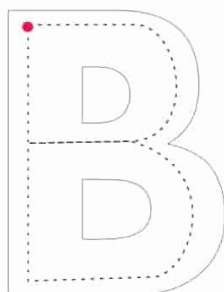
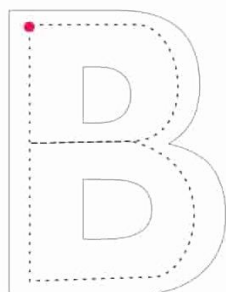
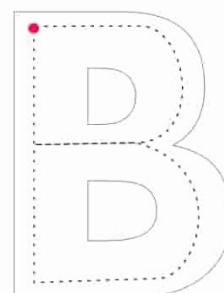
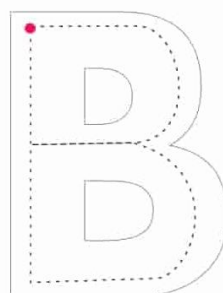
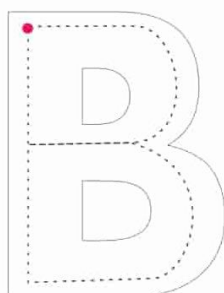
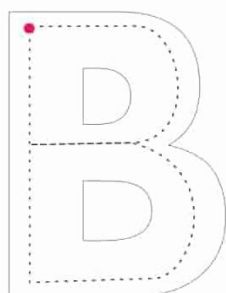
ATIVIDADE 8

B

DE



BOLA




ATIVIDADE 9

C



DE


CACHORRO



NOME: _____ DATA: 25/06/21

ATIVIDADE 10

TRACE O NÚMERO 1.




ESCREVA O NÚMERO QUE FALTA.



PINTE 1.


QUANTOS DEDOS ESTÃO LEVANTADOS?



NOME: _____ DATA: 28/06/21

ATIVIDADE 11

TRACE O NÚMERO 2.





ESCREVA O NÚMERO QUE FALTA.



PINTE 2.



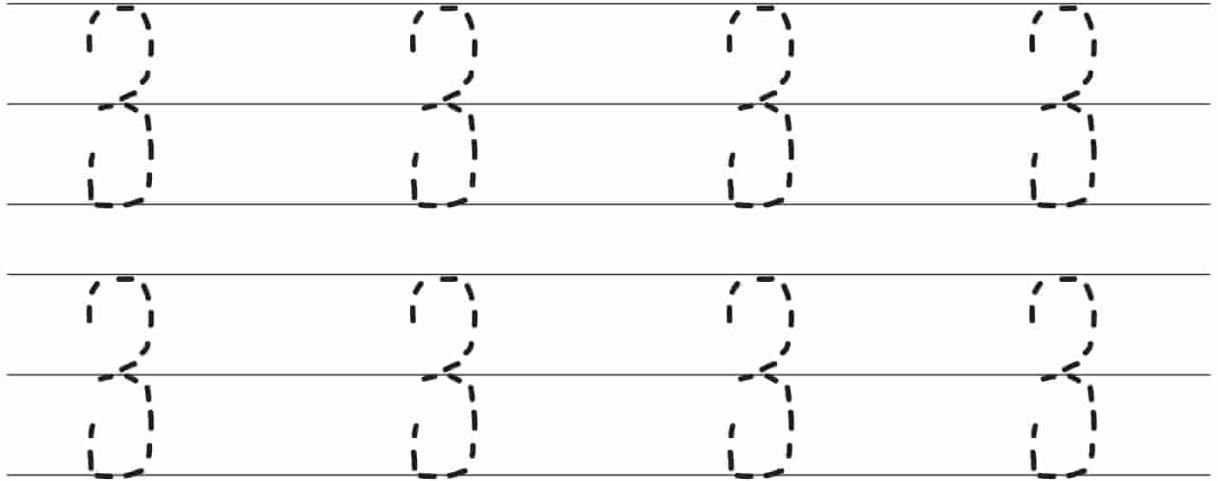
QUANTOS DEDOS ESTÃO LEVANTADOS?



NOME: _____ DATA: 28/06/21

ATIVIDADE 12

TRACE O NÚMERO 3.





ESCREVA O NÚMERO QUE FALTA.




PINTE 3.

QUANTOS DEDOS ESTÃO LEVANTADOS?





ATIVIDADE 13



QUANTIDADE

VAMOS PINTAR O CONJUNTO
QUE TEM **MENOS** PEIXES?




Pequenos Grandes Pensantes

NOME: _____ DATA: 29/06/21

ATIVIDADE 14

ESTE É O CÍRCULO, VAMOS COBRIR OS PONTINHOS DESTA FIGURA.




CÍRCULO

NOME: _____ DATA: 30/06/21

ATIVIDADE 15

ESTE É O QUADRADO, COBRIR OS PONTINHOS.

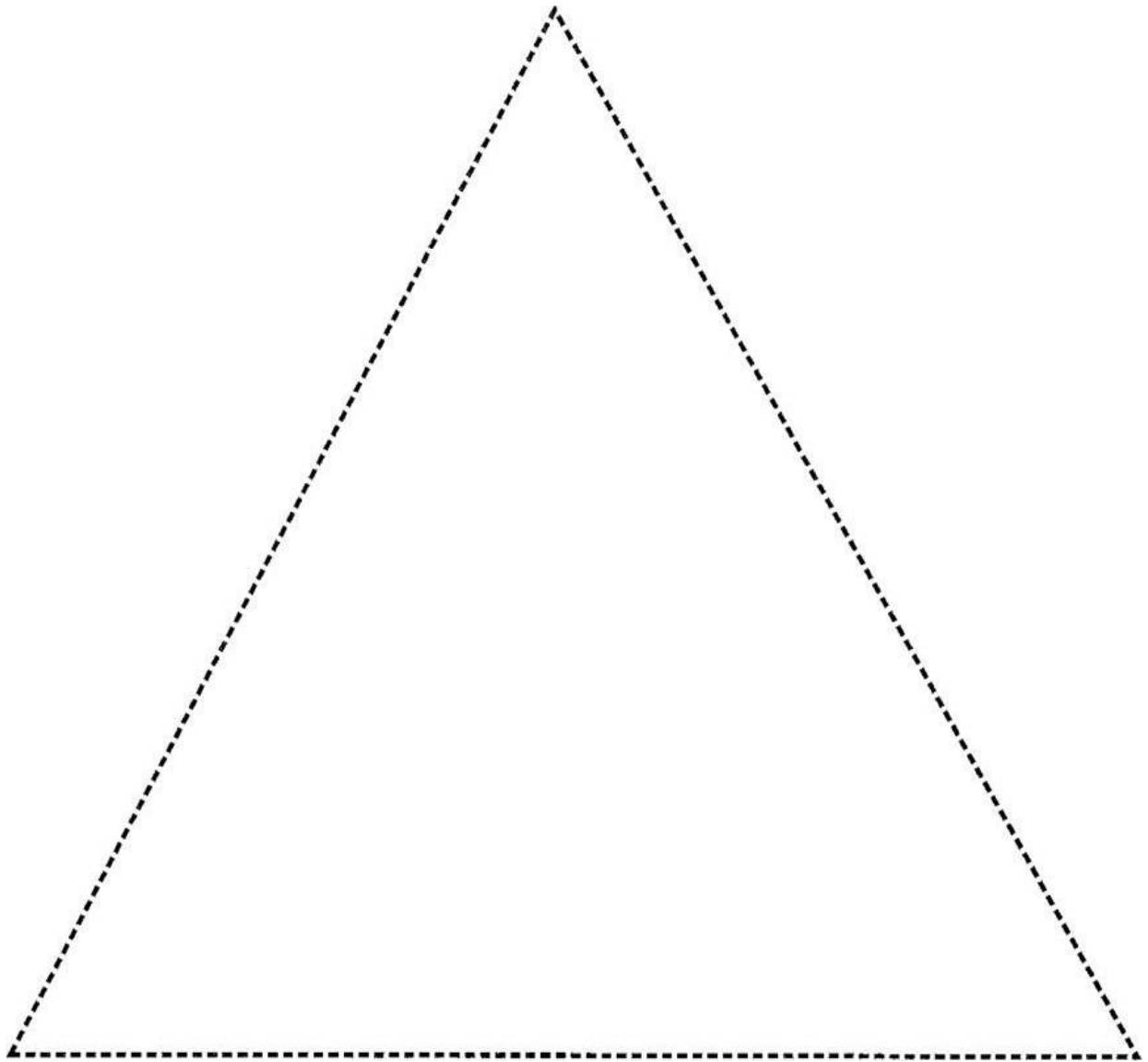


QUADRADO

NOME: _____ DATA: 30/06/21

ATIVIDADE 16

ESTE É UM TRIÂNGULO, COBRIR OS PONTINHOS DESTA FIGURA.




TRIÂNGULO

NOME: _____ DATA: 01/07/21

ATIVIDADE 17

ESTE É O RETÂNGULO, COBRIR OS PONTINHOS DESTA FIGURA.

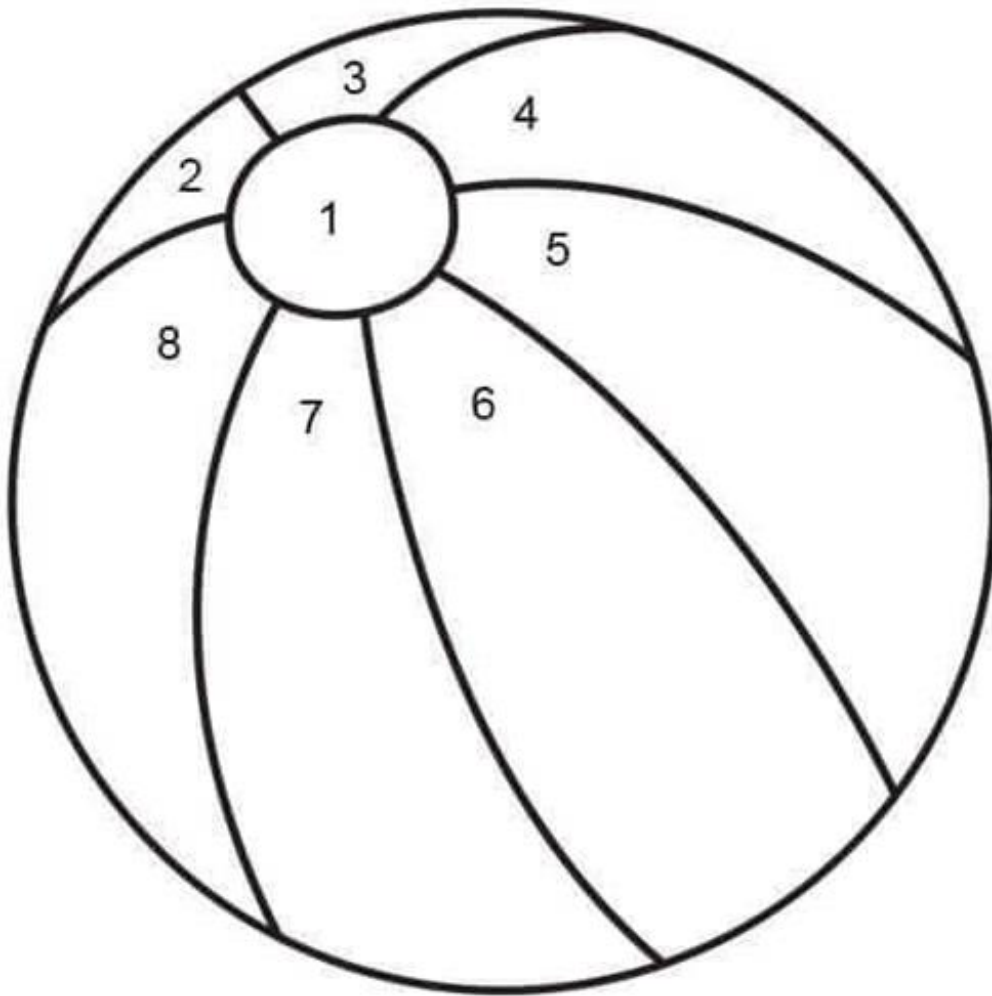


RETÂNGULO

NOME: _____ DATA: 01/07/21

ATIVIDADE 18

A BOLA TEM FORMATO CIRCULAR. PINTE ELA DE ACORDO COM A LEGENDA ABAIXO.




NOME: _____ DATA: 02/07/21

ATIVIDADE 19

CONHECENDO AS FORMAS

- PINTE DA MESMA COR AS FORMAS GEOMÉTRICAS IGUAIS:



NOME: _____ DATA: 02/07/21


ATIVIDADE 20

PEÇA PARA UM ADULTO LER O POEMA PARA VOCÊ.

A TARTARUGA

NA BEIRA DO RIO,
HAVIA UMA TARTARUGA
FELIZ ANDAVA, DEVAGAR,
QUASE A PARAR
PULAVA NO RIO,
E SÓ QUERIA NADAR.

KELLY CLAÚDIA GONÇALVES


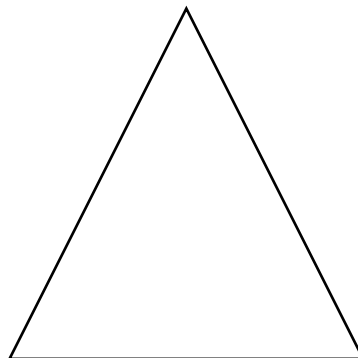



PINTE O CIRCULO DE AMARELO.

PINTE O QUADRADO DE VERDE.

PINTE O TRIÂNGULO DE VERMELHO.

PINTE O RETÂNGULO DE AZUL.



Referencias

<https://www.ideiacriativa.org/2011/11/atividade-formas-geometricas-projeto.html>

<https://www.soescola.com/2017/11/atividades-com-formas-geometricas-2.html>

<https://saladeauladafran.blogspot.com/2014/07/slide-da-historia-sequencia-didatica.html>