

## Minhas Atividades



7ª Remessa referentes aos dias:

21, 22, 23, 24, 25, 28, 29, 30/06, 01 e 02/07.

Data: 21/06



## POR DENTRO DO POEMA...

1) NO POEMA CITA UMA FESTA FAMOSA NO MÊS DE JUNHO. MARQUE ABAIXO A OPÇÃO CORRETA.

- |                                   |                                   |
|-----------------------------------|-----------------------------------|
| <input type="checkbox"/> CARNAVAL | <input type="checkbox"/> PÁSCOA   |
| <input type="checkbox"/> NATAL    | <input type="checkbox"/> SÃO JOÃO |

2) DE QUÊ MAMÃE BRINCAVA QUANDO ERA MENINA, SEGUNDO O POEMA?

3) SEGUNDO O POEMA O QUE TEM NA FESTA JUNINA? MARQUE UM X NAS RESPOSTAS CORRETAS.

- |  |  |
|--|--|
| <input type="checkbox"/> CANJICA       | <input type="checkbox"/> PANQUECA      |
| <input type="checkbox"/> CHOCOLATE     | <input type="checkbox"/> PÉ DE MOLEQUE |
| <input type="checkbox"/> BOLO DE MILHO | <input type="checkbox"/> BOLA          |
| <input type="checkbox"/> PESCARIA      | <input type="checkbox"/> MANGUEIRA     |
| <input type="checkbox"/> QUADRILHA     | <input type="checkbox"/> FOGUEIRA      |
| <input type="checkbox"/> BALÃO         | <input type="checkbox"/> AVIÃO         |
| <input type="checkbox"/> CARRINHO      | <input type="checkbox"/> LAÇO DE FITA  |



*Festa*  
**Junina**

	CANJICA R\$2,50
	MILHO R\$2,00
	CACHORRO-QUENTE R\$3,00
	PIPOCA R\$1,00

No cartaz da festa junina está a lista de preços de algumas comidas para serem vendidas durante a festa.

Observando os preços podemos dizer que a comida mais cara é

- (A) a canjica.
- (B) a pipoca.
- (C) o cachorro-quente.
- (D) o milho.

canjica: 2,50  
milho: 2,00  
cachorro-quente: 3,00  
pipoca: 1,00

# CAÇA-PALAVRAS JUNINO

1) ENCONTRE NO DIAGRAMA AS PALAVRAS ABAIXO.



PIPOCA- SÃO JOÃO- CANJICA  
QUADRILHA - CHAPÉU - LAÇO  
FOGUEIRA - MILHO - PESCARIA - BALÃO



Data: 24/06

<b>B I N G O</b>				
<del>7</del>	<del>25</del>	<del>44</del>	<del>57</del>	<del>62</del>
<b>15</b>	<b>22</b>	<b>40</b>	<b>50</b>	<b>70</b>
<b>11</b>	<b>30</b>	<b>39</b>	<b>46</b>	<b>74</b>

Os participantes de um jogo de Bingo precisavam de uma linha completa para ganhar o prêmio.

Na cartela acima, o participante deixou de ganhar por apenas um número.

O número que faltou, para este participante ganhar, pode ser representado no sistema de numeração decimal por

- (A) 1 dezena e 9 unidades.
- (B) 5 dezenas e 7 unidades.
- (C) 5 dezenas e 9 unidades.
- (D) 7 dezenas e 5 unidades.

Data: 25/06



1) ESCREVA ABAIXO O QUE VOCÊ MAIS GOSTA NA FESTA JUNINA?

A large yellow rectangular frame with a pointed bottom, containing eight horizontal black lines for writing.



Data: 28/06



[HTTP://portaldoprofessor.mec.org.br](http://portaldoprofessor.mec.org.br)


A diretora da escola comprou 48 ovos para a brincadeira do ovo na colher.

No número **48**, o valor posicional do algarismo **4** é



- (A) 4.000.
- (B) 4.
- (C) 400.
- (D) 40.



# DESAFIO JUNINO



1) ESCREVA A PRIMEIRA LETRA DE CADA IMAGEM E DESCUBRA A FRASE SECRETA.



Data: 30/06

Na festa junina deste ano, a barraca de brincadeiras arrecadou R\$155,00 em moedas.



Paula trocou as moedas por notas.

Marque a opção que representa as notas que ela recebeu ao realizar a troca.

- (A) 
- (B) 
- (C) 
- (D) 

## Bibliografia

Blog Educadoraantenada.blogspot.com

EMAI 3º ano, adaptação para festa junina