



PREFEITURA DA ESTÂNCIA TURÍSTICA DE
IBIÚNA
Por uma Ibiúna próspera. Investindo no presente, gerando o futuro.
SECRETARIA DE EDUCAÇÃO



E.M. “Luiz Gonzaga Soares”



7ª apostila

Referente aos dias 21, 22, 23, 24, 25, 28, 29, 30/06, 01 e 02/07.

(Totalizando 10 dias)

Nome do aluno: _____

Professora: Adriana

Ano: 3º ano A

2º bimestre/2021



1- O TEXTO É:

() UMA FÁBULA. () UM POEMA. () UMA HISTÓRIA EM QUADRINHOS.

2 – DE ACORDO COM A HISTÓRIA, O QUE COSTUMA TER PARA COMEMORAR AS FESTAS JUNINAS? _____

3 – EM QUE MÊS É COMEMORADO AS FESTAS JUNINAS? _____

Matemática

OBSERVE ATENTAMENTE A TABELA DE PREÇOS DA FESTA JUNINA E RESOLVA OS PROBLEMAS ABAIXO:

TABELA DE PREÇOS	
CHURRASCO.....	3 REAIS
REFRIGERANTE.....	2 REAIS
ÁGUA	1 REAL
PIPOCA	2 REAIS
BOLO DE FUBÁ.....	3 REAIS
DOCES TÍPICOS.....	2 REAIS
MILHO	2 REAIS
BRINCADEIRAS.....	2 REAIS
CARTELA DE BINGO.....	1 REAL



1. ROSINHA QUER COMPRAR 2 REFRIGERANTES, 1 CHURRASCO E 1 PEDAÇO DO DELICIOSO BOLO DE FUBÁ. QUANTO ELA DEVERÁ PAGAR?

RESPOSTA: _____



2. CHICO QUER COMPRAR 2 CHURRASCOS, 1 ÁGUA, 3 FICHAS DE BRINCADEIRAS E 1 DOCE TÍPICO. PARA PAGAR, ELE USARÁ UMA NOTA DE 20 REAIS. DE QUANTO SERÁ SEU TROCO?

RESPOSTA: _____



3. ZÉ LELE TEM 10 REAIS PARA GASTAR NA FESTA. ELE QUER GASTAR TUDO, COMENDO E SE DIVERTINDO. ESCREVA DUAS SUGESTÕES DE FORMAS COM AS QUAIS ELE PODERÁ GASTAR SEUS 10 REAIS NA FESTA:



A. _____



B. _____

FRASES ENIGMÁTICAS



1 Substitua os desenhos por palavras e escreva as frases.



			
Bandeirinhas	Noite	Fogueira	Meninas
			
Menino	Fogos	Chapéu	Quadrilha

O  está de  de palha.

As  fazem  de papel.

Os casais dançam  a  inteira.

A  ilumina a .

Os  iluminam a .

Matemática

01. Observe o preço das comidas típicas e ajude Mariuzinha vendê-las no valor correto. Não se esqueça de conferir o troco!



R\$ 3,00



a) João foi comprar 4 saquinhos de pipoca. Quanto João pagou?

$$2 + 2 + 2 + 2 = \underline{\hspace{2cm}}$$

$$4 \times 2 = \underline{\hspace{2cm}} \quad 2 \times 4 = \underline{\hspace{2cm}}$$

b) Dalva comprou 3 cachorros-quentes, quanto terá que pagar?

$$5 + 5 + 5 = \underline{\hspace{2cm}}$$

$$5 \times 3 = \underline{\hspace{2cm}} \quad 3 \times 5 = \underline{\hspace{2cm}}$$

Mas Dalva pagou com uma nota de R\$ 20,00 ela terá troco?

Quanto? _____

Geografia

Faça uma pesquisa e descubra quais regiões do Brasil a Festa Junina é mais comemorada e pinte no mapa.



OBS.: O BRASIL É DIVIDIDO EM 5 REGIÕES DESCRITAS AO LADO DOS QUADRINHOS ACIMA. VOCÊ PODE PESQUISAR NO **GOOGLE** A REGIÃO E O MAPA PARA REALIZAR A ATIVIDADE.

Ortografia e Gramática

1 - Coloque os sinais de pontuação corretamente nas frases abaixo:

a) Viva São João —

b) Que horas vai começar a quadrilha —

c) Na barraca tem — pipoca — pamonha — quente e milho cozido —



2 - Coloque as palavras em ordem conforme os numerais e forme as frases:

a) ³ noite ⁷ quadrilha. ¹ Hoje ⁴ tem ⁵ dança ² à ⁶ de

b) ³ vai ¹ O ⁹ animá! ⁷ pra ⁴ começá, ⁶ você ² arraiá ⁵ falta ⁸ festança

3 - Forme frases com os desenhos:





ATIVIDADE 1

Os participantes de um jogo de Bingo precisavam de uma linha completa para ganhar o prêmio. Na cartela abaixo, o participante deixou de ganhar por apenas um número.

O número que faltou, para este participante ganhar, pode ser representado no sistema de numeração decimal por:

B	I	N	G	O
09	16	41	50	71
06	22	42	57	64
15	28	FREE 3001	56	70
05	29	40	51	73
02	27	38	47	66

- () 1 dezena e 5 unidades
- () 6 dezena e 4 unidades
- () 5 dezenas e 1 unidade
- () 7 dezenas e 3 unidades

ATIVIDADE 2



Na brincadeira, cada criança joga 4 bolas para tentar acertar a boca do palhaço. Paulo acertou 3 bolas na boca do palhaço. Cada acerto vale 5 pontos. Quantos pontos Paulo marcou?


- () 20 pontos
- () 15 pontos
- () 18 pontos

JOGO DOS 7 erros


A TURMINHA ADORA AS FESTAS JUNINAS!



ENQUANTO ELES SE DIVERTEM, QUE TAL ACHAR AS SETE DIFERENÇAS ENTRE AS CENAS?



JOGO DA TRILHA JUNINA



SAÍDA

VOCÊ ESQUECEU SEU CHAPÉU!
VOLTE AO INÍCIO.

PULE A FOGUEIRA E
AVANCE 1 CASA.

OLHA A COBRAII
VOLTE 2 CASAS.

A MÚSICA JÁ
COMEÇOU!
AVANCE 3 CASAS.




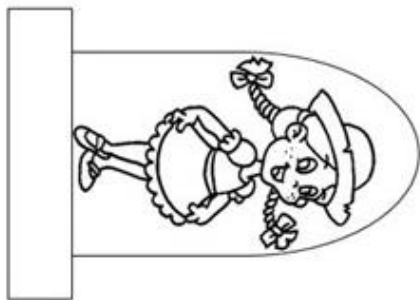
OLHA A CHUVA!
VOLTE 1 CASA.

VOCÊ PERDEU O
SEU PARI!
FIQUE UMA RODADA
SEM JOGAR!

CHEGADA

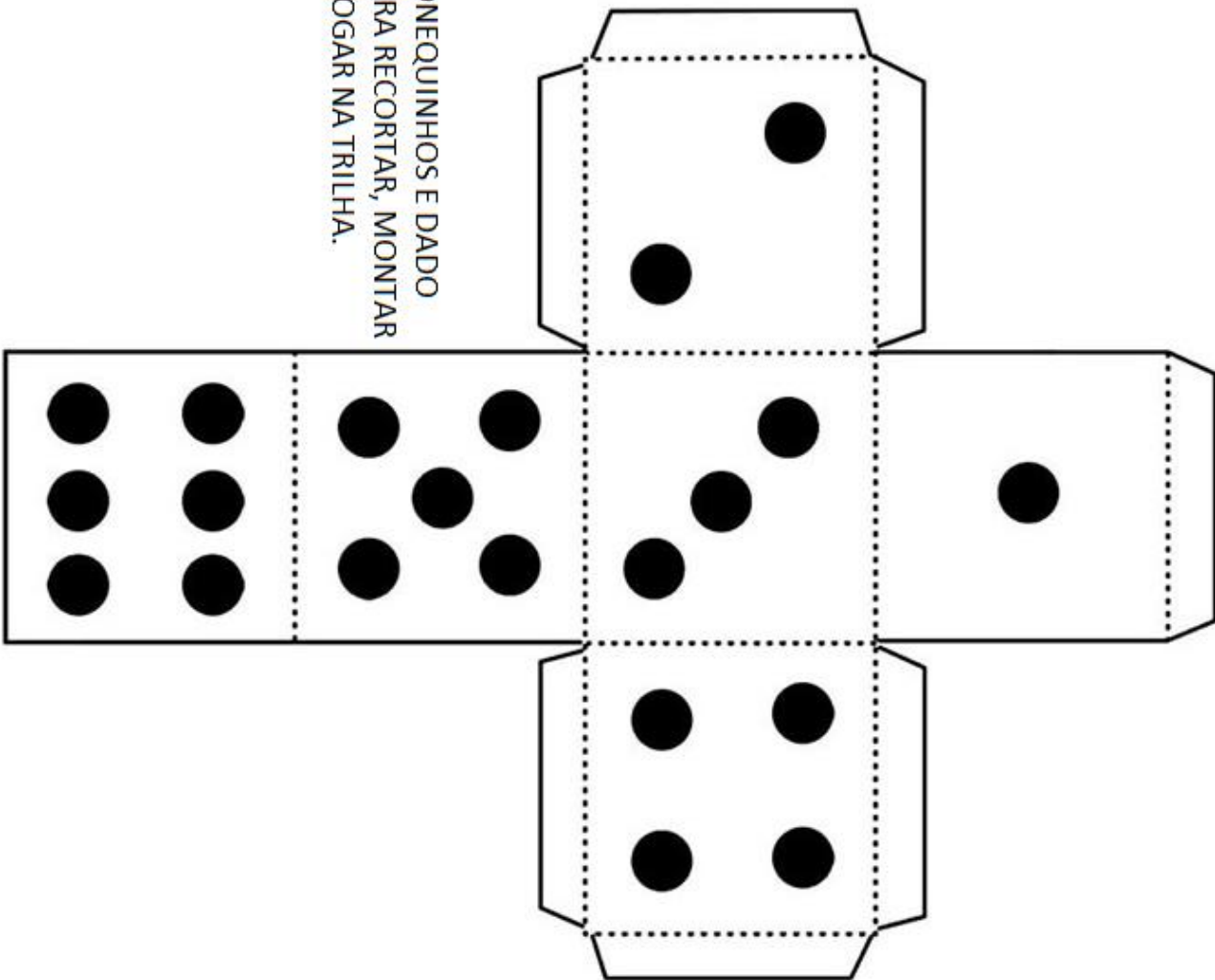
CAMINHO
DA ROÇA

www.profrfaelak.blogspot.com



CAMINHO DA ROÇA

BONEQUINHOS E DADO
PARA RECORTAR, MONTAR
E JOGAR NA TRILHA.



REFERÊNCIAS:

Sites e Blogs: - Pinterest.com;

- Miriamveiga.com.br;

- Portaleducamais.com;

- Profrafaelak.blogspot.com;

- Google imagens.