



PREFEITURA DA ESTÂNCIA TURÍSTICA DE IBIÚNA
EM PROF. CALIL RAHAL NETO

Rua Projetada, 620 - Capim Azedo - Ibiúna - SP - Telefone: 3241-5917



7ª. APOSTILA DE ESTUDOS
ATIVIDADES NÃO PRESENCIAIS



2º. BIMESTRE



ENSINO FUNDAMENTAL

ALUNO(A): _____

PROFESSORA:

TURMA: 4º ANO

DATA DE DEVOLUÇÃO: 01/07/2021



A quadrilha foi criada, na Inglaterra, para comemorar as boas colheitas com fartura de comidas e festejos. Chegou ao Brasil trazida pelos portugueses.

O simbolismo da festa é de fertilidade do solo.

Os santos em destaque são: Santo Antônio, 13 de junho; São João, 24 de junho; e São Pedro, 29 de junho.

A fogueira é o elemento principal.

Na culinária, temos as comidas típicas: a canjica, o pé-de-moleque, a mandioca, a batata assada, o quentão, a pipoca, etc.

Os fogos enfeitam o céu, e a música sertaneja e o forró alegam as pessoas, que dançam e se balançam sorridentes a noite toda.

Interpretação do texto:

1 - Em qual país foi criada a quadrilha?



2 - Para que serve a quadrilha?

3 - Qual é o principal elemento de uma festa junina?

4 - Quais são as comidas típicas?

5 - Você já dançou a quadrilha? Em que local?

6 – Ligue de acordo com o texto:

Fogos

Música sertaneja

Forró



Alegram as
pessoas

Enfeitam o céu

CAÇA-PALAVRAS JUNINO

- ~~QUENTÃO~~
- PIPOCA
- PASTEL
- FOGUEIRA
- CHAPÉU
- QUADRILHA
- CANJICA



A	T	O	R	R	A	T	P	I	N	T	O	R	P	U	M
R	A	K	E	A	Q	F	F	E	V	O	A	G	I	X	E
L	E	O	T	P	A	D	O	I	R	P	V	U	E	W	S
P	I	P	O	C	A	R	G	S	A	L	A	L	R	M	T
R	A	E	F	J	A	R	U	I	C	A	N	J	I	C	A
O	J	U	N	O	A	Q	E	H	C	A	M	T	O	C	E
F	A	K	O	L	O	K	I	N	U	S	A	F	E	A	S
E	Q	T	C	O	L	O	R	B	I	A	N	A	M	N	A
S	R	O	Z	A	Q	U	A	D	R	I	L	H	A	I	L
S	A	C	A	N	T	O	R	N	A	N	R	T	U	C	A
O	M	A	S	C	A	R	A	J	E	O	G	A	M	O	S
C	H	A	P	E	U	O	N	E	P	A	S	T	E	L	I
K	D	E	S	F	I	L	E	C	O	V	R	I	B	A	C
A	E	J	M	M	E	D	I	C	O	A	S	A	M	B	A
T	R	Q	U	E	N	T	A	O	I	C	O	W	I	F	S
P	A	B	I	B	L	I	O	T	E	C	A	R	I	O	E

NOME: _____

DATA: 24/06

TURMA: 4º ANO



Nas barracas abaixo estão algumas comidas típicas da festa junina.



Observe a tabela de preços e responda:

Comidas	Preços
Milho	R\$ 4,00
bolo de fubá (fatia)	R\$ 3,00
Canjica	R\$ 5,00
Maçã do amor	R\$ 6,00
curau.	R\$ 5,00
Fruta no palito	R\$ 6,50

Laura comprou uma maçã do amor e um curau para ela e um milho para sua amiga. Quanto ela gastou? Calcule.

Laura deu uma nota de R\$ 20,00 para pagar. Ela recebeu troco? Quanto? Calcule:




















NOME: _____

DATA: 25/06

TURMA: 4º ANO



Resolva as Multiplicações:

	$\begin{array}{r} 22 \\ \times 3 \\ \hline \end{array}$	$\begin{array}{r} 12 \\ \times 3 \\ \hline \end{array}$	$\begin{array}{r} 34 \\ \times 3 \\ \hline \end{array}$	$\begin{array}{r} 128 \\ \times 6 \\ \hline \end{array}$	$\begin{array}{r} 341 \\ \times 6 \\ \hline \end{array}$	
	<input type="text"/>	<input type="text"/>	<input type="text"/>	<input type="text"/>	<input type="text"/>	
	$\begin{array}{r} 13 \\ \times 3 \\ \hline \end{array}$	$\begin{array}{r} 14 \\ \times 3 \\ \hline \end{array}$	$\begin{array}{r} 31 \\ \times 3 \\ \hline \end{array}$	$\begin{array}{r} 143 \\ \times 6 \\ \hline \end{array}$	$\begin{array}{r} 311 \\ \times 6 \\ \hline \end{array}$	
	<input type="text"/>	<input type="text"/>	<input type="text"/>	<input type="text"/>	<input type="text"/>	
	$\begin{array}{r} 51 \\ \times 3 \\ \hline \end{array}$	$\begin{array}{r} 42 \\ \times 3 \\ \hline \end{array}$	$\begin{array}{r} 50 \\ \times 3 \\ \hline \end{array}$			
	<input type="text"/>	<input type="text"/>	<input type="text"/>			
	$\begin{array}{r} 46 \\ \times 3 \\ \hline \end{array}$	$\begin{array}{r} 63 \\ \times 3 \\ \hline \end{array}$	$\begin{array}{r} 49 \\ \times 3 \\ \hline \end{array}$			
	<input type="text"/>	<input type="text"/>	<input type="text"/>			

NOME: _____

DATA: 28/06

TURMA: 4º ANO

Leia o texto abaixo:

Um caipira apaixonado

Mentalmente Marcelo ensaiava a quadrilha : um, dois, três, volta. Ele ajoelha, ela dá uma volta. Um, dois, três, vira. Ela cumprimenta, ele gira.

Ele estava assim nervoso por causa de Carolina, a noiva. Ela era mesmo uma graça de menina e Marcelo, apaixonado, achava que na hora daria tudo errado.

Hora da festa, coração aos pulos, Marcelo pergunta aflito:

__ Mamãe , será que na hora eu lembro?

__ Claro, Marcelo, fique tranquilo - respondeu a mãe, no fundo sabendo que um coração apaixonado às vezes arruma grandes confusões.

De repente, a professora chamou:

__ Todos em fila, vai começar. E...um, dois, três, quatro.

Ele deu a volta e ... Marcelo perdeu o sapato!

Ele pensou: E agora? Perco a noiva, perco tudo, a quadrilha vai embora.

Mas como era bem esperto, fingiu que tinha sido combinado. Fez papel de caipira atrapalhado e, pé com sapato e outro sem, Marcelo mancou com graça, fez careta de pirraça.

A platéia deu risada e aplaudiu mesmo, com gosto, o noivo tão divertido.

Quando o padre perguntou:

__ Qué casa cum seu cumpadre?

Carolina, encantada, bem depressa respondeu:

__ Quero, sim! Quero, seu padre!

NOME: _____

DATA: 29/06

TURMA: 4º ANO

Responda:

A) Qual o nome do texto?

B) Como Marcelo ensaiava a quadrilha?

C) Qual a preocupação de Marcelo?

D) Por que Marcelo estava nervoso?

E) Segundo a mãe de Marcelo, o que acontece com um coração apaixonado?

F) Quando iniciou a quadrilha, o que aconteceu com Marcelo?

G) Com sua esperteza, o que Marcelo fez quando perdeu o sapato?





PRODUÇÃO DE TEXTO

OBSERVE AS CENAS E ESCREVA UM PEQUENO TEXTO CONTANDO A HISTÓRIA. NÃO ESQUEÇA O TÍTULO!



E.M. PROFº CALIL RAHAL NETO

NOME: _____

DATA: 01/07

TURMA: 4º ANO

ATIVIDADE LÚDICA

FOTO CARACTERIZADO

TEMA: FESTA JULINA

E.M. PROFº CALIL RAHAL NETO

NOME: _____

DATA: 02/07

TURMA: 4º ANO

ATIVIDADE LÚDICA

VÍDEO

QUADRILHA EM CASA: ESCOLHA UMA MÚSICA E DIVIRTA-SE DANÇANDO
COM A FAMÍLIA

REFERÊNCIAS BIBLIOGRÁFICAS

<https://escolaeducacao.com.br/atividades-para-festa-junina>

<https://br.pinterest.com>

<https://pedagogasdapaz.blogspot.com>