



Prefeitura da Estância Turística de  
**IBIÚNA**  
TRANSFORMAÇÃO RESPONSÁVEL. CUIDANDO DE PESSOAS.



**E.M. “BAIRRO MORRO GRANDE”**  
**ATIVIDADES NÃO PRESENCIAIS**  
**PERÍODO DE DISTANCIAMENTO SOCIAL (QUARENTENA)**  
**COVID – 19**



**Aluno(a):** \_\_\_\_\_

**3º ANO A**

**7ª APOSTILA**

**PROFESSORA ANNA CAROLINA**

**Atividades do período de 21/06 a 02/07/2021**

**Conforme orientações pedagógicas - nº 10 de 07 de junho de 2021**

**da Secretaria Municipal de Educação**

# ATIVIDADE 1



**OBSERVE O DESENHO E RESPONDA:**



**1. O QUE ELES ESTÃO FESTEJANDO?**

---

**2. QUAL É O NOME DO MENINO E DA MENINA?**

---

**3. O QUE ELES ESTÃO FAZENDO?**

---

**4. COMO ESTÁ ENFEITADA A FESTA?**

---

**5. DÊ UM TÍTULO PARA A CENA.**

---



## ATIVIDADE 2



UM ALUNO DA 1º SÉRIE A DESTA ESCOLA, AO ANOTAR A LISTA DE COISAS DE FESTA JUNINA NO SEU CADERNO, ESCREVEU ALGUMAS DE FORMA ERRADA. JUNTOS, CORRIJAM ESTAS PALAVRAS.

- DANSA \_\_\_\_\_
- FOGEIRA \_\_\_\_\_
- PIPOKA \_\_\_\_\_
- BALANO \_\_\_\_\_
- PAMOIA \_\_\_\_\_
- XURASCO \_\_\_\_\_
- ARJOLA \_\_\_\_\_
- PACOCA \_\_\_\_\_
- BÃDERINHA \_\_\_\_\_
- MÚZICA \_\_\_\_\_



**LISTA DE PALAVRAS:  
O QUE TEM NA FESTA JUNINA:**



---

---

---

---

---

---

---

---

---

---

---

---

**AGORA, AGRUPE CONSIDERANDO O NÚMERO DE SÍLABAS**

**DISSÍLABA** \_\_\_\_\_

---

---

**TRISSÍLABA** \_\_\_\_\_

---

---

**POLISSÍLABA** \_\_\_\_\_

---

---

ATIVIDADE 4



O povo dança a quadrilha  
Girando ao redor do fogo.  
A lua no céu brilha,  
E na barraca de jogo  
Crianças em alvoroço  
Jogam arcos num pino  
Para uma prenda ganhar.

Maria Hilda de J. Alão

Retire do texto:

Dígrafos: \_\_\_\_\_

\_\_\_\_\_  
\_\_\_\_\_  
\_\_\_\_\_

Encontros consonantais: \_\_\_\_\_

\_\_\_\_\_  
\_\_\_\_\_

ATIVIDADE 5



ENCONTRE NO  
CAÇA-PALAVRAS  
COISAS QUE TEM  
NA FESTA JUNINA.

M N H G R S N P I P O C A O U Y T G R F D S  
L P O M N B V C X D S Q U E N T Ã O X Z F R  
O P M V B G T F C A N J I C A R T E W S Q U Y  
O I U T Y C A L D O S O I U M V D E W S R W  
U O T M I L H O C A S D F H Y U J Y R T I J M  
B R I N C A D E I R A S R E F D Y G F W Q S O  
R T R E D F C G X S D C F F O G U E I R A K I U  
Y U G F D E Z X B A L Ã O B V N M J Y G F T R

<https://2.bp.blogspot.com/->

[hUcsQINRSi4/WxLSgApI+LI/AAAAAAAAAkRw/XXVbWQ7Egh4FrzIY50B5sqEIi8F2RaHoACLcBGAs/s1600/FB\\_IMG\\_1527959930329.jpg](https://2.bp.blogspot.com/-hUcsQINRSi4/WxLSgApI+LI/AAAAAAAAAkRw/XXVbWQ7Egh4FrzIY50B5sqEIi8F2RaHoACLcBGAs/s1600/FB_IMG_1527959930329.jpg)

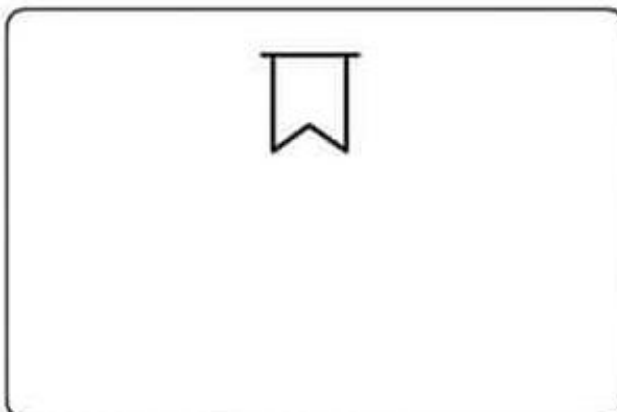
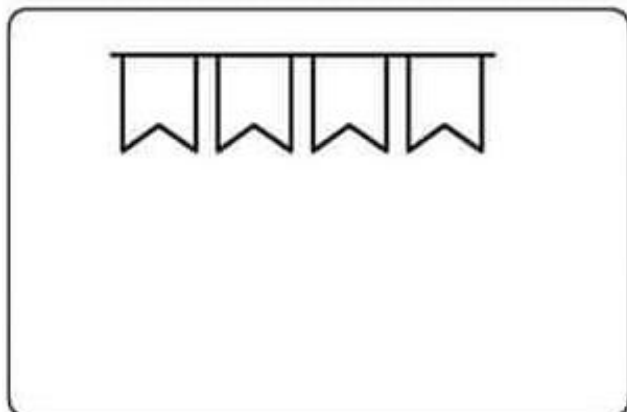
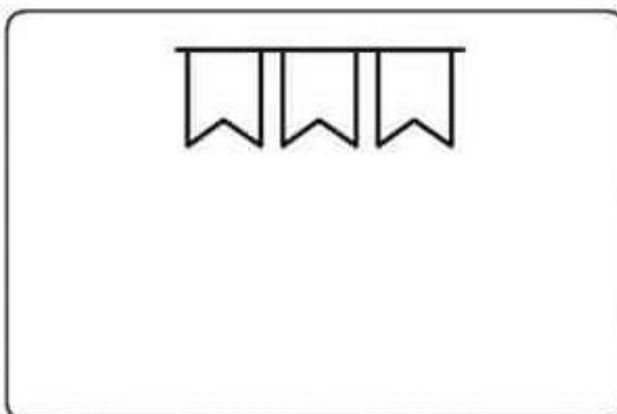
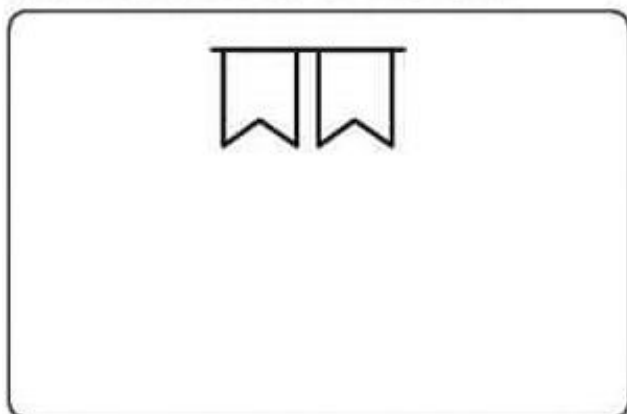
## ATIVIDADE 6



1) LIGUE AS BANDEIRAS DA ESQUERDA CONFORME A SUA MULTIPLICAÇÃO NAS BANDEIRAS DA DIREITA:

3	x	3	•	•	4
5	x	5	•	•	16
2	x	2	•	•	25
4	x	4	•	•	9






2) DESENHE O DOBRO DE FIGURAS EM CADA CASO:



## ATIVIDADE 7



1- OBSERVE A TABELA DE ALIMENTOS CONSUMIDOS EM UMA FESTA JUNINA.

MILHO	
MAÇÃ-DO-AMOR	
CACHORRO-QUENTE	
PIPOCA	
PÉ-DE-MOLEQUE	

QUAL O ALIMENTO QUE FOI MAIS CONSUMIDO? \_\_\_\_\_

QUAL O ALIMENTO QUE FOI MENOS CONSUMIDO? \_\_\_\_\_

QUANTAS MAÇÃS-DO-AMOR FORAM VENDIDAS A MAIS QUE PIPOCAS? \_\_\_\_\_

QUAL O TOTAL DE ALIMENTOS QUE FORAM VENDIDOS? \_\_\_\_\_

QUANTAS PIPOCAS TERIAM QUE SER VENDIDAS PARA TERMOS A MESMA QUANTIDADE DE VENDAS DO PÉ DE MOLEQUE? \_\_\_\_\_



# ATIVIDADE

RECORTE E COLE DE ACORDO COM O RESULTADO CORRETO DAS OPERAÇÕES.

$9 \times 3$

$6 \times 3$

$4 \times 2$


$7 \times 7$

$7 \times 5$

$2 \times 8$

$6 \times 5$

$10 \times 4$



LPIPIPI.org

45

27

30

49

18

16

8

40

## ATIVIDADE 9

FAZER UMA DECORAÇÃO JUNINA COM MATERIAIS RECICLÁVEIS.

TIRAR FOTOS CARACTERIZADO COM ROUPA JUNINA E ME ENVIAR.

## ATIVIDADE 10

DANÇAR UMA MÚSICA JUNINA.

NÃO ESQUEÇA DE FAZER UM VÍDEO E ME ENVIAR.