



PREFEITURA DA ESTÂNCIA TURÍSTICA DE
IBIÚNA
Por uma Ibiúna próspera. Investindo no presente, gerando o futuro.
SECRETARIA DE EDUCAÇÃO



EM “PROFESSORA YOLANDA AGOSTINHO DE LIMA”

PROFESSORA: GISELDA ROCHA DE ALMEIDA

7ª APOSTILA

❖ ROTEIRO DAS ATIVIDADES:

- 21 a 30 de JUNHO / 01 e 02 de JULHO (Serão lançadas no Grupo de WhatsApp)

Entregar na escola até o dia - 01 DE JULHO a 6ª e 7ª Apostila



ATIVIDADE 1

REALIZAR NO DIA 21 DE JUNHO

Leia o texto abaixo:

Festas Juninas

Em junho temos o ponto alto do folclore nacional com as festas juninas.

As festas juninas se festejam com fogueiras, com danças típicas, com guloseimas como : pipoca, paçoca, curau, pamonha, canjica, milho assado e cozido, batata doce, cocada etc. A bebida, principalmente no sul onde é tempo de inverno , é o quentão preparado com aguardente, açúcar, canela, cravo, limão e gengibre.

O incremento da agricultura da uva e o aperfeiçoamento da técnica vinícola introduziram, nos últimos tempos, ainda no sul, o hábito de tomar vinho quente, também preparado com canela, cravo, açúcar e limão ou laranja.

A tradição das festas juninas nos veio da Europa, particularmente de Portugal, mas sem dúvida adquiriram um caráter inteiramente brasileiro, ao se mudarem para cá.

Responda:

- Qual festa é comemorada em junho?
- De onde vem o hábito de tomar vinho quente?
- Quais ingredientes são comuns no preparo do quentão e do vinho quente?
- De onde vem a tradição das festas juninas?
- Cite cinco comidas típicas da festa junina.








ATIVIDADE 2

REALIZAR NO DIA 22 DE JULHO

Retire do texto " Festa Junina" 3 palavras oxítonas, 3 palavras paroxítonas e 3 palavras proparoxítonas.

OXÍTONAS	PAROXÍTONAS	PROPAROXÍTONAS
_____	_____	_____
_____	_____	_____
Palavras cuja última sílaba é tônica (mais forte). 	Palavra cuja penúltima sílaba é tônica (mais forte). 	Palavra cuja antepenúltima sílaba é tônica (mais forte). 

Separe as sílabas das palavras e classifique de acordo com a sílaba tônica:

Junho - _____

Fogueira - _____

Uva - _____

Canela- _____

Quentão - _____

Coração- _____

Mágica- _____

Chácara- _____

Chaminé - _____



ATIVIDADE 3

REALIZAR DIA 23 DE JUNHO

Vamos resolver o desafio abaixo?

Temos que encontrar a palavra chave que está escondida no quadro. Para isso vamos seguir as pistas para eliminar as palavras do quadro até que reste apenas uma palavra.

Pistas:

- 1- esta palavra é trissílaba
- 2- não termina em vogal
- 3- não é paroxítona
- 4- é acentuada



sílaba - máscara - dominó - dedo - guarani - armazém
quilômetro - avental - vatapá - amável - caráter - quente
menina - bambu - ângulo - comitê - parede - pólen -
massagem - amarra - feitiço - café - você - cama

A palavra chave
é:





ATIVIDADE 4

REALIZAR DIA 23 DE JUNHO

Com a ajuda do dicionário, complete as frases com a palavra correta:

A) Coloquei o milho da festa no _____. (cesto – sexto)

B) No carro eu faço um _____. (concerto – conserto)

C) As palavras típica e vinícola tem _____. (acento - assento)

D) O detetive age com muita _____. (descrição - discrição)

E) O próprio amigo o _____. (delatou – dilatou)

F) O motorista do ônibus cometeu _____. (inflação – infração)

G) A barraca da festa tem cinco metros de _____. (comprimento – cumprimento)

H) As comidas típicas da festa junina estavam na _____. (despensa – dispensa)

I) Na barraca da pescaria, o peixinho afundou e nunca mais _____
_____. (emergiu – imergiu)

J) Eu preguei a gravura, da boca do palhaço, no painel com as _____
(taxas – tachas)






ATIVIDADE 5

REALIZAR DIA 24 DE JUNHO




O casamento caipira é muito comum na festa junina. A Mônica e o Cebolinha entraram nessa brincadeira e aconteceram muitas coisas engraçadas. Escreva como você imagina que foi esse casamento.





JOGO DOS SETE ERROS REALIZAR DIA 24 DE JUNHO





REALIZAR DIA 25 DE JUNHO

MATEMÁTICA



Festa Junina

Em junho acontecem as festas juninas

Com música típica, trajés tradicionais,

comidas gostosas e brincadeiras,

os festejos alegram todas as pessoas!

Responda as atividades a seguir.

Na festa junina da escola se apresentaram 7 quadrilhas com danças típica; cada uma das quadrilhas tinha 11 casais participantes

Quantas pessoas participaram de cada quadrilha? Calcule.

Qual foi o total de pessoas que participaram de todas as danças? Calcule.





Nas barracas abaixo estão algumas comidas típicas da festa junina.

REALIZAR DIA 28 DE JUNHO



Observe a tabela de preços e responda:

Comidas	Preços
Milho	R\$ 4,00
bolo de fubá (fatia)	R\$ 3,00
Canjica	R\$ 5,00
Maçã do amor	R\$ 6,00
curau.	R\$ 5,00
Fruta no palito	R\$ 6,50

Laura comprou uma maçã do amor e um curau para ela e um milho para sua amiga. Quanto ela gastou? Calcule.

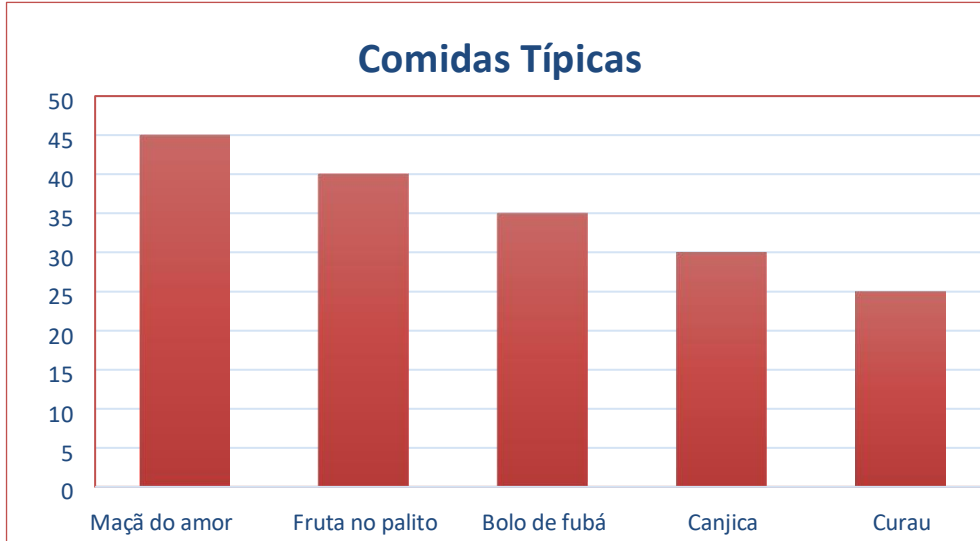
Laura deu uma nota de R\$ 20,00 para pagar. Ela recebeu troco? Quanto? Calcule:





REALIZAR DIA 28 DE JUNHO

Observe no gráfico abaixo a quantidade de comida vendida na festa junina e responda:



Qual foi a comida mais vendida?

Qual foi a comida menos vendida?

Qual é o total de comidas vendida?





Resolva as Multiplicações: REALIZAR DIA 29 DE JUNHO



$$\begin{array}{r} 22 \\ \times 3 \\ \hline \end{array}$$

$$\begin{array}{r} 12 \\ \times 3 \\ \hline \end{array}$$

$$\begin{array}{r} 34 \\ \times 3 \\ \hline \end{array}$$

$$\begin{array}{r} 128 \\ \times 6 \\ \hline \end{array}$$

$$\begin{array}{r} 341 \\ \times 6 \\ \hline \end{array}$$



$$\begin{array}{r} 13 \\ \times 3 \\ \hline \end{array}$$

$$\begin{array}{r} 14 \\ \times 3 \\ \hline \end{array}$$

$$\begin{array}{r} 31 \\ \times 3 \\ \hline \end{array}$$

$$\begin{array}{r} 143 \\ \times 6 \\ \hline \end{array}$$

$$\begin{array}{r} 311 \\ \times 6 \\ \hline \end{array}$$



$$\begin{array}{r} 51 \\ \times 3 \\ \hline \end{array}$$

$$\begin{array}{r} 42 \\ \times 3 \\ \hline \end{array}$$

$$\begin{array}{r} 50 \\ \times 3 \\ \hline \end{array}$$



$$\begin{array}{r} 46 \\ \times 3 \\ \hline \end{array}$$

$$\begin{array}{r} 63 \\ \times 3 \\ \hline \end{array}$$

$$\begin{array}{r} 49 \\ \times 3 \\ \hline \end{array}$$



Resolva as divisões: REALIZAR DIA 30 DE JUNHO

$689 \overline{)9}$

$821 \overline{)2}$

$175 \overline{)3}$

$224 \overline{)2}$

$942 \overline{)3}$

$435 \overline{)5}$

$944 \overline{)5}$

$119 \overline{)8}$

$674 \overline{)9}$

$612 \overline{)5}$

$318 \overline{)8}$

$443 \overline{)3}$



Desafio

ATIVIDADE 01 DE JULHO

Eu arraso no look!

Hoje você irá
enviar uma
foto vestido de
traje caipira.





DESAFIO
ATIVIDADE 02 DE JULHO

Receitas caipiras

**Pesquise uma receita de
comida típica que você adore!**

**Copie com a letra bem linda
tire uma foto e envie para a
professora.**